

(Her □, 10 hayvanı temsil etmektedir.)

Yukarıdaki şekil grafiği çiftçi İbrahim amcanın beslediği hayvanları göstermektedir.

(1, 2, 3 ve 4. soruları yukarıdaki grafiğe göre cevaplandırınız.)

1. Bu çiftlikte kaç adet inek yetiştirilmektedir?

A. 60 B. 50 C. 40

2. Bu çiftlikte en çok hangi hayvan beslenmektedir?

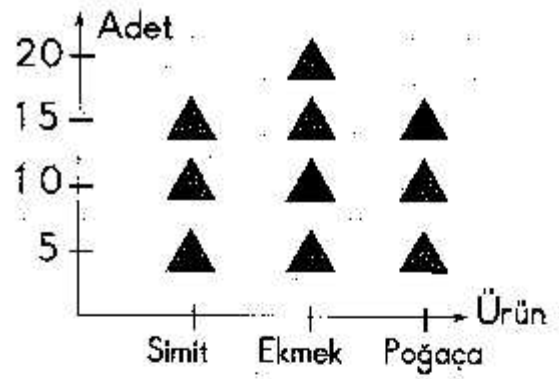
A. Keçi B. Koyun C. İnek

3. Keçi ve koyun sayısının toplamı ineklerin sayısından kaç fazladır?

A. 50 B. 60 C. 70

4. Bu çiftlikte toplam kaç adet hayvan yetiştirilmektedir?

A. 120 B. 140 C. 150



(Her ▲, 5 adet ürünü temsil etmektedir.)

Yukarıdaki şekil grafiği Aslantaş Fırınının öğlene kadar sattığı ürünleri göstermektedir.

(5, 6, 7 ve 8. soruları yukarıdaki grafiğe göre cevaplandırınız.)

5. Aslantaş Fırını'nda hangi iki ürün aynı miktarda satılmıştır?

A. Simit - Ekmek
B. Ekmek - Poğaç
C. Simit - poğaç

6. Satılan ekmek sayısı satılan poğaçadan kaç adet fazladır?

A. 5 B. 10 C. 15


7. Satılan simit ile ekmek sayısı kaçtır?

A. 25 B. 30 C. 35

8. Bu fırında öğlene kadar kaç ürün satılmıştır?

A. 50 B. 45 C. 40

Grafik= Garaajdan kalkan otobüsler.



(Her 2 adet otobüsü göstermektedir.)

Eskişehir Otogarından bir günde kalkan otobüs sayısını gösteren şekil grafiği yukarıda gösterilmiştir.

(İlk 4 soruyu yukarıdaki grafiğe göre cevaplayınız.)

1. Hangi şehire giden otobüs sayısı fazladır?

- A. İstanbul
B. Ankara
C. İzmir

2. İstanbul ve Ankara'ya giden otobüs sayısının toplamı kaçtır?

- A. 12 B. 14 C. 16

3. İzmir'e kalkan otobüs sayısı kaçtır?

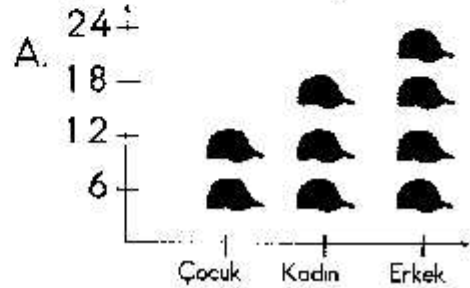
- A. 6 B. 4 C. 2

4. Eskişehir otogarından bir günde kalkan otobüs sayısı kaçtır?


- A. 12 B. 14 C. 18

Bir pazarcı bir günde 12 tane çocuk, 18 tane kadın, 24 tane de erkek şapkası satmıştır.

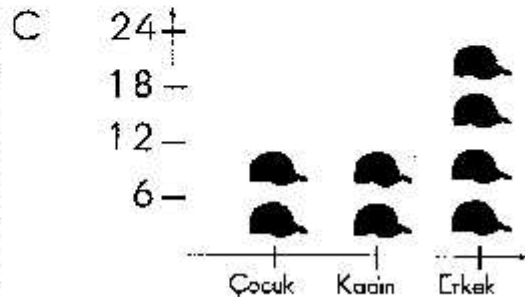
5. Yukarıdaki verilere uygun şekilde hazırlanmış şekil grafiği aşağıdakilerden hangisi olabilir?



Her 6 adet temsil etmektedir.



Her 6 adet temsil etmektedir.



Her 6 adet temsil etmektedir.