

3.
SINIF



A
KİTAPÇIK TÜRÜ

T.C.
MİLLÎ EĞİTİM BAKANLIĞI
ÖLÇME, DEĞERLENDİRME VE SINAV HİZMETLERİ
GENEL MÜDÜRLÜĞÜ

TED ANKARA KOLEJİ VAKFI ÖZEL İLKOKULU VE ORTAOKULU SEÇME SINAVI
(2. Sınıftan 3. Sınıfa Geçenler)
26 MAYIS 2019 Saat: 14.00

Adayın Adı ve Soyadı :

Aday Numarası (T.C. No) :

DERS ADI	SORU SAYISI	TOPLAM SORU SAYISI	SINAV SÜRESİ (DAKİKA)
TÜRKÇE	20	60	60
MATEMATİK	20		
HAYAT BİLGİSİ	20		

ÖĞRENCİLERİN DİKKATİNE!

1. Sınıf öğrenci yoklama listesinde belirtilen sınıfta ve sıra numarasında oturunuz.
2. Cevap kâğıdındaki kimlik bilgilerinin doğruluğunu kontrol ediniz.
3. Kitapçık türünü cevap kâğıdındaki ilgili alana kodlayınız.
4. Cevap kâğıdı üzerindeki kodlamaları kurşun kalemle yapınız.

3. SINIF 2019

SINAV BAŞLAMADAN ÖNCE KİTAPÇIĞIN ARKA KAPAĞINDAKİ UYARILARI MUTLAKA OKUYUNUZ.

1. 1. Çay
2. Çamur
3. Çatal
4. Çalı

Numaralanmış kelimelerin sözlük sırasına göre dizilişi aşağıdakilerden hangisidir?

- A) 1-4-2-3
B) 1-3-4-2
C) 4-2-3-1
D) 4-1-2-3

2. “Kalkmak” sözcüğü, aşağıdakilerin hangisinde “yukarı doğru yükselmek” anlamında kullanılmıştır?

- A) Çocuklar odada tepeştikçe toz kalkıyor.
B) Öğleye geliyordu ama Hilal daha yeni kalkmıştı.
C) Trenimiz Ankara’dan sabah saat dokuzda kalktı.
D) Kar kalkınca köylere ulaşım kolaylaştı.

3. Biz Uğur ile farklı mahallelerde oturuyoruz.

Bu cümledeki altı çizili sözcüğün karşıtı aşağıdakilerden hangisidir?

- A) Yakın
B) Aynı
C) Değişik
D) Eski

4. Aşağıdakilerin hangisinde altı çizili sözcüğün eş anlamlısı ayraç içinde doğru verilmiştir?

- A) Sıcakta çiçekler daha çok su (içecek) istiyor.
B) Kirli (pis) elbiselerini çamaşır sepetine attı.
C) Uzun (büyük) boyu sayesinde asmadaki tüm üzümleri toplamıştı.
D) Gökyüzündeki birkaç bulut (yağmur) güneşin önünü kapatmıştı.

5. En - - - - koşan sporcu - - - - birinci bitirdi.

Anlamlı bir cümle oluşturmak için boş bırakılan yerlere sırasıyla hangi sözcükler getirilmelidir?

- A) çabuk - tartışmayı
B) yavaş - okumayı
C) güzel - maçı
D) hızlı - yarışmayı

6. 1. tiyatrosunun
2. perdesi
3. çocuk
4. ikinci

_____ çok eğlenceliydi.

Anlamlı bir cümle oluşturmak için numaralanmış sözcükler, yukarıdaki boşluklara hangi sırayla yerleştirilmelidir?

- A) 1-3-4-2
B) 2-4-1-3
C) 3-1-4-2
D) 4-1-2-3

7. Hava kararmak üzereyken bahçede yaralı bir kuş gördüm. Kanatlarını çırpıyor ama bir türlü uçamıyordu. Kuşu elime alıp hemen bir veterinere götürdüm.

Bu metindeki altı çizili sözcük grubu, aşağıdaki hikâye unsurlarından hangisidir?

- A) Yer
B) Zaman
C) Olay
D) Kişi

8. (1) Yusuf, rüzgârların nasıl oluştuğunu ve hızlarının nasıl ölçüldüğünü öğrenmek istiyordu. (2) Dedesi eski bir meteoroloji uzmanı olduğu için hemen dedesini aradı. (3) Dedesi Yusuf'a rüzgârlar hakkında tüm merak ettiklerini anlattı. (4) Yusuf, öğrendiklerini not aldıktan sonra telefonu kapattı.

Bu metindeki numaralanmış cümlelerin hangisinde bir olay nedeniyle birlikte verilmiştir?

- A) 1. B) 2. C) 3. D) 4.

9. Aşağıdakilerin hangisinde özlem duygusu dile getirilmiştir?

- A) Memlekete gitseydim de çayırlarında şöyle bir dolaşsaydım.
B) Dayım önümüzdeki ay bizim yanımıza gelecek.
C) Çocuklar neşe içinde bahçedeki kuzularla oynuyordu.
D) Yağmurun mis gibi kokusunu iyice içime çektim.

10. Kuşlar güneş batmak üzereyken sevinçle uçuşuyorlardı.

Bu cümlede aşağıdaki sorulardan hangisinin yanıtı vardır?

A) Nasıl?

B) Nerede?

C) Niçin?

D) Ne kadar?

11. Bir fotoğrafçı için kış mevsimi ilgi çekicidir. Kış şartları eşsiz güzellikler sunan doğayı, fotoğraflanmaya değer kılar. Etkilendiğimiz çoğu manzara fotoğrafı, böyle havalarda çekilmiştir.

Bu parçanın konusu aşağıdakilerden hangisidir?

A) Kış mevsimi

B) Doğanın güzellikleri

C) Fotoğrafçılığın zorlukları

D) Kış fotoğrafları

12. **Aşağıdaki cümlelerin hangisinde gerçekte olmayacak bir duruma yer verilmiştir?**

A) İlk şubasını açan mağaza bütün ürünlerde indirim yaptı.

B) Gökyüzündeki yıldızları yakalayarak evine hapsetti.

C) Pencereden içeri buz gibi hava geliyor.

D) Bu yaşta yaptığı resimler hepimizi hayrete düşürdü.

13. Höşmerim Anadolu'nun birçok yerinde yapılan bir tatlı çeşididir. En tanınmış Balıkesir ve Çanakkale dolaylarında yapılır. İçinde şeker, tuzsuz peynir, un ve yağ vardır. Sevilerek yenen çok güzel bir helvadır. Belki de helvaların en güzelidir.

Bu parçada "höşmerim" ile ilgili aşağıdakilerden hangisine değnilmemiştir?

- A) Yapımında kullanılan malzemelere
- B) Nerede yapıldığına
- C) Yapımının kolay olduğuna
- D) Bir tatlı türü olduğuna

14. Birbirine küsen kırk yıllık arkadaşlar, anlaşamayan komşular Kadir Bey'in peşini bırakmazlar. Sorunlarını ona anlatıp çözmesini isterler. O da "Bu sizin sorunuz, beni ilgilendirmez." deyip sırtını dönmez. Hemen taraflarla konuşur, basit ama kalıcı çözümler geliştirerek küsleri barıştırır.

Kadir Bey'in bu parçada sözü edilen kişilik özelliği aşağıdakilerden hangisidir?

- A) Dürüst
- B) Alçak gönüllü
- C) Ara bulucu
- D) Çalışkan

15. Kırgızlar, geçmişte belirli bir yurttan yaşamadan, sürekli yer değiştirerek göçebe bir hayat sürmüşlerdi. Kültürleri de bu hayat tarzıyla şekillenmişti. Kırgız erkekleri, çadır kurup at yetiştirir ve dericilik işleriyle uğraşır. Kadınları ise kilim dokuyup el işi yaparak geçimlerini sağlardı. Geçim kaynaklarından biri de küçükbaş hayvancılıktı.

Aşağıdaki görsellerden hangisi bu metinde anlatılanlarla ilgili değildir?



16. 1. Zehra ve Selin hemen odaya geçip kurulandılar.
2. Kapı hızlı hızlı çalıyordu.
3. Torunlarını görünce "Ne kadar da ıslanmışsınız, içeride kurulanın." dedi.
4. Büyükanne telaşla kapıyı açtı.

Numaralanmış cümleler olay akışına göre nasıl sıralanmalıdır?

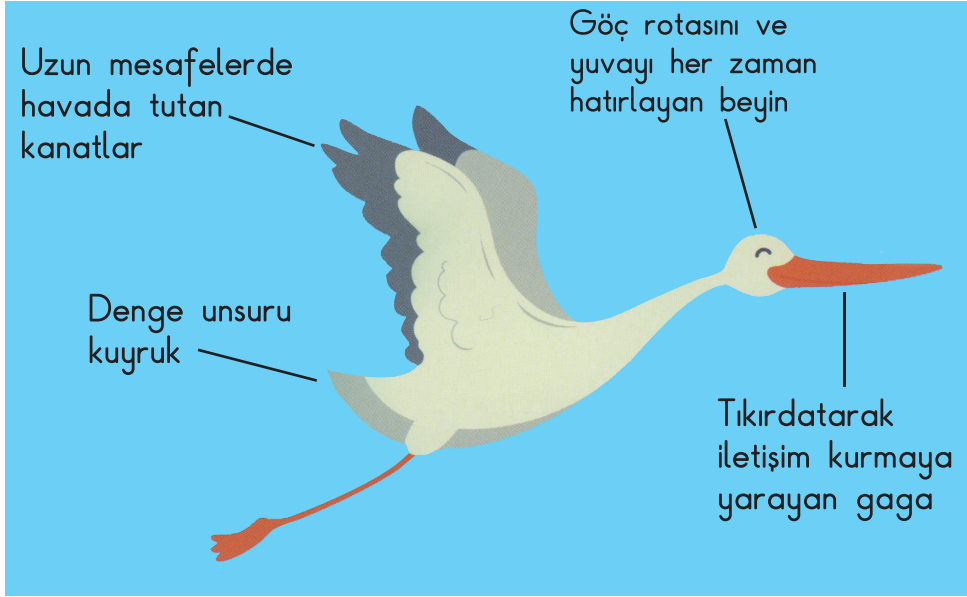
A) 2-3-1-4

B) 2-4-3-1

C) 4-2-1-3

D) 4-1-3-2

17.



Bu görsele göre, leyleklerle ilgili aşağıdakilerden hangisi söylenemez?

- A) Kanatları, uzun uçuşlar yapmalarını sağlar.
- B) Gagaları sayesinde kendi aralarında haberleşirler.
- C) Beyinleri sayesinde göç edecekleri yolu unutmazlar.
- D) Kuyrukları, rüzgârın hızını anlamalarını sağlar.

18. İngiltere () nin basketbol maçını birlikte seyredelim () Annem bize kurabiye () poğaçaya da yapar ()

Bu metinde ayrıca gösterilen yerlere sırasıyla aşağıdaki noktalama işaretlerinden hangisi getirilmelidir?



- A) (') (.) (!) (?)
- B) (,) (!) (.) (?)
- C) (,) (!) (,) (.)
- D) (') (.) (,) (.)

19. Aşağıdakilerin hangisinde büyük harflerin kullanımıyla ilgili bir yazım yanlışı yapılmıştır?

- A) Yarın cumhuriyet bayramı, erkenden uyumalıyız.
- B) Kurtuluş Mahallesi, sizin evinize yakın mı?
- C) Oraya gitmişken Uzungöl'e de mutlaka uğrayın.
- D) Tiyatrolar 8 Ekim 2018'de açılacakmış.

20. Bu hafta sonu Trakya'da bulunan Kırklareli'ni gezdim. İsmi sıklıkla Kırık-kale ile karıştırılan bu şehirde birçok tarihî yapı bizleri bekliyor. Ayrıca Kırklareli'nin ormanları ve doğal yolla oluşmuş mağaraları da gezilecek yerler arasında.

Aşağıdakilerden hangisi Kırklareli'nin bu metinde sözü edilen özelliklerine ait bir görsel değildir?



TÜRKÇE TESTİ BİTTİ.
MATEMATİK TESTİNE GEÇİNİZ.



1.



Resimdeki toplardan iki düzinesi boyanırsa boyanmamış kaç top kalır?

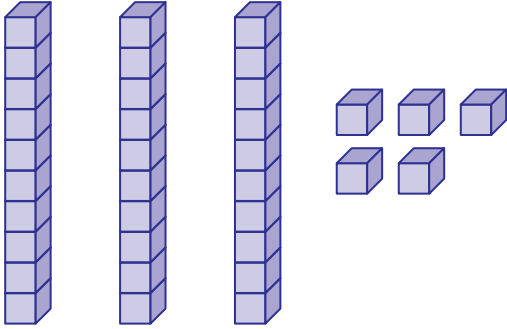
A) 4

B) 6

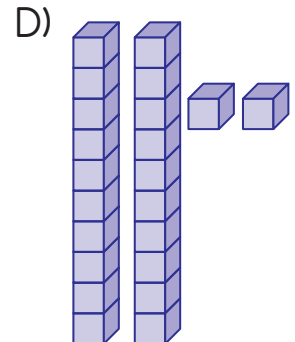
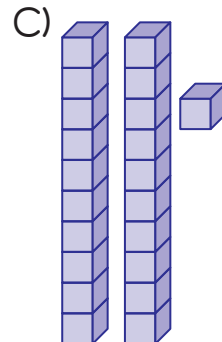
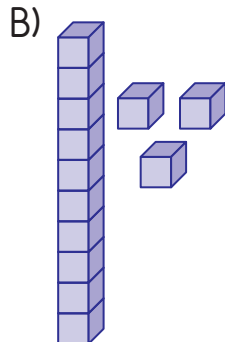
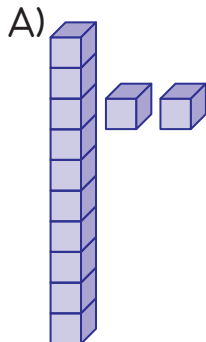
C) 7

D) 8

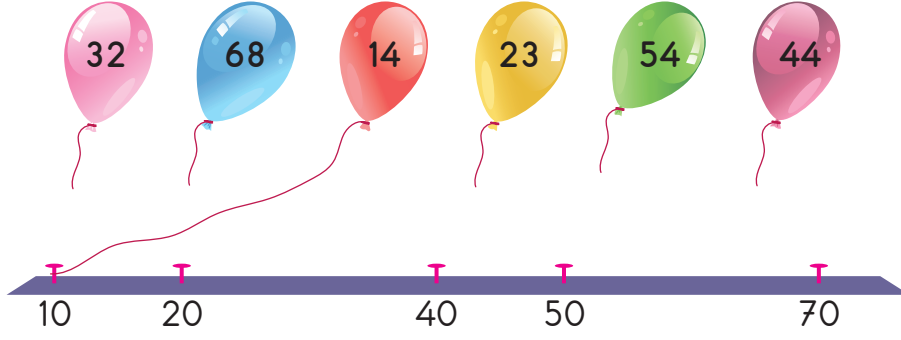
2.



Verilen modele aşağıdaki hangi sayı bloğu eklenirse 47 sayısı elde edilir?



3.



Yukarıdaki balonlar üzerinde yazan sayıların en yakın olduğu onluğa bağlanacaktır.

Buna göre kaç numaralı balon bağlanmaz?

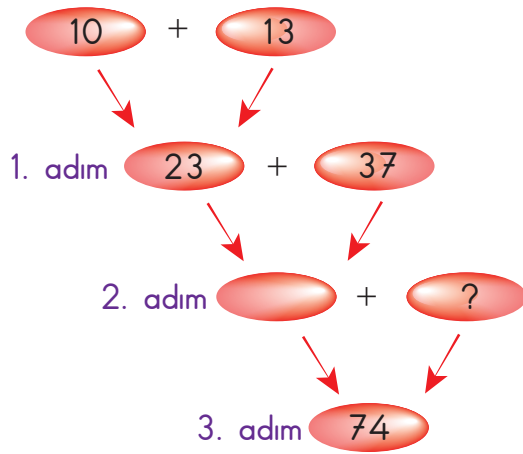
A) 23

B) 32

C) 44

D) 68

4.



Yukarıda verilen işlemler 1. adımdaki gibi devam ettiriliyor.

Buna göre ? yerine gelmesi gereken sayı kaçtır?

A) 14

B) 17

C) 19

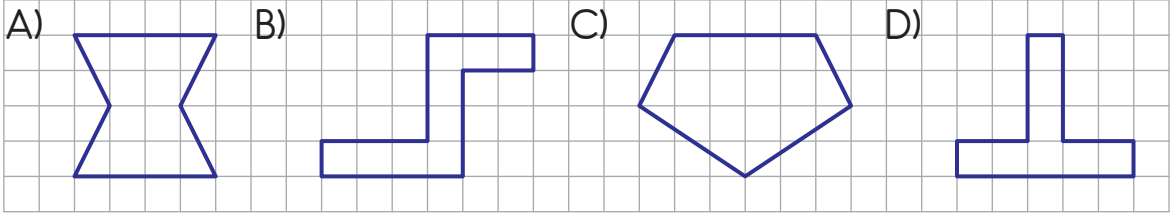
D) 24

5. Bir kalemlik 12 liradır. Bir defterin fiyatı kalemliğin fiyatından 4 lira fazladır.

Buna göre 1 kalemlik ve 1 defter alan kişi kaç lira öder?

- A) 26 B) 28 C) 32 D) 34

6. Aşağıdaki şekillerden hangisi simetrik değildir?



7. Ece'den tahtaya yazılan sayıdan 16'yı çıkarması istenmiştir. Ancak Ece çıkarma işlemi yapmak yerine toplama işlemi yapmıştır.

Buna göre bulduğu sonuç ile bulması gereken sonuç arasındaki fark kaçtır?

- A) 0 B) 8 C) 16 D) 32

8. $45 - 12 = 15 + \blacktriangle$

Yukarıdaki eşitlikte \blacktriangle yerine hangi sayı yazılmalıdır?

A) 13

B) 18

C) 27

D) 33

9.



Verilen örüntüde eksik bırakılan yerlere sırasıyla aşağıdakilerden hangisi gelmelidir?

A)  B)  C)  D)  

10.



Şekildeki her bir kalem kutusunda aynı sayıda kalem vardır.

Kutulardaki toplam kalem sayısının çarpma işlemi ile gösterimi aşağıdakilerden hangisidir?

A) 3×5

B) 4×5

C) 4×6

D) 5×6

11. 9 katlı bir apartmanın her katında 4 daire vardır.

Buna göre bu apartmanda toplam kaç daire vardır?

A) 13

B) 18

C) 27

D) 36

12.



Filiz resimdeki çiçeklerden dörderli buketler yapıyor.

Bu gruplamayı gösteren ardışık çıkarma işlemi aşağıdakilerden hangisidir?

A) $20 - 10 = 10$
 $10 - 10 = 0$

B) $20 - 5 = 15$
 $15 - 5 = 10$
 $10 - 5 = 5$
 $5 - 5 = 0$

C) $20 - 4 = 16$
 $16 - 4 = 12$
 $12 - 4 = 8$
 $8 - 4 = 4$
 $4 - 4 = 0$

D) $20 - 2 = 18$
 $18 - 4 = 14$
 $14 - 6 = 8$
 $8 - 8 = 0$

13. “18 lirası olan Hale tanesi 3 lira olan boya kalemlerinden kaç tane alabilir?”

Bu problemin çözümüne uygun işlem aşağıdakilerden hangisidir?

A) $18 \div 3$

B) $18 \div 6$

C) 18×6

D) 18×3

14.



Verilen 2 pizza, aşağıdaki şekilde Engin, Fatih, Derya ve Cem arasında paylaştırılmıştır.



Engin



Fatih



Derya

?

Cem

Buna göre Cem'in payına düşen pizza miktarı ne kadardır?

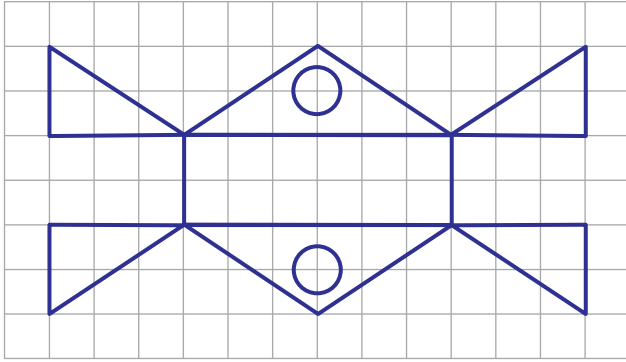
A) 1 yarım, 2 çeyrek

B) 2 çeyrek

C) 1 yarım, 1 çeyrek

D) 1 çeyrek

15.



Selda geometrik şekiller kullanarak yukarıdaki süslemeyi yapmıştır.

Selda bu süslemede aşağıdaki geometrik şekillerden hangisini kullanmamıştır?

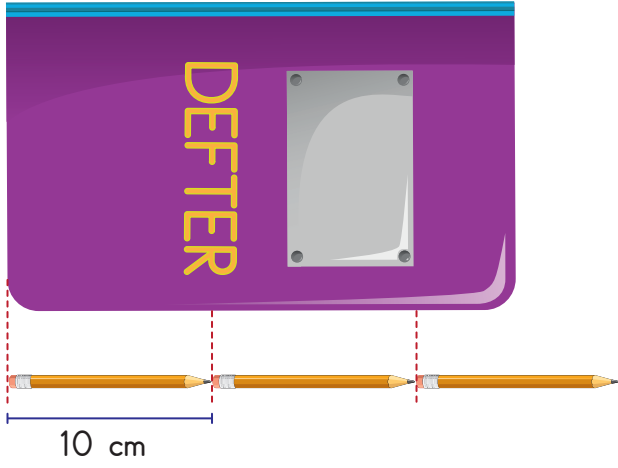
A) Üçgen

B) Çember

C) Dikdörtgen

D) Kare

16.



Şekilde verilen kalemin boyu 10 cm'dir.

Defterin boyu bu kalemle ölçüldüğünde yapılan en doğru tahmin aşağıdakilerden hangisidir?


A) 18 cm

B) 20 cm

C) 25 cm

D) 30 cm

17.



Şekildeki boş sürahi 4 bardak su ile dolmaktadır.

20 öğrencinin birer bardak su içmesi için su ile dolu kaç sürahiye ihtiyaç vardır?

A) 4

B) 5

C) 6

D) 16

18. Dilek oturduğu eve 2 ay 3 hafta önce taşınmıştır.

Bugünün tarihi 2 Nisan 2019 olduğuna göre Dilek bu eve hangi ay taşınmıştır?

A) Aralık


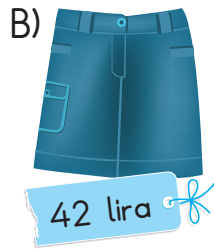
B) Ocak

C) Şubat

D) Mart

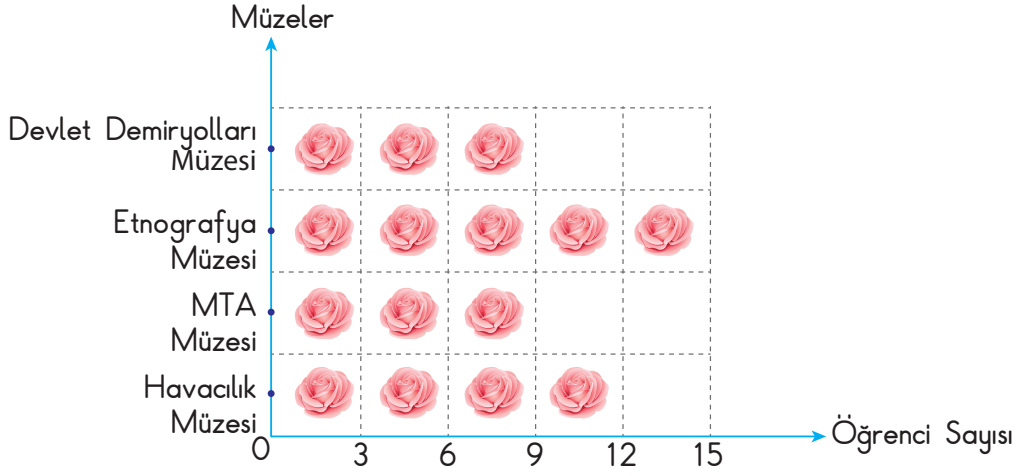
19. Ayşe'nin 1 tane 20 lira, 2 tane 10 lira, 4 tane 1 lira, 2 tane 50 kuruşu vardır.

Buna göre Ayşe parasının tamamı ile aşağıdakilerden hangisini satın alamaz?



20. Aşağıdaki grafikte 2/E sınıfı öğrencilerinin gitmiş olduğu müzeler gösterilmiştir.

Grafik: 2/E Sınıfı Öğrencilerinin Gittiği Müzeler



Not: Her  şekli 3 öğrenciyi göstermektedir.

Grafiğe göre aşağıdakilerden hangisi yanlıştır?

- A) Etnografya Müzesine giden öğrenci sayısı en fazladır.
- B) Devlet Demiryolları Müzesi ve MTA Müzesine giden öğrenci sayıları eşittir.
- C) Havaçılık Müzesine giden öğrenci sayısı Devlet Demiryolları Müzesine giden öğrenci sayısından 1 fazladır.
- D) Etnografya Müzesine giden öğrenci sayısı Havaçılık Müzesine giden öğrenci sayısından fazladır.

MATEMATİK TESTİ BİTTİ.
HAYAT BİLGİSİ TESTİNE GEÇİNİZ.



1. Aşağıda Melis'in bazı dersleri için okula götürmesi gereken malzemeler ile pazartesi günü ders programı verilmiştir.

Gerekli Malzemeler	Pazartesi Ders Programı
Hayat Bilgisi: Defter	1. Ders: Hayat Bilgisi
Matematik: Cetvel	2. Ders: Hayat Bilgisi
Görsel Sanatlar: Boya Kalem	3. Ders: Matematik
Müzik: Flüt	4. Ders: Matematik
	5. Ders: Görsel Sanatlar
	6. Ders: Görsel Sanatlar

Buna göre pazartesi günü Melis'in aşağıdakilerden hangisini okula götürmesine gerek yoktur?

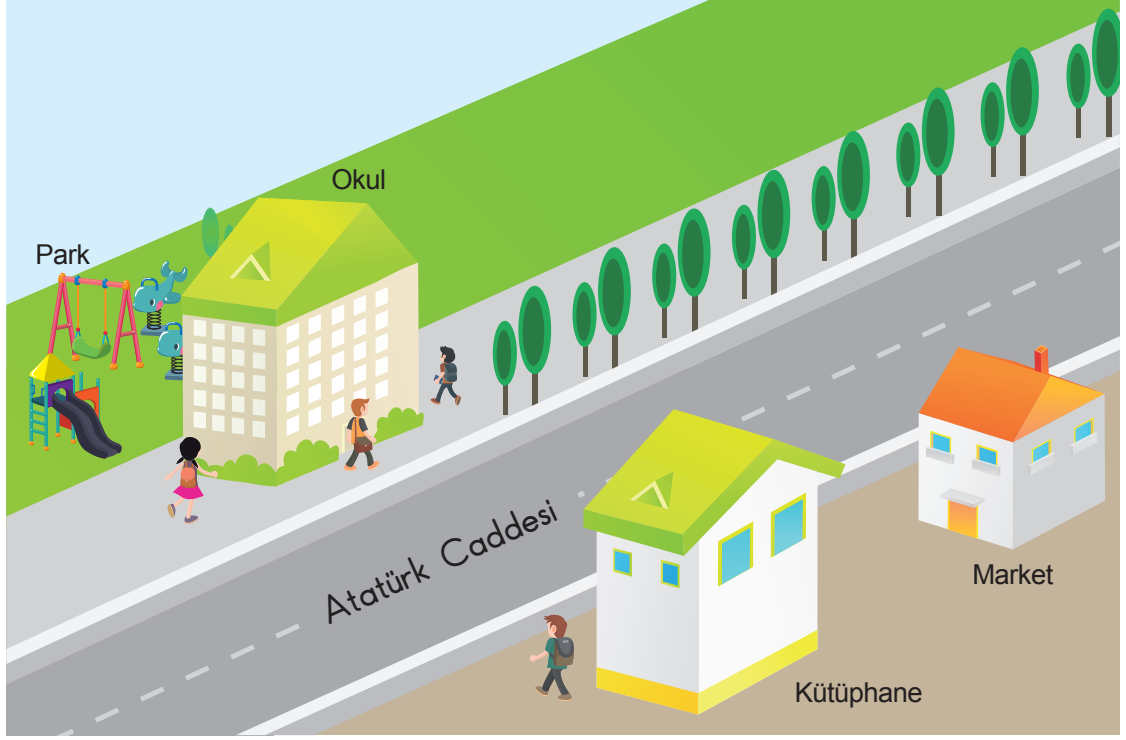
- A) Defter B) Cetvel C) Boya kalem D) Flüt

2. Seda, Hayat Bilgisi dersinde okul kaynaklarını ve eşyalarını özenli kullanması gerektiğini öğrenmiştir.

Buna göre Seda'nın aşağıdaki davranışlardan hangisini yapması beklenir?

- A) Defter ve kitaplarını temiz kullanır.
B) Lambaları gereksiz yere yakar.
C) Lavabolarda suyu boşa akıtır.
D) Temizlik malzemelerini gereğinden fazla tüketir.

3.



Görseldeki okulun yeri aşağıdaki ifadelerden hangisiyle tarif edilemez?

- A) Atatürk Caddesinde
B) Kütüphanenin karşısında
C) Marketin yanında
D) Parkın önünde

4. Aşağıdakilerden hangisi fiziksel özelliklerimizden biridir?

- A) Duygularımız
B) Boyumuz
C) Yeteneklerimiz
D) İlgi alanlarımız

5. Bir sınıftaki öğrenciler Orman Haftası ile ilgili grup çalışması yapacaktır.

Bu çalışma sırasında aşağıdakilerden hangisinin yapılması uygun değildir?

- A) İş bölümü yapılması
B) Nezaket ifadelerinin kullanılması
C) Sorumlulukların yerine getirilmesi
D) Kararları bir kişinin vermesi

6. Okulda öğretmenimizin anlattıklarını anlayabilmek için onu iyi bir şekilde dinlemeliyiz.

Buna göre aşağıdakilerden hangisi öğretmenimizi dinlerken yapmamız gereken davranışlardandır?

- A) Yüzüne bakarak dinlemeliyiz.
- B) Dinlerken başka işlerle uğraşmalıyız.
- C) Şikayet etmek için sözünü kesmeliyiz.
- D) Dikkatini dağıtacak hareketler yapmalıyız.

7. Arkadaşlarımızla oyun oynarken uymamız gereken kurallar vardır.

Aşağıdakilerden hangisi bu kurallardan biridir?

- A) Öfkeli davranışlarda bulunmak
- B) Oyuna katılırken izin istemek
- C) Oyunu kazanan tarafla kavga etmek
- D) Oyun sırasında arkadaşlarımıza küsmek

8. Efe ve ailesi evdeki kaynakları tasarruflu kullanarak aylık giderlerini azaltmak istemektedir.

Buna göre Efe ve ailesi aşağıdakilerden hangisini yaparlarsa giderleri azalabilir?

- A) Kullanılmayan odadaki lambaları yakarlarsa
- B) Dişlerini fırçalarken musluğu açık bırakırlarsa
- C) Hava sıcakken ısıtıcının ısını yükseltirlerse
- D) İzlenmeyen televizyonu kapatırlarsa

9. Mert, ulaşım türlerinde kullanılan taşıtlara aşağıdaki örnekleri vermiştir.

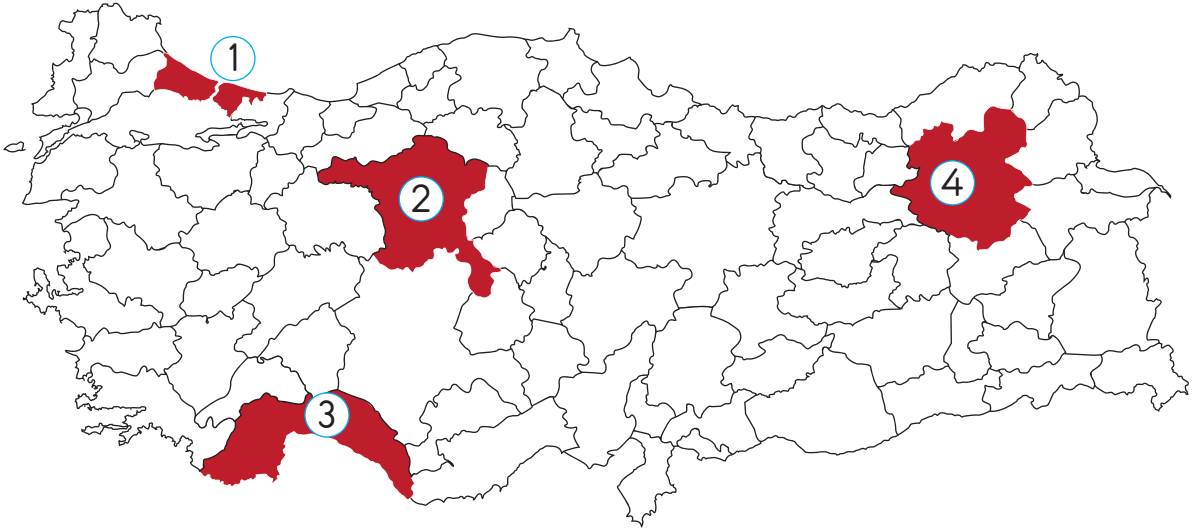


Mert hangi ulaşım türüne yanlış örnek vermiştir?

- A) Kara yolu
C) Demir yolu

- B) Hava yolu
D) Deniz yolu

10. İzmir'de yaşayan Berk, başkentimizi gezmeye gidecektir.



Buna göre haritada gösterilen kaç numaralı şehre gitmelidir?

A) 1

B) 2

C) 3

D) 4

11. Acil hastalık, yaralanmalar ve trafik kazalarında aramız gereken ambulansın numarası kaçtır?

A) 110

B) 112

C) 155

D) 156

12. Aşağıda ülkemizle ilgili bazı bilgiler verilmiştir.

- Ay yıldızlı bayrağımız bağımsızlığımızın sembolüdür.
- İstiklâl Marşımızın şairi Mustafa Kemal Atatürk'tür.
- Atatürk, 19 Mayıs'ta Samsun'a çıkarak Kurtuluş Savaşını başlatmıştır.
- Gelenek ve göreneklerimiz kültürel mirasımızdır.

Bu bilgilerden kaç tanesi doğrudur?

A) 1

B) 2

C) 3

D) 4

13.



Ahmet

23 Nisan'da Büyük Millet Meclisi açıldı. Bayram ilan edilen bu günü her yıl coşkuyla kutluyoruz.

Ahmet hangi bayramla ilgili bilgi vermiştir?

A) Zafer Bayramı

B) Cumhuriyet Bayramı

C) Atatürk'ü Anma ve Gençlik ve Spor Bayramı

D) Ulusal Egemenlik ve Çocuk Bayramı

14. Görseldeki kişi Buse'nin yakın akrabasıdır.



Buna göre görseldeki kişi Buse'nin nesi olur?

- A) Teyzesi B) Halası C) Kuzeni D) Anneanesi

15. Öğretmen derste işleyeceği bir konu ile ilgili resimler göstermiştir.



Bu resimlerle aşağıdaki konulardan hangisi anlatılmaktadır?

- A) Sağlıklı yaşam B) Görgü kuralları
C) Sağlıklı beslenme D) Çevre temizliği

16. Öğrenciler sabah kahvaltısında yedikleri besinleri söylüyorlar.



Mehmet

Patates cipsi, salata ve makarna



Zehra

Gazoz, pasta ve ekmek



Derya

Peynir, yumurta, süt ve ekmek



Engin

Kuru yemiş, pasta ve dondurma

Buna göre hangi öğrenci sabah kahvaltısında dengeli ve sağlıklı beslenmiştir?

A) Mehmet

C) Derya

B) Zehra

D) Engin

17. Bir yaz günü Duru, annesi ile markete gidiyor. Markette karpuz, nar, mandalina, şeftali, kiraz ve ayva gibi meyveleri görüyor.



Duru ve annesi bu meyvelerden hangilerini seçerse mevsimine uygun beslenmiş olur?

- A) Nar, şeftali, kiraz
 B) Karpuz, kiraz, şeftali
 C) Mandalina, nar, ayva
 D) Ayva, şeftali, karpuz
18. Gülşen Öğretmen, öğrencilerine bazı bilgiler veriyor.
- Havalar soğumaya başladı.
 - Biraz daha kalın kıyafetler giymelisiniz.
 - Dışarı çıkarken yanınıza yağmurluk ve şemsiye almalısınız.
- Öğretmenin verdiği bu bilgiye göre aşağıdaki öğrencilerden hangisi uygun kıyafet seçmiştir?



19. İpek, resimde verilen ağaçla ilgili araştırma yapıyor.



Yaptığı araştırma sonucunda ağaçla ilgili aşağıdaki sorulardan hangisine “hayır” yanıtını vermiştir?

- A) Yer değiştirir mi?
- B) Solunum yapar mı?
- C) Büyüyüp gelişir mi?
- D) Güneşe ihtiyaç duyar mı?

20. Resimde bir bölgenin yeryüzü şekli gösterilmektedir.



Bu bölgenin özelliklerinden biri aşağıdakilerden hangisidir?

- A) Yaşam şartları insanlar için çok kolaydır.
- B) Keçi gibi hayvanların yetiştirilmesi için uygun alanlardır.
- C) İnsan nüfusu, kentlerdekinden daha yoğundur.
- D) Sanayinin çok kolay gelişeceği alanlardır.

TEST BİTTİ.
CEVAPLARINIZI KONTROL EDİNİZ.



SINAV BAŞLAMADAN AŞAĞIDAKİ UYARILARI MUTLAKA OKUYUNUZ!

1. Öğrenciler, sınav kurallarına ve salon görevlilerinin tüm uyarılarına uymak zorundadırlar.
2. Cevap kâğıdındaki kimlik bilgilerinin doğruluğunu kontrol ediniz. Bilgiler size ait değilse veya cevap kâğıdı kullanılmayacak durumdaysa sınav görevlilerine bildirin.
3. Sınav başladıktan sonra öğrencilerin salon görevlileri ve birbirleri ile konuşmaları, kalem, silgi vb. şeyleri istemeleri yasaktır.
4. Değiştirmek istediğiniz bir cevabı, yumuşak silgiyle cevap kâğıdını yıpratmadan temizce siliniz ve yeni cevabınızı kodlayınız.
5. Cevap kâğıdınızı silinmeyen bir kalemle imzalayınız.
6. Cevaplarınızı, cevap kâğıdındaki ilgili soru numarasını dikkate alarak yuvarlağın dışına taşırmadan kodlayınız.
7. Soru kitapçığının sayfalarını kontrol ediniz, baskı hatası var ise değiştirilmesini sağlayınız.
8. Soru kitapçığı üzerinde yapılıp cevap kâğıdına işaretlenmeyen cevaplar değerlendirmeye alınmayacaktır.
9. Soru kitapçığının içindeki boş alanları çözümlerinizi için kullanabilirsiniz.
10. Cevaplamaya istediğiniz sorudan başlayabilirsiniz.
11. Cevabını bilmediğiniz sorular üzerinde fazla zaman kaybetmeden diğer sorulara geçiniz. Zamanınız kalırsa bu sorulara daha sonra dönebilirsiniz.
12. Sınav puanınızın hesaplanmasında 3 yanlış 1 doğru cevabınızı götürecektir. Alt testler bu şekilde hesaplanarak net puanlarının toplamı toplam net puanınızı verecektir.
13. Sınav bitiminde, soru kitapçığı ve cevap kâğıdını salon görevlilerine teslim ediniz.
14. Sınav sırasında çanta, cep telefonu, saat, kablosuz iletişim sağlayan cihazlar ve kulaklık, kolye, küpe, bilezik, yüzük, broş ve benzeri eşyalar ile her türlü elektronik ve/veya mekanik cihazları yanınızda bulundurmuyunuz. Bu araçları yanınızda bulundurmanız ve kopya çekmeye teşebbüs etmeniz hâlinde sınavınız geçersiz sayılacaktır.
15. Cevap kâğıdınızı sınav süresince hiçbir öğrencinin göremeyeceği şekilde önünüzde bulundurunuz.
16. Sınavınızın değerlendirilmesi aşamasında, toplu kopya tespiti veya başka adayın sınav evrakını kullanmanız durumunda sınavınız geçersiz sayılacaktır.
17. Soruları ve sorulara verdiğiniz cevapları kaydetmeyiniz, hiçbir şekilde dışarı çıkarmayınız.
18. İlk 15 dakika dışarı çıkılmayacaktır.
19. Sınav evraklarını teslim etmeyenlerin sınavı geçersiz sayılacaktır.

SINAV GÖREVLİLERİNCE SINAV BAŞLAMADAN ÖNCE ÖĞRENCİLERE YAPILACAK SON UYARI!

- Soracağınız bir şey var mı? Varsa, şimdi sorunuz.
- Sınav başladıktan sonra sorularınıza cevap verilmeyecektir.
- Başlama zilini bekleyiniz.

Hepinize başarılar dileriz.

(Sınav görevlisi başlama ve bitiş saatini tahtaya yazacaktır.)

Bu kitapçığın her hakkı saklıdır. Hangi amaçla olursa olsun, kitapçığın tamamının veya bir kısmının Millî Eğitim Bakanlığı Ölçme, Değerlendirme ve Sınav Hizmetleri Genel Müdürlüğünün yazılı izni olmadan kopya edilmesi, fotoğraflarının çekilmesi, bilgisayar ortamına alınması, herhangi bir yolla çoğaltılması, yayımlanması veya başka bir amaçla kullanılması yasaktır. Bu yasağa uymayanlar, doğabilecek cezai sorumluluğu ve kitapçığın hazırlanmasındaki mali külfeti peşinen kabullenmiş sayılır.

**26 MAYIS 2019 TARİHİNDE YAPILAN TED ANKARA KOLEJİ VAKFI
ÖZEL İLKOKULU VE ORTAOKULU SEÇME SINAVI
3. SINIF "A" KİTAPÇIĞI CEVAP ANAHTARI**

TÜRKÇE	MATEMATİK	HAYAT BİLGİSİ
1. C	1. A	1. D
2. A	2. A	2. A
3. B	3. B	3. C
4. B	4. A	4. B
5. D	5. B	5. D
6. C	6. B	6. A
7. B	7. D	7. B
8. B	8. B	8. D
9. A	9. D	9. C
10. A	10. C	10. B
11. D	11. D	11. B
12. B	12. C	12. C
13. C	13. A	13. D
14. C	14. D	14. A
15. D	15. D	15. A
16. B	16. C	16. C
17. D	17. B	17. B
18. D	18. B	18. C
19. A	19. D	19. A
20. A	20. C	20. B