



**AÇIK ÖĞRETİM ORTAOKULU
2017 - 2018 ÖĞRETİM YILI
2. DÖNEM SINAVI**

0

31 MART 2018

Saat: 09.30

1.
OTURUM

<u>DERSLER</u>	<u>SAYFA</u>	<u>DERSLER</u>	<u>SAYFA</u>
(550) TÜRKÇE – 5	2	(730) TÜRKÇE – 7	16
(551) MATEMATİK – 5	4	(731) MATEMATİK – 7	19
(552) FEN BİLİMLERİ – 5	5	(732) FEN BİLİMLERİ – 7	20
(633) SOSYAL BİLGİLER – 6	8	(834) T.C. İNK. TAR. VE ATATÜRK. – 8	23
(634) İNGİLİZCE – 6	10	(835) İNGİLİZCE – 8	24
(634) ALMANCA – 6	12	(835) ALMANCA – 8	26
(634) FRANSIZCA – 6	13	(835) FRANSIZCA – 8	27
(635) DİN KÜL. VE AHLAK BİLGİSİ – 6	15	(836) DİN KÜL. VE AHLAK BİLGİSİ – 8	29

ADAYLARIN DİKKATİNE!

- Her ders için 20 soru bulunmaktadır. Bu oturumda **150** dakikalık cevaplama süreniz vardır. Sınav başladıktan sonra ilk **30** dakika tamamlanmadan dışarı çıkmayınız.
- Sınav sırasında çanta, cep telefonu, saat, kablosuz iletişim sağlayan cihazlar ve kulaklık, kolye, küpe, bilezik, yüzük, broş ve benzeri eşyalar ile her türlü elektronik ve/veya mekanik cihazları yanınızda bulundurmuyunuz. Bu araçları yanınızda bulundurmanız ve kopya çekmeye teşebbüs etmeniz hâlinde sınavınız geçersiz sayılacaktır.
- Başvuru şartlarını taşımadığınız hâlde sınava girmeniz, kopya çekmeniz, başka adayın sınav evrakını kullanmanız, geçerli kimlik belgenizi ve sınav giriş belgenizi ibraz edemediğiniz durumlarda sınavınız geçersiz sayılacaktır.
- Sınavın değerlendirilmesi aşamasında, bilgisayar ortamında yapılan kopya analizinde sistemin ikili ve/veya toplu kopya tespiti hâlinde sınavınız geçersiz sayılacaktır.
- Adaylar, sınav kurallarına ve salon görevlilerinin tüm uyarılarına uymak zorundadır. Kurallara ve uyarılara uymayan adayların sınavları geçersiz sayılacaktır.**
- Sınav başladıktan sonra adayların salon görevlileri ve birbirleri ile konuşmaları; kalem, silgi vb. şeyleri istemeleri yasaktır.
- Adaylar sınav süresince, sınav giriş belgesi ile geçerli kimlik belgelerinden birinin aslını (fotoğraflı nüfus cüzdanı, pasaport veya sürücü belgesi) masalarının üzerinde bulundurmamak zorundadır.
- Sınav evraklarını teslim etmeyen, soru kitapçıklarının sayfalarından bir kısmını eksik teslim edenlerin sınavları geçersiz sayılacaktır.**
- Sınav başlamadan önce kitapçığın arkasındaki açıklamaları okuyunuz.

BAŞLAYINIZ DENMEDEN SORU KİTAPÇIKLARINI AÇMAYINIZ.

1. OTURUM

(550) TÜRKÇE – 5

1. Aşağıdaki cümlelerin hangisinde altı çizili sözcük terim anlamlıdır?

- A) Cümlede bazen isimlerin yerine zamir kullanılır.
- B) Çocuk, bahçede ağaçlara tırmanıyordu.
- C) Bu salona lila rengi bir koltuk takımı almayı düşünürüz.
- D) Camı açarak karın yağışını seyre daldı.

2. “Yeni” sözcüğü aşağıdaki cümlelerin hangisinde “biraz önce” anlamında kullanılmıştır?

- A) Duyduğuma göre yeni vali çok çalışkanmış.
- B) Dergide bazen yeni yazarlara rastlıyoruz.
- C) Beşiktaş vapuru yeni kalkmış.
- D) Yeni evlerine haftaya taşınacaklarmış.

3. “Kuru” sözcüğü aşağıdaki cümlelerin hangisinde mecaz anlamda kullanılmıştır?

- A) Kuru ekmekleri ufalayarak kuşlara verdi.
- B) Ağacın kuru dallarını babamla kestik.
- C) Kuru bir bezle masanın üstünü sildi.
- D) Zevksiz, kuru bir hayat sürdürdüğünü söyledi.

4. Zonguldak’tan çıkan kömür:

1

Kara inci, kara inci

2

Saymaya yetmez ömür

3

Pamuğumuz beyaz inci

4

Bu şiirdeki numaralanmış sözcüklerden hangisi eş seslidir?

- A) 1. B) 2. C) 3. D) 4.

5. Aşağıdaki cümlelerin hangisinde sebep-sonuç ilişkisi vardır?

- A) Gece uykusunu alamadığı için kendini işe veremiyordu.
- B) Güzel haber tarlalarda çalışan köylülere kadar hızla yayıldı.
- C) Fatma’nın bitmek tükenmek bilmeyen bir enerjisi var.
- D) Tezgâhta sergilenen takılara uzun uzun baktı.

6. Aşağıdaki cümlelerin hangisinde abartılı bir ifade vardır?

- A) O kadar heyecanlanmış ki kalp atışlarını tüm şehir duymuş.
- B) Sabah aldığı gazeteleri göstererek yanımdan geçti.
- C) Atölyedeki makinelerin sesi birer birer durdu.
- D) Ayakkabısına dolan kumları hemen temizledi.

7. Düşmanlarımı bağıslıyorum

Daha çok seviyorum dostlarımı
Her uyanışında.

Bu dizelerde altı çizili sözcükler arasındaki anlam ilişkisi aşağıdakilerden hangisidir?

- A) Eş anlamlılık (anlamdaşlık)
- B) Karşıt (zıt) anlamlılık
- C) Yakın anlamlılık
- D) Eş seslilik (sesteşlik)

8. Aşağıdaki cümlelerin hangisinde karşılaştırma vardır?

- A) Bir gün eve trenle dönüyordum ki sirenler ötmeye başladı.
- B) Yaşadığımız kentin tarihini merak edip araştırdım.
- C) Gezip gördüklerimiz, okuduklarımızdan daha çok akılda kalır.
- D) Yavaş yavaş bahçe kapısına gidip caddeye baktım.

9. Aşağıdaki cümlelerden hangisi hayal ürünü bir öge içermektedir?

- A) Köpek, kumların üzerinde koşup yuvarlanıyordu.
- B) Gördüğümüz zürafa dört metre boyundaymış.
- C) Küçük civciv, uzay gemisine binip dünyaya geldi.
- D) Kanguruların zıplayışı hepimize ilginç gelmişti.

10. (1) Oltalara yem taktım ve nasıl atması gerektiğini arkadaşşıma gösterdim. (2) Balık yakalarsa nasıl çekeceğini anlattım. (3) İkimiz de oltalarımızı suya fırlattık. (4) Balığın oltaya vurmasını beklemek bence çok keyifliydi.

Bu metindeki numaralanmış cümlelerden hangisi öznel bir yargıdır?

- A) 1. B) 2. C) 3. D) 4.

1. OTURUM

11. İyi bir yazı, iyi bir gözleme dayanır. Sanatçı; çevresini, kişi veya nesneleri en iyi biçimde gözlemleme yeteneğine sahip olmalıdır. İnsanları, nesneleri iyi tasvir etmek, gerçek anlamda başarılı bir gözlemle mümkündür.

Bu metnin konusu aşağıdakilerden hangisidir?

- A) Yazı yazmada gözlemin önemi
B) Eleştirinin sanata katkısı
C) Sanatta kalıcı olmanın zorlukları
D) Yazarların duygusal yapısı

12. Bilmediğim bu şehirde, şu köşebaşında, Telaşlı kalabalıklar arasından Şimdi tam aklımdan geçtiğin anda, Karşıma çıkıversen hey dost!

Bu dördünlüğün ana duygusu aşağıdakilerden hangisidir?

- A) Hırs
B) Özlem
C) Kaygı
D) Fedakârlık

13. Düğme, kumaştaki dikilecek yere yerleştirilir. İğne, kumaşın arka tarafından batırılıp düğmenin bir deliğinden geçirilir. Sonra iğne, düğmenin başka bir deliğinden geçirilip kumaşa da batırılarak kumaşın arkasından çıkarılır. Düğme sağlam bir şekilde yerine oturunca arkasından düğüm atılır.

Bu metin aşağıdaki sorulardan hangisine cevap vermek amacıyla yazılmıştır?

- A) Terzilik zor bir meslek midir?
B) Dikiş çeşitleri nelerdir?
C) Artık kumaşlarla neler yapılabilir?
D) Düğme nasıl dikilir?

14. Kanın en önemli görevlerinden biri hücrelere ve dokulara oksijen, hormon ve besin maddeleri taşımaktır. Ayrıca vücut sıcaklığının korunmasında da önemli bir role sahiptir. Pıhtılaşmayı sağlamak ve zararlı organizmalara karşı vücudu korumak da kanın görevleri arasındadır.

Bu metne en uygun başlık aşağıdakilerden hangisidir?

- A) Besin Maddeleri
B) Zararlı Organizmalar
C) Kanın Görevleri
D) Vücut Sıcaklığının Korunması

15. (1) Şarkılar, sözcüklerle müziğin karışımından meydana gelir. (2) Meydana gelen karışım insana birçok duygu verir. (3) İnsan şarkı dinlerken kendini bir bulutun üstündeymiş gibi hisseder. (4) Bu, şarkıların etkileyiciliğiyle ilgilidir.

Bu metindeki numaralanmış cümlelerin hangisinde benzetme yapılmıştır?

- A) 1. B) 2. C) 3. D) 4.

16. "Süt" sözcüğü aşağıdaki eklerden hangisini alırsa anlamı değişir?

- A) -ü B) -çü C) -e D) -ten

17. Aşağıdaki cümlelerin hangisinde ünlem işareti (!) kullanımı doğrudur?

- A) Oyunlarını sergilemek üzere kasabamıza geldiler!
B) Meslektaşımla oturup etraflıca konuştuk!
C) Çiçekler bu mevsimde tomurcuklanıyor!
D) Hey, Şoför Bey! Lastiğin havası inmiş.

18. Aşağıdaki cümlelerin hangisinde onaylama anlamı vardır?

- A) Doğru söylüyorsun, bu düşüncene katılıyorum.
B) Son zamanlardaki davranışlarını şaşkınlıkla izliyorduk.
C) Evden çıkarken anahtarı sakın unutma.
D) Keşke çocukluk yıllarıma geri dönebilsem.

19. Aşağıdaki altı çizili sözcüklerin hangisinde ünsüz yumuşaması vardır?

- A) Camın önündeki çiçeği de suladın mı?
B) Temiz ve aydınlık bir salondur burası.
C) İri yapılı ve uzun boylu bir çocuktur.
D) Dalga sesleri bana hep huzur vermiştir.

20. Aşağıdaki cümlelerin hangisinde büyük harflerin yazımıyla ilgili bir yanlışlık vardır?

- A) Bu hafta sonu Ürgüp'e gideceğiz.
B) Bizim ailede en lezzetli keki Filiz yapar.
C) Gezmekten en çok keyif aldığım şehir İstanbul'dur.
D) Toplantı Salı günü yapılacaktır.

1. OTURUM

(551) MATEMATİK – 5

1. 100 001 001 doğal sayısının okunuşu aşağıdakilerden hangisidir?

- A) Bir milyon bin bir
- B) On milyon on bin bir
- C) Yüz milyon yüz bin bir
- D) Yüz milyon bin bir

2. 8548 – 6031 işleminin sonucu kaçtır?

- A) 1497
- B) 1597
- C) 2517
- D) 2597

3. $3 \times (16 - 13)$ işleminin sonucu kaçtır?

- A) 9
- B) 35
- C) 61
- D) 87

4. Bir kuruyemişçi her birinin içinde 30 kg üzüm bulunan kolilerden 7 tane alıyor.

Bu kuruyemişçi kaç kilogram üzüm almıştır?

- A) 312
- B) 245
- C) 210
- D) 42

5. $\frac{1}{8}$, $\frac{1}{5}$, $\frac{1}{3}$ kesirlerinin doğru sıralanışı aşağıdakilerden hangisidir?

- A) $\frac{1}{3} > \frac{1}{8} > \frac{1}{5}$
- B) $\frac{1}{3} > \frac{1}{5} > \frac{1}{8}$
- C) $\frac{1}{8} > \frac{1}{5} > \frac{1}{3}$
- D) $\frac{1}{5} > \frac{1}{8} > \frac{1}{3}$

6. 45 sayısının $\frac{8}{9}$ 'i kaçtır?

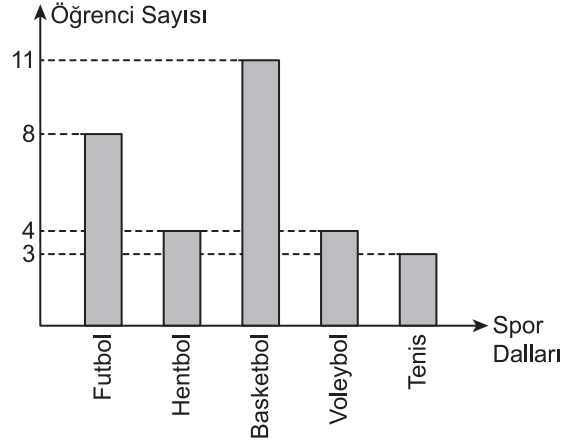
- A) 5
- B) 15
- C) 30
- D) 40

7. $0,57 - 0,25$ işleminin sonucu kaçtır?

- A) 0,32
- B) 0,375
- C) 0,82
- D) 0,825

8. Aşağıdaki grafik 5/A sınıfındaki öğrencilerin sevdiği spor dallarını göstermektedir.

Grafik : 5/A Sınıfındaki Öğrencilerin Sevdikleri Spor Dalları



Grafiğe göre aşağıdakilerden hangisi yanlıştır?


- A) En az sevilen spor dalı tenistir.
- B) En fazla sevilen spor dalı basketboldur.
- C) Hentbolu ve futbolu seven öğrencilerin sayıları eşittir.
- D) Voleybolu ve hentbolu seven öğrencilerin sayıları eşittir.

9. Fiyatı 150 lira olan bir ayakkabıda %20 indirim yapılıyor.

Bu ayakkabının fiyatında kaç lira indirim yapılmıştır?

- A) 45
- B) 30
- C) 20
- D) 15

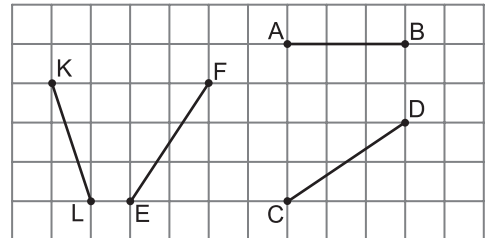
10.



Verilen geometrik şeklin sembolle gösterimi aşağıdakilerden hangisidir?

- A) TR
- B) [TR]
- C) (TR)
- D) TR]

11.

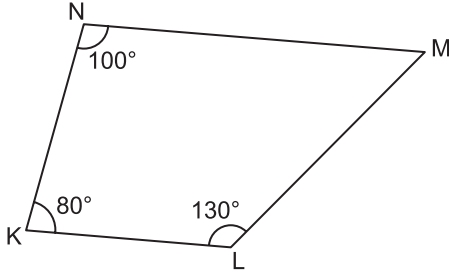


Yukarıda kareli kâğıtta verilen doğru parçalarından hangi ikisi eşit uzunluktadır?

- A) [AB] ile [EF]
- B) [AB] ile [KL]
- C) [CD] ile [EF]
- D) [CD] ile [KL]

1. OTURUM

12.



KLMN dörtgeninde $m(\widehat{MNK}) = 100^\circ$,
 $m(\widehat{NKL}) = 80^\circ$ ve $m(\widehat{KLM}) = 130^\circ$ dir.

Buna göre $m(\widehat{LMN})$ kaç derecedir?

- A) 50 B) 55 C) 60 D) 70

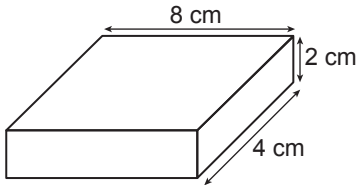
13. Çevresi 25 cm olan bir ABCD dörtgeninde $|AB| = 6$ cm, $|AD| = 4$ cm ve $|BC| = 5$ cm olduğuna göre $|CD|$ kaç santimetredir?

- A) 5 B) 6 C) 8 D) 10

14. Aşağıdaki ifadelerden hangisi doğrudur?

- A) 2 yıl = 36 ay
 B) 7 hafta = 49 gün
 C) 3 saat = 210 dakika
 D) 5 dakika = 500 saniye

15.



Yukarıda verilen dikdörtgenler prizması şeklindeki kutunun yüzeyi kâğıtla kaplanacaktır.

Bu iş için en az kaç santimetrekare kâğıda ihtiyaç vardır?

- A) 112 B) 86 C) 58 D) 28

16. $\frac{7}{20}$ kesrinin ondalık gösterimi aşağıdakilerden hangisidir?

- A) 0,67 B) 0,35 C) 0,71 D) 0,03

17. Kenar uzunlukları 14 cm ve 6 cm olan bir dikdörtgenin alanı kaç santimetrekaredir?

- A) 20 B) 34 C) 40 D) 84

18. $\frac{3}{7} - \frac{11}{28}$ işleminin sonucu kaçtır?

- A) $\frac{1}{28}$ B) $\frac{2}{7}$ C) $\frac{8}{21}$ D) $\frac{2}{3}$

19. Bir tarlanın ilk gün $\frac{5}{12}$ 'ine, ikinci gün $\frac{1}{6}$ 'ine buğday ekilmiştir.

İki günde bu tarlanın kaçta kaçına buğday ekilmiştir?

- A) $\frac{1}{3}$ B) $\frac{7}{12}$ C) $\frac{2}{3}$ D) $\frac{5}{6}$

20. Aşağıdakilerden hangisi eşkenar dörtgenin özelliklerinden biri değildir?

- A) Karşılıklı kenarları birbirine paraleldir.
 B) Köşegenleri birbirine diktir.
 C) Kenar uzunlukları birbirine eşittir.
 D) Bütün açıların ölçüleri birbirine eşittir.

ÖLÇME, DEĞERLENDİRME VE SINAV HİZMETLERİ GENEL MÜDÜRLÜĞÜ

(552) FEN BİLİMLERİ – 5

1. Aşağıda verilenlerden hangisi Güneş ve Dünya'nın ortak özelliklerindendir?

- A) Katmanlı yapıda olma
 B) Atmosfere sahip olma
 C) Isı ve ışık kaynağı olma
 D) Canlıların yaşamasına uygun olma

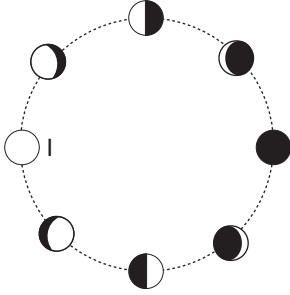
2. Ay'da rüzgâr ve yağmur gibi hava olayları görülmez.

Bu durumun nedeni aşağıdakilerden hangisidir?

- A) Yüzeyinin toz tabakası ile kaplı olması
 B) Yüzeyinde vadi ve yüksek dağların olması
 C) Atmosferinin çok ince bir tabaka hâlinde olması
 D) Gece gündüz arasındaki sıcaklık farkının çok olması

1. OTURUM

3. Şekilde Ay'ın evreleri verilmiştir.



I numara ile gösterilen konumda Ay hangi evresindedir?

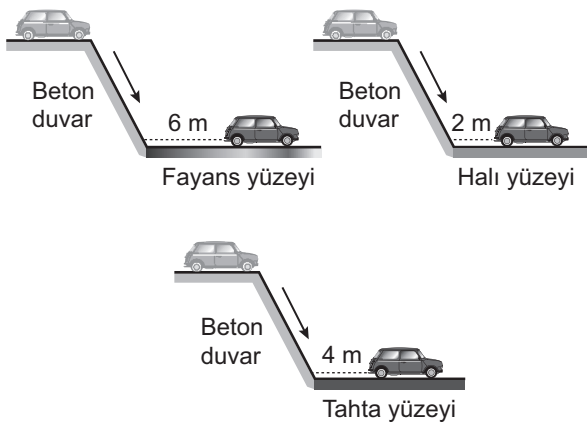
- A) İlk dördün B) Hilal
C) Son dördün D) Dolunay

4. I. Yerleşim yerleri akarsu ve dere yataklarına yapılmalı
II. Çevredeki yeşil alanlar artırılmalı
III. Eğimli yamaçlara teraslama ve ağaçlandırma yapılmalı

Sel tehlikesi olan bir bölgede yukarıdakilerden hangileri sel öncesinde alınacak önlemlerdendir?

- A) Yalnız I. B) I ve II.
C) II ve III. D) I, II ve III.

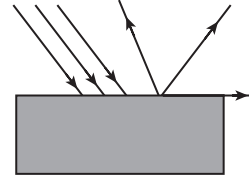
5. Özdeş oyuncak arabalar aynı yükseklikteki beton duvarlar üzerinde durmaktadır. Arabalar aynı kuvvetle itildiğinde son durumları şekildeki gibi oluyor.



Bu olayda sürtünme kuvvetinin aşağıdakilerden hangisine bağlı olduğu gözlenmiştir?

- A) Yüzeyin cinsine
B) Yüzeyin büyüklüğüne
C) Cismin süratine
D) Cismin ağırlığına

6. Kutu içindeki bir yüzeye paralel olarak gönderilen ışık ışınlarının farklı yönlerde yansması verilmiştir.



Buna göre kutu içindeki yüzey aşağıdakilerden hangisi olamaz?

- A) Kumaş
B) Düz ayna
C) Fon kartonu
D) Buruşuk alüminyum folyo

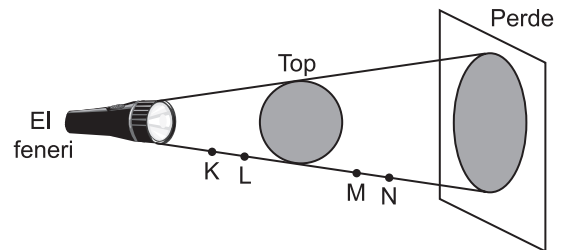
7. Tabloda numaralandırılmış kutucuklarda çeşitli maddeler verilmiştir.

Tül perde ①	Kiremit ②	Pencere camı ③
Alüminyum folyo ④	Sisli hava ⑤	Yağlı kâğıt ⑥

Bu maddelerden hangileri opak (saydam olmayan) maddedir?

- A) 1 ve 5 B) 2 ve 4
C) 1, 3 ve 5 D) 3, 5 ve 6

8. Şekilde ışık kaynağı önüne konulan topun gölgesi ekran üzerinde oluşturulmuştur.



El feneri ve perdenin yeri değiştirilmeden top hangi noktaya konulursa gölge boyu en küçük olur?

- A) K B) L C) M D) N

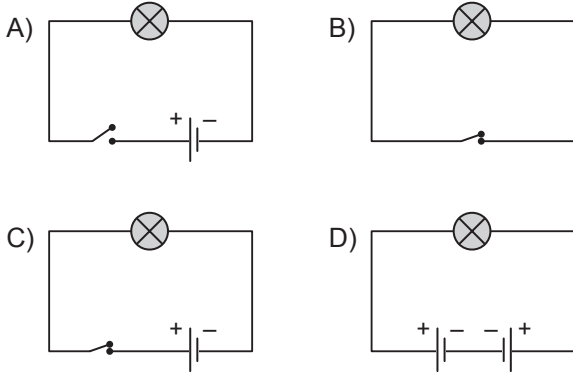
1. OTURUM

9. Basit bir elektrik devresinde -- ▲ -- , devreye enerji sağlar -- ● -- , devredeki enerjiyi tüketir.

Verilen cümledeki ▲ ve ● yerine aşağıdakilerin hangisinde verilenler yazılırsa cümle doğru tamamlanmış olur?

- | | |
|------------------|---------------|
| ▲ | ● |
| A) pil | ampul |
| B) ampul | pil |
| C) anahtar | iletken kablo |
| D) iletken kablo | anahtar |

10. Aşağıdaki devrelerden hangisindeki ampul ışık verir?



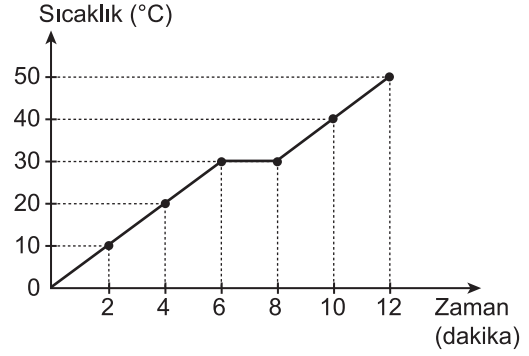
11. Aşağıda erime sıcaklıkları verilen maddelerden hangisi 500 °C'ta sıvı hâdedir?

Madde	Erime sıcaklığı (°C)
A) Demir	1535
B) Bakır	1083
C) Kalsiyum	839
D) Çinko	420

12. Buharlaşma olayı ile ilgili verilen bilgilerden hangisi doğrudur?

- A) Sıvının her yerinde olur.
 B) Her sıcaklıkta gerçekleşir.
 C) Madde dışarıya ısı verir.
 D) Sıcaklık arttıkça buharlaşma azalır.

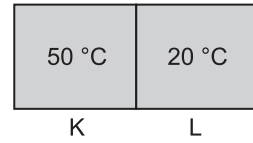
13. Saf katı bir maddenin ısıtılmasına ait sıcaklık - zaman grafiği verilmiştir.



Grafiğe göre bu madde ile ilgili aşağıdakilerden hangisi yanlıştır?

- A) 4. dakikada katı hâdedir.
 B) 6. dakikada erimeye başlamıştır.
 C) Erime sıcaklığı 30 °C'tur.
 D) 10. dakikada tamamen gaz hâlinedir.

14. Aynı maddeden yapılmış, sıcaklıkları farklı K ve L cisimleri şekildeki gibi temas ettiriliyor.



Bir süre bekletilen bu cisimlerle ilgili aşağıdaki durumlardan hangisi söylenemez?

- A) Aralarında ısı alışverişi gerçekleşir.
 B) Isı akışı K'den L'ye doğrudur.
 C) Sıcaklıkları eşitlendikten sonra ısı aktarımı devam eder.
 D) Sıcaklıklar eşitlenene kadar K'nin sıcaklığı azalırken L'nin artar.

15. Aşağıdakilerden hangisi maddenin büzülmesi olayına örnek olarak verilebilir?

- A) Yaz aylarında elektrik tellerinin sarkması
 B) Şişirilmiş balonun hacminin soğuk ortamda azalması
 C) Sıcak su içinde bekletilen kavanoz kapağının kolayca açılması
 D) Ortam sıcaklığı arttıkça termometredeki civa seviyesinin yükselmesi

1. OTURUM

16. Şeffaf poşet içinde bir süre bekletilen ekmeğin üzerinin yeşil-gri pamuksu bir yapıyla kaplandığı görülüyor.

Ekmek üzerinde oluşan bu yapıya neden olan canlı aşağıdakilerden hangisidir?

- A) Küf mantarı B) Amip
C) Öglena D) Terliksi hayvan

17. Kartta bir bitkinin bazı özellikleri verilmiştir.

Özellikler	Bitkinin adı
<ul style="list-style-type: none">• Çiçek ve tohumu yoktur.• Suda yaşar.	?

Bu bitki aşağıdakilerden hangisi olabilir?

- A) Papatya B) Su yosunu
C) Leylak D) Elma ağacı

18. • Omurgaya sahiptir.
• Yumurta ile ürer.
• Vücudu tüylerle kaplıdır.

Özellikleri verilen hayvan aşağıdakilerden hangisi olabilir?

- A) Tavuk B) Arı
C) Timsah D) Alabalık

19. Aşağıdaki uygulamalardan hangisi ülkemizdeki biyoçeşitliliği tehdit eder?

- A) Sulak alanların kurutulması
B) Organik tarımın tercih edilmesi
C) Doğal yaşam alanlarının korunması
D) Tarım ilaçlarının kullanımı konusunda insanların bilinçlendirilmesi

20. Aşağıdakilerden hangisi çevre kirliliğine karşı alınacak önlemlerden değildir?

- A) Nükleer atıkların doğaya zarar vermeyecek şekilde depolanması
B) Fabrika bacalarından çıkan gazlar için filtre kullanılması
C) Sanayi tesislerinden çıkan atık suların denize bırakılması
D) Doğal bitki örtüsünün korunması

(633) SOSYAL BİLGİLER – 6

1. Atatürk'ün, "Büyük devletler kuran atalarımız, büyük ve kapsamlı medeniyetlere de sahip olmuştur. Bunu aramak, incelemek, Türklüğe ve dünyaya bildirmek bizler için bir borçtur." sözü doğrultusunda faaliyet gösteren kurum aşağıdakilerden hangisidir?

- A) Türk Dil Kurumu
B) Türk Tarih Kurumu
C) Sümerbank
D) Halkevleri

2. Kişinin doğuştan sahip olduğu haklar - - - - tarafından güvence altına alınmıştır.

Cümlede boş bırakılan yer aşağıdakilerden hangisi ile tamamlanmalıdır?

- A) yasalar B) hakimler
C) sendikalar D) Birleşmiş Milletler

3. Dünyamızı tam ortadan ikiye ayıran paralele ne ad verilir?

- A) Küre B) Geoide
C) Meridyen D) Ekvator

4. Aşağıdakilerden hangisini siyasi haritalardan öğrenemeyiz?

- A) Ülkeleri B) Kentleri
C) Nehirleri D) Devlet sınırlarını

5. Çatalhöyük'le ilgili olarak aşağıdaki bilgilerden hangisi yanlıştır?

- A) Çorum il sınırları içerisinde yer almaktadır.
B) 9000-10000 yıl öncesi döneme aittir.
C) Anadolu'daki ilk yerleşmelerden biridir.
D) Burada taş aletler ve obsidyen aynalar bulunmuştur.

6. Gordion (Polatlı), aşağıdaki uygarlıklardan hangisinin başkentidir?

- A) Urartu B) Frigya
C) Hitit D) Lidya

1. OTURUM

7. Kadeş Antlaşması hangi iki devlet arasında imzalanmıştır?

- A) Sümerler - Hititler
- B) Hititler - Mısırlılar
- C) İyonlar - Urartular
- D) Lidyalılar - Fenikeliler

8. Aşağıdaki bilgilerden hangisi Babillerle ilgili değildir?

- A) MÖ 539'da yıkılmışlardır.
- B) Güneş saatini bulmuşlardır.
- C) Başkentleri Ninova'dır.
- D) Hammurabi Kanunlarını hazırlamışlardır.

9. Aşağıdakilerden hangisinin, Karadenizin kuzeyinden batıya doğru hareketleri Kavimler Göçü'ne neden olmuştur?

- A) Harzemşahlar
- B) Ostrogotlar
- C) Uygurlar
- D) Hunlar

10. Hz. Muhammed (sav) İslam devletinin temellerini nerede atmıştır?

- A) Medine
- B) Mekke
- C) Taif
- D) Şam

11. Kur'an-ı Kerim hangi halife döneminde kitap hâline getirilmiştir?

- A) Hz. Ali
- B) Hz. Ebu Bekir
- C) Hz. Osman
- D) Hz. Ömer

12. Müslüman Türk hükümdarları içinde sultan unvanını ilk o kullanmıştır. Yaptığı seferlerle Hindistan'da İslamiyetin yayılmasını sağlamıştır. Firdevsî, ünlü Şehname'sini O'na takdim etmiştir.

Hakkında bilgi verilen Türk büyüğü aşağıdakilerden hangisidir?

- A) Ertuğrul Gazi
- B) Gazneli Mahmut
- C) Kutluk Kağan
- D) Alparslan

13. Aşağıdakilerden hangisi Müslüman Türk devletlerinde görülen eğitim kurumudur?

- A) Türbe
- B) Kümbet
- C) Medrese
- D) Saray

14. Aşağıdaki eserlerden hangisi Karahanlılar dönemine aittir?

- A) Ayşe Bibi Türbesi
- B) Sultan Sencer Türbesi
- C) Damgan Minaresi
- D) İsfahan Mescid-i Cuma'sı

15. Sıcak iklim bitkisi. Dokuma sanayisinin temel hammaddesidir. Ege ve Akdeniz bölgelerinde yaygın olarak üretilir.

Özellikleri verilen ürün aşağıdakilerden hangisidir?

- A) Pamuk
- B) Mısır
- C) Tütün
- D) Fındık

16. Aşağıdakilerden hangisi "Dünyanın akciğerleri" olarak adlandırılır?

- A) Dağlar
- B) Nehirler
- C) Barajlar
- D) Ormanlar

17. Dünyada nüfus dağılımını etkileyen en önemli faktör aşağıdakilerden hangisidir?

- A) İklim
- B) Toprak
- C) Yüzey şekilleri
- D) Su kaynakları

18. Aşağıdakilerden hangisi Türkiye'nin ihraç ettiği ürünlerden biri değildir?

- A) Bor
- B) Ayakkabı
- C) Petrol
- D) Çimento

19. Milletin egemenliğini kendi elinde tuttuğu ve bunu belirli süreler için seçtiği temsilcileri aracılığıyla kullandığı yönetim şekline ne ad verilir?

- A) Monarşi
- B) Teokrasi
- C) Oligarşi
- D) Cumhuriyet

20. Bilim - - - - ile, teknoloji - - - - ile elde edilir.

Cümlede boş bırakılan yerlerin aşağıdakilerden hangisiyle tamamlanması uygun olur?

- A) bilim - eğitim
- B) eğitim - bilim
- C) düşünce - teknoloji
- D) eğitim - çalışma

1. OTURUM

(634) İNGİLİZCE – 6

1-13. sorularda boş bırakılan yere uygun gelen kelime ya da ifadeyi işaretleyiniz.

1. She - - - - ten years old.

- A) have B) is
C) am D) are

2.



Eda : How much is this T-shirt?

Sam : It is - - - - pounds.

- A) thirty B) seventy
C) eighty D) ninety

3.

Days of the Week
Monday
- - - -
Wednesday
Thursday
Friday
Saturday
Sunday

- A) Tuesday B) April
C) November D) May

4. Because I hate playing tennis, I - - - - play it.

- A) always B) usually
C) often D) never

5. How - - - - months are there in a year?

- A) any B) much
C) many D) some

6. Samuel : Which floor is Mr. Brown's office on?

Terry : - - - -.

- A) It is in March
B) It is very nice
C) You can go by taxi
D) It is on the third floor

7. Kevin : - - - - I borrow your dictionary?

Simon : Yes, you may.

- A) Are B) May
C) Have D) Must

8. Steve : What are you going to do - - - -?

Thomas : I am going to visit my grandparents.

- A) at the moment B) every day
C) tomorrow D) now

9. Akın : - - - -?

Mike : It is mine.

- A) Who has got a watch
B) What have you got
C) Whose car is this
D) What is this

10. Cindy : - - - -?

Kevin : I am sixteen years old.

- A) How old are you
B) How far is your home
C) How much is this black jacket
D) How many pens have you got

11. Dad : - - - -?

Son : It is yellow.

- A) Where are you from
B) How much is this hat
C) Who has got a bicycle
D) What colour is your coat

12. Amanda : - - - -

Jennifer : It's a good idea. There is a good café near here.

- A) Let's go to the cinema.
B) Shall we drink coffee?
C) What do you want to do?
D) Where are you going to go?

1. OTURUM

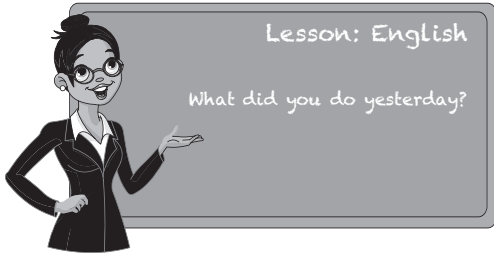
13. Michael: - - - -?

Pablo : It is the tenth of June.

- A) What is the date today
- B) Where are you from
- C) How old are you
- D) What is he like

14-18. soruları verilen resimlere göre cevaplayınız.

14.



She is a - - - -.

- A) doctor
- B) nurse
- C) lawyer
- D) teacher

15.



Tina : What is the time?

Sam : - - - -.

- A) It's half past five
- B) It's two o'clock
- C) It's half past two
- D) It's twenty to two

16.



Eva : Where is Van?

Can : It is in the - - - - of Turkey.

- A) west
- B) east
- C) south
- D) north

17.



Janet : What is the weather like today?

Carol : It is - - - -.

- A) rainy
- B) sunny
- C) windy
- D) foggy


18.



- - - - are five carrots in the bowl.

- A) It
- B) This
- C) There
- D) That

19 ve 20. soruları aşağıdaki haritaya göre cevaplayınız.



19. The hotel is - - - - the museum.

- A) between
- B) next to
- C) under
- D) in

20. The bank is - - - - the library and the cinema.

- A) on
- B) at
- C) opposite
- D) between

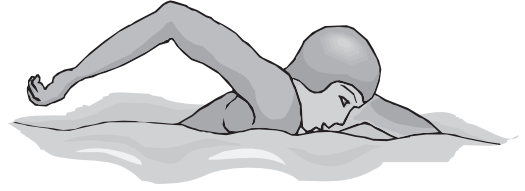
1. OTURUM

(634) ALMANCA – 6

1-15. sorularda boş bırakılan yere uygun gelen ek, kelime ya da ifadeyi işaretleyiniz.

1. A: Guten Tag! Wie heißt du?
B: Guten Tag! Ich ---- Peter.
- A) heiße B) heißen
C) heißt D) heiß
2. A: Wer ---- er?
B: Er ist Herr Müller.
- A) bin B) ist C) seid D) sind
3. achtundzwanzig, ----, dreißig.
- A) siebenundzwanzig
B) einunddreißig
C) neunundzwanzig
D) fünfundzwanzig
4. A: Woher kommt er?
B: Er kommt ---- Bursa.
- A) mit B) für C) nach D) aus
5. A: Wie alt ---- du?
B: Ich ---- 27 Jahre alt.
- A) bist / bin B) bist / ist
C) sind / seid D) ist / bin
6. A: ---- geht sie?
B: Nach Konya.
- A) Wer B) Wohin C) Was D) Wo
7. A: ---- lebst du?
B: In Leipzig.
- A) Was B) Wie C) Wo D) Woher

8.



Sein Hobby ist ----.

- A) tanzen B) radfahren
C) Musik hören D) schwimmen

9. A: ----

B: Wir lernen Deutsch.

- A) Wer ist sie?
B) Was lernt ihr in der Schule?
C) Woher kommt sie?
D) Wo ist die Schule?

10. A: Wie geht es dir?

B: ----

- A) Danke, es geht dir gut.
B) Danke, es geht mir gut.
C) Danke, es geht uns gut.
D) Danke, es geht ihm gut.

11. A: Was ---- du morgens?

B: Brot, Ei und Marmelade.


- A) esst B) esse C) essen D) isst

12. A: ---- du Limonade?

B: Nein, ich ---- Ayran.

- A) Trinkst / trinke B) Trinke / esse
C) Trinkt / esse D) Esse / isst

13.



A: Wie spät ist es?

B: Es ist ----.

- A) halb neun B) fünf vor acht
C) fünf nach acht D) viertel nach drei

1. OTURUM

14. Wir - - - - um 8 Uhr aufstehen.

- A) muss B) müssen
C) musst D) müsst

15. A: Ich möchte drei Hamburger und drei Ayran.

B: Bitte schön.


A: - - - -

B: Vier Euro.

Boş bırakılan yere hangisi gelmelidir?

- A) Was ist das?
B) Was macht er?
C) Was kostet es?
D) Ist das eine Limonade?


16.



Was macht sie?

- A) schreiben B) tanzen
C) trinken D) fernsehen

17.



Was ist das?

- A) Die Kamera B) Das Buch
C) Der Tisch D) Der Stuhl

18. "achtunddreißig,, sayısı aşağıdakilerden hangisidir?

- A) 18 B) 38 C) 28 D) 48

19. "Das Buch kostet 3 Euro., cümlesinin sorusu aşağıdakilerden hangisidir?

- A) Was kosten sie? B) Was kostet sie?
C) Was kostet er? D) Was kostet es?

20. Aşağıdakilerden hangisinin çoğul eki yanlış verilmiştir?

- A) das Buch - die Buch
B) das Glas - die Gläser
C) das Bild - die Bilder
D) das Kind - die Kinder

(634) FRANSIZCA – 6

1-13. sorularda boş bırakılan yere uygun gelen kelime ya da ifadeyi işaretleyiniz.

1. Elles sont - - - -.

- A) italien B) françaises
C) irlandaise D) turc

2. A : - - - - as-tu ?

B : vingt ans.

- A) Pourquoi B) Comment
C) Quel âge D) Quelle

3. A : - - - - vas-tu ?

B : Très bien, merci. Et toi ?

- A) Comment B) Quelle
C) Combien D) Pourquoi

4. A : Brigitte est fiancée ?

B : Non, elle est - - - - depuis deux mois.

- A) blonde B) avocate
C) secrétaire D) mariée

5. A : - - - - est le musée de mosaïque ?

B : Il est en face du cinéma.

- A) Quand B) Ou
C) Combien D) Où

6. Dans les pâtisseries, on vend - - - -.

- A) des chocolats et des gâteaux
B) des saucissons et des saucisses
C) des chapeaux et des foulards
D) du yaourt et du fromage

1. OTURUM

7. **Nicole** : Tu aimes les films policiers ?
Bernard : Non, je - - - - les films policiers.

A) as aimé B) ne pas aimer
 C) n'aime pas D) aimer

8. **David** : - - - - tu achètes le casque ?
Julie : Parce que je fais du vélo.

A) Quelle B) Pourquoi
 C) Où D) Comment

9. **A**: Tu manges des céréales au petit déjeuner ?
B: Non, je ne mange jamais - - - - céréales au petit-déjeuner.

A) les B) de C) du D) des

10. **François vit - - - - Barcelone - - - - Espagne.**

A) en / aux B) aux / à
 C) à / au D) à / en

11. **A** : Qui est-ce ?
B : C'est - - - -.

A) un pianiste français
 B) une piscine municipale
 C) une salle de cinéma
 D) une voiture italienne

12. **Nilgün va - - - - pour faire des courses.**

A) à l'opéra B) à l'école
 C) au supermarché D) à la bibliothèque

13. **A** : - - - - ?
B : Non merci, je viens de boire du thé vert.

A) Une piscine B) Un café
 C) Un jardin public D) Une actrice

14. **Aşağıdaki sayılardan hangisinin yazılışı yanlış verilmiştir?**

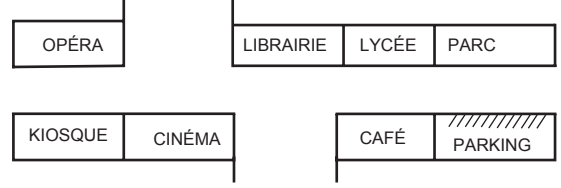
A) 32: trente-deux B) 70: soixante-six
 C) 25: vingt-six D) 34: trente quatre

15. "Ma grand-mère a 72 ans." cümlesinde altı çizili sayının doğru yazılışı hangisidir ?

A) soixante-douze B) soixante
 C) quatre-vingt-trois D) quatre-vingt-dix

16-20. soruları resimleri dikkate alarak cevaplayınız.

16.



Le lycée est - - - -.

A) devant le cinéma
 B) en face du kiosque
 C) derrière l'opéra
 D) entre la librairie et le parc

17. Le parc est - - - -.

A) à côté de l'opéra
 B) derrière le cinéma
 C) entre le kiosque et le parking
 D) en face du parking

18.



A) Il est dix heures et demie.
 B) Il est onze heures moins dix.
 C) Il est onze heures vingt.
 D) Il est dix heures dix.

19.



Il est - - - - et il porte - - - -.

A) gaie / un pyjama
 B) grosse / un pantalon
 C) chauve / une veste
 D) blonde / une cravate

1. OTURUM

20.



Elle est - - - .

- A) architecte B) coiffeuse
C) concierge D) couturière

(635) DİN KÜL. VE AHLAK BİLGİSİ – 6

1. Aşağıdakilerden hangisi peygamberlerin gönderilme sebeplerinden biri değildir?

- A) Güzel ahlak ve davranışlarıyla örnek olmak
B) Allah'ın emir ve yasaklarını bildirmek
C) İnsanlara doğru yolu göstermek
D) Kabilecilik anlayışını yaymak

2. I. Emanet: Güvenilir olma
II. Fetanet: Üstün bir zekâyâ sahip olma
III. İsmet: Doğru sözlü olma
IV. Tebliğ: Günah işlemekten korunma

Peygamberlerin ortak özelliklerinden hangilerinin açıklamaları doğru verilmiştir?

- A) I ve II. B) I ve III.
C) II ve IV. D) III ve IV.

3. İlahi kitaplar ile ilgili aşağıdakilerden hangisi yanlıştır?

- A) Tevrat Hz. Musa'ya Sina Dağı'nda verilmiştir.
B) Kur'an bozulmamış son ilahi kitaptır.
C) Zebur, Kitab-ı Mukaddesin içinde Mezmurlar bölümünde yer alır.
D) İncil Hz. İsa hayatta iken yazıya geçirilmiştir.

4. Aşağıdaki eserlerden hangisi Hacı Bektaş Veli'ye aittir?

- A) Mesnevi B) Makâlât
C) Divan-ı Hikmet D) Risalet'ün-Nushiyye

5. "sav." kavramının anlamı aşağıdakilerden hangisidir?

- A) Allah rahmet eylesin.
B) Allah'ın selamı üzerinize olsun.
C) Allah, selam verenden de alandan da razı olsun.
D) Allah'ın selamı, rahmeti O'nun (Hz. Muhammed'in) üzerine olsun.

6. Hz. Peygamber'in uygulayıp öğrettiği, tekbir ile başlayıp selam ile son bulan, belirli fiil, söz ve duaları içeren farz bir ibadettir.

Hakkında bilgi verilen ibadet aşağıdakilerden hangisidir?

- A) Tavaf B) Zekât
C) Namaz D) Oruç

7. Aşağıdakilerden hangisi namazın dışındaki şartlardandır?

- A) Vakit B) Kıraat
C) Secde D) Rükû

8. Teyemmüm ile ilgili aşağıdaki bilgilerden hangisi yanlıştır?

- A) Suyun bulunmadığı veya temiz olmadığı durumlarda yapılır.
B) Ayakların mesh edilmesi teyemmümün farzlarından biridir.
C) Suyun bulunmasıyla teyemmüm abdesti bozulur.
D) Abdesti bozan durumlar teyemmümü de bozar.

9. Aşağıdaki namazların hangisinin farzı sünnetinden önce kılınır?

- A) Sabah B) Öğle
C) Akşam D) Yatsı

10. Hz. Peygamber'in, ilk ezanı Bilal-i Habeşi'nin okumasını istemesinin nedeni aşağıdakilerden hangisidir?

- A) Sesinin güzel olması
B) Habeşli bir köle olması
C) İlk Müslümanlardan olması
D) Müşrikler tarafından işkence görmüş olması

1. OTURUM

11. Aşağıdakilerden hangisi farz olan namazlardandır?

- A) Vitir namazı B) Beş vakit namaz
C) Teravih namazı D) Bayram namazı

12. Namazın şartlarından biri olan "necasetten taharet" in anlamı aşağıdakilerden hangisidir?

- A) Kılınacak namaza niyet edilmesi
B) Namaz kılarken gerekli yerlerin örtülmesi
C) Namazda Kur'an'dan bir bölüm okunması
D) Elbise, beden ve namaz kılınacak yerin temiz olması

13. Aşağıdakilerden hangisi namazı bozan bir davranış değildir?

- A) Namazda esnemek
B) Namaz kılarken gülmek
C) Namazda abdestin bozulması
D) Namazın farzlarından birini terk etmek

14. Aşağıdaki seçeneklerin hangisinde Hz. Muhammed'in (sav.) doğum yeri ve yılı doğru verilmiştir?

- A) Mekke - 563 B) Mekke - 571
C) Medine - 622 D) Medine - 632

15. Hz. Peygamber'e gelen ilk vahiy aşağıdakilerden hangisidir?

- A) Fatiha suresi, 1-7. ayetler
B) Yâsîn suresi, 1-6. ayetler
C) Alak suresi, 1-5. ayetler
D) Müddessir suresi, 1-5. ayetler

16. "Ensar" kavramının tanımı aşağıdakilerden hangisidir?

- A) Medineli olup muhacirlere her türlü fedakârlıkla yardım eden Müslümanlardır.
B) Ergenlik çağına girdikten sonra beş vakit namazını hiç aksatmadan kılan kimselerdir.
C) Mescid-i Nebevi'nin yanındaki odalarda kalan, ilim öğrenmek isteyen fakir kimselerdir.
D) Hz. Peygamber zamanında yaşamış, O'nu görmüş, O'nunla sohbet etmiş Müslümanlardır.

17. Aşağıdakilerden hangisi "Medine Sözleşmesi"nin şartlarından biri değildir?

- A) Müslümanlarla Yahudiler barış içinde yaşayacaklardır.
B) Dışarıdan bir saldırı olduğunda, Medine ortak savunulacaktır.
C) Çıkacak bir anlaşmazlıkta Hz. Peygamber hakem olacaktır.
D) Müslümanlar müşriklerle on yıl süreyle savaşmayacaklardır.

18. "Ey insanlar, kimin sırtına kamçı vurmuşsam, işte sırtım gelsin vursun; kimin bende alacağı varsa, işte malım gelsin alsın. Bana en yakın olan dostum, burada benden hakkını isteyen veya gönül hoşnutluğuyla helal edendir. Ben Rabbime yüz akıyla kavuşmayı umuyorum."

Hz. Peygamber bu sözü ile aşağıdakilerden hangisinin önemini vurgulamıştır?

- A) Allah sevgisinin B) Merhametin
C) Kul hakkının D) Dostluğun

19. Kur'an-ı Kerim hakkında aşağıdakilerden hangisi söylenemez?

- A) Bozulmayan tek ilahî kitaptır.
B) Hz. Ali döneminde çoğaltılmıştır.
C) Mesajları kıyamete kadar geçerlidir.
D) İman, ibadet ve ahlak konularını içerir.

20. Kur'an-ı Kerim'de kıssaların anlatılmasının asıl nedeni aşağıdakilerden hangisidir?

- A) Yaşanmış olaylardan ibret alınmasını sağlamak
B) Geçmiş kavimler hakkında tarihi bilgiler vermek
C) Arap edebiyatının gelişimine katkıda bulunmak
D) Kur'an'ın okunuşunu ve anlaşılmasını kolaylaştırmak

(730) TÜRKÇE – 7

1. Aşağıdaki atasözlerinin hangisinde zıt anlamlı sözcükler bir arada kullanılmıştır?

- A) Taşıma su ile değirmen dönmez.
B) Kurunun yanında yaş da yanar.
C) Erken kalktım işime, şeker kattım aşıma.
D) Gülme komşuna gelir başına.

1. OTURUM

2. “Tutmak” sözcüğü aşağıdaki cümlelerin hangisinde “hizmetine almak, kiralamak” anlamında kullanılmıştır?

- A) Siz gelinceye kadar çocuğu ben tutarım.
- B) Kartal yere süzülüp yılanı tek hamlede tuttu.
- C) Şu yağın kar bir tutsa da çocuklar gibi oynasak.
- D) Şehirde gezmek için kendimize bir araba tuttuk.

3. Aşağıdaki cümlelerin hangisinde bir üzüntü dile getirilmiştir?

- A) Güzel bir yemekten sonra birlikte kahve içtik.
- B) Çam ormanının mis gibi kokusunu ciğerlerime doldurdum.
- C) Küçük çocuğun ağır işlerde çalışması içimi parçaladı.
- D) Mandalınayı soyup afiyetle mideye indirdi.

4. Aşağıdakilerin hangisinde deyimın anlamı yanlış verilmiştir?

- A) Eli ayağı tutmamak: Kendi istediği gibi hareket etmek
- B) Uygun düşmek: Yakışmak, yaraşmak, elverişli olmak
- C) Pot kırmak: Bilmeyerek karşısındakine doku-nacak söz söylemek
- D) Gözünde büyütme: Bir kimseyi, olayı veya şeyi abartmak

5. Güzel bir bahar günüydü. İki kardeş sabah olup da dedelerinin onlar için yaptığı uçurtmaları masanın üstünde gördüklerinde çok sevindiler. Uçurtmalarını kaptıkları gibi kırlara koştular. Kısa sürede gökyüzü uçurtmalarla doldu.

Bu metindeki altı çizili söz aşağıdaki hikâye unsurlarından hangisidir?

- A) Olay
- B) Zaman
- C) Kişi
- D) Yer

6. Aşağıdaki cümlelerin hangisinde sebep-sonuç ilişkisi vardır?

- A) Her gün aynı saatte evin yanındaki parkta yürüyüşe çıkardı.
- B) Zamanı olmadığı için Cemal'i askere uğurlayamadı.
- C) Sahil kenarında oturmayı bile özlemiştim.
- D) Arabayla gezdiği yerleri birer birer anlatıyordu.

7. Zamanı iyi organize ederek pek çok farklı işi yapabiliriz. Bu sayede mesleğimizi yaparken hobilerimize de vakit ayırabiliriz. İşimiz ne kadar çok olursa olsun zamanı iyi planlamalıyız. Her saniyeyi değerlendirebilecek şekilde yaşamaya alışmalıyız.

Bu metne konabilecek en uygun başlık aşağıdakilerden hangisidir?

- A) Zaman Yönetimi
- B) Meslek Sahibi Olmanın Zorluğu
- C) Hobi Edinmenin Faydaları
- D) Başarmanın Mutluluğu

8. Bu sabah mutluluğa aç penceremi
Bir güzel arın dünkü kederinden
Bahar geldi bahar geldi güneşin doğduğu yerden
Çocuğum uzat ellerini

Bu dördünlüğün ana duygusu aşağıdakilerden hangisidir?

- A) Yalnızlık
- B) Pişmanlık
- C) Bahar sevinci
- D) Hayvan sevgisi

9. Dağcılar, Alp Dağları'nda buldukları bir mummya “Ötzi” adını verdiler. Mumya, silahları ve giysileriyle bir buzulun içinde donmuş hâlde bulunuyordu. Giysilerini inceleyen araştırmacılar, bu giysilerin yapımında en az beş farklı hayvan derisi kullanıldığını belirlediler.

Bu metinde “Ötzi” ile ilgili aşağıdakilerden hangisine değinilmemiştir?

- A) Nerede bulunduğu
- B) Hangi yüzyıllarda yaşadığına
- C) Kıyafetlerinin yapım malzemesine
- D) Kimler tarafından bulunduğuna

10. Aşağıdaki cümlelerden hangisi hayal ürünü bir öge içermektedir?

- A) Aceleci leylekler yıldızları kanatlarında taşıyıp bize getirdiler.
- B) Dağların tepesinden akan ırmak, ovada kıvrıla kıvrıla akıyor.
- C) Daha önce hiç bu kalemin görmediğim için heyecanlıydım.
- D) Çalışma odasının duvarına astığı harita çok işine yaradı.

1. OTURUM

11. (1) Yazarın ilk çocuk kitabı geçtiğimiz ay piyasaya çıktı. (2) Kitabın ana karakterleri, Can ve kedisi. (3) Kitap, Can ve kedisi arasındaki ilişkiyi anlatıyor. (4) Elinizden bırakamayacağınız, harika bir kitap bence.

Bu metindeki numaralanmış cümlelerin hangisinde kişisel bir görüşe yer verilmiştir?

- A) 1. B) 2. C) 3. D) 4.

12. İnsan vücudunda on binlerce hücre etkileşim hâlinindedir. Çoğu hücre belirgin rollere sahiptir. Bazıları yağ depolar, bazıları hormon üretir, bazılarıysa kas dokularını oluşturur. Vücudumuzun sağlıklı olması için hücrelerimizin uyum içinde çalışması gerekir.

Bu metnin türü aşağıdakilerden hangisidir?

- A) Roman B) Makale
C) Söyleşi D) Tutanak

13. Aşağıdakilerden hangisi dinleme yöntem ve tekniklerinden biri değildir?

- A) Seçici dinleme
B) Yaratıcı dinleme
C) Söz korosu
D) Not alarak dinleme

14. Herhangi bir konu ya da olayla ilgili inceleme sonucunu bildiren yazılara - - - - denir.

Bu cümlede boş bırakılan yere aşağıdakilerden hangisi getirilmelidir?

- A) mektup B) rapor
C) roman D) masal

15. Aşağıdaki cümlelerin hangisinde altı çizili fiil 1. tekil kişi ekiyle çekimlenmiştir?

- A) Öğleden beri odanın duvarlarını boyuyorsunuz.
B) Balkondaki çiçekler düzenli sulandığı hâlde solmuş.
C) Kendimi yorgun hissettiğim için biraz uzandım.
D) Hafta sonları atölyesinde arabasıyla uğraşır.

16. Yapım eki almamış ve başka sözcüklerle birleşmemiş fiiller basit yapılıdır.

Buna göre aşağıdaki altı çizili fiillerden hangisi basit yapılıdır?

- A) Onun için ne kadar uğraştığımı fark etti.
B) Güneşin altında terlediğinden çok su içti.
C) Yaptığım hatayı anladım ve özür diledim.
D) Söylediğim gibi yaparsa fazla zaman kaybetmez.

17. Aşağıdaki cümlelerin hangisinde emir kipiyle çekimlenmiş bir fiil vardır?

- A) Hemen raflardaki dosyaları düzenle.
B) Resimlerini bir görsen çok beğenirsin.
C) Aklımıza takılanları önce bir soralım.
D) Ziyaret saati geçmeden onu ziyarete gittik.

18. Aşağıdaki cümlelerin hangisinde altı çizili söz zaman zarfıdır?

- A) Marangozhanede bana yardım ediyor.
B) Yemek masasını güzelce hazırladık.
C) Sevdığımız türküyü iki üç kez söyledi.
D) Geçen hafta arkadaşlarıyla ava gitmiş.

19. Birden fazla kelimedenden oluşan sayılar ayrı yazılır. Örnek: kırk altı, yetmiş iki, yüz on sekiz...

Buna göre aşağıdaki cümlelerin hangisinde sayıların yazımında yanlışlık yapılmıştır?

- A) Bu ceviz ağaçlarını yirmi beş sene önce dikmişler.
B) İş yerinde her odada dörder kişiydik.
C) Yarın saat altıda buluşmak üzere sözleştik.
D) Doksanüç sayfalık kitabı metroda okumuş.

20. Aşağıdaki cümlelerin hangisinde virgül, iki cümleyi ayırmak için kullanılmıştır?

- A) Fırçayı, ruloyu, boya tenekesini yanıma getirdi.
B) İrem, arkadaşının sözlerine gülerek cevap verdi.
C) Yağlı boya tabloyu elimden aldı, duvara astı.
D) Arkadaşlar, birbirinize hep yardımcı olun.

1. OTURUM

(731) MATEMATİK – 7

1. $[(-5) \cdot 4] : (-10)$ işleminin sonucu kaçtır?

- A) -4 B) -2 C) 2 D) 4

2. -1 , $\frac{1}{2}$ ve $\frac{1}{4}$ sayılarının doğru sıralanışı aşağıdakilerden hangisidir?

- A) $-1 < \frac{1}{4} < \frac{1}{2}$ B) $\frac{1}{2} < -1 < \frac{1}{4}$
C) $\frac{1}{4} < -1 < \frac{1}{2}$ D) $\frac{1}{4} < \frac{1}{2} < -1$

3. $\frac{1 + \frac{3}{2}}{\frac{1}{2}}$ işleminin sonucu kaçtır?

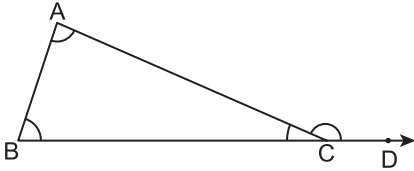
- A) 5 B) $\frac{5}{2}$ C) $\frac{3}{2}$ D) 1

4. Aynı iş gücüne sahip 3 traktör bir tarlayı 12 saatte sürebilmektedir.

Bu traktörlerden 2'si aynı tarlayı kaç saatte sürebilir?

- A) 4 B) 8 C) 18 D) 36

5.



Verilen şekle göre aşağıdakilerden hangisi ABC üçgeninin bir dış açısıdır?

- A) \widehat{ABC} B) \widehat{ACD} C) \widehat{BCA} D) \widehat{BAC}

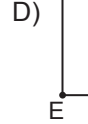
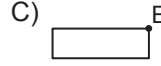
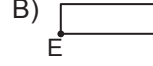
6. 1, 2, 3, 4, 5 rakamları kullanılarak rakamları farklı olan beş basamaklı kaç farklı sayı yazılabilir?

- A) 5 B) 20 C) 100 D) 120

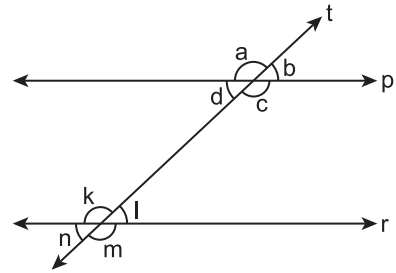
7. %23 zam yapıldıktan sonra 246 liraya satılan bir ürünün zam yapılmadan önceki fiyatı kaç liradır?

- A) 146 B) 186 C) 200 D) 223

8. Aşağıdakilerden hangisi yanda verilen şeklin E noktası etrafında döndürülmesiyle elde edilemez?



9.



Verilen şekilde t doğrusu birbirine paralel olan p ve r doğrularını kesmektedir. Bu doğruların oluşturduğu açılar harflerle adlandırılmıştır.

Buna göre aşağıdaki hangi iki açı yöndeştir?

- A) k ile b B) a ile c
C) b ile l D) n ile b

10. Düzgün bir çokgenin bir iç açısının ölçüsü 120° olduğuna göre bu çokgen kaç kenarlıdır?

- A) 5 B) 6 C) 7 D) 8

11. 70, 72, 74, 76, 76, 76, 78

Yukarıdaki veri grubunun tepe değeri kaçtır?

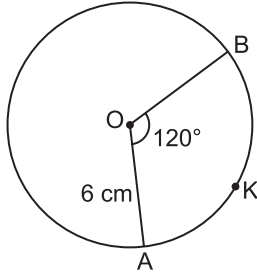
- A) 70 B) 74 C) 76 D) 78

12. Yarıçapının uzunluğu 8 cm olan bir dairenin alanı kaç santimetrekaredir? (π 'yi 3 alınız.)

- A) 64 B) 128 C) 192 D) 256

1. OTURUM

13.

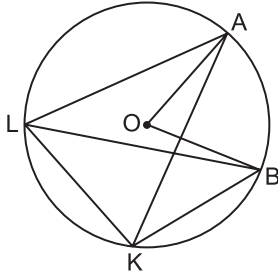


Verilen O merkezli çemberde $m(\widehat{AOB}) = 120^\circ$ ve $|OA| = 6$ cm'dir.

Buna göre **AKB yayının uzunluğu kaç santimetredir?** (π 'yi 3 alınız.)

- A) 12 B) 18 C) 24 D) 36

14.



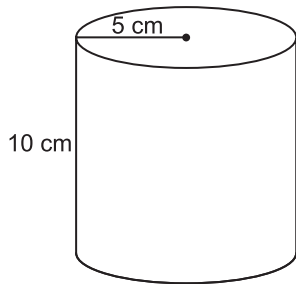
Verilen O merkezli çembere göre aşağıdakilerden hangisi **yanlıştır**?

- A) $m(\widehat{LBK}) = \frac{m(\widehat{LAK})}{2}$
 B) $m(\widehat{AKB}) = \frac{m(\widehat{AOB})}{2}$
 C) $m(\widehat{ALB}) = m(\widehat{AKB})$
 D) $m(\widehat{ALB}) = \frac{m(\widehat{AOB})}{2}$

15. Aşağıdakilerden hangisinin değeri bir negatif tam sayıdır?

- A) 1^3 B) 2^5 C) $(-1)^2$ D) $(-2)^3$

16.



Taban yarıçapının uzunluğu 5 cm ve yüksekliği 10 cm olan şekildeki dik dairesel silindirin yanal alanı kaç santimetrekaredir? (π 'yi 3 alınız.)

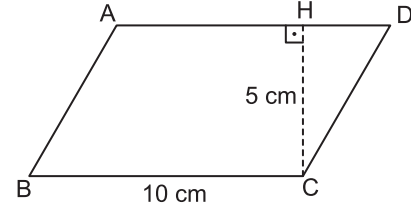
- A) 300 B) 200 C) 100 D) 50

17. Hacmi 144 cm^3 olan bir dik dairesel silindirin taban yarıçapının uzunluğu 4 cm'dir.

Buna göre bu silindirin yüksekliği kaç santimetredir? (π 'yi 3 alınız.)

- A) 2 B) 3 C) 4 D) 5

18.



Şekildeki ABCD paralelkenarında $|BC| = 10$ cm ve $|HC| = 5$ cm'dir.

Buna göre ABCD paralelkenarının alanı kaç santimetrekaredir?

- A) 20 B) 30 C) 40 D) 50

19. $(2x - 5) + (3x + 7)$ toplamı aşağıdakilerden hangisine eşittir?

- A) $5x + 12$ B) $5x + 2$
 C) $x + 12$ D) $x + 2$

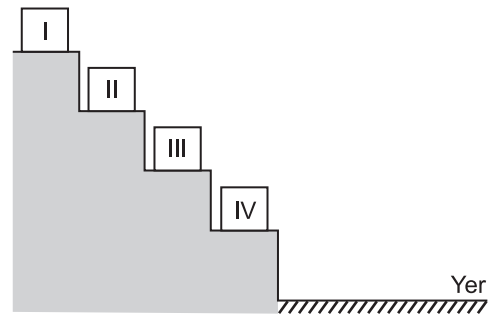
20. $\frac{3x+5}{2} = 25$ denklemini sağlayan x kaçtır?

- A) 50 B) 40 C) 30 D) 15

ÖLÇME, DEĞERLENDİRME VE SINAV HİZMETLERİ GENEL MÜDÜRLÜĞÜ

(732) FEN BİLİMLERİ – 7

1. Şekilde merdiven basamaklarında numaralanmış eşit kütleli sandıklar bulunmaktadır.

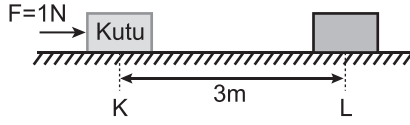


Bu sandıklardan hangisinin yere göre çekim potansiyel enerjisi **en büyüktür**?

- A) I B) II C) III D) IV

1. OTURUM

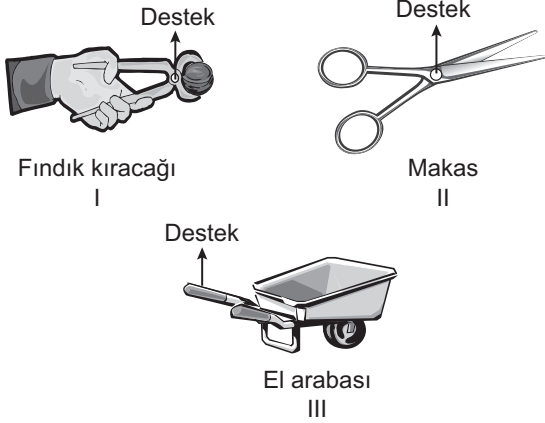
2. Bir kutu sürtünmenin ihmal edildiği yüzeyde şekil-
deki gibi 1N'luk kuvvet uygulanarak K noktasın-
dan L noktasına getiriliyor.



Bu olayda yapılan iş kaç Joule'dür?

- A) 1 B) 2 C) 3 D) 4

3.



Şekilde verilen basit makine örneklerinden
hangilerinde destek noktasının yeri yanlış gös-
terilmiştir?

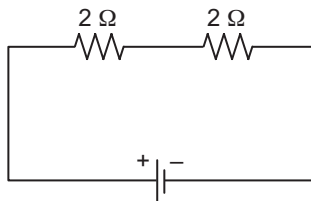
- A) Yalnız I. B) Yalnız III.
C) I ve II. D) II ve III.

4. Plastik tarak, yün kazağa sürtülüp kâğıt parçacık-
larına yaklaştırıldığında kâğıt parçacıklarını çektiği
gözleniyor.

Bu olayla ilgili aşağıdakilerden hangisi söyle-
nemez?

- A) Plastik tarak negatif (-) yükle yüklenmiştir.
B) Yün kazak pozitif (+) yükle yüklenmiştir.
C) Plastik tarak ve kâğıt parçacıkları aynı yükle
yüküdür.
D) Plastik tarak yün kazaktan negatif yük almıştır.

5. Şekilde bir elektrik devresi verilmiştir.



Buna göre devrenin eş değer direnci kaç
ohm'dur?

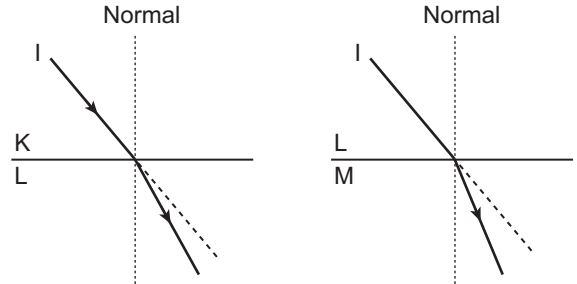
- A) 6 B) 4 C) 3 D) 2

6. • Canlılarda D vitamini oluşumunu hızlandırır.
• Yaz aylarında öğle vakti Güneş çarpmalarına
neden olur.
• Bakterilerin yok edilmesinde kullanılır.

Verilen özellikler aşağıdaki ışık türlerinden
hangisine aittir?

- A) Mor ötesi ışınlar
B) Gama ışınları
C) X-ışınları
D) Kızıl ötesi ışınlar

7. I ışınının K, L ve M ortamlarından geçişi şekilde
verilmiştir.



Buna göre ortamların kırıcılığı arasındaki ilişki
aşağıdakilerden hangisidir?

- A) $K > L > M$ B) $L > M > K$
C) $M > L > K$ D) $K > M > L$

8. Dünya ile ilgili verilen bilgilerden hangisi yan-
lıştır?

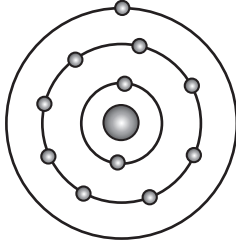
- A) Kutuplardan basık küre şeklindedir.
B) Güneş'e en yakın gezegendir.
C) Kendi ekseninde döner.
D) Tek doğal uydusu vardır.

9. Aşağıda verilen elementlerden hangisi "Ca"
sembölü ile gösterilir?

- A) Kalsiyum B) Potasyum
C) Magnezyum D) Hidrojen

1. OTURUM

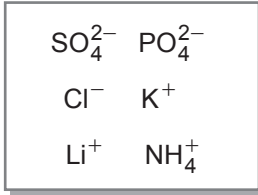
10. Nötr hâldeki sodyum elementinin atom modeli verilmiştir.



Son katmanındaki elektronunu veren sodyum elementi için aşağıdakilerden hangisi yanlıştır?

- A) Son katmanında 8 elektron kalmıştır.
B) +1 yüklü iyon hâline gelmiştir.
C) Kararlı yapıya ulaşmıştır.
D) Proton sayısı azalmıştır.

11. Aşağıdaki kartta bazı iyonlar verilmiştir.



Bunlardan kaç tanesi tek atomlu iyondu?

- A) 3 B) 4 C) 5 D) 6

12. Sofra tuzunun seyreltik sulu çözeltisi ile ilgili,

- I. İçindeki sofra tuzunun kütlesi suyun kütlesinden azdır.
II. Biraz daha sofra tuzu ilave edilirse çözünen miktarı artar.
III. Kaynatılırsa daha seyreltik bir çözelti elde edilir.

ifadelerinden hangileri doğrudur?

- A) Yalnız I. B) Yalnız III.
C) I ve II. D) I ve III.

13. Aşağıda verilen maddelerden hangisi heterojen bir karışımdır?

- A) Gazoz B) Maden suyu
C) Kolonya D) Zeytinyağlı su

14. İnsan sindirim sisteminde,
-- ▲ -- yağların kimyasal sindirimi için gerekli olan safra salgısını üretir.
-- ● -- protein, karbonhidrat ve yağların kimyasal sindirimini gerçekleştiren enzimler üretir.

Buna göre ▲ ve ● ile belirtilen organlar aşağıdakilerin hangisinde verilmiştir?

▲	●
A) Pankreas	Mide
B) Karaciğer	Pankreas
C) Mide	Karaciğer
D) Mide	Pankreas

15. Vücudun çeşitli faaliyetleri sonucunda oluşan atık maddeleri kandan süzerek uzaklaştırma işlemi hangi organ tarafından gerçekleştirilir?

- A) Deri B) Akciğer
C) Böbrek D) Karaciğer

16. Sinir sisteminde, istemli hareketleri kontrol eden organ aşağıdakilerden hangisidir?

- A) Beyin B) Beyincik
C) Omurilik D) Omurilik soğanı

17. Aşağıdakilerden hangisi insanda derinin görevlerinden biri değildir?

- A) Vücuda suyun alınmasını sağlama
B) Boşaltıma yardımcı olma
C) Uyarıların alınmasını sağlama
D) Mikropların vücuda girmesini önleme

18. Aşağıdaki canlı topluluklarından hangisi bir populasyon örneğidir?

- A) Uludağ'daki ağaçlar
B) Karadeniz hamsileri
C) Afrika'daki hayvanlar
D) Toros Dağlarındaki canlılar

19. Aşağıdakilerden hangisi ekosistemde bulunan canlı faktörlerdendir?

- A) Işık B) Sıcaklık
C) Mineraller D) Bitkiler

1. OTURUM

20. Aşağıdakilerden hangisi toprak kirliliğini önlemek için yapılan uygulamalardan değildir?

- A) Mera ve ormanlık alanların korunması
- B) Sanayi atıklarının arıtılarak geri dönüşümünün sağlanması
- C) Tarım ilaçlarının bilinçli ve yeterli düzeyde kullanılması
- D) Evsel ve endüstriyel atıkların kentlerin dışına bırakılması

(834) T.C. İNKILAP TARİHİ VE ATATÜRKÇÜLÜK – 8

1. Mustafa Kemal ilk askerî başarısını aşağıdaki cephelerden hangisinde kazanmıştır?

- A) Trablusgarp
- B) Çanakkale
- C) Kafkas
- D) Suriye

2. I. Dünya Savaşı'nın getirdiği maddi ve manevi yıkımların devletleri barış arayışına yöneltmesi sonucu aşağıdakilerden hangisi kurulmuştur?

- A) NATO
- B) Avrupa Birliği
- C) Birleşmiş Milletler
- D) Milletler Cemiyeti

3. Mondros Ateşkes Anlaşması'ndan sonra yurdumuzun işgal edilmeye başlaması karşısında Mustafa Kemal Türk milletine aşağıdakilerden hangisini önermiştir?

- A) Manda ve himayeyi
- B) Uzlaşmayı
- C) Direnmeyi
- D) Beklemeyi

4. "Milletin istiklalini, yine milletin azim ve kararı kurtaracaktır." ilkesi aşağıdakilerden hangisinde kabul edilmiştir?

- A) Sevr Antlaşması
- B) Amasya Genelgesi
- C) Erzurum Kongresi
- D) Misakımillî

5. Türkiye Büyük Millet Meclisi kaç tarihinde, nerede açılmıştır?

- A) 19 Mayıs 1919 - Samsun
- B) 29 Ekim 1923 - Ankara
- C) 28 Ocak 1920 - İstanbul
- D) 23 Nisan 1920 - Ankara

6. Aşağıdakilerden hangisi TBMM'nin açılışının sonuçlarından biri değildir?

- A) Millî Mücadele, millî egemenlik temeline dayandırılmış oldu.
- B) Millî birlik ve beraberlik büyük ölçüde gerçekleşti.
- C) Meclisin açılmasından sonra işgalciler yurdumuzu terkettiler.
- D) Kurtuluş Savaşı tek merkezden yönetilmeye başlandı.

7. İtilaf devletleri aşağıdaki gelişmelerden hangisine tepki olarak İstanbul'u resmen işgal etmişlerdir?

- A) Osmanlı Mebusan Meclisinde Misakımillî'nin kabul edilmesine
- B) Türkiye Büyük Millet Meclisinin açılmasına
- C) Erzurum Kongresi'nin toplanmasına
- D) Kuvayinzibatiye'nin kurulmasına

8. I. Bursa
II. Maraş
III. Uşak

Bu illerin hangileri Kuvayimillîye birlikleri tarafından düşman işgalinden kurtarılmıştır?

- A) Yalnız I.
- B) Yalnız II.
- C) I ve II.
- D) II ve III.

9. İstiklal Marşı'nın Mehmet Akif tarafından yazılmasında ve kabul edilmesinde önemli rol oynayan, millî marşımızı mecliste defalarca bizzat okuyarak ayakta alkışlatan, dönemin millî eğitim bakanı da olan tarihî şahsiyet aşağıdakilerden hangisidir?

- A) Mustafa Necati Bursalı
- B) Falih Rıfkı Atay
- C) Hasan Ali Yücel
- D) Hamdullah Suphi Tanrıöver

1. OTURUM

10. Aşağıdakilerden hangisi Sakarya Zaferi'nin sonuçlarından biri değildir?

- A) Mudanya Ateşkes Anlaşması
- B) Ankara Antlaşması
- C) Kars Antlaşması
- D) İtalyanların Anadolu'dan tamamen çekilmesi

11. Tekâlif-i Milliye Emirleri hangi savaş öncesinde çıkarılmıştır?

- A) I. İnönü Savaşı
- B) Sakarya Savaşı
- C) Büyük Taarruz
- D) II. İnönü Savaşı

12. Eğitimi tek çatı altında toplamak amacıyla aşağıdaki kanunlardan hangisi kabul edilmiştir?

- A) Tevhid-i Tedrisat Kanunu
- B) Kabotaj Kanunu
- C) Borçlar Kanunu
- D) Medeni Kanun

13. Atatürk, "Benim en büyük eserim" diyerek aşağıdakilerden hangisinin önemini vurgulamıştır?

- A) Millî Eğitim Bakanlığının
- B) TBMM'nin açılmasının
- C) Türkiye Cumhuriyeti'nin
- D) 19 Mayıs 1919'da Samsun'a çıkışının

14. Atatürk'ün Kurtuluş Savaşı'nın öyküsünü ve hangi şartlarda kazanıldığını anlattığı eseri aşağıdakilerden hangisidir?

- A) Genel Tarih
- B) Nutuk
- C) Geometri
- D) Gençliğe Hitabe

15. Aşağıdaki yeniliklerden hangisi, ayrıcalık belirlen unvanların kaldırılarak eşit vatandaşlık ilkesinin benimsendiğini gösterir?

- A) Şapka Kanunu
- B) Medeni Kanun
- C) Kabotaj Kanunu
- D) Soyadı Kanunu

16. Aşağıdaki yeniliklerden hangisinin milliyetçilik ilkesi doğrultusunda yapıldığı söylenemez?

- A) Yeni Türk harflerinin kabulü
- B) Karma ekonomik modelin benimsenmesi
- C) Türk Tarih Kurumunun kurulması
- D) Türk Dil Kurumunun açılması

17. Atatürk, "Bizim dinimiz akla en uygun ve en doğal dindir. Bunun için son din olmuştur. Bir dinin doğal olması için akla, tekniğe, bilime ve mantığa uyması gerekir. Bizim dinimiz bunlara tamamen uygundur." Atatürk bu sözle İslamiyetin hangi özelliğini vurgulamıştır?

- A) Ahlak ilkelerini
- B) İbadet anlayışını
- C) Barışçılığını
- D) Gelişmelere açık olduğunu

18. Aşağıdaki yeniliklerden hangisi tarımı geliştirme amacına yönelik değildir?

- A) Köylüye damızlık hayvan ve kaliteli tohum dağıtılması
- B) Atatürk Orman Çiftliğinin açılması
- C) Hıfzıssıhha Enstitüsünün kurulması
- D) Ziraat Okullarının kurulması

19. Türkiye kaç tarihinde NATO'ya üye olmuştur?

- A) 1923
- B) 1932
- C) 1952
- D) 1960

20. I. Hatay'ın anavatana katılması.
II. Lozan Antlaşması
III. Sadabat Paketi
IV. Montrö Boğazlar Sözleşmesi

Cumhuriyet Tarihi ile ilgili bu gelişmelerin kronolojik sıralaması aşağıdakilerden hangisidir?

- A) II - IV - III - I
- B) III - I - IV - II
- C) IV - II - I - III
- D) II - I - III - IV

(835) İNGİLİZCE – 8

1-18. sorularda boş bırakılan yere uygun gelen kelime ya da ifadeyi işaretleyiniz.

1. William has called Jane six times - - - - this morning.

- A) for
- B) yet
- C) ever
- D) since

1. OTURUM

2. Christopher is - - - - boy I have ever seen.

- A) the most handsome
- B) more handsome
- C) handsome than
- D) handsome

3. Maria has - - - - failed any exams. She's a good student.

- A) yet
- B) ever
- C) never
- D) already

4. Helen - - - - to London two months ago.

- A) drank
- B) moved
- C) bought
- D) listened

5. There was nobody at home - - - - I came in.

- A) yet
- B) never
- C) when
- D) while

6. The car - - - - my friend bought a week ago was very expensive.

- A) who
- B) which
- C) whose
- D) where

7. Don't wait for me to go out if I - - - - late.

- A) am
- B) was
- C) were
- D) will be

8. If she earns a lot of money, she - - - - around the world.

- A) would travel
- B) could travel
- C) will travel
- D) travelled

9. If he weren't working now, he - - - - to the cinema with us.

- A) came
- B) comes
- C) will come
- D) could come

10. Mark is old - - - - to drive a car. He's 20.

- A) too
- B) either
- C) enough
- D) but also

11. Sean likes playing the guitar, Carl likes playing it, - - - -.

- A) too
- B) either
- C) neither
- D) not only

12. Amy : How - - - - cacao do you need to make a cake?

Alice : Two spoons of cacao.

- A) many
- B) much
- C) often
- D) any

13. There is a - - - - of matches on the table.

- A) bar
- B) cup
- C) loaf
- D) box

14. I - - - - walking to taking the bus.

- A) would rather
- B) should
- C) prefer
- D) could

15. I think, you - - - - buy that car. It is cheap and good.

- A) don't prefer
- B) should
- C) prefer
- D) shouldn't

16. Vanessa : Would you mind - - - - the air-conditioner?
It is really hot here.

Derek : No, of course.

- A) will turn on
- B) turning on
- C) turned on
- D) turn on

17. Coffee - - - - in Brazil.

- A) grew
- B) grow
- C) is grown
- D) has grown

1. OTURUM

18. The project - - - - by the team soon.

- A) will be finished B) was finished
C) has finished D) finished

19. Aşağıda verilen cümlelerin "active" (etken) hâlini işaretleyiniz.

"This book was written by Michael."

- A) Michael has already written that book.
B) Michael writes books all the time.
C) This book is written by Michael.
D) Michael wrote this book.

20. Aşağıda verilen cümlelerin "passive" (edilgen) hâlini işaretleyiniz.

"They are repairing the car."

- A) The car is being repaired by them.
B) They will repair the car tomorrow.
C) They repaired the car yesterday.
D) The car will be repaired by them.

(835) ALMANCA – 8

1-20. sorularda boş bırakılan yere uygun gelen ek, kelime ya da ifadeyi işaretleyiniz.

1. A: Wie geht es euch?

B: Danke, es geht - - - - gut.

- A) mir B) dir C) ihm D) uns

2. Das ist sein Fahrrad. Das Fahrrad gehört - - - -.

- A) ihn B) ihm C) mich D) dich

3. Helga freut - - - - auf die Ferien.

- A) mich B) dich
C) sich D) uns

4. Ich - - - - im Februar nach Leipzig fahren.

- A) willst B) wollen
C) wollt D) will

5. Ahmet - - - - kein Gemüse.

- A) mag B) magst
C) mögen D) mögt

6. Das rot- - - - - Auto ist sehr teuer.

- A) -en B) -e C) -es D) -er


7. Irfan hat viel- - - - - bunt- - - - - Stifte.

- A) -e / -e B) -en / -e
C) -en / -en D) -e / -en

8. arm, - - - -, am ärmsten.

- A) arme B) ärmste
C) armes D) ärmer


9.



Der Hund ist - - - - als die Katze.

- A) größer B) größte
C) groß D) größten

10.

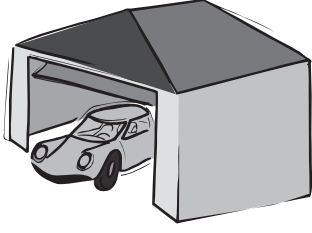


Der Computer steht - - - - dem Tisch.

- A) in B) auf
C) zwischen D) unter

1. OTURUM

11.



Das Auto ist - - - - der Garage.

- A) an B) über
C) in D) neben

12. Das Fahrrad, - - - - vor dem Haus steht, gehört mir.

- A) der B) die C) dass D) das

13. Die Tasche - - - - Mannes ist sehr groß.

- A) des B) der C) das D) die

14. Sie können mit dies- - - - Bus fahren.

- A) -er B) -em C) -en D) -e

15. Wohin - - - - du in den Semesterferien?

- A) fahre B) fährt
C) fährst D) fahren

16.



A: Wo ist der Tisch?


B: Der Tisch ist - - - - den Schränken.

- A) in B) auf
C) über D) zwischen

17. Die klug- - - - Kinder. (Plural)

- A) -e B) -es C) -en D) -er

18.



A: Wie spät ist es?

B: Es ist - - - -.

- A) Viertel nach vier
B) Viertel vor vier
C) Halb drei
D) Halb fünf

19.



Sie hängt die Uhr - - - - die Tür.

- A) unter B) über
C) an D) vor

20. Ich kaufe mein- - - - Tochter ein Buch.

- A) -e B) -en C) -er D) -em

(835) FRANSIZCA – 8

1-15. sorularda boş bırakılan yere uygun gelen kelime ya da ifadeyi işaretleyiniz.

1. - - - - est allé voir ses parents à Ağrı.

- A) Nous B) Ils
C) Vous D) Il

1. OTURUM

2. Les nouveaux étudiants - - - - des informations au secrétariat de la faculté.

- A) sont demandé
- B) avez demandé
- C) ont demandé
- D) as demandé

3. Murat étudie le français - - - - Nice - - - - France.

- A) à / en
- B) au / à
- C) en / au
- D) au / aux

4. Pour acheter de la tarte aux fraises et du gâteau, Ayten va chez - - - -.

- A) le médecin
- B) la pharmacienne
- C) le marchand de journaux
- D) le pâtissier

5. En Turquie, l'escrime est - - - - que le football.

- A) moins populaires
- B) moins populaire
- C) aussi populaires
- D) plus populaires

6. Mme. Durant a acheté deux gâteaux et six boissons sucrées pour l'anniversaire de sa fille.

Alors, elle a acheté - - - - de gâteaux que de boissons sucrées.

- A) plus
- B) moins
- C) tant
- D) autant

7. Comme boisson, - - - - du sirop à la menthe.

- A) dînez
- B) déjeunez
- C) buvez
- D) mangez

8. Le fromage coûte dix euros - - - -.

- A) le mètre carré
- B) le litre
- C) le mètre
- D) le kilo

9. A : Pardon monsieur, c'est - - - - la cabine téléphonique ?

B : Elle est au coin de la rue du Palais de la Justice.

- A) où
- B) ou
- C) combien
- D) quand

10. Pour voir les quartiers anciens à Istanbul, nous - - - - le taxi.

- A) prenons
- B) visitons
- C) voyons
- D) devenons

11. J'ai acheté un CD - - - - j'écoute souvent.

- A) où
- B) dont
- C) que
- D) qui

12. Didier - - - - est professeur de musique joue de trois instruments.

- A) que
- B) où
- C) pourquoi
- D) qui

13. Metin a trente ans, c'est - - - -.

- A) un vieux monsieur
- B) une jeune fille
- C) un jeune homme
- D) une vieille dame

14. Si tu es en retard, tu - - - - ta place.

- A) perdras
- B) êtes perdues
- C) perdrons
- D) perdrai

15. A : - - - - tu as fait à Istanbul ?

B : J'ai visité les monuments historiques.

- A) Comment
- B) Qu'est-ce que
- C) Combien
- D) Quand

1. OTURUM

16-20. soruları resimleri dikkate alarak cevaplayınız.

16.



En été, il fait - - - - à Bodrum.

- A) du ski B) du tennis
C) de la boxe D) de la voile

17.



Colette ne peut pas courir parce qu'elle a - - - -.

- A) le bras cassé B) mal au ventre
C) mal aux yeux D) la jambe cassée

18.



Quand il rentre de l'école, il - - - - toujours.

- A) se brosse les dents
B) se lave les pieds
C) se lave les mains
D) se couche à dix heures

19.



Il a - - - - et - - - -.

- A) un mouchoir / des lunettes
B) un chapeau melon / une canne
C) une barbe / un collier en or
D) un manteau / des boucles d'oreilles

20.



Il a mal - - - -.

- A) au cou B) à l'estomac
C) aux dents D) aux bras

(836) DİN KÜL. VE AHLAK BİLGİSİ – 8

1. Gelir dağılımının adil olmadığı toplumlarda yoksulluk ve suç oranı artar, toplumda düzen olmaz.

Bu cümle aşağıdaki yasalardan hangisi ile ilişkilidir?

- A) Fiziksel B) Biyolojik
C) Toplumsal D) Kimyasal

1. OTURUM

2. Sizden herhangi birinizin sırtına bir bağ odun yüklenip satması, dilenmesinden daha hayırlıdır.

Bu hadiste aşağıdakilerden hangisinin önemi vurgulanmıştır?

- A) İbadet etmenin
- B) Dürüst olmanın
- C) Kararlı olmanın
- D) Çalışarak kazanmanın

3. “Ömür” kavramını aşağıdakilerden hangisi ifade etmektedir?

- A) Yaşam süresi
- B) Seçme hürriyeti
- C) Kıyametin kopması
- D) Hayatın sona ermesi

4. “... Kararını verdiğin zaman da artık Allah’a dayanıp güven. Çünkü Allah, kendisine dayanıp güvenenleri sever.”
(Âl-i İmrân suresi, 159. ayet)

Bu ayette aşağıdakilerden hangisi vurgulanmaktadır?

- A) Rızık
- B) Tevekkül
- C) Emek
- D) Ömür

5. Aşağıdakilerden hangisi kul hakkı kapsamında değerlendirilmez?

- A) İftira etmek
- B) Yalan söylemek
- C) Karamsar olmak
- D) Hırsızlık yapmak

6. Hac ve umre ibadetinde Safa ve Merve tepeleri arasında yedi defa gidip gelerek yapılan görev aşağıdakilerden hangisidir?

- A) Sa'y
- B) Tavaif
- C) Vakfe
- D) Şeytan taşlama

7. Allah’ın, insanlara emir ve yasaklarını bildir-mesi anlamına gelen kavram aşağıdakilerden hangisidir?

- A) Akıl
- B) Nimet
- C) İhsan
- D) Vahiy

8. Aşağıdakilerden hangisi Kur’an-ı Kerim’in bilgi verdiği konulardan biri değildir?

- A) Öldükten sonra dirilme
- B) Kıyametin vakti
- C) Hayatın anlamı
- D) Ahiret hayatı

9. Zekât verilecek mallar ve zekât oranları ile ilgili aşağıdaki eşleştirmelerden hangisi yanlıştır?

- A) Altın: 1/20
- B) Sığır: 1/30
- C) Koyun: 1/40
- D) Toprak ürünleri: 1/10

10. Aşağıdakilerden hangisi kötü alışkanlıklara başlama nedenlerinden biri değildir?

- A) Özenti ve merak
- B) Mutsuz aile ortamı
- C) Yanlış arkadaş seçimi
- D) Beden sağlığını koruma

11. “Ey iman edenler! Karşılıklı rızaya dayanan ticaret olması hali müstesna, mallarınızı, haksız ve haram yollar ile aranızda alıp vererek yemeyin...”
(Nisâ suresi, 29. ayet)

Bu ayet ile aşağıdaki kötü alışkanlıklardan hangisinin yasaklandığı söylenebilir?

- A) Uyuşturucu
- B) Kumar
- C) Sigara
- D) İçki

1. OTURUM

12. • Hinduizm’de toplumsal yapı bu sisteme göre şekillenir.
• Her sınıfın kendine özgü hak ve sorumlulukları vardır.
• Brahmanlar en yüksek sınıfı oluşturur.
• Paryalar sistem dışı sayılırlar.

Hakkında bilgi verilen kavram aşağıdakilerden hangisidir?

- A) Tenasüh B) Karma
C) Kast D) Tripitaka

13. Budizm’de insanın bütün istek ve hırslarının yok olduğu, ıstıraplarının bittiği, saf ve temiz bir duruma kavuşması olarak ifade edilen kavram aşağıdakilerden hangisidir?

- A) Nirvana B) Karma
C) Hulûl D) Reenkarnasyon

14. • Noel
• Paskalya
• Meryem Ana Günü
• Haç Yortusu

Bu kavramlar aşağıdaki dinlerin hangisi ile ilgilidir?

- A) Yahudilik B) Hristiyanlık
C) Hinduizm D) Budizm

15. Bir gün Hz. Muhammed (sav.) arkadaşları ile otururken önlerinden bir cenaze geçer. O, hemen ayağa kalkar. Yanındakiler, cenazenin Müslüman cenazesi olmadığını söyler. Bunun üzerine Hz. Muhammed (sav.) “O da bir insan değil mi?” diye cevap verir.

Bu olayda Hz. Muhammed’in (sav.) hangi yönü öne çıkmaktadır?

- A) Cesaretli olması
B) Sözünde durması
C) Merhametli olması
D) İnsanlara değer vermesi

16. Dünyanın farklı yerlerinden gelen insanların Kâbe’nin etrafında hep birlikte omuz omuza dönmelerine ne ad verilir?

- A) Vakfe B) İhram
C) Tavaf D) Mikat

17. İnsanlar öldükleri zaman amel defterleri kapanır. Bununla birlikte kalıcı iyilik yapanların, yararlı ilim bırakanların ve kendisine dua eden salih evlat yetiştirenlerin amel defteri kapanmaz.

Bu hadiste aşağıdaki kavramların hangisinden bahsedilmektedir?

- A) Sadaka-i cariye B) Fıtır sadakası
C) Zekât D) Namaz

18. Hz. Muhammed’in (sav.) Mescid-i Nebi’nin yanına Suffe adı verilen odalar yaptırması, onun aşağıdaki özelliklerinden hangisi ile ilişkilidir?

- A) Sabırlı olması
B) Cesaretli olması
C) Hoşgörülü olması
D) Bilgiye değer vermesi

19. Hz. Muhammed’in (sav.) kabrinin de içinde bulunduğu mescit aşağıdakilerden hangisidir?

- A) Mescid-i Haram
B) Mescid-i Nebi
C) Mescid-i Kûba
D) Mescid-i Aksa

20. Aşağıdakilerden hangisi vahiy kaynaklı bir din değildir?

- A) Hristiyanlık B) Yahudilik
C) Budizm D) İslam

CEVAP KÂĞIDI VE SORU KİTAPÇIĞI İLE İLGİLİ AÇIKLAMALAR

1. Cevap kâğıdınızdaki bilgilerin doğruluğunu kontrol ediniz ve cevap kâğıdınızı mürekkepli kalemle imzalayınız.
2. Cevap kâğıdı üzerinde kodlamalarınızı siyah kurşun kalemle yapınız.
3. Değiştirmek istediğiniz bir cevabı, yumuşak silgiyle cevap kâğıdını örselemeden temizce siliniz ve yeni cevabınızı kodlayınız.
4. Soru kitapçığının sayfalarını görevlilerin uyarıları doğrultusunda kontrol ediniz, baskı hatası var ise değiştirilmesini sağlayınız.
5. Soruların çözümü için size ayrıca boş kâğıt verilmeyecektir. Soru kitapçığınızın içindeki boş alanları soru çözümleri için kullanabilirsiniz.
6. Her sorunun dört seçeneğinden sadece biri doğrudur. Doğru seçeneği, cevap kâğıdınızın ilgili sütununa soru numarasını dikkate alarak yuvarlağın dışına taşırmadan kodlayınız. Soru kitapçığı üzerinde yapılan cevaplandırmalar dikkate alınmayacaktır.
7. Cevaplamaya istediğiniz dersin sorusundan başlayabilirsiniz. Cevabını bilmediğiniz sorular üzerinde fazla zaman kaybetmeden diğer sorulara geçiniz. Zamanınız kalırsa bu sorulara daha sonra dönebilirsiniz.
8. Yanlış cevaplarınız dikkate alınmadan sadece doğru cevaplarınız üzerinden puanlama yapılacaktır.
9. Soruları ve sorulara verdiğiniz cevapları, yanınızda götürmek amacıyla kaydetmeyiniz; hiçbir şekilde dışarı çıkarmayınız.
10. Sınav bitiminde soru kitapçığı ve cevap kâğıdını salon görevlilerine teslim ediniz.

SALON GÖREVLİLERİNCE SINAV BAŞLAMADAN ÖNCE ADAYLARA YAPILACAK SON UYARILAR

- Soracağınız bir şey varsa şimdi sorunuz, sınav başladıktan sonra sorularınıza cevap verilmeyecektir.
- Başlama zilini bekleyiniz.

Hepinize başarılar dileriz.

(Salon başkanı başlama ve bitiş saatini tahtaya yazacaktır.)

Bu kitapçığın her hakkı saklıdır. Hangi amaçla olursa olsun, kitapçığın tamamının veya bir kısmının Millî Eğitim Bakanlığı Ölçme, Değerlendirme ve Sınav Hizmetleri Genel Müdürlüğünün yazılı izni olmadan kopya edilmesi, fotoğraflarının çekilmesi, bilgisayar ortamına alınması, herhangi bir yolla çoğaltılması, yayımlanması veya başka bir amaçla kullanılması yasaktır. Bu yasağa uymayanlar, doğabilecek cezai sorumluluğu ve kitapçığın hazırlanmasındaki mali külfeti peşinen kabullenmiş sayılır.

31 MART 2018 TARİHİNDE YAPILAN
AÇIK ÖĞRETİM ORTAOKULU 2017-2018 ÖĞRETİM YILI 2. DÖNEM SINAVI
1. OTURUM CEVAP ANAHTARI

TÜRKÇE – 5	FEN BİLİMLERİ – 5	İNGİLİZCE – 6	FRANSIZCA – 6
1. A	1. A	1. B	1. B
2. C	2. C	2. A	2. C
3. D	3. D	3. A	3. A
4. B	4. C	4. D	4. D
5. A	5. A	5. C	5. D
6. A	6. B	6. D	6. A
7. B	7. B	7. B	7. C
8. C	8. D	8. C	8. B
9. C	9. A	9. C	9. B
10. D	10. C	10. A	10. D
11. A	11. D	11. D	11. A
12. B	12. B	12. B	12. C
13. D	13. D	13. A	13. B
14. C	14. C	14. D	14. C
15. C	15. B	15. C	15. A
16. B	16. A	16. B	16. D
17. D	17. B	17. A	17. D
18. A	18. A	18. C	18. A
19. A	19. A	19. B	19. C
20. D	20. C	20. D	20. B
MATEMATİK – 5	SOSYAL BİLGİLER – 6	ALMANCA – 6	DİN KÜLTÜRÜ ve AHLAK BİLGİSİ – 6
1. D	1. B	1. A	1. D
2. C	2. A	2. B	2. A
3. A	3. D	3. C	3. D
4. C	4. C	4. D	4. B
5. B	5. A	5. A	5. D
6. D	6. B	6. B	6. C
7. A	7. B	7. C	7. A
8. C	8. C	8. D	8. B
9. B	9. D	9. B	9. C
10. B	10. A	10. B	10. A
11. C	11. B	11. D	11. B
12. A	12. B	12. A	12. D
13. D	13. C	13. C	13. A
14. B	14. A	14. B	14. B
15. A	15. A	15. C	15. C
16. B	16. D	16. D	16. A
17. D	17. A	17. C	17. D
18. A	18. C	18. B	18. C
19. B	19. D	19. D	19. B
20. D	20. B	20. A	20. A

31 MART 2018 TARİHİNDE YAPILAN
AÇIK ÖĞRETİM ORTAOKULU 2017-2018 ÖĞRETİM YILI 2. DÖNEM SINAVI
1. OTURUM CEVAP ANAHTARI

TÜRKÇE – 7	FEN BİLİMLERİ – 7	İNGİLİZCE – 8	FRANSIZCA – 8
1. B	1. A	1. D	1. D
2. D	2. C	2. A	2. C
3. C	3. B	3. C	3. A
4. A	4. C	4. B	4. D
5. C	5. B	5. C	5. B
6. B	6. A	6. B	6. B
7. A	7. C	7. A	7. C
8. C	8. B	8. C	8. D
9. B	9. A	9. D	9. A
10. A	10. D	10. C	10. A
11. D	11. A	11. A	11. C
12. B	12. C	12. B	12. D
13. C	13. D	13. D	13. C
14. B	14. B	14. C	14. A
15. C	15. C	15. B	15. B
16. B	16. A	16. B	16. D
17. A	17. A	17. C	17. D
18. D	18. B	18. A	18. A
19. D	19. D	19. D	19. B
20. C	20. D	20. A	20. C
MATEMATİK – 7	T.C. İNK. TAR. VE ATA. – 8	ALMANCA – 8	DİN KÜLTÜRÜ ve AHLAK BİLGİSİ – 8
1. C	1. A	1. D	1. C
2. A	2. D	2. B	2. D
3. A	3. C	3. C	3. A
4. C	4. B	4. D	4. B
5. B	5. D	5. A	5. C
6. D	6. C	6. B	6. A
7. C	7. A	7. A	7. D
8. D	8. B	8. D	8. B
9. C	9. D	9. A	9. A
10. B	10. A	10. B	10. D
11. C	11. B	11. C	11. B
12. C	12. A	12. D	12. C
13. A	13. C	13. A	13. A
14. A	14. B	14. B	14. B
15. D	15. D	15. C	15. D
16. A	16. B	16. D	16. C
17. B	17. D	17. C	17. A
18. D	18. C	18. A	18. D
19. B	19. C	19. B	19. B
20. D	20. A	20. C	20. C