

HAZIRLAYAN:
EGE DERE

2. Sınıf

GENEL DEĞERLENDİRME SINAVI
1

ADI :.....
SOYADI :.....
SINIFI :.....

TÜRKÇE

1)“Atatürk” kelimesinin hecelerine doğru ayrılışı hangi seçenekte verilmiştir?

- A) A-ta-türk
- B) At-a-türk
- C) Ata-türk

2)“Şehitlerimizin kanı yerde kalmayacak.” Cümlesinde kaç harf vardır?

- A) 32
- B) 33
- C) 34

3)“Ahmet beş bardak _____ içti.”

Cümlesinde boş bırakılan yere aşağıdakilerden hangisi getirilebilir?

- A) Çay
- B) Pilav
- C) Çorap

4)Aşağıdaki cümlelerin hangisinde yazım yanlışı vardır?

- A) Türkçemize sahip çıkalım.
- B) Atatürk düşmanları kovdu.
- C) Ey türk gençliği!

Eğer yetişkinlere “Pembe tuğlalı, penceresinde sardunyalar, çatısında kumrular olan çok güzel bir ev gördüm.” Derseniz evi hayal etmeleri çok zor olacaktır. Onlara fiyatı şu kadar olan bir ev gördüm demelisiniz. O zaman “Aman ne güzel bir ev” derler.

(Küçük Prens)

5) Bu metinde altı çizili kelimenin anlamı aşağıdakilerden hangisi olabilir?

- A) Bir kuş türü
- B) Bir bitki türü
- C) Bir yemek türü


6) “Bir türlü karar veremedi()”

Cümlesinde yay ayraç içine aşağıdaki noktalama işaretlerinden hangisi getirilebilir?

- A) Nokta(.)
- B) Soru işareti(?)
- C) Ünlem(!)

7.

MANTIK SORUSU



- Yukarıda bir hayvan yarışındaki durum gösterilmiştir.

Buna göre;

- Kedi 2.dir.
- Tavşan kediye geçerse kedi 2. Olur.
- At yarışı 1. olarak bitirecektir.

Yukarıdaki maddelerden hangileri kesinlikle doğrudur?

1. Ve 3.
1. Ve 2.
2. Ve 3.



8) Yukarıda Hakan Bey'in kimlik kartı verilmiştir.

Buna göre aşağıdaki bilgilerden hangisi yukarıda verilmemiştir?

- Tc. Kimlik No
- Ad ve Soyad
- Meslek

9) “Üzerinde delikler olan üflemeli bir çalgı”

Yukarıda anlatılmak istenen çalgı aşağıdakilerden hangisi olabilir?

- Saz
- Flüt
- Piano

10) Aşağıdaki kelimelerden hangisi ünlü harfle başlamıştır?

- Portakal
- Elma
- Mandalina

MATEMATİK

1) Sınıfımızda 9 sıra var .Her sırada 2 öğrenci oturduğuna göre sınıfımızda kaç öğrenci vardır?

- A) 18 B) 17 C) 16

2) Yeşim pazardan 24 yumurta aldı. Bunların 12 tanesi kırıldı. 2 tanesini annesi pişirdi. Kaç yumurta kaldı?

- A) 12 B) 10 C) 9

3) 1 ve 3 rakamları ile yazılabilecek en küçük ve en büyük doğal sayıların toplamı kaçtır?

- A) 40 B) 43 C) 44

4) İki sınıftaki öğrenci sayısı 86 dır. Bir sınıfta 32 öğrenci olduğuna göre diğer sınıfta kaç öğrenci vardır?

- A) 54 B) 53 C) 50

5) Bir manav 90 tane limonun önce yarısını sattı. Sonra 26 tanesini sattı. Manavın kaç tane limonu kaldı?

- A) 18 B) 19 C) 20

6) 27- 23 -19- 15 -12 - 7 sayı dizisinde kuralı bozan sayı hangisidir?

- A) 7 B) 12 C) 15

7) Bir sayının yarısını bulmak için ne yapılır?

- A) 4'e böleriz
B) 4 ile çarparız
C) 2'ye böleriz

8) 4 deste kalem ve 2 düzine kalemin yarısını satarsam kaç kalem kalır?

- A) 32 B) 8 C) 6

9) Anne Ali'den 23 yaş büyük. Ali 9 yaşında olduğuna göre anne kaç yaşında?

- A) 30 B) 31 C) 32

10) Burcu'nun 89 cevizi var. Fatih'in Burcu'nun cevizinin 6 katından 29 eksiktir. Fatih'in cevizleri kaçtanedir?

- A) 34 B) 118 C) 505

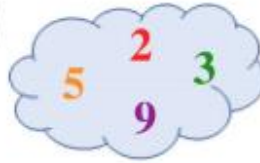
MANTIKSAL MATEMATİK

1. Aşağıdaki bulutlardan hangisinde sadece "7" den küçük sayılar bulunmaktadır?

A)



B)



C)



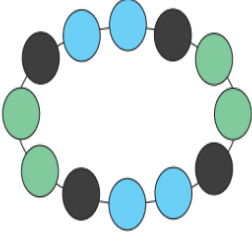
D)



E)



2. Aşağıdaki seçeneklerden hangisi, şekilde verilen kolyenin bir parçasını göstermektedir?



- A) B) C)
D) E)


3. Anne kanguruyla oğlu minik kangurunun ağırlıkları toplamı 60 kilogramdır.

Anne kanguru tek başına 52 kilogram olduğuna göre minik kanguru tek başına kaç kilogramdır?



- A) 4 kilogram B) 8 kilogram C) 30 kilogram
D) 56 kilogram E) 112 kilogram

4. Kayra şekilde verilen kareli kağıttan bir parça kesiyor.



Kestiği parça aşağıdakilerden hangisi olamaz?

- A) B) C) D) E)

HAYAT BİLGİSİ

1) Acil durumlarda ailemize ve yakın çevremizdekilere daha kolay ulaşılabilmesi için öncelikle aşağıdaki bilgilerden hangisini bilmemiz gerekir?

- A) Okulumuzun adresini
B) Anne ve babamızın telefon numaralarını
C) Anne ve babamızın iş yeri adresini

“Yağızlar piknikten eve döndüklerinde kapı kilitlerinin kırılmış olduğunu fark ettiler. Eve girdiklerinde Yağız’ın bilgisayarını, annesinin saati ortalıkta yoktu. Belli ki evlerine hırsız girmişti. Telaşla acil durum telefonlarından birini aradılar.”

3) Yukarıdaki ifadeye göre Yağızların aradığı acil durum telefon numarası ve kurum adı aşağıdakilerin hangisinde doğru verilmiştir?

- a) 1-2-2 : AFAD
b) 1-8-3 : Sosyal Destek Hattı
c) 1-5-5 : Polis İmdat

“ Cemre’nin babası parkta yaşlı bir adam ile karşılaştı. Yaşlı adam , evinde tek başına yaşadığını, çeşitli sağlık sorunları nedeniyle mutsuz olduğunu, kendisini yalnız hissettiğini anlatmış.”

4) Yaşanan bu duruma göre Cemre’nin babası , yaşlı adama yardım edebilmesi için hangi acil durum telefon numarasını arayabilir?

- a) 1-1-2 b) 1-8-3 c) 1-2-2

Emir: “ İzmir’den uçakla geldik.”

İklim: “Gemiden indikten sonra feribota bindik.”

5) Aşağıdakilerden hangisi Emir ve iklim’in kullandığı ulaşım yollarından biri DEĞİLDİR?

- a) Kara yolu b) Hava yolu c) Deniz yolu

6) Aşağıdakilerin hangisi demir yolu taşıtıdır?

- a) Vapur b) Tren c) Zeplin

7) Aşağıdakilerden hangisi okul servisinde uymamız gereken bir güvenlik kuralıdır?

- a) Emniyet kemerini takmak.
b) Oyun oynamak
c) Yüksek sesle konuşmak.

8) Aşağıdakilerden hangisi cep telefonu, bilgisayar, tablet, televizyon gibi teknolojik araçların bilinçsiz kullanımı sonucunda oluşabilecek bir sağlık sorunudur?

- a) Beyin ,kulak ve göz sağlığına zarar verir.
b) Elektrik çarpmasına neden olur.
c) Kazalar sonucu yaralanmamıza neden olur.

9) Aşağıdakilerden hangisini paten, kayak ve bisiklet kullanırken gereklidir?

- a) Emniyet kemeri
b) Kask
c) Güneş gözlüğü

10) “.....hem bize enerji verir hem de zihinsel gelişimimize katkıda bulunur.” Tanıtımı yapılan besin grubu aşağıdakilerden hangisidir?

- a) Kuru yemişler
b) Tahıllar
c) Süt ve süt ürünleri

HAZIRLAYAN:
EGE DERE