

2.
SINIF



B
KİTAPÇIK TÜRÜ

T.C.
MİLLÎ EĞİTİM BAKANLIĞI
ÖLÇME, DEĞERLENDİRME VE SINAV HİZMETLERİ
GENEL MÜDÜRLÜĞÜ

TED ANKARA KOLEJİ VAKFI ÖZEL İLKOKULU VE ORTAOKULU SEÇME SINAVI
(1. Sınıftan 2. Sınıfa Geçenler)
26 MAYIS 2019 Saat: 14.00

Adayın Adı ve Soyadı :

Aday Numarası (T.C. No) :

İmza :

DERS ADI	SORU SAYISI	TOPLAM SORU SAYISI	SINAV SÜRESİ (DAKİKA)
TÜRKÇE	20	60	60
MATEMATİK	20		
HAYAT BİLGİSİ	20		

ÖĞRENCİLERİN DİKKATİNE!

1. Sınıf öğrenci yoklama listesinde belirtilen sınıfta ve sıra numarasında oturunuz.
2. Soru kitapçıkları üzerinde doğru olan seçeneği daire içine alınız.

SALON BAŞKANI

Adı :

Soyadı :

T.C. Kimlik No:

İmza :

GÖZETMEN

Adı :

Soyadı :

T.C. Kimlik No:

İmza :

2. SINIF 2019

SINAV BAŞLAMADAN ÖNCE KİTAPÇIĞIN ARKA KAPAĞINDAKİ UYARILARI MUTLAKA OKUYUNUZ.

1. Aşağıdaki sözcüklerden hangisi hecelerine yanlış ayrılmıştır?

A) a-ra-ba

B) sa-lın-cak

C) oy-un-cak

2. Arkadaşlarım sabahleyin simit yemiş.

Bu cümlede aşağıdaki sorulardan hangisinin cevabı yoktur?

A) Nerede yemiş?

B) Kim yemiş?

C) Ne yemiş?

3. e, r, f, t, e, d, k

Aşağıdaki sözcüklerden hangisi bu harflerle oluşturulabilir?

A) fener

B) teker

C) kemer

4. İnşaatda deneyimli işçiler çalışıyor.

Bu cümledeki altı çizili sözcüğün zıt anlamlısı aşağıdaki cümlelerin hangisinde vardır?

A) Bilgili insanlar hata yapmaz.

B) Zayıf vücudu soğukta titriyordu.

C) Acemi şoför yine kaza yaptı.

5. 1. topum
2. eski
3. futbol

_____ patladı.

Anlamlı bir cümle oluşturmak için numaralanmış sözcükler, yukarıdaki boşluklara hangi sırayla yerleştirilmelidir?

A) 1-3-2

B) 2-3-1

C) 3-1-2

6. Bir tencere su ocağa konur. İçine biraz zeytinyağı ve tuz atılır. Su kaynadıktan sonra makarnalar eklenerek, kısık ateşte 15 dakika boyunca pişirilir. Ardından makarnanın suyu süzgeç yardımıyla süzülür ve makarna afiyetle yenir.

Bu metne göre, makarna yapmak için hangi malzemeler gereklidir?

- A) Makarna, zeytinyağı, tuz, su
B) Makarna, domates, zeytinyağı, su
C) Makarna, tuz, salça, domates

7. Cüce yarasalar genellikle ağaçların, sokak lambalarının ve binaların çevresinde uçar. Sinekleri ve sivrisinekleri avlayıp onları yerler. Boyları yaklaşık olarak işaret parmağımız kadardır.

Bu metinde "cüce yarasalar" ile ilgili aşağıdaki sorulardan hangisinin cevabı yoktur?

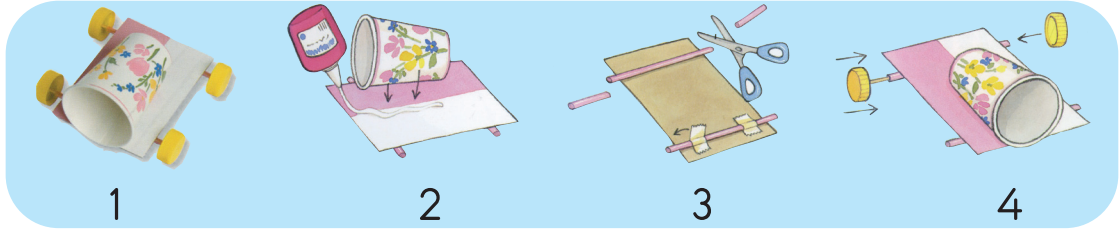
- A) Ne ile beslenirler?
B) Nerede uçarlar?
C) Kaç yıl yaşarlar?

8. Veterinerlerin çoğu, evde beslenen ve çiftliklerde yetiştirilen evcil hayvanlarla ilgilenir. Ancak yaban hayvanlarının korunmasıyla ilgili kuruluşlarda ve hayvanat bahçelerinde çalışan veterinerler de vardır. Bu veterinerler yaban hayvanlarının tedavisi konusunda özel eğitim alırlar. Bazen tedavi ettikleri hayvanları özel bir hastaneye taşımaları gerekebilir.

Bu metnin konusu aşağıdakilerden hangisidir?

- A) Hayvanların yaşamı
B) Veterinerlerin çalışma alanları
C) Veterinerlerin tedavi yöntemleri

9.



Bu görselde yer alan etkinliğin, oluş sırasına göre dizilişi aşağıdakilerden hangisidir?

- A) 1-4-2-3 B) 2-3-1-4 C) 3-2-4-1

10. Ayşe, kırmızı elmanın sapından tuttu. Elmayı kendisine doğru yaklaştırıp keyifle kokusunu içine çekti. İlk ısırığı alınca suratını buruşturdu çünkü elma çok ekşiydi.

Bu metinde aşağıdaki duyuların hangisinden yararlanılmamıştır?

- A) İşitme B) Koklama C) Tatma

11. Mustafa'nın okulu perşembe ve cuma günleri öğleden sonra üçte bitmektedir. Buna göre Mustafa aşağıdaki afişlerde belirtilen etkinliklerden hangisine katılabilir?

A)



B)



C)



12. Aşağıdaki cümlelerden hangisinin sonuna soru işareti konulmalıdır?
- A) Daha güneş bile doğmadı
B) Bence bu sene kış erken gelecek
C) Bugün de yağmur yağar mı ki

13. Ayşe : Merhaba, yarın doğum günü partim var gelir misin?
Ahmet : - - - - ?
Ayşe : Öğleden sonra diye düşündük.
Ahmet : Davet ettiğin için teşekkür ederim ama öğleden sonra futbol maçım var.


Bu konuşmada boş bırakılan yere aşağıdakilerden hangisi getirilmelidir?

- A) Ne zaman başlayacak
B) Nerede olacak
C) Kimler katılacak
14. Ali, manavın verdiği karpuzu iki yanından kucakladı. "Nasil götürürüm bu koskocaman karpuzu?" diye hem düşünüyor hem yürüyordu. En az beş kilo çekerdi. Belki de o kadar değildi de Ali'ye öyle geliyordu. Yürüdükçe ağırlaşıyordu, şaşılacak şey! Daha da bükülüyordu incecik bacakları. Ayakkabıları kaldırım taşlarına çarpıyordu her adımda.
- Bu metne göre Ali'nin bacakları neden bükülmektedir?**
- A) Ayakkabıları kaldırım taşlarına çarptığı için
B) Taşdığı karpuz ağır geldiği için
C) Hasta olduğu için

15. Selçuk kendince bazı sorumluluklarını yerine getirmektedir. Sabah evden çıkar çıkmaz gördüğü kişilere güler yüze selam verir. Sokaktaki hayvanların aç ve susuz kalmaması için bahçeye kap içinde su ve yemek bırakır. Yaşlılara yardımcı olur. İhtiyaç sahibi aileler için gıda kutusu hazırlar.

Selçuk'un aşağıdaki görsellerde yer alan davranışlarından hangisi bu metinde anlatılmamıştır?

A)



B)



C)



16. Arabaya yükledik valizleri
Gideriz dur durak bilmeden
Aşarız dağları tepeleri
Ne de güzeldir gördüğün an
Bilmediğin yerleri

Bu şiirin konusu aşağıdakilerden hangisidir?

A) Taşıtlar

B) Doğa

C) Yolculuk

17. Zehra Hanım, arkadaşı Cemile ve Cemile'nin kızı Elif'in bir türlü iş bulamamasına üzülüyordu. Cemile'nin mektubunu alınca çok sevindi. Cemile ve kızı Elif, sonunda kendilerine uygun bir iş bulmuşlardı.

Bu metinde mektubu yazan kimdir?

- A) Cemile B) Zehra Hanım C) Elif

18. Eski zamanlarda Anadolu'nun bir köyünde bir çocuk, yılbaşından birkaç gün önce hastalanır. Hastalığını köyde kimse tedavi edemediğinden kasabaya gitmek zorundadır. Babası, kızı hazırlar ve ikisi birlikte bembeyaz örtünün üzerinde zorlu bir yolculuğa çıkarlar.

Bu metindeki olay aşağıdaki mevsimlerin hangisinde geçmektedir?

- A) İlkbahar B) Kış C) Yaz

19. Kitabımı bir türlü bulamıyorum () Of () O benim en sevdiğim kitabımdı ()

Bu metinde ayraçla gösterilen yerlere sırasıyla aşağıdaki noktalama işaretlerinden hangileri getirilmelidir?

- A) (,) (,) (!) B) (!) (,) (.) C) (.) (!) (.)

20. (1) Benim adım pamuk, barınakta kalan yaşlı bir kediyim. (2) Ne zamandır burada olduğumu hatırlamıyorum bile. (3) İnsanlar genelde yavru kedileri sahiplendiği için uzun süredir barınakta bekliyorum.

Numaralanmış cümlelerin hangisinde büyük harflerin yazımıyla ilgili yanlışlık yapılmıştır?

- A) 1. B) 2. C) 3.

**TÜRKÇE TESTİ BİTTİ.
MATEMATİK TESTİNE GEÇİNİZ.**



1. Ahmet 23'ten başlayarak ileriye doğru birer birer sayıyor.
Sekizinci sırada söylediği sayı kaçtır?

A) 27

B) 28

C) 30

2.




Resimde verilenlere göre aşağıdakilerden hangisi doğrudur?

- A) Masa sayısı çocuk sayısından daha çoktur.
B) Çocuk sayısı sandalye sayısına eşittir.
C) Sandalye sayısı masa sayısından daha azdır.


3. Hangi nesnenin sayısı 10'dan büyüktür?



4.



Aşağıdakilerden hangisi fareden daha ağır ve inekten daha hafiftir?



5. Aşağıdaki nesnelere hangileri eşittir?



6.



Tabaktaki şekerlerin sayısı aşağıdakilerden hangisi ile gösterilebilir?

A) 3 onluk 1 birlik

B) 1 onluk 3 birlik

C) 1 onluk 5 birlik

7. Aşağıdaki işlemlerden hangisinin sonucu farklıdır?

A) $3 + 13$

B) $6 + 11$

C) $9 + 7$

8. 12 kitap bulunan sınıf kitaplığına Ezgi 7 kitap daha getirdi.
Sınıf kitaplığında kaç kitap oldu?


A) 19

B) 17

C) 5

9. $9 - 4 = 5$

Verilen çıkarma işlemi aşağıdakilerden hangisi ile modellenemez?

A) 

B) 

C) 

10. Bir minibüse 6 yolcu bindiğinde yolcu sayısı 14 oldu.
Bu 6 yolcu binmeden önce minibüste kaç yolcu vardı?

A) 20


B) 12

C) 8

11. Aşağıdakilerden hangisi yanlıştır?

- A) Karenin dört köşesi vardır.
- B) Çemberin bir köşesi vardır.
- C) Üçgenin üç köşesi vardır.

12.



Resimdeki tabakta bütün ve yarım portakallar vardır.

Bunların tamamı kaç tane bütün portakal eder?

- A) 8
- B) 10
- C) 12

13. Pervin'in 10, Belma'nın 6 kalemi vardır.

Pervin'in kalemleri Belma'nın kalemlerinden kaç fazladır?

- A) 4
- B) 10
- C) 16

14. Arzu 20 lira ile aşağıdakilerden hangisini alamaz?

A)




22 lira

B)



18 lira

C)



15 lira

15.



Yukarıdaki örüntüde ? yerine hangi şekil gelmelidir?

A)




B)



C)



16.



Emine yukarıdaki sepetten 2 portakal ve 3 elmayı alacaktır.

Meyveleri aldıktan sonra sepette kaç meyve kalır?

A) 11

B) 10

C) 9

17.



Buket'in bulunduğu konuma göre Buket'e en uzak olan kişi kimdir?

A) Sevda

B) Bora

C) Asya

18. Ahmet evden çıktığında saat sekiz buçuğu göstermektedir.
Eve 3 saat sonra döndüğünde saat kaç gösterir?

A)



B)



C)



19.




Bugün günlerden
3 Mayıs 2019

Alya'nın aşağıdaki etkinliklerinden hangisi 3 Mayıs 2019 tarihinden öncedir?

- A) Yarın kursa gideceğim.
B) Bugün okula gidiyorum.
C) Dün sinemaya gittim.

20.



Resimdeki hayvanların sayıları tabloya yazılmıştır.

Çiftlikteki Hayvanların Tablosu	
Hayvanlar	Sayısı
	8
	3
	4

Tabloya hangi hayvanın sayısı yanlış yazılmıştır?

A)



B)



C)



MATEMATİK TESTİ BİTTİ.
HAYAT BİLGİSİ TESTİNE GEÇİNİZ.




1. Aşağıda verilen sınıf araç ve gereçlerinden hangisi şeref köşesinde bulunur?



2. Mert, okuldan eve dönerken kaybolmuştur.


Güvenliği için aşağıdakilerin hangisinden yardım istemesi daha uygun olur?



Çiçekçi



Polis



Simitçi


3. Aşağıdakilerden hangisi okul kurallarına uygun bir davranıştır?



Sınıftaki kablo ve prizlerle oynamak.



Sıra ve masaları kalemle çizmek.



Çöpleri çöp kutusuna atmak.

4. Evdeki kaynakları verimli kullanan bir kişinin aşağıdaki davranışlardan hangisini yapması beklenir?

- A) Gereksiz yanan ampulleri söndürür.
- B) Temizlik malzemelerini gereğinden fazla tüketir.
- C) Dişlerini fırçalarken musluğu açık bırakır.

5. Evimizde yangın çıktığında aramız gereken itfaiyenin telefon numarası kaçtır?

A) 1-1-0

B) 1-1-2

C) 1-5-5

6. Ülkemizin başkenti neresidir?

A) Ankara

B) İstanbul

C) İzmir

7. Aşağıda Demir ve babasının konuşmalarından bir bölüm verilmiştir.



Babası, Demir'in sorusuna hangi cevabı vermelidir?

A) Ankara'da

B) İstanbul'da

C) Selanik'te

8. Her yıl 29 Ekim'de - - - -'nı kutlarız.

Cümledeki boşluğa aşağıdakilerden hangisi yazılmalıdır?

- A) Zafer Bayramı
- B) Cumhuriyet Bayramı
- C) Ulusal Egemenlik ve Çocuk Bayramı

9. Aşağıdaki okul çalışanlarından hangisinin okuldaki görevi yanlış verilmiştir?

A)



Öğretmen

B)



Hizmetli

C)



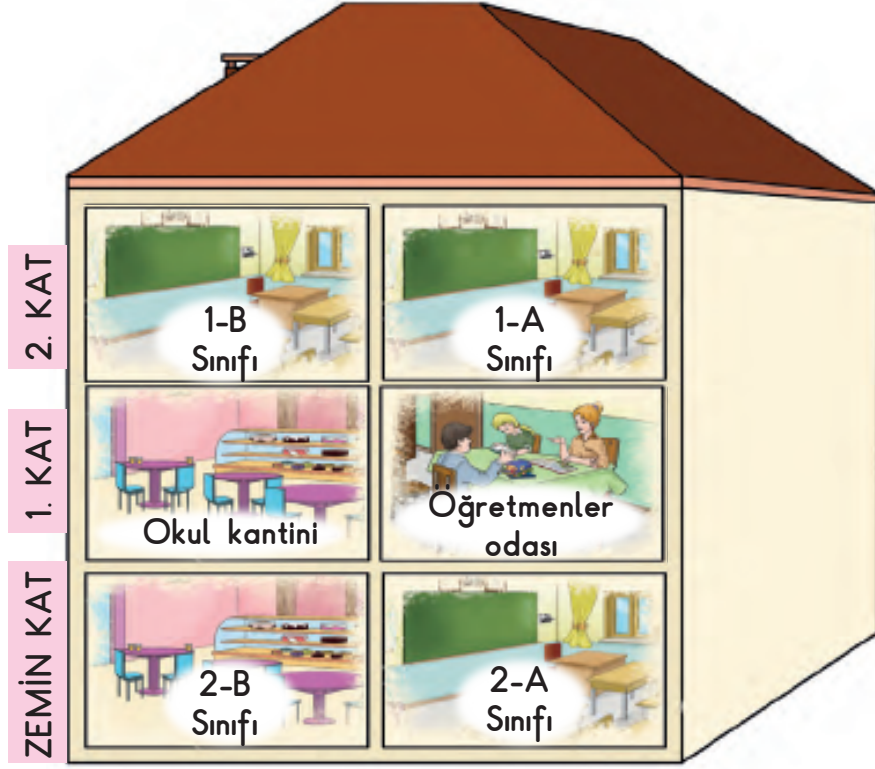
Okul Müdürü

10. Sınıf arkadaşları Pelin'e doğum günü sürprizi hazırlamıştır.

Pelin bu durumda arkadaşlarına aşağıdaki ifadelerden hangisini kullanmalıdır?

- A) Rica ederim.
- B) Teşekkür ederim.
- C) Özür dilerim.

11. Aşağıdaki görselde bir okulun bölümleri gösterilmiştir.



1-B sınıfı öğrencisi olan Aylın, arkadaşına görselden yararlanarak sınıfının yerini tarif etmektedir.

Buna göre aşağıdakilerden hangisi doğrudur?

- A) Okul kantininin üst katında
- B) 2-B sınıfının sağında
- C) Öğretmenler odasının karşısında

12. Aşağıdakilerden hangisi yaşamımızı devam ettirebilmek için karşılamamız gereken temel ihtiyaçlarımızdan biridir?

- A) Müzik dinlemek
- B) Resim yapmak
- C) Beslenmek

13. • Okul geçidi levhasıdır.
• Karşıdan karşıya güvenli geçmemizi sağlar.

Hakkında bilgi verilen trafik levhası aşağıdakilerden hangisidir?

A)



B)



C)




14. Aşağıdaki görselde, Mete ve Esra kendileri hakkında bilgi vermişlerdir.



Bu bilgilerden yola çıkarak Mete ve Esra ile ilgili aşağıdakilerden hangisi söylenebilir?

- A) Esra, Mete'den uzundur.
B) Göz renkleri aynıdır.
C) Fiziksel özellikleri birbirinden farklıdır.

15. Resimde bir bitkinin uzun zaman süresindeki değişimi gösteriliyor.



Resme göre bu bitki ile ilgili aşağıdakilerden hangisi doğrudur?


- A) Zamanla büyür ve gelişir.
- B) Havalar soğduğunda yapraklarını döker.
- C) İlkbaharda çiçek açar.

16. Tabloda bir hayvana ait özellikler verilmiştir.


	<ul style="list-style-type: none">● Evcil hayvandır.● Buğday, ot ve solucanla beslenir.● Kümeste barınır.
--	-------------------------------------------------------------------------------------------------------------------------------------------

Buna göre boş bırakılan yere aşağıdaki hayvan resimlerinden hangisi yerleştirilmelidir?

A)



B)



C)



17. Zeynep Öğretmen, tahtaya yemekte uyulması gereken görgü kurallarını yazıyor.



Zeynep Öğretmen'in boş bıraktığı yere aşağıdakilerden hangisi yazılmalıdır?

- A) Tabağımıza çok fazla yemek almıyoruz.
B) Üstümüze dökmeden yemeliyiz.
C) Ağızımızda yemek varken konuşmalıyız.

18. Deniz, bir konuda aşağıdaki bilgileri veriyor.



Deniz

- Et ve yumurta hayvanlardan elde edilir.
- Meyve ve sebzeler bitkisel ürünlerdir.
- Büyüyüp gelişmek için bitkisel ve hayvansal besinler tüketmeliyiz.

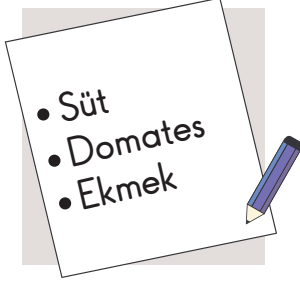
Deniz, aşağıdakilerden hangisiyle ilgili bilgi vermemiştir?

- A) Bitkisel ve hayvansal besinler
B) Öğün atlamadan beslenme
C) Büyüyüp gelişmede gerekli besinler

19. Ece, annesiyle birlikte beslenme çantasını hazırlıyor.

Ece, sağlıklı büyüyüp gelişmek için annesi ile aşağıdakilerden hangilerini seçmelidir?


A)



B)




C)



20. Ayşe, kitabında konusu kişisel bakım olan resmi boyuyor.

Ayşe boyamak için aşağıdaki resimlerden hangisini seçmiştir?


A)



B)



C)



TEST BİTTİ.
CEVAPLARINIZI KONTROL EDİNİZ.



SINAV BAŞLAMADAN AŞAĞIDAKİ UYARILARI MUTLAKA OKUYUNUZ!

1. Öğrenciler, sınav kurallarına ve salon görevlilerinin tüm uyarılarına uymak zorundadırlar.
2. Sınav başladıktan sonra öğrencilerin salon görevlileri ve birbirleri ile konuşmaları, kalem, silgi vb. şeyleri istemeleri yasaktır.
3. **Soru kitapçıkları üzerinde doğru olan seçeneği daire içine alınız.**
4. Değiştirmek istediğiniz bir cevabı, yumuşak silgiyle soru kitapçığını yıpratmadan temizce siliniz ve yeni cevabınızı işaretleyiniz.
5. Soru kitapçığının sayfalarını kontrol ediniz, baskı hatası var ise değiştirilmesini sağlayınız.
6. Soru kitapçığının içindeki boş alanları çözümlerinizi için kullanabilirsiniz.
7. Cevaplamaya istediğiniz sorudan başlayabilirsiniz.
8. Cevabını bilmediğiniz sorular üzerinde fazla zaman kaybetmeden diğer sorulara geçiniz. Zamanınız kalırsa bu sorulara daha sonra dönebilirsiniz.
9. Sınav puanınızın hesaplanmasında 2 yanlış 1 doğru cevabınızı götürecektir. Alt testler bu şekilde hesaplanarak net puanlarının toplamı toplam net puanınızı verecektir.
10. Sınav bitiminde, soru kitapçığını salon görevlilerine teslim ediniz.
11. Sınav sırasında çanta, cep telefonu, saat, kablosuz iletişim sağlayan cihazlar ve kulaklık, kolye, küpe, bilezik, yüzük, broş ve benzeri eşyalar ile her türlü elektronik ve/veya mekanik cihazları yanınızda bulundurmuyunuz. Bu araçları yanınızda bulundurmanız ve kopya çekmeye teşebbüs etmeniz hâlinde sınavınız geçersiz sayılacaktır.
12. Soru kitapçığınızı sınav süresince hiçbir öğrencinin göremeyeceği şekilde önünüzde bulundurunuz.
13. Sınavınızın değerlendirilmesi aşamasında, toplu kopya tespiti veya başka adayın sınav evrakını kullanmanız durumunda sınavınız geçersiz sayılacaktır.
14. Soruları ve sorulara verdiğiniz cevapları kaydetmeyiniz, hiçbir şekilde dışarı çıkarmayınız.
15. İlk 15 dakika dışarı çıkılmayacaktır.
16. Sınav evraklarını teslim etmeyenlerin sınavı geçersiz sayılacaktır.

SINAV GÖREVLİLERİNCE SINAV BAŞLAMADAN ÖNCE ÖĞRENCİLERE YAPILACAK SON UYARI!

- Soracağınız bir şey var mı? Varsa, şimdi sorunuz.
- Sınav başladıktan sonra sorularınıza cevap verilmeyecektir.
- Başlama zilini bekleyiniz.

Hepinize başarılar dileriz.

(Sınav görevlisi başlama ve bitiş saatini tahtaya yazacaktır.)

Bu kitapçığın her hakkı saklıdır. Hangi amaçla olursa olsun, kitapçığın tamamının veya bir kısmının Millî Eğitim Bakanlığı Ölçme, Değerlendirme ve Sınav Hizmetleri Genel Müdürlüğünün yazılı izni olmadan kopya edilmesi, fotoğraflarının çekilmesi, bilgisayar ortamına alınması, herhangi bir yolla çoğaltılması, yayımlanması veya başka bir amaçla kullanılması yasaktır. Bu yasağa uymayanlar, doğabilecek cezai sorumluluğu ve kitapçığın hazırlanmasındaki mali külfeti peşinen kabullenmiş sayılır.

**26 MAYIS 2019 TARİHİNDE YAPILAN TED ANKARA KOLEJİ VAKFI
ÖZEL İLKOKULU VE ORTAOKULU SEÇME SINAVI
2. SINIF “B” KİTAPÇIĞI CEVAP ANAHTARI**

TÜRKÇE	MATEMATİK	HAYAT BİLGİSİ
1. C	1. C	1. A
2. A	2. B	2. B
3. B	3. A	3. C
4. C	4. A	4. A
5. B	5. C	5. A
6. A	6. B	6. A
7. C	7. B	7. C
8. B	8. A	8. B
9. C	9. C	9. B
10. A	10. C	10. B
11. B	11. B	11. A
12. C	12. A	12. C
13. A	13. A	13. B
14. B	14. A	14. C
15. B	15. B	15. A
16. C	16. C	16. C
17. A	17. C	17. B
18. B	18. B	18. B
19. C	19. C	19. A
20. A	20. C	20. C