

2.
SINIF



A
KİTAPÇIK TÜRÜ

T.C.
MİLLÎ EĞİTİM BAKANLIĞI
ÖLÇME, DEĞERLENDİRME VE SINAV HİZMETLERİ
GENEL MÜDÜRLÜĞÜ

TED ANKARA KOLEJİ VAKFI ÖZEL İLKOKULU VE ORTAOKULU SEÇME SINAVI
(1. Sınıftan 2. Sınıfa Geçenler)
4 HAZİRAN 2017 Saat: 14.00

Adayın Adı ve Soyadı :
Aday Numarası (T.C. No) :
İmza :

DERS ADI	SORU SAYISI	TOPLAM SORU SAYISI	SINAV SÜRESİ (DAKİKA)
TÜRKÇE	20	60	60
MATEMATİK	20		
HAYAT BİLGİSİ	20		

ÖĞRENCİLERİN DİKKATİNE!

1. Sınıf öğrenci yoklama listesinde belirtilen sınıfta ve sıra numarasında oturunuz.
2. Soru kitapçıkları üzerinde doğru olan seçeneği daire içine alınız.

SALON BAŞKANI


Adı :
Soyadı :
T.C. Kimlik No:
İmza :

GÖZETMEN

Adı :
Soyadı :
T.C. Kimlik No:
İmza :

SINAV BAŞLAMADAN ÖNCE KİTAPÇIĞIN ARKA KAPAĞINDAKİ UYARILARI MUTLAKA OKUYUNUZ.

1.



Bu görselin adında aşağıdaki hecelerden hangisi vardır?

A) le

B) ek

C) kel

2. n, a, a, l, m, d

Bu harflerle aşağıdaki kelimelerden hangisi oluşmaz?

A) alan

B) damat

C) mandal

3. Selin, geniş pantolonlarını daralttı.

Altı çizili kelimenin bu cümledeki anlamı aşağıdakilerden hangisidir?

A) Kısa

B) Kalın

C) Bol

4. Aşağıdakilerin hangisinde bir varlık, özellikleriyle tanıtılmıştır?

A) Arkadaşım hafta sonunda bizimle birlikte kalacak.

B) Babam yurt dışından bana ve kardeşime oyuncak almış.

C) Eskiden iki katlı, mavi boyalı, bahçeli bir evde otururduk.

5. Bir gün ormanda köylülerle birlikte geziyorduk. Bir ayak izi gördük. Çok değişikti. Bunun, ormanda yaşayan bir hayvanın ayak izi olabileceğini düşündük. Ayak izinin neye ait olduğunu anlayamadık ama burada ilginç şeyler bulmak çok güzeldi.

Bu metinde anlatılan olay nerede geçmektedir?

- A) Köy B) Bahçe C) Orman

6. Bilimsel çocuk dergileri yaşamla ilgili birçok bilgi vermektedir. Sadece çocuklar değil büyükler de bu dergileri zevkle okumaktadır. Aylık çıkan bu dergileri gazete büfelerinden, kitapçılardan ve marketlerden satın alabilirsiniz. Ayrıca bu dergilere yıllık abone de alabilirsiniz.

Bu metinde "bilimsel çocuk dergileri" ile ilgili aşağıdakilerden hangisine değinilmemiştir?

- A) Herkes tarafından tavsiye edildiğine
B) Farklı yaş gruplarının ilgisini çektiğine
C) Birçok yerde satıldığına

7. Güneş artık daha sıcak gülümsüyor; altta kalan toprak, karların erimesiyle gökyüzüne bakıyordu. Akarsular heyecanlı heyecanlı akıyordu. Ağaçlar yeşermeye başlıyor, kış uykusuna yatan hayvanlar nihayet uyanıyordu. Çiftçi amca, tarlasını traktörüyle bir o yana bir bu yana sürüyordu.

Bu metinde anlatılanlar aşağıdaki mevsimlerin hangisinde geçmektedir?

- A) İlkbahar B) Yaz C) Kış

8. 1. elmaları
2. topladım
3. bahçemizdeki
4. kıpkırmızı

Numaralanmış kelimelerle anlamlı ve kurallı bir cümle oluşturulduğunda sıralama aşağıdakilerden hangisi olur?

- A) 2-3-4-1 B) 3-4-1-2 C) 4-1-2-3

9. Aşağıdakilerin hangisinde bir olay, nedeniyle birlikte verilmiştir?

- A) Balkondaki çiçekleri her hafta sulamalısın.
B) Havalarda her geçen gün biraz daha soğuyor.
C) İş yerinde bardağımı kaybettiğim için çay içemedim.

10. Onun ateş kırmızısı
Ne gelincik, ne de gülden,
Türk oğlunun öz kanıdır,
Ona bu al rengi veren.

Ay yıldızı gökyüzünün,
Ayla yıldızından yüksek.
Türk'ün alın yazısıdır,
Türk'tür onu yükseltecek.

Bu şiirin konusu aşağıdakilerden hangisidir?

- A) İstiklal Marşı B) Doğa C) Bayrak

11. Gerek duymasalar da insanların merak ederek aldığı eşyalar vardır. Bu eşyaları kullanacaklarını düşünürler. Birkaç kez kullanırlar. Heveslerini aldıktan sonra bu eşyaları evin bir bölümüne koyarlar ve orada kalır. Hem evde yer kaplar hem de boş yere para harcanmış olur.

Bu metnin verdiği mesaj aşağıdakilerden hangisidir?

- A) İnsan, ihtiyacı olmadığı eşyaları almamalıdır.
B) Eşyalar evin büyüklüğüne göre satın alınmalıdır.
C) Kullanılmayan eşyalar evden çıkarılmalıdır.

12.



Bu görsel aşağıdaki sorunların hangisiyle ilgilidir?

- A) Trafik sıkışıklığı
B) Yardımseverliğin azalması
C) Trafik kazaları

13. Yaprak: Bu hafta sonu tatilinde şehir dışına çıkacağız. Sen ne yapacaksın Emir?

Emir: Ben arkadaşlarımla kitapçılara dolaşacağım. Peki, siz tatil için nereye gideceksiniz Yaprak?

Yaprak: - - - -

Bu konuşmaya göre Yaprak aşağıdakilerden hangisini söylerse Emir'e cevap vermiş olur?

A) Biz de sizinle seve seve geliriz kitapçılara.

B) Trabzon, İstanbul'dan daha güzeldir.

C) Henüz gideceğimiz yere karar vermedik.

14. Ahtapotlar yeryüzündeki tüm denizlerde ve okyanuslarda yaşar.

Bu cümlede aşağıdaki sorulardan hangisinin cevabı vardır?

A) Nerede?

B) Ne zaman?

C) Nasıl?

15. Umarım onlarla - - - -

Bu ifade, aşağıdakilerin hangisiyle tamamlanırsa anlamlı bir cümle olur?

A) güzel sohbet etmişsiniz.

B) aynı yere gideriz.

C) sorunlarınızı hallediniz.

16. Reklamlarda kullanılan aşağıdaki ifadelerden hangisinin gerçekleşmesi mümkündür?

- A) Arabanız mı eskidi? Bunu alın, bin yıl kullanın!
- B) Bu akıllı telefonla hayatınız daha da kolaylaşacak!
- C) En havalı ayakkabı bu. Giy, sen de havalanıp uç!

17.



Bu görseldeki aşçılar aşağıdaki duylardan hangisini kullanmamaktadır?

- A) Tatma
- B) Görme
- C) Dokunma

18.



Yukarıdaki bilgi işaretinin anlamı nedir?

A) İtfaiye

B) İlk yardım

C) Polis

19. Ben çantama havlu () şapka ve güneş kremi koydum () Kumsala giderken sen de yanına çanta alacak mısın ()

Bu metinde ayraçla gösterilen yerlere sırasıyla aşağıdaki noktalama işaretlerinden hangileri getirilmelidir?

A) (.) (,) (.)

B) (,) (?) (.)

C) (,) (.) (?)

20. Aşağıdakilerin hangisinde büyük harflerin kullanımıyla ilgili bir yanlışlık yapılmıştır?

A) Her yerin kendisine özgü güzelliği vardır Anadolu'da.

B) Yaz gelince bu güzel Göl dolup taşar insanlarla.

C) İşlerini bitirdikten sonra Fatih, evine gitti.

TÜRKÇE TESTİ BİTTİ.
MATEMATİK TESTİNE GEÇİNİZ.



1. Aşağıdaki ifadelerden hangisi doğrudur?

- A) Dokuz ile üçün farkı altıdır.
- B) Sekizden altı çıktı, üç kaldı.
- C) On eksi üç eşittir, sekiz.

2. Tablo: 1-A Sınıfı Öğrencilerinin Etkinlikleri

Etkinlik Adı	Öğrenci Sayısı
Tiyatro	4
Sinema	5
Konser	3
Spor	7

1-A sınıfı öğrencilerinin hafta sonunda yaptıkları etkinlikler tabloda verilmiştir.

Buna göre aşağıdaki ifadelerden hangisi yanlıştır?

- A) Tiyatroya ve sinemaya gidenlerin sayılarının toplamı 8'dir.
- B) Spor yapanların sayısı, tiyatroya gidenlerin sayısından fazladır.
- C) Konsere gidenlerin sayısı, sinemaya gidenlerin sayısından 2 eksiktir.

3.




Resimde aşağıdakilerden hangisinin benzeri yoktur?

A)



B)



C)

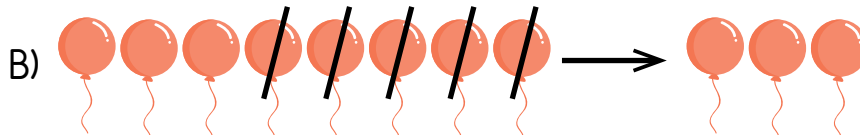
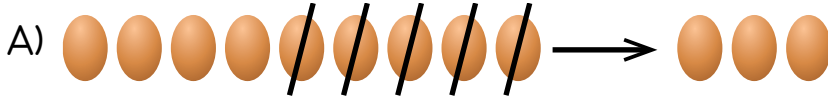


4. Aşağıda verilen toplama işlemlerinden hangisinin sonucu 20 değildir?

A) $4+16$ B) $17+3$ C) $18+1$

5. $8-5=3$

Verilen çıkarma işlemi aşağıdakilerden hangisi ile modellenenebilir?




6. Bir çiçekçideki güller karanfillerden fazladır. Laleler ise karanfillerden azdır.

Çiçekçideki çiçek sayıları hangisi olabilir?

	<u>Gül</u>	<u>Karanfil</u>	<u>Lale</u>
A)	20	18	16
B)	18	20	14
C)	15	14	16

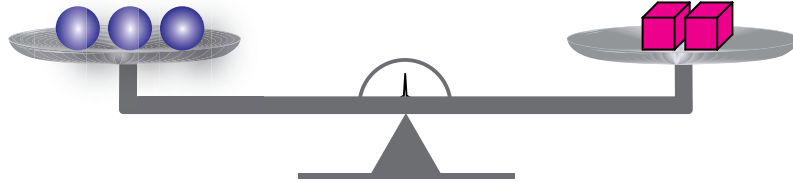
7.




Şekildeki kalemlerin sayısı aşağıdakilerden hangisi ile gösterilebilir?

- A) 1 onluk 9 birlik
B) 1 onluk 8 birlik
C) 1 onluk 7 birlik

8.



Resimde verilen terazi dengededir. Sağdaki kefeye 4 tane daha  konuyor.

Terazinin tekrar dengelenmesi için sol kefeye kaç tane daha  konmalıdır?

- A) 3 B) 6 C) 9

9. 7 ile 10 arasındaki bir sayıya 10 ekleniyor.

Elde edilen sayı aşağıdakilerden hangisi olabilir?

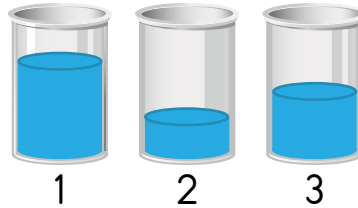
- A) 16 B) 18 C) 20

10. Ali 14'ten başlayarak geriye doğru birer ritmik sayıyor.

Beşinci sırada söylediği sayı kaçtır?

- A) 10 B) 9 C) 8

11.




Kapların içinde bir miktar su vardır. Bu kaplar tamamen su ile doldurulacaktır.

Hangisine daha çok su eklenmelidir?

- A) 1 B) 2 C) 3

12.



Yukarıda yarım ve çeyrek pizzalar verilmiştir.
Bunların tamamı kaç tane bütün pizza eder?

A) 2

B) 3

C) 4

13.




Fusun, kırtasiyeden 2 kalem ve 1 silgi alıyor.

Fusun'un ödediği para aşağıdakilerden hangisi olabilir?



14.



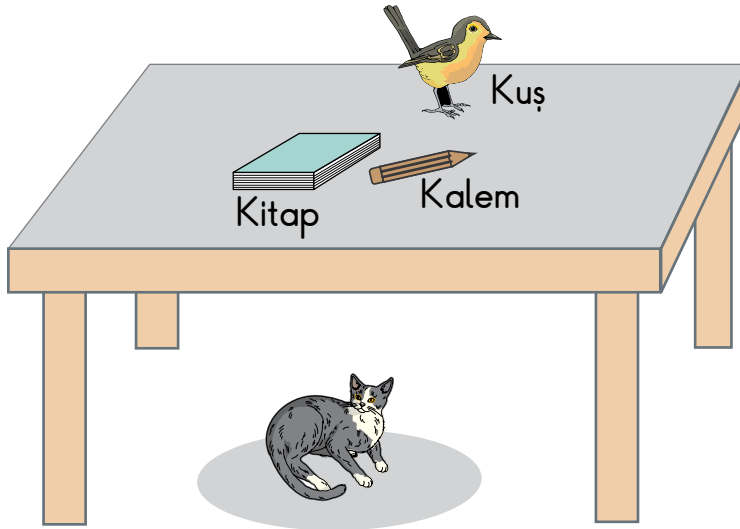
Yukarıdaki kalemler uzundan kısaya doğru sıralanacaktır.
Mavi kalem baştan kaçınıcı sırada yer alır?

A) 3.

B) 4.

C) 5.

15.



Resme göre aşağıdaki ifadelerden hangisi yanlıştır?

A) Kitap kalemin sağıındadır.

B) Kedi masanın altındadır.

C) Kuş masanın üstündedir.

16. Dayısı Arda'ya 5 lira verirse Arda'nın 18 lirası olacaktır.
Arda'nın kaç lirası vardır?

A) 13

B) 15

C) 23

17. Hakan'ın çantasında 6 tane kurabiye vardı. Hakan bu kurabiyelerin hepsini yedi.

Geriye kaç kurabiye kalmıştır?

A) 2

B) 1

C) 0

- 18.

$$\begin{array}{r} \blacksquare \\ + 1 \\ \hline 10 \end{array} \quad \begin{array}{r} 5 \\ + \blacktriangle \\ \hline 10 \end{array}$$

Yukarıdaki işlemlerde \blacksquare ve \blacktriangle birer sayıdır.

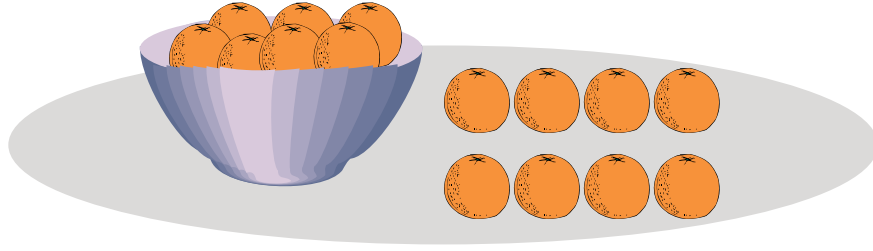
Buna göre $\blacksquare + \blacktriangle$ kaçtır?

A) 13

B) 14

C) 15

19.



Kapta 12 portakal vardır.

Yerdeki portakalları da kaba koyduğumuzda kapta kaç tane portakal olur?

A) 16

B) 18

C) 20

20.

ŞUBAT						2017
Pazartesi	Salı	Çarşamba	Perşembe	Cuma	Cumartesi	Pazar
		1	2	3	4	5
6	7	8	9	10	11	12
13	14	15	16	17	18	19
20	21	22	23	24	25	26
27	28					

Selda'nın doğum günü 21 Şubat'tır. Doğum gününü 5 gün sonra kutlamıştır.

Doğum gününü kutladığı gün hangisidir?

A) Cumartesi

B) Pazar

C) Pazartesi

MATEMATİK TESTİ BİTTİ.
HAYAT BİLGİSİ TESTİNE GEÇİNİZ.



1. Okullardaki sınıfların şeref köşesinde en üstte hangisi yer alır?
A) Atatürk resmi B) Bayrağımız C) İstiklal Marşı

2. İstiklal Marşı okunurken nasıl davranırsınız?
A) Hazır ola geçerim.
B) Yanımdakiyle konuşurum.
C) Oynamaya devam ederim.

3. Atatürk, 23 Nisan Ulusal Egemenlik ve Çocuk Bayramı'nı kimlere armağan etmiştir?
A) Gençlere B) Askerlere C) Çocuklara

4. Büyük Millet Meclisi hangi ilde açılmıştır?
A) İzmir'de B) Ankara'da C) İstanbul'da

5. Cumhuriyet Bayramı'nı hangi tarihte kutlarız?

A) 29 Ekim

B) 19 Mayıs

C) 23 Nisan

6. Aşağıdakilerden hangisi ülkemizle ilgili yanlış bir bilgidir?

A) Bayrağımızda ay ve yıldız vardır.

B) Millî marşımız İstiklâl Marşı'dır.

C) Başkentimiz İstanbul'dur.

7. Aşağıdakilerden hangisi millî bayramdır?

A) Cumhuriyet Bayramı

B) Kurban Bayramı

C) Ramazan Bayramı

8. Ders bitip öğretmen sınıftan çıktıktan sonra Eren sırasının üzerine resim yapmaya başladı, Aylin pencereyi açıp sınıfı havalandırdı, Nil de çöp kutusuna kalem tıraşını boşalttı.

Sınıftaki öğrencilerden hangisinin davranışı yanlıştır?

A) Eren

B) Aylin

C) Nil

9.

Sevgili arkadaşım,
Ankara'da havalar serinlemeye
başladı. Sık sık yağmur yağıyor.
Göçmen kuşlar sıcak yerlere
göç ediyor. Ağaçlar yapraklarını
döküyor.

Sude

Sude arkadaşına yazdığı mektupta hangi mevsimi anlatmıştır?


A) İlkbahar

B) Sonbahar

C) Kış

10. Aşağıdaki görsellerin hangisinde çocuk, karşıdan karşıya geçerken trafik kurallarına uygun davranmıştır?

A)



B)



C)



11. Aşağıdaki davranışlardan hangisinde doğal kaynak bilinçsizce tüketilmiştir?

- A) Aydınlik odadaki lambayı kapatmak
- B) Sıcak havada kaloriferi yakmak
- C) Su damlatan musluğu onarmak

12.

Merhaba ben Mert. Aydın'da yaşıyorum.
Burada yazlar sıcak, kışlar ılıktır.
Burada en çok - - - - yetişir.



Boş bırakılan yere aşağıdaki ürünlerden hangisi yazılmalıdır?

- A) çay
- B) fındık
- C) incir


13. Aşağıda kişisel bakımını yapan çocuklar verilmiştir.

Bunlardan hangisi kaynakları doğru kullanmaktadır?


A)



B)



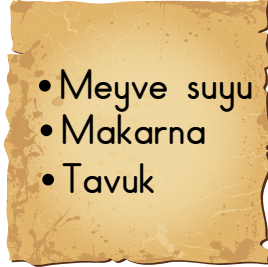
C)



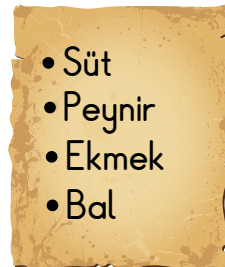
14. Ali, okula gitmeden önce kahvaltısını yapar.

Sağlıklı beslenen Ali, kahvaltıda aşağıdaki besinlerin hangisiyle beslenir?

A)



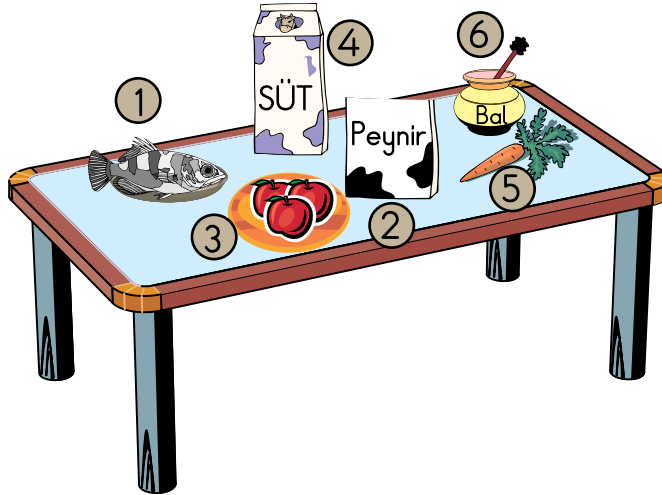
B)



C)



15. Gamze şekildaki yemek masasından bitkilerden elde edilen besinleri almak istiyor.



Gamze, hangi numaralı besinleri seçmelidir?

A) 1 ve 4.

B) 2 ve 6.

C) 3 ve 5.

16. Sevinç, yemek yerken kurallara dikkat eder.

Buna göre Sevinç, sofrada aşağıdakilerden hangisini yapar?

- A) Yüksek sesle konuşur.
- B) Ağızını peçete ile siler.
- C) Kardeşinin tabağından yemek alır.

17.



Ayşe

Hastalıktan korunmak için

- Temiz havalı yerlerde yürüyüş yaparım.
- - - - -

Ayşe'nin ifadesindeki boşluğa aşağıdakilerden hangisi yazılmalıdır?

- A) Zamanında aşı yaptırırım.
- B) Her gün ilaç kullanırım.
- C) Her zaman ince giysiler giyerim.

18.



Doğru davranış



Yanlış davranış

Aşağıdaki davranışlardan hangisinin yanındaki ifade doğru yerleştirilmiştir?

A) Mehmet, okuldaki yeni silinen ıslak merdivenlerden koşarak indi. 😊

B) Ali, balkondan aşağıya uzanarak yoldan geçen arabalara baktı. 😞

C) Gülden, çöp kutusundaki kâğıtları kibritle yaktı. 😊

19. Aşağıdakilerden hangisi yemeklerden önce ve sonra mutlaka yapılmalıdır?

- A) Elleri sabun kullanarak yıkamak
- B) Meyveleri yıkayarak yemek
- C) Dişleri fırçalamak

20.



Ahmet

- Düzenli olarak su verdim.
- Güneş ışığı alması için pencere kenarına koydum.

Buna göre Ahmet'in bakımını yaptığı canlı aşağıdakilerden hangisidir?


A)



B)



C)



TEST BİTTİ.
CEVAPLARINIZI KONTROL EDİNİZ.



SINAV BAŞLAMADAN AŞAĞIDAKİ UYARILARI MUTLAKA OKUYUNUZ!

1. Öğrenciler, sınav kurallarına ve salon görevlilerinin tüm uyarılarına uymak zorundadırlar.
2. Sınav başladıktan sonra öğrencilerin salon görevlileri ve birbirleri ile konuşmaları, kalem, silgi vb. şeyleri istemeleri yasaktır.
3. **Soru kitapçıkları üzerinde doğru olan seçeneği daire içine alınız.**
4. Değiştirmek istediğiniz bir cevabı, yumuşak silgiyle soru kitapçığını yıpratmadan temizce siliniz ve yeni cevabınızı işaretleyiniz.
5. Soru kitapçığının sayfalarını kontrol ediniz, baskı hatası var ise değiştirilmesini sağlayınız.
6. Soru kitapçığının içindeki boş alanları çözümlerinizi için kullanabilirsiniz.
7. Cevaplamaya istediğiniz sorudan başlayabilirsiniz.
8. Cevabını bilmediğiniz sorular üzerinde fazla zaman kaybetmeden diğer sorulara geçiniz. Zamanınız kalırsa bu sorulara daha sonra dönebilirsiniz.
9. Sınav puanınızın hesaplanmasında 2 yanlış 1 doğru cevabınızı götürecektir. Alt testler bu şekilde hesaplanarak net puanlarının toplamı toplam net puanınızı verecektir.
10. Sınav bitiminde, soru kitapçığını salon görevlilerine teslim ediniz.
11. Sınav sırasında çanta, cep telefonu, saat, kablosuz iletişim sağlayan cihazlar ve kulaklık, kolye, küpe, bilezik, yüzük, broş ve benzeri eşyalar ile her türlü elektronik ve/veya mekanik cihazları yanınızda bulundurmuyunuz. Bu araçları yanınızda bulundurmanız ve kopya çekmeye teşebbüs etmeniz hâlinde sınavınız geçersiz sayılacaktır.
12. Soru kitapçığınızı sınav süresince hiçbir öğrencinin göremeyeceği şekilde önünüzde bulundurunuz.
13. Sınavınızın değerlendirilmesi aşamasında, toplu kopya tespiti veya başka adayın sınav evrakını kullanmanız durumunda sınavınız geçersiz sayılacaktır.
14. Soruları ve sorulara verdiğiniz cevapları kaydetmeyiniz, hiçbir şekilde dışarı çıkarmayınız.
15. İlk 15 dakika dışarı çıkılmayacaktır.
16. Sınav evraklarını teslim etmeyenlerin sınavı geçersiz sayılacaktır.

SINAV GÖREVLİLERİNCE SINAV BAŞLAMADAN ÖNCE ÖĞRENCİLERE YAPILACAK SON UYARI!

- Soracağınız bir şey var mı? Varsa, şimdi sorunuz.
- Sınav başladıktan sonra sorularınıza cevap verilmeyecektir.
- Başlama zilini bekleyiniz.

Hepinize başarılar dileriz.

(Sınav görevlisi başlama ve bitiş saatini tahtaya yazacaktır.)

Bu kitapçığın her hakkı saklıdır. Hangi amaçla olursa olsun, kitapçığın tamamının veya bir kısmının Millî Eğitim Bakanlığı Ölçme, Değerlendirme ve Sınav Hizmetleri Genel Müdürlüğü'nün yazılı izni olmadan kopya edilmesi, fotoğraflarının çekilmesi, bilgisayar ortamına alınması, herhangi bir yolla çoğaltılması, yayımlanması veya başka bir amaçla kullanılması yasaktır. Bu yasağa uymayanlar, doğabilecek cezai sorumluluğu ve kitapçığın hazırlanmasındaki mali külfeti peşinen kabullenmiş sayılır.

**4 HAZİRAN 2017 TARİHİNDE YAPILAN TED ANKARA KOLEJİ VAKFI
ÖZEL İLKOKULU VE ORTAOKULU SEÇME SINAVI
2. SINIFLAR “A” KİTAPÇIĞI CEVAP ANAHTARI**

TÜRKÇE	MATEMATİK	HAYAT BİLGİSİ
1. A	1. A	1. B
2. B	2. A	2. A
3. C	3. C	3. C
4. C	4. C	4. B
5. C	5. B	5. A
6. A	6. A	6. C
7. A	7. C	7. A
8. B	8. B	8. A
9. C	9. B	9. B
10. C	10. A	10. A
11. A	11. B	11. B
12. A	12. B	12. C
13. C	13. C	13. C
14. A	14. B	14. B
15. B	15. A	15. C
16. B	16. A	16. B
17. A	17. C	17. A
18. B	18. B	18. B
19. C	19. C	19. A
20. B	20. B	20. C