

O-1



**T.C.
MİLLÎ EĞİTİM BAKANLIĞI
ÖLÇME, DEĞERLENDİRME VE SINAV HİZMETLERİ
GENEL MÜDÜRLÜĞÜ**

T

**AÇIK ÖĞRETİM ORTAOKULU
2015-2016 ÖĞRETİM YILI 2. DÖNEM SINAVI
1. OTURUM: 20 MART 2016 Saat: 10.00**

<u>DERSLER</u>	<u>SAYFA</u>	<u>DERSLER</u>	<u>SAYFA</u>
(501) TÜRKÇE – 5	2	(701) TÜRKÇE – 7	16
(502) MATEMATİK – 5	3	(702) MATEMATİK – 7	19
(503) FEN BİLİMLERİ – 5	5	(703) FEN VE TEKNOLOJİ – 7	21
(604) SOSYAL BİLGİLER – 6	8	(806) T.C. İNK. TAR. VE ATATÜRK. – 8	23
(607) İNGİLİZCE – 6	10	(807) İNGİLİZCE – 8	25
(607) ALMANCA – 6	11	(807) ALMANCA – 8	27
(607) FRANSIZCA – 6	13	(807) FRANSIZCA – 8	28
(608) DİN KÜL. VE AHLAK BİLGİSİ – 6	14	(808) DİN KÜL. VE AHLAK BİLGİSİ – 8	30

ADAYLARIN DİKKATİNE!

- Her ders için **20** soru bulunmaktadır. Bu oturumda **150** dakikalık cevaplama süreniz vardır. Sınav başladıktan sonra ilk **30** dakika dolmadan dışarı çıkmayınız.
- Sınav sırasında sözlük, hesap cetveli veya makinesi, çağrı cihazı, cep telefonu, telsiz, radyo gibi elektronik iletişim araçlarını yanınızda bulundurmayınız. Bu araçları kullanmanız ve kopya çekmeye teşebbüs etmeniz hâlinde sınavınız geçersiz sayılacaktır.
- Başvuru şartlarını taşımadığınız hâlde sınava girmeniz, kopya çekmeniz, başka adayın sınav evrakını kullanmanız, geçerli kimlik belgenizi ve sınav giriş belgenizi ibraz edemediğiniz durumlarda sınavınız geçersiz sayılacaktır.
- Sınavın değerlendirilmesi aşamasında, bilgisayar ortamında yapılan kopya analizinde ikili veya toplu kopya tespiti hâlinde sınavınız geçersiz sayılacaktır.

CEVAP KÂĞIDI VE SORU KİTAPÇIĞI İLE İLGİLİ AÇIKLAMALAR

- Cevap kâğıdınızdaki bilgilerin doğruluğunu kontrol ediniz ve cevap kâğıdınızı mürekkepli kalemle imzalayınız.
- Cevap kâğıdı üzerinde kodlamalarınızı kurşun kalemle yapınız.
- Değiştirmek istediğiniz bir cevabı, yumuşak silgiyle cevap kâğıdını örselemeden temizce siliniz ve yeni cevabınızı kodlayınız.
- Soru kitapçığının sayfalarını kontrol ediniz, baskı hatası var ise değiştirilmesini sağlayınız.
- Soruların çözümü için size ayrıca boş kâğıt verilmeyecektir. Soru kitapçığının içindeki boş alanları soru çözümleri için kullanabilirsiniz.
- Her sorunun dört seçeneğinden sadece biri doğrudur. Doğru seçeneği, cevap kâğıdınızın ilgili sütununa soru numarasını dikkate alarak yuvarlağın dışına taşırmadan kodlayınız. **Soru kitapçığı üzerinde yapılan cevaplandırmalar dikkate alınmayacaktır.**
- Cevaplamaya istediğiniz dersin sorusundan başlayabilirsiniz. Cevabını bilmediğiniz sorular üzerinde fazla zaman kaybetmeden diğer sorulara geçiniz. Zamanınız kalırsa bu sorulara daha sonra dönebilirsiniz.
- Yanlış cevaplarınız dikkate alınmadan sadece doğru cevaplarınız üzerinden puanlama yapılacaktır.
- Soruları ve sorulara verdiğiniz cevapları, yanınızda götürmek amacıyla kaydetmeyiniz; hiçbir şekilde dışarı çıkarmayınız.
- Sınav bitiminde, soru kitapçığı ve cevap kâğıdını salon görevlilerine teslim ediniz.**

BAŞLAYINIZ DENİLMEDEN SORU KİTAPÇIĞINI AÇMAYINIZ.

1. OTURUM

(501) TÜRKÇE – 5

1. “r,h,a,i,l,b,e,k,c,i” harflerinin tümü kullanılarak aşağıdaki kelimelerden hangisi yazılır?

- A) haberlilik B) haberci
C) habersizce D) habercilik

2. Aşağıdaki kelimelerden hangisi hecelerine doğru ayrılmıştır?

- A) limon-a-ta B) al-ış-kan-lık
C) or-ta-lık D) bay-an-lar

3. Aşağıdaki cümlelerin hangisinde “sıcak” kelimesi mecaz anlamıyla kullanılmıştır?

- A) Ev sahibi, misafirlerini sıcak karşılamış.
B) Bu sıcakta bir şeyler içmeden çalışılmıyor.
C) Bana sıcak, limonlu bir çorba içirdi.
D) Burası bir makine dairesi kadar sıcaktı.

4. “Boş-dolu” kelimeleri arasındaki anlam ilişkisi aşağıdakilerin hangisinde vardır?

- A) Toz – toprak B) İnce – kalın
C) Çocuk – büyük D) Dil – din

5. Çocuk çalışmaktan iğne ipliğe döndü.

Bu cümledeki deyimın anlamı aşağıdakilerden hangisidir?

- A) fazla üzüntülü olmak
B) düşünceli olmak
C) çok zayıflamış olmak
D) hastalanmış olmak

6. “İyilik yerde kalmaz. Bunu iyilik yapılan takdir etmese bile Allah takdir eder ve bizi bir şekilde ödüllendirir.” anlamına gelen atasözü aşağıdakilerden hangisidir?

- A) İyilik eden iyilik bulur.
B) İyilik et denize at, balık bilmezse Halik bilir.
C) İyilik iki baştan olur.
D) Kötülük her kişinin kârı, iyilik er kişinin kârı.

7. “Koru durumunda olan sık ağaçlı yer” anlamına gelen bir kelime türetmek için “koru” kelimesine aşağıdaki eklerden hangisi eklenmelidir?

- A) -cu B) -lu
C) -suz D) -luk

8. Bugün markete gidemedim - - - -

Bu cümle aşağıdakilerden hangisiyle tamamlanırsa sebep-sonuç bildirmez?

- A) çünkü hava yağışlıydı.
B) dolayısıyla yemek yapamadım.
C) bu yüzden canım çok sıkkın.
D) ama gitmeyi çok istiyordum.

9. (1) O gün, sabahleyin erkenden uyanmıştım. (2) İçimde inanılmaz bir yazma isteği belirmişti. (3) Yazı âdeta parmaklarımın ucundan damla gibi dökülüyordu. (4) Düşündüklerimi üzerine geçirecek kâğıt parçası aramaya başladım.

Bu metinde numaralanmış cümlelerin hangisinde benzetme yapılmıştır?

- A) 1. B) 2. C) 3. D) 4.

10. Aşağıdaki cümlelerin hangisi öznel bir yargı belirtir?

- A) Bence insanın başını ağrıtan bu havalardır.
B) Burdan memleketine uçakla daha çabuk gidersin.
C) Tören saat 9’da okul bahçesinde yapılacaktı.
D) Bu oda evimizin en büyük odasıdır.

11. 1. cephanede

2. yıkıldı
3. arkadaşının
4. dünyası
5. kaldığını
6. duyunca

Yukarıda numaralanmış kelimelerle anlamlı ve kurallı bir cümle oluşturmak için sıralama nasıl olmalıdır?

- A) 2-4-3-1-5-6 B) 3-1-2-4-6-5
C) 3-1-5-6-4-2 D) 6-1-3-4-5-2

1. OTURUM

12. Amcası birkaç gün önce uğramıştı yanına.

Bu cümlede aşağıdaki sorulardan hangisinin cevabı yoktur?

- A) Kim? B) Niçin?
C) Nereye? D) Ne zaman?

13. Hoş geldin, safa geldin bahar!

Sen geldiğin için çiçek açtı
Bahçelerde tüm ağaçlar.
Leylekler yuvaya döndü
Toprak ısındı, uyandı karıncalar
Çoluk çocuk yollara döküldü...

Bu dizelerde üzerinde durulan konu aşağıdakilerden hangisidir?

- A) Bahar mevsiminin gelişi
B) Kuşların yuva yapması
C) Ağaçların çiçek açması
D) Çocukların oyun sevinci

14. Neriman, iş çıkışı çantasındaki esans şişesini doldurmak amacıyla mağazaya girdi. İçerisi hem tıklım tıklım hem sessizdi. Neriman mağazalarda ki bu sessizliğe şaşıyordu.

Bu metinde aşağıdaki hikâye unsurlarından hangisi yoktur?

- A) Yardımcı karakter B) Yer
C) Zaman D) Ana karakter

15. “Öyle uzun yaşamışlar var ki aslında pek az yaşamışlardır.” cümlesinde anlatılmak istenen asıl düşünce aşağıdakilerden hangisidir?

- A) Doya doya yaşamak için uzun bir hayata ihtiyaç vardır.
B) Hayata iyi ya da kötü anlamlarını biz yükleriz.
C) Geçmişe takılmamalı, yaşadığımız anın tadını çıkarmalıyız.
D) Hayatın değeri uzun yaşanmasında değil, iyi yaşanmasındadır.

16. Aşağıdaki kelimelerden hangisi aldığı ek nedeniyle yeni bir anlam kazanmamıştır?

- A) Kuşlar B) Tatlı
C) Arabacı D) Çiçeklik

17. Aşağıdaki altı çizili kelimelerden hangisi bir varlığı nitelememiştir?

- A) Kızlar yuvarlak masanın etrafında toplanmıştı.
B) Odasının her yeri sarı güllerle doluydu.
C) Işıklı sokaklarda yağmur altında yürümüştük.
D) Herkes üzerine düşen görevi yapmalıydı.

18. Aşağıdaki altı çizili kelimelerden hangisi “biten bir eylem”i ifade eder?

- A) Mektubunu aç da okuyalım.
B) Toplantıya tüm memurlar katıldı.
C) Bize gelirsen birlikte yemek yeriz.
D) Gelecek günler çok güzel olacak.

19. Aşağıdaki cümlelerin hangisinde “-mı/mi”nin yazımıyla ilgili bir yanlışlık yapılmıştır?

- A) Sinemaya gidecek miydiniz?
B) Bu su hiç içilmez mi?
C) Dal, çocuklar tarafından mı kırılmış?
D) Eve akşama kadar döner mi?

20. Aşağıdaki cümlelerin hangisinin sonuna soru işareti konmalıdır?

- A) Olayın böyle sonuçlanacağını nerden bildin
B) Onu aklımdan niye çıkaramadığımı anlayamıyorum
C) Nereye gideceğine bir türlü karar veremedi
D) Arkadaşına hangi otobüsle gideceğini bilmiyordu

(502) MATEMATİK – 5

1. 123654 sayısında 2’nin basamak değeri 1 arttırılır, 3’ün basamak değeri 1 azaltılırsa sayının değeri kaç artar?

- A) 9 B) 90 C) 900 D) 9000

2. Cenk 300 sayfalık bir kitabın her gün 20 sayfasını okumaktadır. Buna göre 8 günün sonunda Cenk’in okuması gereken kaç sayfa kalır?

- A) 120 B) 140 C) 180 D) 200

1. OTURUM

3. Ahmet Bey 48 yaşındadır. Oğlundan 27 yaş büyük olduğuna göre Ahmet Bey ile oğlunun yaşları toplamı kaçtır?

A) 69 B) 67 C) 65 D) 63

4. $2^3 + 5^2$ işleminin sonucu kaçtır?

A) 16 B) 18 C) 25 D) 33

5. Aşağıdaki kesirlerden hangisi $\frac{1}{2}$ kesrine denktir?

A) $\frac{4}{6}$ B) $\frac{3}{6}$ C) $\frac{2}{8}$ D) $\frac{1}{6}$

6. Tablo: Davette İçilen İçeceklerin Sayıları

İçecek türü	İçecek sayısı
Ayran	+++
Kahve	
Meyve suyu	+++
Su	+++ +++

Yukarıdaki tabloda bir davette içilen içeceklerin türleri ile sayıları verilmiştir. Tabloya göre su içenlerin sayısı kahve içenlerin sayısından kaç fazladır?

A) 5 B) 6 C) 7 D) 8

7. $2\frac{1}{3}$ kesrinin bileşik kesir olarak gösterilişi aşağıdakilerden hangisidir?

A) $\frac{7}{3}$ B) $\frac{4}{3}$ C) $\frac{3}{3}$ D) $\frac{6}{7}$

8. 0,324 ondalık gösteriminde 2'nin basamak değeri kaçtır?

A) 2 B) 0,2 C) 0,02 D) 0,002

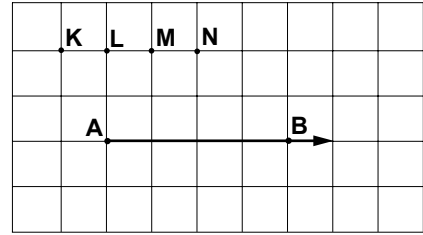
9. Aşağıdaki ondalık gösterimlerden hangisi en büyüktür?

A) 15,3 B) 15,12 C) 15,241 D) 15,278

10. Bir memur maaşının $\frac{1}{4}$ 'ini ev kirasına ayırmıştır. Bu memurun ev kirası maaşının yüzde kaçıdır?

A) 10 B) 15 C) 20 D) 25

- 11.



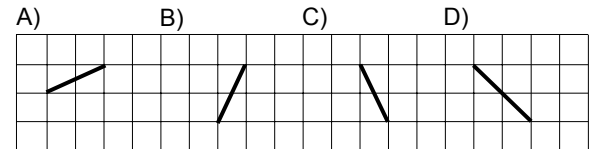
Yukarıdaki kareli zeminde verilen noktalardan hangisi A noktası ile birleştirilirse dik açı oluşur?

A) N B) M C) L D) K

12. Bir dikdörtgenin uzun kenarının uzunluğu, kısa kenarının uzunluğundan 2 cm fazladır. Bu dikdörtgenin kısa kenarının uzunluğu 3 cm olduğuna göre çevresi kaç santimetredir?

A) 18 B) 16 C) 14 D) 12

13. Aşağıda kareli zeminde verilen doğru parçalarından hangisinin uzunluğu diğerlerinden farklıdır?

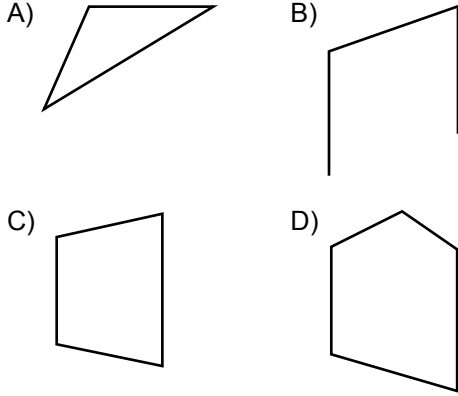


14. Aşağıda kenar uzunlukları verilen dikdörtgenlerden hangisinin alanı diğerlerinden farklıdır?

A) 3 cm, 8 cm B) 4 cm, 6 cm
C) 2 cm, 12 cm D) 12 cm, 12 cm

1. OTURUM

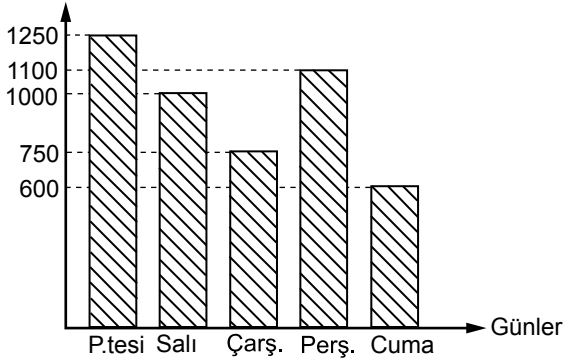
15. Aşağıdaki geometrik şekillerden hangisi bir çokgen değildir?



16. Dikdörtgenler prizmasının kaç köşesi vardır?

- A) 4 B) 6 C) 8 D) 10

17. **Grafik: Günlere Göre Satılan Döner Sayısı**
Satılan Döner Sayısı



Yukarıda verilen grafik bir restoranda günlere göre satılan döner sayısını göstermektedir. Buna göre beş gün boyunca restoranda satılan döner sayısı kaçtır?

- A) 4700 B) 4600 C) 4500 D) 4400

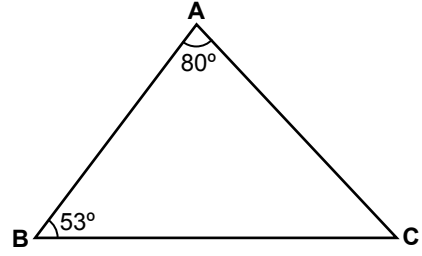
18. Tamamı su ile dolu bir depodaki suyun önce $\frac{1}{2}$ 'i daha sonra $\frac{1}{4}$ 'i kullanılmıştır. Buna göre bu depodaki suyun kaçta kaç kullanılmıştır?

- A) $\frac{1}{6}$ B) $\frac{2}{3}$ C) $\frac{3}{4}$ D) $\frac{5}{6}$

19. İrem saat 17:37'de ders çalışmaya başlamıştır. İrem hiç ara vermeden 1 saat 30 dakika çalıştığına göre, ders çalışmayı bıraktığında saat kaçtır?

- A) 18:07 B) 19:07 C) 19:27 D) 20:17

20.

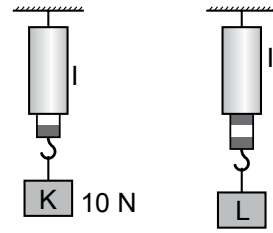


Şekilde verilen ABC üçgenine göre $m(\hat{C})$ kaç derecedir?

- A) 47 B) 49 C) 51 D) 53

(503) FEN BİLİMLERİ – 5

1. Şekildeki özdeş dinamometrelerle yapılan ölçümlerde I. dinamometre 10 N'u göstermektedir.



Buna göre II. dinamometre hangi değeri gösterir?

- A) 10 N B) 15 N C) 20 N D) 25 N

2. 5 yaşındaki Mert, üç tekerlekli bisikletini evin değişik yerlerinde kullanmıştır.

Aşağıdakilerden hangisinde bisikleti kullanırken daha çok zorlanmıştır?

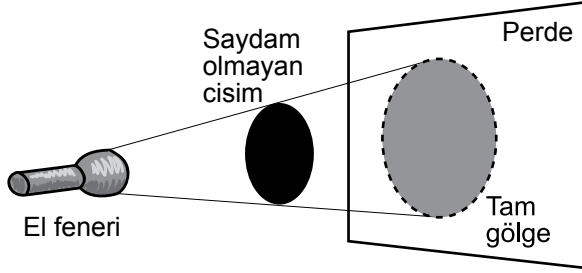
- A) Parke döşemede B) Fayans döşemede
C) Halının üstünde D) Düz betonda

3. Aşağıdakilerden hangisi saydam maddeye örnek olmaz?

- A) Cam B) Su
C) Hava D) Yağlı kağıt

1. OTURUM

4. El feneri ile saydam olmayan bir cisme şekildeki gibi ışık tutan öğrenci tam gölge oluşumunu gözlemlemiştir.



Tam gölgenin daha büyük olması için aşağıdakilerden hangisini yapmalıdır?

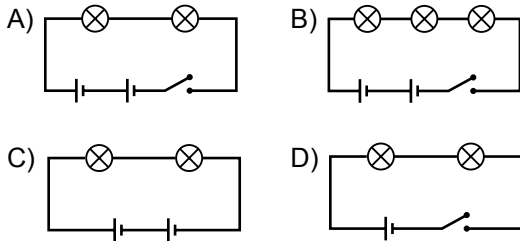
- A) Cismi ışık kaynağından uzaklaştırmalı
B) Perdeyi cisimden uzaklaştırmalı
C) Cismi perdeye yaklaştırmalı
D) Perdeyi cisme yaklaştırmalı

5. Mehmet: Canlı ve cansız varlıklar ses üretebilir.
İrem: Ses titreşimlerden oluşur.
Sibel: Sesin yayılması için maddesel ortama ihtiyaç vardır.
Mert: Ses gazlarda yayılmaz.

Dört arkadaş kendi aralarında ses ile ilgili görüşlerini paylaşmaktadır. Bunlardan hangisi yanlış bir fikri desteklemektedir?

- A) Mehmet
B) Sibel
C) İrem
D) Mert

6. İki lamba, iki pil ve bir açık anahtardan oluşan devre aşağıdakilerden hangisidir?



7. Aşağıdakilerden hangisi elektrik devresindeki ampulün parlaklığını artırır?

- A) Devreye bir pil daha bağlanması
B) Devreye bir ampul daha bağlanması
C) Devreden anahtar çıkarılması
D) Devreden pil çıkarılması

8. I. Yer kabuğu kayaç, kaya ve topraktan oluşur.
II. Kayaç, ateş küredeki magmanın yer kabuğuna yerleşmesi şeklinde veya yer yüzeyine çıkıp soğumasıyla oluşur.
III. Kayaçlar toprak tabakasından farklı olarak daha yumuşaktır.

Kayaçlarla ilgili verilen bilgilerden hangileri doğrudur?

- A) Yalnız I
B) I ve II
C) II ve III
D) I, II ve III

9. Yer altı ve yer üstü suları ile ilgili verilen aşağıdaki bilgilerden hangisi yanlıştır?

- A) Yeryüzündeki suyun % 97'si tatlıdır.
B) Yeryüzündeki tatlı suyun ancak % 1'i canlılar tarafından kullanılır.
C) Yer üstü su kaynakları, okyanuslar, denizler, göller ve akarsulardır.
D) Yer altı su kaynakları soğuk ve sıcak olarak ikiye ayrılır.

10. Sabah uyandıktan sonra yüzümüzü yıkadığımızda, yüzümüzü kurulamasak bile bir süre sonra kendiliğinden kurur. Bu olayın nedeni hangisi olabilir?

- A) Suyun ısı vererek donması
B) Suyun ısı alarak buharlaşması
C) Suyun yoğuşması
D) Suyun zamanla damlayarak düşmesi

11. I. Yüksek ısılarda mükemmel temizlik yapılır.
II. Doktor, Eray'ın vücut ısını ölçtü.
III. Ankara'da hava sıcaklığı 15°C olarak ölçüldü.

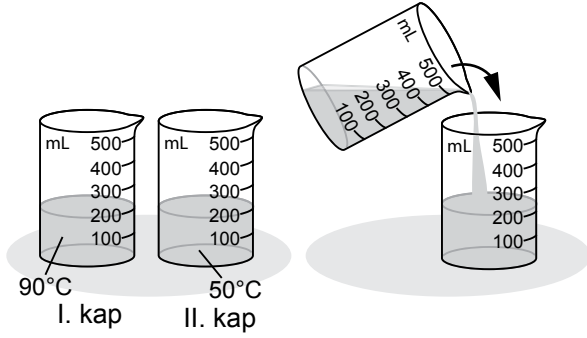
Isı ve sıcaklık farklı kavramlar olmasına rağmen günlük hayatta bazen yanlışlıkla birbirlerinin yerine kullanılmaktadır.

Yukarıda verilen ifadelerden hangilerinde bu kavramlar yanlış kullanılmıştır?

- A) I ve II
B) I ve III
C) II ve III
D) I, II ve III

1. OTURUM

12.



50°C, 200 mL sıvıyı aynı miktarda 90°C sıvı ilave ediliyor.

Bu deneye göre aşağıda verilen ifadelerden hangisi yanlıştır?

- A) Sıvılar arasında ısı alış veriş olmuştur.
- B) Son sıcaklık 90°C ile 50°C arasındadır.
- C) I. kaptaki sıvı, II. kaptaki sıvıya ısı vermiştir.
- D) Sıvıların ısıları eşitleninceye kadar ısı alış veriş devam etmiştir.

13. Aşağıdaki olayların hangisi ısı alarak oluşan genleşmeye örnektir?

- A) Yazın elektrik tellerinin sarkması
- B) Buzdolabına konulan suyun donması
- C) Su buharının soğuk havada katılaşmasıyla kırağı oluşumu
- D) Termometrenin içindeki sıvının azalması

14. Aşağıdakilerden hangisi “pasif içici” kişinin tanımıdır?

- A) Arada sırada sigara içen
- B) Sigara tiryakisi olan
- C) Sigara içmeyi, sigara içilen ortamda bulunan
- D) Sigara tiryakisi iken sigara içmeyi bırakan

15. Vitaminlerle ilgili aşağıdaki bilgilerden hangisi yanlıştır?

- A) Sebze ve meyveler vitamin bakımından zengindir.
- B) Vücut direncinin artmasında etkilidirler.
- C) Vücutta düzenleyici olarak görev yaparlar.
- D) Vücudun tüm enerji ihtiyacını karşılarlar.

16. I. Sindirim ağızda başlar.
II. Mide çalkalama hareketleri yaparak besinleri bulamaç haline getirir.
III. Besinlerin hepsi kalın bağırsakta yapı birimlerine ayrılır ve kana geçer.

Sindirim sistemi organları ve görevleriyle ilgili verilen bilgilerden hangileri doğrudur?

- A) I ve II B) I ve III C) II ve III D) I, II ve III

17. Böbreklerimizin sağlığını korumak için aşağıdakilerden hangisi yapılmamalıdır?

- A) Aşırı tuzlu ve baharatlı yiyeceklerden uzak durulmalıdır.
- B) İdrar atılırken ağrı hissediliyorsa mutlaka doktora gidilmelidir.
- C) Bol su ve sıvı içmekten kaçınılmalıdır.
- D) Vücudun özellikle bel bölgesi ısıtılmemelidir.

18. Aşağıdakilerden hangisi omurgasız hayvanlar grubunda yer alır?

- A) Alabalık B) Kurbağa
C) Kertenkele D) Örümcek

19. Mantarlar ile ilgili verilen bilgilerden hangisi doğrudur?

- A) Bitkiler gibi yaprak ve çiçekleri vardır.
- B) Kendi besinlerini kendileri yaparlar.
- C) Nemli, loş, ılık ortamlar mantarlar için idealdir.
- D) Mantarların hepsi canlılar için besin kaynağıdır.

20. Ormanların tahrip edilmesi aşağıdakilerden hangisine neden olmaz?

- A) Bazı bitki türlerinin sayıca azalmasına
- B) Birçok hayvan neslinin tükenmesine
- C) Oksijen kaynaklarımızın azalmasına
- D) Hava kirliliğinin azalmasına

1. OTURUM

(604) SOSYAL BİLGİLER – 6

1. Atatürk'ün "Ülkesini, yüksek bağımsızlığını korumasını bilen Türk milleti, dilini de yabancı diller boyunduruğundan kurtarmalıdır." sözü doğrultusunda kurulan kurum, aşağıdakilerden hangisidir?

A) Dil Derneği
B) Türk Dil Kurumu
C) Türk Tarih Kurumu
D) Türk Standartları Enstitüsü

2. Ölçeklerle ilgili aşağıdaki bilgilerden hangisi yanlıştır?

A) Haritada küçültme oranına ölçek denir.
B) Ölçeğin payındaki rakam sabit ve 1'dir.
C) Kesir ve çizgi olmak üzere iki çeşit ölçek vardır.
D) Ölçeğin paydasındaki rakam küçüldükçe ölçekte küçülür.

3. "Avrasya Kıtası", aşağıdaki hangi iki kıtanın birleşiminden oluşan bir kıtadır?

A) Avrupa ile Afrika'nın
B) Asya ile Afrika'nın
C) Avrupa ile Asya'nın
D) Kuzey Amerika ile Asya'nın

4. İnsanlar tarih öncesi devirlerde ilk yerleşim yerlerini kurarken, aşağıdakilerden hangisine dikkat etmemişlerdir?

A) Ticaret yollarına yakın olmasına
B) Yenilebilen bitkilere kolayca ulaşılabilmesine
C) Tarım için sulak ve verimli toprakların bulunmasına
D) Vahşi hayvanlara karşı korunmaya elverişli olmasına

5. Dünya'nın şekline verilen isim, aşağıdakilerden hangisidir?

A) Küre
B) Geoit
C) Okyanusya
D) Yarımküre

6.

Frigyalılar	→	Başkentleri Polatlı yakınlarındaki Gordion'dur.
Sümerler	→	Yazıyı icat ettiler.
-- ? --	→	Parayı ilk defa onlar kullandılar.
Hititler	→	Tarihte ilk yazılı antlaşmayı imzaladılar.





Verilen eşleştirme tablosundaki boş yer, aşağıdakilerden hangisiyle tamamlanmalıdır?

A) Urartular
B) Lidyalılar
C) Asurlular
D) İyonyalılar

7. Aşağıda ilk Türk devletlerine ait bazı bilgiler sembollerle verilmiştir:

	=	Tarihte bilinen ilk Türk devletidir.
	=	Yerleşik hayata geçen ilk Türk devletidir.
	=	Avrupa'da kurulan ilk Türk devletidir.
	=	Tarihte "Türk" adıyla kurulan ilk Türk devletidir.

Buna göre Kök Türklere ait bilgi hangi sembolle gösterilmiştir?

A) 	B) 
C) 	D) 

8. Bir yerdeki atmosfer olaylarının uzun yıllar gösterdiği ortalama durum, aşağıdaki kavramlardan hangisiyle ifade edilir?

A) Tropikal kuşak
B) Hava durumu
C) Hava olayı
D) İklim

1. OTURUM

9. Anadolu’da kurulan ilk uygarlık, aşağıdakilerden hangisidir?

- A) Urartular B) Lidyalılar
C) Frigler D) Hititler

10. MS 1071 yılının yüzyıl olarak okunuşu, aşağıdakilerin hangisinde doğru verilmiştir?

- A) 10. yüzyılın ikinci çeyreği
B) 10. yüzyılın üçüncü çeyreği
C) 11. yüzyılın üçüncü çeyreği
D) 11. yüzyılın ilk çeyreği

11. Bilge Kağan, Kültigin ve Vezir Tonyukuk adına dikilen anıtlar günümüzde aşağıdaki hangi ülkenin sınırları içerisinde?

- A) Sovyetler Birliği B) Moğolistan
C) Kırgızistan D) Çin

12. Müslümanlar hicretten sonra Mekkeli müşriklerle ilk hangi savaşta karşı karşıya gelmiştir?

- A) Uhut B) Bedir C) Talas D) Hendek

13. Hz. Ali’nin şehit edilmesinden sonra Halifelik makamına, aşağıdakilerden hangisi geçmiştir?

- A) Muaviye B) Hz. Hüseyin
C) Harun Reşid D) Tarık bin Ziyad

14. “Samanoğullarının Herat Valisi - - - - tarafından Gazne şehri başkent olmak üzere Gazne Devleti kurulmuştur.”

Verilen bilgi cümlesinin doğru olabilmesi için boş bırakılan yere, aşağıdakilerden hangisi yazılmalıdır?

- A) Yusuf Kadir Han B) Sultan Mahmut
C) Sultan Mesut D) Alp Tigin

15. Aşağıdakilerden hangisi Türkiye’de tarımı destekleyen kuruluşlar arasında sayılamaz?

- A) Etibank
B) Ziraat Bankası
C) Zirai Donatım Kurumu
D) Toprak Mahsulleri Ofisi

16. Ülkemizin aşağıdaki kaynaklarından hangisi “Bacasız sanayi” olarak da adlandırılır?

- A) Bankacılık B) Otomotiv
C) Turizm D) Eğitim

17. Aşağıdakilerden hangisi dünyanın nüfuslanmamış yerlerinden biri değildir?

- A) Çöller B) Sibiry
C) Antarktika D) Su yüzeyleri

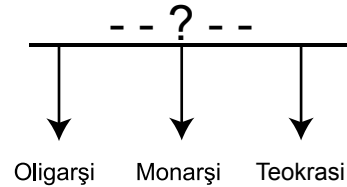
18. Türk cumhuriyetlerinin kalkındırılması, kültürel ilişkilerin artırılması için kurulan kuruluşun kısa adı, aşağıdakilerden hangisidir?

- A) NATO B) AKUT
C) GAP D) TİKA

19. Atatürk’ün manevi kızı ve dünyanın ilk kadın savaş pilotu, aşağıdakilerden hangisidir?

- A) Sabiha Gökçen B) Türkan Akyol
C) Müfide İlhan D) Gül Esin

20.



Verilen şemaya en uygun başlık, aşağıdakilerden hangisidir?

- A) DEMOKRASİNİN TANIMI
B) DEMOKRASİNİN YARARLARI
C) DEMOKRASİNİN TARİHİ GELİŞİMİ
D) DEMOKRASİ DIŞINDAKİ YÖNETİMLER

1. OTURUM

(607) İNGİLİZCE – 6

1 - 20. sorularda boş bırakılan yere uygun gelen kelime ya da ifadeyi işaretleyiniz.

1. - - - - name is Fatma.

- A) His B) Her C) Our D) Their

2. A: What is your - - - - ?
B: I'm Turkish.

- A) nationality B) engineer
C) country D) number

3. A: Are you a student?
B: Yes, - - - - .

- A) my name is Mehmet
B) we are policemen
C) you are a dentist
D) I am a student

4. A: Is - - - - your umbrella?
B: No, it isn't.

- A) those B) their
C) they D) this

5. I am - - - - than my sister. She weighs 45 kilos but I weigh 60.

- A) taller B) bigger C) heavier D) thinner

6. Those two - - - - are my aunts.

- A) women B) men
C) cities D) knives

7. A: What colour are your shoes?
B: - - - - .

- A) It is blue B) We like red
C) They are black D) That is yellow

8. Who - - - - a car?

- A) has got B) have
C) can D) do

9. A: How - - - - sisters have you got?
B: Only one.

- A) some B) much C) many D) any

10. A: - - - - has got blue eyes in your family?
B: My brother has got blue eyes.

- A) Why B) Who C) When D) What

11. A: - - - - pencil is that?
B: It is mine.

- A) Who B) When C) Where D) Whose

12. A: Where is the stadium?
B: It is - - - - the cinema.

- A) in B) at
C) next to D) between


13. - - - - money have you got?

- A) How many B) How much
C) What D) When

14. Be quiet, please. He is - - - - his homework now.

- A) doing B) sitting C) driving D) singing

15.



There is a ball - - - - the car.

- A) in front of B) between
C) under D) on

1. OTURUM


16. Gina is one year old. She - - - - run very fast.

- A) don't B) must C) shall D) can't

17. There are two - - - - of milk in the kitchen.

- A) baskets B) bottles
C) loaves D) bars

18.



A: What time is it?

B: - - - - .

- A) It is ten o'clock
B) It is four o'clock
C) It is twenty past ten
D) It is ten past twelve

19. A: - - - - Sarah get up early in the mornings?

B: Yes, she always gets up early in the mornings.

- A) Do B) Does C) Have D) Has

20. A: Do you have any plans for tomorrow?

B: - - - - .

- A) It is going to rain soon
B) I'm reading a book now
C) I'm going to go to cinema
D) She is going to give a party

(607) ALMANCA – 6

1 - 18. sorularda boş bırakılan yere uygun gelen kelime ya da ifadeyi işaretleyiniz.

1. A: Was möchtest du gerne - - - -?

B: Eine Limonade, bitte.

- A) trinken B) essen
C) trinkst D) isst

2. A: Was ist - - - - Beruf?

B: Sie ist Krankenschwester.

- A) er B) sie C) ihr D) ihm

3. A: - - - - du aus Istanbul?

B: Nein, ich - - - - aus Ankara.

- A) Kommen / kommt B) Kommst / komme
C) Kommt / kommst D) Komme / kommen

4. A: Hallo Heike. Wer ist - - - -?

B: Mehmet.

- A) du B) ich C) sie D) er

5. Ich - - - - gerne Basketball.

- A) spiele B) spielst C) spielt D) spielen

6.



A: Wie ist das Wetter?

B: Es - - - - .

- A) ist sonnig B) regnet
C) schneit D) ist neblig

1. OTURUM

7. A: - - - - ist Susanne?

B: 15.

A) Wer B) Wie alt C) Was D) Wohin

8. A: - - - - du Hunger?

B: Nein, ich habe kein Hunger.

A) Habe B) Hat C) Hast D) Haben

9. elf, - - - -, dreizehn

A) neunzehn B) vierzehn
C) zehn D) zwölf

10.



Das ist - - - - Blume.

Das sind - - - -.


A) ein / Blume B) einer / Blumen
C) eine / Blumen D) eine / Blume

11. A: - - - -?

B: Meine Mutter ist Serpil.

A) Wer ist deine Mutter?
B) Wo ist deine Mutter?
C) Wie ist deine Mutter?
D) Wo wohnt deine Mutter?

12.



A: Wie spät ist es?

B: Es ist - - - -.

A) neun Uhr B) halb neun
C) zehn Uhr D) halb zehn

13. Wir - - - - Deutsch in der Schule.

A) lernen B) spielen
C) arbeiten D) schlafen

14. A: - - - - gehst du nach Hause?

B: Um 14 Uhr.

A) Wer B) Wo C) Warum D) Wann

15. A: - - - - er krank?

B: Ja, er - - - - krank.

A) Sein / bist B) Ist / ist
C) Bist / bin D) Hat / ist

16. A: - - - - ich mit dir tanzen?

B: Ja, gerne.

A) Kannst B) Können
C) Kann D) Könnt

17.



A: Wo ist der Ball?

B: Er ist - - - - dem Baum.

A) auf B) über
C) zwischen D) neben

18. Wie heiß- - - - - er?

A) -en B) -t C) -e D) -

19.



Was ist das?

A) Wanduhr B) Radio
C) Schrank D) Bild

1. OTURUM

20. "Neunundzwanzig" in sayı şekli aşağıdakilerden hangisidir?

- A) 9 B) 19 C) 29 D) 39

(607) FRANSIZCA – 6

1-13. sorularda boş bırakılan yere uygun gelen kelime ya da ifadeyi işaretleyiniz.

1. Elle est - - - .

- A) turc B) allemand
C) turque D) français

2. A: Il a - - - ?

B: Il a douze ans.

- A) quel âge B) pourquoi
C) quelle D) comment

3. A: - - - - ça va?

B: Très bien, merci. Et toi?

- A) Quelle B) Parce que
C) Pourquoi D) Comment

4. A: Tu es mariée?

B: Oui, je suis - - - . J'ai deux filles.

- A) célibataire B) mariée
C) veuve D) belle

5. - - - - est la tour de Pise?

- A) Quand B) Ou
C) Combien D) Où

6. Dans les pâtisseries, on vend - - - .

- A) des fruits B) des légumes
C) des médicaments D) des gâteaux

7. A: Eray aime le café au lait?

B: Non, il - - - - le café au lait.

- A) a aimé B) ne pas aimer
C) n'aime pas D) aimer

8. Pauline : - - - - est-ce que tu bois du jus d'orange?

Pierre : Parce que j'ai très soif.

- A) Comment B) Pourquoi
C) Quelle D) Où

9. A: Nilgün boit du chocolat chaud?

B: Non, elle ne boit jamais - - - - chocolat chaud.

- A) du B) de C) des D) les

10. Gökhan travaille - - - - Paris - - - - France.

- A) à / aux B) au / à
C) à / en D) aux / à

11. A: Qui est-ce?

B: C'est - - - .

- A) un bébé B) une voiture
C) une chemise D) un tableau

12. Il va acheter des billets de train - - - .

- A) au cinéma B) à la bijouterie
C) au café D) à la gare

13. A: - - - - ?

B: Non merci, je viens de boire du thé.

- A) Un serveur B) Un théâtre
C) Un café D) Un jardin

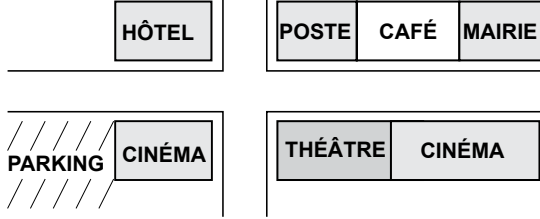
14. Aşağıdakilerden hangisi "81" sayısının doğru yazılışdır?

- A) Quatre-vingt-un B) Quatre-vingts
C) Soixante treize D) Soixante-dix

1. OTURUM

15-20.soruları resimleri dikkate alarak cevaplayınız.

15.




Le théâtre est - - - - .

- A) devant l'hôtel
- B) entre la poste et la mairie
- C) en face du parking
- D) à côté du cinéma

16. Le café est - - - - .

- A) en face du parking
- B) devant l'hôtel
- C) entre la poste et la mairie
- D) à côté du théâtre

17.



- A) Il est dix heures et demie.
- B) Il est dix heures.
- C) Il est dix heures et quart.
- D) Il est dix heures moins le quart.

18.



Il est - - - - et il porte - - - - .

- A) blond / un foulard
- B) pessimiste / une casquette
- C) sérieux / une bague
- D) souriant / une cravate


19.



Il est - - - - .

- A) mécanicien
- B) dentiste
- C) médecin
- D) acteur

20.



- A) Il est neuf heures et demie.
- B) Il est neuf heures moins le quart.
- C) Il est neuf heures et quart.
- D) Il est neuf heures.

(608) DİN KÜL. VE AHLAK BİLGİSİ – 6

1. Peygamber isimlerinden sonra yazılan "as."nin açılımı aşağıdakilerden hangisidir?

- A) Aleykum selam
- B) Allahümme salli
- C) Aleyhissalam
- D) Allah senden razı olsun

2. Peygamberlerin diğer insanlardan en büyük farkı aşağıdakilerden hangisidir?

- A) Hoşgörülü olmaları
- B) Vahiy almış olmaları
- C) Merhametli olmaları
- D) Akıllı ve zeki olmaları

3. Peygamberlerin aşağıdaki sıfatlarından hangisi onların ilahi mesajı iletme görevlerini ifade etmektedir?

- A) İsmet
- B) Fetanet
- C) Tebliğ
- D) Emanet

1. OTURUM

4. Aşağıda verilen bilgilerden hangisi yanlıştır?

- A) Abdest namazın ön şartıdır.
- B) Gusül abdestinde bütün vücut yıkanır.
- C) Teyemmüm abdesti toprak ile alınır.
- D) Teyemmüm abdesti sadece temiz su bulununca bozulur.

5. Dört rekat kılınan aşağıdaki sünnet namazlardan hangisinin ilk oturuşunda salli ve barik duaları okunmaz?

- A) Öğle namazının sünnetinde
- B) İkinci namazının sünnetinde
- C) Yatsı namazının sünnetinde
- D) Teravih namazında

6. Bir beldede yaşayan Müslümanlardan bir kısmının kılmasıyla diğer Müslümanlardan da sorumluluğun kalktığı namaz aşağıdakilerden hangisidir?

- A) Vitir namazı
- B) Bayram namazı
- C) Cuma namazı
- D) Cenaze namazı

7. "Allahümme iyyâke na'büdü..." ile başlayan dua aşağıdakilerden hangisi ile devam eder?

- A) "...ve iyyâke nestain.."
- B) "...ve nestağfiruke..."
- C) "...ve leke nusallî..."
- D) "...ve nü'minübike..."

8. Hz. Muhammed(sav.)'in hicreti ile ilgili aşağıda verilen bilgilerden hangisi doğrudur?

- A) Hz Muhammed(sav.)'in yol arkadaşı Hz.Ali'dir.
- B) Yolculuk esnasında Sevr Mağarası'nda üç gün gizlenmişlerdir.
- C) Hz.Muhammed(sav.)'in emanetlerini sahiplerine Hz. Ebu Bekir dağıtmıştır.
- D) Medine'ye girişte Uhut Dağı'nda bir süre kalmış ve burada bir mescit yaptırmıştır.

9. "Muhammed, ancak bir peygamberdir. Ondan önce de peygamberler geçmiştir. Şimdi O ölür veya öldürülürse siz geri (eski dininize) mi döneceksiniz? Kim sözünden geri dönerse, Allah'a hiçbir zarar veremez. Allah, şükredenleri ödüllendirir" (Â'lî İmran suresi,144. ayet)

Hz Muhammed (sav.) vefat ettiğinde bu ayeti okuyarak insanları teskin edip yatıştıran saha-be aşağıdakilerden hangisidir?

- A) Hz. Ebu Bekir
- B) Hz. Osman
- C) Hz. Ömer
- D) Hz. Ali

10. Bir zabıta müdürü, pazar esnafı ile yapmış olduğu bir toplantıda onlara işlerini yaparken uymaları gereken kuralları hatırlatmış, yaptıkları işin önemini anlatan bir de ayet okumuştur.

Zabıta müdürünün esnafa okuduğu ayet aşağıdakilerden hangisidir?

- A) "Ey iman edenler! Zannın birçoğundan sakının. Çünkü zannın bir kısmı günahdır. Birbirinizin kusuraqlarını ve mahremiyetlerini araştırmayın..." (Hucurât suresi, 12. Ayet)
- B) "İnsanlardan,kendileri bir şeyi ölçerek aldıkları zaman, tam alan; fakat onlara bir şey ölçüp tartarak verdiklerinde eksik tutan kimselerin vay haline!" (Mutaffin suresi, 1-3. Ayet)
- C) "Şüphesiz iman edip salih ameller işleyen, namazı dosdoğru kılan ve zekâtı verenlerin mükâfatları Rableri katındadır. Onlara korku yoktur. Onlar mahzun da olmayacaklardır." (Bakara suresi, 277.ayet)
- D) "(Ey Muhammed!) Kitaptan sana vahyolunanı oku, namazı da dosdoğru kıl. Çünkü namaz, insanı hayâsızlıktan ve kötülükten alıkor..." (Ankebut suresi, 45. Ayet)

11. Bir kişinin arkasından, o kişide olmadığı halde hoşlanmayacağı şeylerin söylenmesine ne denir?

- A) Hile
- B) Gıybet
- C) Haset
- D) İftira

1. OTURUM

12. Dinimizin hoş görmediği, Şeytanın vasıflarından olan bir davranıştır. Peygamberimiz bir hadisin- de bu davranışa karşı insanları uyarak “ Allah tevazu edeni yükseltir - - - - zelil kılar.” şeklinde dikkat çekmiştir.

Bu hadiste boş bırakılan yere aşağıdakilerden hangisi gelmelidir?

- A) gıybet edeni B) iftira atanı
C) kibirleneni D) alay edeni

13. Muavvizeteyn yani “İki koruyucu” olarak da isimlendirilen sureler hangileridir?

- A) Felak-Nas B) Yasin- Fatiha
C) Kevser-İhlas D) Kureyş- Nasr

14. • Fıkhi görüşleri daha çok Türkler arasında kabul görmüştür.
• “Fıkhu'l Ekber” ve “Âlim ve'l Mütallim” isimli eserleri vardır.

Hakkında bilgi verilen İslam âlimi hangisidir?

- A) Yunus Emre B) Ebu Hanife
C) Ahmet Yesevi D) Hacı Bektaş Veli

15. Aşağıdakilerden hangisi İmam Maturidi'nin eserlerinden biri değildir?

- A) Kitabü'l Makalat B) Kitabu't Tevhid
C) Te'vilatü'l Kur'an D) Divanı Hikmet

16. Batılıların Aristo'dan sonra en büyük felsefeci kabul ettikleri ve “Muallim-i Sani” olarak isimlendirdikleri âlim hangisidir?

- A) Farabi B) Uluğ Bey
C) Zemahşeri D) Ali Kuşçu

17. Mevlana'nın hayatında önemli bir rol oynamış, üzerinde büyük bir etki bırakmıştır. Mevlana, kendisiyle tanıştıktan sonra medresedeki görevini bırakmış, uzlete çekilerek Mesnevi'yi yazmıştır.

Mevlana'yu bu şekilde etkileyen şahıs aşağıdakilerden hangisidir?

- A) Bahattin Velet B) Şems-i Tebrizi
C) Ahmet Yesevi D) Hacı Bektaş Veli

18. • Batı dünyasında Algorismus adıyla bilinir.
• Sıfırı ilk keşfeden bilginidir.
• Logaritma cetvelini oluşturmuştur.
• Cebr ve'l Mukabele adlı eseri vardır.

Hakkında bilgi verilen alim aşağıdakilerden hangisidir?

- A) Ali Kuşçu B) Biruni
C) İbn Sina D) Harezmi

19. Aşağıdakilerden hangisi namazını camide cemaatle kılan biri ile evinde tek başına kılan biri için söylenebilecek ortak bir yargıdır?

- A) Diğer Müslümanların durumlarından haberdar olur.
B) Allah'a karşı görevini yerine getirmiş olur.
C) Namaz kılanlarla arasındaki bağ güçlenir.
D) Aynı derecede sevap kazanılır.

20. “Allahümme salî” ve “Allahümme bârik” duaları aşağıdaki namazların hangisinde ayakta okunur?

- A) Teravih namazı B) Bayram namazı
C) Cenaze namazı D) Cuma namazı

(701) TÜRKÇE – 7

1. “Tam” kelimesi aşağıdaki cümlelerin hangisinde mecaz anlamıyla kullanılmıştır?

- A) Tam iki saat tamlarla uğraştım.
B) Tam mağazaya girerken arkamdan bir ses geldi.
C) Tam bir idealist gibi yaşadı.
D) Tam bir sınıfı doyuracak yemek yapmıştı.

2. Aşağıdaki cümlelerin hangisinde “çekmek” kelimesi “yollamak” anlamında kullanılmıştır?

- A) Çektiği telgraf babasına çok geç ulaşmış.
B) Bu araba beş yüz kilodan fazla çeker.
C) Yeğenin onca çeken tek yanı yoktur.
D) Bana güzel bir öğle yemeği çekti.

1. OTURUM

3. Aşağıdaki atasözlerinden hangisi “çaresizlik içinde kalma” ile ilgilidir?

- A) Tavşan dağa küsmüş, dağın haberi olmamış.
- B) Deveyi yardan uçuran bir tutam ottur.
- C) Denize düşen yılana sarılır.
- D) Aç tavuk kendini buğday ambarında sanır.

4. Aşağıdaki cümlelerin hangisinde “olmayacak şeylerden yararlanmaya çalışmak” anlamında bir deyim kullanılmıştır?

- A) Haftasına kalmadan kendini toparlamaya başladı.
- B) Bu durum karşısında doktorun parmağı ağzında kaldı.
- C) Babasının su götürmez bir mantığı vardı.
- D) Elverişli durumlarda sinekten yağ çıkartmasını biliyordu.

5. Aşağıdaki cümlelerin hangisinde amaç sonuç ilişkisi yoktur?

- A) Hastalığın yayılmasını önlemek için okul bir hafta boyunca tatil edilmiş.
- B) Yeterli teknolojiye sahip olmadığımız için birçok hastalığın sebebini bulamıyoruz.
- C) Bilim adamları bu hastalığa yol açan etkeni bulmak üzere çalışmaya başlayacaklar.
- D) Alanında ilerleyebilmek için üniversitede yeni bir proje başlattı.

6. Güzelliğin on para etmez
Bu bendeki aşk olmasa.

Bu dizelerden aşağıdaki yargılardan hangisi çıkarılabilir?

- A) Güzellik ona bir değer veren varsa anlam kazanır.
- B) Güzellik kişiden kişiye değişebilen göreceli bir kavramdır.
- C) Güzellik değer verilmemesi gereken bir kavramdır.
- D) Güzele değer veren kişi, o güzelliğe hayran olandır.

7. Aşağıdaki konuşma yöntem ve tekniklerinden hangisinin amacı “dinleyicileri konuşma sürecine katarak konunun anlaşılmasını kolaylaştırmak ve konuya farklı bakış açıları getirmek”tir?

- A) Eleştirel konuşma
- B) Katılımlı konuşma
- C) Güdümlü konuşma
- D) Yaratıcı konuşma

8. Dinleme yöntem ve tekniklerinden biri olan “katılımlı dinleme”nin amacı aşağıdakilerden hangisidir?

- A) Dinlenenlerin yorumlanması ve bunlardan yeni düşünceler üretilmesidir.
- B) Dinlenenlerin içinden ilgili ve ihtiyaca yönelik olanların seçilerek dinlenmesidir.
- C) Dinleme sürecinde zihinde oluşan soruların konuşmacıya iletilerek dinlenenlerin daha iyi kavranmasıdır.
- D) Dinleyicinin kendisini konuşmacının yerine koyarak onun neler hissettiğini anlamasıdır.

9. 1. Bu maksatla hane sahiplerinin her evde bir merdiven ve su fıçısı bulundurmaları mecbur kılınmış.
2. 16. asırda İstanbul'daki evlerin neredeyse tamamı ahşap imiş.
3. Bu tür yangınlar sebebiyle şehrin tehlikeye girdiğini gören padişah, bundan böyle halkın da yangın söndürme çalışmasına katılmasını sağlamak istemiş.
4. Merkezî semtlerde bu evlerin birbirlerine sırt verdikleri düşünüldüğünde bir yangın anında şehrin yarısının yanması kaçınılmaz olurmuş.

Numaralanmış cümlelerle anlamlı bir metin oluşturulduğunda sıralama aşağıdakilerden hangisi olur?

- A) 1-2-3-4
- B) 2-4-3-1
- C) 3-2-1-4
- D) 4-2-3-1

1. OTURUM

10. Adam ağaca yaslanıp gözlerini kapadı. Ağlayan bir çocuk gibi ıslak kirpiklerinden süzülen gün ışığını izleyerek kederini unutmaya çalıştı. Kapalı gözlerinin ardında sıcak ve güneşle ısıldayan ağaç dallarının hayalini uzun uzun izledi.

Bu metin ile ilgili olarak aşağıdakilerden hangisi söylenemez?

- A) Olay, üçüncü kişi ağzından anlatılmıştır.
B) İkillemeye yer verilmiştir.
C) Deyimlerden yararlanılmıştır.
D) Benzetme yapılmıştır.

11. Ellerim hüzündür gözlerim camda,
Yıldızlar gülümser ta uzaklarda,
Sıcak kucağının saltanatında,
Çocuk gönlümü avut anneciğim.

Bu dörtlükte kişileştirilen varlık aşağıdakilerden hangisidir?

- A) yıldızlar
B) eller
C) uzaklar
D) kucak

12. Aşağıdaki cümlelerin hangisinde eylem yoktur?

- A) Seneye sınıfça kampa gideceğiz.
B) Okulun halk oyunları ekibindeyim.
C) Turşu festivali bu sene yapılmamış.
D) Ödevimi internette uzun uzun araştırdım.

13. Aşağıdaki cümlelerden hangisi farklı bir kipte çekimlenmiştir?

- A) Gerçeği geç de olsa fark ettim.
B) Evine doğru hızla koşmaya başlamış.
C) Bahar tüm heyecanı ile geliyor.
D) Allah'ım biraz daha dayanma gücü ver.

14. "Hakim salona girince sesler kesildi." cümlesinde hangi sözcük vurgulanmak istenmiştir?

- A) salona
B) girince
C) sesler
D) kesildi

15. Aşağıdaki cümlelerin hangisinde zaman kayması vardır?

- A) İyi bir bedene sahip olmak için spor yapacaksın.
B) Nasreddin Hoca bir gün eşeğine binmiş.
C) Babam bu sabah aldığı habere çok sevindi.
D) Geçen hafta vapurla Kıbrıs'a gitmiş.

16. Aşağıdaki cümlelerin hangisinde bileşik fiil kullanılmamıştır?

- A) Mektubu posta kutuma bırakıver.
B) Bu kavgayı taşıyabilir misin?
C) Teklifimi hiç düşünmeden kabul etti.
D) Kardeşimle biraz sonra yanıma gelir misin?

17. Aşağıdaki cümlelerin hangisinde "niteleme zarfı" kullanılmıştır?

- A) Dün liseden arkadaşlarla kapalı çarşmayı gezdik.
B) Olmayacak şeyler için hıçkırarak ağlıyordu.
C) Hastalanınca işe biraz geç gitti.
D) Cansu içeride arkadaşıyla oturuyor.

18. Aşağıdaki cümlelerin hangisinde fiil olumlu soru şeklinde çekimlenmiştir?

- A) Ezgi'yi evde bulamamışlar mı?
B) Benimle yarışamayacağını çok iyi bilir.
C) Yatmadan kitap okur musun?
D) Programı hala teslim edememişler.

19. Aşağıdaki cümlelerin hangisinde sayıların yazımıyla ilgili bir yanlışlık vardır?

- A) Geziye ikiyüz sporcu katılacakmış.
B) Acele edelim, film 17.30'da başlayacak.
C) Yarışmada 1'inci olduğu için sevinçliydi.
D) Her gün 5 kilometre koşardı.

20. Bir Mayıs gecesi () Arkadaşım masasına dayanmış () önüne kitapları yığılmış () defterine bir şeyler kaydediyordu ()

Bu metinde yay ayraçlarla gösterilen yerlere sırasıyla aşağıdaki noktalama işaretlerinden hangileri getirilmelidir?

- A) (.) (.) (.) (.)
B) (...) (.) (.) (.)
C) (.) (.) (.) (.)
D) (...) (.) (.) (.)

1. OTURUM

(702) MATEMATİK – 7

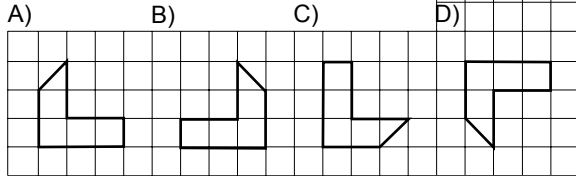
1. Aşağıdakilerden hangisi doğrudur?

- A) $(-24) : (-6) = -4$
 B) $42 : (-1) = 42$
 C) $(-7) \cdot (-5) = 35$
 D) $(-6) \cdot 11 = 66$

2. $\frac{2}{7}, -\frac{1}{2}, -\frac{3}{8}$ rasyonel sayılarının doğru sıralanışı aşağıdakilerden hangisinde verilmiştir?

- A) $\frac{2}{7} < -\frac{3}{8} < -\frac{1}{2}$
 B) $-\frac{3}{8} < -\frac{1}{2} < \frac{2}{7}$
 C) $\frac{2}{7} < -\frac{1}{2} < -\frac{3}{8}$
 D) $-\frac{1}{2} < -\frac{3}{8} < \frac{2}{7}$

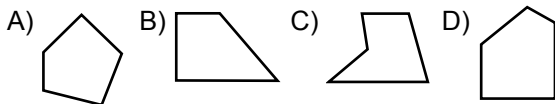
3. Aşağıdakilerden hangisi yandaki şeklin O noktası etrafında saat yönünde 270° döndürülmüş halidir?



4. Bir manavda bulunan 60 kg elmanın önce $\frac{2}{3}$ 'si daha sonra $\frac{1}{4}$ 'i satılıyor. Geriye kaç kilogram elma kalmıştır?

- A) 12 B) 10 C) 6 D) 5

5. Aşağıdaki çokgenlerden hangisi dışbükey çokgen değildir?



6. $(\frac{1}{2} + \frac{3}{4}) : \frac{15}{2}$ işleminin sonucu kaçtır?

- A) $\frac{1}{6}$ B) $\frac{1}{3}$ C) $\frac{1}{2}$ D) $\frac{2}{3}$

7. 15, 34, 22, 25, 17, 22, 30, 17, 34, 22

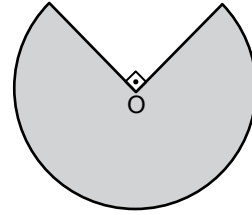
Yukarıdaki veri grubunun tepe değeri kaçtır?

- A) 15 B) 17 C) 22 D) 34

8. Yarıçapının uzunluğu 8 cm olan dik dairesel silindir biçimindeki bir kabın yüksekliği 10 cm dir. Bu kabın hacmi kaç santimetreküptür? (π yerine 3 alınız.)

- A) 240 B) 640 C) 1920 D) 2400

9.



Merkezi O olan daire şeklindeki bir tahtadan 90° lik daire dilimi şeklindeki gibi kesilerek çıkarılmıştır. Tahtanın yarıçapının uzunluğu 6 cm olduğuna göre, şekildeki kalan parçanın çevresi kaç santimetredir? (π yerine 3 alınız.)

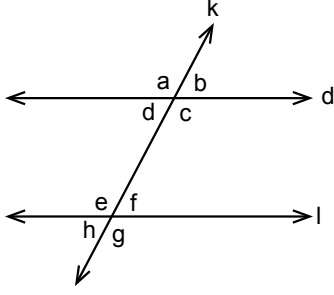
- A) 27 B) 39 C) 56 D) 64

10. Bir sınıftaki kız öğrencilerin sayısının erkek öğrencilerin sayısına oranı $\frac{2}{5}$ 'tir. Bu sınıfta 20 erkek öğrenci bulunduğuna göre kız öğrencilerin sayısı kaçtır?

- A) 6 B) 8 C) 12 D) 16

1. OTURUM

11.



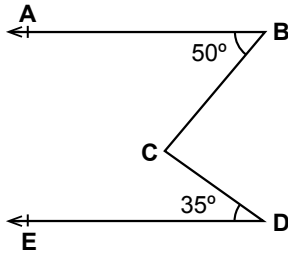
Şekilde $d \parallel l$ ve $b < 90^\circ$ dir. a, b, c, d, e, f, g, h bulundukları açılarının ölçülerini gösterdiğine göre aşağıdaki hangi iki ölçümün toplamı 180° dir?

- A) a ile h B) e ile g
C) a ile e D) b ile f

12. Satış fiyatı 350 lira olan bir ürünün %40 indirimli satış fiyatı kaç lira olur?

- A) 180 B) 210 C) 240 D) 300

13.



Yukarıdaki şekilde $BA \parallel DE$ dir.

$m(\widehat{ABC}) = 50^\circ$ ve $m(\widehat{CDE}) = 35^\circ$ olduğuna göre $m(\widehat{BCD})$ kaç derecedir?

- A) 85 B) 80 C) 75 D) 70

14. Düzgün sekizgenin iç açılarının ölçüleri toplamı kaç derecedir?

- A) 1440 B) 1080 C) 720 D) 540

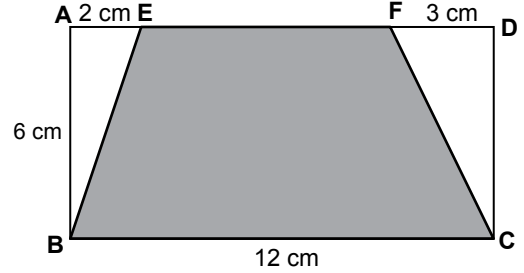
15. $\frac{3! + 4!}{10}$ işleminin sonucu kaçtır?

- A) $\frac{5}{6}$ B) $\frac{6}{5}$ C) 3 D) 6

16. Yarıçapının uzunluğu 4 cm olan dairenin alanı kaç santimetrekaredir? (π yerine 3 alınız.)

- A) 30 B) 36 C) 40 D) 48

17.



Şekildeki ABCD dikdörtgeninde $|AE| = 2$ cm, $|FD| = 3$ cm, $|AB| = 6$ cm ve $|BC| = 12$ cm'dir. Buna göre EBCF yamuğunun alanı kaç santimetrekaredir?

- A) 57 B) 56 C) 53 D) 50

18. Bir torbada 1'den 6'ya kadar numaralanmış aynı özelliklere sahip 6 top vardır. Torbadan rastgele çekilen bir topun üzerindeki sayının 3'ten büyük bir sayı olma olasılığı nedir?

- A) $\frac{1}{6}$ B) $\frac{1}{2}$ C) $\frac{2}{3}$ D) $\frac{5}{6}$

19. $6x - 12$ cebirsel ifadesi ile $40 + 2x$ cebirsel ifadesinin toplamı aşağıdakilerden hangisidir?

- A) $4x + 52$ B) $8x + 52$
C) $46x - 24$ D) $8x + 28$

20. Ayşe'nin yaşının 9 katının 17 eksiği 46 olduğuna göre, Ayşe kaç yaşındadır?

- A) 3 B) 5 C) 7 D) 9

1. OTURUM

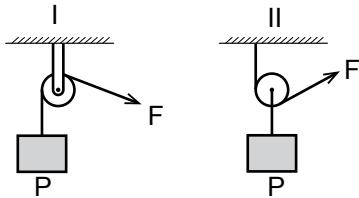
(703) FEN VE TEKNOLOJİ – 7

1. I. Oyun hamuru
II. Plastik balon
III. Cam macunu

Yukarıda verilen maddelerden hangileri esnek yapıdadır?

- A) Yalnız II
B) I ve II
C) I ve III
D) I, II ve III

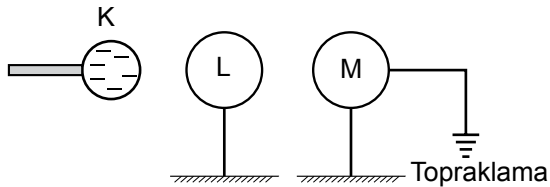
2. Şekilde sabit ve hareketli makaraya örnek çizimler gösterilmiştir.



Buna göre, aşağıdakilerden hangisi sabit makara ile hareketli makara arasındaki farklardan biri değildir?

- A) Hareketli makara yoldan kaybettirir.
B) Sabit makara iş kolaylığı sağlar.
C) Sabit makarada kuvvet yüke eşittir.
D) Hareketli makara işten kazanç sağlar.

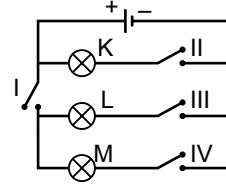
3. Başlangıçta özdeş ve nötr olan L ve M kürelerine, negatif yüklü K cismi yaklaştırılıyor. Bu sırada M cismi de topraklanıyor.



Buna göre, önce M'nin toprak bağlantısı kesilip, daha sonra K cismi uzaklaştırılırsa L ve M kürelerinin son yük durumları nasıl olur?

- | L | M |
|---------|------|
| A) Nötr | Nötr |
| B) Nötr | + |
| C) - | + |
| D) + | Nötr |

4.



Özdeş üç ampul ve dört anahtardan oluşan devrede yalnızca K ampulünün ışık vermesi için hangi anahtarlar kapatılmalıdır?

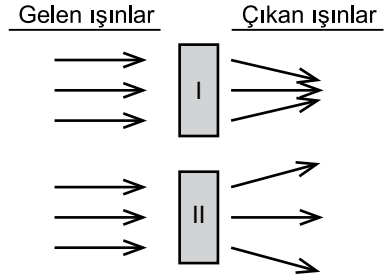
- A) Yalnız II
B) I ve III
C) I ve IV
D) I, II ve IV

5. I. Seracılık
II. Elektrik enerjisi üretimi
III. Deniz suyunun tatlı suya dönüştürülmesi

Yukarıda verilen olayların hangilerinde güneş enerjisi kullanılmaktadır?

- A) Yalnız I
B) I ve II
C) II ve III
D) I, II ve III

6. I ve II numaralı kutulara gönderilen ışınlar şekildedeki gibi çıkmıştır.



Buna göre I ve II numaralı kutularda aşağıdakilerin hangisinde verilen optik araçlar vardır?

- | I | II |
|-------------------------|----------------------|
| A) Düz ayna | Prizma |
| B) Kalın kenarlı mercek | İnce kenarlı mercek |
| C) İnce kenarlı mercek | Kalın kenarlı mercek |
| D) Prizma | Düz ayna |

7. Dünya'dan bakıldığında sergiledikleri görünimleri nedeniyle bir arada bulunan yıldızlara "takım yıldız" denir.

Buna göre aşağıdakilerden hangisi bir takım yıldız değildir?

- A) Büyük Ayı
B) Kuzey Tacı
C) Orion
D) Kutup Yıldızı

1. OTURUM

8. Dünyamızla ilgili verilen bilgilerden hangisi yanlıştır?

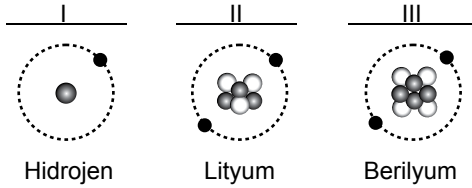
- A) Andromeda galaksisinde yer alır.
- B) Yaşamın olduğu bilinen tek gezegendir.
- C) İç gezegenler kategorisinde yer alır.
- D) Güneşe yakınlık bakımından üçüncü sırada yer alır.

9. • Negatif yüklüdür.
• Çekirdek etrafında hareket eder.
• Atomun katmanlarında bulunur.

Yukarıda verilen özellikler hangi atomaltı parçacığa aittir?

- A) Elektron
- B) Nötron
- C) Nükleon
- D) Proton

10. Aşağıda Hidrojen, Lityum ve Berilyuma ait modeller verilmiştir.



Buna göre hangileri iyon halindedir?

- A) Yalnız I
- B) I ve II
- C) II ve III
- D) I, II ve III

11. I. Amonyum
II. Fosfat
III. Hidroksit

Yukarıda adları verilen çok atomlu iyonların molekül formülleri hangisinde doğru verilmiştir?

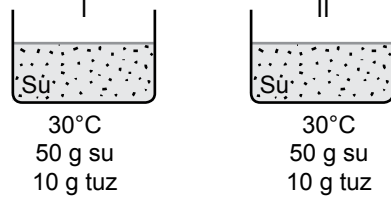
- | | | |
|----------------|----------------|-----------|
| I | II | III |
| A) SO_4^{2-} | B) CO_3^{2-} | C) H^+ |
| D) NH_4^+ | E) PO_4^{3-} | F) OH^- |
| G) NH_3 | H) NO_3^- | I) OH^- |
| J) CO_3^{2-} | K) SO_4^{2-} | L) H^+ |

12. I. $_{11}Na$ II. $_{17}Cl$ III. $_1H$ IV. $_9F$

Yukarıda verilen elementler arasında oluşabilecek bileşik hangisinde doğru verilmiştir?

- A) NaF_2
- B) HCl
- C) H_3F
- D) $NaCl_2$

13. Aşağıda aynı sıcaklıkta ve kütlede iki ayrı kaptaki tuzlu su çözeltileri verilmiştir.



Buna göre aşağıdakilerden hangisi yapılırsa I. kap, II. kaptan daha derişik olur?

- A) I. kaba 50 g su, II. kaba 20 g tuz atılmalı
- B) I. kaba 10 g su, II. kaba 30 g tuz katılmalı
- C) I. kaptan 30 g su, II. kaptan 10 g su buharlaştırmalı
- D) I. kap soğutulmalı, II. kap ısıtılmalı

14. Aşağıda verilen yapılardan hangisi merkezi sinir sisteminde yer almaz?

- A) Beyin
- B) Omurilik soğanı
- C) Omurilik
- D) Sinirler

15. • Soluk borusunun önünde, gırtlığın altında bulunur.
• Vücuttaki tüm kimyasal olayların düzenlenmesinde görev alır.
• Dengesiz çalışması sonucu guatr hastalığı oluşur.

Yukarıda belirli özellikleri verilen iç salgı bezi hangisidir?

- A) Hipofiz
- B) Pankreas
- C) Tiroit
- D) Böbrek üstü bezi

16. I. Ortak bir atadan gelmezler.
II. Yalnızca kendi aralarında ürerler.
III. Çiftleştiklerinde kısır olmayan yavrular verirler.

Yukarıda verilen özelliklerden hangileri türe aittir?

- A) Yalnız I
- B) I ve III
- C) II ve III
- D) I, II ve III

1. OTURUM

17. Sindirim sırasında gerçekleşen bazı olaylar verilmiştir.

- I. Çiğneme ile yiyeceklerin parçalanması
- II. Tükürük salgısı ile karbonhidratların parçalanması
- III. Midenin kasılıp gevşemesi ile besinlerin bula-
maç haline gelmesi
- IV. İnce bağırsakta pankreas öz suyu ile yağların
parçalanması

Buna göre bu olaylar sırasında gerçekleşen sindirim çeşitleri hangisinde doğru olarak eşleştirilmiştir?

	<u>Mekanik sindirim</u>	<u>Kimyasal sindirim</u>
A)	I, II	III, IV
B)	I, III	II, IV
C)	II, III	I, IV
D)	I, IV	II, III

18. Aşağıda verilen yapılardan hangisi idrarın vücuttan atıldığı yapıdır?

- A) Üretra
- B) Üreter
- C) İdrar kesesi
- D) Böbrek

19. Aşağıda çevreyi etkileyen faktörlerle ilgili olarak verilen bilgilerden hangisi yanlıştır?

- A) Üreticiler, besin zincirlerinin ilk basamağında bulunurlar.
- B) Su, canlıların vücut yapılarının büyük çoğunluğunu oluşturur.
- C) Ayrıştırıcılar, toprağın yapısını bozan canlılardır.
- D) Güneş ışığı, canlılar için en önemli enerji kaynağıdır.

20. I. Karadeniz'deki hamsiler
II. Göksu Deltasındaki mavi yengeçler
III. Van Gölündeki canlı türleri

Yukarıda verilenlerden hangileri popülasyona örnektir?

- A) Yalnız II
- B) I ve II
- C) II ve III
- D) I, II ve III

(806) T.C. İNK. TAR. VE ATATÜRK. – 8

1. Mustafa Kemal, görevinin gereği olarak aşağıdaki şehirlerin hangisinde Avrupalı devletlerin temsilcileriyle görüşmeler yapma fırsatı bulmuştur?

- A) Sofya
- B) Selanik
- C) Manastır
- D) Çanakkale

2. “Mustafa Kemal öğrenim hayatına - - - başlayıp, Şemsi Efendi Mektebinde devam etmiştir.”

Verilen cümlelerin doğru olabilmesi için boş bırakılan yere, aşağıdakilerden hangisi yazılmalıdır?

- A) İstanbul Harp Akademisinde
- B) Manastır Askerî İdadisinde
- C) İstanbul Harp Okulunda
- D) Mahalle Mektebinde

3. İtilaf Devletleri, Mondros Ateşkes Antlaşması'nın “Sınırların korunması ve iç güvenliğin sağlanması için ayrılan kuvvetler dışındaki Osmanlı ordusu terhis edilecektir.” maddesiyle, aşağıdakilerden özellikle hangisini yapmayı amaçlamışlardır?

- A) Osmanlı Devleti'nin Anadolu ve Rumeli'deki toprakları arasındaki bağlantı kesmeyi
- B) Osmanlı'nın elindeki İtilaf güçlerine ait esirleri serbest bıraktırmayı
- C) Osmanlı Devleti'nin savunma gücünü ortadan kaldırmayı
- D) Doğu Anadolu'da bir Ermeni devleti kurmayı

4. Samsun'da karaya çıkan Mustafa Kemal, Samsun'un İngiliz işgali altında olması nedeniyle çalışmalarına başlamak için hemen aşağıdaki yerlerden hangisine geçmiştir?

- A) Sivas'a
- B) Havza'ya
- C) Erzurum'a
- D) Çarşamba'ya

1. OTURUM

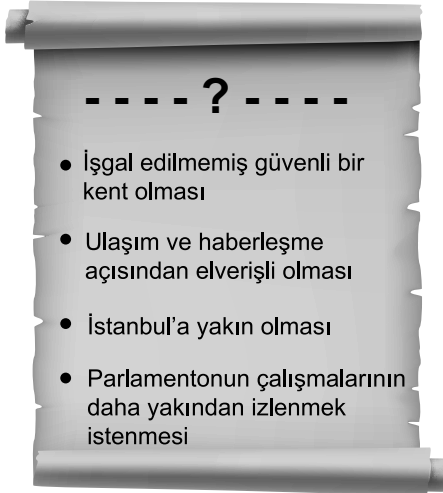
5. Kurtuluş Savaşı'nın amacı, gerekçesi ve yöntemi ilk kez, aşağıdakilerden hangisiyle ortaya konulmuştur?

- A) Havza Genelgesi'yle
- B) Amasya Genelgesi'yle
- C) Erzurum Kongresi'yle
- D) Son Osmanlı Mebusan Meclisinde alınan Misakımillî kararlarıyla

6. Mustafa Kemal, aşağıdaki kongrelerden hangisini "Tarih kongremizi ender ve büyük bir eser olarak kaydedecektir." sözleriyle övmüştür?

- A) Sivas Kongresi'ni
- B) Alaşehir Kongresi'ni
- C) Erzurum Kongresi'ni
- D) Balıkesir Kongresi'ni

7.



Verilen görsele başlık olarak aşağıdakilerden hangisi yazılmalıdır?

- A) Mustafa Kemal Samsun'a Niçin Gitti?
- B) Millî Kongre'nin Sivas'ta Yapılma Nedenleri
- C) Vatan ve Hürriyet Cemiyeti Neden Şam'da Kurulmuştur?
- D) Temsil Heyetinin Ankara'yı Yeni Çalışma Merkezi Olarak Seçmesinin Nedenleri

8. Aşağıdakilerden hangisi, Türk milletine yaşama hakkı tanımayan ve Türk vatanının parçalanmasını amaçlayan bir belge olarak tarihe geçmiştir?

- A) Sevr Antlaşması
- B) Wilson Prensipleri
- C) Mudanya Ateşkes Antlaşması
- D) Montrö Boğazlar Sözleşmesi

9. "7 Ocak 1921 günü Türk askerlerinin ellerindeki mevzilerini süngüleri ile canları pahasına savunması sonucunda Yunanlılar, büyük kayıplar vererek geri çekilmek zorunda kalmışlardı."

Verilen metinde anlatılan savaş, aşağıdakilerden hangisidir?

- A) I. İnönü
- B) II. İnönü
- C) Büyük Taarruz
- D) Sakarya Meydan Savaşı

10. İtilaf Devletleri'nin Londra Konferansı'nı düzenlemekteki amaçları, aşağıdakilerin hangisinde doğru verilmiştir?

- A) TBMM'yi tanımak
- B) Millî seferberlik ilan etmek
- C) Boğazların yönetimini Boğazlar Komisyonuna bırakmak
- D) Sevr Barış Antlaşması'nın bazı maddelerine geçerlilik kazandırmak

11. Lozan Konferansı'nda görüşülen aşağıdaki sorunlardan hangisine ilişkin alınan karar, Misakımillî ile çelişmektedir?

- A) Azınlıklar
- B) Dış borçlar
- C) Türkiye - Suriye sınırı
- D) Savaş tazminatları

12. "Sömürgeci mantığı ile yaklaşmayan ülkelerle ekonomik ilişkiler geliştirilmelidir." kararı, aşağıdaki belgelerin hangisinde yer alır?

- A) Misakımillî'de
- B) Misakıktisadi'de
- C) Medeni Kanun'da
- D) Kabotaj Kanunu'nda

13. TBMM tarafından seçilen İslam halifesi, aşağıdakilerden hangisidir?

- A) Rıfat Börekçi
- B) Dürriyade Efendi
- C) Abdülmecid Efendi
- D) Mehmet Vahdettin

1. OTURUM

14. “Eğitim Tek Çatı Altında” başlıklı bir kompozisyon yazmak istesek, aşağıdaki kanunlardan hangisine değinmek zorundayız?

- A) Soyadı Kanunu’na
- B) Kabotaj Kanunu’na
- C) Türk Medenî Kanunu’na
- D) Tevhid-i Tedrisat Kanunu’na

15. TBMM tarafından Mustafa Kemal’e “Atatürk” soyadı hangi tarihte verilmiştir?

- A) 24 Kasım 1934
- B) 21 Haziran 1934
- C) 01 Kasım 1928
- D) 29 Ekim 1923

16. Cumhuriyet Dönemi’nde “Endaze” ve “Arşın” yerine “Metre”nin kabul edilmesi, aşağıdakilerden hangisine yol açması beklenmez?

- A) Ekonomik kalkınmaya
- B) Tarımsal üretimin artmasına
- C) Ticari ilişkileri kolaylaştırmaya
- D) Uluslararası ticaretimizin gelişmesine

17. Aşağıda birlikte verilen Atatürk ilkelerinden hangileri toplumda barış ortamının kurulmasını sağlar?

- A) Halkçılık ve laiklik
- B) Laiklik ve devletçilik
- C) Devletçilik ve halkçılık
- D) Cumhuriyetçilik ve devletçilik

18. Türkiye, İran, Irak ve Afganistan karşılıklı olarak birbirlerinin sınırlarını aşağıdakilerden hangisiyle güvence altına almışlardır?

- A) Montrö Boğazlar Sözleşmesi’yle
- B) Nüfus Mübadelesiyle
- C) Balkan Antantıyla
- D) Sadabat Pakti’yla

19. II. Dünya Savaşı yıllarında aşağıdaki devletlerden hangisinin Amerika Birleşik Devletleri’ne ait Pearl Harbor Limanı’nı bombalaması, ABD’nin II. Dünya Savaşı’na girmesine neden olmuştur?

- A) Sovyetler Birliği’nin
- B) Almanya’nın
- C) Japonya’nın
- D) Çin’in

20. Avrupa Birliği’nin 01 Ocak 1993 tarihinde yürürlüğe giren bir antlaşmayla belirlediği ortak para birimi, aşağıdakilerden hangisidir?

- A) DOLAR
- B) EURO
- C) SOM
- D) YEN

(807) İNGİLİZCE – 8

1 - 20. sorularda boş bırakılan yere uygun gelen kelime ya da ifadeyi işaretleyiniz.

1. I haven’t been abroad - - - a long time.

- A) since
- B) for
- C) than
- D) as

2. A: Have you - - - eaten Chinese food?
B: No, I haven’t.

- A) for
- B) since
- C) ever
- D) usually

3. China is the - - - crowded country in the world.

- A) most
- B) more
- C) than
- D) then

4. The children - - - football when I came here.

- A) were playing
- B) are playing
- C) plays
- D) play

5. - - - the teacher was talking, the students were laughing.

- A) If
- B) Since
- C) For
- D) While

6. Atatürk - - - the Turkish Republic in 1923.

- A) found
- B) founded
- C) must found
- D) will found

1. OTURUM

7. Everybody was at home when I - - - - .

- A) come B) came
C) would come D) should come

8. Ahmet always helps the poor. He is a - - - - man.

- A) stingy B) worried
C) crowded D) generous

9. My grandparents' photograph is - - - - the wall.

- A) in B) on C) under D) between

10. A: - - - - is İzmir from Ankara?
B: It is about 600 km.

- A) How long B) How tall
C) How far D) How old

11. We bought two - - - - of bread from the bakery.

- A) loaves B) bars
C) jars D) cups

12. If my father came home early, - - - - .

- A) I will help him
B) he can fix the tap
C) we would go shopping
D) I am going to go to bed

13. The baby is sleeping right now. You - - - - .

- A) should be quiet
B) had better shout
C) ought to make noise
D) should play the piano

14. The movie - - - - I watched last night was exciting.

- A) who B) whom C) where D) which

15. The woman - - - - was really funny.

- A) which I saw yesterday
B) whom I met at the party
C) where I went last summer
D) which you brought to school

16. Çalığışu - - - - by Reşat Nuri Güntekin.

- A) written B) was written
C) were written D) will be written

17. - - - - Elif nor Ela brought their books.

- A) Either B) Not only
C) Neither D) As well

18. Ronaldo is the - - - - footballer I have ever watched.

- A) best B) good
C) better D) better than

19. I couldn't hear the doorbell because I - - - - in the garden at that time.

- A) work B) will work
C) were working D) was working

20. Would you mind if I - - - - the door? It is really cold here.

- A) close B) closes
C) closed D) closing

1. OTURUM

(807) ALMANCA – 8

1-20. sorularda boş bırakılan yere uygun gelen kelime ya da ifadeyi işaretleyiniz.

1. A: - - - - du mir ein Lied singen?
B: Ich kann nicht gut singen.

A) Können B) Kann
C) Kannst D) Könnt

2. A: Hallo Hasan! Wo arbeitet dein Vater?
B: - - - - arbeitet in der Schule.

A) Er B) Sie C) Es D) Ihn

3. Esra kann ihre Hausaufgaben nicht machen.
Kannst du - - - - helfen?

A) ihm B) ihr C) ihn D) ihre

4. A: Klaus, - - - - fährst du nach München?
B: Mit dem Zug.

A) was B) wer C) wohin D) womit

5. - - - - Auto ist sehr teuer.

A) Dies B) Diese C) Dieses D) Dieser

6. Der Bus - - - - nach Hamburg. (Präteritum)

A) fahren B) gefahren
C) fährt D) fuhr

7. Darf ich dein- - - - Reisepass sehen?

A) -en B) - C) -es D) -e

8. Ich habe - - - - sehr gefreut.

A) ich B) du C) mich D) uns

9. Karin - - - - nicht schwimmen gehen, weil sie krank ist.

A) dürfen B) darf C) darfst D) dürft

10. Das schnell- - - - Pferd.

A) -e B) -er C) -es D) -en

11. Ich habe mein alt- - - - Fahrrad Hasan geschenkt.

A) -e B) -er C) -en D) -es

12. Wir waschen - - - - im Badezimmer.

A) ich B) ihr C) uns D) wir

13. A: Mit - - - - hast du Tennis gespielt?
B: Mit Sabine.

A) wer B) wem C) was D) wie

14. A: Hat - - - - das Essen geschmeckt?
B: Ja, sehr.

A) dir B) du C) dich D) euer


15. Die schwarz- - - - Schafe. (Plural)

A) -e B) -er C) -es D) -en

16. A: Wer ist - - - -?
B: Klaus.

A) dem B) die C) das D) den

- 17.



Der Hund ist - - - - dem Tisch.

A) in B) unter C) über D) auf

1. OTURUM

18. Das ist Ayşe's Buch. Es gehört - - - -.

- A) er B) sie C) es D) ihr

19. A: Hast du - - - - Frau gesehen?

B: Nein, ich habe - - - - nicht gesehen.

- A) er / ihn B) die / sie
C) sie / ihr D) der / euch

20.



A: Was machen die Kinder?

B: Sie - - - -?

- A) essen B) isst C) trinken D) trank

(807) FRANSIZCA – 8

1-15. sorularda boş bırakılan yere uygun gelen kelime ya da ifadeyi işaretleyiniz.

1. - - - - sommes arrivés tard à cause de la neige.

- A) Je B) Nous C) Elles D) Vous

2. Selim et Murat - - - - un voyage en Afrique en été.

- A) ont fait B) est fait
C) as fait D) avons fait

3. Il habite - - - - Berlin- - - - Allemagne depuis cinq ans.

- A) en / au B) à / au
C) à / en D) au / aux

4. Pour acheter de la viande et du poulet je vais chez - - - -.

- A) le crémier
B) le boulanger
C) le marchand de légumes
D) le boucher

5. Mon père a 50 ans ; ma mère a 50 ans.

Mon père est - - - - que ma mère.

- A) plus âgé B) moins jeune
C) aussi âgé D) plus jeune

6. Jean a acheté six chemises et trois cravates.

Alors, il a acheté - - - - de chemises que de cravates.

- A) plus B) tant C) moins D) autant

7. Comme boisson, - - - - de l'eau minérale.

- A) dînez B) buvez C) mangez D) déjeunez

8. Le lait coûte un euro - - - -.

- A) le kilo B) le mètre carré
C) le mètre D) le litre

9. A: C'est - - - - la poste ?

B: Elle est à côté du cinéma.

- A) quand B) combien
C) ou D) où

10. Pour aller au Brésil, ils - - - - en avion.

- A) visitent B) voyagent
C) devient D) voient

11. Voilà le livre - - - - j'ai lu le mois dernier.

- A) que B) dont C) qui D) où

1. OTURUM

12. J'aime les petites voitures économiques - - - -
roulent vite.

- A) où B) que C) qui D) pourquoi

13. M. Legrand a 87 ans, c'est - - - -.

- A) une vieille dame B) un vieux monsieur
C) une fille blonde D) une jeune femme

14. Si vous faites du sport, vous - - - - jeune.

- A) resterez B) sommes resté
C) restera D) resterons

15. A: - - - - tu as fait à Palandöken?

B: J'ai fait du ski.

- A) Combien B) Quand
C) Comment D) Qu'est-ce que

16-20. soruları resimleri dikkate alarak
cevaplayınız.

16.



Il fait - - - -.

- A) du cheval B) de l'alpinisme
C) du vélo D) de la peinture

17.



Marc ne peut pas courir parce qu'il a - - - -.

- A) mal au ventre B) la jambe cassée
C) le bras cassé D) mal au dos

18.



Quand il neige, elles - - - - dans le parc.

- A) se lavent B) se couchent
C) se peignent D) se promènent

19.



Il - - - - son manteau en courant.

- A) met B) danse C) pleure D) cherche

20.



Il a mal - - - -.

- A) au dos B) aux pieds
C) aux dents D) au ventre

1. OTURUM

(808) DİN KÜL. VE AHLAK BİLGİSİ – 8

1. Aşağıdaki ayetlerden hangisi Allah'ın her şeyi bir ölçüye göre yarattığını ifade etmektedir?

- A) "İnsanlar 'inandık' demekle imtihan edilmeden bırakılacaklarını mı zannederler?"
(Ankebut suresi,2.ayet)
- B) "Allah'a iftira ederek yalan uyduran veya O'nun ayetlerini yalanlayandan daha zalim kimdir?"
(En'am suresi,21.ayet)
- C) "Gökleri yedi kat üzerine yaratan O'dur. Rahman'ın yaratmasında bir düzensizlik bulamazsın. Gözünü çevir ve bir bak, bir çatlak görebilir misin?"
(Mülk suresi,3.ayet)
- D) "Küçümseyerek surat asıp insanlardan yüz çevirme ve yeryüzünde kibirlenerek yürüme! Çünkü Allah hiçbir kibirleneni ve övüngeni sevmez."
(Lokman suresi,18.ayet)

2. Aşağıdakilerden hangisi toplumsal yasaya bir örnektir?

- A) Isıtılan metaller genleşir.
- B) Gelir dağılımının adil olduğu toplumlarda yoksulluk azalır.
- C) Duran bir cisme bir kuvvet etki etmedikçe bu cisim hareket etmez.
- D) Etle beslenen hayvanların çene yapıları otla beslenen hayvanların çene yapılarına göre daha güçlüdür.

3. "... Yeryüzüne dağılın ve Allah'ın lütfunu isteyin." (Cuma suresi,10.ayet)

Bu ayette ifade edilen kavram aşağıdakilerden hangisidir?

- A) Rızık B) Ecel C) İrade D) Tevekkül

4. Aşağıdakilerden hangisi Ayet'el-Kürsi'de yer almaz?

- A) La te'huzuhusinetün ve la nevm
- B) Ve yegulul kafiru ya leyteni kuntü türaba
- C) Men zelleziyeşfeuidehu illa biiznih
- D) Vesi'akürsiyyuhü's-semavative'l-ard

5. Sadaka ile ilgili aşağıdaki ifadelerden hangisi söylenemez?

- A) Az sadaka çok belayı önler.
- B) Yalnızca Allah rızası için verilmelidir.
- C) Sadece maddi değerlerle olmaz.
- D) Yapılması farz olan bir ibadettir.

6. "Komşusu aç iken tok yatan bizden değildir."

Bu hadiste aşağıdakilerden hangisinin önemi vurgulanmıştır?

- A) Sabrın B) Paylaşmanın
C) Adaletin D) Hoşgörünün

7. Adak kurbanı kestiren bir kimsenin, aşağıdaki yakınlarından hangisi adağın etinden yiyebilir?

- A) Annesi B) Çocukları
C) Dedesi D) Amcası

8. Safa ve Merve Tepeleri arasında hızlı adımlarla yedi defa gidip gelerek yapılan ibadet aşağıdakilerden hangisidir?

- A) Sa'y B) Tavaf C) Vakfe D) Şavt

9. Mekke şehrinin çevresinde, ihrama girmek için belirlenmiş yerlere ne ad verilir?

- A) Arafat B) Kabe C) Mikat D) Müzdelife

10. Aşağıdakilerden hangisi zekat verilecek mallardan biri değildir?

- A) Altın ve gümüş B) İçinde oturulan ev
C) Koyun ve keçi D) Ticaret malları

11. Mekkeli müşrikler, Hz.Muhammed(sav.)'i davasından vazgeçirmeye çalışmışlardır. Bunda başarılı olamayınca O'na ve İslam'a inananlara çeşitli işkenceler ve ambargolar uygulamışlardır. Fakat Peygamberimiz davasından vazgeçmemiştir.

Bu metinde Hz. Muhammed(sav.)'in hangi yönü vurgulanmaktadır?

- A) Hakkı gözetmesi B) Çalışmayı sevmesi
C) Sabırlı oluşu D) Danışarak iş yapması

1. OTURUM

12. “Ya öğreten, ya öğrenen, ya dinleyen ya da bunları seven ol. Fakat beşincisi olma helak olursun.”

Bu hadiste aşağıdakilerden hangisinin önemi vurgulanmıştır?

- A) Merhamet B) Sabır
C) Sevgi D) İlim

13. Hz. Muhammed(sav.)’in Hılfu’l-Fudul (Erdemliler Topluluğu)’a katılma sebebi aşağıdakilerden hangisidir?

- A) İstişare için ortam oluşturmak
B) Haksızlıkları önlemeye çalışmak
C) İslam’ı diğer toplumlara yaymak
D) Kabe’nin tamiri için destek sağlamak

14. Aşağıdaki hadislerden hangisi Hz. Muhammed(sav.)’in bilgiye önem verdiğini göstermektedir?

- A) “Merhamet etmeyene merhamet edilmez.”
B) “Sizin en hayırlınız insanlara faydalı olanınızdır.”
C) “Bilgi öğrenmek amacıyla yola çıkan kişi, dönünceye kadar Allah yolundadır.”
D) “Hiç kimse kendi emeği ile kazandığından daha hayırlı bir lokma yememiştir.”

15. Aşağıdakilerden hangisi bir düşünceye, inanışa körü körüne aşırı derecede bağlanıp ondan başkasını düşünememe durumunu ifade eden kavramdır?

- A) Hurafe B) Bağlılık
C) Ruhbanlık D) Taassup

16. “Umulur ki düşünürsünüz diye ayetlerimizi size böyle açıklıyoruz.”

(Bakara suresi, 76. ayet)

Bu ayetten aşağıdaki sonuçlardan hangisine ulaşılabilir?

- A) Evren mükemmel bir düzen içinde yaratılmıştır.
B) İnsan, yaptığı her davranışın karşılığını görecektir.
C) Allah, insanlardan akıllarını kullanmalarını istemektedir.
D) Dinin anlaşılması için Hz. Muhammed(sav.)’e ihtiyaç vardır.

17. “Hastalık gelmeden önce sağlığın... ölüm gelmeden önce hayatın değerini bilin.”

Bu hadiste aşağıdakilerden hangisi vurgulanmaktadır?

- A) Ölüm bir yok oluş değildir.
B) İnsan her an Allah’ı düşünmelidir.
C) Allah, insanı diğer varlıklardan üstün yaratmıştır.
D) İnsan, vücudunun bir emanet olduğunu bilip ona göre davranmalıdır.

18. Hz. İsa ile ilgili aşağıda verilen bilgilerden hangisi yanlıştır?

- A) Annesi Hz. Meryem’dir.
B) Roma şehrinde dünyaya gelmiştir.
C) Bazı insanlar O’nu Allah’ın oğlu olarak kabul ederler.
D) 30 yaşına geldiğinde peygamber olarak görevlendirilmiştir.

19. Hindu inancına göre ruh ölümsüzdür. Geçmişte yaptıklarının karşılığını başka bir bedende tekrar dünyaya gelerek görecektir.

Hinduizm’deki bu neden-sonuç yasasına ne denmektedir?

- A) Karma B) Brahma C) Veda D) Buda

20. Aşağıdaki kavramlardan hangisi Yahudilik’e aittir?

- A) Havra B) Havari
C) Kast D) Tipitaka

SINAV SÜRESİNCE UYULACAK KURALLAR

1. Adaylar, sınav kurallarına ve salon görevlilerinin tüm uyarılarına uymak zorundadırlar. Kurallara ve uyarılara uymayan adayların sınavları geçersiz sayılacaktır.
2. Sınav başladıktan sonra adayların salon görevlileri ve birbirleri ile konuşmaları, kalem, silgi vb. şeyleri istemeleri yasaktır.
3. Adaylar sınav süresince, sınav giriş belgesi ile birlikte kimlik belgelerinden birini (nüfus cüzdanı, pasaport veya sürücü belgesi) masalarının üzerinde bulundurmamak zorundadırlar.
4. Sınav evraklarını teslim etmeyen, soru kitapçıklarının sayfalarından bir kısmını eksik teslim edenlerin sınavları geçersiz sayılacaktır.

SALON GÖREVLİLERİNCE SINAV BAŞLAMADAN ÖNCE ADAYLARA YAPILACAK SON UYARI

- Soracağınız bir şey var mı? Varsa, şimdi sorunuz.
- Sınav başladıktan sonra sorularınıza cevap verilmeyecektir.
- Başlama zilini bekleyiniz.
- Hepinize başarılar dileriz.

(Salon başkanı başlama ve bitiş saatini tahtaya yazacaktır.)

Bu kitapçığın her hakkı saklıdır. Hangi amaçla olursa olsun, kitapçığın tamamının veya bir kısmının Millî Eğitim Bakanlığı Ölçme, Değerlendirme ve Sınav Hizmetleri Genel Müdürlüğünün yazılı izni olmadan kopya edilmesi, fotoğraflarının çekilmesi, bilgisayar ortamına alınması, herhangi bir yolla çoğaltılması, yayımlanması veya başka bir amaçla kullanılması yasaktır. Bu yasağa uymayanlar, doğabilecek cezai sorumluluğu ve kitapçığın hazırlanmasındaki mali külfeti peşinen kabullenmiş sayılır.

20 MART 2016 TARİHİNDE YAPILAN
AÇIK ÖĞRETİM ORTAOKULU 2015-2016 ÖĞRETİM YILI 2. DÖNEM SINAVI
1. OTURUM CEVAP ANAHTARI

TÜRKÇE – 5	FEN BİLİMLERİ – 5	İNGİLİZCE – 6	FRANSIZCA – 6
1. D 2. C 3. A 4. B 5. C 6. B 7. D 8. D 9. C 10. A 11. C 12. B 13. A 14. A 15. D 16. A 17. D 18. B 19. C 20. A	1. B 2. C 3. D 4. B 5. D 6. A 7. A 8. B 9. A 10. B 11. A 12. D 13. A 14. C 15. D 16. A 17. C 18. D 19. C 20. D	1. B 2. A 3. D 4. D 5. C 6. A 7. C 8. A 9. C 10. B 11. D 12. C 13. B 14. A 15. A 16. D 17. B 18. C 19. B 20. C	1. C 2. A 3. D 4. B 5. D 6. D 7. C 8. B 9. B 10. C 11. A 12. D 13. C 14. A 15. D 16. C 17. C 18. D 19. A 20. B
MATEMATİK – 5	SOSYAL BİLGİLER – 6	ALMANCA – 6	DİN KÜLTÜRÜ ve AHLAK BİLGİSİ – 6
1. D 2. B 3. A 4. D 5. B 6. C 7. A 8. C 9. A 10. D 11. C 12. B 13. D 14. D 15. B 16. C 17. A 18. C 19. B 20. A	1. B 2. D 3. C 4. A 5. B 6. B 7. C 8. D 9. D 10. C 11. B 12. B 13. A 14. D 15. A 16. C 17. B 18. D 19. A 20. D	1. A 2. C 3. B 4. D 5. A 6. B 7. B 8. C 9. D 10. C 11. A 12. D 13. A 14. D 15. B 16. C 17. D 18. B 19. A 20. C	1. C 2. B 3. C 4. D 5. A 6. D 7. C 8. B 9. A 10. B 11. D 12. C 13. A 14. B 15. D 16. A 17. B 18. D 19. B 20. C

20 MART 2016 TARİHİNDE YAPILAN
AÇIK ÖĞRETİM ORTAOKULU 2015-2016 ÖĞRETİM YILI 2. DÖNEM SINAVI
1. OTURUM CEVAP ANAHTARI

TÜRKÇE – 7	FEN ve TEKNOLOJİ – 7	İNGİLİZCE – 8	FRANSIZCA – 8
1. C	1. A	1. B	1. B
2. A	2. D	2. C	2. A
3. C	3. B	3. A	3. C
4. D	4. A	4. A	4. D
5. B	5. D	5. D	5. C
6. A	6. C	6. B	6. A
7. B	7. D	7. B	7. B
8. C	8. A	8. D	8. D
9. B	9. A	9. B	9. D
10. C	10. C	10. C	10. B
11. A	11. B	11. A	11. A
12. B	12. B	12. C	12. C
13. D	13. C	13. A	13. B
14. C	14. D	14. D	14. A
15. A	15. C	15. B	15. D
16. D	16. C	16. B	16. C
17. B	17. B	17. C	17. B
18. C	18. A	18. A	18. D
19. A	19. C	19. D	19. A
20. D	20. B	20. C	20. C

MATEMATİK – 7	TC İNK. TAR. VE ATA. – 8	ALMANCA – 8	DİN KÜLTÜRÜ ve AHLAK BİLGİSİ – 8
1. C	1. A	1. C	1. C
2. D	2. D	2. A	2. B
3. A	3. C	3. B	3. A
4. D	4. B	4. D	4. B
5. C	5. B	5. C	5. D
6. A	6. C	6. D	6. B
7. C	7. D	7. A	7. D
8. C	8. A	8. C	8. A
9. B	9. A	9. B	9. C
10. B	10. D	10. A	10. B
11. A	11. C	11. D	11. C
12. B	12. B	12. C	12. D
13. A	13. C	13. B	13. B
14. B	14. D	14. A	14. C
15. C	15. A	15. D	15. D
16. D	16. B	16. C	16. C
17. A	17. A	17. B	17. D
18. B	18. D	18. D	18. B
19. D	19. C	19. B	19. A
20. C	20. B	20. A	20. A