



# ADİYAMAN İL MİLLÎ EĞİTİM MÜDÜRLÜĞÜ

## KAZANIM PEKİŞTİRME ÇALIŞMASI

LIFE FITS INTO HOME

HAYAT EVE SIĞAR



**2. SINIF**  
**11-16 MAYIS**

**4.**  
**SAYI**

## **BU KİTAPÇIKTA**

TÜRKÇE	15 SORU
MATEMATİK	15 SORU
HAYAT BİLGİSİ	15 SORU
İNGİLİZCE	10 SORU

Yer almaktadır.

Not: Cevap anahtarı soruların yayımlandığı günden sonraki pazartesi günü <http://adiyaman.meb.gov.tr/> duyurular sekmesinde açıklanacaktır.

Bu çalışmada yer alan Borsa İstanbul ilkokulu, Cumhuriyet ilkokulu, Mehmetçik ilkokulu, Menderes ilkokulu idareci ve öğretmenlerine teşekkürler...

ADİYAMAN MEM

2020

## 2. SINIF KAZANIM PEKİŞTİRME TESTİ

### TÜRKÇE DERSİ

Hava çok güzeldi. Ece hava almak için bahçeye çıktı, mis gibi havayı ve çiçekleri kokladı. Etraf yeşillenmiş, göçmen kuşlar bu yıl da dönmüştü. Ece leylekleri ve kırlangıçları görünce çok mutlu oldu.

Aklına baharı anlatan o şarkı geldi. Herkesin duyacağı şekilde söylemeye başladı:

-Leyleği gördüm dün havada süzüle süzüle uçuyordu,

Sevinç içindeydi kuzular, hepsi kırdı koşuyordu... **Şarkısı bitince huzurlu bir şekilde evine döndü.**

**1'den 8'e kadar olan soruları yukarıdaki metne göre cevaplayın.**

**1. Yukarıdaki metne en uygun başlık nedir?**

- A) Leylek                                      B) Ece'nin Bahar Sevinci                      C) Kırlangıç

**2. Aşağıdakilerden hangisi metnin kahramanlarından biri değildir?**

- A) Göçmen kuşlar                                      B) Ece                                      C) Kelebekler

**3. Metine göre Ece hava almak için nereye çıktı?**

- A) Sokağa                                      B) Bahçeye                                      C) Yola

**4. Okuduğunuz metin hangi mevsimde geçmektedir?**

- A) İlkbahar                                      B) Yaz                                      C) Sonbahar

**5. Metinde hangi kuş türü yoktur?**

- A) Leylek                                      B) Kırlangıç                                      C) Serçe

6. Metine göre Ece neden mutlu oldu?


- A) Bahçeye çıktığı için
- B) Leylek ve kırlangıçları gördüğü için
- C) Evden çıkabildiği için

7. Metindeki “yıl” sözcüğünün eş anlamlısı nedir?

- A) Bahar
- B) Mevsim
- C) Sene

8. Aşağıdaki hangi görsel metne uygun değildir?

A)



B)



C)



9. Aşağıdaki sözcüklerle anlamları eşleştirildiğinde hangi sözcük dışarıda kalır?

meslek	sağlık	maaş	dost
--------	--------	------	------

- Sevilen ve güvenilen yakın arkadaş
- Bir kimsenin geçimini sağlamak için yaptığı iş
- Vücudun ve ruhun iyi ya da kötü olması

- A) Meslek
- B) Maaş
- C) Dost

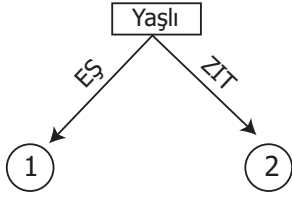
10.

Cevap	
öğrenci	
hatıra	

Yukarıdaki kelimelerin yanlarına sırasıyla getirilecek eş anlamlı kelimeler hangileridir?

- A) yanıt- talebe-anı
- B) sual-öğretmen-armağan
- C) yanıt-okul-hediye

11.



Numaralı yerlere hangi kelimeler yazılmalıdır?

1

2

- A) genç                      ihtiyar  
 B) ihtiyar                  genç  
 C) ihtiyar                  delikanlı

12. “vatan-yurt” kelimeleri arasındaki anlam ilişkisi hangi kelime çiftlerinde vardır?



uzun - kısa



dar - geniş



basit - kolay



millet - ulus

A)



B)



C)



13. Satırlarının her birine dize, yazan kişiye ozan adı verilen metin türü aşağıdakilerden hangisidir?

A) Şiir

B) Düz yazı

C) Hikaye

14.

elli   okudum   tatilde   kitap  
 1                      2                      3                      4

Yukarıdaki kelimelerle anlamlı ve kurallı bir cümle oluşturulduğunda sıralama nasıl olur?

A) 2-3-1-4

B) 3-1-4-2

C) 1-2-3-4

15. Sözcüklerinin arasında uygun boşluk bırakılan cümle hangisidir?

- A) Akşamüzeri çok uykum geldi.  
 B) İlkbaharda bahçeye çiçek ve ağaç dike biliriz.  
 C) Kitap okumak hayal dünyamızı geliştirir.

## 2. SINIF KAZANIM PEKİŞTİRME TESTİ

### MATEMATİK

1. Kitabımın kısa kenarının uzunluğunu ölçmek için aşağıdaki ölçülerden hangisiyle ölçüm yapmam en uygun olur?

A)



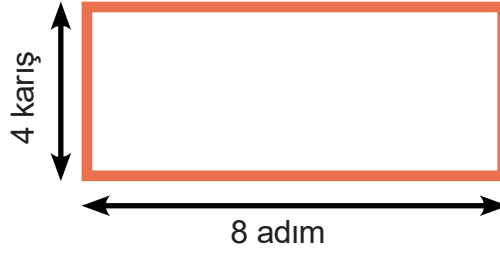
B)



C)



2. Aşağıdaki şeklin bütün çevresinin uzunluğu ne kadardır?



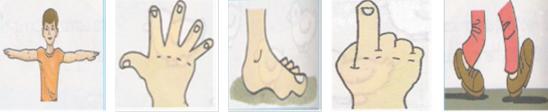
A) 15 adım 9 karış

B) 16 adım 10 karış

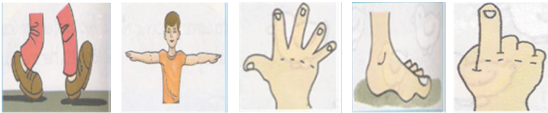
C) 16 adım 8 karış

3. Aşağıdaki doğal ölçüler hangi seçenekte küçükten büyüğe doğru sıralanmıştır?

A)



B)



C)



4. Ayşe sınıfın boyunu ölçerken aşağıdakilerden hangisini kullanırsa kesin sonuç elde eder?

A)



B)



C)



5. Yandaki televizyonun uzun kenarı 90 cm kısa kenarı 49 cm'dir.

**Bu televizyonun uzun kenarı, kısa kenarından kaç cm daha uzundur?**



- A) 40 cm                      B) 41 cm                      C) 42 cm

6. Aşağıdakilerden hangisi kütle ölçü birimi olan kilogramdır?

A)



B)



C)



7. Aşağıdakilerden hangisi kilogram ile tartılmaz?

A)




B)



C)



8. Aşağıda Can, Tolga ve Ebru'nun ağırlıklarını **hafiften ağıra doğru sıralarsak** sıralama nasıl olur?



- A) Ebru - Tolga - Can                      B) Tolga - Can - Ebru                      C) Tolga - Ebru - Can

9. İsmail, anneler gününde çiçekçiden hediye olarak çiçek demeti yaptırdı. Çiçek demetine 5 adet gül, 3 adet karanfil, 4 adet papatya ile 2 adet lüle koydurdu.

**Buna göre nesne grafiği aşağıdakilerden hangisidir?**

A)

Gül					
Karanfil					
Papatya					
Lüle					



























B)

Çiçek Türü	Çiçek Sayısı
Gül	HHH
Karanfil	III
Papatya	IIII
Lüle	II

C)

Çiçek Türü	Çiçek Sayısı
Gül	5
Karanfil	3
Papatya	4
Lüle	2

10. Aşağıda verilen şekil grafiğinde 2. Sınıflardaki öğrenci sayıları belirtilmiştir.

				
				
				
				
				
				
2-A	2-B	2-C	2-D	2-E

(Her resim 5 kişiyi gösterir.)

Yukarıdaki grafiğe ait tablo aşağıdakilerden hangisidir?

A)















Sınıflar	Sınıf Mevcudu
2-A	20
2-B	30
2-C	15
2-D	20
2-E	30

B)

Sınıflar	Sınıf Mevcudu
2-A	25
2-B	30
2-C	25
2-D	20
2-E	30

C)

Sınıflar	Sınıf Mevcudu
2-A	25
2-B	40
2-C	35
2-D	20
2-E	35

11. Gül					
Karanfil					
Papatya					
Lale					



























Yukarıdaki nesne grafiğine ait çetele hangisidir?

A)	Gül					
	Karanfil					
	Papatya					
	Lale					

B)	Çiçek Türü	Çiçek Sayısı
	Gül	HHH
	Karanfil	III
	Papatya	IIII
	Lale	II

C)	Çiçek Türü	Çiçek Sayısı
	Gül	5
	Karanfil	3
	Papatya	4
	Lale	2

12. Aşağıda verilen şekil grafiğine göre en az mevcudu olan sınıf 2-D sınıfı olup 20 kişidir. Buna göre bu grafikte her şekil kaç kişiyi göstermektedir?

				
				
				
				
				
				
2-A	2-B	2-C	2-D	2-E





















A) 4

B) 5

C) 6

Küresteki hayvanlar aşağıdaki nesne grafiğinde belirtilmiştir.

13, 14 ve 15. soruları aşağıdaki nesne grafiğindeki verilere göre cevaplayınız.

Tavuk							
Horoz							
Civciv							
Hindi							

**Not:** Her nesne 4 hayvanı göstermektedir.

13. Küreste kaç civciv vardır?

A) 25

B) 26

C) 28

14. Küreste kaç hindi yaşıyor?

A) 24

B) 28

C) 16

15. Küreste kaç horoz bulunmaktadır?

A) 4

B) 8

C) 12

## 2. SINIF KAZANIM PEKİŞTİRME TESTİ

### HAYAT BİLGİSİ

1. Hangisi bitkilerin yararlarından değildir?

- A) Meyvelerini tüketiriz.
- B) Bizlere temiz hava verir.
- C) Balından faydalanırız.

2. Aşağıdakilerden hangisi ormanın faydalarındandır?

- A) İnsanlar için tehlikelidir.
- B) Birçok hayvanın ve bitkinin yaşam alanıdır.
- C) Çevreyi kirletirler.

- 3.
- Bitkiler canlılar için besin kaynağıdır.
  - Bitkiler havayı temizler
  - Bitkiler doğal çevreyi kirletir

**Bitkiler ile ilgili verilen bilgiler doğru (D), yanlış (Y) olarak değerlendirildiğinde hangi görünüm elde edilir?**

A)

D
D
Y

B)

D
Y
Y

C)

Y
Y
D

4. Canlılar ..... olmadan yaşayamazlar.

**Yukarıdaki boşluğa aşağıdaki seçeneklerden hangisi getirilmelidir?**

- A) Hava                                      B) Hayvanlar                                      C) Bitkiler

5. Evcil hayvanlarımız hastalandığında iyileştirmek için kime götürmeliyiz?

- A) Eczacıya                                      B) Veterinere                                      C) Mühendise

6. Bitkilerin yaşaması için gerekli olan maddeler aşağıda verilenlerden hangisidir?

- A) Toprak — Taş — Tohum
- B) Hava — Tohum — Ekmek
- C) Hava — Su — Güneş Işığı

7. Emir'in babası çok güzel bir köpek almış. Emir köpeğe bakabilmek için;

- 1- Yaşayacağı yeri hazırlamak.
- 2- Sağlıklı beslemek.
- 3- Gerekli sağlık kontrollerini yaptırmak.

**Emir, yukarıdakilerden hangilerini yapmalıdır?**

- A) 1 ve 2
- B) 1, 2 ve 3
- C) 2 ve 3

8. Bitkilerin büyümesi için aşağıdakilerden hangisi gerekli **değildir**?

- A) Güneş
- B) Su
- C) Ekmek

9. Aşağıdakilerden hangisi evcil hayvan beslemenin faydalarındandır?

- A) Sadece hayvanımızla oynarız.
- B) Sorumluluk almayı öğreniriz.
- C) Arkadaşlarımızdan uzaklaşırız.

10. Aşağıdakilerden hangisi etle beslenen bir hayvan **değildir**?

- A) Aslan
- B) Kurt
- C) Eşek

11. Okulda nohut çimlendirme etkinliği yaptık.

**Buna göre etkinlikteki bitkinin gelişim aşamaları aşağıdakilerden hangisi olabilir?**

- A) Tohum – Çimlenme – Yaprak açma
- B) Yaprak açma – Çimlenme – Tohum
- C) Yaprak açma – Tohum – Çimlenme

12. Doğanın korunmasını sağlamak için aşağıdakilerden hangisini **yapmamalıyız**?

- A) Ağaç dikmeliyiz.
- B) Doğal hayatı korumalıyız.
- C) Ormanları yakmalıyız.

13. Aşağıdakilerden hangisi evcil hayvan **değildir**?

- A) Ayı
- B) Kedi
- C) Köpek

14.1- Etinden yararlanırsınız

2- Sütünden yararlanırsınız

3- Yününden yararlanırsınız

4- Gücünden yararlanırsınız

**Yukarıda özellikleri verilen canlılar aşağıdakilerden hangisidir?**

- A) Bitkiler
- B) Hayvanlar
- C) Mantarlar

15. Aşağıdaki bitkilerden hangisi saksıda yetiştirilebilir?

- A) Gül
- B) Ağaç
- C) Karpuz

## 2. SINIF KAZANIM PEKİŞTİRME TESTİ

### İNGİLİZCE

#### 1. Kavram Haritasına göre yanlış olan ifade hangisidir?

Peach

Apple

Plane

Banana

A) Plane

B) Banana

C) Apple

#### 2. Aşağıdaki yönerge görsel eşleştirmelerinden hangisi yanlıştır?

A) Give me an apple, please. Here you are.



B) Give me a banana, please. Here you are.



C) Give me watermelon, please. Here you are.



#### 3. ve 4. Soruları yandaki görsele göre cevaplayınız.

#### 3. How many apples are there on the table?

There are ..... apples.

A) one

B) four

C) three

#### 4. How many red apples are there on the table?

There are ..... red apples.

A) one

B) four

C) three

#### 5. How many cherries are there?



A) three

B) two

C) one

6. I like ..... and .....



- A) orange and watermelon
- B) strawberry and peach
- C) apple and banana

7. Show me ....., please.



- A) apple
- B) banana
- C) orange

8. Do you like bananas?



- A) Yes, he does.
- B) Yes, I do.
- C) No, I don't.

9. Does she like orange ?



- A) Yes, she does.
- B) Yes, I do.
- C) No, she doesn't.

10. Does your friend like apples?

- A) Yes, I do.
- B) No, she doesn't.
- C) No, I don't

## **2.SINIF 4. HAFTA KAZANIM PEKİŞTİRME ÇALIŞMASI**

### **CEVAP ANAHTARI 11-15 MAYIS**

<b>TÜRKÇE</b>	<b>HAYAT BİLGİSİ</b>	<b>MATEMATİK</b>	<b>İNGİLİZCE</b>
<b>1- B</b>	<b>1-C</b>	<b>1-A</b>	<b>1-A</b>
<b>2-C</b>	<b>2-B</b>	<b>2-C</b>	<b>2-C</b>
<b>3-B</b>	<b>3- A</b>	<b>3-C</b>	<b>3-B</b>
<b>4-A</b>	<b>4-A</b>	<b>4-A</b>	<b>4-C</b>
<b>5-C</b>	<b>5-B</b>	<b>5-B</b>	<b>5-B</b>
<b>6-B</b>	<b>6-C</b>	<b>6-C</b>	<b>6-B</b>
<b>7-C</b>	<b>7-B</b>	<b>7-B</b>	<b>7-C</b>
<b>8-B</b>	<b>8-C</b>	<b>8-C</b>	<b>8-C</b>
<b>9-B</b>	<b>9-B</b>	<b>9-A</b>	<b>9-A</b>
<b>10-A</b>	<b>10-C</b>	<b>10-B</b>	<b>10-B</b>
<b>11-B</b>	<b>11-A</b>	<b>11-B</b>	
<b>12-C</b>	<b>12-C</b>	<b>12-B</b>	
<b>13-A</b>	<b>13-A</b>	<b>13-C</b>	
<b>14-B</b>	<b>14-B</b>	<b>14-A</b>	
<b>15-C</b>	<b>15-A</b>	<b>15-B</b>	

**İnsanın kalbi engelli  
olmasın zira bizi insan yapan  
kolumuz bacağımız değil**

**kalbimizdir...**

