



**3.**  
**SINIF**



**A**  
**KİTAPÇIK TÜRÜ**

**T.C.**  
**MİLLÎ EĞİTİM BAKANLIĞI**  
**ÖLÇME, DEĞERLENDİRME VE SINAV HİZMETLERİ**  
**GENEL MÜDÜRLÜĞÜ**

**TED ANKARA KOLEJİ VAKFI ÖZEL İLKOKULU VE ORTAOKULU SEÇME SINAVI**  
**(2. Sınıftan 3. Sınıfa Geçenler)**  
**13 HAZİRAN 2021 Saat: 14.00**

Adayın Adı ve Soyadı : .....

Aday Numarası (T.C. No) : .....

DERS ADI	SORU SAYISI	TOPLAM SORU SAYISI	SINAV SÜRESİ (DAKİKA)
TÜRKÇE	20	60	60
MATEMATİK	20		
HAYAT BİLGİSİ	20		

### ÖĞRENCİLERİN DİKKATİNE!

1. Sınıf öğrenci yoklama listesinde belirtilen sınıfta ve sıra numarasında oturunuz.
2. Cevap kâğıdındaki kimlik bilgilerinin doğruluğunu kontrol ediniz.
3. Kitapçık türünü cevap kâğıdındaki ilgili alana kodlayınız.
4. Cevap kâğıdı üzerindeki kodlamaları kurşun kalemle yapınız.

**3. SINIF 2021**



**SINAV BAŞLAMADAN ÖNCE KİTAPÇIĞIN ARKA KAPAĞINDAKİ UYARILARI MUTLAKA OKUYUNUZ.**





1. 1. Karga  
2. Kavun  
3. Kalem  
4. Karış

Numaralanmış sözcüklerin sözlük sırasına göre dizilişi aşağıdakilerden hangisidir?

- A) 1 - 3 - 4 - 2  
C) 3 - 2 - 1 - 4

- B) 1 - 2 - 4 - 3  
D) 3 - 1 - 4 - 2

2. "Büyük ve gösterişli ev" anlamını karşılayan sözcüğün görseli aşağıdakilerden hangisidir?



3. Arkadaşlarım benimle görüşmek için eskisi kadar sık gelmiyorlardı.

**Bu cümlede geçen "görüşmek" sözcüğünün anlamı aşağıdakilerden hangisidir?**

- A) Tanık olmak
- B) Sohbet etmek
- C) Fırsat bulmak
- D) Saygı duymak

4. Aşağıdaki cümlelerin hangisinde zıt anlamlı sözcükler bir arada kullanılmıştır?

- A) Yarışmada bitiş çizgisine ilk ben ulaştım.
- B) Kuş Cennetinde yer gök kuşlarla doluydu.
- C) Ablam ve ben her sabah kedileri besleriz.
- D) Bahçeden içeri girdiğimizde meyve ağaçlarını gördük.

5. Bazı zamanlar kamp kurarak doğayı yakından tanıyabiliriz.

**Bu cümledeki altı çizili sözcüğün eş anlamlısı aşağıdakilerin hangisinde vardır?**

- A) Tabiatı korumak için çaba gösteriyoruz.
- B) Arkadaşlarımla çevreye atılan çöpleri topluyoruz.
- C) Okulumuz adına bir hatıra ormanı oluşturuyoruz.
- D) Ağaçların bulunduğu yerlere hayvanlar için yuva yapıyoruz.



6. 1. spor  
2. için  
3. yapmak  
4. yaşam

Sağlıklı - - - - - önemlidir.

Anlamlı bir cümle oluşturmak için numaralanmış sözcükler yukarıdaki boşluklara hangi sırayla yerleştirilmelidir?

- A) 1 - 2 - 4 - 3  
C) 4 - 1 - 2 - 3

- B) 1 - 4 - 3 - 2  
D) 4 - 2 - 1 - 3

7. Açık renkli ve yüksek bulutlar güzel havanın habercisidir. Koyu renkli ve alçak bulutlar ise havanın yağışlı olabileceğini gösterir. Bu bulutlar aynı zamanda gök gürültülü bir fırtına olabileceğini de belirtir.

Bu metnin konusu aşağıdakilerden hangisidir?

- A) Bulutların insan yaşamı için önemi  
B) Yağmur bulutlarının renk çeşitliliği  
C) Bulutların özelliklerine göre hava tahmini  
D) Bulutların şekillerine göre sınıflandırılması

8. Bu seneki bilim şenliği, gelecek hafta okulumuzda yapılacak.

Bu cümlede aşağıdaki sorulardan hangisinin cevabı yoktur?

- A) Ne?                      B) Niçin?                      C) Nerede?                      D) Ne zaman?

9. 1. Listede yer alan Galata Kulesi ilk durağımız oldu.  
2. Bu iki tarihî yeri gezdikten sonra dinlenmek için yarım saatimiz vardı.  
3. Planlı bir gezi olması için öncelikle gezeceğimiz yerlerin listesini yaptık.  
4. Ardından Topkapı Sarayı'nı gezdik.

Numaralanmış cümleler olayların oluş sırasına göre nasıl sıralanmalıdır?

A) 1 - 2 - 4 - 3

B) 1 - 3 - 2 - 4

C) 3 - 1 - 4 - 2

D) 3 - 2 - 4 - 1

10. Atalarım, gökten yere  
İndirmişler ay yıldızı  
Bir buluta sarmışlar ki  
Rengi şafaktan kırmızı

Bu şiirin konusu aşağıdakilerin hangisidir?

A) Bayrak

B) Vatan

C) Gezegenler

D) Renkler

11. Aşağıdakilerin hangisinde büyük harflerin kullanımıyla ilgili bir yazım yanlışı yapılmıştır?

A) Ailemle Kurban Bayramı'nı köyde geçireceğiz.

B) Onu en son 13 Mart'taki düğünde görmüştüm.

C) Mehmet Paşa sokağında çocukken bisiklet sürerdik.

D) Sınıf arkadaşım tatilde Samsun'a gzmeye gitti.

12. Selim ( ) Hakan ( )a “Hey ( ) Seninle basketbol oynayalım mı ( )” dedi. Bu cümlede yay ayraç ( ) ile gösterilen yerlere sırasıyla aşağıdaki noktalama işaretlerinden hangileri getirilmelidir?

A) (,) (') (!) (?)  
C) (,) (!) (!) (?)

B) (,) (') (?) (!)  
D) (,) (') (,) (!)

13. Ormanda yürümeyi seven biri olarak her fırsatta doğayı gözlemlerim. Uzun ağaçlardan uçan kuşlara, görkemli dağlardan minik böceklere kadar her şeyi incelerim. Doğa hakkında araştırma yapıp notlar almak insanlara çok kıymetli bilgiler verir.

Bu sözleri söyleyen biri için aşağıdakilerden hangisi söylenebilir?

A) Meraklı  
C) Sabırsız

B) Telaşlı  
D) Kaygısız

14. Aşçılık mesleği, genellikle bu alana özgü meslek okullarında veya kurslarında öğrenilir. Ayrıca deneyimli aşçıların yanında yetişen aşçılar da vardır. Aşçılar, eğitimleri sırasında pek çok yemeğin yapılışını öğrenir. Yeni ve farklı tarifler bulabilirler. Çok araştırmak, çok gezmek, farklı yörelerin ve ülkelerin yemeklerini tatmak aşçıları mesleki açıdan zenginleştirir.

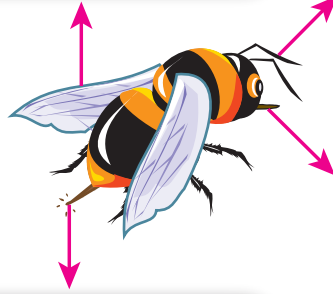
Bu metinde “aşçılar” ile ilgili aşağıdakilerden hangisine değnilmemiştir?

A) Yeni tarifler keşfettiklerine  
B) Tatları çok iyi bilmeleri gerektiğine  
C) Tecrübeli aşçıların yanında da yetiştiklerine  
D) Araştırma yaparak kendilerini geliştirdiklerine

15.

Güçlü kanatları uzun süre uçabilmelerini sağlar.

Antenleri ile etrafta olup bitenleri hisseder.



Çiçek özü toplayabilmek için ağızlarındaki hortumu kullanır.

İğnesini kendini korumak için kullanır.

Bu bilgilere göre “bal arısı” ile ilgili aşağıdakilerden hangisine ulaşamaz?

- A) Hortumuyla çiçeklerin özünü alır.
- B) İğnesini savunma amacıyla kullanır.
- C) Kanatlarıyla uzun zaman uçabilir.
- D) Antenleri beslenmelerinde oldukça etkilidir.

16.



1



2



3



4



5

Çömlek yapımıyla ilgili numaralanmış görsellerin oluş sırasına göre sıralanışı aşağıdakilerin hangisidir?

A) 1 - 4 - 3 - 5 - 2

B) 1 - 5 - 3 - 2 - 4

C) 5 - 1 - 4 - 3 - 2

D) 5 - 4 - 3 - 2 - 1

17.

Yunuslar hiçbir zaman tam bir uykuya dalmaz. Beyinlerinin bir yarısı uyurken diğer yarısı uyanıktır. Ayrıca beyinlerinin sol yarısı uyuyorsa sağ gözleri, sağ yarısı uyuyorsa sol gözleri kapalıdır. Yani yunuslar uyurken bir gözleri açık kalır. Bunun sonucunda yunuslar, yaklaşan tehlikeleri görebilirler.

Bu metne göre yunusların uyurken tek gözünün açık kalmasının nedeni aşağıdakilerden hangisidir?

A) Beyinlerinin yarısının uyanık kalması

B) Göz yapılarının daha büyük olması

C) Uykuya dalmakta güçlük yaşaması

D) Çevreden gelebilecek zararları görmesi

18. Kalabalık bir parka gelmişim. Etraf insanlarla doluydu. Yaşlı bir amcanın ayağının yanından geçtim. Beni fark etmedi bile. Buraya gelen birkaç köpek görünce hemen ağaca tırmandım. Köpekler uzaklaştığında ağaçtan indim. Arkamdan "Gel, pisi pisi!" diye bir ses duydum. Bir çocuk beni çağırıyordu.

**Bu metinde geçen olayı anlatan varlık aşağıdakilerden hangisidir?**

- |          |               |
|----------|---------------|
| A) Köpek | B) Kedi       |
| C) Çocuk | D) Yaşlı amca |

19. Güzel söz kullanan insanlar için açılmayacak bir kapı yoktur. Güler bir yüz, güzel bir konuşmayla tamamlandığı zaman bütün sorunlar çözülebilir. Gönüller onunla fethedilir. Güzel sözlerin mucizesi işte budur.

**Bu metni özetleyen söz aşağıdakilerin hangisidir?**

- A) Kişinin değerini konuşmasıyla ölçebiliriz.  
B) Dikkatli dinlersek daha iyi anlarız.  
C) Etkili konuşmayı zamanla öğreniriz.  
D) Tatlı dille insanları ikna edebiliriz.

20. Bir yarışmanın afişi aşağıda verilmiştir.




Bu afişteki bilgilerden aşağıdakilerin hangisine ulaşamaz?

- A) Yarışmaya 3. sınıf öğrencileri başvurabilir.
- B) Yarışmaya 18 Mayıs 2021’de başvurulabilir.
- C) Dereceye giren resimler okulda sergilenecektir.
- D) Yarışmada 2. olan öğrenciye ödül verilecektir.

TÜRKÇE TESTİ BİTTİ.  
MATEMATİK TESTİNE GEÇİNİZ.



1.



Aşağıdakilerin hangisinde verilen fasulyelerin sayısı yanlış yazılmıştır?

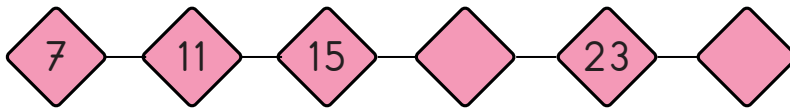
A)  sayısı: 20

B)  sayısı: 22

C)  sayısı: 24

D)  sayısı: 36

2.



Verilen sayı örüntüsünde boş bırakılan yerlere sırasıyla aşağıdakilerden hangisi gelir?

A) 18 ve 26

B) 18 ve 27


C) 19 ve 26

D) 19 ve 27




3. Bir etkinlikte, verilen sayılar en yakın onluğa yuvarlandığında elde edilen sayının yazdığı elma boyanacaktır.

Örneğin; Verilen sayı = 32



Bu etkinliğe göre aşağıdakilerden hangisi yanlış boyanmıştır?

A) Verilen sayı = 25



B) Verilen sayı = 48



C) Verilen sayı = 54



D) Verilen sayı = 66



4. P, R, S ve T kartlarında verilen toplama işlemlerindeki toplanan sayılar en yakın onluğa yuvarlanarak sonuçları tahmin edilecektir.

$$44 + 34$$

P

$$46 + 34$$

R

$$45 + 32$$

S

$$43 + 35$$

T

Buna göre hangi karttaki işlemin tahmini sonucu diğerlerinden daha küçüktür?

A) P

B) R

C) S

D) T

5. İki basamaklı bir doğal sayının rakamlarının basamak değerleri farkı 23'tür. Buna göre bu doğal sayı aşağıdakilerden hangisidir?

A) 33                      B) 35                      C) 37                      D) 39

6.  $16 + 4 = 20$

Verilen işlem aşağıdaki problemlerden hangisinin çözümü olabilir?

- A) Esmâ'nın 20 kalemi vardı. Arkadaşı 4 kalem daha verdi. Esmâ'nın kaç kalemi oldu?  
B) Yaşları 16 ve 4 olan iki kardeşin yaşları farkı kaçtır?  
C) 16 lira 4 çocuğa, her bir çocuk eşit miktarda para alacak biçimde paylaştırılmıştır. Buna göre her bir çocuk kaç lira almıştır?  
D) İki torbadan birinde 16 kg şeker, diğerinde 4 kg şeker vardır. Buna göre bu iki torbada toplam kaç kg şeker vardır?

7.  $\blacktriangle - 27 = 37 + 29$

Verilen eşitlikte  $\blacktriangle$  bir doğal sayıdır.

Buna göre  $\blacktriangle$  kaçtır?

A) 94                      B) 93                      C) 84                      D) 83

8. Kırmızı, beyaz ve sarı güllerin bulunduğu bir bukette toplam 86 tane gül vardır. Bu buketteki kırmızı güllerin sayısı 26, beyaz güllerin sayısı 32'dir.

Buna göre bu buketteki sarı güllerin sayısı kaçtır?

- A) 38                      B) 34                      C) 28                      D) 24

9. Görseldeki demlik 4 kupa çay, 1 kupa ise 2 çay bardağı çay alıyor.

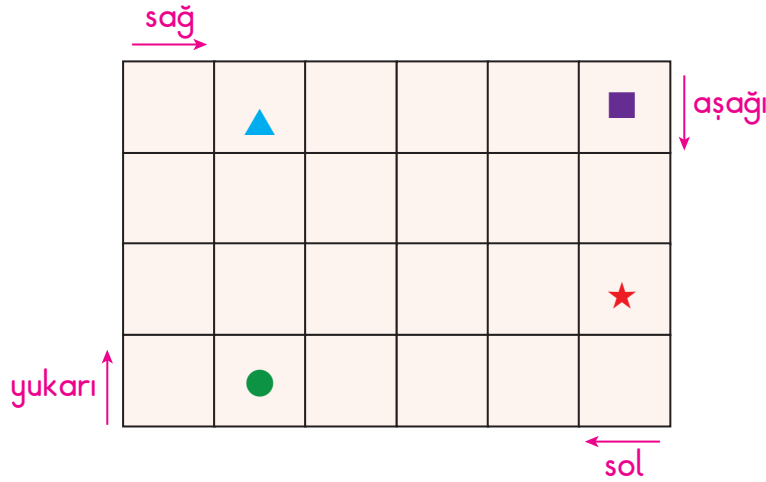


İçinde çay olan dolu bir demlik ile 1 kupa ve 3 çay bardağı tamamen doldurulmuştur.

Buna göre bu demlikte kaç çay bardağı çay kalmıştır?

- A) 2                      B) 3                      C) 4                      D) 5

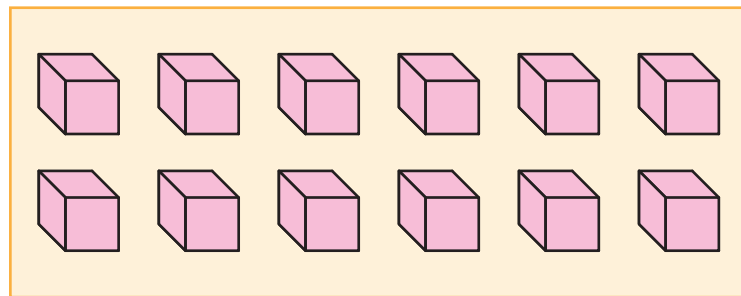
10. Aşağıdaki tablo yirmi dört eş kutudan oluşmuştur.



Tabloya göre aşağıdakilerden hangisi yanlıştır?

- A) ▲ 3 kutu aşağı götürüldüğünde ● ile aynı kutuda olur.
- B) ■ 4 kutu sola götürüldüğünde ▲ ile aynı kutuda olur.
- C) ★ 2 kutu yukarı götürüldüğünde ■ ile aynı kutuda olur.
- D) ● 4 kutu sağa götürüldüğünde ★ ile aynı kutuda olur.

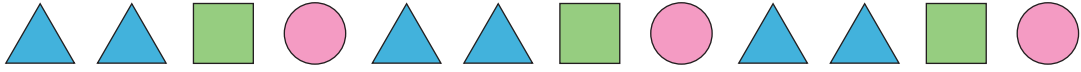
11.



















































Görseldeki küpler üst üste veya yan yana konularak aşağıdaki geometrik cisimlerden hangisi elde edilebilir?

- A) Silindir
- B) Üçgen prizma
- C) Küre
- D) Dikdörtgenler prizması

12. Aşağıda bir geometrik örüntü verilmiştir.



Buna göre aşağıdaki , ,  şekilleri ile oluşturulmuş geometrik örüntülerden hangisinin kuralı verilen geometrik örüntünün kuralından farklıdır?

- A)            
- B)            
- C)            
- D)            

13. Aşağıdakilerden hangisinin sonucu diğerlerinden farklıdır?

- A)  $4 + 4 + 4 + 4 + 4 + 4$
- B)  $8 + 8 + 8$
- C)  $6 + 6 + 6 + 6 + 6$
- D)  $3 + 3 + 3 + 3 + 3 + 3 + 3 + 3$

14. Bir kitaplıkta 4 tane raf vardır. Bu rafların her birinde ise 8 tane kitap vardır.

Buna göre bu kitaplıkta toplam kaç tane kitap vardır?

- A) 24                      B) 28                      C) 32                      D) 36

15.

$$\begin{array}{r|l} 16 & 2 \\ -16 & 8 \\ \hline 00 & \end{array}$$

Verilen bölme işleminin ardışık çıkarma işlemi ile yapılışı aşağıdakilerden hangisidir?

A)  $16 - 2 = 14$

B)  $16 - 4 = 12$

$14 - 2 = 12$

$12 - 4 = 8$

$12 - 2 = 10$

$8 - 4 = 4$

$10 - 2 = 8$

$4 - 4 = 0$

$8 - 2 = 6$

$6 - 2 = 4$

$4 - 2 = 2$

$2 - 2 = 0$

C)  $16 - 8 = 8$

D)  $16 - 16 = 0$

$8 - 8 = 0$

16. 18 tane kalem 6 kişiye her biri eşit sayıda kalem alacak biçimde paylaştırılmıştır.

Buna göre bir kişi kaç tane kalem almıştır?

- A) 2                      B) 3                      C) 4                      D) 5

17. 8 yarım portakala aşağıdakilerden hangisi eklenirse 6 bütün portakal elde edilemez?

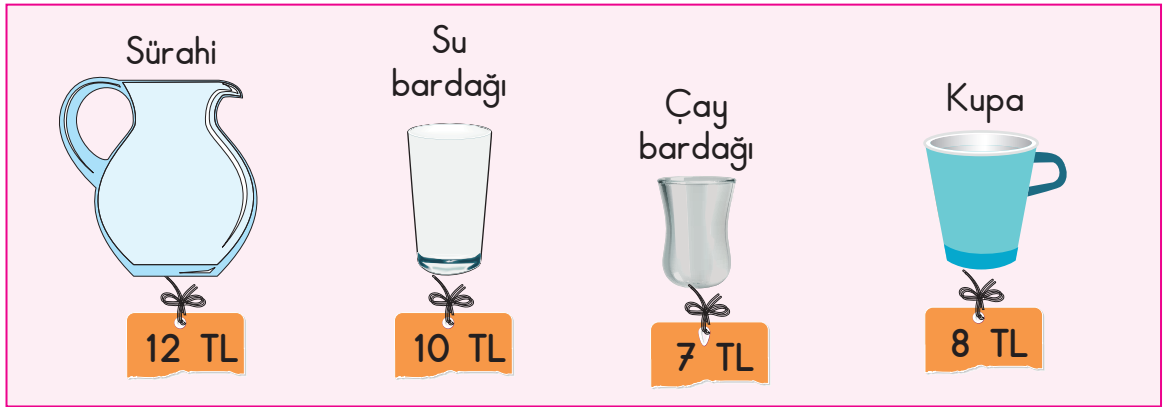


18. İrem arkadaşı Esra'ya 3 ay 1 hafta sonra piyano kursuna başlayacağını söylemiştir. İrem, Esra ile bu konuşmayı 31 Mayıs 2021 tarihinde yapmıştır.

Buna göre İrem piyano kursuna hangi ay başlayacaktır?




- A) Ağustos      B) Eylül      C) Ekim      D) Kasım

19.



Emel görseldeki ürünlerden iki tane alarak bu ürünlere toplam 20 lira ödemiştir.

Emel'in aldığı ürünler birbirinden farklı ya da aynı olabileceğine göre Emel hangi ürünü almış olamaz?

- A)  Sürahi      B)  Su bardağı      C)  Çay bardağı      D)  Kupa



20. Mert'in oyuncaklarının türlerine göre sayıları şekil grafiğinde verilmiştir.

Tablo: Oyuncak Sayıları

Tren	● ● ● ●
Araba	● ● ●
Kamyon	● ●
Uçak	● ●

Not: Her ● şekli 3 oyuncakı göstermektedir.

Buna göre Mert'in oyuncaklarıyla ilgili aşağıdakilerden hangisi yanlıştır?

- A) Oyuncak uçak sayısı, oyuncak kamyon sayısına eşittir.
- B) Toplam 11 tane oyuncakı vardır.
- C) 9 tane oyuncak arabası vardır.
- D) 6 tane oyuncak uçağı vardır.

MATEMATİK TESTİ BİTTİ.  
HAYAT BİLGİSİ TESTİNE GEÇİNİZ.



1. Can : Beyaz tenliyim.  
Atakan : Gözlerim kahverengidir.  
Ela : Uzun boyluyum.  
Meryem : Gitar çalabiliyorum.

Yukarıdaki öğrencilerden hangisi yeteneğinden söz etmiştir?

- A) Can                      B) Atakan                      C) Ela                      D) Meryem

2. Mehmet'in pazartesi gününe ait ders programı tabloda verilmiştir.

PAZARTESİ	
1. Ders	Hayat Bilgisi
2. Ders	Türkçe
3. Ders	Türkçe
4. Ders	Yabancı Dil
5. Ders	Yabancı Dil
6. Ders	Görsel Sanatlar

Bu ders programına göre çantasını hazırlayan Mehmet aşağıdakilerden hangisini çantasına koymuş olamaz?

- A) Boya kalemi                      B) Yabancı dil sözlüğü  
C) Flüt                      D) Türkçe ders kitabı

3. Aşağıdakilerden hangisi kaynakları ve ders araç gereçlerini özenli kullanan kişiye ait bir ifade olamaz?

A) Açık kalan lambaları kapatırım.  
B) Sıramın üzerine sevdiğim şekilleri çizerim.  
C) Isı kaybını önlemek için pencereleri kapatırım.  
D) Kalem ucunu gereksiz yere açmam.

4. Bazı öğrenciler sınıfta grup çalışması yaparken uyulması gerekenlerle ilgili görüşlerini aşağıda belirtmişlerdir.

**Onur** : Hepimiz fikrimizi söylemeliyiz.

**Ezgi** : Farklı fikirlere saygılı olmalıyız.

**Uğur** : Çalışmalarımızı tek başımıza yapmalıyız.

**Zeynep** : Görev paylaşımında adaletli olmalıyız.

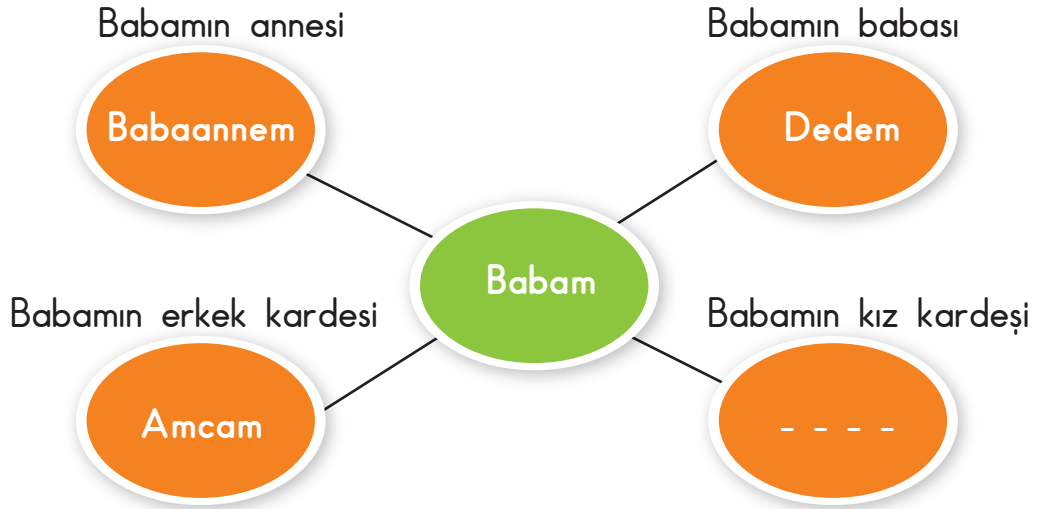
**Bu öğrencilerden hangisi yanlış bir görüşte bulunmuştur?**

A) Onur                      B) Ezgi                      C) Uğur                      D) Zeynep

5. Teneffüste mendil kapmaca oynamaya karar veren Erdem ve arkadaşlarının aşağıdakilerden hangisini yapmaları yanlıştır?

A) Oyun için bazı kurallar koymaları  
B) Gruplarla işbirliği içinde oynamaları  
C) Kazanan gruba öfkelenmeleri  
D) Oyundan zevk alıp eğlenmeleri

6.



Bu görselde boş bırakılan yere aşağıdakilerden hangisi getirilmelidir?

- A) Halam      B) Teyzem      C) Kuzenim      D) Yengem

7. Ahmet ve ailesinin görev ve sorumluluklarıyla ilgili tablo aşağıda verilmiştir.

	Çöp atma	Yemek yapma	Ev temizliği	Elektrik tamiri	Masayı toparlama
Annem		X	X		X
Babam	X		X	X	X
Ahmet	X		X		X
Kardeşim	X		X		X

Bu tabloya göre Ahmet'in aşağıdaki ifadelerinden hangisi doğrudur?

- A) Ev temizliğini sadece annem yapar.  
 B) Yemek yapma görevi annemindir.  
 C) Masayı toparlamayı yalnızca kardeşim yapar.  
 D) Elektrik tamirine annem de yardım eder.

8. Aşağıdakilerin hangisinde aile içi kararlar doğru bir şekilde alınmaktadır?

- A) Kararları babam verdiğinde
- B) Kararları annem ve babam verdiğinde
- C) Herkesin kendisi karar aldığında
- D) Kararlar ortak alındığında

9. Bir ailenin mart ve nisan ayları gider tablosu aşağıda verilmiştir.

**2021 Mart Ayı Gider Tablosu**

Giderlerimiz	Tutarları (TL)
Elektrik faturası	150
Gıda harcamaları	550
Diğer harcamalar	350
Kira	800
<b>TOPLAM</b>	<b>1850</b>

**2021 Nisan Ayı Gider Tablosu**

Giderlerimiz	Tutarları (TL)
Elektrik faturası	200
Gıda harcamaları	600
Diğer harcamalar	300
Kira	800
<b>TOPLAM</b>	<b>1900</b>

Bu tablolar karşılaştırıldığında aşağıdakilerden hangisine ulaşılabilir?

- A) Elektrik giderinde azalma olmuştur.
- B) Toplam giderde azalma olmuştur.
- C) Kira gideri değişmemiştir.
- D) Diğer harcamalar artmıştır.

10.



Sağlıklı büyümek ve gelişmek için yapılması gerekenler nelerdir?

Aşağıdaki öğrencilerden hangisi öğretmenin sorduğu bu soruyu yanlış cevaplamıştır?

A)



Dengeli ve düzenli beslenmeliyiz.

B)



Akşam geç saatte uyumalıyız.

C)



Düzenli spor yapmalıyız.

D)



Sık sık banyo yapmalıyız.

11. Aşağıdakilerden hangilerini kahvaltıda tüketirsek dengeli beslenmiş oluruz?

A) Peynir - Zeytin - Yumurta

B) Cips - Hamburger - Kola

C) Sebze yemeği - Balık - Ayranc

D) Makarna - Yoğurt - Salata

12.



Seda

Tabağındaki pilav yeterli mi?  
Biraz daha ister misin?

Hayır, teşekkür ederim.  
Bundan fazlasını bitiremiyorum.



Sibel

Buna göre Sibel'in hangi görgü kuralına uyduğu söylenebilir?

- A) Ağızımızda yiyecek varken konuşmama
- B) Yemek yerken peçete kullanma
- C) Tabağımıza yiyebileceğimiz kadar yemek alma
- D) İkramda bulunurken yemeğe elimizi değdirmeme

13. Aşağıdaki öğrencilerden hangisi kış mevsimine uygun giyinmiştir?

A)



B)



C)




D)




14. Aşağıdakilerden hangisi kara yolu aracı değildir?

A)



B)



C)



D)



15. Öğretmenin, "Ulaşım da güvenlik kuralları nasıl olmalıdır?" sorusuna karşılık, aşağıdaki öğrencilerden hangisi doğru cevap vermiştir?

- A) Yiğit : Emniyet kemerini sadece sürücüler takmalıdır.  
B) Sevgi : Taşıtlardan inerken acele edilmelidir.  
C) Özge : Özel araçlarda küçük çocuklar ön koltuğa oturmalıdır.  
D) Umut : Araç hareket halindeyken ayağa kalkılmamalıdır.



16. Yalçın ve arkadaşları okuldan eve dönerlerken yaşlı bir adamın bayıldığını görmüşlerdir.

Bu durumda Yalçın ve arkadaşları ambulans çağırmak için aşağıdaki numaralardan hangisini aramalıdır?

- A) 155                      B) 112                      C) 183                      D) 156

17. Atatürk'ün ilk gittiği okul aşağıdakilerden hangisidir?

- A) Mahalle Mektebi                      B) Şemsi Efendi Mektebi  
C) İstanbul Harp Okulu                      D) Selanik Askeri Rüştiyesi

18. Mustafa Kemal'in Kurtuluş Savaşı'nı başlattığı günü anmak amacıyla aşağıdaki bayramlardan hangisi kutlanmaktadır?

- A) 30 Ağustos Zafer Bayramı  
B) 23 Nisan Ulusal Egemenlik ve Çocuk Bayramı  
C) 19 Mayıs Atatürk'ü Anma ve Gençlik ve Spor Bayramı  
D) 29 Ekim Cumhuriyet Bayramı

19. Aşağıdakilerden hangisi ülkemize ait yöresel oyunlardan biri değil-  
dir?

A) Zeybek

B) Çayda Çıra

C) Horon

D) Tango

20. Aşağıdakilerden hangisi tarımsal faaliyetler sonucu üretilen ürünler-  
den biri değildir?

A) Balık

B) Elma

C) Zeytin

D) İncir

TEST BİTTİ.  
CEVAPLARINIZI KONTROL EDİNİZ.





## SINAV BAŞLAMADAN AŞAĞIDAKİ UYARILARI MUTLAKA OKUYUNUZ!

1. Öğrenciler, sınav kurallarına ve salon görevlilerinin tüm uyarılarına uymak zorundadırlar.
2. Cevap kâğıdındaki kimlik bilgilerinin doğruluğunu kontrol ediniz. Bilgiler size ait değilse veya cevap kâğıdı kullanılmayacak durumdaysa sınav görevlilerine bildiriniz.
3. Sınav başladıktan sonra öğrencilerin salon görevlileri ve birbirleri ile konuşmaları, kalem, silgi vb. şeyleri istemeleri yasaktır.
4. Değiştirmek istediğiniz bir cevabı, yumuşak silgiyle cevap kâğıdını yıpratmadan temizce siliniz ve yeni cevabınızı kodlayınız.
5. Cevap kâğıdınızı siyah kurşun kalemle imzalayınız.
6. Cevaplarınızı, cevap kâğıdındaki ilgili soru numarasını dikkate alarak yuvarlağın dışına taşırmadan kodlayınız.
7. Soru kitapçığının sayfalarını kontrol ediniz, baskı hatası var ise değiştirilmesini sağlayınız.
8. Soru kitapçığı üzerinde yapılp cevap kâğıdına işaretlenmeyen cevaplar değerlendirmeye alınmayacaktır.
9. Soru kitapçığının içindeki boş alanları çözümlerinizi için kullanabilirsiniz.
10. Cevaplamaya istediğiniz sorudan başlayabilirsiniz.
11. Cevabını bilmediğiniz sorular üzerinde fazla zaman kaybetmeden diğer sorulara geçiniz. Zamanınız kalırsa bu sorulara daha sonra dönebilirsiniz.
12. Sınav puanınızın hesaplanmasında 3 yanlış 1 doğru cevabınızı götürcektir. Alt testler bu şekilde hesaplanarak net puanlarının toplamı toplam net puanınızı verecektir.
13. Sınav bitiminde, soru kitapçığı ve cevap kâğıdını salon görevlilerine teslim ediniz.
14. Sınav sırasında çanta, cep telefonu, saat, kablosuz iletişim sağlayan cihazlar ve kulaklık, kolye, küpe, bilezik, yüzük, broş ve benzeri eşyalar ile her türlü elektronik ve/veya mekanik cihazları yanınızda bulundurmayınız. Bu araçları yanınızda bulundurmanız ve kopya çekmeye teşebbüs etmeniz hâlinde sınavınız geçersiz sayılacaktır.
15. Cevap kâğıdınızı sınav süresince hiçbir öğrencinin göremeyeceği şekilde önünüzde bulundurunuz.
16. Sınavınızın değerlendirilmesi aşamasında, toplu kopya tespiti veya başka adayın sınav evrakını kullanmanız durumunda sınavınız geçersiz sayılacaktır.
17. Soruları ve sorulara verdiğiniz cevapları kaydetmeyiniz, hiçbir şekilde dışarı çıkarmayınız.
18. İlk 15 dakika dışarı çıkılmayacaktır.
19. Sınav evraklarını teslim etmeyenlerin sınavı geçersiz sayılacaktır.

### SINAV GÖREVLİLERİNCE SINAV BAŞLAMADAN ÖNCE ÖĞRENCİLERE YAPILACAK SON UYARI!

- Soracağınız bir şey var mı? Varsa, şimdi sorunuz.
- Sınav başladıktan sonra sorularınıza cevap verilmeyecektir.
- Başlama zilini bekleyiniz.

**Hepinize başarılar dileriz.**

**(Sınav görevlisi başlama ve bitiş saatini tahtaya yazacaktır.)**

Bu kitapçığın her hakkı saklıdır. Hangi amaçla olursa olsun, kitapçığın tamamının veya bir kısmının Millî Eğitim Bakanlığı Ölçme, Değerlendirme ve Sınav Hizmetleri Genel Müdürlüğünün yazılı izni olmadan kopya edilmesi, fotoğraflarının çekilmesi, bilgisayar ortamına alınması, herhangi bir yolla çoğaltılması, yayımlanması veya başka bir amaçla kullanılması yasaktır. Bu yasağa uymayanlar, doğabilecek cezai sorumluluğu ve kitapçığın hazırlanmasındaki mali külfeti peşinen kabullenmiş sayılır.

**13 HAZİRAN 2021 TARİHİNDE YAPILAN TED ANKARA KOLEJİ VAKFI  
ÖZEL İLKOKULU VE ORTAOKULU SEÇME SINAVI  
3. SINIF “A” KİTAPÇIĞI CEVAP ANAHTARI**

TÜRKÇE	MATEMATİK	HAYAT BİLGİSİ
1. D	1. C	1. D
2. A	2. D	2. C
3. B	3. A	3. B
4. B	4. A	4. C
5. A	5. C	5. C
6. D	6. D	6. A
7. C	7. B	7. B
8. B	8. C	8. D
9. C	9. B	9. C
10. A	10. D	10. B
11. C	11. D	11. A
12. A	12. A	12. C
13. A	13. C	13. B
14. B	14. C	14. A
15. D	15. A	15. D
16. C	16. B	16. B
17. A	17. D	17. A
18. B	18. B	18. C
19. D	19. C	19. D
20. C	20. B	20. A