

**2.**  
**SINIF**



**A**  
**KİTAPÇIK TÜRÜ**

**T.C.**  
**MİLLÎ EĞİTİM BAKANLIĞI**  
**ÖLÇME, DEĞERLENDİRME VE SINAV HİZMETLERİ**  
**GENEL MÜDÜRLÜĞÜ**

**TED ANKARA KOLEJİ VAKFI ÖZEL İLKOKULU VE ORTAOKULU SEÇME SINAVI**  
**(1. Sınıftan 2. Sınıfa Geçenler)**  
**13 HAZİRAN 2021 Saat: 14.00**

Adayın Adı ve Soyadı : .....  
Aday Numarası (T.C. No) : .....  
İmza : .....

DERS ADI	SORU SAYISI	TOPLAM SORU SAYISI	SINAV SÜRESİ (DAKİKA)
TÜRKÇE	20	60	60
MATEMATİK	20		
HAYAT BİLGİSİ	20		

## ÖĞRENCİLERİN DİKKATİNE!

1. Sınıf öğrenci yoklama listesinde belirtilen sınıfta ve sıra numarasında oturunuz.
2. Soru kitapçıkları üzerinde doğru olan seçeneği daire içine alınız.

### SALON BAŞKANI

Adı : .....  
Soyadı : .....  
T.C. Kimlik No: .....  
İmza : 

--	--	--	--	--	--	--	--	--	--

### GÖZETMEN

Adı : .....  
Soyadı : .....  
T.C. Kimlik No: .....  
İmza : 

--	--	--	--	--	--	--	--	--	--

**2. SINIF 2021**



**SINAV BAŞLAMADAN ÖNCE KİTAPÇIĞIN ARKA KAPAĞINDAKİ UYARILARI MUTLAKA OKUYUNUZ.**



1. a, v, m, e, k, n, i, a

Bu harflerle aşağıdaki sözcüklerden hangisi oluşturulabilir?

A) Manav

B) Kenar

C) Acemi

2. Aşağıdaki sözcüklerden hangisi hecelerine yanlış ayrılmıştır?

A) Ga - ze - te

B) Sa - la - ta - lık

C) An - ah - tar

3. 1. bitki

2. türünü

3. binlerce

Ormanlarımız - - - - - barındırır.

Anlamli bir cümle oluşturmak için numaralanmış sözcükler yukarıdaki boşluklara hangi sırayla yerleştirilmelidir?

A) 1 - 3 - 2

B) 2 - 1 - 3

C) 3 - 1 - 2

4. Kanadı benek benek  
Ufacık bir kelebek  
Konmuştur bir papatyaya  
Papatya pek haindi  
Birden bire silkindi  
Onu düşürdü çaya  
Islanınca kanadı  
Kelebek uçamadı

Bu şiire göre kelebeğin uçamamasının sebebi aşağıdakilerden hangisidir?

- A) Papatyaya konması  
B) Kanadının ıslanması  
C) Kanadının benekli olması

5. Aşağıdaki görsellerden hangisi "Kitap hayal dünyamızı etkiler." cümlesiyle ilgili değildir?





6. Annem, bu sabah balkondaki çiçekleri sulayarak güne başladı.

Bu cümlede aşağıdaki sorulardan hangisinin cevabı yoktur?

- A) Niçin? B) Kim? C) Ne zaman?

7. 1. Sözlükten anlamını bilmediği sözcüğü buldu.  
2. Hemen kitaplığa gitti ve bir sözlük aldı.  
3. Bilmediği sözcüğün anlamını defterine yazdı.  
4. Ahmet kitabını okurken anlamını bilmediği bir sözcükle karşılaştı.  
Numaralanmış cümleler olayların oluş sırasına göre nasıl sıralanmalıdır?

- A) 2 - 3 - 4 - 1 B) 3 - 4 - 1 - 2 C) 4 - 2 - 1 - 3

8. Teknolojik ürün üretmek için - - - - gerekir.

Bu cümlede boş bırakılan yere aşağıdaki sözcüklerden hangisi getirildiğinde anlamlı bir cümle oluşmaz?

- A) çalışmak B) konuşmak C) bilgi

9. — Postacı, oğlum! Bana mektup var mı?  
Postacı hayret etmişti. Çünkü Münevver Teyzeye ilk kez mektup gelmişti.  
— Var, Münevver Hanım, dedi.  
Münevver Teyze mektubu alınca bana seslendi:  
— Koş Muzaffer, mektubumu okumaya yardım et!  
Ben de bu mektubu Münevver Teyzeye seve seve okudum.  
**Bu metne göre aşağıdakilerden hangisi kesinlikle söylenemez?**

- A) Postacı şaşırmıştır.  
B) Muzaffer yardımseverdir.  
C) Münevver Teyze çalışkandır.

10. Arkadaşımla birlikte okulumuzun kütüphanesine gittik. Kütüphanede kitap hakkında konuşurken görevli bizi yüksek sesle konuşmamamız için uyardı. Bize kapıdaki işareti gösterdi.

**Bu durumda görevlinin gösterdiği işaret aşağıdakilerden hangisi olabilir?**

A)



B)



C)




11. Koalalar günde yaklaşık yirmi saat uyur. Uyanık oldukları birkaç saatte de okaliptüs ağaçlarının yapraklarını yer. Bu yapraklar çok az enerji verdiğinden koalalar enerjilerini verimli kullanmak için fazla hareket etmez.

**Bu metinde "koalalar" ile ilgili aşağıdaki sorulardan hangisinin cevabı yoktur?**

- A) Nerede yaşarlar?
- B) Ne ile beslenirler?
- C) Kaç saat uyurlar?

12. Hava gün geçtikçe soğuyordu. Eylül ve ekim ayları şiddetli fırtınalarla geçmişti. Bu fırtınalardan ocak ayının sert geçeceği ve çok kar yağacağı tahmin ediliyordu.

**Bu metinde aşağıda görselleri verilen mevsimlerin hangisinden söz edilmemiştir?**



13. Tangram, bir zekâ oyunudur. Bir kareden bölünmüş yedi parçadan oluşur. Oyun oldukça eğlencelidir. Düşünme ve dikkat becerilerini geliştirir. Okullarda ve çeşitli kurslarda tangram sıkça oynanır.

**Bu metinde "tangram" ile ilgili aşağıdakilerden hangisine değnilmemiştir?**

- A) Kaç parçadan oluştuğuna
- B) Hangi yaştakilerin oynadığına
- C) Nerelerde oynandığına

14. Mavi suları yaracak  
Yine uzaklara varacak  
Dümenin başında yön verir  
Nereye gidilecekse o bilir

Bu şiirin konusuna en uygun görsel aşağıdakilerden hangisidir?

A)



B)



C)



15. Ninem, "İnsan hangi yaşta olursa olsun okumaya devam edebilir. Yeter ki çaba göstereyim. İçinde okuma hevesi olsun." derdi. Bunu söyleyen ninem 40 yaşından sonra okumayı öğrendi. Bu nedenle - - - - çocuklar.

Bu metin anlam akışına göre aşağıdakilerden hangisiyle tamamlanabilir?

- A) çok okuyan bilir  
B) okumanın yaşı yoktur  
C) kitap en iyi dosttur



16. Uzay aracıyla uzayın derinliklerinde yolculuklar yapıyorum. Özel kıyafetimle uzayda geziyorum. Benim mesleğim milyonlarca çocuğun hayalidir. Bu metinde sözü edilen mesleğe ait görsel aşağıdakilerden hangisidir?

A)



B)



C)



17. Bez ve keçe gibi malzemeler kukla yapımında kullanılır. Bu kuklaların elleri ve ayakları için karton veya tahta kullanılabilir. Kuklacılar bu kuklaları elinin içine geçirir. Parmaklarıyla kuklanın baş ve kollarını hareket ettirir.

Bu metne getirilebilecek en uygun başlık aşağıdakilerden hangisidir?

A) El Kuklaları

B) Dev Kuklalar

C) İp Kuklaları

18. (1) Bugün arkadaşım Ayşe ile beraber deney yaptık. (2) Bu deneyde bir Portakal kullandık. (3) Portakalı deneyimizde Dünya gibi düşündük.

Numaralanmış cümlelerin hangisinde büyük harflerin yazımıyla ilgili yanlışlık yapılmıştır?

A) 1

B) 2

C) 3

19. Gökyüzünde kuğu gibi süzülen yolcu uçaklarını çok severim ( ) Peki, ya siz sever misiniz ( ) Gelin, onları yakından tanıyalım ( )


Bu metinde yay ayraç ( ) ile gösterilen yerlere sırasıyla aşağıdaki noktalama işaretlerinden hangileri getirilmelidir?

A) (.) (?) (.)

B) (!) (?) (.)

C) (.) (!) (.)

20.



Numaralanmış görsellerde verilen çizimlerin tamamlanış sırasına göre sıralanışı aşağıdakilerden hangisidir?

A) 1 - 3 - 4 - 2

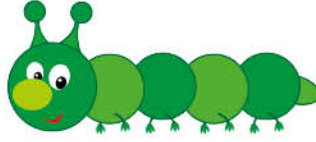
B) 1 - 2 - 3 - 4

C) 3 - 1 - 4 - 2

TÜRKÇE TESTİ BİTTİ.  
MATEMATİK TESTİNE GEÇİNİZ.




1.

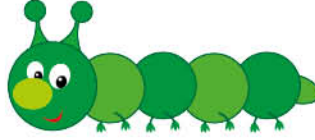


Görseldeki oyuncakın eşi aşağıdakilerden hangisidir?

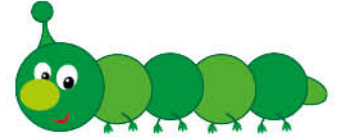
A)



B)



C)



2. Görseldeki eşit kollu terazi dengededir.



Buna göre aşağıdakilerden hangisi diğerlerinden daha ağırdır?

A)



B)



C)



3. Yasemin 5'ten başlayarak 15'e kadar ileriye doğru ikişer saymıştır.

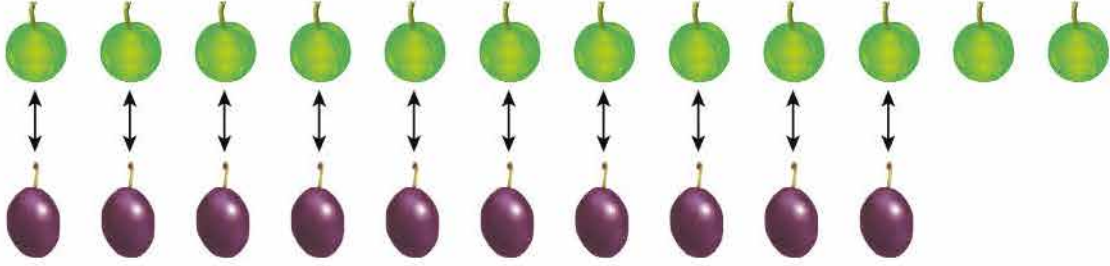
Buna göre Yasemin aşağıdaki sayılardan hangisini söylememiştir?

A) 7

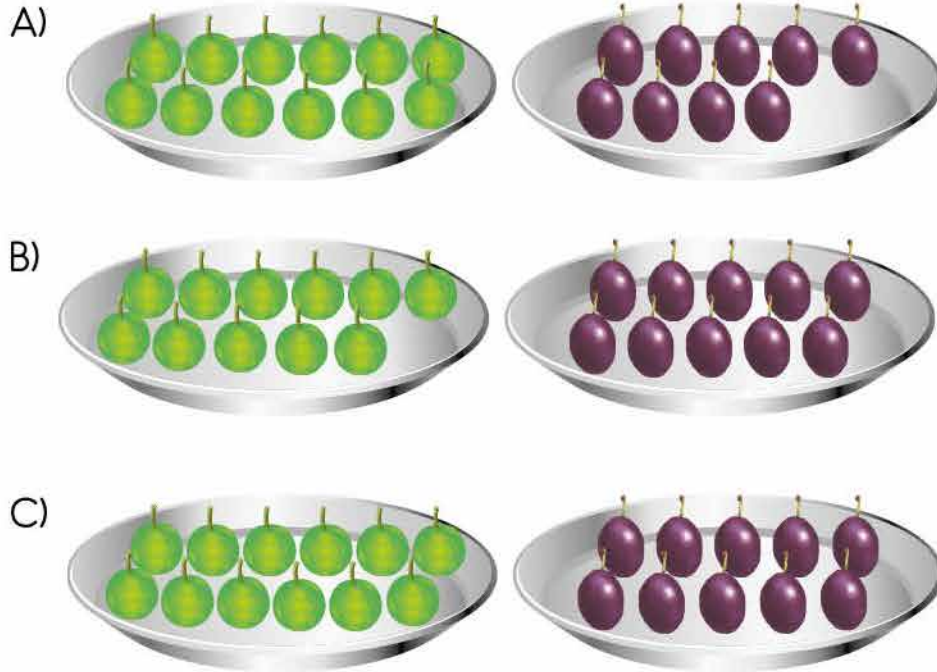
B) 10

C) 13

4. İki tabakta farklı sayılarda ve türlerde Erikler bulunmaktadır. Derya bu Eriklerin tamamını görseldeki gibi bire bir eşlemiştir.



Buna göre bu Eriklerin bulunduğu tabaklar aşağıdakilerden hangisidir?



Tabaklardaki armut ve mandalinalarla ilgili aşağıdakilerden hangisi yanlıştır?

- A) Armut sayısı 10'dan azdır.  
 B) Mandalina sayısı 10'dan fazladır.  
 C) Mandalina sayısı, armut sayısına eşittir.



6. İçinde bir miktar kurabiye olan tepsi görselde verilmiştir.



Buna göre bu tepsideki toplam kurabiye sayısının onluk ve birliklerine ayrılmış gösterimi aşağıdakilerden hangisidir?

A)

Onluk	Birlik
8	1

B)

Onluk	Birlik
1	8

C)

Onluk	Birlik
1	7

7.



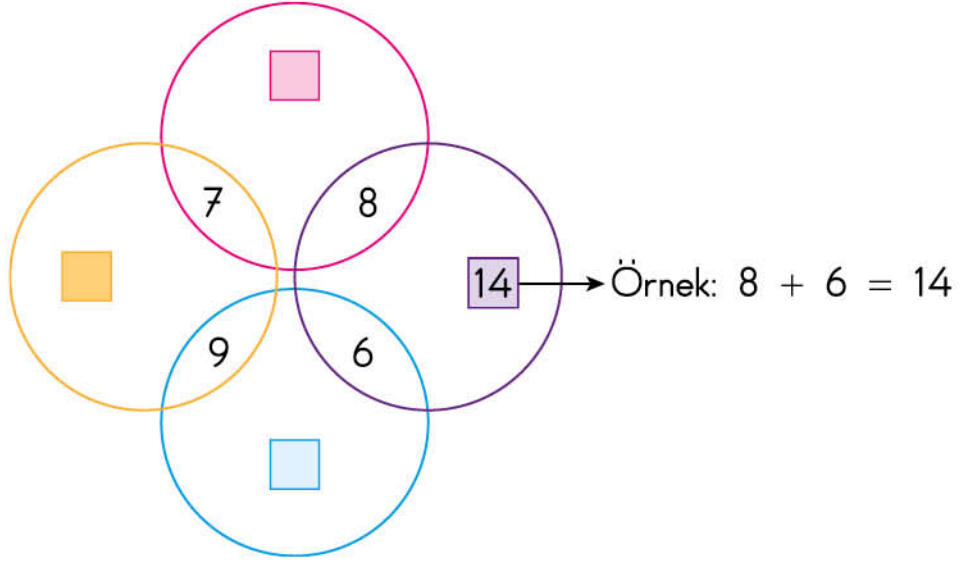
Görseldeki toplam balon sayısı kaçtır?

A) 15

B) 14

C) 13

8. Farklı renkteki çemberlerin içlerine yerleştirilen sayılar ve kutular görselde verilmiştir. Her bir çemberdeki sayıların toplamı, bu sayıların bulunduğu çemberdeki kutuya yazılacaktır.




Buna göre aşağıdakilerden hangisi bu kutulara yazılacak olan sayılardan biri değildir?

A) 15

B) 16

C) 17

9.



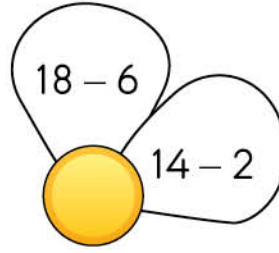
Özlem tabaktaki domateslerin 3 tanesini annesine verirse tabakta kaç tane domates kalır?

A) 11

B) 12

C) 13

10. Yapraklarının her birinde yazan çıkarma işlemlerinin sonucu aynı olan bir çiçek çizilecektir. Bu çiçeğin bir kısmı görseldeki gibidir.



Buna göre bu çizim tamamlandığında aşağıdakilerden hangisi bu çiçeğin yapraklarından biri olamaz?

A)  $19 - 7$

B)  $17 - 6$

C)  $15 - 3$

11. Ayça, Burak ve Cansu'nun cüzdanlarındaki paralar görselde verilmiştir.



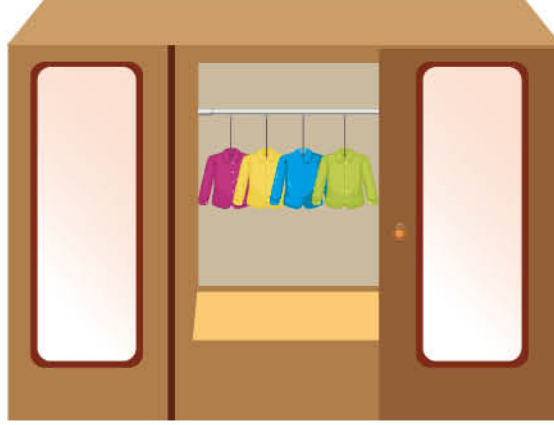
Buna göre parasının değeri en az olan kişi aşağıdakilerden hangisidir?

A) Ayça

B) Burak

C) Cansu


12. Görseldeki dolapta her askıda bir tane olacak biçimde toplam 20 tane gömlek vardır.



Buna göre bu dolabın görünmeyen kısmında toplam kaç tane gömlek vardır?

- A) 15                                      B) 16                                      C) 17
13. Bir manav sabah 6 tane, öğleden sonra 13 tane karpuz satmıştır. Buna göre bu manav o gün toplam kaç tane karpuz satmıştır?
- A) 17                                      B) 18                                      C) 19

14. Kuzey, görseldeki masada dizili olan bardakları elindeki topu atarak devirecektir.



Kuzey, topu attıktan sonra masada dizili 9 bardak kalmıştır.  
Buna göre Kuzey kaç tane bardak devirmiştir?

- A) 5                                      B) 6                                      C) 7



15. “On beş ile sekizin farkı yedidir.”  
Verilen açıklamaya ait model aşağıdakilerden hangisidir?

A)

B)

C)

16. 8 bütün limondan bir kaç tanesi iki eş parçaya ayrılmıştır. Bu parçalardan belirli miktarda kullanılmıştır.

 → bütün limon,  → yarım limon görseli olduğuna göre geriye kalan limonlar aşağıdakilerden hangisi olamaz?



17. Ozan sabah uyandığında odasındaki saat görseldeki gibidir.



Buna göre Ozan sabah kaçta uyanmıştır?

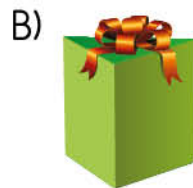
A) Yedi buçuk

B) Yedi

C) Altı buçuk

18. Zeynep, köşeli hediye kutusu almıştır.

Buna göre Zeynep aşağıdakilerden hangisini almış olamaz?

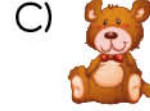
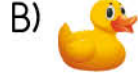




19. Belirli bir kurala göre sıralanan oyuncaklarla görseldeki gibi bir örüntü oluşturulmuştur.



Buna göre bu örüntüde ? yerine aşağıdakilerden hangisi gelmelidir?



20. Tabloda Cemre'nin balonlarının renklerine göre sayıları verilmiştir.

Tablo: Renklerine Göre Balon Sayısı

Renkler	Balon Sayısı
Kırmızı	20
Beyaz	17
Pembe	18

Tabloya göre aşağıdakilerden hangisi yanlıştır?

- A) Kırmızı balonların sayısı, beyaz balonların sayısından 3 fazladır.  
 B) Beyaz balonların sayısı, pembe balonların sayısından 1 eksiktir.  
 C) Pembe balonların sayısı, kırmızı balonların sayısından 2 fazladır.

MATEMATİK TESTİ BİTTİ.  
HAYAT BİLGİSİ TESTİNE GEÇİNİZ.



1. Aşağıdakilerden hangisi sınıf araç gereçlerinden biri değildir?

A)



B)



C)



2. Öğrencilerine voleybol oynatmaya karar veren bir öğretmen, okulun aşağıdaki bölümlerinden hangisini tercih etmelidir?

A) Kütüphane

B) Spor salonu

C) Öğretmenler odası

3. "Okulda sizinle uyum çalışmaları gibi etkinlikleri yapacağız. Böylece okula uyum sağlamanıza yardımcı olacağım."

1/A sınıfındaki öğrencilerle bu şekilde konuşma yapan okul çalışanı aşağıdakilerden hangisidir?

A) Rehber öğretmen

B) Okul müdürü

C) Kantin görevlisi



4. Okulda uyulması gereken kurallarla ilgili olarak verilen aşağıdaki bilgilerden hangisi yanlıştır?

A) Koridorlarda kořmamalıyız.  
B) Kantine alışverişlerinde sıraya girmeliyiz.  
C) İniř ve çıkışlarda merdivenin solunu kullanmalıyız.

5.



Görsellerde verilen ifadeler aşağıdakilerden hangisiyle ilgilidir?

A) Okul kuralları  
B) Nezaket ifadeleri  
C) İstek ve ihtiyaçlar

6. Gitar çalmaya ilgi duyan Mehmet, aşağıdaki okul etkinliklerinden hangisine katılmalıdır?

A) Müzik                                      B) Resim                                      C) Spor

7. 1/C sınıfı öğrencileri oyun oynuyor.



Bu görsele göre, 1/C sınıfı öğrencilerinde aşağıdaki becerilerden hangisinin gelişmesi beklenmez?

A) İşbirliği

B) Dayanışma

C) Okuma

8.



Evimizin solunda  
sağlık ocağı,  
sağında ise iki  
apartman vardır.



Bizim ev okulun  
arkasındaki  
caddede, marketin  
sağındadır.

Öğrencilerin verdikleri cevaplar dikkate alındığında öğretmenleri aşağıdakilerden hangisini sormuş olabilir?

A) Okulunuzun yerini tarif eder misiniz?

B) Sağlık ocağının yerini tarif eder misiniz?

C) Evinizin yerini tarif eder misiniz?

9. Ders çalışırken size yardım eden aile bireylerine, bu yardımı sonucunda ne demelisiniz?

- A) Teşekkür ederim.
- B) Rica ederim.
- C) Özür dilerim.

10. Seda'nın günlük plan tablosu verilmiştir.

GÜNLÜK PLANIM	
07.30 - 08.30	Uyanma, kişisel bakım, kahvaltı
08.30 - 09.00	Okula gidiş
09.00 - 15.00	Ders saati
15.00 - 16.00	Eve varış, dinlenme
16.00 - 21.00	Oyun
21.00	Yatağa yatış

Seda'nın günlük planına göre aşağıdakilerden hangisi söylenemez?

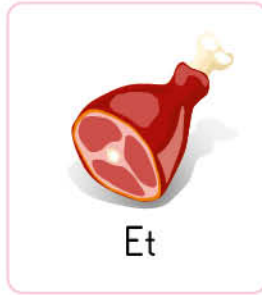
- A) Oyun için zaman ayrılmıştır.
- B) Ders tekrarına yer verilmemiştir.
- C) Kulüp çalışmaları verimli geçirilmiştir.

11. Aşağıdakilerden hangisi bitkisel kaynaklı besinlerden biridir?

A)



B)



C)



12. Aşağıdakilerden hangisinin kahvaltıda tüketilmesi uygundur?

A) Makarna

B) Yumurta

C) Hamburger

13. Aşağıdakilerden hangisi yemek yerken görgü kurallarına uygun olmayan bir davranıştır?

A) Yemeğimizi oturarak yemek

B) Yemeğimizi yerken peçete kullanmak

C) Yemeğimizi çiğnerken ağızımızı açık tutmak

14. Aşağıdaki öğrencilerden hangisi bir kitle iletişim aracını doğru kullanmaktadır?

A)



Zeynep

Bilgisayarı büyüklerimin gözetiminde kullanırım.

B)



Ahmet

Her gün telefonda uzun süre konuşurum.

C)



Okan

Televizyonu yakından izlemeyi severim.

15. Yaya kaldırımı olmayan yerlerde yolun hangi tarafından yürümek doğrudur?

A) Sağından

B) Solundan

C) Ortasından

16. Kaza durumunda yaralıyı hastaneye ulaştırmak için ambulansı çağırmak isteyen bir kişi aşağıdaki numaralardan hangisini aramalıdır?

A) 1 - 1 - 2

B) 1 - 5 - 5

C) 1 - 7 - 7

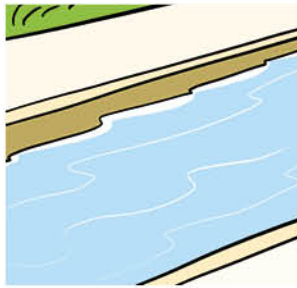
17. Aşağıdakilerden hangisi oyun oynamak için güvensiz alanlardan biridir?

A)



Trafik kapalı alan

B)



Su kanalı

C)



Çocuk parkı

18. Aşağıdakilerden hangisi ülkemizin bağımsızlık sembollerinden biri değildir?

A) Bayrağımız

B) Millî marşımız

C) Kıyafetlerimiz



19. Atatürk'ün hayata gözlerini kapattığı yer aşağıdakilerden hangisidir?
- A) Anıtkabir  
B) Dolmabahçe Sarayı  
C) Selânik şehri
20. Ülkemizin kurucusu Mustafa Kemal Atatürk 19 Mayıs günü, - - - - gi-  
derek Millî Mücadele'yi başlatmıştır.  
Bu cümlede boş bırakılan yere aşağıdakilerden hangisi getirilmelidir?
- A) Samsun'a                      B) Ankara'ya                      C) Selânik'e

TEST BİTTİ.  
CEVAPLARINIZI KONTROL EDİNİZ.



**SINAV BAŞLAMADAN AŞAĞIDAKİ UYARILARI MUTLAKA OKUYUNUZ!**

1. Öğrenciler, sınav kurallarına ve salon görevlilerinin tüm uyarılarına uymak zorundadırlar.
2. Sınav başladıktan sonra öğrencilerin salon görevlileri ve birbirleri ile konuşmaları, kalem, silgi vb. şeyleri istemeleri yasaktır.
3. **Soru kitapçıkları üzerinde doğru olan seçeneği daire içine alınız.**
4. Değiştirmek istediğiniz bir cevabı, yumuşak silgiyle soru kitapçığını yıpratmadan temizce siliniz ve yeni cevabınızı işaretleyiniz.
5. Soru kitapçığının sayfalarını kontrol ediniz, baskı hatası var ise değiştirilmesini sağlayınız.
6. Soru kitapçığının içindeki boş alanları çözümlerinizi için kullanabilirsiniz.
7. Cevaplamaya istediğiniz sorudan başlayabilirsiniz.
8. Cevabını bilmediğiniz sorular üzerinde fazla zaman kaybetmeden diğer sorulara geçiniz. Zamanınız kalırsa bu sorulara daha sonra dönebilirsiniz.
9. Sınav puanınızın hesaplanmasında 2 yanlış 1 doğru cevabınızı götürecektir. Alt testler bu şekilde hesaplanarak net puanlarının toplamı toplam net puanınızı verecektir.
10. Sınav bitiminde, soru kitapçığını salon görevlilerine teslim ediniz.
11. Sınav sırasında çanta, cep telefonu, saat, kablosuz iletişim sağlayan cihazlar ve kulaklık, kolye, küpe, bilezik, yüzük, broş ve benzeri eşyalar ile her türlü elektronik ve/veya mekanik cihazları yanınızda bulundurmamınız. Bu araçları yanınızda bulundurmanız ve kopya çekmeye teşebbüs etmeniz hâlinde sınavınız geçersiz sayılacaktır.
12. Soru kitapçığınızı sınav süresince hiçbir öğrencinin göremeyeceği şekilde önünüzde bulundurunuz.
13. Sınavınızın değerlendirilmesi aşamasında, toplu kopya tespiti veya başka adayın sınav evrakını kullanmanız durumunda sınavınız geçersiz sayılacaktır.
14. Soruları ve sorulara verdiğiniz cevapları kaydetmeyiniz, hiçbir şekilde dışarı çıkarmayınız.
15. İlk 15 dakika dışarı çıkılmayacaktır.
16. Sınav evraklarını teslim etmeyenlerin sınavı geçersiz sayılacaktır.

**SINAV GÖREVLİLERİNCE SINAV BAŞLAMADAN ÖNCE ÖĞRENCİLERE YAPILACAK SON UYARI!**

- Soracağınız bir şey var mı? Varsa, şimdi sorunuz.
- Sınav başladıktan sonra sorularınıza cevap verilmeyecektir.
- Başlama zilini bekleyiniz.

**Hepinize başarılar dileriz.**

**(Sınav görevlisi başlama ve bitiş saatini tahtaya yazacaktır.)**

Bu kitapçığın her hakkı saklıdır. Hangi amaçla olursa olsun, kitapçığın tamamının veya bir kısmının Millî Eğitim Bakanlığı Ölçme, Değerlendirme ve Sınav Hizmetleri Genel Müdürlüğünün yazılı izni olmadan kopya edilmesi, fotoğraflarının çekilmesi, bilgisayar ortamına alınması, herhangi bir yolla çoğaltılması, yayımlanması veya başka bir amaçla kullanılması yasaktır. Bu yasağa uymayanlar, doğabilecek cezai sorumluluğu ve kitapçığın hazırlanmasındaki mali külfeti peşinen kabullenmiş sayılır.



**13 HAZİRAN 2021 TARİHİNDE YAPILAN TED ANKARA KOLEJİ VAKFI  
ÖZEL İLKOKULU VE ORTAOKULU SEÇME SINAVI  
2. SINIF “A” KİTAPÇIĞI CEVAP ANAHTARI**

TÜRKÇE	MATEMATİK	HAYAT BİLGİSİ
1. A	1. B	1. C
2. C	2. A	2. B
3. C	3. B	3. A
4. B	4. C	4. C
5. B	5. C	5. B
6. A	6. B	6. A
7. C	7. B	7. C
8. B	8. C	8. C
9. C	9. A	9. A
10. A	10. B	10. C
11. A	11. A	11. C
12. B	12. B	12. B
13. B	13. C	13. C
14. C	14. B	14. A
15. B	15. C	15. B
16. C	16. A	16. A
17. A	17. A	17. B
18. B	18. C	18. C
19. B	19. A	19. B
20. C	20. C	20. A