



**3.**  
**SINIF**



**T.C.**

**MİLLÎ EĞİTİM BAKANLIĞI**  
**ÖLÇME, DEĞERLENDİRME VE SINAV HİZMETLERİ**  
**GENEL MÜDÜRLÜĞÜ**

**A**  
**KİTAPÇIK TÜRÜ**

**VEHBİ KOÇ VAKFI, KOÇ ÖZEL İLKOKULU VE ORTAOKULU SEVİYE TESPİT SINAVI**  
**(2. Sınıftan 3. Sınıfa Geçenler)**  
**13 HAZİRAN 2021 Saat: 10.00**

Adayın Adı ve Soyadı : .....

Aday Numarası (T.C. No) : .....

DERS ADI	SORU SAYISI	TOPLAM SORU SAYISI	SINAV SÜRESİ (DAKİKA)
TÜRKÇE	20	60	80
MATEMATİK	20		
HAYAT BİLGİSİ	20		

## ÖĞRENCİLERİN DİKKATİNE!

1. Sınıf öğrenci yoklama listesinde belirtilen sınıfta ve sıra numarasında oturunuz.
2. Cevap kâğıdındaki kimlik bilgilerinin doğruluğunu kontrol ediniz.
3. Kitapçık türünü cevap kâğıdındaki ilgili alana kodlayınız.
4. Cevap kâğıdı üzerindeki kodlamaları kurşun kalemle yapınız.



**SINAV BAŞLAMADAN ÖNCE KİTAPÇIĞIN ARKA KAPAĞINDAKİ UYARILARI MUTLAKA OKUYUNUZ.**



1. Sabah - Sandalye - ★ - Sepet

Bu sözcükler alfabetik olarak sıralandığında ★ olan yere aşağıdakilerden hangisi getirilmelidir?

A) Sandık

B) Sevgi

C) Saman

D) Sergi

2. Bazı sözcüklerin anlamları verilmiştir.

- Tohumdan yetiştirilen körpe ve küçük bitki
- Yeni bir bitkinin oluşmasını sağlayan tane
- Pişmiş toprak veya plastik gibi malzemelerden yapılan, çiçek yetiştirmekte kullanılan kap

Buna göre aşağıdaki görsellerden hangisi verilen sözcüklerin anlamlarıyla ilgili değildir?

A)



B)



C)



D)



3. “Söz” sözcüğü aşağıdakilerin hangisinde “kesinlik kazanmayan haber, söylenti” anlamında kullanılmıştır?

- A) Şiirini yazarken seçtiği sözler çok anlamlıydı.
- B) Anadolu türkülerinde duygu yüklü sözlere rastlıyoruz.
- C) Hayatı boyunca sözünde duran bir adam olmuştur.
- D) Ortalıkta kimin söylediği belli olmayan bir söz dolaşıyor.

4. Aşağıdaki cümlelerin hangisinde zıt anlamlı sözcükler bir arada kullanılmamıştır?

- A) Soğukta kalan bebeğin minicik elleri buz gibiydi.
- B) Sabah erken kalkmalı, akşam erken yatmalıyız.
- C) Kafamdaki soruların cevabını tam alamadım.
- D) Ben dışarı çıkarken babam içeri girdi.

5. Aşağıdakilerin hangisinde altı çizili sözcüğün eş anlamlısı yay ayraç ( ) içinde doğru verilmiştir?

- A) İnsanın öğrendikçe (tecrübe) bilgisi artıyor.
- B) Nevruz geleneği (amaç) Anadolu'da hâlâ sürüyor.
- C) Özlediğimiz (hatırlamak) insanları sürekli görmek isteriz.
- D) Birçok kentimizde (şehir) toprak eşyaların yapımı devam ediyor.

6. 1. ilgimi  
2. olan  
3. öğretmenime  
4. sınıf

Kitaplara - - - - - borçluyum.

Anlamlı bir cümle oluşturmak için numaralanmış sözcükler yukarıdaki boşluklara hangi sırayla yerleştirilmelidir?

- A) 1 - 2 - 3 - 4
- B) 1 - 4 - 3 - 2
- C) 2 - 1 - 4 - 3
- D) 2 - 4 - 1 - 3



7. Tohumun çimlenebilmesi için uygun sıcaklık, yeterli miktarda su ve oksijen gerekir. Tohumu kaplayan kabuk, su ve oksijenin girebileceği küçük gözeneklere sahiptir. Ancak tohumun içerisinde bulunduğu toprağın da gözenekli yapıda olması gerekir. Tüm bu şartlar oluştuğunda tohum, suyu iyice emer ve sonunda kabuğunu çatlatarak çimlenmeye başlar.

**Bu metnin konusu aşağıdakilerden hangisidir?**

- A) Tohumun yetişmesinde toprağın önemi
- B) Tohumun çimlenmesinde gerekli koşullar
- C) Tohumun yetişmesinde sıcaklığın etkisi
- D) Tohum çimlenmesinde suyun görevi

8. (1) Memleketin bir köyünde Keloğlan adında biri yaşarmış. (2) Keloğlan'ın yaşlı anacığından başka kimseciği yokmuş. (3) Keloğlan köylünün hayvanlarına çobanlık ettiğinden eve geç saatlerde gelirmiş. (4) Günlerini akşamın karanlığına kadar hayvanları otlatarak geçirirmiş.

**Bu metinde numaralanmış cümlelerin hangisinde bir olay nedeniyle birlikte verilmiştir?**

- A) 1
- B) 2
- C) 3
- D) 4

9. 1. Sonra dişlerini kontrol edip kalbini dinlemiş.  
2. Pınar ve annesi, kedileri Pati'yi kontrol için veterinere götürmüşler.  
3. Kontrol bitince Pınar, annesi ve Pati birlikte eve dönmüşler.  
4. Veteriner önce Pati'nin kulaklarını muayene etmiş.

**Numaralanmış cümleler olayların oluş sırasına göre nasıl sıralanmalıdır?**

- A) 2 - 1 - 4 - 3
- B) 2 - 4 - 1 - 3
- C) 3 - 2 - 1 - 4
- D) 3 - 4 - 2 - 1

10. Severek isteyerek  
"Başarıım" diyerek  
Her zora göğüs germek  
Ne güzel oh, ne iyi

Seller gibi taşarak  
Binbir engel aşarak  
Kazanmak uğraşarak  
Ne güzel oh, ne iyi

Bu şiirin konusu aşağıdakilerden hangisidir?

- A) Tutumlu olmak  
B) Azimli olmak  
C) Yardımsever olmak  
D) Anlayışlı olmak

11. Aşağıdakilerin hangisinde büyük harflerin yazımı ile ilgili bir yanlışlık yapılmıştır?

- A) Bir sabah uyandığımda kedim pamuk odayı dağıtmıştı.  
B) Cumhuriyet Bayramı tüm yurttta coşkulu bir şekilde kutlandı.  
C) Sınıf arkadaşım Yeşim, 10 Ocak 2012'de doğmuş.  
D) Tarihî güzellikleriyle meşhur ilimiz Bursa, insana huzur veriyor.

12. Sabah uyandığımda evde kimse yoktu. "Hey ( ) Evde kimse var mı ( )" diye seslendim. Annem ( ) Ahmet ve babamın kahvaltı hazırladıklarını söyledi.

Bu metinde yay ayraç ( ) ile gösterilen yerlere sırasıyla noktalama işaretlerinden hangileri getirilmelidir?

- A) (.) (?) (!)  
B) (!) (?) (,)  
C) (.) (?) (,)  
D) (!) (,) (.)

13. Sahneye çıktığımda birden alkış sesleri yükseldi. Gülümsedim ve gitarımla ilk notanın sesini çıkardım. Ondan sonra her şey kendiliğinden geldi. Ben gitarımı çaldıkça alkış arttı. Alkış arttıkça kalp atışlarım normale dönmeye başladı.

**Bu sözleri söyleyen biri için aşağıdakilerden hangisi söylenebilir?**

- |              |            |
|--------------|------------|
| A) Heyecanlı | B) Şüpheli |
| C) Hüzünlü   | D) Utangaç |

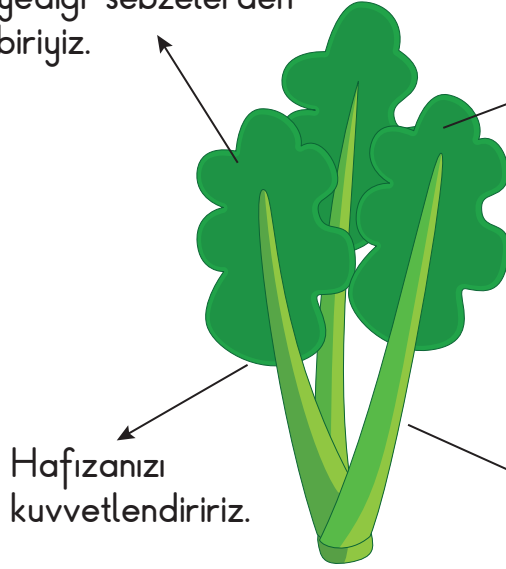
14. Güldüren Oyun'da oyuncular halka şeklinde oturur. Aralarından biri rastgele lider seçilir. Halkanın ortasında bulunan lider, komik bir hareket yapar. Diğer oyuncular da aynı hareketi tekrar eder. Gülen ya da gürültü yapan oyuncular yanar. En sona kalan oyuncu hiçbir ses çıkarmazsa sonraki turun lideri olur.

**Bu metinde "Güldüren Oyun" ile ilgili aşağıdakilerin hangisine değinilmemiştir?**

- A) Kaç kişiyle oynandığına  
B) Liderin nasıl seçildiğine  
C) Liderin nerede bulunduğuna  
D) Oyuncuların ne şekilde elendiğine

15.

Kışın insanların bolca  
yediği sebzelerden  
biriyiz.



Soğuk algınlığına karşı  
vücudunuzu koruruz.


Hafızanızı  
kuvvetlendiririz.

Bağışıklık sisteminizi  
güçlendiririz.

Bu görsele ait bilgilere göre "ıspanaklar" ile ilgili aşağıdakilerden hangisi söylenemez?

- A) Hastalıklara karşı direncimizi yükseltir.
- B) Belleğimizin güçlenmesine yardımcı olur.
- C) Çoğunlukla kış mevsiminde tüketiriz.
- D) Çok tükettiğimizde boyumuz uzar.

16.



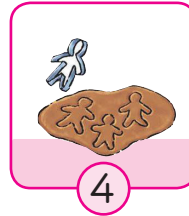
1



2



3



4



5

Kurabiye yapımıyla ilgili numaralanmış görsellerin oluş sırasına göre sıralanışı aşağıdakilerin hangisidir?

- A) 1 - 2 - 4 - 3 - 5
- B) 1 - 3 - 2 - 5 - 4
- C) 2 - 1 - 4 - 5 - 3
- D) 2 - 4 - 5 - 1 - 3

17. Bal arısı erken saatlerde evden çıktı. Güneşli bir güne "Merhaba!" dedi. Uzun uzun uçtuktan sonra rengârenk çiçeklerin olduğu yere geldi. Çiçeklerin arasında dolaştı. Bütün gün çok çalıştı ve yoruldu. Birçok çiçeğe kondu. Almak istediğini aldı. Evine geldiğinde hemen uykuya daldı.

**Bu metinde bal arısının hemen uykuya dalma sebebi aşağıdakilerden hangisidir?**

- A) Bütün gün çok yorulması
- B) Farklı renkte çiçekler görmesi
- C) Erkenden eve gelmesi
- D) Havanın çok sıcak olması

18. Günümüzde insanlara yardımcı olmaları için insan biçiminde robotlar tasarlanıyor. Bu insan biçimindeki robotlar genellikle baş, gövde, kollar ve bacaklardan oluşuyor. Ayrıca bu robotların bazıları insan derisine benzeyen bir tür malzemeyle de kaplanıyor.

**Bu metin için en uygun başlık aşağıdakilerin hangisidir?**

- A) Robotların Yaptığı İşler
- B) Robotların İnsansı Görünüşleri
- C) Robotların Farklı Özellikleri
- D) Robotlarda Kullanılan Malzemeler

19. Teneffüs zili çalınca öğretmenimiz dersi bitirdi. Koşa koşa bahçeye indik. Her yer kar ile kaplıydı. Ayşe, kardan adam yapmak istedi. Biz de ona yardım ettik. Ayşe kardan adamın gövdesini, Mehmet de kafasını yapmaya başladı. Bu sırada ben de kardan adamın kolları için kuru dal aradım. Tam bulmuştum ki "Emre zil çaldı, haydi içeri geçelim." diye beni çağırdılar.

Bu metni anlatan kişi aşağıdakilerden hangisidir?

- A) Ayşe  
B) Öğretmen  
C) Emre  
D) Mehmet


20. Bir tiyatro oyununa ait afiş aşağıda verilmiştir.




Bu afişe göre aşağıdakilerden hangisi söylenemez?

- A) Çocuklara yönelik bir oyundur.  
B) İki perdeden oluşmaktadır.  
C) Oyunda müzikten yararlanılmıştır.  
D) Konusu dostluk ile ilgilidir.

TÜRKÇE TESTİ BİTTİ.  
MATEMATİK TESTİNE GEÇİNİZ.



1.



Görseldeki  sayısının onlar ve birler basamağına ayrılmış gösterimi aşağıdakilerden hangisidir?

A)

Onlar Basamağı	Birler Basamağı
2	8

B)

Onlar Basamağı	Birler Basamağı
2	7


C)

Onlar Basamağı	Birler Basamağı
7	2

D)

Onlar Basamağı	Birler Basamağı
8	2

2. Görseldeki arabaların üzerinde yazan sayılar azalan bir sayı örüntüsünü oluşturmaktadır.



Buna göre ★ yerine aşağıdakilerden hangisi yazılmalıdır?

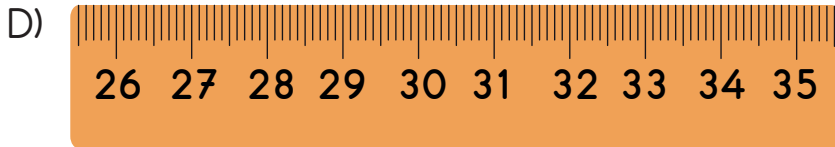
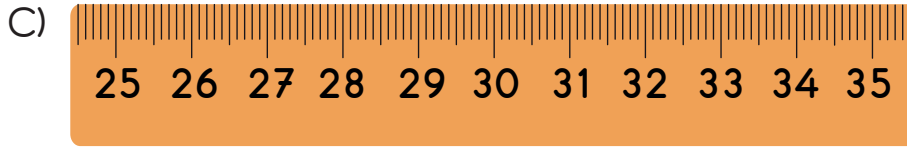
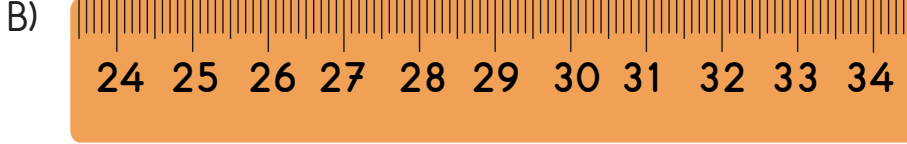
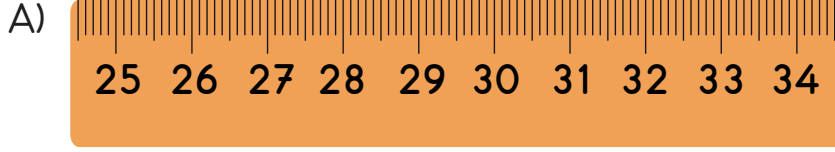
A) 38

B) 37

C) 36

D) 35

3. Aşağıdaki cetvel parçalarından hangisinin üzerinde yazan doğal sayılar en yakın onluğa yuvarlandığında her birinin sonucu 30 olur?



4. P, R, S ve T kartlarında verilen toplama işlemlerindeki toplanan sayılar en yakın onluğa yuvarlanarak sonuçları tahmin edilecektir.

$$29 + 44$$

P

$$39 + 34$$

R

$$14 + 59$$

S

$$25 + 48$$

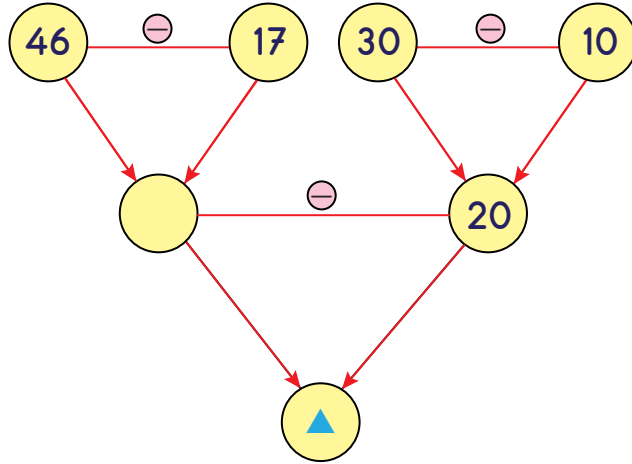
T

Buna göre hangi karttaki işlemin tahmini sonucu diğerlerinden daha büyüktür?

- A) P                      B) R                      C) S                      D) T



5.



Şekildeki çıkarma işlemine göre ▲ yerine yazılması gereken sayı kaçtır?

A) 9

B) 15

C) 16

D) 19

6.  $37 + 45 = 82$  işlemi aşağıdaki problemlerden hangisinin çözümü olamaz?

- A) Bir çiftlikte 37 tane koyun, 45 tane inek vardır. Bu çiftlikteki koyun ve inek sayılarının toplamı kaçtır?
- B) Buse'nin 37, Ali'nin 45 tane misketi vardır. İkisinin toplam kaç misketi vardır?
- C) Bir manav 45 tane karpuzun 37 tanesini sattı. Geriye kaç tane karpuz kaldı?
- D) Elif, birinci gün 45 sayfa, ikinci gün 37 sayfa kitap okudu. Elif iki günde toplam kaç sayfa kitap okudu?

7. Bir kitaplıkta 67 tane hikâye kitabı vardır. Bu kitaplıktaki boyama kitabı sayısı, hikâye kitabı sayısından 48 eksiktir.

Buna göre bu kitaplıktaki hikâye ve boyama kitabı sayılarının toplamı kaçtır?

- A) 115                      B) 86                      C) 77                      D) 76


8.  $36 - 17 = 12 + \blacksquare$

Verilen eşitlikte  $\blacksquare$  bir doğal sayıdır.

Buna göre  $\blacksquare$  kaçtır?

- A) 36                      B) 17                      C) 8                      D) 7


9. Görseldeki tencereden 9 kâsenin her birine 3 kepçe çorba konmuştur. Tencerede 5 kepçe çorba kalmıştır.



Buna göre bu tencerede başlangıçta kaç kepçe çorba vardı?

- A) 32                      B) 30                      C) 27                      D) 22

10.



Aşağıdakilerden hangisi görselde verilen nesnelerin benzediği geometrik cisimlerden biri değildir?

- A) Üçgen prizma
- B) Dikdörtgenler prizması
- C) Silindir
- D) Küre

11. Aşağıdaki tablo yirmi sekiz eş kutudan oluşmuştur.


sağ →

↑ yukarı

↓ aşağı

← sol


Tabloya göre aşağıdakilerden hangisi yanlıştır?

















































- A) 🗝️ 3 kutu yukarı götürüldüğünde 🍎 ile aynı kutuda olur.
- B) 🍎 4 kutu sola götürüldüğünde 🖋️ ile aynı kutuda olur.
- C) 🖋️ 4 kutu sağa götürüldüğünde 🗝️ ile aynı kutuda olur.
- D) 🖋️ 2 kutu aşağı götürüldüğünde 🖋️ ile aynı kutuda olur.

12.

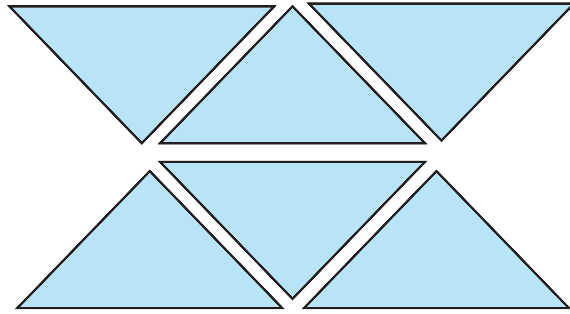


Verilen geometrik örüntünün kuralı ile aynı kurala sahip , .

 şekilleri ile oluşturulmuş geometrik örüntü aşağıdakilerden hangisidir?

- A)            
- B)            
- C)            
- D)            


13.



Şekildeki üçgenlerin köşe sayılarının toplamı aşağıdaki işlemlerden hangisi ile bulunamaz?

- A)  $6 \times 3$   
 B)  $6 + 3$   
 C)  $3 + 3 + 3 + 3 + 3 + 3$   
 D)  $3 \times 6$

14. Görseldeki tabakların her birinde eşit sayıda elma vardır.



Buna göre bu tabaklarda toplam kaç tane elma vardır?

- A) 11                      B) 21                      C) 28                      D) 35
15. Görseldeki bilyeler 3 kişiye eşit olarak paylaşılacaktır.



Buna göre bir kişiye kaç bilye düştüğünü göstermek için yapılan ardışık çıkarma işlemi aşağıdakilerden hangisidir?

A)  $12 - 6 = 6$   
 $6 - 6 = 0$

B)  $12 - 4 = 8$   
 $8 - 4 = 4$   
 $4 - 4 = 0$

C)  $12 - 3 = 9$   
 $9 - 3 = 6$   
 $6 - 3 = 3$   
 $3 - 3 = 0$

D)  $12 - 2 = 10$   
 $10 - 2 = 8$   
 $8 - 2 = 6$   
 $6 - 2 = 4$   
 $4 - 2 = 2$   
 $2 - 2 = 0$

16.



Tepsideki kurabiyeler her tabakta eşit sayıda kurabiye olacak biçimde 3 tabağa paylaştırılacaktır.

Buna göre bir tabaktaki kurabiye sayısı kaç olur?

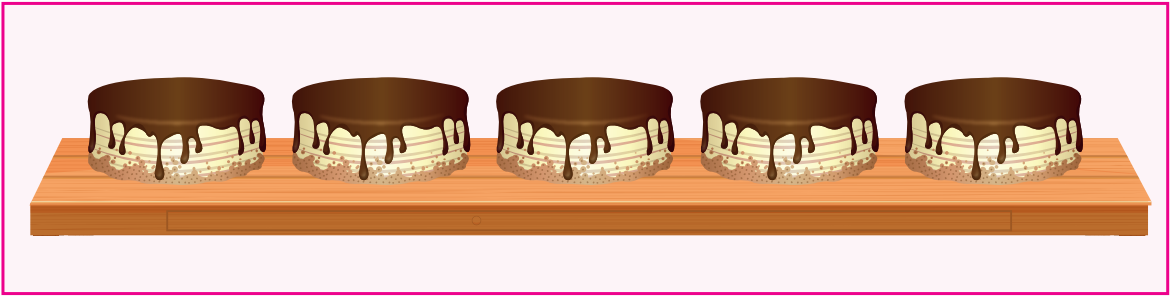
A) 6

B) 4

C) 3

D) 1

17. Eş büyüklükteki 5 bütün pasta görselde verilmiştir.



Buna göre bu pastalardan 6 çeyrek ve 3 yarım pasta yendikten sonra geriye kaç çeyrek pasta kalır?

A) 9

B) 8

C) 7

D) 6

18. Melis arkadaşı Pelin'e 2 ay 1 hafta önce doğum gününü kutladığını söylemiştir. Melis, Pelin ile bu konuşmayı 31 Mayıs 2021 tarihinde yapmıştır.

Buna göre Melis doğum gününü hangi ayda kutlamıştır?

- A) Ağustos      B) Temmuz      C) Mart      D) Şubat

19. Bir okul kantininin yiyecek ve içecek menüsü görselde verilmiştir.

YİYECEKLER	İÇECEKLER
Tost 8 TL	Su 1 TL
Salata 6 TL	Ayran 3 TL
Simit 2 TL	Meyve suyu 4 TL











Cem bu menüden bir tane yiyecek ve bir tane içecek alarak toplam 11 TL ödemiştir.

Buna göre Cem aşağıdakilerden hangisini almıştır?

- A) Tost ve meyve suyu      B) Salata ve meyve suyu  
C) Tost ve ayran      D) Simit ve su

20. Bir sınıftaki öğrencilerin tuttukları takıma göre sayıları nesne grafiğinde gösterilmiştir.

**Grafik:** Tuttukları Takıma Göre Öğrenci Sayıları


A takımı	  
B takımı	 
C takımı	   
D takımı	

**Not:** Her nesne 3 öğrenciyi göstermektedir.

Bu sınıfta her öğrenci sadece bir takım tuttuğuna göre aşağıdakilerden hangisi doğrudur?

- A) A takımını tutan öğrenci sayısı, B takımını tutan öğrenci sayısından 1 fazladır.
- B) B takımını tutan öğrenci sayısı, C takımını tutan öğrenci sayısından 2 eksiktir.
- C) D takımını tutan öğrenci sayısı 1'dir.
- D) Bu sınıftaki toplam öğrenci sayısı 30'dur.

MATEMATİK TESTİ BİTTİ.  
HAYAT BİLGİSİ TESTİNE GEÇİNİZ.





1. Aşağıdakilerden hangisi okula hazırlıklı gitmek için yapılan doğru bir davranıştır?
  - A) Bütün araç gereçlerimizi çantamıza koymak
  - B) Çantamızı büyüklerimize hazırlatmak
  - C) Çantamızı ders programına göre hazırlamak
  - D) Çantaya sevdiğimiz araç gereçleri koymak
  
2. Cumhuriyet Bayramı ile ilgili sınıfta etkinlik yapmak isteyen 2/D sınıfı öğrencilerinin aşağıdakilerden hangisini yapması doğru bir davranıştır?
  - A) Öğretmenin karar vermesini beklemeleri
  - B) Birlikte karar vermeleri
  - C) Fikirlerini açıklamaktan çekinmeleri
  - D) Sınıf başkanının karar vermesini istemeleri
  
3. Aşağıdakilerden hangisi "Birlikten kuvvet doğar." atasözüne uygun bir davranıştır?
  - A) Dersi dikkatle dinlemek
  - B) Ödevleri zamanında yapmak
  - C) Okul eşyalarını özenli kullanmak
  - D) Sınıfta grup çalışması yapmak

4. Okul bahçesinde top oynarken Alper, Arzu'ya yanlışlıkla çarptı. Arzu'nun canı acıdı.

Alper nezaket kurallarına göre Arzu'ya aşağıdakilerden hangisini söylemelidir?

- A) Özür dilerim.
- B) Bir şey olmaz.
- C) Oynamaya devam.
- D) Hep ağlıyorsun!

5. Aşağıdaki ifadelerden hangisi doğrudur?

- A) Önce isteklerimizi sonra ihtiyaçlarımızı karşılamalıyız.
- B) Harçlıklarımızı biriktirmeye gerek yoktur.
- C) Alışveriş yaparken ihtiyaçlarımıza öncelik vermeliyiz.
- D) Kaleme ihtiyacımız varken çikolata almalıyız.

6. Akrabalık ilişkileriyle ilgili olarak aşağıdakilerden hangisi doğrudur?

- A) Akrabalarımızla sadece millî bayramlarda görüşürüz.
- B) Akrabalarımızla çok görüşmeye gerek yoktur.
- C) Uzaktaki akrabamızı ziyaret etmesek de olur.
- D) Akrabalık ilişkilerimiz sevgi ve saygıya dayanmalıdır.

7. Hafta sonu alışverişe giden Selçuk ve ailesi, küçük bir çocuğun mağaza içinde kaybolduğunu fark etti. Çocuk, yardımcı olmak için adresini öğrenmek isteyenlerle adresini paylaşmadı. Polis gelince adresini ona söyledi. Polisle birlikte eve gitmek üzere yola çıktı.

Yukarıdaki olayda çocuk adresini neden söylememiş olabilir?

- A) Adresini tam olarak bilmediğinden
- B) Adresini tanımadığı kişilerle paylaşmak istemediğinden
- C) Eve dönmek istemediğinden
- D) Alışverişe devam etmeyi düşündüğünden

8. Gökhan ve ailesi kaynaklarını tutumlu kullanmak için aşağıdaki kararları almışlardır.

- 1. Damlatan muslukları onaralım.
- 2. Gereğinden fazla aydınlatma aracı kullanmaktan kaçınalım.
- 3. Tabağımıza yiyeceğimizden fazla yemek alalım.
- 4. Temizlik malzemelerini gereğinden fazla kullanmayalım.

Bu kararlardan hangisi yanlıştır?

- A) 1
- B) 2
- C) 3
- D) 4

9. • Cetvel  
• Sakız  
• Kalemtraş  
• Türkçe sözlük

Okul ihtiyaçları için kırtasiyeye giden bir öğrencinin, yukarıdakilerden hangisini alması beklenmez?

- A) Sakız  
B) Cetvel  
C) Kalemtraş  
D) Türkçe sözlük

10. Aşağıda verilen görsellerdeki davranışlardan hangisi sağlıklı büyüme ve gelişmemize katkı sağlamaz?


A)



B)



C)



D)



11.


## Yiyecekler

1



Patates kızartması

2



Tavuk ve Salata

## İçecekler

3



Ayrın

4



Kola

Yeterli ve dengeli beslenmeye dikkat eden Zeynep, öğle yemeği için yukarıdaki yiyecek ve içeceklerden hangilerini seçmelidir?

- A) 1 ve 3.      B) 1 ve 4.      C) 2 ve 3.      D) 2 ve 4.

12. Aşağıdakilerden hangisi yemekte uyulması gereken görgü kurallarındandır?


- A) Tabagımızın tamamını yemekle doldurmak  
B) Yemeği çiğnerken ağızımızı kapatmak  
C) Yemek yerken acele etmek  
D) Yemek yerken ağızımızı üstümüze silmek

13. Aşağıdakilerden hangisi yaz mevsimi için uygun bir kıyafettir?

A)



B)



C)



D)



14. Demir yolu ulaşım araçlarını sınıfa tanıtmak için poster hazırlamaya karar veren Hasan aşağıdaki resimlerden hangisini kullanmalıdır?


A)



B)



C)



D)



15. Aşağıdakilerden hangisi toplu taşıma araçlarında yolculuk yaparken dikkat edilmesi gereken güvenlik kurallarından biri değildir?
- A) Araç durunca iniş kapısından aceleyle çıkılması  
B) Sürücünün dikkatini dağıtacak davranışlardan kaçınılması  
C) Ellerin ve kolların pencereden dışarı çıkarılmaması  
D) Araçtan inince çevrenin kontrol edilmesi
16. Aile, kadın, çocuk, yaşlı, engelli, şehit yakınları ve gazilere yönelik sosyal destek hattının acil telefon numarası aşağıdakilerden hangisidir?
- A) 110                      B) 183                      C) 122                      D) 155
17. İstiklâl Marşı'mızın yazarı aşağıdakilerden hangisidir?
- A) Mehmet Akif Ersoy  
B) Mustafa Kemal Atatürk  
C) Mehmet Zeki Üngör  
D) Âşık Veysel Şatıroğlu

18. Ulusal Egemenlik ve Çocuk Bayramı'nı hangi günde kutlarız?
- A) 19 Mayıs      B) 30 Ağustos      C) 29 Ekim      D) 23 Nisan
19. Aşağıdakilerden hangisi ülkemize ait yöresel yemeklerden biri değildir?
- A) Manti      B) İskender kebab  
C) Çiğ börek      D) Pizza
20. Aşağıdakilerden hangisi sanayi faaliyetidir?
- A) Beyaz eşya üretilmesi  
B) Buğday yetiştirilmesi  
C) Küçükbaş hayvancılık yapılması  
D) Otel işletilmesi



TEST BİTTİ.  
CEVAPLARINIZI KONTROL EDİNİZ.





## SINAV BAŞLAMADAN AŞAĞIDAKİ UYARILARI MUTLAKA OKUYUNUZ!

1. Öğrenciler, sınav kurallarına ve salon görevlilerinin tüm uyarılarına uymak zorundadırlar.
2. Cevap kâğıdındaki kimlik bilgilerinin doğruluğunu kontrol ediniz. Bilgiler size ait değilse veya cevap kâğıdı kullanılmayacak durumdaysa sınav görevlilerine bildiriniz.
3. Sınav başladıktan sonra öğrencilerin salon görevlileri ve birbirleri ile konuşmaları, kalem, silgi vb. şeyleri istemeleri yasaktır.
4. Değiştirmek istediğiniz bir cevabı, yumuşak silgiyle cevap kâğıdını yıpratmadan temizce siliniz ve yeni cevabınızı kodlayınız.
5. Cevap kâğıdınızı siyah kurşun kalemle imzalayınız.
6. Cevaplarınızı, cevap kâğıdındaki ilgili soru numarasını dikkate alarak yuvarlağın dışına taşırmadan kodlayınız.
7. Soru kitapçığının sayfalarını kontrol ediniz, baskı hatası var ise değiştirilmesini sağlayınız.
8. Soru kitapçığı üzerinde yapılıp cevap kâğıdına işaretlenmeyen cevaplar değerlendirmeye alınmayacaktır.
9. Soru kitapçığının içindeki boş alanları çözümlerinizi için kullanabilirsiniz.
10. Cevaplamaya istediğiniz sorudan başlayabilirsiniz.
11. Cevabını bilmediğiniz sorular üzerinde fazla zaman kaybetmeden diğer sorulara geçiniz. Zamanınız kalırsa bu sorulara daha sonra dönebilirsiniz.
12. Sınav puanınızın hesaplanmasında 3 yanlış 1 doğru cevabınızı götürcektir. Alt testler bu şekilde hesaplanarak net puanlarının toplamı toplam net puanınızı verecektir.
13. Sınav bitiminde, soru kitapçığı ve cevap kâğıdını salon görevlilerine teslim ediniz.
14. Sınav sırasında çanta, cep telefonu, saat, kablosuz iletişim sağlayan cihazlar ve kulaklık, kolye, küpe, bilezik, yüzük, broş ve benzeri eşyalar ile her türlü elektronik ve/veya mekanik cihazları yanınızda bulundurmamınız. Bu araçları yanınızda bulundurmanız ve kopya çekmeye teşebbüs etmeniz hâlinde sınavınız geçersiz sayılacaktır.
15. Cevap kâğıdınızı sınav süresince hiçbir öğrencinin göremeyeceği şekilde önünüzde bulundurunuz.
16. Sınavınızın değerlendirilmesi aşamasında, toplu kopya tespiti veya başka adayın sınav evrakını kullanmanız durumunda sınavınız geçersiz sayılacaktır.
17. Soruları ve sorulara verdiğiniz cevapları kaydetmeyiniz, hiçbir şekilde dışarı çıkarmayınız.
18. İlk 15 dakika dışarı çıkılmayacaktır.
19. Sınav evraklarını teslim etmeyenlerin sınavı geçersiz sayılacaktır.

## SINAV GÖREVLİLERİNCE SINAV BAŞLAMADAN ÖNCE ÖĞRENCİLERE YAPILACAK SON UYARI!

- Soracağınız bir şey var mı? Varsa, şimdi sorunuz.
- Sınav başladıktan sonra sorularınıza cevap verilmeyecektir.
- Başlama zilini bekleyiniz.

**Hepinize başarılar dileriz.**

**(Sınav görevlisi başlama ve bitiş saatini tahtaya yazacaktır.)**

Bu kitapçığın her hakkı saklıdır. Hangi amaçla olursa olsun, kitapçığın tamamının veya bir kısmının Millî Eğitim Bakanlığı Ölçme, Değerlendirme ve Sınav Hizmetleri Genel Müdürlüğünün yazılı izni olmadan kopya edilmesi, fotoğraflarının çekilmesi, bilgisayar ortamına alınması, herhangi bir yolla çoğaltılması, yayımlanması veya başka bir amaçla kullanılması yasaktır. Bu yasağa uymayanlar, doğabilecek cezai sorumluluğu ve kitapçığın hazırlanmasındaki mali külfeti peşinen kabullenmiş sayılır.

**13 HAZİRAN 2021 TARİHİNDE YAPILAN VEHBİ KOÇ VAKFI,  
ÖZEL KOÇ İLKOKULU VE ORTAOKULU SEVİYE TESPİT SINAVI  
3. SINIF “A” KİTAPÇIĞI CEVAP ANAHTARI**

<b>TÜRKÇE</b>	<b>MATEMATİK</b>	<b>HAYAT BİLGİSİ</b>
1. A	1. A	1. C
2. D	2. B	2. B
3. D	3. A	3. D
4. A	4. D	4. A
5. D	5. A	5. C
6. C	6. C	6. D
7. B	7. B	7. B
8. C	8. D	8. C
9. B	9. A	9. A
10. B	10. D	10. D
11. A	11. C	11. C
12. B	12. D	12. B
13. A	13. B	13. D
14. A	14. C	14. A
15. D	15. C	15. A
16. C	16. A	16. B
17. A	17. B	17. A
18. B	18. C	18. D
19. C	19. C	19. D
20. D	20. D	20. A