



ADİYAMAN İL MİLLÎ EĞİTİM MÜDÜRLÜĞÜ

KAZANIM PEKİŞTİRME ÇALIŞMASI



HAYAT EVE SİĞAR
LIFE FITS INTO HOME
7.
SAYI

3. SINIF
1-5 HAZİRAN

BU KİTAPÇIKTA

TÜRKÇE	15 SORU
MATEMATİK	15 SORU
FEN BİLİMLERİ	15 SORU
HAYAT BİLGİSİ	15 SORU
İNGİLİZCE	10 SORU

Yer almaktadır.

Not: Cevap anahtarı soruların yayımlandığı günden sonraki Salı günü
<http://adiyaman.meb.gov.tr/> duyurular sekmesinde açıklanacaktır.

Bu çalışmada yer alan Borsa İstanbul ilkokulu, Cumhuriyet İlkokulu, Mehmetçik İlkokulu, Menderes İlkokulu idareci ve öğretmenlerine teşekkürler...

ADİYAMAN MEM

2020

3. SINIF KAZANIM PEKİŞTİRME TESTİ

TÜRKÇE

GÖKKUŞAĞI

Fidan, hafta sonu pencereden yağmurun yağışını seyreliyordu. Yağmur ne kadar güzel yağıyordu. Çatiya düşen damlalar sanki şarkı söylüyordu.

Yağmur damlaları, ağaçların yapraklarını yıkamıştı. Her yer tertemiz olmuştu. Hava, ne güzel toprak kokuyordu. Daha sonra bulutlar dağılmış, gökyüzünde pırıl pırıl güneş görünmüştü. Güneşin ışıkları ağaçların ve çiçeklerin üzerine yansımıştı. Doğa çok güzel görünüyordu.

Fidan bu renkler karşısında çok şaşırdı. Gökyüzüne bakınca gözlerine inanamadı. Kendi kendine, "Bu güzel şey de ne? Üzerinde bir, iki, üç, dört, beş, altı, yedi tane renk var. Kırmızı, turuncu, sarı, yeşil, mavi, lacivert, mor." dedi. Fidan, bu renklerin ne olduğunu düşünürken birden bir ses duydu. Bu ses:

- Merhaba küçük kız! Sanırım benim kim olduğumu merak ettin. Ben gökkuşağıyım. Yağmur yağarken gökyüzünün bütün renklerini toplarım. Gökyüzünü taç gibi süslerim. Sonra güneş doğar. Güneş, beni görmenizi sağlar, dedi. Fidan:

- Gökkuşağı, seni çok sevdim. Her yağmur yağdığında seni bekleyeceğim, dedi.

İlk üç soruyu yukarıdaki metine göre cevaplayınız.

1. Aşağıdaki renklerden hangisi gökkuşağında yoktur?

- A) Kırmızı B) Siyah C) Lacivert

2. Fidan, bu renklerin ne olduğunu düşünürken duyduğu ses kime aitti?

- A) Gökkuşağına
B) Annesine
C) Ablasına

3. Gökkuşağını görmemizi ne sağlıyormuş?

- A) Dünya B) Güneş C) Ay

4. Aşağıdaki cümlelerin hangisinde öznel yargı vardır?

- A) Cumartesi ve pazar günleri hafta sonu tatildir.
B) Mustafa'nın 10. yaş gününü kutladık.
C) Annem çok güzel yemek yapar.

5. Aşağıdaki cümlelerin hangisinde adı niteleyen bir kelime kullanılmıştır?

- A) Kırmızı burnu ile çok komikti.
B) Defterini unutmuştu.
C) Çantasına bakmıştı.

6. Aşağıdaki cümlelerin hangisinin sonuna ünlem (!) işareti konulmalıdır?

- A) Dikkat köpek var.
B) Köpek insanlara dostluk eder.
C) Hayvanları korumalıyız.

7. Aşağıdaki sözcüklerden hangisi satır sonuna sığmazsa tamamı bir alt satırda yazılmaz?

- A) ise B) deve C) için

8. "Kocaman elleriyle kırmızı gülleri tek tek topladı." cümlesinde varlığı niteleyen sözcükler hangileridir?

- A) Kocaman – kırmızı
B) Gülleri – kırmızı
C) Kocaman – topladı

9. Aşağıdaki cümlelerin hangisi olumlu cümledir?

- A) Bu gece sabaha kadar uyuyamadım.
- B) Bu hafta sonu arkadaşım ile buluşmadım.
- C) Bende arkadaşımın ödevi kalmış.

10. Aşağıdaki sözcüklerden hangisinde hecelerine ayırırken yanlışlık yapılmamıştır?

- A) yar – dım – sev - er
- B) o-kud-uk-lar-ım
- C) gül- dü – rür - ken

11. Aşağıdaki cümlelerin hangisinde altı çizili kelime mecaz (gerçek anlamı dışında) anlamda kullanılmıştır?

- A) Kara kedinin yavruları var.
- B) Kara tahtaya beyaz tebeşirle yazı yazdım.
- C) Kara haber tez duyulur.

12. Aşağıdaki cümlelerin hangisinde deyim kullanılmamıştır?

- A) Açlıktan karnım zil çalıyor.
- B) Birlikten kuvvet doğar.
- C) Ali gözüme girmeyi başardı.

13. “ Her zaman güzel yazı yaz.

Yaz tatilimi Adıyaman'da geçireceğim.”

Yukarıdaki cümlelerde verilen altı çizili sözcükler ne tür sözcüklerdir?

- A) Eş anlamlı kelimeler
- B) Zıt anlamlı kelimeler
- C) Eş sesli kelimeler

14. Aşağıdaki cümlelerin hangisinde karşılaştırma yapılmıştır?

- A) İlkbahar ayları yaz aylarından daha güzeldir.
- B) Akşam hava çok serindi.
- C) Kışın her yer karla kaplanır.

15. Aşağıdaki cümlelerin hangisinde altı çizili kelimenin zıt anlamı vardır?

- A) Okul, insanların davranışlarını düzetmeyi öğrendiği yerdir.
- B) Bahçeye yaklaşınca çiçek kokusu aldım.
- C) Büyük ağacın altında oturduk.

3. SINIF KAZANIM PEKİŞTİRME TESTİ

MATEMATİK DERSİ

1. Bir kenarı 76 m olan kare şeklindeki bahçenin çevresine 4 sıra tel çekilecektir.

Bu iş için kaç metre tele ihtiyaç vardır?

A) 304 B) 1216 C) 912


2. Bir üçgenin kenar ölçüleri 13 cm, 17 cm ve 18 cm'dir. Bu üçgenin çevre uzunluğu ile bir karenin çevre uzunluğu eşit olduğuna göre, **karenin bir kenarı kaç cm'dir?**

A) 10 B) 11 C) 12

3. Bir kenarı 6 cm olan 4 tane kareyi yan yana koyup bir dikdörtgen oluşturursam, **yeni oluşan şeklin çevresi kaç santimetre olur?**

A) 60 B) 70 C) 80

4.



Yukarıdaki karenin bir kenarı 8 cm'dir. Boyalı kısım karenin tam yarısını göstermektedir. **Buna göre boyalı kısmın çevresi kaç santimetredir?**

A) 24 B) 32 C) 48

5. Dikdörtgen şeklindeki bir bahçenin uzun kenarı 28 metredir. Kısa kenarı, uzun kenarının $\frac{1}{4}$ 'ü kadardır.

Bahçenin çevresinde 6 tur koşan Emre kaç metre koşmuş olur?

A) 360 B) 420 C) 672

6. Adıyaman – Mersin arası 408 kilometredir. Mersin'den dönen babam yoldayken bizi aradı ve "yolun $\frac{2}{3}$ 'sini tamamladık" dedi. **Babamın Adıyaman'a ulaşması için gelmesi gereken kaç km yolu kalmıştır?**

A) 408 B) 272 C) 136

7. 11 m uzunluğundaki ipin 2m 85cm'sini Umut'a, 3m 67 cm'sini Yusuf'a, 2m 98 cm'sini Mete'ye verirsem **geriye ne kadar ipim kalır?**

A) 2m 50cm B) 1m 50cm C) 50cm

8. Bir kova 7 şişe ile, 1 şişe 6 bardak su ile doluyor. Buna göre 3 kova kaç bardak su ile dolar?

A) 42 B) 84 C) 126

9. 4 kg elmadan, 1 litre elma suyu çıkıyor. Buna göre 48 litre elma suyu elde etmek için kaç kg elmaya ihtiyaç vardır?

A) 12 B) 48 C) 192

10. Her biri yarım litre olan kaplardan 8 tanesini doldurmak için kaç litre sıvı gereklidir?

A) 4 B) 8 C) 16

11. 4 litresi 72 TL olan meyve suyunun yarım litresi kaç liradır?

A) 9 B) 18 C) 288

12. Her gün 4 yarım litre su içen Özge, bir haftada kaç L su içer?

A) 7 B) 14 C) 28

13. Aşağıdakilerden hangisinin miktarı litre ile ölçülebilir?

A) Elma B) Zeytinyağı C) Bardak

14. Metin Bey otomobiline litresi 6 liradan 28 L benzin alıyor. Ödeme için 200 lira verdiği göre kaç lira para üstü alır?

A) 32 B) 132 C) 168

15. 5 L süttten 4 kg yoğurt elde edilmektedir. Her biri 2 kg yoğurt alan 14 kap yoğurt için kaç litre süt kullanılır?

A) 28 B) 35 C) 40

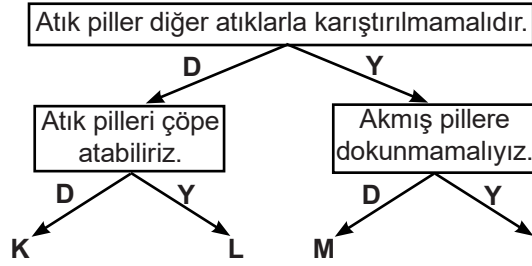
3. SINIF KAZANIM PEKİŞTİRME TESTİ

FEN BİLİMLERİ

1. Pillerle ilgili verilen bilgilerden hangisi doğrudur?

- A) Piller, şehir elektriğinden daha yüksek enerji üretirler.
- B) Piller elektrik çarpmasına neden olur.
- C) Atık piller doğaya zarar verir.

2.



Soruları doğru cevapladığımızda hangi çıkışa ulaşırız?

- A) K
- B) L
- C) M

3. Balıkların yaşadığı, içi tertemiz sularla dolu bir göl varmış. Balıklar, oradan oraya yüzer dururmuş. Bir gün gölün etrafına piknik yapmaya birkaç kişi gelmiş. Kumandalı oyuncaklarını uçurmuşlar. Oyuncakların pilleri bitince, biten pilleri göle atmışlar.

Sevim'in ninesinin anlattığı yukarıdaki olayda bundan sonra balıklarla ilgili ne olmuş olabilir?

- A) Balıklar mutlu yaşamaya devam etmişler.
- B) Gölün suyu kirlendiği için bazı balıklar ölmüşler.
- C) Balıklar çok büyük olmuşlar.

4. Aşağıdaki eşleştirmelerden hangisi yanlıştır?

- A) El feneri → Pil
- B) Klima → Şehir elektriği
- C) Telsiz → Akü

5.



Yukarıdaki görsel, pillerin hangi özelliğini anlatmaktadır?

- A) Farklı boyutlarda piller vardır.
- B) Piller şarj edilebilir.
- C) Pillerin güçleri aynıdır.

6. Abuzer Bey: Bizim çocuk, pillerle oynamayı çok seviyor.

Yılmaz Bey: Bizim oğlan, biten pilleri çöpe atıyor.

Zeynel Bey: Bizim oğlan, enerjisi biten pilleri atık pil kutusuna koyuyor.

Yukarıda verilen durumlardan doğru olanlara 'D', yanlış olanlara 'Y' dersek hangisi doğru işaretleme olur?

- | | | |
|------|------|------|
| A) D | B) Y | C) Y |
| D | Y | Y |
| Y | Y | D |

7.

Şarjlı pil kullanmak çevre için daha iyidir.

Evimizdeki pilleri küçük kardeşlerimizin ulaşamayacağı yerlere koymalıyız.

Satın aldığımız oyuncakların pil yuvalarını kolayca açabiliyorum.

Yukarıdaki bilgilerden doğru olanları seçersem hangi renkteki kutuları seçerim?

- A)
- B)
- C)

8. I. Suya atılırsa suyu kirletir.
II. Toprağa atılırsa toprağı kirletir.
III. Toprakta yaşayan canlılar için besin kaynağı olur.
Doğaya rastgele atılan pillerle ilgili verilen bilgilerden birisi yanlıştır. Acaba yanlış bilgiyi hangisidir?
- A) I B) II C) III

9. Toprağa karıştırdıktan sonra yararlı hale gelen atık hangisidir?
- A) Kullanım süresi dolmuş piller.
B) Kurumuş otlar.
C) Plastik atıklar.




10. elektriğin dikkatsiz kullanılması sonucu oluşan tehlikeli bir olaydır.
Cümlesindeki boşluğa hangisi yazılmalıdır?
- A) Elektrik kesintisi
B) Elektrikli araçların bozulması
C) Elektrik çarpması

11. I. Elektrik şalterini kapatmak
II. Çarpılan kişiye elle dokunmak
III. 112 acil servisi aramak
IV. Elektrik iletmeyen bir çubukla çarpılan kişiyi elektrik kaynağından uzaklaştırmak
Elektrik çarpması durumunda yukarıdakilerden hangilerini yapmak doğru olur?
- A) I, III ve IV B) I, II, III ve IV C) I ve IV

12. Aşağıdakilerden hangisi elektriğin güvenli kullanımına ilişkin yapılması gerekenlerden biri **değil**dir?

- A) Yıpranmış kabloları yenileriyle değiştirmek.
B) Çoklu prizlere birden fazla fiş takmak.
C) Elektrik kablolarına ıslak elle dokunmamak.

13. Aşağıdaki işaretlerden hangisi elektrik çarpmaya tehlikesiyle ilgilidir?

- A)  B)  C) 

14. Aşağıdakilerden hangisi elektriğin güvenli kullanımı ile ilgili **yanlış** bir davranıştır?

- A) Elektrikli araçların bakım ve onarımını işin uzmanına yaptırmak.
B) İşimiz bittiğinde elektrikli araç gereçlerimizin fişlerini mutlaka prizden çıkarmak.
C) Elektrik prizlerine tornavida sokmak.

15. **Berken:** Prize taktığım fişin, yerine doğru takılmasını sağlarım.

Sümeyye: Kablosu soyulmuş fişleri kullanmam.

Betül: Elektrik prizine sivri metal cisim sokmam.

Hangisinin ya da hangilerinin söyledikleri elektrik çarpmasını önlemek için alınması gereken önlemlerdendir?

- A) Berken, Sümeyye ve Betül
B) Sümeyye ve Betül
C) Betül ve Berken

3. SINIF KAZANIM PEKİŞTİRME TESTİ

HAYAT BİLGİSİ DERSİ

1. Aşağıdakilerden hangisi ülkemizde nesli tükenmekte olan hayvanlardan biri değildir?

A)



serçe

B)



Akdeniz foku

C)



Hatay dağ ceylanı

2. Öğle vakti, Güneş tam tepedeyken yere dikilen bir çubuğun gölgesi hangi yönü gösterir?

A) Güney

B) Kuzey

C) Doğu

3. Sebze ve meyveler toprakta farklı yerlerde ve şekillerde yetişir.

Buna göre aşağıda verilen meyve ve sebzeleri yetiştikleri yere göre numaralandırarak eşleştirelim?



a



b



c



d



e



f

Ağaçta yetişen

--	--

Toprak üstünde yetişen

--	--

Toprak altında yetişen

--	--

4. Aşağıdakilerden hangisi ülkemizde nesli tükenmekte olan bitkilerden biri değildir?

A) Sevgi çiçeği

B) Narin acı çiğdem

C) Papatya

5. Elif, sağ kolunu Güneş'in doğduğu yöne uzatırsa Elif'in yüzü hangi yöne dönük olur?

A) Batı

B) Güney

C) Kuzey

6. Aşağıdakilerden hangisi çevreyi koruma konusunda sorumluluk sahibi biri tarafından yapılmaz?

A) Pilleri çöp kutusuna atar.

B) Geri dönüşüme önem verir.

C) Ağaç diker.

7. Mehmet, batan güneşi izlerken Mehmet'in sol tarafı hangi yönü gösterir?


A) Kuzey

B) Güney

C) Doğu

8. Aşağıdakilerden hangisi ile yön bulunamaz?

A)



B)



C)



9. Aşağıdaki cümlelerde boş bırakılan yerleri verilen uygun kelimelerle tamamlayalım.

denge	çevreyi	su	toprak	hava
-------	---------	----	--------	------

1. İnsanlar, ihtiyaçlarını karşılamak ve hayatlarını kolaylaştırmak için doğal değiştirirler.

2. Doğadaki bozulunca bazı canlıların nesilleri tükenir.

3. Bilinçsiz kullanılan tarım ilaçları kirliliğine yol açar.

4. Kimyasal atıkların; dere, nehir, göl gibi yerlere akması sonucunda kirliliği oluşur.

5. Fabrika bacalarına filtre takılmazsa kirliliği oluşur.

10. Aşağıdaki cümlelerden insanların doğaya olumlu etkileri ile ilgili olanların yıldızını yeşile, olumsuz etkileri ile ilgili olanların yıldızını kırmızıya boyayınız.

- ☆ Atık maddelerin geri dönüşüm kutularına atılması.
- ☆ Boş arazilerin ağaçlandırılması.
- ☆ Tarım ilaçlarının bilinçsiz kullanımı.
- ☆ Piknik yerlerine cam parçaları atılması.
- ☆ Atıkların; deniz, göl ve akarsulara dökülmesi.
- ☆ Fabrika bacalarına filtre takılması.

11. Aşağıdaki ifadelerden doğru olanların başına “D”, yanlış olanların başına “Y” yazınız.

- 1.() Bitkilerin yetişmesi için iklim koşulları önemlidir.
- 2.() Kağıt atıklar geri dönüşüm ile yeniden kullanılabilir.
- 3.() Doğada yönümüzü sadece Güneş ile bulabiliriz.
- 4.() Geri dönüşüm sayesinde atık miktarı artar.
- 5.() Ağaçların kesilmesi hava kirliliğinin artmasına sebep olur.

12. Aşağıda yetişme koşulları verilen sebze ve meyveleri görselleriyle numaralandırarak eşleştirelim.

1	Serin iklim sebzesiyim. Nemli toprakları ve yağmuru severim. Turuncu renkli kök kısmımı yer-seniz gözlerinize iyi gelirim.
2	Kış ve ilkbaharda yağmuru, yazın sıcaklığı severim. En fazla Ege Bölgesi'nde yetiştirilirim. Bağ meyvesi denince akla gelirim.
3	Yüksek sıcaklık ve nemi severim. Çok soğuktan hoşlanmam. Tropikal bir meyveyim. Ülkemizde Mersin'in Anamur ilçesinde yetiştirim.
4	Ilık ve sıcak iklim sebzesiyim. Soğuklardan çok korkarım. Ülkemizde en fazla yetiştirilen sebze-lerdenim. Salçam ve sosum yapılır.



13. Yönümüzü bulmak için aşağıdakilerin hangisinden faydalanırız?

- A) Stetoskop B) Termometre C) Pusula

14. Aşağıdakilerden hangisi her mevsim yağışlı, nemli; kışların ise ılık geçtiği yerlerde yetiştirilir?

- A) Zeytin B) Çay C) Portakal

15. Aşağıdakilerden hangisi hayvansal besin değildir?

- A) Ekmek B) Bal C) Peynir

3. SINIF KAZANIM PEKİŞTİRME TESTİ

İNGİLİZCE

1.



.....
Boş bırakılan yere uygun gelen ifade hangisidir?

- A) Bee B) Cat C) Frog

2. Alice : Do you like shark ?

Tom: _____ ?

Boş bırakılan yere hangisi gelmelidir ?

- A) How are you?
B) What is do?
C) Yes, I do

3.



.....
Boş bırakılan yere hangisi gelmelidir?

- A) Shark B) Seahorse C) Frog

4. "Ladybird" kelimesinin Türkçe karşılığı hangisidir?

- A) Kelebek B) Yunus Balığı C) Uğur Böceği

5. Ayşe : Which animal is green?

Elif : _____.

Boş bırakılan yere hangisi gelmelidir.

- A) A ladybird B) A horse C) A frog

6.



.....
Boş bırakılan yere uygun gelen ifade hangisidir?

- A) Dolphin B) Monkey C) Bird

7.



There are seagulls.

Boş bırakılan yere uygun gelen ifade hangisidir?

- A) five B) three C) four

8. Efsun:?

Seda: Yes, I like dolphins and birds.

Boş bırakılan yere uygun gelen ifade hangisidir?

- A) Do you like animals?
B) What is your name?
C) Does she like fruits?

9. Aşağıdakilerden hangisi diğerlerinden farklıdır?

- A) Bird B) Fish C) Blue

10. I dolphins, but I don't like sharks.

Boş bırakılan yere uygun gelen ifade hangisidir?

- A) Like B) Likes C) Don't like

7. HAFTA 3. SINIF FEN BİLİMLERİ CEVAP ANAHTARI														
1	2	3	4	5	6	7	8	9	10	11	12	13	14	15
C	B	B	C	A	C	A	C	B	C	A	B	B	C	A

7. HAFTA 3. SINIF TÜRKÇE CEVAP ANAHTARI														
1	2	3	4	5	6	7	8	9	10	11	12	13	14	15
B	A	B	C	A	A	B	A	C	C	C	B	C	A	B

7. HAFTA 3. SINIF İNGİLİZCE CEVAP ANAHTARI									
1.A	2.C	3.B	4.C	5.C	6.A	7.B	8.A	9.C	10.A

7. HAFTA 3. SINIF MATEMATİK CEVAP ANAHTARI														
1	2	3	4	5	6	7	8	9	10	11	12	13	14	15
B	C	A	A	B	C	B	C	C	A	A	B	B	A	B

7. HAFTA 3. SINIF HAYAT BİLGİSİ CEVAP ANAHTARI

1. A

2. B

3. Ağaçta Yetişen : c - e

Toprak Üstünde Yetişen : b - d

Toprak Altında Yetişen : a - f

4. C

5. C

6. A

7. B

8. B

9. 1. çevreyi
2. denge
3. toprak
4. su
5. hava

10. yeşil - yeşil - kırmızı - kırmızı - kırmızı - yeşil

11. D - D - Y - Y - D

12. Domates Muz Havuç Üzüm

4

3

1

2

13. C

14. B

15. A

“İstanbul mutlaka fethedilecektir. Onu fetheden komutan ne güzel komutan, o ordu ne güzel ordudur.”

Hz. Muhammed

İstanbul’un Fethi (1453)

İstanbul 29 Mayıs 1453 tarihinde, Fatih Sultan Mehmet’in komutanlığında, Osmanlı Ordusu tarafından fethedilmiştir. Sanata düşkünlüğü bilinen Fatih Sultan Mehmet, bir fermanla mozaik ve diğer sanat eserlerinin yok edilmemesini ve sıva ile örtülmesini buyurur.

Artık Osmanlı İmparatorluğu’nun başkenti haline gelen İstanbul, Osmanlı’nın yıkılışına kadar başkent olarak kalır.

İstanbul’da Osmanlı Yapıları: İstanbul’da birçok Osmanlı eseri görülebilir. Binlerce cami, imparatorluk binası, kışla, okul, hamam arasında Sultanahmet Camii (1616), Süleymaniye Camii (1557), Topkapı Sarayı (1465), Rumeli Hisarı (1452), Dolmabahçe Sarayı (1856) gibi muhteşem eserler vardır.

