



# ADİYAMAN İL MİLLÎ EĞİTİM MÜDÜRLÜĞÜ

## KAZANIM PEKİŞTİRME ÇALIŞMASI



HAYAT EVE SİĞAR  
LIFE FITS INTO HOME  
7.  
SAYI

4. SINIF  
1-5 HAZİRAN

## **BU KİTAPÇIKTA**

TÜRKÇE	15 SORU
MATEMATİK	15 SORU
FEN BİLİMLERİ	15 SORU
SOSYAL BİLGİSİ	15 SORU
İNGİLİZCE	10 SORU
DİN KÜLTÜRÜ	10 SORU

Yer almaktadır.

Not: Cevap anahtarı soruların yayımlandığı günden sonraki Salı günü  
<http://adiyaman.meb.gov.tr/> duyurular sekmesinde açıklanacaktır.

Bu çalışmada yer alan Borsa İstanbul ilkokulu, Cumhuriyet İlkokulu, Mehmetçik İlkokulu, Menderes İlkokulu idareci ve öğretmenlerine teşekkürler...

ADİYAMAN MEM

2020

## 4. SINIF KAZANIM PEKİŞTİRME TESTİ

### TÜRKÇE DERSİ

“Uzun gözlem ve deneyimler sonucu oluşmuş, bilgi ve öğüt veren kalıplaşmış sözlere atasözü denir. Atasözlerinin söyleyeni belli değildir, atasözleri halkın ortak malıdır. Atasözleri anonimdir yani atasözünü söyleyen kişi belli değildir. Atasözleri kalıplaşmış sözlerdir. Bu yüzden atasözünü oluşturan sözcükler yerine başka sözcükler getirilemez, sözcüklerin sıralanışında da değişiklik yapılamaz.”

1. “Adamın iyisi iş başında belli olur” atasözünün anlamı aşağıdaki cümlelerden hangisine uygundur?

- A) İyi insanlar, işlerini de her zaman iyi yaparlar.
- B) Bir insanın gerçek değeri işinde gösterdiği başarı ile ölçülür.
- C) İnsanlar yaptıkları işlerle çevresini yararlı olurlar.
- D) Plânlı çalışan insanlar çok başarılı olurlar.

2. Aşağıdakilerden hangisi “İşleyen demir pas tutmaz.” atasözüne en yakın anlamlıdır?

- A) Çok çalışan çok kazanır.
- B) Emek vermeden üretim elde edilemez.
- C) Çalışan insan sağlıklı olur.
- D) İyi bir duruma gelmek için sabırlı olmak gerekir.

3. “Güvenme varlığa, düşersin darlığa” atasözünün anlamı aşağıdakilerden hangisidir?

- A) Borçlanarak alışveriş yapan kişi zor durumda kalır.
- B) Varlığını iyi kullanmayanlar yoksullaşırlar.
- C) Kişi, elindeki fırsatı iyi değerlendirmelidir.
- D) Kişi, bir işe başlamadan önce iyi düşünmelidir.

4. Aşağıdaki atasözlerinden hangisi konusu yönünden farklıdır?

- A) Tencere dibin kara, seninki benden kara.
- B) Rüzgâr eken fırtına biçer.
- C) Ne ekersen onu biçersin.
- D) Çalma elin kapısını, çalarlar kapını.

5. “İnsan geliriyle orantılı bir şekilde harcama yapmalı, açık vermemelidir.” anlamına gelen atasözü aşağıdakilerden hangisidir?

- A) Ayağını yorganına göre uzat.
- B) Sakla samanı gelir zamanı.
- C) Ne ekersen onu biçersin.
- D) İşten artmaz, dişten artar.

6. “At binenin, kılıç kuşananındır.” atasözünü en iyi şekilde aşağıdakilerden hangisi açıklar?

- A) Bir işin iyi olması için araçlara ihtiyaç yoktur.
- B) Gerekli hazırlıklar yapılmadan iyi bir sonuç elde edilemez.
- C) Bir şeye sahip olma hakkı, o şeyden en iyi şekilde yararlanana aittir.
- D) Her iş zamanında yapılmalıdır.

7. “Bir olayı, bir durumu, bir kavramı daha etkileyici anlatmak için en az iki sözcüğün bir araya gelmesiyle oluşan ve çoğu zaman gerçek anlamdan uzaklaşıp kendine özgü anlam kazanan kelime gruplarına deyim denir. Deyimler, hem yazılarımıza hem de konuşmalarımıza derinlik katar. Anlatıklarımızı ilgi çekici hâle getirir. Birkaç cümleyle anlatabileceğimiz bir durumu iki üç sözcükten oluşan bir deyimle anlatabiliriz. Böylece kısa ve özlü anlatım sağlamış oluruz.”

**Aşağıdaki deyimlerden hangisi “çok iyi dinlemek” anlamı taşır?**

- A) Kulağı çınlamak.
- B) Kulak kabartmak.
- C) Kulağına koymak.
- D) Can kulağıyla dinlemek.

8. “Mürekkep yalamış” deyiminin anlamı aşağıdakilerden hangisidir?

- A) Yetişip topluma yararlı olabilmesi için çok uzun bir zaman gerekli olan kişi.
- B) Kararsızlık içinde, düşünerek gezmek.
- C) Öğrenim görmüş, okumuş, kültürlü kişi.
- D) Herhangi bir engel nedeniyle elindeki olanaklardan yararlanamamak.

9. “Alın teri dökmek” deyiminin anlamı hangisidir?

- A) Heyecandan yüzü kıpkırmızı olmak.
- B) Çok dikkatli olmak.
- C) Çok emek vermek.
- D) Akılsızca işler yapmak.

10. Aşağıdaki deyimlerin hangisi “çok güzel konuşmak” anlamındadır?

- A) Ağzı açık kalmak.
- B) Ağzından bal damlamak.
- C) Ağzını bıçak açmamak.
- D) Ağzı gevşek olmak.

11. “Babam eli açık bir insandır.” cümlesindeki deymi, aşağıdaki cümlelerden hangisi ile ilgilidir?

- A) Babam cömerttir.
- B) Babam savurgandır.
- C) Babam çalışkandır.
- D) Babam zengindir.

12. “Sözcüklerde pekiştirme, sözcüklerin anlamlarının artırılmasıdır. Bu sözcükler cümle içinde farklı görevlerde kullanılabilir.”

**Aşağıdaki cümlelerin hangisinde pekiştirme vardır?**

- A) Özümüzü, değerlerimizi korumalıyız.
- B) Villaya 6 milyon değer biçildi.
- C) Bu kitap benim için değerli.
- D) Masmavi göl manzarası izlenmeye değerdi.

**13. Aşağıdaki cümlelerin hangisinde pekiştirme yoktur?**

- A) Her şey apaçık ortada duruyor.
- B) Kafam karmakarışık oldu.
- C) Yüzüm mosmor oldu.
- D) Güneş doğunca Hilal'in yüzü beyaz oldu

**14. Aşağıdaki cümlelerin hangisinde pekiştirme yoktur?**

- A) Yağan yağmur ağaçları yıkadı.
- B) Yağmurda ıslanıp sırlıklam oldum.
- C) Köydeki evimiz sapasağlam duruyor.
- D) Sinop'un yolları dümdüz.

**15. Aşağıdaki cümlelerin hangisinde pekiştirme yoktur?**

- A) Annem çamaşırları tertemiz yıkadı.
- B) Dedem sevinçle eve geldi.
- C) Kardeşimin saçları kapkara.
- D) Bahçemize sipsivri kazıklar hazırladık.

#### 4. SINIF KONU KAZANIM TESTİ

##### MATEMATİK DERSİ

1. Akşam yemeği için 3 kg pirinç aldık.1276 gramını tükettik. **Geriye kaç gram pirinç kalmıştır?**
- A) 1724 B) 1734  
C) 1644 D) 2345
2. 5 kg peyniri 25 öğrenciye eşit olarak dağıtacağız. **Her öğrenciye kaç gram peynir düşer?**
- A) 500 B) 225  
C) 200 D) 100
3. **200gram +900 gram + 700gram + 2 kg toplamı, 4 kilogramdan kaç gram eksiktir?**
- A) 200 B) 300  
C) 800 D) 900
4. Brüt kütlesi 10 t 80 kg olan kamyonadaki maddenin net kütlesi 8 t 367kg dır. **Kamyonun darası kaç kg'dır.**
- A) 1503 B) 1713  
C) 2109 D) 2713
5. Selime ailesinin kışlık yakacak tüketimi 3 t 250 kg kömür ile 500 kg odundur. **Selimelerin kışlık yakacak tüketimi kaç kg'dır?**
- A) 3750 B) 3950  
C) 4750 D) 5950
6. Ahmet, günde 350 ml, kardeşi Ayşe 285 ml, Yusuf 275 ml süt içtiğine göre, **bir günde kaç mL süt içerler?**
- A) 710 B) 800  
C) 910 D) 980
7. Ela, bakkaldan 750 g peynir ,650 g tereyağı, 1600 g bal aldığına göre **Ela'nın aldıklarının toplamı kaç kg'dır?**
- A) 3 B) 4  
C) 5 D) 6
8. Özlem, akvaryumunda su azaldığı için 960 ml su ekler. **Bunun için 8 çay bardağı su kullandığına göre bir çay bardağı kaç ml'dir?**
- A) 90 B) 100  
C) 110 D) 120

9. Bir depoda her biri 40 kg olan, 85 adet kömür çuvalı vardır. Bu kömürler bir seferde 200 kg taşıyabilen bir kamyonetle taşınmak isteniyor. **Kamyonet depodaki kömürü kaç seferde taşıyabilir?**

A) 15                      B) 17  
C) 22                      D) 25

10. Kilogramı 30 TL olan kuru üzümünden 600 g alan **Aslı Hanım, kaç TL ödemelidir?**

A) 14                      B) 15  
C) 20                      D) 18

11. Mehmet'in babasının ağırlığı 84 kg'dır ve Mehmet'in ağırlığının 6 katıdır. **Buna göre Mehmet ve babasının ağırlıkları toplamı kaçtır?**

A) 88 kg                      B) 98 kg  
C) 108 kg                      D) 110 kg

12. Yasemin, 275 ml'lik şampuan alıyor. 25 kullanımda şampuan bitiyor. **Yasemin her kullanımda ne kadar şampuan kullanmıştır?**

A) 11 ml                      B) 10 ml  
C) 9 ml                      D) 8 ml

13. İsmail, marketten 126 g kabak çekirdeği, 174 g leblebi, 240 g fıstık ve bir miktar fındık alıyor. Aldığı kuruyemişlerin toplam ağırlığı 1 kg olduğuna göre, **İsmail kaç g fındık almıştır?**

A) 390                      B) 420  
C) 460                      D) 430

14. Necmi 19 kg'dır. Babasının ağırlığı Necmi'nin ağırlığının 4 katından 5 fazladır. **Buna göre, Necmi ve babasının toplam ağırlığı kaç kg'dır?**

A) 81                      B) 92  
C) 95                      D) 100

15. Benim kütlem 42 kg, öğretmenimin kütlesi, benim kütlemden 21 kg fazladır. **İkimizin kütleleri toplamı kaç kg'dır?**

A) 63                      B) 105  
C) 106                      D) 154

## 4. SINIF KONU KAZANIM TESTİ

### FEN BİLİMLERİ DERSİ


1. Ayşe: Evimizde de devre elemanları vardır.  
Ali: Buzdolabımız pil ile çalışır.  
Ahmet: Evimizdeki elektrik düğmeleri anahtar görevi görür.  
**Yukarıdaki öğrencilerden hangilerinin verdiği bilgiler doğrudur?**

A) Ayşe-Ali                      B) Ali-Ahmet  
C) Ayşe-Ahmet                D) Ayşe-Ali-Ahmet

2. Aşağıdakilerden hangisi basit elektrik devresinde bulunan pilin görevini evlerimizde bulunan devreler için sağlar?

A) Akü                              B) Jenaratör  
C) Batarya                        D) Şehir Elektrikliği

3. Aşağıda basit elektrik devresi ve evlerimizde bulunan devre elemanları eşleştirmelerinden hangisi doğrudur?



4. Aşağıdaki araçlardan hangisi şehir elektrikli ile çalışmaz?

A) Buzdolabı                      B) El feneri  
C) Çamaşır makinesi          D) Televizyon

5. Elektrikli süpürge için gerekli olan enerji kaynağı .....sağlanır.  
Evimizde bulunan klimayı çalıştırmak için kullandığımız kumandanın enerji kaynağı .....sağlanır.  
**Yukarıdaki cümlelerde bulunan boşlukları uygun kelimelerle tamamlarsak hangi seçenek doğru olur?**

A) Pil – Duy                      B) Jenaratör - Pil  
C) Pil - Şehir Elektrikliği      D) Şehir Elektrikliği - Pil

6. Evimizde bulunan devre elemanları ile ilgili aşağıdaki ifadelerden hangisi **yanlıştır**?

A) Elektrik düğmeleri anahtar görevini görür.  
B) Evimizdeki enerji kaynağı şehir elektrikli dir.  
C) Bulaşık makinesinin çalışması için duy takmamız gerekir.  
D) Bağlantı kabloları duvarların içinden geçer.

7. -Bilgisayar  
- Fotokopi Makinesi  
- Akıllı Tahta  
- Akıllı Tahta Kumandası

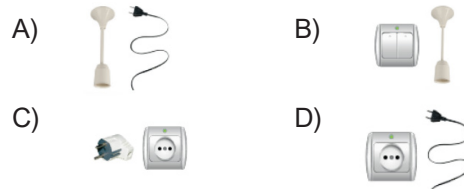
**Okulumuzda kullandığımız yukarıdaki araçlardan hangisi farklı bir enerji kaynağı sayesinde çalışır?**

A) Bilgisayar                      B) Fotokopi makinesi  
C) Akıllı tahta                      D) Akıllı tahta kumandası

8. I. Bağlantı kabloları evimizdeki duvarların içinden geçer  
II. Bağlantı kabloları duvarlarımızda bulunan prizlere ve elektrik düğmelerine bağlıdır.  
III. Televizyon, klima, saç kurutma makinesi gibi araçların çalışması için fişlerinin prize takılı olması yeterlidir.  
IV. Evlerimizde şehir elektrikli kullanırız.  
**Yukarıda verilen bilgilerden hangisi yanlıştır?**

A) I                                      B) II  
C) III                                    D) IV

9. ? : Basit elektrik devresindeki duy ile aynı görevi yapıyorum  
? : Basit elektrik devresindeki bağlantı kablosu ile aynı görevi yapıyorum.  
**? İle boş bırakılan yerlere aşağıdakilerden hangileri getirilirse evlerimizde bulunan devre elemanları ile eşleştirmiş oluruz?**



10. Evlerimizde kullandığımız hangi elektrik devresi elemanının basit elektrik devresinde aynı görevi paylaştığı bir eşi yoktur?

- A) Elektrik kablosu      B) Elektrik düğmesi  
C) Ampul                      D) Priz



Yukarıdaki görselde hangi devre elemanlarının adı yanlış yazılmıştır?

- A) 1-2                      B) 1-3  
C) 2-4                      D) 3-4

12. Asya elektrik süpürgesini çalıştırmak için süpürge'nin üzerinde bulunan düğmesine basıyor. Buna göre bu düğme;

- I. Elektrik süpürgesinin çalışması için elektrik üretir.  
II. Elektrik devresinde anahtar görevi görür.  
III. Elektrik devresindeki bağlantı kablosu görevini görür.

Yukarıda bulunan bilgilerden hangisi ya da hangileri doğrudur?

- A) I                      B) II  
C) III                      D) I ve III

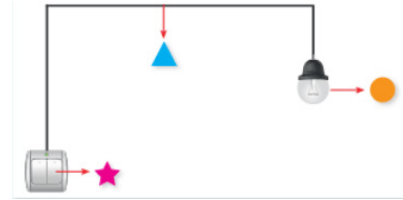
13.



Yukarıda bulunan devre elemanları ile ilgili aşağıdakilerden hangisi doğrudur?

- A) Biri devreye elektrik üretir diğeri elektriği dağıtır.  
B) Biri enerji dağıtımını sağlar diğeri enerji geçişini kontrol eder.  
C) Her ikisi de devredeki elektriği açıp kapatmaya yarar.  
D) Her ikisi de enerji üretir.

14.



Asya: Devredeki elektriği açıp kapatmaya yarar

Erhan: Elektrik akımını ileten devre elemanıdır

Yukarıdaki görsele göre konuşa Asya ve Fatih'in bahsettiği devre elemanları hangi semboller ile gösterilmiştir?

- A)      B)      C)      D)

15. Duy ile elektrik düğmesi arasındaki elektrik iletimini duvarın içinden geçen "....." sağlar.

Yukarıdaki cümlede boş bırakılan yere uygun ifadeyi yazınız?

- A) PRİZ                      B) Bağlantı kablosu  
C) Pil                      D) Ampul

## 4. SINIF KAZANIM PEKİŞTİRME TESTİ

### SOSYAL BİLGİLER DERSİ

1. Ülkemiz ile ilgili bilgilerden hangisi yanlıştır?

- A) Adı Türkiye'dir.
- B) Başkenti Ankara'dır.
- C) Asya ve Avrupa Kıtası üzerinde yer alır.
- D) Bayrağı, beyaz zemin üzerinde kırmızı ay ve yıldız vardır.

2. Aşağıdaki denizlerden hangisi ülkemizin çevresinde değildir?

- A) Hazar Denizi      B) Akdeniz
- C) Karadeniz      D) Ege Denizi

3. "Ada dört tarafı, yarımada üç tarafı denizlerle çevrili kara parçalarıdır. Ülkemiz Asya ve Avrupa kıtaları üzerindeki iki yarımada üzerinde yer alır. Asya kıtası üzerindeki yarımadaya Anadolu, Avrupa üzerindeki yarımadaya Trakya denir. "

**Yukarıdaki bilgilere göre hangisi yanlıştır.**

- A) Ülkemizin toprakları yarımada üzerinde yer almaktadır.
- B) Ülkemiz Asya ve Avrupa kıtasının birleştiği yerde kurulmuştur.
- C) Ülkemizin üç tarafı denizlerle çevrilidir.
- D) Kıbrıs bir Yarımada'dır.

4. Türkiye'nin toprakları hangi kıtalar üzerindedir?

- A) Asya- Amerika      B) Asya – Avrupa
- C) Asya- Avustralya      D) Asya- Afrika

5. Tarihsel gelişim sürecinde insanların ürettiği, yaşattığı ve gelecek kuşaklara miras olarak bıraktığı maddi ve manevi değerlerin tümüne ne denir?

- A) Uygarlık      B) Adalet
- C) Kültür      D) Kalkınma

6. Aşağıdakilerden hangisi yanlış bilgidir?

- A) Avustralya kıtasının bir diğer adı Okyanusya'dır.
- B) Özel günler insanlar arası dayanışmayı güçlendirir.
- C) Türkiye'nin dört tarafı denizlerle çevrilidir.
- D) Almanya'nın başkenti Berlin'dir

7. Ramazan ve Kurban Bayramlarını kimler kutlar?

- A) Asya kıtasında yaşayanlar.
- B) Hristiyanlar ve Türk Devletleri
- C) Müslümanlar
- D) Tüm insanlar

8. Ülkemizde bir sebzenin farklı şekillerde yemeklerinin yapılması kıyafetlerin her bölgede aynı olmaması **aşağıdakilerden hangisi ile açıklanır?**

- A) Yöresel ve kültürel farklılıklar.
- B) Maddi durumun yetersiz olması
- C) Cahillik ve fakirlik
- D) Büyüklerin öğretmemiş olması

9. Aşağıda bazı ülkeler ve tanınan yerleri eşleştirilmiştir. Yanlış olan eşleştirme hangi seçenekte verilmiştir?

- A) Amerika Birleşik Devleti- Özgürlük Anıtı
- B) Hindistan- Taç Mahal
- C) İtalya – Piza Kulesi
- D) Mısır- Eifel Kulesi

10. Aşağıdaki verilenlerden hangisi, Dünya'mızda bulunan okyanuslardan birisi değildir?

- A) Japon Okyanusu      B) Atlas Okyanusu
- C) Büyük Okyanus      D) Hint Okyanusu

11. Ülkemiz topraklarının büyük bölümünün üzerinde yer aldığı, Dünya'nın en büyük ve en kalabalık kara parçası (kıtası) hangi seçenekte verilmiştir?

- A) Avrupa      B) Güney Amerika
- C) Asya      D) Afrika

12. Ülkemizin en uzun kara sınırı hangi komşumuzladır?

- A) Yunanistan      B) İran
- C) Irak      D) Suriye

13. Aşağıdaki olaylardan hangisi tüm dünyada kutlanır?

- A) Kurban Bayramı
- B) Yılbaşı
- C) Cumhuriyet Bayramı
- D) Ramazan Bayramı

14. Türk toplumu, konuksever bir toplumdur. Evine gelen insanları en iyi şekilde ağırlar. Onlara sevgi ve saygı gösterir.

**Yukarıda Türk toplumunun hangi özelliğinden bahsedilmektedir?**

- A) Dürüstlük      B) Misafirperverlik
- C) alışkanlık      D) Yardımseverlik

15. Aşağıdaki ifadelerden doğru olan ifadelere Yanlış olan ifadelere Y yazın.

- ( ) Yeryüzünü oluşturan büyük kara parçalarına anakara veya kıta denir.
- ( ) Kıtaları birbirinden ayıran büyük su kütlelerine okyanus denir.
- ( ) Dünya üzerinde yedi kıta bulunur.
- ( ) Dünya üzerindeki ülkelerde yaşayan insanların tümü aynı dili konuşurlar.
- ( ) Ülkemizden Kuzey ve Güney Amerika ile Okyanusya kıtalarına gitmek için okyanusları aşmak gerekir.

16.



Yukarıdaki resimde aşağıdakilerden hangisi gösterilmiştir?

- A) Ürgüp Peribacaları      B) Ankara Anıtkabir
- C) Efes Antik Kenti      D) Nemrut Harabeleri

## 4. SINIF KONU KAZANIM TESTİ

### İNGİLİZCE DERSİ

1. Boşluğu uygun şekilde tamamlayınız.

- Would you like some food?

- No, thanks. I'm full. ....



A) I want some salad.

B) I want a glass of ayran.

C) I want some soup.

D) I don't want anything.

2. Doğru seçeneği işaretleyiniz .

John: I'm tired and thirsty.

Marc: Let's drink a cup of.....



A) milk

B) orange juice

C) coffee

D) water

3. Aşağıdaki eşleştirmelerden hangisi yanlıştır?

A) salad → food


B) pasta → food

C) olive → drinks

D) ayran → drinks

4. Aşağıdaki soruyu resme göre cevaplayınız.

I like ..... and.....for my breakfast



A) honey / cheese

B) soup / salad

C) olive / milk

D) butter / bread

5. Boşluğu uygun şekilde tamamlayınız.

ALİ: Do you want some tea?

CEM: No,.....

A) now

B) not

C) thanks

D) fine

6. Karışık verilmiş kelimeleri düzgün cümle haline getirin.

Hamburger/ like /a / you / would/?

A) You would like a hamburger?

B) Would you like a hamburger?

C) Would you a like hamburger?

D) Would like you a hamburger?

7. Waiter: Would you like to eat something?

Man: No,thanks.....

Now, I want to drink something.



A) excuse me

B) quiet please

C) maybe later

D) say that again

8. Aşağıdaki soruyu resme göre cevaplayınız.

Is she thirsty?



- A) Yes, she is. She wants some water.
- B) Yes, she wants a bread.
- C) No, she isn't. She is hungry.
- D) She is eating an ice-cream

9. Aşağıdaki resimlerden hangisi yanlış eşleştirilmiştir.

A)



Olive

B)



Ayran

C)



Fish

D)



Lemonade

10. Is Ali hungry?

.....



- A) No, he isn't.
- B) Yes, he is.
- C) Yes, I 'm
- D) No, I'm not.

#### 4. SINIF KAZANIM PEKİŞTİRME TESTİ

##### DİN KÜLTÜRÜ VE AHLAK BİLGİSİ DERSİ

1. Temizlik; kişinin içinin, dışının, bedeninin, elbiselerinin ve çevresinin her türlü kirden arınmış olmasıdır. İslamiyet temizliğe önem verir ve bizden her zaman temiz olmamızı ister. Çünkü temizliğin hem insanlar arası ilişkiler ve ibadetler hem de sağlık açısından büyük önemi vardır. Namaz kılmak, Kur'an-ı Kerim okumak, Kâbe'yi tavaf etmek gibi ibadetleri yerine getirmek için yapılması gereken bir temizliktir. Hem bazı ibadetlerin ön şartıdır hem de kendisi bir ibadettir. Çünkü bunu yapmak bize Allah'ın (c.c.) emridir.

**Buna göre aşağıdakilerden hangisi yukarıda bahsedilen insanların yapmış oldukları bir beden temizliğidir?**

- A) Abdest  
B) Namaz  
C) Zekat  
D) Oruç

2. Bedeni ,çevreyi ve giysileri her türlü kirden arındırmaya ..... denir. .... ise insanın kalbinin, içinin temiz olması, kişinin güzel ahlaklı olmasıdır.

**Cümlesinde boş bırakılan yerlere hangileri gelmelidir?**

- A) Çevre temizliği-Vücut temizliği  
B) Maddi temizlik- Manevi temizlik  
C) Manevi temizlik-Beden temizliği  
D) Kişisel bakım- Maddi temizlik

3. Müslüman; güzel ahlaklı, dürüst ve güvenilir insandır. O, her zaman doğruyu söyler. Yalandan, hileden, yalancı şahitlik etmekten özenle kaçınır. İnsanları aldatmaz, başkalarına zarar verecek kötü sözler söylemez. Dinimiz de bizden böyle davranmamızı ister. "Güzel ahlaklı bir insan....."

**Cümle aşağıdakilerden hangisi ile tamamlanamaz?**

- A) Dürüst, alçak gönüllü, yardımseverdir.  
B) İnsanlara sevgi ile yaklaşır.  
C) Dedikoducu ve ikiyüzlüdür.  
D) Merhametli ve şefkatlidir.

4. Aşağıdakilerden hangisi diğerlerinden farklıdır?

- A) Banyo yapmak  
B) Tırnak kesmek  
C) Dişleri fırçalamak  
D) Güvenilir olmak

5. Sevgili Peygamberimiz (s.a.v.) beden temizliğine çok önem vermiştir. O, gerek abdest gerekse boy abdesti alarak bedenini temiz tutmaya özen göstermiştir. Bunun yanı sıra ellerini de sık sık yıkayıp temizlemiştir. Allah Resulü (s.a.v.), özellikle yemeklerden önce ve sonra ellerini yıkamıştır. **Buna göre beden temizliği ile ilgili olarak verilen bilgilerden hangisi yanlıştır?**

- A) Namaz kılabilmek için bedenimiz temiz olmalıdır  
B) Dinimiz, bedenimizi temiz tutmamızı istemiştir  
C) Beden temizliği yapmanın bir sevabı yoktur  
D) Bedenimizi temiz tutarsak, Allah'ın hoşnutluğunu kazanırız

6. Okulumuzun temiz olması için herkese görev ve sorumluluk düşmektedir. Temiz, düzenli ve huzurlu bir okul ortamının hem sağlığımız hem de eğitimimiz açısından büyük bir önemi vardır. Temiz bir okul ortamı olabilmesi için bizlerin uyması gereken kuralları vardır.

**Aşağıdakilerden hangisi bu kurallara uymayan bir davranıştır?**

- A) Duvarlara ayakkabı izi yapmak  
B) Sıra ve masaları özenle kullanmak  
C) Yerlere çöp atmamak, çöpleri çöp bidonuna atmak  
D) Okuldaki eşyaların temizliğine özen göstermek

7. **Hatice:** Abdest alınırken önce eûzü besmele çekilir ve “Niyet ettim Allah rızası için abdest almaya.” diye niyet edilir.

**Mustafa:** Önce eller bileklere kadar yıkanır. Ağız ve burun güzelce temizlenir.

**Ali:** Ardından önce sağ, sonra sol kol dirseklerle beraber yıkanır. Sonra yüz yıkanır.

**Fatıma:** Başın en az dörtte biri mesh edilir yani ıslak elle sıvazlanır.

**Ayşe:** Serçe veya işaret parmaklarıyla kulakların içi, başparmaklarla da dışı mesh edilir.

**Zeynep:** Sonra boyun mesh edilir. Sağ ve sol ayak yıkanarak abdest tamamlanmış olur.

**Birbirilerine abdestin alınışını anlatan öğrencilerden hangisi yanlış bir bilgi vermiştir**

- |           |           |
|-----------|-----------|
| A) Zeynep | B) Ali    |
| C) Hatice | D) Fatıma |

8. **I.** Dişlerini temizlemek  
**II.** Yemeklerden önce ve sonra ellerini yıkamak  
**III.** Daima temiz giysiler giymek  
**IV.** İnsanlarla karşılaşınca selam vermek

**Yukarıda verilenlerden hangileri Peygamberimizin maddi temizlikle ilgili davranışlarındandır?**

- |                 |                     |
|-----------------|---------------------|
| A) I, II ve III | B) II ve IV         |
| C) I ve II      | D) I ,II, III ve IV |

9. Müslüman, temizliğe çok önem vermelidir. Bunun için de öncelikle bedenini temiz tutmalıdır. Çünkü bedenimiz temiz olmazsa elbiselerimizin ya da çevremizin temiz olması fazla bir anlam ifade etmez. Temizlik bilinci olan bir insan, aşağıdaki görüşlerden hangisini kabul edemez?

- A) Kötü davranışlardan kaçınmak temizliktir.  
 B) Çevremizi kirlletmemek dinimizin emirlerinden biridir.  
 C) Çevre temizliği, belediyeyi ilgilendiren bir konudur; şahısları ilgilendirmez.  
 D) Salgın hastalıklardan korunmak için elleri sıkça yıkamak gerekir.

10. Peygamber Efendimiz (s.a.v.) sık sık yıkanarak bu abdesti almış, özellikle cuma ve bayram günlerinde bu temizliği yapmaya daha çok önem vermiştir. Bizlere de böyle yapmayı tavsiye etmiştir. Bu abdest bütün vücudun yıkanmasıyla yapılan bir temizliktir. Bu abdesti almak isteyen kişi, önce ağzını ve burnunu güzelce temizler. Daha sonra hiçbir kuru yer kalmayacak şekilde tüm vücudunu yıkar.

**Yukarıda bahsedilen abdest aşağıdakilerden hangisidir?**

- A) Namaz Abdesti  
 B) Teyemmüm Abdesti  
 C) Banyo Abdesti  
 D) Boy(Gusül) Abdesti

7. HAFTA 4. SINIFLAR KAZANIM PEKİŞTİRME TESTİ CEVAP ANAHTARI

TÜRKÇE

1	2	3	4	5	6	7	8	9	10	11	12	13	14	15
B	C	B	A	A	C	D	C	C	B	A	D	D	A	B

FEN BİLİMLERİ

1	2	3	4	5	6	7	8	9	10	11	12	13	14	15
C	D	A	B	D	C	D	C	A	D	B	B	C	A	B

MATEMATİK

1	2	3	4	5	6	7	8	9	10	11	12	13	14	15
A	C	A	B	A	C	A	D	A	D	B	A	C	D	B

SOSYAL BİLGİLER

1	2	3	4	5	6	7	8	9	10	11	12	13	14	15	16
D	A	D	B	C	C	C	A	D	A	C	D	B	B	DDDYD	A

DİN KÜLTÜRÜ VE AHLAK BİLGİSİ

1	2	3	4	5	6	7	8	9	10
A	B	C	D	C	A	B	C	C	D

İNGİLİZCE

1	2	3	4	5	6	7	8	9	10
D	C	C	D	C	B	C	C	A	B

***“İstanbul mutlaka fethedilecektir. Onu fetheden komutan ne güzel komutan, o ordu ne güzel ordudur.”***

**H. Muhammed**

### **İstanbul’un Fethi (1453)**

İstanbul 29 Mayıs 1453 tarihinde, Fatih Sultan Mehmet’in komutanlığında, Osmanlı Ordusu tarafından fethedilmiştir. Sanata düşkünlüğü bilinen Fatih Sultan Mehmet, bir fermanla mozaik ve diğer sanat eserlerinin yok edilmemesini ve sıva ile örtülmesini buyurur.

Artık Osmanlı İmparatorluğu’nun başkenti haline gelen İstanbul, Osmanlı’nın yıkılışına kadar başkent olarak kalır.

İstanbul’da Osmanlı Yapıları: İstanbul’da birçok Osmanlı eseri görülebilir. Binlerce cami, imparatorluk binası, kışla, okul, hamam arasında Sultanahmet Camii (1616), Süleymaniye Camii (1557), Topkapı Sarayı (1465), Rumeli Hisarı (1452), Dolmabahçe Sarayı (1856) gibi muhteşem eserler vardır.

