

**2.**  
**SINIF**



**A**  
**KİTAPÇIK TÜRÜ**

**T.C.**  
**MİLLÎ EĞİTİM BAKANLIĞI**  
**ÖLÇME, DEĞERLENDİRME VE SINAV HİZMETLERİ**  
**GENEL MÜDÜRLÜĞÜ**

**TED ANKARA KOLEJİ VAKFI ÖZEL İLKOKULU VE ORTAOKULU SEÇME SINAVI**  
**(1. Sınıftan 2. Sınıfa Geçenler)**  
**5 TEMMUZ 2020 Saat: 14.00**

Adayın Adı ve Soyadı : .....

Aday Numarası (T.C. No) : .....

İmza : .....

DERS ADI	SORU SAYISI	TOPLAM SORU SAYISI	SINAV SÜRESİ (DAKİKA)
TÜRKÇE	20	60	60
MATEMATİK	20		
HAYAT BİLGİSİ	20		

## ÖĞRENCİLERİN DİKKATİNE!

1. Sınıf öğrenci yoklama listesinde belirtilen sınıfta ve sıra numarasında oturunuz.
2. Soru kitapçıkları üzerinde doğru olan seçeneği daire içine alınız.

### SALON BAŞKANI

Adı : .....

Soyadı : .....

T.C. Kimlik No: .....

İmza :

### GÖZETMEN

Adı : .....

Soyadı : .....

T.C. Kimlik No: .....

İmza :

**2. SINIF 2020**



**SINAV BAŞLAMADAN ÖNCE KİTAPÇIĞIN ARKA KAPAĞINDAKİ UYARILARI MUTLAKA OKUYUNUZ.**



1. b, k, n, d, a, r, t, a

Sadece bir kez kullanılması şartıyla bu harflerle aşağıdaki sözcüklerden hangisi oluşturulabilir?

A) Tırnak

B) Balkon

C) Bardak

2. Aşağıdaki sözcüklerden hangisi hecelerine doğru ayrılmıştır?

A) Göl - ge - lik

B) Çiç - ek - çi

C) Koz - a - lak

3. Babası ona yeni bir bisiklet alacak.

Bu cümlede aşağıdaki sorulardan hangisinin cevabı yoktur?

A) Kim alacak?

B) Ne alacak?

C) Ne zaman alacak?

4. Dedem atın yemini, suyunu eliyle verirdi. Onun yumuşak tüylerini taradan içeri girmezdi. Bazen arpasına fıstık, üzüm karıştırır bazen eliyle havuç yedirirdi. At da gösterilen bu özeni bilir, nazlı nazlı kişnerdi.

Bu metinde aşağıdaki duyuların hangisinden yararlanılmamıştır?

A) İşitme

B) Koklama

C) Dokunma



7. Kerevizler saplarıyla beraber doğranır. Soğan ve zeytinyağı ile bir süre karıştırılır. Dilimlenmiş havuçlar soğana eklenir. Doğranmış kerevizler, patates ve bir miktar tuzla tencereye ilave edilir. Greyfurt suyu sebzelerin üzerine ağır ağır dökülür ve yaklaşık 30 dakika pişirilir.

**Bu metinde tarifi verilen yemeğin yapımında aşağıdakilerden hangisi kullanılmamıştır?**

- A) Havuç, patates      B) Maydanoz, salça      C) Soğan, tuz

8. O yavru kediyi nerede buldun ( ) Çok sevimli ( ) Benim de olmasını isterdim ( )

**Bu metinde ayraçla gösterilen yerlere sırasıyla aşağıdaki noktalama işaretlerinden hangileri getirilmelidir?**

- A) (?) (.) (!)      B) (?) (!) (.)      C) (!) (?) (.)

9. Aşağıdaki cümlelerin hangisinin sonuna soru işareti konulmalıdır?

- A) Ayşe benimle oynamak istiyor musun  
B) Şuradan sana bir oyuncak alsak iyi olur  
C) Okuldan uzak kaldığımda kendimi kötü hissederim

10. Aşağıdakilerin hangisinde büyük harflerin kullanımıyla ilgili yanlışlık yapılmıştır?

- A) Bu yaz tatilinde antalya başka bir güzeldi.
- B) Akşam yemeğine Rıdvan da gelecek.
- C) Annemin yeni aldığı kedi çok tatlıydı.

11. Aysel, bahçe işlerini çok severdi. Çiçekleri suladığı zaman onlarla konuşmayı da ihmal etmezdi. Bu sevgisi sadece çiçeklere değildi. Sahipsiz kediler ve köpeklerle de çok ilgilenirdi. Onlara yemek verir ve temizliğine dikkat ederdi.

**Bu metne göre "Aysel" ile ilgili aşağıdakilerden hangisi söylenebilir?**

- A) İnsanlara iyi davranır.
- B) Çevre temizliğine önem verir.
- C) Hayvanları sever.

12. Özlem : Okul ne zaman gezi düzenleyecek?

Mustafa : - - - - .

Özlem : Peki, hafta sonunda geziye nasıl gideceğiz?

Mustafa : Okulun önünde bekleyen servisler götürecek.

**Bu konuşmada boş bırakılan yere aşağıdakilerden hangisi getirilebilir?**

- A) Pazar
- B) Pazartesi
- C) Çarşamba

13. Ahmet Amca, oğlu Mehmet ile torunu Özlem'in ev sahibi olamamalarına çok üzülyordu. Mehmet'ten gelen telefon üzerine çok sevindi. Çünkü telefonda oğlu ve torunu kendilerine uygun bir ev bulduklarını söylemişlerdi. Ahmet Amca hemen oğlu Mehmet'in yanına gitmeye karar verdi.

**Bu metinde telefon eden kimdir?**

- A) Ahmet Amca                      B) Mehmet                      C) Özlem

14. Dağlarını, yaylalarını, şırl şırl akan çeşmesini görmeyeli uzun zaman olmuştu. Köyün her yeri top oynayan çocukların sesleri ile şenlenirdi. Komşularımız da çok iyiydi. Birinin bir işi olduğunda hepsi yardıma gelirdi.

**Bu metinde özlem duyulan aşağıdakilerden hangisidir?**

- A) Köy                      B) Bahar mevsimi                      C) Orman

15. Su samurlarının kürkleri sert ve yatıktır. Başları üstten basık, gövdeleri uzundur. Çok iyi yüzücüdürler. Su altında da uzun süre kalabilirler. Kıyılardaki çalı ve otların arasına yuvalanırlar.

**Bu metinde "su samurları" ile ilgili aşağıdakilerden hangisine değnilmemiştir?**

- A) Vücut yapılarına  
B) Yaşam alanlarına  
C) Beslenme şekillerine

16. Evvel zaman içinde köyün birinde bir horoz varmış. Güneşin her yeri yakıp kavurduğu bir temmuz günü sahibinin bahçesinde yem ararken ayağına bir diken batmış. Dikeni çıkartmak için civardaki bir ninenin evine gitmiş. “Nine, ayağıma diken battı, çıkarır mısın?” demiş.

**Bu metindeki olay aşağıdaki mevsimlerin hangisinde geçmektedir?**

- A) İlkbahar                      B) Sonbahar                      C) Yaz

17. Annem yuvada olmadığı bir zaman kardeşlerimle oyun oynuyorduk. Su-ççekleri çok hoşuma gitmişti. Onlara bakarken dalmışım. Farkında olmadan yuvadan çok uzaklaşmışım. Beni bir ağ ile yakaladılar. Kaçamadım. Sonra beni bir eve getirdiler. Bir cam kavanoza koydular. Etrafımda toplanıp ne güzel balık, dediler. Bana gölde bulamadığım yemler verdiler. Ama ben onları yemedim. Çünkü annemi çok özledim. Bir gün göle dönersem bir daha evimden uzaklara gitmeyeceğim.

**Bu metne göre küçük balık aşağıdaki duygulardan hangisini yaşamıştır?**

- A) Kızgınlık                      B) Pişmanlık                      C) Şaşkınlık

18. Uyandım kar aydınlığında  
O küçük kasabaya uykuda  
Uykusuz bir sıra kavak  
Hem gider hem dinlerim  
Düş önüme yol göster, derem benim

**Bu şiirde söz edilen mevsimin görseli aşağıdakilerden hangisidir?**



19.



Bu görselde anlatılmak istenen konu aşağıdakilerden hangisidir?

- A) Suyun önemi
- B) Çevre temizliği
- C) Zamanı iyi kullanma

20.



Bu görselde kurabiye yapımındaki numaralanmış aşamaların hangileri yer değiştirmelidir?

- A) 2 ve 3
- B) 2 ve 4
- C) 3 ve 4

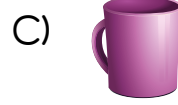
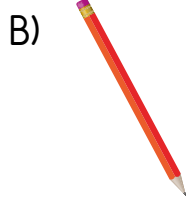
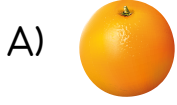
TÜRKÇE TESTİ BİTTİ.  
MATEMATİK TESTİNE GEÇİNİZ.



1.



Görselde aşağıdakilerden hangisinin eşi yoktur?



2.




Görsele göre aşağıdakilerden hangisi yanlıştır?

A) Balıklar akvaryumun içindedir.

B) Anahtarlar dolabın altındadır.

C) Akvaryum dolabın üstündedir.

3.



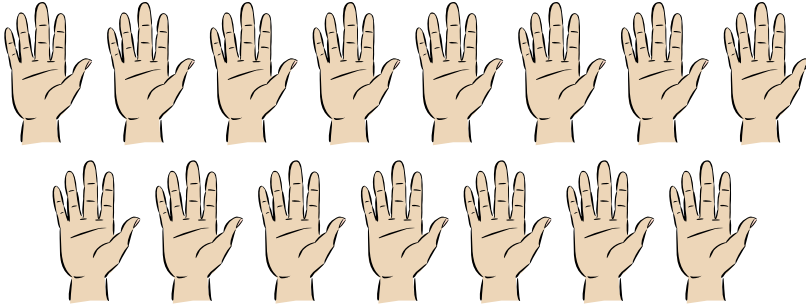
Görseldeki ipe kaç boncuk dizilmiştir?

A) 9

B) 10

C) 11

4.



Görseldeki ellerde toplam kaç parmak vardır?

A) Yetmiş beş

B) Yetmiş

C) Altmış beş

5.



Otoparktaki arabalarla ilgili aşağıdakilerden hangisi yanlıştır?

- A) Kırmızı araba sayısı, mavi araba sayısından daha çoktur.
- B) Mavi araba sayısı, beyaz araba sayısından daha azdır.
- C) Siyah araba sayısı, beyaz araba sayısına eşittir.

6. Ela 19'dan başlayarak geriye doğru birer sayıyor.

Ela'nın dördüncü sırada söylediği sayı kaçtır?

A) 15

B) 16

C) 17

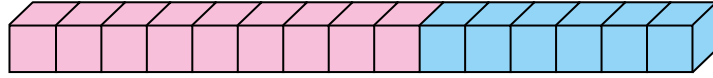
7.



Aşağıdakilerin hangisinde elma sayısı vazodaki çiçek sayısından fazladır?



8.




Görselde birbirine eş mavi ve pembe kutularla modellenen toplama işlemi aşağıdakilerden hangisidir?

A)  $10 + 5 = 15$

B)  $9 + 6 = 15$

C)  $8 + 7 = 15$

9.



Kavanozdaki toplam misket sayısı aşağıdakilerden hangisi ile gösterilebilir?

A)

Onluk	Birlik	Misket sayısı
1	7	8


B)

Onluk	Birlik	Misket sayısı
7	1	17

C)

Onluk	Birlik	Misket sayısı
1	7	17

10.






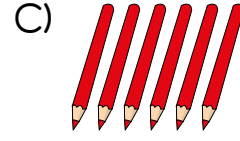
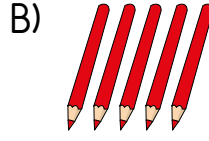
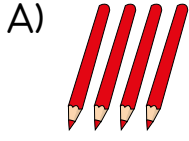
Bilet gişesinde sırada bekleyen Tuna baştan kaçınıcı sıradadır?

A) 2

B) 3

C) 4

11. Aşağıdakilerden hangisinin toplam kalem sayısı diğerlerinden farklıdır?



12.  $14 + 4 = \blacksquare + 14$

Verilen toplama işleminde  $\blacksquare$  bir sayıdır.

Buna göre  $\blacksquare$  kaçtır?

A) 4

B) 2

C) 0

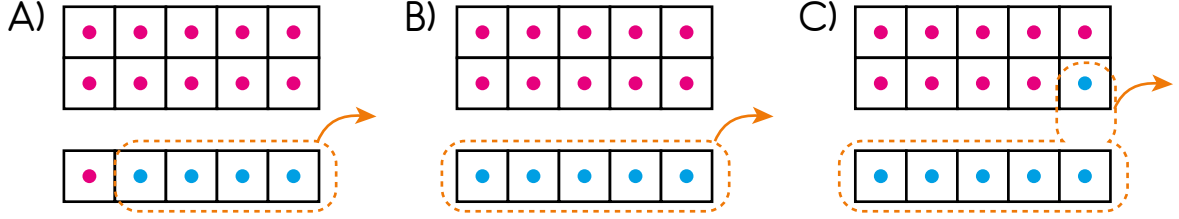
13.  $8 - 2 = 6$

Verilen çıkarma işlemi aşağıdakilerden hangisi ile modellenenabilir?

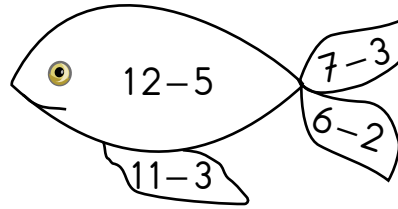


14.  $15 - 4 = 11$

Verilen çıkarma işleminin onluk kart ile gösterimi aşağıdakilerden hangisidir?

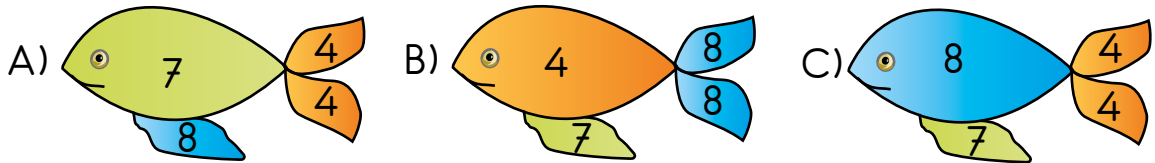


15. Görseldeki balık dört bölgeye ayrılmıştır. Bu bölgeler, üzerinde yazan işlemlerin sonuçlarına göre boyanacaktır.



Sayıların Temsil Ettiği Renkler

Boyama işlemi sonunda aşağıdaki görsellerden hangisi elde edilir?



16.



Aynur cebindeki para ile görseldeki çantayı almıştır.

Buna göre Aynur'un cebindeki para aşağıdakilerden hangisi olamaz?

- A) 10 TL banknotes: 2, 1 TL coins: 5
- B) 5 TL banknotes: 2, 10 TL banknote: 1, 1 TL coins: 5
- C) 20 TL banknote: 1, 1 TL coins: 5

17. Bir futbol takımında 11 asil, 7 yedek oyuncu vardır.

Buna göre bu takımda kaç oyuncu vardır?

A) 16

B) 17

C) 18

18.




Tabakta toplam 19 tane çilek olması için kaç çilek daha eklenmelidir?

A) 13

B) 12

C) 11

19.



Tepsideki bardakların 3 tanesi kırılmıştır.

Buna göre tepside kaç tane sağlam bardak kalmıştır?

A) 4

B) 5

C) 6

20.

$$11 - 2 = 9$$

Verilen çıkarma işlemi aşağıdaki problemlerden hangisinin çözümü olamaz?

A) Ali'nin 11 tane kalemi vardır. Ali arkadaşına 2 kalem verirse kaç kalemi kalır?

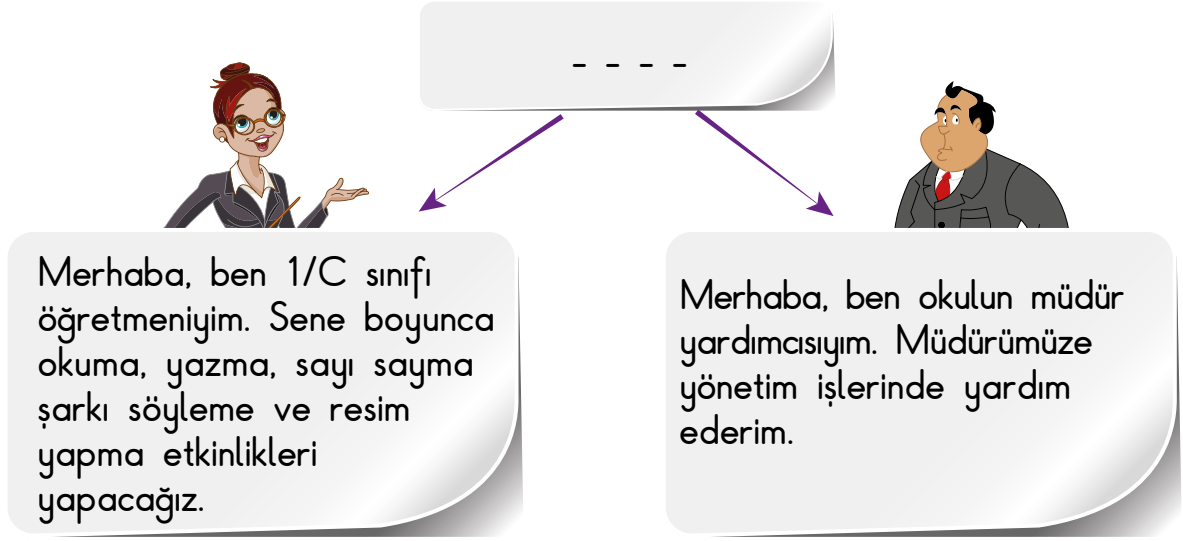
B) Sınıfta 11 öğrenci vardır. Bu sınıftan 2 öğrenci giderse sınıfta kaç öğrenci kalır?

C) Kerem'in 11 tane oyuncuğı vardır. Annesi Kerem'e 2 oyuncak daha alırsa kaç oyuncuğı olur?

MATEMATİK TESTİ BİTTİ.  
HAYAT BİLGİSİ TESTİNE GEÇİNİZ.



1.




Merhaba, ben 1/C sınıfı öğretmeniyim. Sene boyunca okuma, yazma, sayı sayma şarkı söyleme ve resim yapma etkinlikleri yapacağız.

Merhaba, ben okulun müdür yardımcısıyım. Müdürümüze yönetim işlerinde yardım ederim.

Bu görsele uygun olan başlık aşağıdakilerden hangisidir?

- A) Okulumuzun Çalışanları
- B) Okulumuzun Bölümleri
- C) Okul Kurallarımız

2. Okulun bölümlerine ait aşağıdaki görsellerden hangisinin adı yanlış verilmiştir?



Kütüphane



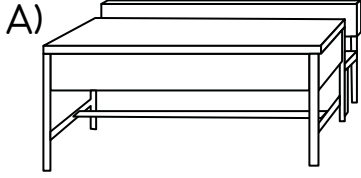
Spor salonu



Müdür odası

3. Ali, boyama kitabında yer alan ders araç ve gereçleri ile ilgili görselleri boyamak istiyor.

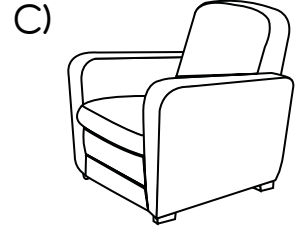
Buna göre Ali'nin aşağıdaki resimlerden hangisini boyaması doğru olur?



Öğrenci sırası



Saksı



Koltuk

- 4.



Bütün okul, İstiklal Marşı'mızı müzik öğretmenimize uyararak coşkuyla söyledik.

Bunu söyleyen bir öğrenci aşağıdakilerden hangisine katılmış olabilir?

A) Türkçe dersine

B) Beslenme saatine

C) Bayrak törenine

5. Aşağıdakilerden hangisi oyun oynarken kullanılan nezaket ifadelerinden biri değildir?

A) Teşekkür ederiz Ayşe.

B) Sadece kızlar oynasın.

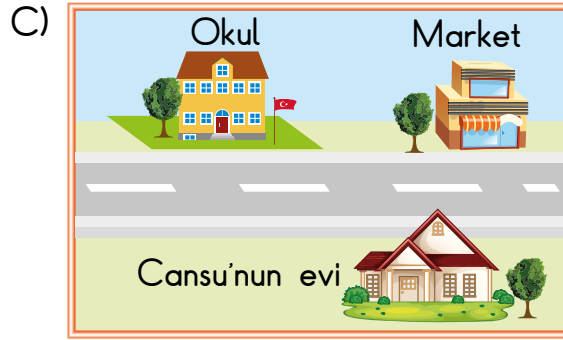
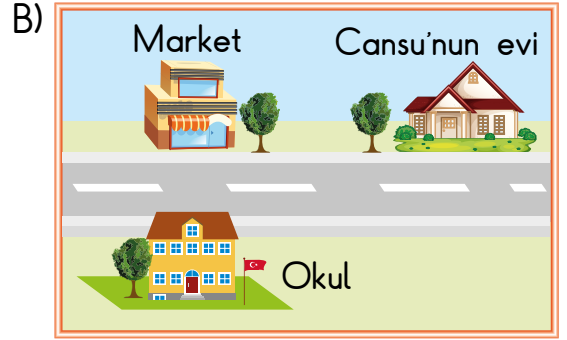
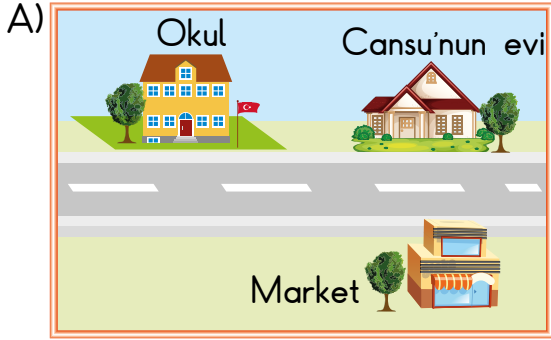
C) Topunla oynayabilir miyiz?

6. Cansu, evinin yerini aşağıdaki gibi tarif etmiştir.



Evimizin yanında okul,  
karşısında market vardır.

Buna göre Cansu'nun evinin yerine ait görsel aşağıdakilerden hangisi olabilir?




7. Levent aile albümü hazırlıyor.


Buna göre aşağıdaki fotoğraflardan hangisini albüme koyması uygun değildir?



(Annem)



(Arkadaşım)



(Ablam)

8. Ayşe Öğretmen'in sorusuna bazı öğrenciler aşağıdaki cevapları vermiştir.



Buna göre Ayşe Öğretmen'in sorusu aşağıdakilerden hangisi olabilir?

- A) Güvenli iletişim kurmak için neler yapmalıyız?
- B) Görgü kurallarına uygun davranışlar nelerdir?
- C) Dikkat etmemiz gereken güvenlik kuralları nelerdir?

9.

Dünyamızdaki kaynaklar sınırsız değildir. Bu nedenle kaynakları özenli kullanmalı, israf etmemeliyiz.

Buna göre aşağıdakilerden hangisi dikkatli kullanmamız gereken kaynaklardan biridir?

A)




Su

B)



Güneş

C)



Rüzgâr


10. Aşağıdakilerden hangisi çocukların oyun oynaması için güvenli alanlardan biridir?

A)



İnşaat alanı

B)



Basketbol sahası

C)



Otoyol

11.



Mert, mahallede bisikletle gezerken görseli verilen işaret levhasını görünce ne yapmalıdır?

- A) Alt geçidi kullanmalıdır.
- B) Bu sokağa girmemelidir.
- C) Yaya kaldırımında durmalıdır.

12.



Ayla

Babam yaşadığımız Yeşil Vadi Köyünü yönetiyor.

Ayla'nın babasının görevi aşağıdakilerden hangisidir?

- A) Muhtar
- B) Kaymakam
- C) Vali

13. Ülkemizin özelliklerine ait bilgi kartı aşağıda verilmiştir.


Ülkemizin Adı : Türkiye Cumhuriyeti Devleti
Başkentimiz : Ankara
Bayrağımız : Beyaz zemin üzerine kırmızı ay ve yıldızlıdır.

Buna göre ülkemizle ilgili bilgilerden hangisinin açıklaması yanlış verilmiştir?


- A) Ülkemizin adı                      B) Başkentimiz                      C) Bayrağımız

14. Aşağıdakilerden hangisi istek ve ihtiyaçlarımızla ilgili yanlış bir bilgidir?

- A) Hastalıklardan kurtulmak için sağlık ihtiyaçlarımız vardır.  
B) Barınma, tehlikelerden korunmak için zorunlu bir ihtiyacımızdır.  
C) İsteklerimiz karşılanmadığında hayatımızı devam ettiremeyiz.


15. Aşağıdaki öğrencilerden hangisine ait cümle kişisel bakım için uygundur?


A)  Sabah kalkar kalkmaz elimi yüzümü yıkarım.


B)  Tırnaklarımı uzatırım.

C)  Okul ayakkabılarımla top oynarım.

16. Öğretmen, öğrencilerine "Sağlığımız için ne yapmalıyız?" diye sormuştur. Buna göre aşağıdakilerden hangisi öğrencilerin verdiği doğru cevaplardan biridir?


A)  Dışarıya çıkarken her zaman kalın giyinmeliyiz.  
Zeynep

B)  Diş doktoruna sadece dişimiz çürüdüğünde gitmeliyiz.  
Fatma

C)  Meyve ve sebzeleri yemeden önce yıkamalıyız.  
Ali


17. Aşağıdakilerden hangisi st rnlerinden biridir?

A)




Havu

B)



Peynir

C)



Elma

18. ğretmen grg kuralları ile ilgili aağıdaki grseli ğrencilere gsteriyor.



ğretmen bu resmi gsterdikten sonra aağıdaki grg kurallarından hangisini sylemitir?

- A) Yemeğimizi yerken konuşmamalıyız.
- B) Birine ikramda bulunurken yemeğe elimizi deėdirmemeliyiz.
- C) Yemek yerken peete kullanmalıyız.

19. Aşağıdakilerden hangisini kişisel bakımımızı yaparken kullanırız?

A) Su

B) Flüt

C) Çatal

20. Aşağıdakilerden hangisi sağlıklı beslenme için daha uygundur?

A)




Hamburger

B)



Cips

C)



Süt ve süt ürünleri

TEST BİTTİ.  
CEVAPLARINIZI KONTROL EDİNİZ.



**SINAV BAŞLAMADAN AŞAĞIDAKİ UYARILARI MUTLAKA OKUYUNUZ!**

1. Öğrenciler, sınav kurallarına ve salon görevlilerinin tüm uyarılarına uymak zorundadırlar.
2. Sınav başladıktan sonra öğrencilerin salon görevlileri ve birbirleri ile konuşmaları, kalem, silgi vb. şeyleri istemeleri yasaktır.
3. **Soru kitapçıkları üzerinde doğru olan seçeneği daire içine alınız.**
4. Değiştirmek istediğiniz bir cevabı, yumuşak silgiyle soru kitapçığını yıpratmadan temizce siliniz ve yeni cevabınızı işaretleyiniz.
5. Soru kitapçığının sayfalarını kontrol ediniz, baskı hatası var ise değiştirilmesini sağlayınız.
6. Soru kitapçığının içindeki boş alanları çözümlerinizi için kullanabilirsiniz.
7. Cevaplamaya istediğiniz sorudan başlayabilirsiniz.
8. Cevabını bilmediğiniz sorular üzerinde fazla zaman kaybetmeden diğer sorulara geçiniz. Zamanınız kalırsa bu sorulara daha sonra dönebilirsiniz.
9. Sınav puanınızın hesaplanmasında 2 yanlış 1 doğru cevabınızı götürecektir. Alt testler bu şekilde hesaplanarak net puanlarının toplamı toplam net puanınızı verecektir.
10. Sınav bitiminde, soru kitapçığını salon görevlilerine teslim ediniz.
11. Sınav sırasında çanta, cep telefonu, saat, kablosuz iletişim sağlayan cihazlar ve kulaklık, kolye, küpe, bilezik, yüzük, broş ve benzeri eşyalar ile her türlü elektronik ve/veya mekanik cihazları yanınızda bulundurmuyunuz. Bu araçları yanınızda bulundurmanız ve kopya çekmeye teşebbüs etmeniz hâlinde sınavınız geçersiz sayılacaktır.
12. Soru kitapçığınızı sınav süresince hiçbir öğrencinin göremeyeceği şekilde önünüzde bulundurunuz.
13. Sınavınızın değerlendirilmesi aşamasında, toplu kopya tespiti veya başka adayın sınav evrakını kullanmanız durumunda sınavınız geçersiz sayılacaktır.
14. Soruları ve sorulara verdiğiniz cevapları kaydetmeyiniz, hiçbir şekilde dışarı çıkarmayınız.
15. İlk 15 dakika dışarı çıkılmayacaktır.
16. Sınav evraklarını teslim etmeyenlerin sınavı geçersiz sayılacaktır.

**SINAV GÖREVLİLERİNCE SINAV BAŞLAMADAN ÖNCE ÖĞRENCİLERE YAPILACAK SON UYARI!**

- Soracağınız bir şey var mı? Varsa, şimdi sorunuz.
- Sınav başladıktan sonra sorularınıza cevap verilmeyecektir.
- Başlama zilini bekleyiniz.

**Hepinize başarılar dileriz.**

**(Sınav görevlisi başlama ve bitiş saatini tahtaya yazacaktır.)**

Bu kitapçığın her hakkı saklıdır. Hangi amaçla olursa olsun, kitapçığın tamamının veya bir kısmının Millî Eğitim Bakanlığı Ölçme, Değerlendirme ve Sınav Hizmetleri Genel Müdürlüğünün yazılı izni olmadan kopya edilmesi, fotoğraflarının çekilmesi, bilgisayar ortamına alınması, herhangi bir yolla çoğaltılması, yayımlanması veya başka bir amaçla kullanılması yasaktır. Bu yasağa uymayanlar, doğabilecek cezai sorumluluğu ve kitapçığın hazırlanmasındaki mali külfeti peşinen kabullenmiş sayılır.

**5 TEMMUZ 2020 TARİHİNDE YAPILAN TED ANKARA KOLEJİ VAKFI  
ÖZEL İLKOKULU VE ORTAOKULU SEÇME SINAVI  
2. SINIF "A" KİTAPÇIĞI CEVAP ANAHTARI**

<b>TÜRKÇE</b>	<b>MATEMATİK</b>	<b>HAYAT BİLGİSİ</b>
1. C	1. C	1. A
2. A	2. B	2. B
3. C	3. C	3. A
4. B	4. A	4. C
5. C	5. B	5. B
6. B	6. B	6. A
7. B	7. A	7. B
8. B	8. B	8. C
9. A	9. C	9. A
10. A	10. B	10. B
11. C	11. C	11. B
12. A	12. A	12. A
13. B	13. C	13. C
14. A	14. A	14. C
15. C	15. A	15. A
16. C	16. B	16. C
17. B	17. C	17. B
18. B	18. A	18. C
19. A	19. B	19. A
20. B	20. C	20. C