

İLKOKUL 3.SINIF

HAFTALIK EV ÖDEVİ
04-08 Mayıs



SIİRT İL MİLLÎ EĞİTİM MÜDÜRLÜĞÜ
2020

1) Aşağıdaki koyu yazılmış ve altı çizili eklerden hangisi, eklendiği sözcüğün anlamını değiştirmiştir?

- A) Kalem*i* sen mi aldın?
B) Bizim ders*lik* burasıdır.
C) Arkadaş*lar* bize gelecekler.

- 2) ☐ Çalışkan sözcüğünün zıttı.
☐ Mektep sözcüğünün anlamdaşı.
☐ Ucuz sözcüğünün zıttı.
☐ Önder sözcüğünün anlamdaşı.
☐ Yakın sözcüğünün zıttı.
☐ Sorun sözcüğünün anlamdaşı.

Yukarıda istenen kelimelerin ilk harflerini kutucuklara yazarsak hangi kelime oluşur?

- A) Toplam
B) Taklit
C) Toplum

3) Yanar dağlar gibi güller atk,
Yerde gökte tozu dumana kattık,
Süngüye davrandık, cana can kattık,
Kaldı gök kızıl bir volkan içinde.

Bu dördlüğü şair hangi duyguyla kaleme almış olabilir?

- A) Coşku
B) Hüzün
C) Endişe

4) **ATATÜRK**

Atatürk yaşlıya gence, yerliye yabancıya, kendisini sevene sevmeyene kulak verir, onları dinler, onlarla tartışır. İnsanları hiçbir zaman küçümsemez, herkesi anlayışla karşılardı.

Yukarıdaki paragrafta Atatürk ile ilgili hangi özellik belirtilmemiştir?

- A) Herkesçe sevilir.
B) Alçak gönüllüdür.
C) Saygılıdır.

5) “Şeker” sözcüğü aşağıdaki cümlelerin hangisinde farklı bir anlama gelecek şekilde kullanılmıştır?

- A) Çayı şekersiz içerim.
- B) Evde şeker kalmamış.
- C) Ahmet Dede çok şeker bir insan.

6) Aşağıdakilerden hangisi atasözü değildir?

- A) Lafla peynir gemisi yürümez.
- B) İşleyen demir ışıldar.
- C) Ağzından çıkanı kulağın duysun.

7) Aşağıdaki deyimlerden hangisi anlamca diğerlerinden farklıdır ?

- A) Pes etmek
- B) Göğüs germek
- C) Boyun eğmek

8) “Eyvah () dönem ödevimi evde unuttum () Geri gidemem de () çünkü evim çok uzak ()”

Bu parçadaki boşluklara sırasıyla, aşağıdaki noktalama işaretlerinden hangileri getirilmelidir?

- A) (!)(!)(;)(.)
- B) (!)(.)(,)(.)
- C) (,)(!)(,)(.)

9)

- I. Üstüne çıkarmak için
- II. Atatürk Türk milletini
- III. Toplumda temel değişikliklere girişti.
- IV. Çağdaş uygarlık düzeyinin

Yukarıdaki cümle parçacıkları anlamlı bir şekilde sıralanırsa, hangi seçenekteki sıralama doğru olur?

- A) I – II – III – IV
- B) II – IV – I – III
- C) IV – II – I – III

10) “Sana vereyim bir öğüt: kendi ununu kendin öğüt.”

Atasözünde altı çizili sözcükler arasındaki anlam ilişkisi aşağıdakilerden hangisidir?

- A) Eş anlamlılık
- B) Zıt anlamlılık
- C) Eş seslilik

11)

Sessiz okuma, sadece gözle yapılan okumadır. Bu okuma türünde dudaklarımızı kıpırdatıp, başımızı öne arkaya sallayamayız. Sessiz okuma , sesli okumaya oranla daha hızlı bir okuma türüdür. Bu okuma türü; araştırma, bilgi edinme amacıyla yapılan okuma ve serbest okuma olarak ikiye ayrılabilir.

Parçadan aşağıdakilerin hangisi çıkarılamaz?

- A) Sessiz okumada dudak kıpırdatılmaz.
- B) Araştırmalarımızı, sessiz okuma yoluyla yaparız.
- C) Sesli okuma, sessiz okumadan daha hızlıdır.

12) Aşağıdaki sözcüklerle anlamlı bir tümce kurmak istersek sıralama nasıl olmalıdır?

- I. ister
- II. emek
- III. ve
- IV. sevgi
- V. fedakârlık

- A) IV – II – III – V – I
- B) II – V – IV – III – I
- C) VI – I – II – V – III

13) “ Konut – şans – rüya”

Sözcüklerinin eş anlamlıları sırasıyla hangi seçenekte doğru olarak verilmiştir?

- A) Bina – talih – gece
- B) Ev – talih – düş
- C) Misafir – para – düş

14) Aşağıdaki sözcüklerden hangisi yanlış yazılmıştır?

- A) Siirt’li
- B) Siirt ‘te
- C) Ankara’yı

15) “Üç çocuk koşarak merdiveni çıktılar. Çocuklardan birinin eski ayakkabısı ayağından çıkıyordu.”

Yukarıdaki metinde ismi niteleyen (sıfat) sözcükler sırasıyla hangi seçenekte verilmiştir?

- A) Eski – ayakkabı
- B) Üç – eski
- C) Çocuk – ayakkabı

16) “ Sabah uyandığımda yeni ayakkabılarımı başucumda gördüm.”

Tümcesinde aşağıdaki sorulardan hangisinin cevabı vardır?

- A) Ne zaman?
- B) Nasıl?
- C) Niçin?

17) “ Yarın – yargı – yazgı – yazım – yazık”

Sözcüklerinden hangisi sözlükte önce gelir?

- A) Yarın
- B) Yargı
- C) Yazık

18) “ Kal ” hecesiyle başlayan sözcük aşağıdakilerden hangisidir?

- A) Kalem
- B) Kale
- C) Kaldırım

19) Aşağıdaki tümcelerin hangisinde “oyun” sözcüğü “ hile , düzen, entrika” anlamında kullanılmıştır?

- A) Tenis, satranç, çelik çomak bir oyundur.
- B) Çocuklar oyun oynamayı çok sever.
- C) Atatürk hiçbir zaman onların oyununa kanmış değildir.

20) Aşağıdakilerden hangisi “hasta” sözcüğünün çağrıştırdığı sözcüklerden değildir?

- A) ilaç
- B) Öğrenci
- C) Doktor

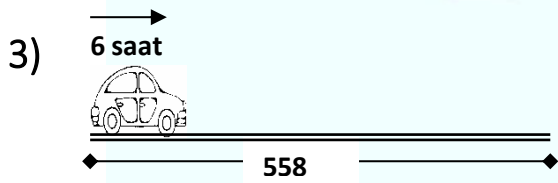
1) A şehrinden 18.00' da kalkan otobüs, B şehrine sabah 6.00' da varıyor. Otobüs kaç saat yol gitmiştir?

- A) 10 B) 11 C) 12



Yukarıdaki saat öğleden sonra kaç gösterir?

- A) 04.06
B) 17. 05
C) 16.06



558 km yolu 6 saatte giden bir taksinin saatteki hızı kaç kilometredir?

- A) 93
B) 110
C) 95

4) Bir sayı 9 ile bölününce bölüm 17, kalan 7 oluyor. Aynı sayı, 8' e bölününce bölüm kaç olur?

- A) 153 B) 60 C) 20

5)
$$\begin{array}{r} \text{AB} \quad | \quad 7 \\ - \quad \quad \quad \\ \hline \quad \quad \quad | \quad 24 \\ \quad \quad \quad \star \end{array}$$

Yukarıdaki bölme işleminde " \star " yerine gelebilecek sayıların toplamı kaçtır?

- A) 25 B) 21 C) 23

6)
$$\begin{array}{cccccc} \text{VI} , & \text{IV} , & \text{IIX} , & \text{VX} , & \text{IVI} , & \text{XX} \\ \hline \text{a} & \text{b} & \text{c} & \text{d} & \text{e} & \text{f} \end{array}$$

Yukarıda harflerle belirtilen Romen rakamlarının hangilerinin yazılışları doğrudur?

- A) c, d, e
B) a, b, c, d
C) a, b , f

7) “720” sayısının onlar basamağındaki rakamın basamak değeri ile sayı değeri arasındaki fark kaçtır?

A) 711

B) 70

C) 18

8) “ $\triangle < 14 + 8$ $\bullet > 61 - 18$ ”

eşitsizliklerinde \triangle yerine yazılabilecek en büyük doğal sayı _____ ile \bullet yerine yazılabilecek en küçük doğal sayının toplamı kaçtır?

A) 50

B) 55

C) 65

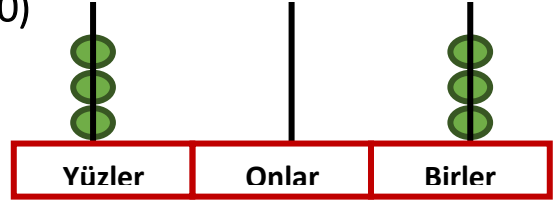
9) “37A” sayısı, üç basamaklı çift doğal sayıdır. “42B” sayısı ise üç basamaklı tek doğal sayıdır. Buna göre “A” ve “B” yerine yazılabilecek en büyük rakamların toplamı kaçtır?

A) 17

B) 16

C) 15

10)



Yukarıdaki abaküste verilen sayı aşağıdakilerden hangisidir?

A) 410

B) 303

C) 303

11)



1. 4 yüzü vardır.
2. Yüzleri eş karesel bölgelerdir.
3. 8 köşesi vardır.
4. 12 kenarı vardır.

Küp ile ilgili yukarıda verilen bilgilerden hangileri doğrudur?

A) 1 ve 2

B) 2 ve 3







C) 2 , 3 ve 4

12) “6 , 4 , 7” rakamlarını birer kez kullanarak oluşan en küçük doğal sayının çözümlenmiş durumu aşağıdakilerden hangisidir?

- A) 4 yüzlük + 6 onluk + 7 birlik
- B) 7 yüzlük + 6 onluk + 4 birlik
- C) 6 yüzlük + 7 onluk + 4 birlik

13) 

Yukarıdaki örüntüde noktalı yerlere hangi şekiller gelmelidir?

- A)  
- B)  
- C)  

14) “18 , 24 , 30 , , ,”

Yukarıdaki sayı örüntüsünde boş yerlere hangi sayılar gelir?

- A) 36 , 42 , 48
- B) 34 , 38 , 42
- C) 38 , 46 , 54

15) 80 TL , 4 çocuk arasında paylaştırılıyor. Her birine kaç 5 TL düşer?



- A) 4
- B) 5
- C) 20

16) **345 - 230 < ?**

Soru işareti yerine yazılabilecek en küçük doğal sayı kaçtır?




- A) 115
- B) 116
- C) 117




17)




TAHMINİ SONUÇ	 
---------------	---

127- 65= 60	
175- 126= 60	
224- 163= 60	

Yukarıdaki çıkarma işleminde tahmini sonucu doğru olanlara 😊 sembolü, yanlış olanlara ☹️ sembolü koyulduğunda hangi seçenekteki sonuca ulaşılır? (En yakın onluğa yuvarlayalım.)

A) 



B) 



C) 



18) “7 X 3” işleminde birinci çarpanı 1 arttırırsak sonuç nasıl değişir?

- A) 8 artar.
- B) 7 azalır.
- C) 3 artar.

19) Aşağıdaki ifadelerden hangisi yanlıştır?

- A) 5 tane 100 g = Yarım kg
- B) 10 tane 100 g = 1kg
- C) 2 tane 100 g = Çeyrek kg

20) 60 litre zeytinyağının yarısı 1 litrelik, yarısı da 500 mililitrelik şişelere doldurulacaktır. Bu iş için kaç şişe gerekir?

- A) 90
- B) 70
- C) 60

1 -) Aşağıdakilerden hangisi Dünya'nın küreye benzediğini ispatlar?

- A) Dünya'nın üzerinde karaların olması,
- B) Ay'ın sürekli değişik şekillerde görünmesi,
- C) Dünya üzerinde hep aynı yönde giderek başlangıç noktasına ulaşması.

2-) Hava tabakasıyla ilgili olarak;

1. Yeryüzünden uzaya kadar kalın bir tabakadır.
2. İçerisinde canlılar için önemli gazlar bulunur
3. Yağmur, rüzgâr ve kar gibi olayların gerçekleştiği tabakadır.

Yukarıda verilen ifadelerden hangileri doğrudur?

- A) 1 ve 2
- B) 2 ve 3
- C) 1, 2 ve 3

3-) Fahri'nin derste dikkati dağılmış, pencereden dışarıya bakıp oynayan çocukları seyretmiştir.

Fahri hangi duyu organını kullanmıştır?

- A) Göz
- B) Deri
- C) Kulak

4-) Göz sağlığımız için hangisini yapmamalıyız?

- A) A) Televizyonu uzun süre ve yakından izlemeliyiz.
- B) B) Başkalarına ait havlu ve gözlükleri kullanmamalıyız.
- C) C) Gözlerimizi aşırı ışıktan korumalıyız.

5-) Aşağıdakilerden hangisi yanlıştır?

- A) Çantayı yerden alırken çekme kuvveti uyguluyoruz.
- B) Buzdolabın kapağını açmak için itme kuvveti uyguluyoruz.
- C) Gelen topa vurmak için itme kuvveti uyguluyoruz.

6-) "Hareket halindeki bazı cisimleri durdurmak tehlikelidir." Cümleyi kuran Mustafa, aşağıdakilerden hangisini yapmaz?

- A) Koşarken yavaşlayıp durmak.
- B) Topu yakalamaya çalışmak.
- C) Hareket halindeki bisikleti durdurmaya çalışmak.

7-) Aşağıdaki maddelerden hangisi esnektir?

- A) Silgi
- B) Masa
- C) Kalem

8-) Buz eriyerek.....hale geçer. Bu olayın gerçekleşmesi için kaynağına ihtiyaç vardır.

Noktalı yerlere ne gelmesi gerekiyor?

- A) Katı-Erime
- B) Sıvı-Erime
- C) Gaz-Buharlaştırma

9-) Aşağıdakilerden hangisi gaza örnek verilebilir?

- A) Dondurma
- B) Fincandan çıkan buhar
- C) Süt

10-) Varlıkları hangi ortamda görebiliriz?

- A) Işık olmayan ortamda
- B) Karanlık ortamda
- C) Aydınlik ortamda

11-) () Etrafımızdaki varlıkları gözlerimizle görürüz.

() Varlıkları karanlıkta net olarak görebiliriz.

() Görme olayının gerçekleşmesi için ışık gereklidir.

Peri, yukarıdaki ifadelerden doğru olanlarının başına (D) yanlış olanların başına (Y) koyacaktır.

Buna göre doğru işaretleme hangi seçenekte verilmiştir?

- A) DYD B) DDD C) DDY

12-) Denizin derinliklerine inildikçe görme olayının zorlaşmasının nedeni hangi seçenekte doğru verilmiştir?

- A) Balıkların fazla olması
B) Güneş ışığının azalması
C) Deniz suyunun tuzlu olması

13-) Kendiliğinden ışık yayan ışık kaynaklarına doğal ışık kaynağı denir.

Aşağıdakilerden hangisi doğal ışık kaynağıdır?

- A) Abajur
B) Şimşek
C) Floresan lambası

14-) Aşağıdakilerden hangisi yapay ses kaynağı değildir?

- A) Gitar
B) Matkap
C) Kuş sesi

15-) Aşağıdakilerden hangisinin sesi daha az duyulur?

- A) Şimşek
B) Rüzgar
C) Yere düşen yaprak

16-) Gökkuşığı, yapı itibariyle ışık ışınlarının su damlaları içinden geçerken kırılmasıyla ve yansmasıyla oluşur. Aşağıdakilerden hangisi gökkuşağının renklerinden değildir?

- A) Turuncu
- B) Yeşil
- C) Pembe

17-) Aşağıda verilen bilgilerden hangisi yanlıştır?

- A) Canlı varlıklar kendiliğinden hareket eder, cansız varlıklar hareket etmezler.
- B) Canlı ve cansız varlıklar soluk alıp verirler.
- C) Canlı varlıkların enerjiye ihtiyaçları vardır. Cansız varlıklar enerjiye ihtiyaç duymazlar.

18-) Aşağıdaki verilenlerden hangisinde bulunan varlıkların tamamı canlı varlıklardan oluşmuştur?

- A) Kedi, köpek, koyun, kek
- B) Ağaç, araba, at, ayı
- C) Çiçek, çimen, çam, çekirge

19-) Aşağıdaki canlılardan hangisinin hareketi diğerlerine göre daha yavaştır?

- A) Çita
- B) Tavşan
- C) kaplumbağa

20-) Aşağıdaki canlılardan hangisi hava ihtiyacını sudan karşılar?

- A) Midye
- B) Baykuş
- C) Kartal

1) Başkalarının düşüncelerine karşı nasıl davranmalıyız?

- A) Saygılı B) Duyarsız C) İlgisiz

2) Aşağıdaki ifadelerden hangisinde bireysel farklılıklardan söz edilmektedir?

- A) Elif ile birlikte çok güzel resim yaptık.
B) Ben kırmızı kazağı beğendim, Eda maviyi.
C) Evden farklı saatlerde çıkmışız.

3) Sibel, bir haftalık plan yapmış ve yaptığı plana özenle uymuştur. Sibel için aşağıdaki yorumların hangisini yapabiliriz?

- A) Okula geç kalmıştır.
B) Her şeye yeterli vakit ayırmıştır.
C) Oyun oynamamıştır.

4) Aşağıdakilerden hangisi dedemizin çocukluğunda bulunan teknolojik ürünlerden biridir?

- A) Bilgisayar
B) Cep telefonu
C) Radyo

5) "Komşu komşunun külüne muhtaçtır." atasözüyle ilgili cümle hangisidir?

- A) Evde limon kalmamıştı, komşumuzdan limon aldım.
B) Komşularımız iyi insanlar, onlara bazen oturmaya gideriz.
C) Annem çiçeklerin dibine kül dökmek için komşumuza gitti.

6) Aşağıdakilerden hangisi günlük plan yapmanın yararlarından biri değildir?

- A) Zamandan tasarruf etmiş oluruz.
B) Günlük işlerimizi kolaylaştırırız.
C) Her zaman istediğimiz şeyleri yaparız.

- I. Satın aldığımız ürünün son kullanma tarihine bakmalıyız.
- II. Reklamı çok yapılan ürünleri satın almalıyız.
- III. Ürünü satın alırken ambalajını kontrol etmeliyiz.

7) Yukarıdaki ifadelerden hangileri bilinçli tüketici davranışlarındandır?

- A) I – II B) I – III C) II – III

8) Aşağıdakilerden hangisi kişisel bakımda kullandığınız kaynaklardan değildir?

- A) Su B) Elektrik C) Rüzgâr

9) Aşağıdaki seçeneklerden hangisinde kış mevsiminde tüketilmesi gereken sebzeler verilmiştir?

- A) Ispanak, lahana, pırasa
B) Domates, fasulye, patlıcan
C) Biber, salatalık, kabak

10) Zerya aşağıdakilerden hangisini yaparsa komşuluk hakkına saygı göstermemiş olur?

- A) Odasındaki kilimi her gün 5. kattaki balkonlarından silkelerse.
B) Gece geç saatlere kadar evde oyun oynamazsa.
C) Televizyonun ve radyonun sesini duyacağı kadar açarsa.

11) I.Yaya geçidi

II. Üst geçit

III. Kavşak

IV. Alt geçit

Yanda kaç numaralı yerler güvenli geçiş yerleridir?

- A) II-III-IV B) I-II-III C) I-II-IV

12) Parkta oynarken yaşlı bir teyzenin fenalaşıp yere düştüğünü gördüm. Çevredeki insanlar hemen yardım çağırdılar.

Ferit'in bahsettiği olayda çevredeki insanlar, telefonlarıyla hangi numarayı aramış olabilir?

- A) 156 B) 112 C) 177

13) Aşağıdaki hangi öğrencinin davranışı yanlıştır?

- A) Yusuf: Salıncakta ayaktayken daha hızlı sallanıyorum.
B) Beşir: Kaydırdan önümdeki arkadaşım inmeden kaymam.
C) Metin: Salıncakta çok hızlı sallanmam.

- 14) 1. Köy-Belediye başkanı
2. İlçe-Kaymakam
3. İl- vali

Yukarıda verilen eşleştirmelerden hangisi doğrudur?

- A) 1-2 B) 1-3 C) 2-3

15) Ülkemizdeki yönetim birimleri büyükten küçüğe doğru sıralanışı hangi seçenekte doğru olarak verilmiştir?

- A) İl-köy-ilçe
B) İl-ilçe-köy
C) Köy-il-ilçe

16) Ülkemizin bağımsızlığını kazanması adına gece gündüz çalışmış ve Milli Mücadele'ye katılmıştır.

Yukarıda verilenler Atatürk'ün hangi kişilik özelliğini belirtmektedir?

- A) Akıl yürütmesi
B) Vatanseverliği
C) Açık sözlülüğü

- 17) * Yeni harflerin kabul edilmesi
* Soyadı Kanunu'nun kabulü
* Medeni Kanun'un kabulü

Yukarıda verilen yeniliklerin sonucunda ne olmuş olabilir?

- A) Kurtuluş Savaşı kazanılmıştır.
B) Toplumsal yaşam değişmiştir.
C) Yenilikler halkı etkilememiştir.

18) Aşağıdakilerden hangisi ülkemizin gelişmesi için sizin üzerinize düşen sorumluluklardan biri değildir?

- A) Bir işte çalışıp para kazanmak.
- B) Verilen görevleri eksiksiz yapmak.
- C) Çalışkan olmak.

19) Aşağıdakilerden hangisi cumhuriyetin ilanından sonra kazanılan haklardan biridir?

- A) Seçme ve seçilme hakkı.
- B) Mutlu olmak hakkı.
- C) Komşuya yardım etme hakkı.

20) I- İsrafi önler.

II- Çevreyi korur.

III- Daha iyi beslenmemizi sağlar.

Geri dönüşümü yapmak yukarıdakilerden hangilerini sağlar?

- A) I-II
- B) II-III
- C) I-III

A) Write the words under the pictures. (Resimlerin altına kelimeleri yazalım.)

Ball drum blocks teddy bear doll plane train



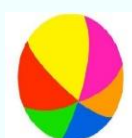
.....



.....



.....



.....



.....




.....



.....

B) Look at the pictures and answer the questions. (Resimlere bakalım ve soruları cevaplayalım.)

10



12



15



11



8



17



a. How many robots are there?

.....

b. How many planes are there?

.....

c. How many blocks are there?

.....

d. How many teddy bears are there?

.....

e. How many dolls are there?

.....

f. How many blocks are there?

.....

C) Look and write sentences with "I have got...." (Bakalım ve "I have got..." ile cümleler yazalım.)

Meriç				
Hakan				

Meriç

Hakan

-
-
-
-

- *
- *
- *
- *

D) Answer the questions. (Soruları cevaplayalım.)

1) Have you got a toy car?

.....



2) Have you got playing cards?

.....



3) Have you got a teddy bear?

.....



4) Boş bırakılan yere hangisi getirilmelidir? There are dolls.

A) one B) four C) a

5) Aşağıdaki ifadeleri gruplarsak hangisi dışarda kalır?

- A) yellow
- B) green
- C) board game

6) "Yes, I have got a ball."

Cevabını veren birine hangi soru sorulmuştur?

- A) Have you got a ball?
- B) How many balls are there?
- C) Is this a ball?

CEVAP ANAHTARI

TÜRKÇE TESTİ

1	2	3	4	5	6	7	8	9	10	11	12	13	14	15	16	17	18	19	20
B	C	A	A	C	C	B	C	B	C	C	A	B	A	B	A	B	C	C	B

MATEMATİK TESTİ

1	2	3	4	5	6	7	8	9	10	11	12	13	14	15	16	17	18	19	20
C	C	A	C	B	C	C	C	A	B	C	A	B	A	A	B	C	C	C	A

FEN BİLİMLERİ TESTİ

1	2	3	4	5	6	7	8	9	10	11	12	13	14	15	16	17	18	19	20
C	C	A	A	B	C	A	B	B	C	A	B	B	C	C	C	B	C	C	A

HAYAT BİLGİSİ TESTİ

1	2	3	4	5	6	7	8	9	10	11	12	13	14	15	16	17	18	19	20
A	B	B	C	A	C	B	C	A	A	C	B	A	C	B	B	B	A	A	A

İNGİLİZCE TESTİ

Answer Key (Cevap Anahtarı)

A) Write the words under the pictures. (Resimlerin altına kelimeleri yazalım.)



plane



train



drum



ball



teddy bear



blocks



doll

B) Look at the pictures and answer the questions. (Resimlere bakalım ve soruları cevaplayalım.)

a. There are ten robots.

b. There are twelve planes.

c. There are fifteen blocks.

d. There are eleven teddy bears.

e. There are eight dolls.

f. There are seventeen buttons.

C) Look and write sentences with "I have got...." (Bakalım ve "I have got..." ile cümleler yazalım.)

Meriç

- I have got a teddy bear.
- I have got buttons.
- I have got a doll.
- I have got a kite.

Hakan

- *I have got a ball.
- *I have got a plane.
- *I have got marbles.
- *I have got toy cars.

D) Answer the questions.
(Soruları cevaplayalım.)

1) Yes, I have.

2) No, I haven't

3) Yes, I have.

4) B

5) C

6) A

Çalışmada Emegi Geçen Öğretmenlerimiz:

NEVZAT YILMAZ

(SINIF ÖĞRETMENİ-FEVZİ ÇAKMAK İLKOKULU)

BİLGE YILMAZ

(SINIF ÖĞRETMENİ-MEHMETÇİK İLKOKULU)

SEDA AYDINLI

(İNGİLİZCE ÖĞRETMENİ-80.YIL İLKOKULU)

ÖZGÜR ÖNER

(SINIF ÖĞRETMENİ-FEVZİ ÇAKMAK İLKOKULU)

LOKMAN İLİK

(BİLİŞİM TEKNOLOJİLERİ ÖĞRETMENİ-MEHMET AKİF ERSOY ORTAOKULU)

Bu çalışma Siirt İl Milli Eğitim Müdürlüğü
öğretmenleri tarafından hazırlanmıştır. Emeklerinden dolayı teşekkür ederiz.