



ADİYAMAN İL MİLLÎ EĞİTİM MÜDÜRLÜĞÜ

KAZANIM PEKİŞTİRME ÇALIŞMASI

LIFE FITS INTO HOME

HAYAT EVE SIĞAR



4. SINIF
25-29 MAYIS

6.
SAYI

BU KİTAPÇIKTA

TÜRKÇE	15 SORU
MATEMATİK	15 SORU
FEN BİLİMLERİ	15 SORU
SOSYAL BİLGİSİ	15 SORU
İNGİLİZCE	10 SORU
DİN KÜLTÜRÜ	10 SORU

Yer almaktadır.

Not: Cevap anahtarı soruların yayımlandığı günden sonraki Salı günü <http://adiyaman.meb.gov.tr/> duyurular sekmesinde açıklanacaktır.

Bu çalışmada yer alan Borsa İstanbul ilkokulu, Cumhuriyet İlkokulu, Mehmetçik İlkokulu, Menderes İlkokulu idareci ve öğretmenlerine teşekkürler...

ADİYAMAN MEM

2020

4. SINIF KAZANIM PEKİŞTİRME TESTİ

TÜRKÇE DERSİ

Güneşin ve yaydığı ışınların yaşadığımız dünyaya oldukça faydası bulunmaktadır. Bitkiler besinlerini yapmak için güneşten faydalanır. Bunun yanında vücutta D vitamini oluşumunu sağlamak insan psikolojisini olumlu etkilemek gibi faydaları da vardır.

1. ve 2. soruları paragrafa göre cevaplayınız

1. Aşağıdakilerden hangisi güneşin faydalarından değildir?

- A) Vücutta D vitamini oluşumunu sağlar.
- B) İnsan psikolojisini olumlu etkiler.
- C) Orman yangınlarına neden olur.
- D) Bitkiler güneş sayesinde besinlerini yapar.

2. Yukarıdaki paragrafın konusu aşağıdakilerden hangisidir?

- A) Bitkilerin nasıl besin ürettiği
- B) D vitamininin faydaları
- C) İnsan psikolojisi
- D) Güneşin faydaları

3. Gönümüzün güzelliği sevgi ise, beynimizin güzelliği de düşünebilme yeteneğimizdir. O yeteneği her an, her dakika kullanalım. Unutmayalım ki düşünen insan özgür insandır. Düşünemeyen, kendisini sadece etrafındakilerin düşüncesiyle yönlendiren insan ise kafese konulmuş bir kuştan farksızdır.

Yukarıdaki paragrafta asıl anlatılmak istenen aşağıdakilerden hangisidir?

- A) Her insanın düşünebilme yeteneği farklıdır
- B) Düşünemeyen insan, esir bir insandan farksızdır.
- C) İnsan yeteneklerini her zaman kullanmalıdır.
- D) Düşüncelerimizi özgürce dile getirmek bizim hakkımızdır.

4. “Elindeki işleri yapılması gereken zamanda yetiştiremeyecek ve arada en küçük başka bir iş yapamayacak kadar sıkışık durumda bulunmak.” Yukarıda açıklaması verilen deyim aşağıdakilerden hangisidir?

- A) Başını kaşımaya vakti olmamak.
- B) İşi iş olmak.
- C) İş başa düşmek
- D) İşini bitirmek

5. Aşağıdaki atasözlerinden hangisi “ Bir işi yapamayacağını düşündüğün insan, olumlu bir davranışıyla sizi yanıltabilir.” anlamındadır?

- A) Güneş balçıkla sıvanmaz.
- B) Ummadığın taş baş yarar.
- C) Adamın iyisi iş başında belli olur.
- D) Bilmemek ayıp değil, öğrenmemek ayıptır.

6. * Tüm imkânlarını kullanarak buraya gelmiş.

* Hayat ona hep mutluluk getirmiştir.

* Üzüntüsünü dile getirmeye çalıştı.

* Kitabın eksik bölümlerini bulamamıştı.

Aşağıdakilerden hangisi yukarıdaki altı çizili sözcüklerden herhangi birinin eş anlamlısı olarak kullanılmaz?

- A) Noksan
- B) Yaşam
- C) Olanak
- D) Yorgunluk

7. Aşağıdaki altı çizili sözcüklerden hangisi eş sesli değildir?

- A) Dışarıdan gelen ses az önce kesildi.
- B) Bu güzel koylar her zaman güzelliğini koruyor
- C) Yan binadaki tamirat daha bitmemiş.
- D) Köyün ortasından geçen çay yazın kurumuştu.

8. Gökyüzünde uçurtma
Kuyruğunda bulutlar
Bulutlarla arkadaş
Rüzgârla yarışan kuşlar
Bu şiirde bulutların arkadaşı olan kimdir?
- A) Uçurtma B) Kuşlar
C) Gökyüzü D) Rüzgar
9. “Geçinmek” sözcüğü aşağıdakilerin hangisinde “uzlaşmak, anlaşmak” anlamında kullanılmıştır?
- A) Dayım, emekli maaşıyla geçiniyordu.
B) Sürekli akıllı geçiniyor ama bir de kendine baksa.
C) Arkadaşlarının hepsiyle iyi geçinmeye çalışıyordu.
D) Kendisi yiyecek bir şey getirmeyip milletten geçiniyordu.
10. Aşağıdaki cümlelerin hangisinde “ki” bağlacı yanlış yazılmıştır?
- A) İnsanları sev ki mutlu olasın.
B) Bana derdini söyle ki sana yardım edeyim.
C) Görüyorum ki herkes zamanında gelmiş.
D) Baktımkı işler yetişmeyecek, yardım istedim.
11. “Kurum, kuruluş ve kurul adlarının her kelimesi büyük harfle başlar.”
Yukarıdaki bilgi doğrultusunda aşağıdaki cümlelerin hangisinde yazım yanlış yapılmıştır?
- A) Dersimizde Türkiye Büyük Millet Meclisi’nin açılışını işledik.
B) Arkadaşlarımızla Çocuk Esirgeme Kurumu’nu ziyaret ettik.
C) Ankara’da bulunan milli kütüphane görülmeye değer.
D) Akşam Atatürk Orman Çiftliği’ne yemek yemeğe gittik.

12. Aşağıdaki cümlelerin hangisinde noktalama yanlış vardır?

- A) Saat 17:30’da görüşmemiz vardı?
B) Adana-Ankara arası kaç saat sürüyor?
C) Elif, sen de konuşmaya katılacak mısın?
D) Aaa, ablam da buradaymış!

13. Aşağıdaki cümlelerin hangisinde kısaltmaların yazımında yanlışlık vardır?

- A) TRT’de haber spikeriydi.
B) TCDD’nin kış tarifeleri asılmış.
C) M.E.B’in yeni öğretmenleri belli oldu.
D) TDK’nin sözlüğüne bakalım.

14. Aşağıdaki cümlelerde altı çizili sözcüklerden hangisi gerçek anlamda kullanılmamıştır?

- A) Dolabındaki eskimiş kıyafetleri seçtik.
B) Cam kırılınca hemen yenisini seçtik.
C) Akşam balkonda tatlı tatlı sohbet ettik.
D) Bu ağır eşyaları artık kaldıramıyordum.

15. Aşağıdaki cümlelerin hangisinde “nokta” kelimesi Türkçe terimi olarak kullanılmıştır?

- A) Geometrik şekillerde kenarların birleşme noktasına köşe denir.
B) Kalemin defterde bıraktığı iz nokta olarak tanımlanır.
C) A ve B noktaları arasına doğru parçası çizdim.
D) Cümlelerin sonuna nokta konur.

4. SINIF KONU KAZANIM TESTİ

MATEMATİK DERSİ

1. Aşağıdaki tartma birimlerinin kaç tanesinin kısaltması ve kullanım alanları doğru verilmiştir?

Tartma Birimi	Kısaltma	Kullanım Alanı
Miligram	mg	Laboratuvar
Gram	g	Kuyumcular ve günlük hayat
Kilogram	kg	Günlük hayat
Ton	t	Kamyoncular ve büyük ağırlıklar

- A) 1
B) 2
C) 3
D) Hepsi

2. Aşağıdaki eşleştirmelerden kaç tanesi doğrudur?

- 1 kg = 1000g
- 1 g = 1000 mg
- 1 t = 1000kg
- $\frac{1}{2}$ kg = 500 g

- A) 1
B) 2
C) 3
D) Hepsi

3. 6 t 306 kg, kaç kilogramdır?

- A) 6306 kg
B) 60306 kg
C) 63060 kg
D) 66030 kg

4. Brüt kütlesi 10 t 250 kg gelen kamyondaki maddenin net kütlesi 8 t 100 kg dır. Kamyonun darası kaç kg dır ?

- A) 2050 kg
B) 2150 kg
C) 2250 kg
D) 2350 kg

5. Betül 'ün köpeğinin kütlesi 8740 gramdır.

Buna göre Betül'ün köpeğinin kütlesi kaç kg kaç g'dır?

- A) 8kg 74 g
B) 8g 740 kg
C) 87kg 4 g
D) 8t 740g

6. Benim kütlem 44 kg, annemin kütlesi benim kütlemden 18 kg daha fazladır. **İkimizin kütleleri toplamı kaç kg dır ?**

- A) 62 kg
B) 102 kg
C) 106 kg
D) 112 kg

7. Aşağıdaki çelik kasanın 1 t olabilmesi için daha kaç kg gerekir?

580 kg ←



- A) 220
B) 320
C) 420
D) 520

8. Aşağıdaki çevirmelerden hangisi doğrudur?

- A) 3800kg = 3kg 80g
B) 1070mg = 1g 70mg
C) 6200kg = 62g
D) 8700mg = 8g 7mg

9. Aşağıdaki ailenin toplam ağırlığı 207 kg ise, abla'nın ağırlığı kaç kg'dır?

Baba	Anne	Abla	Kardeş
84 kg	87 kg	?	21 kg

- A) 35
C) 45
- B) 40
D) 50

10. Aşağıdaki tabloda bir markette bulunan ürünlerin toplam kg ağırlıkları verilmiştir. Bu tabloya göre marketteki ürünlerin toplamı kaç ton, kaç kg'dır?

Peynir	8500
Salam	4500
Zeytin	6000
Deterjan	8000
Mercimek	1750

- A) 26 t 500 kg
C) 29 t 750 kg
- B) 27 t 500 kg
D) 28 t 750 kg

11. 5t odunun 375kg' ı kullanılırsa geriye kaç kg odun kalır?

- A) 4525 kg
C) 4725 kg
- B) 4625 kg
D) 3725 kg

12. Oduncu Hüsnü Bey ,7 t 381 kg odun satmıştır. Buna göre Hüsnü Bey, kaç kg odun satmıştır?

- A) 70831 kg
C) 700381 kg
- B) 7381 kg
D) 70381 kg

13. Elif Hanım 80 kg'dır. Sağlığı için diyetisyene giden Elif Hanım, her ay $\frac{1}{2}$ kg zayıflıyor.

Buna göre Elif Hanım 6 ay sonra kaç kg olur?

- A) 83 kg
C) 74 kg
- B) 86 kg
D) 77 kg

14. 1t / 1mg / 1g / 1kg verilen kütlelerin büyük-ten-küçüğe sıralanışı hangi seçenekte doğru verilmiştir?

- A) 1t > 1kg > 1g > 1mg
B) 1mg > 1g > 1kg > 1t
C) 1t < 1kg < 1g < 1mg
D) 1mg < 1g < 1kg < 1t

15. Aşağıdaki karpuzun bir dilimi 380 gram gelmektedir. Karpuzun tamamı 14 eş dilim olarak kesiliyor. Karpuzun 5 dilimi tüketiliyor, geriye kaç gram karpuz kalmıştır?



- A) 2420 g
C) 3580 g
- B) 3320 g
D) 3420 g

4. SINIF KONU KAZANIM TESTİ

FEN BİLİMLERİ DERSİ





1. Basit elektrik devresini oluşturan malzemelere ne ad verilir?

- A) Pil B) Devre elemanları
C) Batarya D) Bağlantı kablosu

2. Aşağıdakilerden hangisi basit bir elektrik devresinde bulunmaz?

- A) Pil B) Ampul
C) Anahtar D) Sigorta

3. Aşağıdaki görseli verilen elamanlardan hangisini kullanmadan basit bir elektrik devresi yapılabilir?

- A)  Ampul
B)  Pil
C)  Pil yatağı
D)  Bağlantı kablosu




4. Basit bir elektrik devresinde pil, bağlantı kablosu, anahtar ve ampul bulunur.

Duy ve pil yatağı olmadan da basit bir elektrik devresi kurulabilir.

Pillerin artı (+) ve eksi (-) olmak üzere iki kutbu vardır.

Anahtar kapatıldığında ampul yanmıyorsa elektrik devresi doğru kurulmuştur.

Hangi renk ile gösterilen tabeladaki bilgi yanlıştır?




- A)  B) 
C)  D) 

5. Aşağıda verilen bilgiler hangi devre elemanına aittir?

- * İki kutbu bulunur.
* Elektrik enerjisi üretir.
* Radyo, saat, kumanda vb. araçlarda kullanılır.

- A) Pil yatağı B) Anahtar
C) Pil D) Ampul

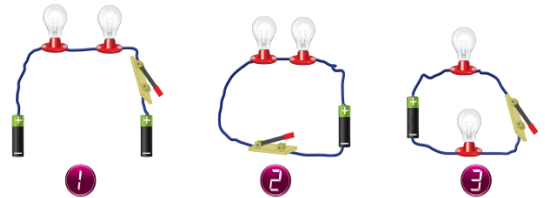
6.

1.		a.	Anahtar
2.		b.	Ampul
3.		c.	Duy

Yukarıda verilen devre elemanları ve isimleri hangi seçenekte doğru eşleştirilmiştir?

- A) 1-c 2-a 3-b B) 1-b 2-c 3-a
C) 1-a 2-c 3-b D) 1-c 2-b 3-a

7.



Yukarıda görseli verilen devrelerden hangisinde veya hangilerinde anahtar kapatıldığında ampuller kesinlikle yanmaz?

- A) 1, 2 ve 3 B) 2 ve 3
C) Yalnız I D) Yalnız II

8.



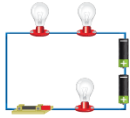
Yukarıda görseli verilen elektrik devresinde hangi seçenekteki eleman kullanılmamıştır?

- A) Ampul B) Pil yatağı
C) Pil D) Anahtar

9. Bir binanın duvarları içerisindeki elektrik telleri basit bir elektrik devresinde neyin karşılığıdır?

- A) Ampul B) Bağlantı kablosu
C) Anahtar D) Pil

10.

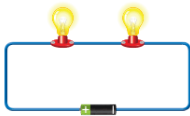


Devrede tane pil bulunmaktadır.
Devrede tane anahtar bulunmaktadır.
Devrede tane ampul bulunmaktadır.

Görseldeki devreye göre cümlelerde boş bırakılan yerlere sırasıyla aşağıdakilerden hangisi gibi olmalıdır?

- A) 2 B) 3 C) 3 D) 1
 1 1 2 2
 3 2 1 3

11.



Görseldeki elektrik devresinde aşağıdaki elemanlardan hangisi kullanılmamıştır?

- A) Ampul B) Pil
C) Bağlantı kablosu D) Anahtar

12. Devrede pilin ürettiği elektrik enerjisini devrenin diğer elemanlarına taşıyan devre elemanı hangisidir?

- A) Pil yatağı B) Bağlantı kablosu
C) Anahtar D) Duy

13. I. Basit bir elektrik devresi sadece pil ve ampulden oluşur.

II. Ampul, basit bir elektrik devresinde elektrik enerjisini kullanarak ortama ışık verir.

III. Elektrik devresi, elektriğin izleyeceği yoldur.

Yukarıdaki ifadelerden hangileri doğrudur?

- A) I ve II B) I ve III
C) II ve III D) I, II ve III

14.

*Devre	*Pil
*Ampul	*Su
*Anahtar	*Bağlantı kablosu

Yukarıdaki kavramlarla bir kavram haritası oluşturulursa hangisi dışarıda kalır?

- A) Devre B) Ampul
C) Su D) Anahtar

15. Elektrik devresini açıp kapamaya yarayan kısma ne denir?

- A) Anahtar B) Pil yatağı
C) Ampul D) Pil

4. SINIF KAZANIM PEKİŞTİRME TESTİ

SOSYAL BİLGİLER DERSİ

1. "Büyük su kütleleri ile (okyanuslarla) birbirinden ayrılan büyük kara parçalarına denir."
Yukarıda boş bırakılan noktalı yere aşağıdakilerden hangisi yazılmalıdır?

- A) ülke
B) ada
C) kıta
D) bölge

2.

Asya	Almanya	Afrika
Avrupa	Avustralya	Fransa

Yukarıda verilenlerden kaç tanesi kıta ismidir?

- A) 2
B) 3
C) 4
D) 5

3.

I	Dünya üzerinde her ülke farklı kültür ve yaşayış biçimine sahiptir.
II	İnsanların temel ihtiyaçlarını karşılamalarında yaşadıkları yerdeki hava şartları ve coğrafi özellikler etkilidir.
III	İnsanların beslenme ve giyinme gibi ihtiyaçları tüm dünyada aynı şekilde karşılanır.

Verilen bilgilerden hangileri **yanlıştır**?

- A) Yalnız I
B) Yalnız III
C) I ve II
D) II ve III

4. "Nazlı Avrupa ülkelerinin kültürlerini tanımak, incelemek ve bilgi edinmek için geziye gidiyor."
Nazlı bu gezisinde aşağıdaki ülkelerden hangisini ziyaret edemez?

- A) Japonya
B) İspanya
C) Fransa
D) İtalya

5.
 - Dünya'nın en kalabalık ülkesi
 - Asya kıtasında bir ülke
 - İnsanları çekik gözlü
 - Başkenti Pekin
 - Sanayisi çok gelişmiş

Yukarıda tanıtılan ülke aşağıdakilerden hangisidir?

- A) Japonya
B) Malezya
C) Hindistan
D) Çin

6. "Türkiye, başta Türk Cumhuriyetleri olmak üzere diğer ülkelerde yaşayan Türklerle ilişkilerini yürütmek amacıyla 1992 yılında kurulmuştur. Amaçlarından biri ekonomik, ticari, teknik, sosyal ve kültürel konular ile eğitim alanında projeler geliştirmektir."

Aşağıdaki kuruluşlardan hangisi bu amaçla kurulmuştur?

- A) TÜBİTAK
B) TÜİK
C) TEMA
D) TİKA

7.



Zeynep , yukarıda bazı ülkelerin bayraklarını ve isimlerini yazan bir poster hazırlamıştır. Zeynep'in hazırladığı bu posterin ortak özellikleri aşağıdakilerden hangisidir?

- A) Aynı dili konuşan ülkeler
- B) Dünyadaki Türk Cumhuriyetleri
- C) Petrol üreten ülkeler
- D) Sanayisi çok gelişmiş ülkeler

8.



Aşağıdakilerden hangileri V ve VI nolu ülkelerin ortak özelliğidir?

- I. Her iki ülkenin sanayisi çok gelişmiştir.
- II. Petrol en önemli yeraltı kaynağıdır.
- III. Her iki ülkede Asya kıtasındadır.
- IV. Her iki ülkede Avrupa kıtasındadır.

- A) I ve II
- B) I ve IV
- C) II ve III
- D) I, III ve IV

9.

Komşularımız		Sınır Kapıları	
1	Yunanistan	a	Habur
2	Irak	b	İpsala
3	Bulgaristan	c	Sarp
4	Gürcistan	d	Kapıkule

Yukarıda verilen ülkelerle sınır kapılarımız eşleştirilirse hangi şekil oluşur

A)

1	↔	a
2	↗↘	b
3	↖↗	c
4	↔	d

B)

1	↗↘	a
2	↖↗	b
3	↗↘	c
4	↖↗	d

C)

1	↗↘	a
2	↖↗	b
3	↗↘	c
4	↖↗	d

D)

1	↔	a
2	↔	b
3	↗↘	c
4	↖↗	d

10. Aşağıdaki öğrencilerden hangisinin ülkemiz ile ilgili verdiği bilgi yanlıştır?

- A) Said Gazi: Ülkemizin Asya kıtasındaki topraklarına Anadolu deriz.
 B) Yusuf : Ülkemizin Avrupa kıtasındaki komşuları Suriye ve Irak'tır.
 C) Ali: Ülkemizin Asya kıtasındaki komşularından bazıları İran ve Ermenistan'dır.
 D) Arda Sefa: Ülkemizin Avrupa kıtasındaki topraklarına Trakya deriz.

12. • Sumo Güreşi
 • İkebana(çiçek süsleme sanatı)
 • İnsanları Çekik gözlü
 • Asya kıtasında
 • Sık sık deprem olan ülke
 • Sanayisi çok gelişmiş
 • Başkenti Tokyo

Yukarıda tanıtılan ülke aşağıdakilerden hangisidir?

- A) Çin B) Hindistan
 C) Malezya D) Japonya

11.



Haritaya göre aşağıdaki eşleştirmelerden hangisi yanlıştır?

- A) I → Yunanistan B) II → Bulgaristan
 C) V → İran D) VI → Suriye

13. • Buzullarla kaplı bir kıtadır.
 • Üzerinde hiçbir ülke bulunmaz.
 • İnsan yerleşimi olmayan bir kıtadır.

Yukarıda kısaca özellikleri verilen kıta aşağıdakilerden hangisidir?

- A) Avustralya B) Afrika
 C) Kuzey Amerika D) Antarktika

14.



Yukarıdaki Dünya haritasında 1,2,3 ve 4 ile belirtilen kıta ve okyanus adları aşağıdakilerden hangisidir?

- | | 1 | 2 | 3 | 4 |
|----|---------------|---------------|--------|---------------|
| A) | Büyük Okyanus | Atlas Okyanus | Afrika | Asya |
| B) | Atlas Okyanus | Afrika | Asya | Büyük Okyanus |
| C) | Büyük Okyanus | Afrika | Asya | Atlas Okyanus |
| D) | Atlas Okyanus | Asya | Afrika | Büyük Okyanus |

15. Ülkemizin en uzun kara sınırına sahip olduğu ülke aşağıdakilerden hangisidir?

- | | |
|----------------|--------------|
| A) Suriye | B) İran |
| C) Bulgaristan | D) Gürcistan |

4. SINIF KONU KAZANIM TESTİ

İNGİLİZCE DERSİ

1. I'm thirsty, I want some.....

Yukarıdaki konuşmayı tamamlayan ifade aşağıdakilerden hangisidir?

- A) pizza B) pasta
C) water D) rice

2. I eat..... and drink.....for dinner.

Yukarıdaki cümledeki boşluklara sırasıyla aşağıdakilerden hangileri gelmelidir?

- A) cheese – olive
B) sandwich – milk
C) meatballs – ayran
D) butter – orange juice

3. is a traditional Turkish meal.

Yukarıdaki boşluğa gelmesi gereken ifade aşağıdakilerden hangisidir?

- A) cheese B) sandwich
C) meatballs D) butter

4. A: Are you hungry?

B:

Yukarıdaki sorunun cevabı aşağıdakilerden hangisi ile tamamlanabilir?

- A) Yes, she is. B) No, I am not.
C) No, she isn't. D) Yes, she can.

DRINKS	FOOD
-Ayran -.....	-Hamburger -.....
-Turkish coffee	-Sandwich

Yukarıdaki boşluklara sırasıyla aşağıdakilerden hangisi gelmelidir?

- A) Pizza - Olive B) Orange juice – Tea
C) Tea – Cake D) Butter – Fish and chips

6. A: Do you want some cake?

B: No,

Konuşmayı tamamlayan ifade hangisidir?

- A) I like cake.
B) Thanks, I'm full. Maybe later.
C) Some please, I'm thirsty.,
D) I love it.

7.

BREAKFAST	DINNER
Olive HONEY	Hamburger Sandwich

Yukarıdaki boşluklara sırasıyla aşağıdakilerden hangisi gelmelidir?

- A) Kebap – Tost B) Cheese – Meatballs
C) Butter – Milk D) Salad – Spaghetti

8. A: Do you want Adana kebab?

B: Not now.....

Yukarıdaki konuşmayı aşağıdakilerden hangisiyle tamamlayabiliriz?

- A) I'm hungry. B) Yes, please.
C) Maybe later. D) I love it.

9. 'Dinner' kelimesinin Türkçe karşılığı aşağıdakilerden hangisidir?

- A) Kahvaltı B) Öğle yemeği
C) Akşam yemeği D) Çorba

10. Eat me. I'm a red vegetable.

Yukarıda bahsedilen şey aşağıdakilerden hangisidir?

- A) Fruit juice B) Soup
C) Cherry D) Tomatoe

4. SINIF KAZANIM PEKİŞTİRME TESTİ

DİN KÜLTÜRÜ VE AHLAK BİLGİSİ DERSİ

1. Allah'a (c.c) zatında , sıfatlarında ve fiillerinde ortak koşmak, Allah'tan başka tanrı yada tanrıların bulunduğuna inanmaya ne denir?
- A) Hanif B) Şirk
C) Tevhid D) İhsan
2. Putperestlik, içki, kumar, falcılık gibi kötülüklerin cahilce inanç ve uygulamaların yaygın olmasından dolayı peygamberimizin, peygamberlik öncesi döneme ne ad verilir?
- A) Mutluluk Dönemi B) Saadet Dönemi
C) Adalet Dönemi D) Cahiliye Dönemi
3. Aşağıdakilerden hangisi peygamberimizin isimlerinden birisi değildir?
- A) Samed B) Muhammed
C) Ahmed D) Mustafa
4. 619 yılında peygamberimizin eşi Hz. Hatice ve amcası Ebu Talip vefat etti. Peygamberimiz (s.a.v.) ve müslümanları çok üzen bu ölümlerin gerçekleştiği yıla denildi. Aşağıdakilerden hangisi noktalı yere gelmelidir?
- A) Mutluluk Yılı B) Boykot Yılı
C) Hüzün Yılı D) Karantina Yılı
5. İnançları uğruna Mekke'den Medine'ye hicret(göç) eden müslümanlara ne ad verilir?
- A) Muhacir B) Mücahid
C) Ensar D) Hanif
6. Hz. Muhammed (s.a.v.) Mekke'den Medine'ye kiminle birlikte hicret(göç) etti?
- A) Hz. Ömer B) Hz. Ebubekir
C) Hz. Zey D) Hz. Ali
7. Peygamberimizin Medine'ye hicret ettiğinde Medinede yaptırdığı ilk mescidin adı aşağıdakilerden hangisidir?
- A) Mescid-i Haram B) Mescid-i Aksa
C) Mescid-i Nebi D) Mescid-i Dırar
8. Peygamberimizin Medinede yaptırdığı mescidin yanına eğitim ve öğretimin, ilmin, dini nasihatların yapıldığı, küçük odacıklardan oluşan, kimsesizlerin ve yetim müslümanların barındığı ve yatılı olarak kaldıkları yere ne denir?
- A) Sahabe B) Sefer
C) Savaş D) Suffe
9. Peygamberimiz 8 Haziran 632 yılında Medine de vefat etmiştir. Peygamberimizin mezarının (Kabrinin) bulunduğu alana denir. Dilimiz Türkçede ki karşılığı "Tertemiz Gül Bahçesi" anlamındaki bu kavram aşağıdakilerden hangisidir?
- A) Ravza-ı Mutahhara B) Anıt Kabir
C) Mezarı Veli D) Mevlana Türbesi
10. Salavat (salli ve barik) dualarında peygamberimiz (s.a.v.) birlikte onun ailesine de dua edilmektedir. Peygamberimizin ailesine "Ev Halkına" denilmektedir. Bu kavram aşağıdakilerden hangisidir?
- A) Sahabe B) Ehl-i Beyt
C) El –Emin D) Salavat

TÜRKÇE CEVAP ANAHTARI

1	C	6	D	11	C
2	D	7	A	12	A
3	B	8	B	13	C
4	A	9	C	14	C
5	B	10	D	15	D

SOSYAL BİLGİLER CEVAP ANAHTARI

1	C	6	D	11	D
2	C	7	B	12	D
3	B	8	C	13	D
4	A	9	B	14	D
5	D	10	B	15	A

MATEMATİK CEVAP ANAHTARI

1	D	6	C	11	B
2	D	7	C	12	B
3	A	8	B	13	D
4	B	9	C	14	A
5	B	10	D	15	D

FEN BİLİMLERİ CEVAP ANAHTARI

1	B	6	B	11	D
2	D	7	C	12	B
3	C	8	B	13	C
4	A	9	B	14	C
5	C	10	A	15	A

DİN KÜLTÜRÜ VE AHLAK BİLGİSİ CEVAP ANAHTARI

1	B	6	B		
2	D	7	C		
3	A	8	D		
4	C	9	A		
5	A	10	B		

İNGİLİZCE CEVAP ANAHTARI

1	C	6	B		
2	C	7	B		
3	D	8	C		
4	B	9	C		
5	C	10	D		

MANİLER

Bayram neşe günüdür,
Müminin sevincidir,
Bugün sevinmek artık,
Orucun ürünüdür.

Komşular bayramlaşır,
Çoluk çocuk dolaşır,
Şeker toplar evlerden,
Kimileri şakalaşır.

Görülür sevgi seli,
Kokar bahçenin gülü,
Bayram günü gelince,
Öpülür büyük eli.

Hep tatlı konuşmalı,
Fakirle tanışmalı,
Tereddüt edilince,
Bilene danışmalı.

Bayram mübarek olsun,
Herkes huzuru bulsun,
Barışsın küs olanlar,
Hoca neşeyle dolsun!

