



# ADİYAMAN İL MİLLÎ EĞİTİM MÜDÜRLÜĞÜ

## KAZANIM PEKİŞTİRME ÇALIŞMASI

LIFE FITS INTO HOME

HAYAT EVE SIĞAR



2. SINIF  
25-29 MAYIS

6.  
SAYI

## **BU KİTAPÇIKTA**

TÜRKÇE	15 SORU
MATEMATİK	15 SORU
HAYAT BİLGİSİ	15 SORU
İNGİLİZCE	10 SORU

Yer almaktadır.

Not: Cevap anahtarı soruların yayımlandığı günden sonraki Salı günü <http://adiyaman.meb.gov.tr/> duyurular sekmesinde açıklanacaktır.

Bu çalışmada yer alan Borsa İstanbul ilkokulu, Cumhuriyet İlkokulu, Mehmetçik İlkokulu, Menderes İlkokulu idareci ve öğretmenlerine teşekkürler...

ADİYAMAN MEM

2020

## 2. SINIF KAZANIM PEKİŞTİRME TESTİ

### TÜRKÇE DERSİ

#### KELOĞLAN VE SİHİRLİ TAŞ



Günlerden bir gün Keloğlan annesinden izin alıp balık tutmaya gitmiş. “Belki bir kaç balık yakalarım. Anacığım ile pişirir, yeriz. Aç karnımızı doyururuz” diye düşünüyormuş. Irmağın kenarına gelip oltasını salmış. Öğleye doğru kocaman bir balık tutmuş. Pulları gümüş gibi parlak, gözleri cam gibi aydınlık, güzel mi güzel bir balıkmış bu...

**1,2,3 ve 4. soruları yukarıdaki metne göre cevaplandırınız.**

**1. Keloğlan, balık tutmak için kimden izin almış?**

A) Babasından

B) Annesinden

C) Ninesinden

**2. Keloğlan , aklından ne geçiriyormuş?**

A) Nehirde yüzmek istiyormuş.

B) Arkadaşlarıyla piknik yapmak istiyormuş.

C) Balık tutup karnını doyurmayı düşünüyormuş.

**3. Keloğlan ne zaman balık tutmuş?**

A) Öğleye doğru

B) Akşam üstü

C) Sabah erken


**4. Balığın gözleri nasılmış?**

A) Alev gibi kırmızıymış.

B) Cam gibi aydınlıkmış.

C) Deniz gibi maviymiş.

5. Yandaki görselin zıt anlamlısı olan kelime hangisidir?



A) Sağ

B) Yukarı

C) Aşağı

6. "Ninemin anlattığı öykü muhteşemdi."

Yukarıda altı çizili kelimenin yerine aşağıdaki kelimelerden hangisini koyarsak cümlemin anlamı değişmez?

A) Hikaye

B) Masal

C) Roman

7.	ilk	özel	harfi	yazılır	isimlerin	büyük
----	-----	------	-------	---------	-----------	-------

Yukarıdaki karışık olarak verilen kelimelerle anlamlı ve kurallı bir cümle oluşturulduğunda doğru diziliş nasıl olmalıdır?

A) Büyük yazılır özel isimlerin ilk harfi.

B) İsimlerin özel yazılır ilk harfi büyük.

C) Özel isimlerin ilk harfi büyük yazılır.

8.

söz- cük	tam- irci	o- kulumuz
-------------	--------------	---------------

Yukarıda verilen satır sonuna sığmayan kelimelerden doğru yazılanların altına gülen yüz yanlış olanların altına üzülen yüz ifadeleri eklendiğinde doğru sıralama nasıl olmalıdır?

A)



B)



C)

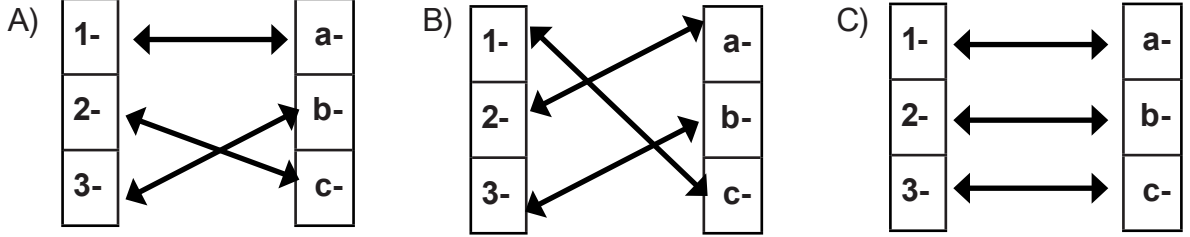


9..

1-	öfke
2-	gıda
3-	şort

a-	Canlıların beslenebilmeleri için gerekli besin maddeleri
b-	Yaz mevsiminde giyilen kısa pantolon
c-	Çeşitli sebeplerden kaynaklanan kızgınlık

Yukarıdaki kelimeler ile anlamları eşleştirildiğinde aşağıdaki şekillerden hangisi oluşur?



10. "Ben ben her gün iki saat iki saat çizgi film izlerim. Ondan sonra da ondan sonra da uykum geldiği için yatarım."

**Yukarıda konuşan öğrencinin konuşmasında görülen bozukluk aşağıdakilerden hangisidir?**

- A) Dinleyenle göz teması kurmaması
- B) Kelimeleri anlamlarına uygun kullanmaması
- C) Konuşurken bazı kelimeleri ve sesleri tekrarlaması

11. " Annem gece yatarken .....okudu."

**Yukarıdaki cümle aşağıdakilerden hangisiyle tamamlanamaz?**

- A) hikaye
- B) oyuncak
- C) kitap

12. Atatürk, çocuklardan Belkıs( ) ı kucağına aldı( ) Belkıs ise ilgisini Atatürk'ün yanında getirdiği köpeğine yöneltmişti. Atatürk:

- Beni mi seviyorsun, yoksa köpeği mi ( )

**Paragrafta ( ) ile belirtilen yerlere sırasıyla hangi noktalama işaretleri konmalıdır?**

- A) ( , ) ( , ) ( . )
- B) ( ' ) ( , ) ( . )
- C) ( ' ) ( . ) ( ? )

13. Öğrencilerden hangisi noktanın (.) kullanılışında hata yapmıştır?

A)



B)



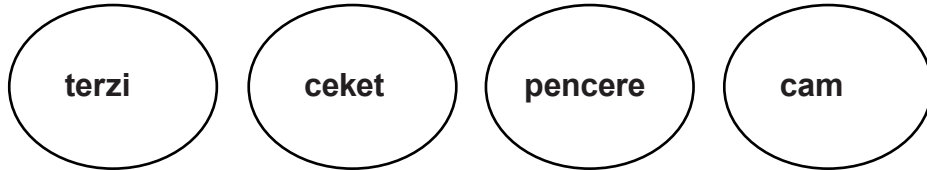
C)



14. Aşağıdaki tümcelerin hangisinde yazım yanlışı yapılmıştır?

- A) İstanbul'a trenle gideceğiz.
- B) Okullar Haziran'da kapanacak.
- C) Mert, Çocuk Kalbi adlı kitabı okumuş.

15.



Yukarıdaki sözcükleri sözlük sırasına göre dizdiğimizde hangisi en sonda yer alır?


- A) terzi
- B) ceket
- C) pencere

## 2. SINIF KAZANIM PEKİŞTİRME TESTİ

### MATEMATİK

1. Resimlerdeki nesnelerden hangisinin belirtilen uzunluğu tahminen 2 parmaktır ?


A)



B)



C)



2.



Koray Nihat

Resme göre Nihat'ın boyu Koray'ın boyundan ne kadar uzundur?

A) 1 karış, 2 parmak

B) 2 karış, 2 parmak

C) 2 karış

3. Aşağıdaki uzunluk ölçülerinden hangisinin değeri en küçüktür?

A) 11 parmak

B) 10 karış

C) 9 adım

4.

Yandaki kitabın uzunluğunu, standart olmayan ölçü birimlerinden hangisi ile ölçebiliriz?



A) Karış ve parmakla

B) adım

C) kulaç

5.



Şekildeki çocuğun bir kulacı 8 karış geldiğine göre;  
3 kulacı kaç karış gelir ?

A) 16

B) 20

C) 24

6. Sınıfımızın uzunluğu 16 adım, genişliği ise uzunluğundan 2 adım eksiktir.

**Sınıfımızın genişliği ile uzunluğunun toplamı kaç adımdır?**

A) 34

B) 30

C) 18

7. Aşağıdaki ifadelerden hangisi doğrudur ?

A) Standart olmayan ölçümler herkeste aynı sonucu verir.

B) Karış-kulaç-ayak-adım-parmak standart olmayan ölçümlerdir .

C) En küçük standart olmayan ölçüm kulaçtır.

8.



Yandaki dikdörtgenin uzun kenarının boyu kürdan ve ataş kullanılarak ölçülüyor.

**Ölçüm sonucu aşağıdakilerden hangisidir?**

A) Dikdörtgenin boyu 4 kürdan 1 ataştır.

B) Dikdörtgenin boyu 3 kürdan 7 ataştır.

C) Dikdörtgenin boyu 3 kürdan 2 ataştır.



9.



Görseldeki öğrenci, standart olmayan ölçme birimleriyle masasının boyunu ölçmüştür. Ölçme sonucunda;  
**-Masanın boyu, 7 ..... 4..... geldi.** demiştir.

**Bu sözü tamamlayan terimler, hangi seçenekte doğru verilmiştir?**

A) adım - ayak

B) kulaç - karış

C) karış – parmak

10.



**Bir adımım 3 karış gelmektedir. 5 adım gittiğimde kaç karış gitmiş olurum?**

A) 8

B) 10

C) 15

11.



Zeynep arkadaşlarıyla oyun oynamak için saat 14:30'da parka gitmiştir. Parkta bir buçuk saat kaldıktan sonra eve dönmüştür.

**Buna göre; Zeynep saat kaçta eve dönmüştür?**

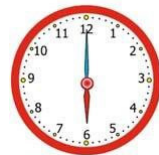
A)



B)



C)



Tablo : Sınıf Kitaplığındaki Kitaplar	
Kitap Türleri	Kitap Sayısı
Hikaye	III III III III III
Şiir	III II
Boyama	III III III I
Fıkra	III II

Yukarıdaki çetele tablosu bir sınıf kitaplığında yer alan kitap türlerini ve sayılarını göstermektedir.

12. 13. ve 14. Soruları verilen tabloya göre cevaplayınız.

12.Sınıf kitaplığında kaç kitap vardır?


- A) 54 B) 24 C) 4

13.Hikaye ve şiir kitaplarının sayısının eşit olabilmesi için sınıf kitaplığına kaç şiir kitabı daha alınmalıdır ?

- A) 16 B) 17 C) 18

14.Hikaye kitapları ile şiir kitaplarının toplam sayısı boyama kitaplarının sayısından kaç fazladır?

- A) 13 B) 14 C) 15

15.  Alinin Kumbaradan 3 tane 20 TL,1 tane 10 TL ve 2 tane 5 TL çıkmıştır. Ali, kumbarasından çıkan paralarla doğum günü için 45 TL'ye pasta alıyordur.

Ali'nin geriye kaç TL'si kalmıştır?

Ali

- A)  
- B)  
- C)   

## 2. SINIF KAZANIM PEKİŞTİRME TESTİ

### HAYAT BİLGİSİ

1. Aşağıdaki görsellerden hangisi geri dönüşümü anlatır?

A)



B)



C)



2. Aşağıdakilerden hangisini yandaki atık kutusuna atmamız yanlış olur?

A) Cam kavanoz

B) Naylon poşet

C) Pet şişe



3. Aşağıdaki atıklardan hangisi çevreyi kalıcı olarak kirletir?

A) Meyve kabukları

B) Ağaç yaprakları

C) Pet şişeler

4. Maddelerin geri dönüşümü neden önemlidir?

A) Sevdiğimiz maddeleri saklamak için

B) Doğayı korumak için

C) İnsanların çok yaşaması için

5. Kağıttan yapılmış maddeleri geri dönüşüm kutusuna atarak ..... korumuş oluruz.

**Yukarıdaki boş bırakılan yere aşağıdakilerden hangisi yazılmalıdır?**

A) Hayvanları

B) İnsanları

C) Ormanları

6. Aşağıdaki ifadelerden hangisi geri dönüşümün faydalarından değildir ?

- A) Ülke ekonomisine katkı sağlar.
- B) Çevre kirliliğine engel olur.
- C) Doğal kaynakların yok olmasına sebep olur.

7. Bazı atıkların işlenerek yeniden değerlendirilmesine ..... denir.

**Yukarıdaki boşluğa hangi kelime gelmelidir?**

- A) Doğal kaynak
- B) Ham madde
- C) Geri dönüşüm

8. Atık pillerin çevreye rastgele atılması sonucunda aşağıdakilerden hangisi meydana gelir?

- A) Işık kirliliği
- B) Toprak kirliliği
- C) Hava kirliliği

9. **Sinan:** Cam şişelerini geri dönüşüm kutularına atmamız.

**Nursel:** Kızartma yağlarını lavaboya dökmeliyiz.

**Ahmet:** Atık pilleri pil kutusunda toplamamız.

**Yukarıdaki öğrencilerden hangisi hatalı bir ifade kullanmıştır?**

- A) Sinan
- B) Ahmet
- C) Nursel

10.



**Yukarıdaki sloganın amacı aşağıdakilerden hangisi olabilir?**

- A) Geri dönüştürülebilir maddeleri kendi atık kutusuna atmak
- B) Atıkları ve çöpleri çöp kutusuna atmak
- C) Çevremizi kirletmek

11.



**Yukarıdaki görselde gerçekleşen olay sonucu ortaya çıkan atık maddelerle ilgili aşağıdakilerden hangisi yapılmalıdır?**

- A) Atıklar geri dönüşüm kutusuna atılmalıdır.
- B) Atıklar toprağa gömülmelidir.
- C) Atıklar suya atılmalıdır.

**12. Atıkları çöplere karışık olarak atarsak aşağıdakilerden hangisi olur?**

- A) Ülke ekonomisi gelişir.
- B) Değerlendirilebilecek atıklar diğerleriyle karışır ve tekrar değerlendirilemez.
- C) Çöpler bizi rahatsız etmez.

**13. Aşağıdakilerden hangisi çevre sorunlarından biri değildir?**

- A) Hava kirliliği
- B) Ormanların yok edilmesi
- C) İnsanların düzensiz beslenmesi

**14. Aşağıdaki davranışlardan hangisi insanın doğaya verdiği zararlardan değildir?**

- A) Fabrika atıklarının denize bırakılması
- B) Ormanların yok edilmesi
- C) Çevrenin ağaçlandırılması

**15. Geri dönüşümü yapılmazsa metal, kağıt, plastik ve cam atıklar çöp alanlarında birikir.**

Bu durum ..... artmasına neden olur.

**Yukarıdaki boşluğa hangi kelime gelmelidir?**

- A) Gürültünün
- B) Işık kirliliğinin
- C) Çevre kirliliğinin

## 2. SINIF KAZANIM PEKİŞTİRME TESTİ

### İNGİLİZCE

1.




Görsele uygun gelen ifade aşağıdakilerden hangisidir?

A) Snake

B) Cock

C) Rabbit

2. Görsele uygun gelen ifade aşağıdakilerden hangisidir?



A) Turtle

B) Fish

C) Hamster

3.



Görsele uygun gelen ifade aşağıdakilerden hangisidir?

A) Fish

B) Bird

C) Turtle

4. Görsele uygun gelen ifade aşağıdakilerden hangisidir?

A) Parrot

B) Cat

C) Sheep



5.



Görsele uygun gelen ifade aşağıdakilerden hangisidir?

A) Frog

B) Cat

C) Bird



6. Görsele uygun gelen ifade aşağıdakilerden hangisidir?



A) Rabbit

B) Turtle

C) Dog

7. Where is the dog?

Görsele göre sorunun cevabı hangisidir?

A) The dog is under the box.

B) The dog is in the box.

C) The dog is on the box.



8.



Görsele uygun gelen ifade aşağıdakilerden hangisidir?

A) Rabbit

B) Fish


C) Turtle

9. Görsele uygun gelen ifade aşağıdakilerden hangisidir?

A) Dog

B) Cat

C) Fish



10.



Görsele uygun gelen ifade aşağıdakilerden hangisidir?

A) Dog

B) Cat

C) Bird

## 2. SINIF 6. HAFTA CEVAP ANAHTARI

S.N	TÜRKÇE	MATEMATİK	HAYAT BİLGİSİ	İNGİLİZCE
1.	B	A	A	B
2.	C	C	A	C
3.	A	A	C	C
4.	B	A	B	A
5.	B	C	C	C
6.	A	B	C	A
7.	C	B	C	C
8.	A	C	B	B
9.	B	C	C	B
10.	C	C	A	A
11.	B	A	A	
12.	C	A	B	
13.	B	B	C	
14.	B	C	C	
15.	A	C	C	



## MANİLER

Bayram neşe günüdür,  
Müminin sevincidir,  
Bugün sevinmek artık,  
Orucun ürünüdür.

Komşular bayramlaşır,  
Çoluk çocuk dolaşır,  
Şeker toplar evlerden,  
Kimileri şakalaşır.

Görülür sevgi seli,  
Kokar bahçenin gülü,  
Bayram günü gelince,  
Öpülür büyük eli.

Hep tatlı konuşmalı,  
Fakirle tanışmalı,  
Tereddüt edilince,  
Bilene danışmalı.

Bayram mübarek olsun,  
Herkes huzuru bulsun,  
Barışsın küs olanlar,  
Hoca neşeyle dolsun!

