

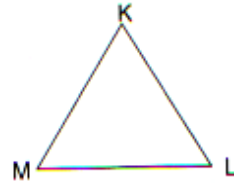

★☆☆ Aşağıdaki geometrik şekilleri örneklerden yararlanarak üç farklı şekilde isimlendiriniz.



ABC üçgeni → \widehat{ABC}
BCA üçgeni → \widehat{BCA}
CAB üçgeni → \widehat{CAB}



ABCD karesi
BCDA karesi
DABC karesi



.....
.....
.....

.....
.....
.....

.....
.....
.....

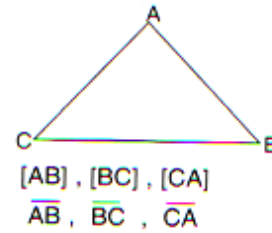


.....
.....
.....

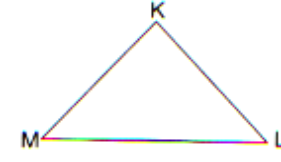
.....
.....
.....

.....
.....
.....

★☆☆ Aşağıdaki geometrik şekillerin kenarlarını örnekteki gibi iki farklı şekilde sembolle gösteriniz.



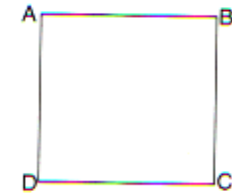
[AB], [BC], [CA]
 \overline{AB} , \overline{BC} , \overline{CA}



.....
.....




.....
.....



.....
.....

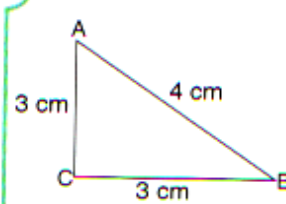


.....
.....



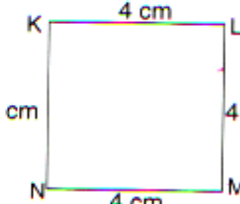
.....
.....

★☆☆ Aşağıdaki geometrik şekillerin kenar uzunluklarını örnekteki gibi sembol kullanarak yazınız.




|AB| = 4 cm |BC| = 3 cm
|CA| = 3 cm

.....
.....



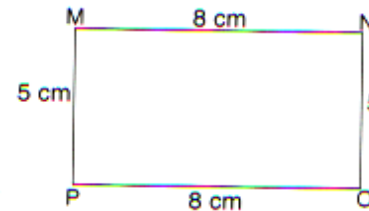
.....
.....



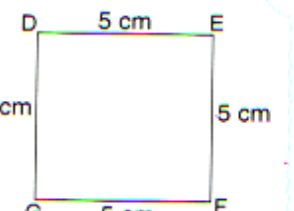
.....
.....



.....
.....

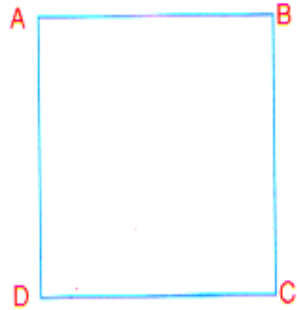


.....
.....

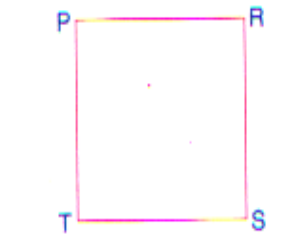


.....
.....

★☆☆ Aşağıdaki karenin kenar uzunluklarını ölçüp yazınız. Cümlelerdeki boşlukları uygun sembollerle tamamlayınız.




- ✓ Karenin adı: karesidir.
- ✓ Karenin kenarları: [AB],
- ✓ Karenin kenar uzunlukları: |AB| = 4 cm,
- ✓ Açı Ölçüleri: $s(\hat{A}) = 90^\circ$,




- ✓ Karenin adı: karesidir.
- ✓ Karenin kenarları:
- ✓ Karenin kenar uzunlukları:
- ✓ Açı Ölçüleri:

★☆☆ Aşağıdaki dikdörtgenin kenar uzunluklarını ölçüp yazınız. Cümlelerdeki boşlukları uygun sembollerle tamamlayınız.



- ✓ Dikdörtgenin adı:
- ✓ Dikdörtgenin kenarları:
- ✓ Dikdörtgenin kenar uzunlukları:
- ✓ Açı Ölçüleri:



- ✓ Dikdörtgenin adı:
- ✓ Dikdörtgenin kenarları:
- ✓ Dikdörtgenin kenar uzunlukları:
- ✓ Açı Ölçüleri:

★☆☆ Aşağıda kenarları ve kenar uzunlukları verilen kareleri yandaki boşluğa çiziniz.

- ✓ Karenin kenarları: [KL], [LM], [MN], [NK]
- ✓ Kenar uzunlukları: |KLI| = 2 cm, |LMI| = 2 cm, |MNI| = 2 cm, |INKI| = 2 cm

- ✓ Karenin kenarları: [PR], [RS], [ST], [TP]
- ✓ Kenar uzunlukları: |PRI| = 6 cm, |IRSI| = 6 cm, |ISTI| = 6 cm, |ITPI| = 6 cm

★☆☆ Aşağıda kenarları ve kenar uzunlukları verilen dikdörtgenleri çiziniz.

- ✓ Dikdörtgenin kenarları: [AB], [BC], [CD], [DA]
- ✓ Dikdörtgenin kenar uzunlukları: |ABI| = 2 cm, |BCI| = 4 cm, |CDI| = 2 cm, |DAI| = 4 cm

- ✓ Dikdörtgenin kenarları: [DE], [EF], [FG], [GD]
- ✓ Dikdörtgenin kenar uzunlukları: |DEI| = 3 cm, |IEFI| = 6 cm, |IFGI| = 3 cm, |IGDI| = 6 cm