






7. SINIFLAR SENE BAŞI SEVİYE TESPİT SINAVI

1) Aşağıdaki cümlelerden hangisi bir olgu cümlesi değildir?

- a)  Yaban, Yakup Kadri Karaosmanoğlu tarafından yazılmıştır.
- b)  Yaban'ın ilk baskısı 1932 yılında yapılmıştır.
- c)  Yaban'ın Kurtuluş Savaşı dönemine geçmektedir.
- d)  Yaban'ın dili son derece akıcı ve sürükleyicidir.

2) Telif hakkı, herhangi bir bilgi veya düşünce ürününün kullanılması ve yayılması ile ilgili hakların, yasalarla belirli kişilere verilmesidir. Kısaca, orijinal bir eserin kopyalanmasına ve kullanılmasına izin verme hakkıdır. Telif hakkı, genellikle belirli bir süre için geçerlidir. Aşağıdaki simgelerden hangisi telif hakkını simgeler?



Yeni Zelanda: 1893
Avustralya: 1902
Almanya: 1919
ABD: 1920

Türkiye: 1934
Fransa: 1945
Japonya: 1950
İtalya: 1945
İsviçre: 1971

3) Yukarıdaki tablodan çıkarılabilecek temel yargı aşağıdakilerden hangisidir?

- a) Türkiye, kadına seçme seçilme hakkı pek çok gelişmiş ülkeden önce vermiştir.
- b) Kadın haklarının en gelişmiş olduğu ülke Fransa'dır.
- c) Yeni Zelanda'dan önce kadınlara hiçbir hak verilmemiştir.
- d) Kadınlara sadece siyasi haklar verilmiştir.

4)

Veda Hutbesi

• İnsanların canları, malları ve ırzları kutsaldır.

İnsan Hakları Evrensel Bildirgesi

• Yaşamak ve kişi güvenliği herkesin hakkıdır.

Yukarıdaki uluslararası sözleşmelerle güvence altına alınan temel hak aşağıdakilerden hangisidir?

- a) Din ve Vicdan Özgürlüğü
- b) Eğitim Hakkı
- c) Yaşama Hakkı
- d) Yerleşme ve Seyahat Özgürlüğü

5) Aşağıdakilerden hangisi Atatürk'in ülkemizde Sosyal Bilimlerin gelişmesi için kurduğu kurumlardan birisi değildir?

- a) Türk Dil Kurumu
- b) Türk Tarih Kurumu
- c) Dil Tarih Coğrafya Fakültesi
- d) TRT

6) Haritalardaki küçültme oranına "ölçek" denir. Ölçek, bir yerin harita üzerindeki uzunluğunun gerçek uzunluğa oranını gösterir. Ölçeği değişen haritalarda değişiklikler olur. Ölçeği küçülen haritalar için aşağıdakilerden hangisi yanlıştır?

- a) Gösterdiği alan genişler.
- b) Ayrıntıyı gösterme gücü azalır.
- c) Ölçek paydası küçülür.
- d) Haritada iki merkez arasındaki uzaklık azalır.

7)

ÇÖL İKLİMİ:

Çöllerde yağış çok azdır. Bazı yıllarda hiç yağış görülmez. Tarım ve diğer ekonomik faaliyetler yapılamaz. Ancak taban suyunun yüksek olduğu vahalarda yerleşim alanları vardır.

Yukarıda verilen bilgilere aşağıdakilerden hangisi söylenemez?

- a) Göçebe bir yaşam tarzı vardır.
- b) Tarım faaliyeti yaparlar.
- c) Çadırlarda yaşarlar.
- d) Güneşten korunmak için tek parça beyaz elbise giyerler.

8)Aşağıdakilerden hangisi Mezopotamya uygarlıklarından birisi değildir?

- a)İyonlar
- b) Sümerler
- c) Babilliler
- d) Asurlular

9)

Konya'nın Çumra ilçesi yakınlarındadır. Günümüzden 9000 yıl önce kurulmuştur. Dünyanın en eski yerleşim yerlerinden biridir. İlk ev mimarisi ve kutsal yapıları ile Tarih öncesi döneme ışık tutan önemli bir merkezdir. Dünyada yemek kültürünün ilk başladığı, ateşin kullanıldığı, tarımın yapıldığı ve yerleşik yaşama geçildiği merkez olarak tanınır. Bu köylerdeki evler tarlalara yakın, birbirine bitişik üstten, üstten girişli kerpiç evlerdi. Bunun nedeni vahşi hayvan saldırılarından korunmaktı. Sosyal yaşam damlarında geçiyordu.

Yukarıda hakkında bilgi verilen şehir aşağıdakilerden hangisidir?

- a) Çatalhöyük
- b) Truva
- c) Alacahöyük
- d) Karain

10) Aşağıdakilerden hangisi Orta Asya coğrafi koşullarının Türklerin yaşamına etkisine örnek verilemez?

- a) Savaşçı bir yapıya sahip olmaları
- b) Göçebe bir yaşam sürmeleri
- c)Yerleşik yaşama geçmeleri
- d)Hayvancılıkla geçinmeleri

11)



Lidyalılar, takas usulüne son vererek parayı icat etmişlerdir.

I-



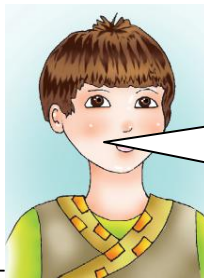
Frigler, Tapates adı verilen ünlü halı ve kilimleri dokumuşlardır.

II-



Urartular, bakır, demir, altın ve gümüşten eşyalar işlemişlerdir.

III-



Hititler sulama kanalları yapmışlardır.

IV-

Yukarıda İlkçağ Anadolu uygarlıklarından ekonomik faaliyetlerinden hangisine yer verilmemiştir?

- a) Hayvancılık
- b) Tarım
- c) Madencilik
- d) Mimari

12)

| | | |
|-------------|---|--|
| H. Ebubekir | → | Kuranı Kerim kitap haline getirildi. |
| H. Ömer | → | Devlet teşkilatı oluşturuldu. |
| H. Osman | → | Kuranı Kerim çoğaltıldı. |
| H. Ali | → | İslamiyet ilk kez Arabistan dışında yayıldı. |

Hangi halife ile ilgili bir bilgi yanlışlığı yapılmıştır?

- a) H. Ebubekir
- b) H. Ömer
- c) H. Osman
- d) H. Ali

13)

| | |
|-----------------------|--|
| <input type="radio"/> | İlk Türkçe sözlüktür. |
| <input type="radio"/> | Kaşgarlı Mahmut yazmıştır. |
| <input type="radio"/> | Karahanlılar dönemine aittir. |
| <input type="radio"/> | Türkçe'nin Arapça'dan üstün olduğunu göstermek için yazılmıştır. |

Yukarıda özellikleri verilen eser aşağıdakilerden hangisidir?

- a) Divan-ı Lügatit Türk
- b) Muhakmetül Lügatayn
- c) Kutadgu Bilig
- d) Siyasetname

14) Aşağıdakilerden hangisi ilk Türk İslam devletlerinden birisi değildir?

- a) Gazneli b) Karahanlı
c) Büyük Selçuklu d) Kök Türk

| Enerji Kaynakları | |
|---------------------------------|------------------------------------|
| Yenilenebilir Enerji Kaynakları | Yenilenemez Enerji Kaynakları |
| ? | *Doğalgaz *Petrol *Taşkömürü |

15) Yukarıdaki tabloda ? yere aşağıdakilerden hangisi yazılamaz?

- a) Su b) Rüzgar
c) Linyit d) Güneş

16) Ülkemizin kaynaklarıyla ekonomik faaliyetlerini arasında doğrudan bir ilişki vardır. Buna kâğıt, mobilya, kereste fabrikalarının hangi bölgemizde yoğun olması beklenir?

- a) Güneydoğu Anadolu Bölgesi
b) Karadeniz Bölgesi
c) Marmara Bölgesi
d) İç Anadolu Bölgesi

“Türkiye’nin devlet siyaseti, millî sınırları içinde, egemenliğe dayanarak bağımsız yaşamaktır. Hareket kuralımız budur!”

17) Atatürk’ün yukarıdaki sözüyle dış politikadaki temel ilkelerinden hangisi vurgulanmıştır?

- a) Yurtta Barış Dünyada Barış
b) Tam Bağımsızlık
c) Komşularla İşbirliği
d) Karşılıklılık

18)



Bu yönetim şeklinde yönetim tek kişide toplanmıştır. Bu kişi padişah, kral, hükümdar, imparator gibi isimlerle adlandırılmıştır. Yasa koyma, yargılama, vergi toplama, savaşa ve barışa karar verme yetkisine sahiptir. Yüzyıllar boyunca en yaygın yönetim biçimi olarak uygulanmıştır.

Yukarıda bilgi verilen yönetim şekli aşağıdakilerden hangisidir?

- a) Teokrasi b) Cumhuriyet
c) Monarşi d) Oligarşi


19)



? olan yere aşağıdakilerden hangisi yazılmalıdır?

- a) Anayasal Haklarımız
b) Ekonomik Hak ve Özgürlüklerimiz
c) Vatandaşlık Hak ve Sorumluklarımız
d) Demokrasinin Temel İlkeleri

20) Aşağıdaki çocuklardan hangisinin söylediği Türki Cumhuriyetlerden biri değildir?



| 7. SINIFLAR SENE BAŞI SEVİYE TESPİT SINAVI CEVAP ANAHTARI | | | |
|--|---|----|---|
| 1 | D | 11 | B |
| 2 | B | 12 | D |
| 3 | A | 13 | A |
| 4 | C | 14 | D |
| 5 | D | 15 | C |
| 6 | C | 16 | B |
| 7 | B | 17 | B |
| 8 | A | 18 | C |
| 9 | A | 19 | D |
| 10 | C | 20 | A |

**TEST BİTMİŞTİR. CEVAPLARINIZI KONTROL
EDİNİZ.**