

6. SINIFLAR SENE BAŞI SEVİYE TESPİT SINAVI

1)Görüşleri, amaçları, çıkarları bir olan kişiler bütününe “grup” denir.

Buna göre aşağıdakilerden hangisi grup değildir?

a)



b)



c)



d)



2) Dünya Çocuk Hakları Sözleşmesi'ne göre her insan kaç yaşına kadar çocuktur?

a) 18

b) 20

c)16

d)15

3)



Yukarıdaki tur otobüsü Marmara Bölgesi'nde bir tura çıkacaktır. Buna göre otobüs rotasındaki aşağıdaki yerlerden hangisi olamaz?

a) Selimiye

b) Topkapı

Camii

Sarayı

c) Hasankeyf

d) Uludağ

4)

Mustafa Kemal, tüm yurda yayılan okuma yazma seferberliğine bizzat katılmış, yurt içi gezilerde halka yeni harfleri tanıtmıştır. Tüm bu çabaları nedeniyle Mustafa Kemal'e 24 Kasım 1928'de Millet Mekteplerinin "Başöğretmeni" unvanı verilmiştir.

Yukarıda verilen bilgiler Mustafa Kemal'in hangi özelliğini yansıtır?

a) Sanata değer vermesi

b) Eğitime önem vermesi

c) Siyasi yönü

d) Askeri dehası

5)

Halk Oyunu	Yöresi	Özelliği
ÇAYDAÇI RA	Elazığ	Her iki elde mumlu bir tabakla yürütülen zarif bir gösteridir.
HALAY	Bitlis	Birçok yörede de rastlanan ve figürleriyle ağır bir oyundur.
HORON	Karadeniz	Ele ele tutuşarak kemeçe eşliğinde oynanır. Baştan ayağa dalgalanma figürleri ile fırtınalı Karadeniz'in zorlu yaşamını yansıtır.
HORA	?	Elele tutuşarak oynanır. Davul zurna eşlik eder. Oyunun en önemli özelliği sık sık yinelenen yere ayak vurma figürüdür.

Yukarıdaki tabloda ? olan yere aşağıdakilerden hangisi yazılmalıdır?

- a) Erzurum b) Edirne
c) Kayseri d) Diyarbakır

6)



Yukarıda Cumhuriyet öncesi kullanılan okka ve hicri takvim ile Cumhuriyet sonrası kullanılan kilogram ve miladi takvim görülmektedir. Yukarıdaki değişikliklerin temel nedeni aşağıdakilerden hangisidir?

- a) Çağdaşlaşmak
b) Gelenekselleşmek
c) Batıyı taklit etmek
d) Diğer ülkelerle ittifak yapmak

7) Fiziki haritalarda dağlar ve sıradağlar kahverengi ile gösterilir. Buna göre aşağıdaki bölgelerimizden hangisinin Türkiye Fiziki haritasında kahverengi tonları daha fazladır?

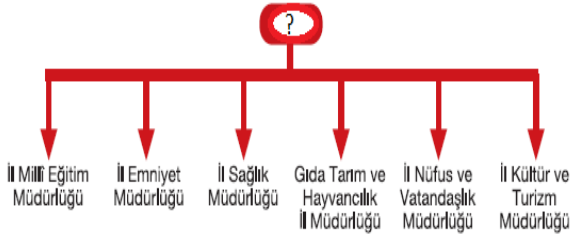
- a) Marmara Bölgesi
b) Akdeniz Bölgesi
c) Doğu Anadolu Bölgesi
d) Ege Bölgesi



8) Yukarıda görselleri yer alan Pamukkale ve Safranbolu Evlerinin ortak özelliği aşağıdakilerden hangisidir?

- a) Aynı bölgede bulunmaları
b) Doğal varlık olmaları
c) Tarihi nesne olmaları
d) "Dünya Ortak Miras Listesi"nde yer almaları

9)




Yukarıda ? olarak yere aşağıdakilerden hangisi yazılmalıdır?

- a) Belediye Başkanı
- b) Vali
- c) Muhtar
- d) Kaymakam

10)

- ◆ Her koşulda, yerde ve zamanda olursa olsun muhtaç ve korumasız insanlara yardım eden bir sivil toplum kuruluşudur.
- ◆ Deprem, sel vb. doğal afetlerde sıcak yemek dağıtma, çadır kurma vb. birçok yardım faaliyetini yerine getirir.

Yukarıda özellikleri verilen STK aşağıdakilerden hangisidir?



11) Aşağıda verilen bakanlıklardan hangisinin faaliyet alanı yanlış eşleştirilmiştir?

Bakanlık

Faaliyet alanı

a)



Çocuk yuvaları açmak

b)



Öğrencilerin eğitimi ile ilgilenmek

c)



Tarihi eserleri korumak

d)



Hastaneler açmak

12)



Yukarıdaki başlığın altına aşağıdakilerde hangisi yazılamaz?

- a) Tarafılık
- b) Sorgulayıcı olma
- c) Merak
- d) Çalışkanlık

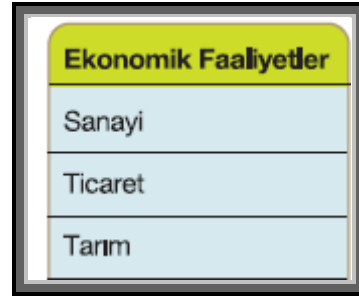
13) Aşağıdakilerden hangisi iklimin insan yaşamına etkisine örnek verilemez?

- a) İç Anadolu’da kışın yolların kapanması.
- b) Akdeniz Bölgesi’nde yazın ince elbise giyilmesi
- c) Doğu Anadolu’da maden zenginliğinin fazla olması.
- d) Karadeniz Bölgesi’nin bitki örtüsünün orman olması.

14) Atatürk’ün aşağıdaki sözlerinden hangisi onun bilim ve teknolojiye önem verdiğini kanıtlar?

- a)  *Ben sporcunun zeki, çevik ve ahlaklısını severim.*
- b)  *Dünyada her şey için; uygarlık için, başarı için en hakiki mürşit ilimdir; fendir.*
- c)  *Egemenlik kayıtsız şartsız milletindir.*
- d)  *Sanat altın bileziktir.*


15)



Aşağıdaki seçeneklerden hangisinde yukarıdaki ekonomik faaliyet dallarına uygun bir meslek yoktur?

- a) Öğretmen
- b) Tüccar
- c) İşçi
- d) Ziraat Mühendisi

16)



Yukarıdaki İç Anadolu Bölgesi’nde yetiştirilen ürünlerin Türkiye ekonomisi içindeki payları verilmiştir. Buna göre bölgede aşağıdaki sanayi dallarından hangisinin geliştiği söylenemez?

- a) Un fabrikası
- b) Şeker fabrikası
- c) Yünlü dokuma fabrikası
- d) Bitkisel yağ fabrikası

17)



Yukarıdaki verilenler insanların hangi doğal ortamı değiştirme ve ondan faydalanmasına örnek verilebilir?

- a) Hava
- b) Su
- c) Toprak
- d) Maden



18) Yukarıdaki bilgiye göre kerpiç evlere aşağıdaki şehirlerden hangisinde rastlanmaz?

- a) Şanlıurfa
- b) Sivas
- c) Antalya
- d) Kayseri

19) Aşağıdaki iklim tiplerinden hangisi ülkemizde görülmez?

- a) AKDENİZ
- b) KARADENİZ
- b) KARASAL
- d) MUSON

20) Aşağıdaki doğal faaliyetlerin ortaya çıkmasında insan etkisi yoktur?

- a) Deprem
- b) Sel
- c) Heyelan
- d) Erozyon

TEST BİTMİŞTİR.

CEVAPLARINIZI KONTROL EDİNİZ.

6. SINIFLAR SENE BAŞI SEVİYE TESPİT SINAVI CEVAP ANAHTARI			
1	D	11	C
2	A	12	A
3	C	13	C
4	B	14	B
5	B	15	A
6	A	16	D
7	C	17	B
8	D	18	C
9	B	19	D
10	D	20	A