

Adı Soyadı:


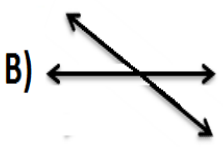
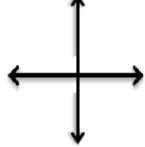


20 SORULUK DÜZLEM-DOĞRU TEST SINAVI

1) Aşağıdakilerden hangisi **doğruya** örnektir?

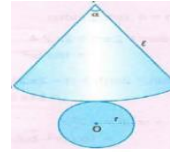
A)  B)  C) 

6) Aşağıdakilerden hangisi **kesişen** doğrulara örnektir?




A)  B)  C) 

2) Aşağıdaki hangi varlığın yüzeyi **düzdür**?

A)  B)  C) 



7) Yandaki **şekil** hangi **geometrik cismin** açılımıdır?

A)  B)  C) 






3) Yandaki resimde **hangi** **doğruya** örnek verilmiştir?

A) Paralel doğru B) Kesişen Doğru
C) Dik doğru

8) Aşağıdakilerden hangisi **eğik doğruya** örnektir?

A)  B)  C) 

4) Aşağıdakilerden hangisi **silindirin** açılımıdır?

A)  B)  C) 

9) Aşağıdaki harflerin hangisinde **kesişen doğru** yoktur?

A) **C** B) **V** C) **A**



5) Yandaki model için aşağıdakilerden hangisi **doğrudur**?

A) Bu bir ışın modelidir.
B) Her iki yöne doğru uzayabilir.
C) Uzunlukları bellidir.

10) Aşağıdaki rakamların hangisinde **dik** doğru vardır?

A) **2** B) **3** C) **4**

E, F, T

11) Yandaki harflerde **hangi doğru yoktur?**

- A) Parelel doğru B) Kesişen Doğru
C) Dik doğru



16) Yandaki saatteki **akrep ve yelkovan** **hangi doğruya** **örnektir?**

- A) Parelel doğru B) Kesişen Doğru
C) Dik doğru

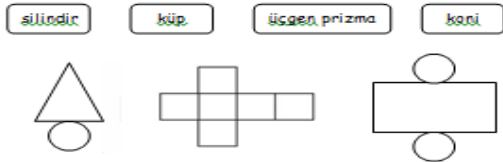
12) Aşağıdaki **hangi harfte paralel doğru yoktur?**

- A) **E** B) **F** C) **T**

13) Başlangıç noktası belli olan **bitiş noktası** **uzayıp giden doğrulara** **denir.**

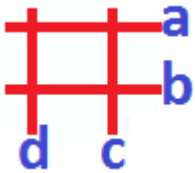
Yukarıdaki boşluğa **aşağıdakilerin hangisi** **gelmelidir?**

- A) Doğru parçası B) Işın C) Doğru



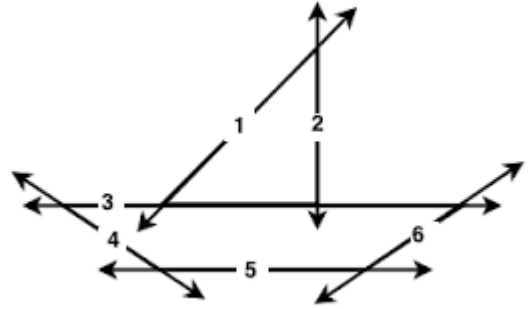
14) Yukarıdaki **geometrik cisimleri** **açılımları ile** **eşleştirdiğimizde** **hangisi boşta kalır?**

- A) Silindir B) Küp C) Üçgen Prizma



15) Yandaki **hangi doğrular birbirleri ile** **paraleldir?**

- A) a ile b B) b ile c C) a ile d



17. 18. 19. Ve 20. soruları bu şekle göre yapınız.

17) Yukarıdaki **hangi doğrular** **paralel doğrulardır?**

- A) 1 ve 2 B) 3 ve 4 C) 3 ve 5

18) Yukarıdaki **hangi doğrular** **kesişen doğrulardır?**

- A) 1 ve 2 B) 2 ve 3 C) 3 ve 5

19) Yukarıdaki **hangi doğrular** **dik doğrulardır?**

- A) 1 ve 2 B) 2 ve 3 C) 3 ve 5

20) Yukarıdaki **hangi ifade** **yanlıştır?**

- A) 4 ve 6 kesişen doğrulardır.
B) 2 ve 5 dik doğrulardır.
C) 3 ve 4 paralel doğrulardır.

Her soru 5 puandır.

Doğru Sayısı:		Yanlış Sayısı:		PUAN:	
İmza:					