

Adı – Soyadı :

GEOMETRİK CİSİMLER

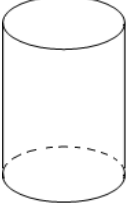
1)



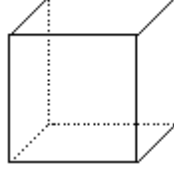
Biri eğri, diğer ikisi düz üç yüzüm var.

Yukarıda kendisini tanıtan geometrik şekil aşağıdakilerden hangisidir?

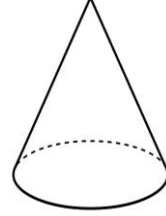
A)



B)



C)



2) Yüz sayısı en az olan geometrik cisim hangisidir?

A)



B)



C)



3) Aşağıdaki varlıklardan hangisinin köşesi vardır?

A)



B)



C)



4) “Dünya, top, misket, ve gibi cisimler küreye benzer.” Cümlesinde noktalı yere aşağıdaki görsellerin hangisinin adı yazılabilir?

A)



B)

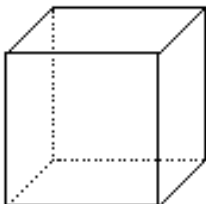


C)

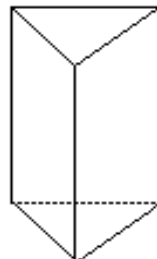


5) Aşağıdaki geometrik cisimlerden hangisinin ayrıt sayısı en azdır?


A)



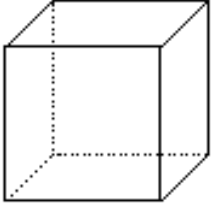
B)



C)



6)



8 köşem, birbirine eşit 6 yüzüm, 12 ayrıtım var.

Yukarıda kendisini tanıtan geometrik şeklin adı aşağıdakilerden hangisidir?

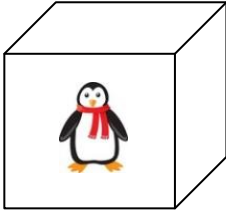
A) Silindir

B) Koni

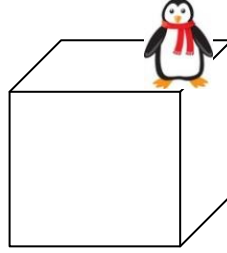
C) Küp

7) Penguen hangi seçenekte verilen şeklin kenarında bulunmaktadır?


A)



B)



C)



8)



Ben **küre** şeklindeyim.
Benim hiç ve yok.

Boşluklara hangi kelimeler gelmelidir?

A) Köşem ve yüzüm

B) Yüzüm ve ayrıtım

C) Köşem ve ayrıtım

9)



Yandaki dondurma külahı ile ilgili hangi bilgi **yanlıştır**?

A) Koniye benzemektedir.

B) İki yüzeyi vardır.

C) İki köşesi vardır.

10) Aşağıdaki varlıklardan hangisi **silindire** benzer?

A)



B)



C)

