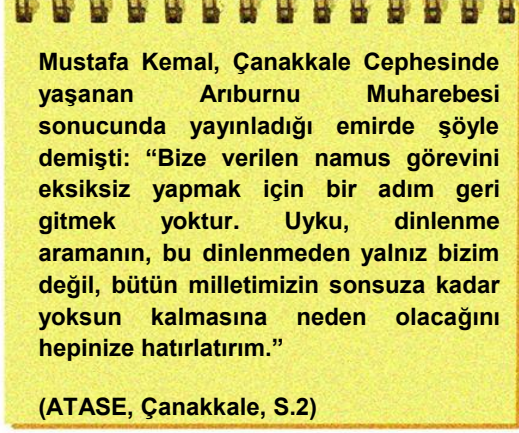


# T.C. İNKILÂP TARİHİ VE ATATÜRKÇÜLÜK-TEOG DENEMESİ-12

(4. Ünite/ “Kabotaj Kanunu” konusuna kadar konuları kapsar.)

1.



Mustafa Kemal yukarıdaki emri ile askerlerine neyin önemini vurgulamaktadır?

- A) Vatan için savaşmanın
- B) Ekonomik gücün
- C) Siyaset yeteneğinin
- D) Sağlığı korumanın

2.

Nisan 1909	31 Mart Olayı'nı bastıran Hareket Ordusu içinde yer aldı.
Aralık 1911	Trablusgarp'a gönüllü olarak gitti. İtalyanlara karşı yerli halkı örgütleyerek mücadele etti.
27 Ekim 1913	Sofya ateşmiliterliğine (askeri ateşe) atandı.
25 Nisan 1915	Çanakkale'de itilaf devletlerine karşı başarıyla mücadele etti.

Mustafa Kemal'in 1919'a kadar üstlendiği görevleri gösteren yukarıdaki tabloda hangi sorunun cevabı yoktur?

- A) Mustafa Kemal ilk askeri başarısını nerede kazanmıştır?
- B) Mustafa Kemal'in tarih sahnesinde görüldüğü ilk yer neresidir?
- C) Mustafa Kemal'in liderlik yeteneğinin en çok ön plana çıktığı yer neresidir?
- D) Mustafa Kemal, “mareşal” rütbesine ve “Gazi” unvanını kazandığı yer neresidir?

3. Mustafa Kemal, Sofya'da askeri ateşilik yaptığı dönemde;

- Üst düzey yetkililerin katıldığı yemekli toplantılarda Avrupalı devletleri temsilcileri ile görüşmüş,
- Bulgaristan'da kalan Türklerle yakın ilişki kurmuş ve Türklerin yaşadıkları yerleri ziyaret etmiş,
- Bulgar meclisinin toplantılarını takip etmiştir.

Bu faaliyetlerin ona katkıları arasında hangisi sayılamaz?

- A) Avrupalı yetkililerin Osmanlıyla ilgili fikirlerini öğrenme
- B) Askeri deneyim elde etme
- C) Türklerin durumunu yakında görme
- D) Diplomasi yeteneğini geliştirme

4.

Birinci Dünya Savaşı Başlamadan Önce	
İtilaf Devletleri	İttifak Devletleri
<ul style="list-style-type: none"><li>• İngiltere</li><li>• Fransa</li><li>• Rusya</li></ul>	<ul style="list-style-type: none"><li>• Almanya</li><li>• Avusturya-Macaristan İmparatorluğu</li><li>• İtalya</li></ul>
Birinci Dünya Savaşı Başladıktan Sonra	
İtilaf Devletleri	İttifak Devletleri
<ul style="list-style-type: none"><li>• İngiltere</li><li>• Fransa</li><li>• Rusya</li><li>• İtalya</li><li>• Sırbistan</li></ul>	<ul style="list-style-type: none"><li>• Almanya</li><li>• Avusturya-Macaristan İmparatorluğu</li><li>• Bulgaristan</li><li>• Osmanlı</li></ul>

Yukarıdaki tablodan hangi çıkarımda bulunulamaz?

- A) Savaş başladıktan sonra taraf değiştiren devletler olmuştur.
- B) Savaş öncesi bloklarda Osmanlı Devleti yer almamıştır.
- C) Savaşa sonradan giren devlet olmamıştır.
- D) Savaş başladıktan sonra da savaşa giren devletler olmuştur.

5.

Biz hedefimizi belirlemeden genel seferberlik ilan ettik, bu çok tehlikelidir. Çünkü başımızı bir tarafa mı, birçok tarafa mı vuracağız? Belli değildir... Ben Almanların bu savaşta galip geleceklerine kesinlikle emin değilim.

*K. Atatürk*

(Salih Bozok-Cemil Bozok, Hep Atatürk'ün Yanında, s. 174)

Birinci Dünya Savaşı'nın İtilaf devletlerinin galibiyeti ile sonuçlanması göz önüne alındığında Mustafa Kemal'in yukarıdaki sözünden hangi kişilik özelliği çıkarılabilir?

- A) İleri görüşlülük B) Çok yönlülük  
C) İnkılâpçılık D) Eğitimcilik

6.

Mondros'tan sonra askeri görevi sona eren Mustafa Kemal 13 Kasım 1918'de İstanbul'a geldi. İtilaf devletlerinin donanmasını görünce yaverine dönerek "Geldikleri gibi giderler" dedi. İşgale karşı çeşitli alternatifler belirledi. Samsun'a çıkana kadar 6 ay kaldığı İstanbul'da padişahla ve devlet adamları ile görüştü ama bir sonuç alamadı. Böylece kurtuluş için siyasi açıdan yapılacak bir şey olmadığına ve kurtuluşun İstanbul'dan olamayacağına karar verdi. Bu yüzden Anadolu'ya geçmek ve Milli Mücadeleyi başlatmak için fırsat aramaya başladı.

Yukarıdaki anekdottan Mustafa Kemal'in kişilik özelliklerinden;

- I- planlılık,  
II- kararlılık,  
III- vatanseverlik,  
IV- ileri görüşlülük,

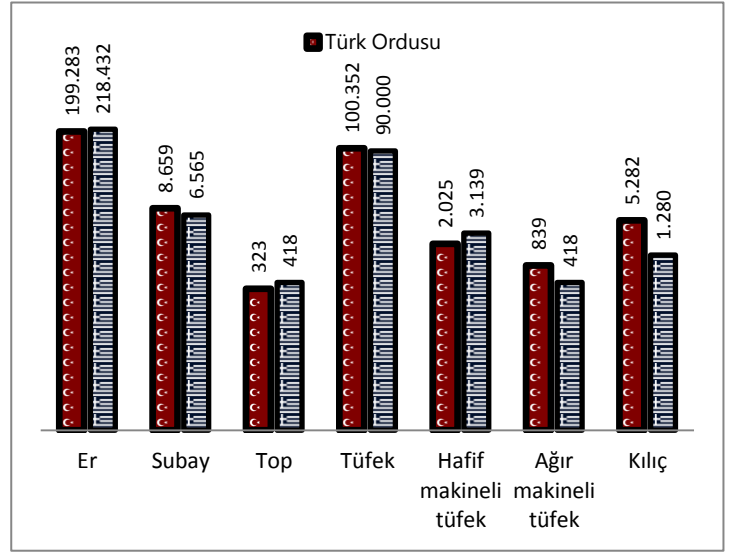
hangisi ya da hangileri çıkarılabilir?

- A)Yalnız I B)I,II, III ve IV  
C)III ve IV D)Yalnız III

7.Türk milletinin Kurtuluş Savaşı sürecinde elde ettiği askeri başarılarının uluslar arası etkileri olmuştur. Aşağıdaki antlaşmalardan hangisi birden fazla devletle imzalanmıştır?

- A) Ankara Antlaşması  
B) Gümrü Antlaşması  
C) Moskova Antlaşması  
D) Lozan Antlaşması

8.

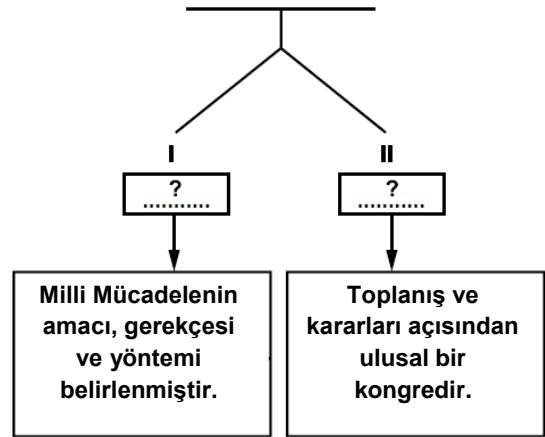


Yukarıdaki Sakarya Savaşında Türk ve Yunan taraflarının durumunu gösteren tabloya göre hangisi söylenemez?

- A) Türk ordunun er sayısı daha azdır.  
B) Her iki tarafın tüfek sayısı birbirine yakındır.  
C) Yunan ordusunun kılıç sayısı fazladır.  
D) Her iki tarafın subay sayısı farklıdır.

9.

#### Milli Mücadelenin Hazırlık Safhası



Diyagramda numaralandırılarak boş bırakılan "?" yerlere aşağıdakilerden hangisi getirilmelidir?

- I  
A) Amasya Genelgesi  
B) Havza Genelgesi  
C) Havza Genelgesi  
D) Amasya Genelgesi
- II  
Sivas Kongresi  
Erzurum Kongresi  
Sivas Kongresi  
Erzurum Kongresi

10.

1926 Öncesi	1926 Sonrası
Yabancı gemilere Türk karasularında ve limanlarında ticaret yapma izni verildi. Deniz ticaretiyle ilgili birçok kurum ve kuruluş yabancıların elindeydi.	Türk karasularında ve limanlarında ticaret yapma ve yolcu taşıma izni Türk vatandaşlarına ve Türk bayrağı taşıyan gemilere verildi. Denizcilik iş ve işlemleri milli kurumlara verildi.

Yukarıdaki verilen tablodan yola çıkarak 1 Temmuz 1926'da çıkarılan Kabotaj Kanunu;

I-milli egemenlik

II-tam bağımsızlık

III-milli iktisat

Kavramlarından hangisi ya da hangileri ilişkilendirilebilir?

- A) Yalnız I  
C) I, II ve III  
B) II ve III  
D) Yalnız II

11.17 Şubat 1926'da TBMM'de kabul edilen, 4 Ekim 1926'da uygulanmaya başlanan Türk Medeni Kanunu, evlenme, boşanma, miras, velayet, resmi nikâh ve mülkiyet konularına önemli düzenlemeler getirdi. Çok eşle evlilik yasaklandı. Resmi nikâh zorunluluğu getirildi. Miras ve şahitlik konusunda kadın erkek eşitliği sağlandı. Kadına da boşanma hakkı verildi. Buna göre Medeni Kanun'un

- I- Türk aile yapısında,  
II- kadının toplumdaki yerinde,  
III- kadının siyasi yaşamında,

hangisi ya da hangilerinde değişiklik meydana getirdiği savunulabilir?

- A) I, II ve III  
C) Yalnız III  
B) I ve II  
D) Yalnız I

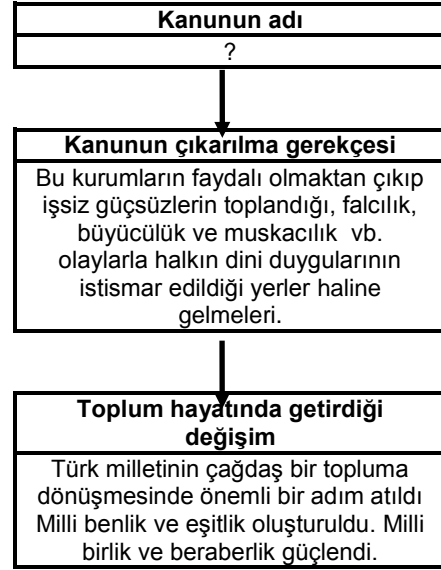
12.

Parti Adı	Kuruluş Tarihi	Parti Kurucusu
?	9 Eylül 1923	Mustafa Kemal

? olan yere hangi partinin adı yazılmalıdır?

- A) Terakkiperver Cumhuriyet Fırkası  
C) Serbest Cumhuriyet Fırkası  
B) Demokrat Parti  
D) Cumhuriyet Halk Fırkası

13.



? olan yere hangisi yazılmalıdır?

A)	<b>Kanunun adı</b>
	Teşkilat-ı Esasiye Kanunu
B)	<b>Kanunun adı</b>
	Tevhid-i Tedrisat Kanunu
C)	<b>Kanunun adı</b>
	Takrir-i Sükun Kanunu
D)	<b>Kanunun adı</b>
	Tekke ve Zaviyelerin Kapatılması Hakkında Kanun

14.

Efendiler, milletimizin başına giymekte olduğu, cahillik, gaflet, taassup, yenilik ve medeniyet düşmanlığının belirgin işareti gibi görünen fesi atarak onun yerine tüm medeni dünyaca başlık olarak kullanılan şapkayı giymek ve böylece Türk milletinin medeni toplumlardan zihniyet bakımından da hiçbir ayrılığı bulunduğunu göstermek kaçınılmaz oluyordu. (Nutuk, S. 605)



Mustafa Kemal, yukarıdaki konuşmasına göre Şapka Kanunu'nun çıkarılmasının temel nedeni hangisidir?

- A) Çağdaşlaşmak  
C) Taassuplaşmak  
B) Gelenekselleşmek  
D) Osmanlıya bağlı kalmak

15.

Ben Bahriye Nazırı Salih Paşayım. İtilaf Devletlerinin hükümetimiz üzerinde baskısı günden güne artıyor. Bir an önce barış yapılmalı. Bunu sağlamak için artık Anadolu ile iyi geçinme ve işbirliği yapılması yönünde bir politika izlemeye başladık. Hükümet temsilcisi olarak Temsil Heyeti Başkanı Mustafa Kemal Paşa ile görüşmek üzere Amasya'ya gittim. Bu görüşmeler (Amasya Görüşmeleri 20-21-22 Ekim 1919) sonunda hükümetimiz Erzurum ve Sivas Kongresi'nde alınan kararları kabul etti ve protokol imzaladık. Buna göre, Mebusan Meclisi toplanacak, Temsil Heyeti de yurdun bütünlüğüne zarar gelmemesi şartıyla İstanbul'a karışmayacaktı.



İstanbul Hükümetinin temsilcisinin Amasya'ya giderek Mustafa Kemal ile görüşmesi ve protokol imzalamasının Milli Mücadele açısından ne anlama geldiği söylenebilir?

- A) Milli Mücadelenin sona erdiğinin
- B) Temsil Heyetinin ve Milli Mücadelenin varlığının resmen tanındığının
- C) Misak-ı Milli'nin tanındığının
- D) Mondros Ateşkes Antlaşmasının onaylanmadığının

16.



Yanda, Atatürk ve Kurtuluş Savaşı Müzesi'ndeki "TBMM'nin Açılışı ve İç İsyanlar" rölyefi görülmektedir. Rölyefte din adamı, asker, çiftçi, tüccar, çocuk, kadın vb. yer almasıyla hangisine vurgu yapılmıştır?

- A) Milli Mücadele sadece belirli bir kesimin katkısı olduğunu
- B) Milli Mücadele düzenli ordunun önemine
- C) Milli Mücadelenin topyekûn bir mücadele olduğunu
- D) Milli Mücadele'de TBMM'nin açılmasının önemine

17.



Yandaki haritada Milli Mücadelede hangi cephedeki mücadeleler gösterilmiştir?

- A) Güney B) Doğu
- C) Batı D) Çanakkale

18.



3 Mart 1924'te kabul edilen yasa ile dönüştürülen kurumlardan hangisi yanlış eşleştirilmiştir?

- A) I B) II
- C) III D) IV

19.

*Türk Medeni Kanunu *Borçlar Kanunu	*Türk Ceza Kanunu *Türk Ticaret Kanunu
----------------------------------------	-------------------------------------------

Yukarıda verilen yasalar hangi alanda çağdaşlaşmak için çıkarılan yasalardır?

- A) Sağlık B) Hukuk
- C) Yönetim D) Eğitim

20. 30 Kasım 1925 tarihinde TBMM'de çıkarılan kanunla, tekke, zaviyeler ve türbeler kapatıldı. Kanun, bütün tarikatlarla birlikte, şeyh, derviş, mürit, dede, baba gibi sıfatların kullanımını kaldırdı. Bu durumun aşağıdakilerden hangisine doğrudan katkıda bulunduğu söylenemez?

- A) Ayrımcılık B) Birlik ve beraberlik
- C) Milli kimlik kazanma D) Eşitlik

**T.C. İNKILÂP TARİHİ VE ATATÜRKÇÜLÜK-TEOG DENEMESİ- 12**

**CEVAP ANAHTARI**

---

Soru	Cevap	Soru	Cevap
1.	A	11.	B
2.	D	12.	D
3	B	13.	D
4.	C	14.	A
5.	A	15.	B
6.	B	16.	C
7.	D	17.	C
8.	C	18.	D
9.	A	19.	B
10.	C	20.	A