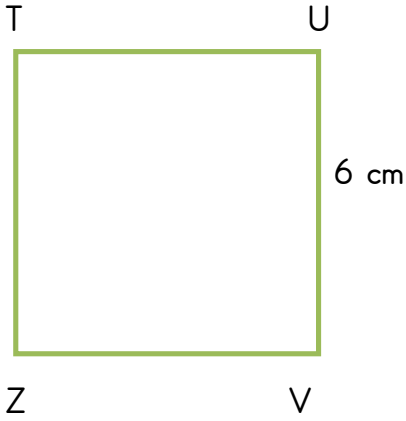


ÜÇGEN, KARE VE DİKDÖRTGENİ İSİMLENDİRME ÇALIŞMA KÂĞIDI

1. Cümleleri okuyunuz. Doğru olanların başına "D", yanlış olanların başına ise "Y" yazınız.

- Geometrik şekiller isimlendirilirken küçük harf kullanılır.
- Geometrik şekiller köşelerine yazan harflerle isimlendirilir.
- Geometrik şekillerin kenarları aynı zamanda doğru parçasıdır.
- Üçgen sembolle gösterilmez.
- Kare ve dikdörtgen sembolle gösterilebilir.
- Kenarların gösteriminde "[]", veya "—" sembolü kullanılır.
- Kenar uzunluğu, | |, sembolü ile gösterilir.
- Geometrik şekiller isimlendirilirken alfabetik sıra önemlidir.

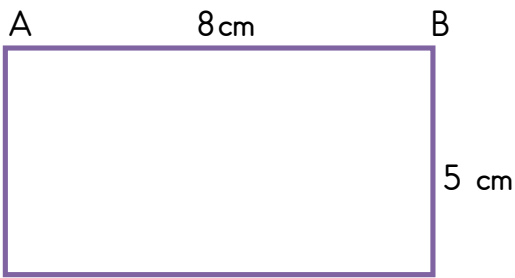
2. Aşağıda verilen geometrik şekillerin isimlerini, kenarlarını ve kenar uzunluklarını sembolle gösteriniz.



Karenin adı :

Kenarları :

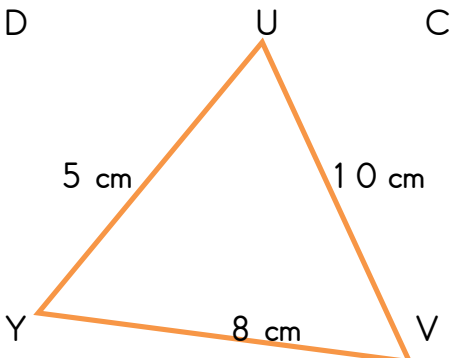
Kenar uzunlukları :



Dikdörtgenin adı :

Kenarları :

Kenar uzunlukları :

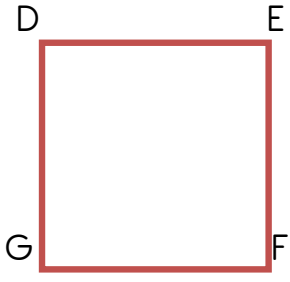


Üçgenin adı :

Kenarları :


Kenar uzunlukları :

3. Aşağıda verilen kare ve dikdörtgeni örnekteki gibi iki farklı şekilde isimlendiriniz.




DEFG karesi

GFED karesi



.....

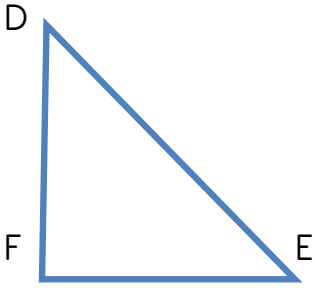
.....



.....

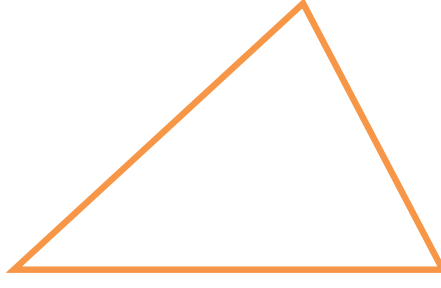
.....

4. Aşağıdaki üçgenleri örnekteki gibi farklı şekilde isimlendiriniz. İki farklı sembolle gösteriniz.



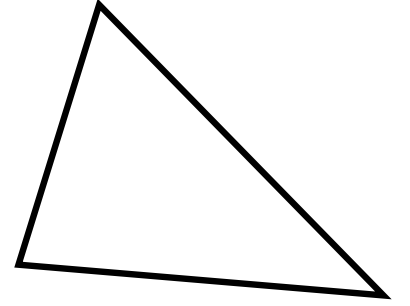
DEF üçgeni (\widehat{DEF})

FDE üçgeni ($\triangle FDE$)



.....(.....)

.....(.....)



.....(.....)

.....(.....)

5. Aşağıdaki geometrik şekillerin kenarlarının isimlerini iki farklı sembol kullanarak gösteriniz.

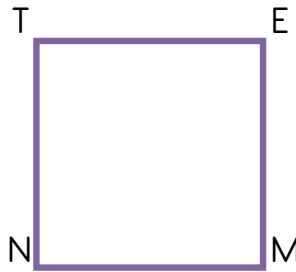


[AB] - \overline{AB}

[AD] - \overline{AD}

[BC] - \overline{BC}

[DC] - \overline{DC}

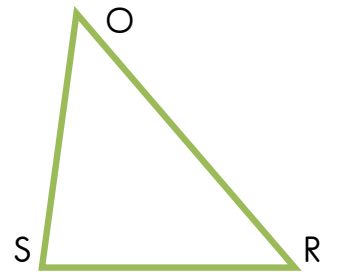


..... -

..... -

..... -

..... -



..... -

..... -

..... -

..... -