


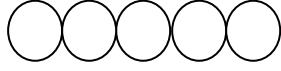
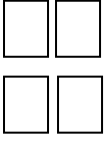

DESTE VE DÜZİNE KAVRAMI

**Deste:** Aynı türden 10 tane varlığın oluşturduğu topluluğa 1 deste denir.

1 DESTE =10



Aşağıdaki şekilleri 1 **desteye** tamamlayınız.



Bir deste aynı tür ..... tane nesneden oluşur.

Bir deste ..... tanedir.

Bir destede ..... tane birlik vardır

1 deste gül..... tanedir.

2 deste kalem ..... tanedir.

3 deste kalem ..... tanedir.

4 deste kalem ..... tanedir.

50 tane elma ..... destedir.

60 tane kayısı ..... destedir.

80 tane keçi ..... destedir.

90 tane kuzu ..... destedir.

70 tane koyun ..... destedir.

**DÜZİNE:** Aynı türden 12 tane varlığın oluşturduğu topluluğa 1 düzine denir



1 düzine =12

Aşağıdaki şekilleri 1 **düzineye** tamamlayınız.



Bir düzine aynı tür ..... tane nesneden oluşur.

Bir düzine ..... tanedir.

Bir düzinede ..... tane birlik vardır

1 düzine çiçek ..... tanedir

2 düzine tava ..... tanedir

12 jeton ..... düzinedir.

12 martı ..... düzinedir

12 portakal ..... düzinedir.

1 düzine mantar ..... tanedir

24 tane elma ..... düzinedir

60 tane kayısı ..... düzinedir

48 tane keçi ..... düzinedir

36 tane kuzu ..... düzinedir

70 tane koyun ..... düzinedir

Elimde 4 kalem vardır. Bir düzine olması için kaç kalem daha almam gerekir?.....

5 tane şekerim var. Bir düzine olması için kaç şekerim daha almam gerekir?.....

Sepette 3 yumurta var. Bir deste olması için kaç yumurta daha koymak gerekir?.....

Sınıfta 6 suluk vardır. Bir deste olması için kaç suluk daha koymak gerekir?.....