

O-1



**T.C.
MİLLÎ EĞİTİM BAKANLIĞI
ÖLÇME, DEĞERLENDİRME VE SINAV HİZMETLERİ
GENEL MÜDÜRLÜĞÜ**

T

**AÇIK ÖĞRETİM ORTAOKULU
2014-2015 ÖĞRETİM YILI 1. DÖNEM SINAVI
1. OTURUM: 19 EKİM 2014 Saat: 10.00**

<u>DERSLER</u>	<u>SAYFA</u>	<u>DERSLER</u>	<u>SAYFA</u>
(501) TÜRKÇE – 5	2	(701) TÜRKÇE – 7	17
(502) MATEMATİK – 5	3	(702) MATEMATİK – 7	19
(503) FEN VE TEKNOLOJİ – 5	5	(703) FEN VE TEKNOLOJİ – 7	21
(604) SOSYAL BİLGİLER – 6	9	(806) TC İNK. TAR. VE ATATÜRK. – 8	24
(607) İNGİLİZCE – 6	11	(807) İNGİLİZCE – 8	26
(607) ALMANCA – 6	12	(807) ALMANCA – 8	27
(607) FRANSIZCA – 6	14	(807) FRANSIZCA – 8	28
(608) DİN KÜL. VE AHLAK BİLGİSİ – 6	15	(808) DİN KÜL. VE AHLAK BİLGİSİ – 8	30

ADAYLARIN DİKKATİNE!

- Her ders için **20** soru bulunmaktadır. Bu oturumda **150** dakikalık cevaplama süreniz vardır. Sınav başladıktan sonra ilk **30** dakika dolmadan dışarı çıkmayınız.
- Sınav sırasında sözlük, hesap cetveli veya makinesi, çağrı cihazı, cep telefonu, telsiz, radyo gibi elektronik iletişim araçlarını yanınızda bulundurmayınız. Bu araçları kullanmanız ve kopya çekmeye teşebbüs etmeniz hâlinde sınavınız geçersiz sayılacaktır.
- Başvuru şartlarını taşımadığınız hâlde sınava girmeniz, kopya çekmeniz, başka adayın sınav evrakını kullanmanız, geçerli kimlik belgenizi ve sınav giriş belgenizi ibraz edemediğiniz durumlarda sınavınız geçersiz sayılacaktır.
- Sınavın değerlendirilmesi aşamasında, bilgisayar ortamında yapılan kopya analizinde ikili veya toplu kopya tespiti hâlinde sınavınız geçersiz sayılacaktır.

CEVAP KÂĞIDI VE SORU KİTAPÇIĞI İLE İLGİLİ AÇIKLAMALAR

- Cevap kâğıdınızdaki bilgilerin doğruluğunu kontrol ediniz ve cevap kâğıdınızı mürekkepli kalemle imzalayınız.
- Cevap kâğıdı üzerinde kodlamalarınızı kurşun kalemle yapınız.
- Değiştirmek istediğiniz bir cevabı, yumuşak silgiyle cevap kâğıdını örselemeden temizce siliniz ve yeni cevabınızı kodlayınız.
- Soru kitapçığının sayfalarını kontrol ediniz, baskı hatası var ise değiştirilmesini sağlayınız.
- Soruların çözümü için size ayrıca boş kâğıt verilmeyecektir. Soru kitapçığının içindeki boş alanları soru çözümleri için kullanabilirsiniz.
- Her sorunun dört seçeneğinden sadece biri doğrudur. Doğru seçeneği, cevap kâğıdınızın ilgili sütununa soru numarasını dikkate alarak yuvarlağın dışına taşırmadan kodlayınız. **Soru kitapçığı üzerinde yapılan cevaplandırmalar dikkate alınmayacaktır.**
- Cevaplamaya istediğiniz dersin sorusundan başlayabilirsiniz. Cevabını bilmediğiniz sorular üzerinde fazla zaman kaybetmeden diğer sorulara geçiniz. Zamanınız kalırsa bu sorulara daha sonra dönebilirsiniz.
- Yanlış cevaplarınız dikkate alınmadan sadece doğru cevaplarınız üzerinden puanlama yapılacaktır.
- Soruları ve sorulara verdiğiniz cevapları, yanınızda götürmek amacıyla kaydetmeyiniz; hiçbir şekilde dışarı çıkarmayınız.
- Sınav bitiminde, soru kitapçığı ve cevap kâğıdını salon görevlilerine teslim ediniz.**

BAŞLAYINIZ DENİLMEYEN SORU KİTAPÇIĞINI AÇMAYINIZ.

1. OTURUM

(501) TÜRKÇE – 5

1. “Kaçmak” sözcüğü aşağıdaki cümlelerin hangisinde “girmek” anlamında kullanılmıştır?

A) Haberi duyunca birden neşesi kaçtı.
B) Odanın halısı biraz sağa kaçmış.
C) Havuzda yüzerken kulağına su kaçmış.
D) Bisiklete binerken çorabı kaçtı.

2. Aşağıdaki kelimeler alfabetik sıraya göre dizildiğinde hangisi, 3. sırada yer alır?

A) Türkçe B) Türkiye
C) Türkeli D) Türkmen

3. Aşağıdakilerin hangisinde altı çizili sözcük mecaz anlamıyla kullanılmıştır?

A) Bir insan seli piknik alanına doğru akıyordu.
B) Kendisini son gördüğümde saçları beyazlamıştı.
C) Mavi gömleği ona çok yakışuyordu.
D) Salıncağa binmek için annesinden izin almıştı.

4. “Genç adamı yanına çağırırdı.” cümlesindeki “genç” sözcüğünün zıt anlamlısı aşağıdakilerin hangisinde kullanılmıştır?

A) Büyüklerinin yanında konuşmayı pek sevmezdi.
B) Çocuklara her zaman sevgiyle yaklaşırdı.
C) Nemli gözlerle uzun uzun etrafa baktı.
D) Telaşlı bir ihtiyar aniden odama girdi.

5. “Çiçek” kelimesine aşağıdakilerden hangisi eklenirse “çiçek saksılarını koymaya veya çiçek yetiştirmeye ayrılmış yer” anlamına gelen bir kelime türetilmiş olur?

A) -lik B) -siz C) -li D) -çi

6. “Sana yardım etmek isterdim ... işim çok.”

Bu cümlede üç nokta ile belirtilen yere düşüncenin farklılaşmasına göre aşağıdaki sözcüklerden hangisi getirilemez?

A) ama B) fakat C) hatta D) ancak

7. “Bir kimseye çok saygı ve sevgi göstermek” anlamında kullanılan deyim aşağıdakilerden hangisidir?

A) El üstünde tutmak B) Eline bakmak
C) Ele almak D) El birliği etmek

8. 1. halkın
2. aydınlatır
3. bilgilerin
4. yolunu
5. bilgisi

Numaralandırılmış sözcükler, anlamlı ve kurallı bir cümle oluşturmak için nasıl sıralanmalıdır?

A) 2, 5, 3, 4, 1 B) 3, 5, 1, 4, 2
C) 4, 2, 5, 1, 3 D) 5, 3, 2, 1, 4

9. “Akşama doğru vapur iskelesine gittim.”

Bu cümlede aşağıdaki sorulardan hangisinin cevabı vardır?

A) Nerede? B) Niçin?
C) Nasıl? D) Ne zaman?

10. Aşağıdaki cümlelerin hangisinde “karşılaştırma” yapılmıştır?

A) İncecik parmakları kalemi güçlkle tutuyordu.
B) Arkadaşından daha fazla kitap okurdu.
C) Fırının ateşi yanaklarını pembe pembe yapmıştı.
D) Kıyıdaki boş masalardan birine oturmuştu.

11. Aşağıdaki cümlelerin hangisinde sebep-sonuç ilişkisi vardır?

A) Sarı saçları ipek gibi yumuşacıktı.
B) Doğup büyüdüğü evini terk edemedi.
C) Sabah erkenden kalkıp hazırlandı.
D) Esnediği için gözlerinden yaş geldi.

12. “Vakit geçirmeden yola devam edilmeli.” cümlesi aşağıdaki atasözlerinden hangisinin açıklamasıdır?

A) Aklın yolu birdir.
B) Ağır git ki yol alsın.
C) Yolcu yolunda gerek.
D) Kalpten kalbe yol vardır.

1. OTURUM

13. Aşağıdaki cümlelerin hangisinde “abartı” vardır?

- A) Ablam dağ kadar bulaşığı birkaç saniyede yıkadı.
- B) Haberi duyduğumda şaşkınlığımı gizleyemedim.
- C) Elbette bize de birileri yardım eder.
- D) Akşama kadar bu işi bitirmeliyim.

14. Aşağıdaki cümlelerin hangisinde duygusal bir öge vardır?

- A) Tüm metni kelimesi kelimesine ezberlemiş.
- B) Kardeşinin boynuna sevinçle sarıldı.
- C) Banka oturup kitap okumaya başladı.
- D) Öğlene kadar mışıl mışıl uyumuş.

15. Aşağıdakilerin hangisinde nesnel bir yargı vardır?

- A) Benim düşünceme göre keskin bir zekâya sahipti.
- B) Bence her medeniyet insanlığa katkıda bulunur.
- C) Elektrik fabrikası saat altıda çalışmaya başlar.
- D) Bana göre hava bunaltacak kadar sıcaktı.

16. “Zeytin ağacının altında sevimli bir çocuk oynuyordu. Yanına yaklaştım. Yeşil zeytinleri bana uzattı. Başını okşadım.”

Bu parçadaki altı çizili sözcüklerden hangisi, bir varlığı nitelemiştir?

- A) Zeytin
- B) Sevimli
- C) Bana
- D) Başını

17. Aşağıdakilerin hangisinde altı çizili sözcük, aldığı ekten dolayı yeni bir anlam kazanmıştır?

- A) Boş laflar zaman kaybettirir.
- B) Televizyon reklamları çocukları etkiliyor.
- C) Bizden bir şeyler saklıyor gibisin.
- D) İçtiğim çorba pek lezzetli değildi.

18. Aşağıdaki altı çizili sözcüklerden hangisi “bi-ten bir eylem”i ifade eder?

- A) Bahçedeki ağacın gölgesinde kitap okudu.
- B) Her sabah köşedeki büfeden gazete alır.
- C) Bu sene tatilini yazlıkta geçirecek.
- D) Cıvı cıvı öten kuşların sesi geliyor.

19. Aşağıdaki cümlelerin hangisinde “da, de”nin yazımıyla ilgili bir yanlışlık yapılmıştır?

- A) Masada çalışmayı tercih ederdi.
- B) Adamın yüzünde belli belirsiz bir gülümseme var.
- C) Dergide ilgisini çeken bölümleri işaretlemiş.
- D) Metni önce içinizden sonrada sesli okuyunuz.

20. “Hey() İçeri girsene!”

Bu cümlede yay ayraçla belirtilen yere, aşağıdaki noktalama işaretlerinden hangisi getirilmelidir?

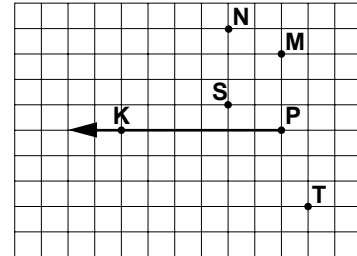
- A) :
- B) .
- C) !
- D) ;

(502) MATEMATİK – 5

1. 96×202 işleminin sonucu kaçtır?

- A) 2112
- B) 18 012
- C) 19 392
- D) 96 202

2.



Yukarıdaki şekilde [PK, aşağıdaki hangi ışının çizilmesi ile geniş açı oluşturur?

- A) [PT
- B) [PS
- C) [PM
- D) [PN

3. Böleni tek basamaklı en büyük doğal sayı, bölümü iki basamaklı en büyük doğal sayı olan kalansız bir bölme işleminde bölünen aşağıdakilerden hangisidir?

- A) 10
- B) 90
- C) 99
- D) 891

4. Aşağıdakilerden hangisi $3\frac{3}{4}$ kesrinin bileşik kesir olarak gösterilişidir?

- A) $\frac{15}{4}$
- B) $\frac{13}{4}$
- C) $\frac{9}{4}$
- D) $\frac{6}{4}$

1. OTURUM

5. 1, 6, 11, 16, 21, 26, ...

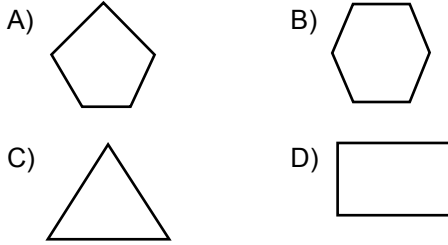
Yukarıdaki örüntü, bir önceki terime aynı sayı eklenerek elde edilmiştir. Bu örüntünün 10. terimi kaçtır?

- A) 45 B) 46 C) 51 D) 54

6. Annem bir torba cevizin $\frac{5}{12}$ 'ini baklava yaparken kullandı. Bir torba ceviz 3 kilogram geldiğine göre, annem baklava için kaç gram ceviz kullanmıştır?

- A) 750 B) 1100 C) 1250 D) 1375

7. Aşağıdaki çokgenlerden hangisinin köşegen sayısı diğerlerinden fazladır?



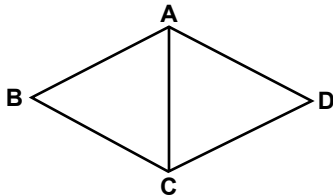
8. Can 19 TL, Zeynep 43 TL ve Emel 25 TL verecek arkadaşlarına ortak bir hediye alıyorlar. Alınan hediyein parasını eşit olarak paylaşan üç arkadaşın Can'ın, Zeynep'e kaç lira ödemesi gerekir?

- A) 10 B) 15 C) 17 D) 19

9. Bir ekmeğin tamamını yiyen Ahmet, $\frac{1}{6}$ 'ini yiyen Kemal'den ne kadar fazla ekmek yemiştir?

- A) $\frac{5}{6}$ B) $\frac{4}{6}$ C) $\frac{3}{6}$ D) $\frac{2}{6}$

10.



Şekilde iki eşkenar üçgenin tabanları birleştirilerek ABCD dörtgeni elde edilmiştir. Şeklin çevresi 40 cm olduğuna göre eşkenar üçgenin bir kenarının uzunluğu kaç santimetredir?

- A) 6 B) 8 C) 10 D) 12

11. $3\frac{17}{20}$ kesrinin ondalık gösterimi aşağıdakilerden hangisidir?

- A) 3,17 B) 3,37 C) 3,51 D) 3,85

12. $24,3\square7 < 24,365$ olduğuna göre, \square yerine aşağıdaki rakamlardan hangisi gelemez?

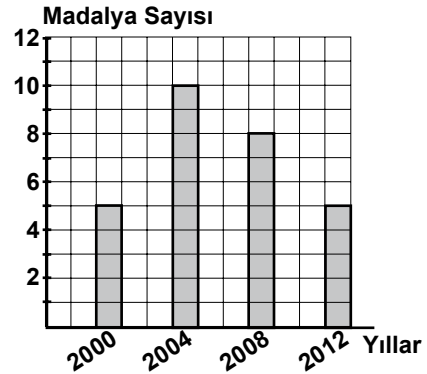
- A) 3 B) 4 C) 5 D) 6

13. Aşağıdakilerden hangisi doğru parçası ifade eder?

- A) \overleftrightarrow{TE} B) K C) [KL] D) [ST]

14.

Grafik: Türkiye'nin Olimpiyatlarda Kazandığı Madalya Sayıları



Yukarıdaki sütun grafiği, Türkiye'nin belirtilen yıllarda yapılan olimpiyatlarda kazandığı madalya sayılarını göstermektedir.

Grafiğe göre aşağıdaki tabloların hangisindeki veriler doğru olabilir?

A)

Olimpiyat Oyunları (Yıllar)	Madalya Sayıları		
	Altın	Gümüş	Bronz
2000	2	—	2
2004	3	3	4
2008	4	1	3
2012	2	2	1

B)

Olimpiyat Oyunları (Yıllar)	Madalya Sayıları		
	Altın	Gümüş	Bronz
2000	3	—	2
2004	3	4	3
2008	1	4	3
2012	2	2	1

C)

Olimpiyat Oyunları (Yıllar)	Madalya Sayıları		
	Altın	Gümüş	Bronz
2000	3	2	—
2004	3	4	3
2008	4	1	3
2012	2	—	1

D)

Olimpiyat Oyunları (Yıllar)	Madalya Sayıları		
	Altın	Gümüş	Bronz
2000	2	3	—
2004	1	4	3
2008	3	4	3
2012	2	2	1

1. OTURUM

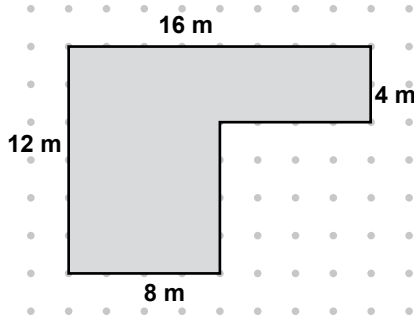
15. Kerem'in babası, maaşının %22 sini ev kirasına vermektedir. Babası 1750 TL maaş aldığına göre, ev kirası kaç liradır?

- A) 197 B) 350 C) 385 D) 395

16. Bir ikizkenar üçgenin taban açılarından birinin ölçüsü, tepe açısının ölçüsünden 27° küçüktür. Bu üçgenin bir taban açısının ölçüsü kaç derecedir?

- A) 42 B) 51 C) 54 D) 69

17.



Yukarıda krokisi verilen bahçenin alanı kaç metrekaredir?

- A) 128 B) 160 C) 186 D) 192

18. Ceren mola vermeden önce 1 saat 10 dakika, mola verdikten sonra 75 dakika ders çalışmıştır. Ders çalışmaya başladıktan 2 saat 40 dakika sonra çalışmasını tamamlayan Ceren, kaç dakika mola vermiştir?

- A) 5 B) 8 C) 10 D) 15

19.

Tablo: Öğrencilerin Kalem Sayıları

Kalem sayısı	Öğrenci sayısı
1	//
2	### ## /
3	### //
4	////
5	/

Yukarıda, bir sınıftaki öğrencilerin sahip oldukları kalem sayılarına ait sıklık tablosu verilmiştir. Tabloya göre, sınıfta en az 3 kaleme sahip kaç öğrenci vardır?

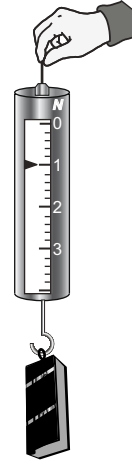
- A) 5 B) 7 C) 12 D) 13

20. Tabanının bir ayrıtının uzunluğu 5 cm ve yüksekliğinin uzunluğu 9 cm olan kare prizmanın yüzey alanı kaç santimetrekaredir?

- A) 270 B) 230 C) 205 D) 180

(503) FEN VE TEKNOLOJİ – 5

1. Ece, kalemlüğünün ağırlığını şekildeki gibi dinamometre ile ölçüyor.



Buna göre, Ece'nin dinamometrede okuduğu değer ve bu değer birimi aşağıdakilerden hangisidir?

	Okuduğu değer	Birimi
A)	2	kilogram
B)	1	newton
C)	2	newton
D)	1	kilogram

2. Aşağıdaki olaylardan hangisi, sürtünme kuvvetinin hareketi engelleyici etkisine örnek olabilir?

- A) Güreşçilerin vücutlarına zeytinyağı sürmeleri
B) Gemilerin ön kısımlarının V şeklinde tasarlanması
C) Patencilerin, patenlerine mum sürdükten sonra kaymaları
D) Islak yüzeylere ve merdivenlere kaydırmaz bant yapıştırılması

1. OTURUM

3. Emre, bazı maddeleri ışığı geçirme durumlarına göre sınıflandırıp şekildeki gibi tabloya kaydediyor.

Cisimler	Saydam	Yarı saydam	Opak
●			✓
★		✓	
▲	✓		

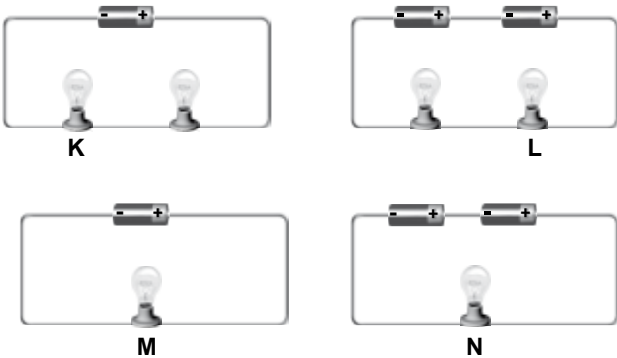
Tabloya göre; ●, ★ ve ▲ ile belirtilen maddeler aşağıdakilerden hangisi olabilir?

- | | | | |
|----|--------------|--------------|--------------|
| | ● | ★ | ▲ |
| A) | Tahta | Buzlu cam | Şeffaf poşet |
| B) | Tahta | Şeffaf poşet | Buzlu cam |
| C) | Buzlu cam | Tahta | Şeffaf poşet |
| D) | Şeffaf poşet | Buzlu cam | Tahta |

4. Aynı ortamdaki plastik, cam ve porselen bardaklara, aynı metal kaşıkla ve eşit kuvvetle vurulmasına rağmen çıkan seslerin birbirinden farklı olmasının nedeni aşağıdakilerden hangisidir?

- A) Sesin sadece katılarda yayılması
B) Aynı sesin farklı ortamlarda farklı duyulması
C) Farklı cisimlerle üretilen seslerin farklı olması
D) Sesin maddesel olmayan ortamlarda yayılması

5. Zeynep, özdeş pil ve lambalardan oluşan şekildeki basit elektrik devrelerini kuruyor.

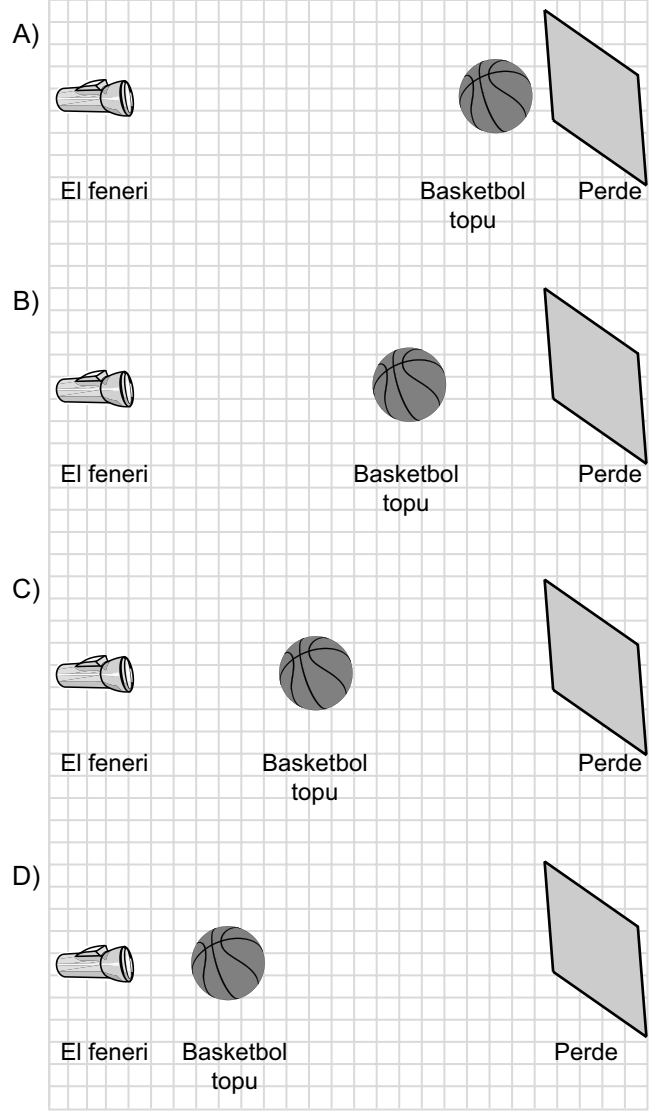


Buna göre K, L, M ve N lambalarından hangisinin parlaklığı en fazladır?

- A) K B) L C) M D) N

6. Karanlık bir ortamda el feneri ve basketbol topu kullanılarak perde üzerinde tam gölge oluşturulmak isteniyor.

Buna göre, aşağıdaki durumların hangisinde oluşturulacak tam gölge alanı en küçük olur?



7. Aşağıda verilen devre elemanlarından hangisinin sembolü doğru verilmiştir?

	Devre elemanı	Devre elemanının sembolü
A)	Anahtar	
B)	Pil	
C)	Bağlantı kablosu	
D)	Lamba	

1. OTURUM

8. Fosillerin yaşını ve hangi türe ait olduğunu çeşitli yöntemler kullanarak tespit eden bilim insanına ne ad verilir?

- A) Jeolog B) Elektrik mühendisi
C) Paleontolog D) Maden mühendisi

9. Toprağı erozyonun olumsuz etkilerinden korumak için öğrencilerin söyledikleri çözüm önerileri aşağıda verilmiştir.

Ağaçlandırmaya daha fazla önem vermeliyiz.



Betül

Tarlalarımızı eğime paralel olarak sürmeliyiz.



Murat

Eğimli arazilerde teraçalama uygulaması yapmalıyız.



Sinan

Erozyonun zararları konusunda halkımızı bilinçlendirmeliyiz.



Filiz

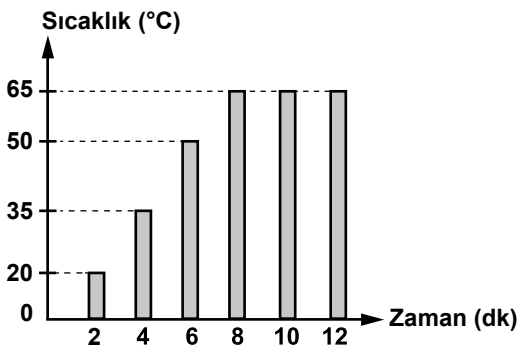
Buna göre, hangi öğrencinin önerisi yanlıştır?

- A) Betül B) Murat
C) Sinan D) Filiz

10. Yoğuşma olayı için aşağıdaki durumların hangisi örnek olarak verilebilir?

- A) Islak çamaşırların kuruması
B) Banyo aynasının buğulanması
C) Dondurmanın sıvı hâle geçmesi
D) Kolonya dökülen elin serinlemesi

11. Sabit ısı veren bir kaynak ile sürekli ısıtılan saf bir sıvıya ait sıcaklık-zaman grafiği verilmiştir.



Grafiğe göre, bu sıvının kaynama sıcaklığı kaç °C'tur?

- A) 20 B) 35 C) 50 D) 65

12. Arda, ısı ve sıcaklık kavramlarına ait aşağıdaki bilgileri hatırlamaktadır.



Arda'nın hatırladığı bilgilerden hangileri ısıya aittir?

- A) I ve II B) II ve III C) III ve IV D) I ve IV

13. Birbiriyle her bakımdan aynı olan iki cam bardak iç içe konulduğunda sıkışıyor. Bu bardakları birbirinden ayırmak için içteki bardağa soğuk su konulup bir süre bekletiliyor. Bu işlem sonucunda bardakların birbirinden kolayca ayrıldığı görülüyor.

Buna göre, içteki bardakta gerçekleşen olay aşağıdakilerden hangisidir?

- A) Büzülme B) Donma
C) Erime D) Genleşme

14.



Şekilde bir besin paketi verilmiştir. Bu paket içinde bulunan besinle ilgili olarak aşağıdakilerden hangisi kesinlikle söylenebilir?

- A) Az suda pişirilerek yenmelidir.
B) Çok soğuk ortamda saklanmalıdır.
C) Meyveler karıştırılarak hazırlanmıştır.
D) Son kullanım tarihinden önce tüketilmelidir.

1. OTURUM

15.

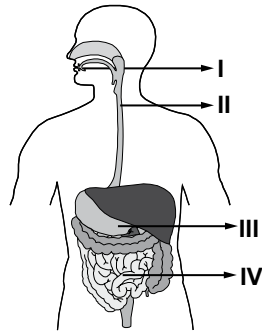


Zeynep, şekildeki gibi hazırladığı dört beyaz kağıt üzerine alt kısımlarında yazan besinlerin parçalarından sürüyor.

Buna göre kaç numaralı kağıtlarda şeffaf ve kalıcı bir leke gözler?

- A) 1 ve 3
B) 2 ve 4
C) 1, 2 ve 3
D) 2, 3 ve 4

16. Şekilde sindirim sistemi verilmiştir. Besin sindiriminin hiç gerçekleşmediği organımız hangi numarayla belirtilmiştir?



- A) IV
B) III
C) II
D) I

17.

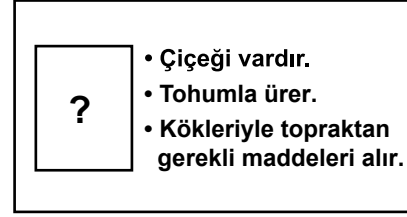
Organlarımız	Görevleri
• Akciğer	★ Kandaki atıkların süzülmesini sağlar.
• Böbrek	★ Terlemenin gerçekleştiği yapıdır.
• Deri	★ ...

Yukarıda verilen organlar karışık sıradaki görevlerle eşleştirilecektir.

Buna göre ... ile belirtilen yere aşağıdakilerden hangisinin yazılması gerekir?

- A) Solunum sonucu oluşan atıkların vücut dışına atılmasında etkilidir.
B) Sindirim atıklarının vücut dışına atılmasında etkilidir.
C) Besinlerin kana geçişinde etkilidir.
D) İdrarın biriktiği yapıdır.

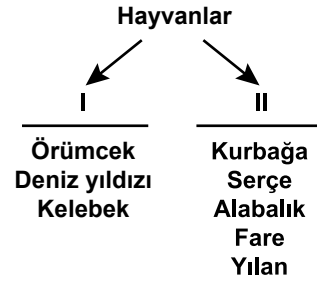
18.



Ahmet, bir bitkinin özelliklerini şekildeki gibi karta yazmıştır. Buna göre kart üzerinde “?” bulunan bölüme, aşağıdaki bitkilerden hangisinin resmini yapıştırmalıdır?

- A) Eğrelti otu
B) Kara yosunu
C) Fasulye bitkisi
D) Su yosunu

19.



Bir öğrenci bazı hayvanları yukarıdaki gibi iki gruba ayırarak bu gruplara örnek canlılar yazmıştır.

Buna göre I ve II yerine aşağıdakilerin hangisinde verilenler yazılmalıdır?

I	II
A) Omurgasızlar	Omurgalılar
B) Karada yaşayanlar	Suda yaşayanlar
C) Etle beslenenler	Otlarla beslenenler
D) Uçarak hareket edenler	Yürüyerek hareket edenler

20. Çevre kirliliği sonucu bir gölde su bulanıklaşmış ve balık ölümleri artmıştır.

Bu çevre kirliliğinin sebebi aşağıdakilerden hangisi olabilir?

- A) Göl çevresinde yaşayan canlı türlerinin artması
B) Belli dönemlerde bazı kuş türlerinin göl kenarına balık avlamaya gelmesi
C) Ara sıra piknik yapan insanların göle boş cam şişe atmaları
D) Sanayi tesislerinin atıklarını arıtmadan göle bırakması

1. OTURUM

(604) SOSYAL BİLGİLER – 6

1. Aşağıdakilerden hangisi, bir öğrencinin sosyal bilgiler dersini öğrenmekle elde edebileceği kazanımlardan biri değildir?

- A) Millî bilinç kazanma
- B) Sorun çözme becerisini artırma
- C) Sayıları kullanma yeteneğini geliştirme
- D) Toplum içinde uyumlu davranışlar sergileme

2. Bir araştırmacı, sokaktaki çocukların durumunu ve sokaklarda onları bekleyen tehlikelerin neler olduğunu tespit etmek amacıyla bazı sokak çocuklarıyla görüşmeler yapar.

Araştırmacının bu faaliyeti, bilimsel araştırma basamaklarından hangisini oluşturmaktadır?

- A) Rapor yazma
- B) Toplanan verileri değerlendirme
- C) Araştırma konusunu seçme
- D) Araştırma konusu ile ilgili verileri toplama

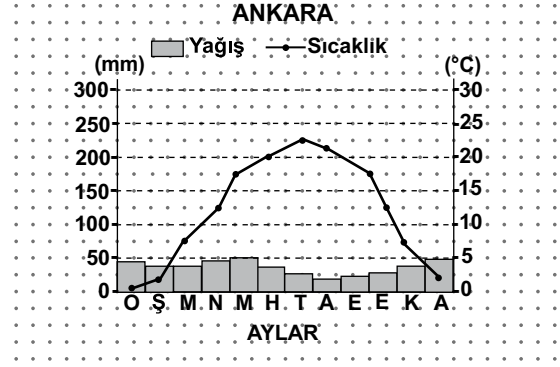
3. Aşağıdakilerden hangisi, dünya üzerindeki kıtalardan biri değildir?

- A) Okyanusya
- B) Orta Amerika
- C) Kuzey Amerika
- D) Güney Amerika

4. Aşağıdaki bilgilerden hangisi yanlıştır?

- A) En uzun paralel ekvatordur.
- B) Ölçeğin paydası büyüdükçe ölçek küçülür.
- C) Türkiye’de genelde kuzeyden esen rüzgarlar sıcaklığı artırırken, güneyden esen rüzgarlar sıcaklığı düşürür.
- D) Akdeniz ikliminin en belirgin özelliği, yazların sıcak ve kurak, kışların ise ılık ve yağışlı geçmesidir.

5.



En Sıcak Ay	En Soğuk Ay	En Fazla Yağışın Düştüğü Mevsim	En Az Yağışın Düştüğü Mevsim
I	II	III	IV
?	?	?	?

Murat, Ankara iline ait bir yıllık sıcaklık-yağış grafiğine bakarak yukarıda verilen kutucuğu doldurma etkinliği yapmaktadır.

Murat'ın yazacağı bilgiler, aşağıdakilerden hangisinde doğru verilmiştir?

	I	II	III	IV
A)	Ağustos	Şubat	İlkbahar	Yaz
B)	Haziran	Mart	İlkbahar	Yaz
C)	Ağustos	Şubat	Yaz	İlkbahar
D)	Temmuz	Ocak	İlkbahar	Yaz

6. Bir yörenin iklimi hakkında en fazla bilgiyi, aşağıdakilerden hangisi verir?

- A) Bitki örtüsü
- B) Yüz ölçümü
- C) Nüfusun doğum oranı
- D) Yer altı kaynakları

7. Çivi yazısını Anadolu'ya getiren İlk Çağ uygarlığı, aşağıdakilerden hangisidir?

- A) Babiller
- B) Asurlular
- C) Sümerler
- D) Urartular

8. “Frig Devleti unvanlı krallar tarafından yönetilmişlerdir.”

Verilen cümlemin anlamca doğru olabilmesi için boş bırakılan yere, aşağıdakilerden hangisi yazılmalıdır?

- A) Kibele
- B) Tuşpa
- C) Midas
- D) Pankuş

1. OTURUM

9. Aşağıdakilerden hangisi, Avrupa’da Türk kültürünün yayılmasına ortam hazırlamıştır?

- A) Orhun Yazıtları’nın dikilmesi
- B) Avrupa Hun Devleti’nin kurulması
- C) Türklerin İslamiyet ile tanışması
- D) Roma İmparatorluğu’nun ikiye bölünmesi

10. İpek Yolu’na hâkim olma mücadelesi, özellikle aşağıdaki hangi iki toplumun savaşlarının temel nedenini oluşturmuştur?

- A) Türk - Çin
- B) Türk - Rus
- C) Arap - Bizans
- D) Çin - Rus

11. Aşağıdaki devletlerden hangisinin döneminde Arapça, resmî dil olarak ilan edilmiştir?

- A) Osmanlı
- B) Sasani
- C) Abbasi
- D) Emevi

12. Türklere ait ilk İslamî eserleri meydana getiren ve böylece Türk - İslam kültürünün temellerini atan Türk devleti, aşağıdakilerden hangisidir?

- A) Uygur
- B) Gazne
- C) Karahanlı
- D) Büyük Selçuklu

13. Aşağıdakilerden hangisi, geçmişten günümüze devam eden kültürel öğelerimizden değildir?

- A) Balıkçılık
- B) Çinicilik
- C) Maden işlemeciliği
- D) Halı dokumacılığı

14. • Ana vatani, Doğu Akdeniz ve Güneybatı Asya’dır.

- Meyvelerinin besin değeri yüksektir.
- Dünya’daki en büyük üreticisi 280.000 ton ile Türkiye’dir ve Türkiye’nin başlıca dış satım ürünüdür.
- Türkiye’de en fazla Aydın yöresinde yetiştirilir.

Hakkında bilgi verilen meyveyi tanıdınız mı?

- A) Zeytin
- B) Fındık
- C) Üzüm
- D) İncir

15. Ülkemizde, aşağıdaki sektörlerden hangisi için mecazi olarak “bacasız sanayi” ifadesi kullanılır?

- A) Kimya
- B) Turizm
- C) Tekstil
- D) Toprak ürünleri

16. Aşağıdaki mesleklerden hangisinin çalışma sektörü diğerlerinden farklıdır?

- A) Ebe
- B) Hemşire
- C) Sarraf
- D) Veteriner

17. Aşağıdaki yerleşim yerlerinden hangisinin

- nüfusu çok,
- yükseltisi az,
- sanayisi gelişmiş,
- iklimi ılımandır?

- A) Libya’nın
- B) Antarktika’nın
- C) İngiltere’nin
- D) Büyük Sahra’nın

18. Mal ve hizmetlerin ülkeler arasında alınıp satılmasına ne ad verilir?

- A) İç ticaret
- B) Dış ticaret
- C) Maliye
- D) Sanayi

19. Türkiye’ye coğrafi olarak en yakın Türk cumhuriyeti, aşağıdakilerden hangisidir?

- A) Azerbaycan
- B) Türkmenistan
- C) Özbekistan
- D) Kırgızistan

20. Vatikan Devleti, hangi yönetim şekline örnek gösterilebilecek bir ülkedir?

- A) Oligarşi
- B) Monarşi
- C) Cumhuriyet
- D) Teokrazi

1. OTURUM

(607) İNGİLİZCE – 6

1-20. sorularda boş bırakılan yere uygun gelen kelime ya da ifadeyi işaretleyiniz.

1. is fat.

- A) We B) She C) You D) They

2. He is an engineer and name is Kemal.

- A) her B) its C) our D) his

3. It is Ayşe's book = It is

- A) hers B) his
C) mine D) theirs

4. children are Turkish.

- A) They B) Those
C) This D) That

5. These are our teachers.

- A) man B) person
C) child D) women

6. The girl is not short. She's

- A) old B) poor
C) tall D) dirty

7. There isn't coffee in the cup.

- A) any B) some
C) an D) a


8. I like to the radio.

- A) listen B) listens
C) to listen D) listening

9. I'm watching TV

- A) often B) usually
C) at the moment D) always

10.



It's today.

- A) cloudy B) rainy
C) windy D) sunny

11. She is a



- A) pilot B) driver
C) nurse D) secretary

12. A: have you got?

B: I have got a suitcase.

- A) What B) Which
C) Where D) When

13. A: Does she speak English?

B: Yes, she

- A) does B) do
C) don't D) doesn't

14. A: Where is Jane?

B: She is the airport.

- A) through B) over
C) in D) at

15. A: Can you swim?

B: No,

- A) she can't B) I can't
C) you can D) he can

1. OTURUM

16. A: How much is this shirt?

B:

- A) It's six o'clock.
- B) It's on the right.
- C) It's Sunday.
- D) It's ₺ 20.

17. A: I'm Burcu.

B: Hello, Burcu. My name is Jack.

- A) Where are you from?
- B) How are you today?
- C) What is your name?
- D) How old are you?

18. A: Where are you from?

B:

- A) She's six years old.
- B) I'm from Turkey.
- C) He's a dentist.
- D) We are happy.

19. A:

B: It's about 600 km.

- A) What is the time?
- B) How much is that?
- C) How far is Antalya?
- D) Where is your office?

20. A:

B: Two.

- A) How many bottles have you got?
- B) What have you got in your bag?
- C) Who has got a dictionary?
- D) Has he got a new bicycle?

(607) ALMANCA – 6

1-19. sorularda boş bırakılan yere uygun gelen kelime ya da ifadeyi işaretleyiniz.

1. A: Hallo! Ich Ayşe.

Wer du?

B: Martina.

- A) bist / sein
- B) ist / bist
- C) bin / bist
- D) seid / sind

2. A: ?

B: Das ist Frau Brunner.

- A) Wer bist du?
- B) Wie heißen Sie?
- C) Wer ist das?
- D) Wer sind Sie?

3. A: Bist du 14?

B:, 14. Und du?

A: 14.

- A) Ja / Ist
- B) Ja / Auch
- C) Nein / Nicht
- D) Nein / Auch

4. A: wohnt er?

B: Bahçeli.

- A) Woher / In
- B) Wo / In
- C) Was / Aus
- D) Wie / Aus

5. A: Woher du?

B: Ich Italien.

- A) kommst / komme aus
- B) komme / kommen aus
- C) kommt / kommen in
- D) kommen / kommt in

6. A: Sie Herr Bauer?

B:, Herr Meier.

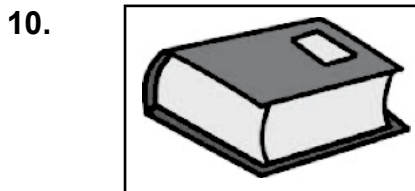
- A) Sind / Nein
- B) Bist / Ja
- C) Sein / Nein
- D) Bin / Ja

1. OTURUM

7. A: Sie aus Tokat?
 B: Nein, ich nicht aus Tokat.
 A) Wohnen / wohne
 B) Kommen / wohne
 C) Wohnen / komme
 D) Kommen / komme

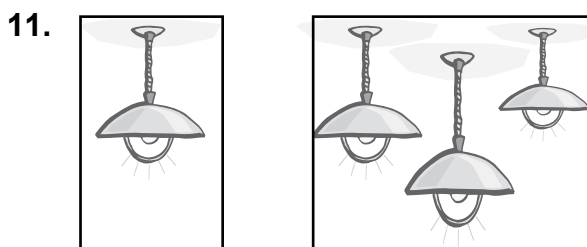
8. A:?
 B: Danke, gut.
 A) Was ist das? B) Wer bist du?
 C) Was machst du? D) Wie geht es dir?

9. A: ?
 B: Das ist eine Tasche.
 A) Was ist das? B) Wer ist das?
 C) Wo ist das? D) Wie ist das?



- A: Ist das eine Tasche?
 B: Nein, das ist Tasche.
 Das ist Buch.

- A) kein / eine B) keine / ein
 C) eine / kein D) ein / eine



Das ist eine Das sind

- A) Bilde / Bild B) Bild / Bilder
 C) Lampe / Lampen D) Lamp / Lampe

12. Ich esse Suppe, Hähnchen
 und Salat.
 A) ein / ein / einen B) ein / einen / eine
 C) eine / ein / ein D) eine / ein / einen

13. A: Was du morgens?
 B: Ein Glas Milch.
 A) trinkst B) isst
 C) möchten D) nehmen



- A:?
 B: Der kostet 2.50 €.
 A) Was möchten Sie?
 B) Was kostet der Hamburger?
 C) Nehmen Sie einen Hamburger?
 D) Wer möchte was?

15. A: Was du?
 B: Ich einen Fisch.
 A) essen / isst B) trinkst / trinke
 C) isst / trinke D) isst / esse

16. In der Disco wir tanzen.
 A) muss B) nehmen
 C) will D) können

17. Ich und meine Schwester um 8 Uhr

 A) stehe / auf B) stehen / auf
 C) steht / auf D) stehst / auf

18. Am Wochenende ich lange
 A) seht / fern B) siehst / fern
 C) sehe / fern D) sehen / fern

1. OTURUM

19.



A: Wie spät ist es?

B: Es ist Uhr .

- A) viertel vor zwölf B) halb elf
C) viertel nach elf D) zehn vor zwölf

20.



Was macht er?

- A) einen Film sehen B) Fußball spielen
C) Musik hören D) aufstehen

(607) FRANSIZCA – 6

1-18. sorularda boş bırakılan yere uygun gelen kelime ya da ifadeyi işaretleyiniz.

1. Jack prépare valise pour aller à Eskişehir.

- A) sa B) son
C) ton D) mes

2. Mary, je ne peux pas vivre sans

- A) les B) le
C) leur D) toi

3. J'aime les dessins animés je me sens toujours enfant.

- A) pour B) parce que
C) quelle D) pourquoi

4. Je n'ai pas lu roman mais j'ai lu celui de Kaya.

- A) cet B) cette
C) ces D) ce

5. Vous achetez robe ?

- A) quel B) quels
C) quelle D) quelles

6. Mon père parler avec nous.

- A) veut B) veux
C) voulons D) voulez

7. Moi, je n'ai pris l'avion.

- A) non B) jamais
C) ne D) ni

8. Hier soir, j'ai mes devoirs.

- A) faire B) fais
C) faites D) fait

9. Le matin, j'aime du thé.

- A) bois B) buvant
C) buvez D) boire

10. part de chez elle tous les matins à 7h.

- A) Nicole B) Pierre et moi
C) Nous D) Elles

11. D'habitude, je déjeune au restaurant hier j'ai mangé chez moi.

- A) avec B) sans
C) mais D) pour

12. Dans une, il y a sept jours.

- A) année B) semaine
C) jour D) mois

13. Les parents de Kumiko habitent Tokyo.

- A) à B) au C) en D) du

14. Mon frère fait accordéon.

- A) de B) du C) de l' D) des

1. OTURUM

15. Je vais à la pour emprunter des livres.

- A) boucherie B) poste
C) bibliothèque D) banque

16. La gare est au du musée.

- A) devant B) face
C) entre D) près

17. A :est-ce que tu viens ?
B : Je viens à midi.

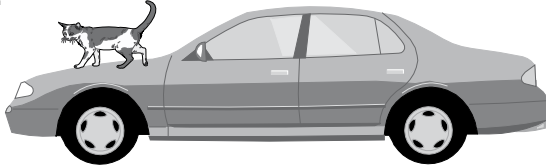
- A) Quelle B) Comment
C) Quand D) Que

18. A : J'aime bien Caroline, et toi ?
B : Moi, je déteste.

- A) le B) la C) les D) des

19-20. soruları resimleri dikkate alarak cevaplandırınız.

19.



Le chat est la voiture.

- A) sur B) entre
C) sous D) dans

20.



A : Qu'est-ce qu'il va faire ?
B : Il

- A) jouera au foot
B) lavera sa voiture
C) regardera la télé
D) déjeunera chez son ami

(608) DİN KÜL. VE AHLAK BİLGİSİ – 6

1. Aşağıdakilerden hangisi peygamberlerin insanlardan seçilme nedenini açıklar?

- A) "...Eğer yeryüzünde yurt tutup dolaşanlar melekler olsaydı o zaman onlara elçi olarak şüphesiz gökten bir melek indirirdik." (İsra suresi, 95. ayetler)
B) "Senden önce gönderdiğimiz her peygambere; "Şüphesiz, benden başka ilah yoktur." öyleyse bana ibadet edin." diye vahyetmişizdir." (enbiya suresi, 25. ayet)
C) "Peygamber, Rabbi tarafından kendisine indirilene iman etti, müminler de (iman ettiler)..". (Bakara suresi, 285. ayet)
D) "Böylece sizi orta bir ümmet yaptık ki insanlara şahit olasınız. Elçi de size şahit olsun..." (Bakara suresi, 143. ayet)

2. Peygamberlerin sıfatlarıyla ilgili aşağıdaki eşleştirmelerden hangisi yanlıştır?

- A) Doğru olmak → Sıdk
B) Zeki olmak → İsmet
C) Güvenilir olmak → Emanet
D) Allah'tan aldıkları vahyi topluma ulaştırmak → Tebliğ

3. Aşağıdakilerden hangisi peygamberlere gönderilen mesajın ortak amacını en kapsamlı şekilde dile getirir?

- A) "Biz her peygamberi ancak kendi kavminin dili ile gönderdik ki onlara iyice anlatabilsin..." (İbrahim suresi, 4. ayet)
B) "Ey Muhammed sana indirdiğimiz bu kitap mubarektir. Ayetlerini düşünsünler..." (Sâd suresi, 29. ayet)
C) "Ey iman edenler! Allah için hakkı ayakta tutan, adalete şahitlik eden kimseler olsun..." (Maide suresi, 8. ayet)
D) "Senden önce gönderdiğimiz her peygambere: "Benden başka ilah yoktur, bana kulluk edin." diye vahyetmişizdir." (Enbiya suresi, 25. ayet)

1. OTURUM

4. Aşağıdakilerden hangisi abdestin farzlarından biri değildir?

- A) Yüzü yıkamak B) Ağzı yıkamak
C) Başı mesnetmek D) Ayakları yıkamak

5. “Namaz kılan kimsenin, bedeninin ve namaz kılacağı yerin temiz olması” anlamına gelen namazın farzı aşağıdakilerden hangisidir?

- A) Kade-i Ahire B) İstikbal-i Kible
C) Necasetten taharet D) Setr-i Avret

6. Elleri diz kapağına koyup başı ve beli eğmek suretiyle yerine getirilen namazın farzı aşağıdakilerden hangisidir?

- A) Rükû B) Secde
C) Kıraat D) Kıyam

7. “Semi’allahu limen hamideh” namazın neresinde söylenir?

- A) Son oturuşta B) Secdeye varırken
C) Selam verirken D) Rükûdan doğrulurken

8. Hz. Muhammed’e ilk inen ayetler hangi surede yer almaktadır?

- A) Fatiha B) Yasin
C) Alak D) Bakara

9. Aşağıdakilerden hangisi Hz. Muhammed’in hicret yolculuğu esnasında gerçekleşmiştir?

- A) Akabe biatlarının yapılması
B) İlk mescidin inşa edilmesi
C) Mekkeli müşriklerle savaşılmaması
D) Hudeybiye anlaşmasının yapılması

10. Taif yolculuğu esnasında Hz. Muhammed’e aşağıdakilerden hangisi arkadaşlık etmiştir?

- A) Zeyd b. Harise B) Musab b. Umeyr
C) Ali b. Ebi Talip D) Ömer b. Hattab

11. Aşağıdakilerden hangisi hicretin sonuçlarından biri değildir?

- A) İslam dini daha hızlı yayılma imkanı bulmuştur.
B) Müslümanlar Mekkeli müşriklerin eziyetlerinden kurtulmuştur.
C) İslamın “Mekke Dönemi” sona ermiş, “Medine Dönemi” başlamıştır.
D) Müslümanlarla Mekkeli müşrikler bir daha karşılaşmamışlardır.

12. Hz. Muhammed Hudeybiye anlaşmasını kimlerle yapmıştır?

- A) Mekkeli Hristiyanlarla
B) Mekkeli Müşriklerle
C) Medineli Yahudilerle
D) Hayberli Yahudilerle

13. Peygamberimizin ölüm yeri ve yıl hangi seçenekte doğru verilmiştir?

- A) Medine - 632 B) Mekke - 630
C) Mekke - 628 D) Medine - 626

14. Hz. Ebu Bekir, “Ey insanlar! Kim Muhammed’e tapıyor idiye bilsin ki O ölmüştür. Kim de Allah’a tapıyorsa bilsin ki Allah ölümsüzdür...” sözüyle insanlara hangi mesajı vermek istemiştir?

- A) Müslüman her zaman ölüme hazır olmalıdır.
B) İnsanın ne zaman öleceğini Allah’tan başkası bilemez.
C) Ahirete iman edenler için ölüm bir “yok oluş” değildir.
D) Hz. Muhammed eceli gelince diğer insanlar gibi vefat etmiştir.

15. “Ben cinleri ve insanları ancak bana kulluk etsinler diye yarattım.” (Zariyat suresi, 54. ayet)

Bu ayet Kur’an-ı Kerim’in hangi konusuna işaret etmektedir?

- A) İnanç B) İbadet
C) Kıssa D) Ahlak

1. OTURUM

16. Hastalığa gösterdiği sabırdan dolayı, Kur'an-ı Kerim'in bize örnek gösterdiği peygamber aşağıdakilerden hangisidir?

- A) Hz. Yusuf B) Hz. Şuayb
C) Hz. Eyüp D) Hz. Davut

17. Sözüm odun gibi olsun doğru olsun tek.

M. Akif ERSOY

Şairin bu sözünü ilke edinen bir müslüman aşağıdaki kötü alışkanlıkların hangisinden öncelikle korunur?

- A) İçki B) Haset
C) Yalan D) Hırsızlık

18. "Allah kendini beğenip böbürleneni sevmez." (Nisa suresi, 36. ayet)

Yukarıdaki ayette hangi davranıştan sakınmamız istenmiştir?

- A) İftira B) Kibir
C) Gıybet D) Alay

19. "Kötü davranışlar karşısında duyarsız kalmamalıyım." diyen bir insan aşağıdakilerden hangisini ilke edinmelidir?

- A) İyiliği öğütlemeyi kötülükten sakındırmayı
B) Başkalarının hatalarını görmemezlikten gelmeyi
C) Kötü alışkanlığı olan insanlardan uzak durmayı
D) Kendisine dokunmayan kötülüklerle ilgilenmemeyi

20. Türk - İslam kültürünün en önemli eserlerinden biri olarak kabul edilen ve tasavvuf düşüncesinin ana konularının ele alındığı "Mesnevi" adlı eser aşağıdakilerden hangisine aittir?

- A) Fuzulî
B) Ahmet Yesevi
C) Hacı Bektaş Veli
D) Mevlana Celaleddin-i Rumi

(701) TÜRKÇE – 7

1. Aşağıdaki atasözlerinin hangisinde karşıt anlamlı sözcükler bir arada kullanılmamıştır?

- A) Az ateş çok odunu yakar.
B) Ak koyunun kara kuzusu da olur.
C) Aç doymam, tok acıkmam sanır.
D) Taze bardağın suyu soğuk olur.

2. İki hafta sonra, aynı saatte Ali Bey dükkânın önünde görüldü. Namık Efendi, bir dilekçe yazıyordu. Müşterisini görünce güldü.

Bu metindeki altı çizili ifade, hikâyenin hangi unsurudur?

- A) Zaman B) Olay
C) Yer D) Şahıs

3. Aşağıdakilerden hangisi olay yazısı değildir?

- A) Deneme B) Anı
C) Hikâye D) Tiyatro

4. Muhtelif toplantılarda yapılan konuşmaları, söylenen sözleri herhangi bir olayın şekil ve sonuçlarını bildiren imzalı yazılara ne ad verilir?

- A) Rapor B) Tutanak
C) Söyleşi D) Mektup

5. Amacı "Dinlenenlerin yorumlanması ve bunlardan yeni düşünceler üretilmesi" olan dinleme yöntem ve tekniği aşağıdakilerden hangisidir?

- A) Empati kurma B) Katılımlı dinleme
C) Not alarak dinleme D) Yaratıcı dinleme

6. Amacı "Öğrencilerin bir konu hakkındaki bilgilerini, duygularını ve düşüncelerini etkili bir şekilde anlatma becerilerini geliştirmek" olan konuşma yöntem ve tekniği aşağıdakilerden hangisidir?

- A) Eleştirel konuşma B) Katılımlı konuşma
C) Güdümlü konuşma D) Serbest konuşma

1. OTURUM

7. Amacı “Hafızanın güçlendirilmesini, kültürel ve edebî değere sahip metinlerdeki cümle yapılarını ve söz varlığını kavrayarak Türkçeyi doğru, güzel ve etkili kullanmayı sağlamak” olan okuma yöntemi aşağıdakilerden hangisidir?

- A) Eleştirel okuma B) Ezberleme
C) Özetleyerek okuma D) Metinlerle ilişkilendirme

8. “Çalı kuşu gibi daldan dala konan kararsız bir çocuktur.”

Bu cümledeki altı çizili deyimın anlamı aşağıdakilerden hangisidir?

- A) Sık sık iş, konu veya düşünce değiştirmek
B) Güvenilecek, dayanılacak bir insana ihtiyaç duymak
C) Bir düşünce veya hayal ile bulunduğu ortamdan uzaklaşmak
D) Birinin dalgınlığından faydalanıp kendi istediğini gerçekleştirmek

9. Aşağıdaki cümlelerin hangisinde benzetme vardır?

- A) Küçük kızın dişleri oldukça beyazdı.
B) Bizim kapımız herkese açıktır.
C) Kardeşimin aldığı hediyeı çok beğendim.
D) Yüzü bir kır çiçeğı gibi sönmüştü.

10. Tüıden hafif olurum böyle sabahlar;
Karşı damda bir güneş parçası,
İçimde kuş cıvıltıları, şarkılar;
Bağıra çağıra düşerim yollara;
Döner döner durur başım havalarda.

Bu şiirin ana duygusu aşağıdakilerden hangisidir?

- A) Mutluluk B) Özlem
C) Merak D) Cesaret

11. Kendinize ille de bir dost bulmak isterseniz onu kitaplar arasında aramalısınız. Her şeyden, herkesten vefasızlık gelir; kitaplardan gelmez. Dahası insanoğlu dost bellediğı bir kitaptan uzaklaşmak istese bile bilir ki o kitap canciğer oluşlarından önce neyse, sonra da odur.

Bu metnin ana fikri aşağıdakilerden hangisidir?

- A) İnsanlar kitaplardan uzaklaşmak istemez.
B) İnsana herkesten kötülük gelebilir.
C) Kitapların dostluğu kısa sürelidir.
D) Kitaplar en vefalı dostlardır.

12. Aşağıdaki cümlelerin hangisinde zaman zarfı vardır?

- A) Aslı içerde resim yapıyor.
B) Kışın Erciyes’te kayak yapacağız.
C) Bunca yolu koşarak nasıl gideriz?
D) Bana biraz okulundan bahseder misin?

13. “Mardin yolculuğuna annemle çıkacağım.” cümlesinde hangi sözcük vurgulanmak istenmiştir?

- A) Mardin B) Yolculuğuna
C) Annemle D) Çıkacağım

14. Aşağıdakilerin hangisinde “zeki” sözcüğü, ek fiil aracılığıyla görülen geçmiş zaman kipinde çekimlenmiştir?

- A) Zekiydi B) Zekiymiş
C) Zekiyse D) Zekidir

15. Aşağıdakilerin hangisinde birleşik zamanlı bir fiil vardır?

- A) Dünkü toplantı çok uzun sürmüştü.
B) Bu gece oğlunun yanına gidecekti.
C) Başarıya ulaşmak için her yolu deneyecek.
D) Mektubunu okurken içimi tatlı bir duygu sardı.

16. Aşağıdaki cümlelerin hangisinde zaman kayması vardır?

- A) Geçen gün onu markette gördüm.
B) Bu sıkıntısı çok çalışmasından olmalı.
C) Derslerime her hafta düzenli olarak çalışıyorum.
D) Haftaya ben de size eşlik edeceğim.

17. Aşağıdaki kurallı birleşik fiillerden hangisi “süreklilik” fiilidir?

- A) Hayretimi gizleyemedim, şaşakaldım.
B) Merdivenlerden inerken düşeyazdı.
C) Damlalar pencereden süzülüyordu.
D) Böyle güçlüklerin altından çok kolay kalkabilir.

1. OTURUM

18. Aşağıdakilerin hangisinde altı çizili fiil, dilek kiplerinden biriyle çekimlenmiştir?

- A) Biriken dergilerin yapraklarını karıştırıyorum.
 B) İşlerimizi bir an önce bitirmeliyiz.
 C) Evimizin karşısına büyük bir apartman yapılacak.
 D) Havaların ısınmasıyla karıncalar ortaya çıktı.

19. Aşağıdaki altı çizili fiillerden hangisi yapıcı diğerlerinden farklıdır?

- A) Arkadaşlarımla hafta sonu için plan yaptık.
 B) Kardeşine çok kolay bir bilmece sordu.
 C) Alışveriş listesini evde unuttum.
 D) Beni görünce birden gülümsedi.

20. Oğuz Atay() Oyunlarla Yaşayanlar() İletişim Yayınları() İstanbul() 2006()

Yukarıdaki yay ayrıca belirtilen yerlere, sırasıyla hangi noktalama işaretleri getirilmelidir?

- A) (-) (-) (-) (-) (...) B) (:) (:) (:) (:) (.)
 C) (,) (,) (,) (,) (.) D) (/) (/) (/) (/) (...)

(702) MATEMATİK – 7

1. $(-11) \cdot (-9) \cdot 0 \cdot (-2) \cdot 3$ işleminin sonucu kaçtır?

- A) -594 B) 0
 C) 120 D) 594

2. $-\frac{7}{11}, -\frac{7}{4}, \frac{1}{4}$ rasyonel sayılarının doğru sıralanışı hangisidir?

- A) $-\frac{7}{4} < -\frac{7}{11} < \frac{1}{4}$ B) $-\frac{7}{11} < -\frac{7}{4} < \frac{1}{4}$
 C) $\frac{1}{4} < -\frac{7}{4} < -\frac{7}{11}$ D) $-\frac{7}{11} < \frac{1}{4} < -\frac{7}{4}$

3. $-4 - (-3\frac{3}{4})$ işleminin sonucu aşağıdakilerden hangisidir?

- A) $-7\frac{3}{4}$ B) $-1\frac{3}{4}$
 C) $-1\frac{1}{4}$ D) $-\frac{1}{4}$

4. Bir yağ fabrikasındaki 225 litre yağın tamamı $1\frac{1}{2}$ litrelik şişelere doldurularak satılacaktır. Fabrikada 65 tane boş şişe olduğuna göre, kaç şişeye daha ihtiyaç vardır?

- A) 10 B) 75
 C) 85 D) 125

5. Yaşları sırasıyla 3, 4 ve 5 olan üç arkadaş, 120 lirayı yaşlarıyla orantılı olarak paylaşıyorlar.

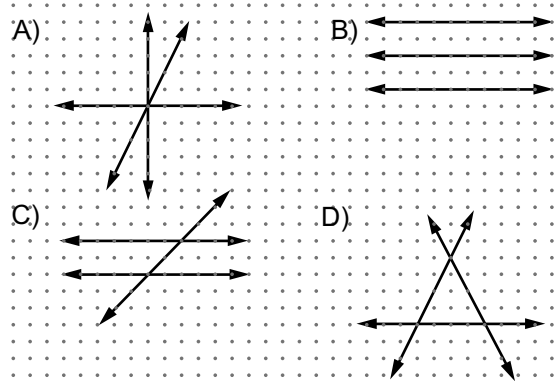
Buna göre en az parayı alan kaç lira almıştır?

- A) 10 B) 30 C) 40 D) 50

6. Fiyatı 112 TL olan bir elbise % 25 indirimle satılmaktadır. Bu elbisenin indirimli fiyatı kaç liradır?

- A) 66 B) 84 C) 87 D) 90

7. Aşağıdakilerden hangisindeki doğrular nokta-daştır?

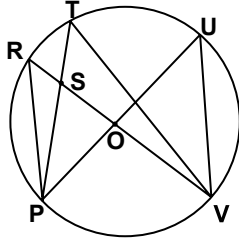


8. Aşağıdaki çokgenlerden hangisi daima birbirine benzerdir?

- A) Dikdörtgen B) Eşkenar Dörtgen
 C) Üçgen D) Kare

1. OTURUM

9.



Aşağıdakilerden hangisi PV yayını gören bir çevre açısı değildir?

- A) \widehat{PRV} B) \widehat{PUV} C) \widehat{PTV} D) \widehat{PSV}

10.



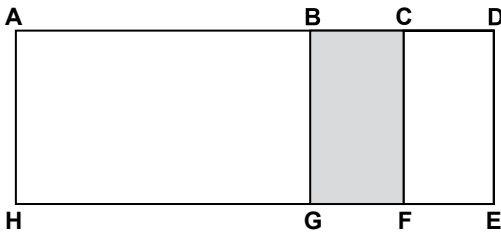
Yukarıdaki işlemin d doğrusuna göre yansımından elde edilen işlemin sonucu kaçtır?

- A) -54 B) 27
C) 54 D) 0

11. Bir beşgenin iç açılarının ölçüleri toplamı kaç derecedir?

- A) 540 B) 630 C) 720 D) 900

12.



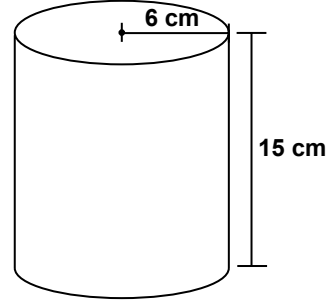
Şekilde ACFH dikdörtgeni ile BDEG karesi iç içe geçmiştir. ACFH dikdörtgeninin uzun kenarı 10 cm, kısa kenarı 4 cm ve ADEH dikdörtgeninin alanı 48 cm^2 olduğuna göre, boyalı alan kaç santimetrekaredir?

- A) 16 B) 14 C) 12 D) 8

13. Yarıçapı 15 cm olan bir çemberin 72° lik merkez açısının gördüğü çember yayının uzunluğu kaç santimetredir? (π 'yi 3 alınız.)

- A) 18 B) 30 C) 48 D) 60

14.



Yarıçapı 6 cm ve yüksekliği 15 cm olan yukarıdaki gibi silindir şeklinde olan konserve kutusunun yanal yüzü bir etiketle tamamen kaplanacaktır. Bu etiketin bir yüzünün alanı en az kaç santimetrekare olmalıdır? (π 'yi 3 alınız.)

- A) 1620 B) 1040 C) 540 D) 270

15. Efe, yarıçapı 10 cm ve yüksekliği 20 cm olan dik dairesel silindir biçimindeki tahtadan, yarıçapı 7 cm ve yüksekliği 20 cm olan dik dairesel silindir biçiminde bir parça kesip çıkarılıyor. Geriye kalan içi boş tahtanın hacmi kaç santimetreküptür? (π 'yi 3 alınız.)

- A) 6000 B) 3060 C) 2940 D) 2560

16. $4! - 2!$ işleminin sonucu kaçtır?

- A) 2 B) 12 C) 16 D) 22

17. Her birinde farklı bir rakamın yazılı olduğu aynı büyüklükteki kartonlar bir torbaya atılıyor. Torbadan çekilen bir kartondaki rakamın çift veya asal sayı olma olasılığı nedir?

- A) 1 B) $\frac{9}{10}$
C) $\frac{4}{5}$ D) $\frac{7}{10}$

18. Emel'in matematik dersinden aldığı beş notun dördü 45, 56, 78 ve 73'tür. Aldığı beş notun ortalaması 65 olduğuna göre, Emel'in beşinci notu kaçtır?

- A) 65 B) 68 C) 73 D) 75

1. OTURUM

19. $(x - 1)^2 - (x + 1)^2$ işleminin sonucu aşağıdaki-
lerden hangisidir?

- A) 2 B) $-4x$
C) $-4x + 2$ D) -2

20. Koordinat sisteminde A(a, b) noktası 2. bölge-
de olduğuna göre B(- a, - b) noktası kaçınıcı
bölgededir?

- A) IV B) III C) II D) I

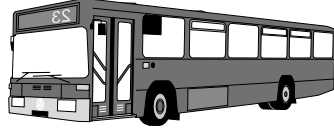
(703) FEN VE TEKNOLOJİ – 7

1. Aynı süratle hareket etmekte olan ve kütleleri
verilen aşağıdaki araçlardan hangisinin kine-
tik enerjisi en büyüktür?

- A) B)



Kütlesi: 2200 kg



Kütlesi: 15000 kg

- C)



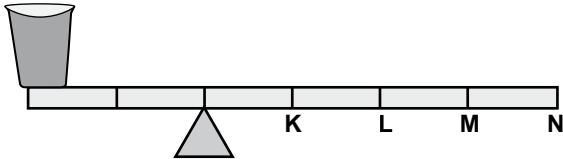
Kütlesi: 1200 kg

- D)



Kütlesi: 10000 kg

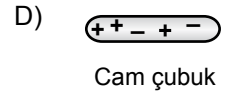
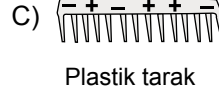
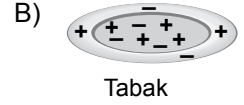
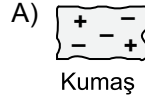
2. Ahmet, içi kum dolu kovayı şekildeki gibi kütlesi
önemsiz ve eşit bölmeli kaldıraç ile K, L, M ve N
noktalarına ayrı ayrı kuvvet uygulayarak denge-
de tutuyor.



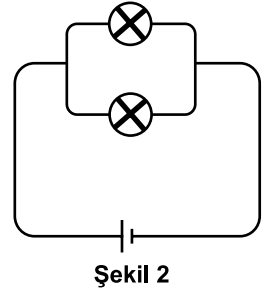
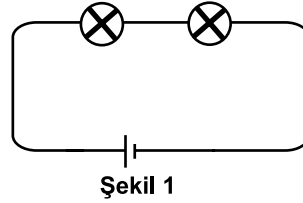
Buna göre Ahmet, hangi noktaya uyguladığı
kuvvetten en fazla kazanç elde eder?

- A) N B) M C) L D) K

3. Yük durumları sembolik olarak verilen aşağıdaki
maddelerden hangisi nötrdür?



4. Özdeş ampul ve piller kullanılarak şekildeki
devreler kuruluyor.



Bu devrelerle ilgili aşağıdakilerden hangisi
söylenbilir?

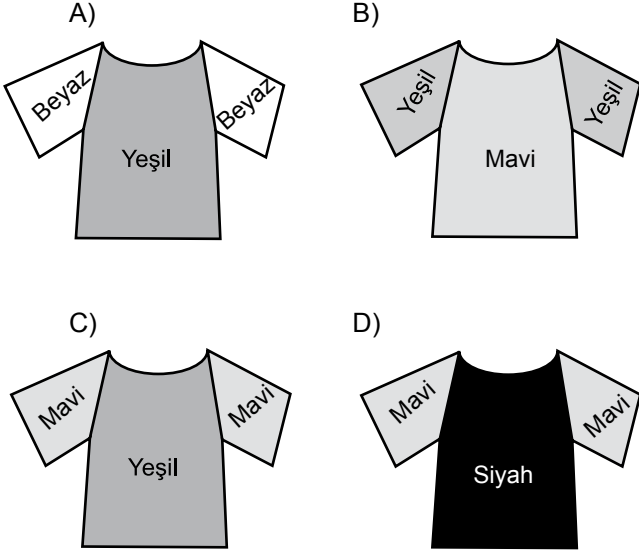
- A) Şekil-1'deki ampuller paralel bağlıdır.
B) Şekil-1'deki ampuller, Şekil-2'deki ampullerden
daha parlak yanar.
C) Şekil-2'deki ampul sayısı artırılırsa, diğer am-
pullerin parlaklığı artar.
D) Şekil-2'deki ampullerden biri arızalanırsa,
diğeri ışık vermeye devam eder.

1. OTURUM


5. Sibel, kolları beyaz ve gövdesi yeşil renkli şekildeki bluzu sadece mavi ışığın aydınlatıldığı bir mağazada deniyor.




Buna göre Sibel, bluzu aşağıdakilerden hangisi gibi görür?



6. İçi boş cam bardağın içerisine konulan kalem Şekil-1'deki gibi görünmektedir. Aynı bardağa su doldurulduğu zaman kalemin görünümü Şekil-2'deki gibi olmaktadır.



Şekil-1



Şekil-2

Bu durumun nedeni aşağıdakilerden hangisidir?

- A) Su ve havanın farklı yoğunlukta olması
- B) Işık ışınlarının kırılmadan havaya geçmesi
- C) Işığın tüm saydam ortamlarda aynı hızla yayılması
- D) Işığın geldiği ortama, normalle eşit açı yaparak geri dönmesi

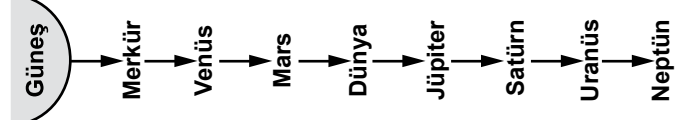
7. Tabloda bazı gök cisimleri numaralandırılmıştır.

1. Büyükayı	2. Meteor	3. Orion
4. Halley	5. Ejderha	6. Ikaye Zhang

Buna göre, bu gök cisimlerinden hangileri kuyruklu yıldızdır?

- A) 1, 3 ve 5
- B) 2, 4 ve 6
- C) 4 ve 6
- D) 3 ve 5

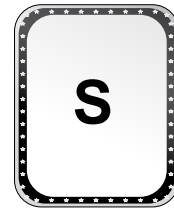
8. Arda, Güneş sistemindeki gezegenleri Güneş'e yakınlıklarına göre aşağıdaki gibi sıralamıştır.




Buna göre, bu sıralamanın doğru olması için Arda hangi iki gezegenin yerini değiştirmelidir?

- A) Venüs - Mars
- B) Mars - Dünya
- C) Dünya - Jüpiter
- D) Satürn - Uranüs

9. Öğrenciler hazırladıkları element kartlarının ön yüzüne elementin sembolünü, arka yüzüne de o elementin adını yazmaktadırlar.



Ön yüz



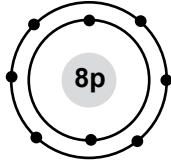
Arka yüz

Buna göre, yukarıda verilen kartın arka yüzüne yazılacak element adı aşağıdakilerden hangisidir?

- A) Klor
- B) Kükürt
- C) Karbon
- D) Kalsiyum

1. OTURUM

10. Bir atoma ait elektron dizilimi şekilde verilmiştir.



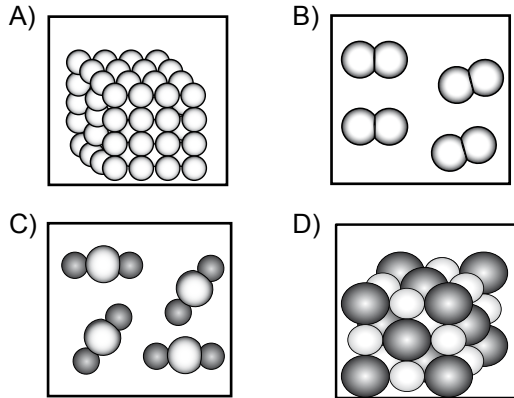
Bu atom ile ilgili aşağıdakilerden hangisi doğrudur?

- A) Kararlıdır.
- B) İyon hâli katyondur.
- C) 3 katmandan oluşmuştur.
- D) Elektron almaya yatkındır.

11. Aşağıda verilen tanecik çiftlerinden hangisinin arasında iyonik bağ oluşur?

- A) Li^+ ve K^+
- B) K^+ ve He
- C) Li^+ ve F^-
- D) He ve F^-

12. Tanecik modelleri verilen aşağıdaki maddelerden hangisi molekül yapılı bir bileşiktir?



13. Ayşe, arkadaşlarının isteklerine göre aynı miktarda su ve kahve kullanarak şekildeki gibi Türk kahvesi hazırlıyor.



Ayşe'nin hazırladığı Türk kahvelerinin, derişikten seyreltiğe doğru sıralaması aşağıdakilerden hangisidir?

- A) II - III - I
- B) III - II - I
- C) I - III - II
- D) III - I - II

14. Sindirim sistemi rahatsızlıklarından birinde, asitli mide içeriği yemek borusuna gelir. Bu durum sürekli olursa yemek borusunun kendini asitten koruma özelliği yok olur.

Aşağıdakilerden hangisi bu durumu artırıcı uygulamalardandır?

- A) Asitli içeceklerin içilmemesi
- B) Karın bölgesini sıkı kıyafetlerin giyilmesi
- C) Yemeklerden hemen sonra yatılmaması
- D) Sık sık ve az miktarda yemek yenilmesi

15. • Kandaki zararlı atıkları ve üreyi süzerek, idrar şeklinde vücuttan uzaklaştırır.
• Yeterli miktarda su içilmesi, bu sistemin sağlığının korunmasında etkilidir.

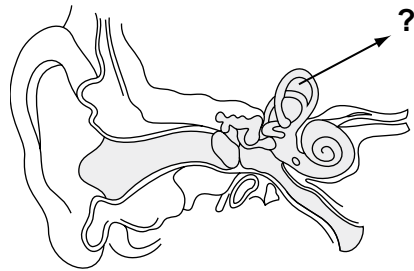
Yukarıda vücudumuzdaki bir sistemin bazı özellikleri verilmiştir. Aşağıdaki organlardan hangisi bu sistemde yer alır?

- A) Akciğer
- B) Böbrek
- C) Karaciğer
- D) Kalın bağırsak

16. Ayşe'nin bir gün içinde gerçekleştirdiği aşağıdaki faaliyetlerden hangisi omurilik tarafından kontrol edilebilir?

- A) Müzik dinlemesi
- B) Susadığında su içmesi
- C) Ayağına iğne battığında, ayağını aniden çekmesi
- D) Kitap okuyarak yeni bilgiler öğrenmesi

17.



Şekilde kulağımızın kısımları verilmiştir. Ok işareti ile gösterilen kısım, aşağıdakilerden hangisidir?

- A) Salyangoz
- B) Orta kulak kemikleri
- C) Östaki borusu
- D) Yarım daire kanalları

1. OTURUM

18. Ot → Fare → Tilki → Dağ aslanı
Çalı → Tavşan → Kartal
Yonca → Tavşan → Kartal

Yukarıda bazı besin zincirleri verilmiştir. Bunların ortak özelliği aşağıdakilerden hangisidir?

- A) Üreticilerle başlamaları
B) Tüm etçillerin aynı türden olması
C) Aynı türdeki üreticilerden oluşmaları
D) Eşit sayıda tüketici canlı bulundurmaları

19. Bir konferansta ülkemizin çevre sorunlarıyla ilgili bir konu hakkında bilgi veren araştırmacı “Asya fili, yaban öküzü, aslan ve kaplan” gibi canlıları örnek vermiştir.

Buna göre araştırmacının anlattığı konu aşağıdakilerden hangisidir?

- A) Ülkemizde nesli tükenmiş olan canlılar
B) Yaşadıkları çevreye en fazla zarar veren canlılar
C) Ülkemizde çevre kirliliğinden en az etkilenen canlılar
D) Kendi habitatlarında koruma altına alınan canlılar

20. Ülkemizde hava kirliliğinin oluşmasında genel olarak

I- Linyit kömürü kullanımı

II- Endüstriyel tesisler

III- Motorlu araçlar

faktörlerinden hangileri etkilidir?

- A) Yalnız I
B) I ve III
C) II ve III
D) I, II ve III

(806) TC İNK. TAR. VE ATATÜRK. – 8

1. Aşağıdakilerden hangisi, Mustafa Kemal’in öğrenim gördüğü okullardan biri değildir?

- A) Şemsi Efendi İlkokulu
B) Selanik Mülkiye Rüştiyesi
C) Manastır Askeri İdadisi
D) İzmir Harp Okulu

2. Uşi Antlaşması’nda Oniki Ada geçici olarak, aşağıdaki devletlerden hangisine verilmiştir?

- A) İngiltere’ye
B) İtalya’ya
C) Fransa’ya
D) Yunanistan’a

3. Aşağıdaki devletlerden hangisi, İttifak Devletleri arasında yer alır?

- A) Fransa
B) Almanya
C) Rusya
D) İngiltere

4. “Milletler Cemiyeti” dünya barışını sağlamak amacıyla aşağıdaki hangi savaş sonrası kurulmuştur?

- A) I. Balkan Savaşı
B) Trablusgarp Savaşı
C) I. Dünya Savaşı
D) Körfez Savaşı

5. Kuvayımillîye birliklerinin kurulmasının amacı, aşağıdakilerden hangisidir?

- A) İşgalcilere karşı koyup, kurtuluş çareleri aramak
B) Osmanlı Devleti’nin I. Dünya Savaşı’nı kazanmasını sağlamak
C) Anadolu’da İngiliz mandasına dayalı bir yönetim kurmak
D) Osmanlı Devleti’nin Trablusgarp Savaşı’nda kaybettiği yerleri geri almak

6. I- Hınçak Cemiyeti
II- Millî Kongre Cemiyeti
III- Trakya-Paşaeli Cemiyeti
IV- Pontus Cemiyeti

Yukarıdakilerden hangileri Millî Cemiyetler arasında yer almaktadır?

- A) Yalnız I
B) I ve II
C) II ve III
D) I, II ve IV

1. OTURUM

7. Kurtuluş Savaşı'na başlangıç ve millî egemenlik yolunda atılmış ilk adım olarak kabul edilen gelişme, aşağıdakilerden hangisidir?
- A) Sivas Kongresi B) Havza Genelgesi
C) Erzurum Kongresi D) Amasya Genelgesi
8. Kurtuluş Savaşı'nın Doğu Cephesi'nde, aşağıdaki devletlerden hangisiyle savaşılmıştır?
- A) Ermenistan B) Fransa
C) İngiltere D) Rusya
9. Fransa, Sakarya Savaşı sonrası imzalanan Antlaşması ile TBMM'yi resmen tanımıştır.
- Verilen cümlede boş bırakılan yere, aşağıdakilerden hangisi yazılmalıdır?
- A) Londra B) Ankara
C) İstanbul D) Paris
10. Son Osmanlı padişahı, aşağıdakilerden hangisidir?
- A) II. Abdülhamit B) V. Murat
C) Mehmet Reşat D) Vahdettin
11. Aşağıdakilerden hangisi, Mustafa Kemal'in isteği üzerine Ali Fethi Okyar tarafından 1930 tarihinde kurulmuş olan muhalefet partisidir?
- A) Serbest Cumhuriyet Fırkası
B) Demokrat Parti
C) Terakkiperver Cumhuriyet Fırkası
D) Cumhuriyetçi Millet Partisi
12. Eski İttihat ve Terakki Fırkası üyeleri Mustafa Kemal Atatürk'e karşı, aşağıdaki hangi ilimizde suikast düzenlemeyi kararlaştırmışlardır?
- A) İstanbul B) Ankara
C) İzmir D) Adana
13. Aşağıdakilerden hangisi, millî güç unsurları arasında yer almaz?
- A) Siyasi Güç B) Uluslararası Güç
C) Askeri Güç D) Ekonomik Güç
14. Atatürk, ekonomi alanındaki görüşlerini, aşağıdaki ilkelerden hangisinde belirtmiştir?
- A) Cumhuriyetçilik B) Devletçilik
C) Laiklik D) Halkçılık
15. Aşağıdaki Atatürk ilkelerinden hangisi, dinamik bir inkılap anlayışı sağlamak ve sürdürmek amacıyla benimsenmiş bir ilkedir?
- A) Laiklik B) Halkçılık
C) Cumhuriyetçilik D) İnkılapçılık
16. Türkiye Cumhuriyeti, Boğazlar üzerindeki kesin egemenliğini aşağıdakilerden hangisi ile sağlamıştır?
- A) Ankara Antlaşmasıyla B) Lozan Antlaşmasıyla
C) Kars Antlaşmasıyla D) Montrö Sözleşmesiyle
17. Aşağıdakilerden hangisi, 1934 yılında imzalanan Balkan Antantı'na katılmış devletlerden biri değildir?
- A) Türkiye B) Yunanistan
C) Makedonya D) Romanya
18. Müttefik Devletler, aşağıdakilerden hangisinde doğru olarak bir arada verilmiştir?
- A) İngiltere, Fransa, SSCB
B) İngiltere, İtalya, Almanya
C) Fransa, İtalya, Almanya
D) Almanya, Japonya, İtalya
19. Dünya, Soğuk Savaş Dönemi'nde hangi iki ülkenin başını çektiği rekabete tanık olmuştur?
- A) Almanya - Fransa B) İngiltere - Japonya
C) ABD - SSCB D) ABD - İsrail
20. Türkiye, aşağıdaki hangi savaş sonrası NATO'ya üye olmuştur?
- A) Kıbrıs B) Irak
C) I. Dünya D) Kore

1. OTURUM

(807) İNGİLİZCE – 8

1-20. sorularda boş bırakılan yere uygun gelen kelime ya da ifadeyi işaretleyiniz.

1. I have been in New York yesterday.

- A) for B) as C) since D) then

2. I haven't done my homework

- A) just B) yet C) ever D) already

3. you boil water, it evaporates.

- A) To B) At C) Up D) If

4. The answer is right or wrong.

- A) either B) neither C) too D) so

5. There is milk in the bottle.

- A) any B) some C) an D) a

6. There is a of soap in the bathroom.

- A) jar B) loaf C) bar D) can

7. The box is too to lift.

- A) expensive B) young
C) cheap D) heavy

8. Selen always tells the truth and never gossips. She is a person.

- A) lazy B) reliable
C) slow D) generous

9. The books I read were interesting.

- A) which B) where C) when D) who

10. The man to you spoke is my manager.

- A) where B) whose C) whom D) that

11. I to stay at home rather than go out.

- A) need to B) prefer C) have to D) should

12. They moved to Ankara

- A) next week B) at the moment
C) last year D) tomorrow

13. I Ali last week.

- A) met B) meet C) meeting D) to meet

14. Some different languages in this country.

- A) speak B) speaks
C) is spoken D) are spoken

15. She unhappy.

- A) smells B) tastes C) looks D) touches

16. butter from milk?

- A) Is / made B) Is / make
C) Does / made D) Does / make

17. She was working while

- A) we will arrive.
B) he has just left.
C) she played tennis.
D) they were dancing.

18. Titanic is the most interesting film

- A) she has ever tasted.
B) we have ever seen.
C) he has ever visited.
D) I have ever used.

1. OTURUM

19. A: I'm tired.

B:

- A) She had better be careful.
- B) He's supposed to study.
- C) You should have a rest.
- D) I prefer coffee to tea.

20. A:

B: You can take a bus.

- A) How can I get to the airport?
- B) How much does it cost?
- C) What size is your shirt?
- D) What is it made of?

(807) ALMANCA – 8

1 - 19. sorularda boş bırakılan yere uygun gelen ek, kelime ya da ifadeyi işaretleyiniz.

1. A: Hallo! Wie geht es Ömer?

B: Danke, es geht gut.

- A) du / ich
- B) dir / mir
- C) dich / mich
- D) mir / dir

2. A: Wie geht es deinem Vater ?

B: Es geht sehr gut.

- A) Ihnen
- B) ihm
- C) er
- D) ihr

3. Sie spricht mit Lehrerin.

- A) das
- B) die
- C) der
- D) dem

4. A: Kennen Sie Mann?

B: Nein, ich kenne nicht.

- A) der / er
- B) dem / ihr
- C) den / ihn
- D) das / ihn

5. A: suchst du?

B: Ich suche den Direktor.

- A) Wem
- B) Was
- C) Wo
- D) Wen

6. A: Wie heißt?

B: Ahmet.

- A) sie
- B) er
- C) ihn
- D) ihm

7. Wir spielen Basketball, wir Zeit haben.

- A) denn
- B) aber
- C) doch
- D) wenn

8. Cansu lernt Deutsch, sie hat deutsche Briffreunde.

- A) denn
- B) weil
- C) wenn
- D) aber

9. Das ist unser Garten. Der Garten gehört

- A) uns
- B) mir
- C) dir
- D) euch

10. Ich freue auf die Sommerferien.

- A) sich
- B) mich
- C) euch
- D) uns

11. Das Kind wäscht die Hände.

- A) mich
- B) uns
- C) sich
- D) dich

12. Letzte Woche ich nach İstanbul

- A) bin / fliege
- B) bin / geflogen
- C) habe / fliegt
- D) habe / flog

13. A: Sie gestern krank?

B: Ja, ich Kopfschmerzen.

- A) War / habe
- B) Sind / hat
- C) Sein / gehabt
- D) Waren / hatte

14. Die Kinder Eis essen.


- A) durfte
- B) durftet
- C) durften
- D) durftest

1. OTURUM

15. die schwarz- Jacke

- A) -er B) -e C) -en D) -em

16.



Ayla ist
Gül ist

- A) dünn / dick B) gross / klein
C) kurz / lang D) alt / jung

17.



A: Wo ist der Ball?

B: Der Ball ist

- A) unter dem Bett B) auf dem Bett
C) vor dem Bett D) hinter dem Bett

18. Die Fenster Hauses ist klein.

- A) das B) des C) dem D) den

19. Die Tasche, auf dem Tisch steht gehört mir.

- A) den B) das C) der D) die

20. Was machen sie?



- A) faulenzen B) angeln
C) tanzen D) schwimmen

(807) FRANSIZCA – 8

1-20. sorularda boş bırakılan yere uygun gelen kelime ya da ifadeyi işaretleyiniz.

1. Si vous ne pas dormir, lisez ou écoutez de la musique.

- A) pourrez B) pouvoir
C) pouvez D) pouvant

2. J'étais à la maison, je la télé.

- A) regardais B) regarde
C) vais regarder D) regarder

3. Nous nous promenons dans le parc en

- A) parler B) parles
C) parlant D) parlez

4. Alice ne viens pas parce qu'elle a mal aux

- A) tête B) main
C) partout D) dents

5. Hier, on au bord de la mer.

- A) est allé B) va
C) ira D) aller

1. OTURUM

6. Je veux acheter voiture rouge.

- | | |
|--------|----------|
| A) ce | B) cet |
| C) ces | D) cette |

7. La Turquie est le pays le plus par les touristes.

- | | |
|-----------|-----------|
| A) longue | B) visité |
| C) pauvre | D) petite |

8. Ce pantalon-ci est très cher mais est bon marché.

- | | |
|-------------|-------------|
| A) celle-là | B) celui-là |
| C) ceux-là | D) celle-ci |

9. Le palais de Topkapı est le palais connu de la Turquie.

- | | |
|-------------|-------------|
| A) les plus | B) la plus |
| C) le plus | D) la moins |

10. Les élèves de Martin sont travailleuses mais de Kevin sont paresseuses.

- | | |
|----------|-----------|
| A) ceux | B) celui |
| C) celle | D) celles |

11. La mère à son fils : Finis tes devoirs !

La mère dit à son fils finir ses devoirs.

- | | | | |
|--------|-------|-------|--------|
| A) que | B) de | C) si | D) des |
|--------|-------|-------|--------|

12. Tu réveilles à quelle heure le matin?

- | | | | |
|-------|--------|--------|---------|
| A) te | B) toi | C) lui | D) leur |
|-------|--------|--------|---------|

13. Montre-moi la robe tu as achetée.

- | | | | |
|--------|--------|-------|---------|
| A) qui | B) que | C) où | D) quel |
|--------|--------|-------|---------|

14. Pouvez-vous me dire se trouve Notre-Dame?

- | | |
|----------|---------|
| A) comme | B) sans |
| C) où | D) aux |

15. Le cinéma est à de l'avenue Foch et de la rue de l'aéroport

- | | |
|-------------|---------|
| A) derrière | B) coin |
| C) l'angle | D) face |

16. la première rue à droite !

- | | |
|------------|-------------|
| A) Prenez | B) Prennent |
| C) Prenant | D) Prend |

17. Mon père veut acheter appartement.

- | | | | |
|----------|-------|--------|--------|
| A) cette | B) ce | C) cet | D) ces |
|----------|-------|--------|--------|

18. Je vais offrir ces à ma mère.

- | | |
|-----------|-----------|
| A) devoir | B) chien |
| C) pain | D) fleurs |

19. Ma femme a acheté une voiture est économique.

- | | | | |
|--------|--------|-------|---------|
| A) qui | B) que | C) où | D) donc |
|--------|--------|-------|---------|

20. C'est ma mère qui tricoté ce nouveau pull.

- | | | | |
|-------|------|-------|-------|
| A) es | B) a | C) ai | D) as |
|-------|------|-------|-------|

1. OTURUM

(808) DİN KÜL. VE AHLAK BİLGİSİ – 8

1. “Hiç bir şey yoktur ki kaynağı bizim katımızda olmasın ve biz hiçbir şey indirmeyiz ki kusursuzca belirlenmiş bir ölçüye, bir uyuma dayanmasın.” (Hicr Suresi, 21. ayet)

Bu ayette aşağıdaki kavramlardan hangisine işaret edilmemiştir?

- A) İrade
B) Kaza
C) Kader
D) Tevekkül

2. İnsanın özgürlüğü ve sorumluluğu açısından aşağıdakilerden hangisi yanlıştır?

- A) Özgür iradesiyle iyi ya da kötü olanı seçen insandır.
B) Allah insana düşündükleri üzerinde tercih yapma imkanı verir.
C) İnsanın özgür bırakılması sorumluluğunu ortadan kaldırır.
D) Allah insanı gücü nispetinde sorumlu tutar.

3. “Komşusu aç iken, tok yatan bizden değildir.” hadisi bizi aşağıdaki ibadetlerden hangisine yönlendirir?

- A) Zekat
B) Oruç
C) Namaz
D) Hac

4. Zekat ile ilgili aşağıdaki verilen bilgilerden hangisi yanlıştır?

- A) Her malın zekatı farklı oranlarda verilir.
B) Kişi ihtiyaç sahibi torunlarına zekat verebilir.
C) Kişinin zaruri ihtiyaçları için kullandığı eşyalar zekata dahil değildir.
D) Nisab miktarı para, altın veya ticaret malına sahip olanlar zekat vermekle sorumludur.

5. Fıtır sadakası aşağıdakilerden hangisinde açıklanmıştır?

- A) Oruç tutmaya güçleri yetmeyenlerin vermesi gereken sadakadır.
B) Dileğin gerçekleşmesi halinde verilmek üzere adanan sadakadır.
C) Sevabı öldükten sonra da devam eden sadakadır.
D) Ramazan ayında bayramdan önce verilmesi gereken sadakadır.

6. Aşağıdakilerden hangisi yardımlaşma kurumlarımızdan biridir?

- A) Millî Savunma Bakanlığı
B) Millî Eğitim Vakfı
C) Sosyal Güvenlik Kurumu
D) Emniyet Genel Müdürlüğü

7. Aşağıdakilerden hangisi hac ibadetiyle ilgili mekanlardan biri değildir?

- A) Vakfe
B) Arafat
C) Mina
D) Müzdelife

8. Hacerü'l-Esvet'ten başlayıp Kabe'nin etrafında yapılan her bir dönüş ne ad verilir?

- A) Mikat
B) Tavaif
C) Şavt
D) Sa'y

9. Hz. Muhammed'e “el-emin” ünvanının verilisi sebebi aşağıdakilerden hangisidir?

- A) Dürüst olması
B) Hoşgörülü olması
C) Güler yüzlü olması
D) Sabırlı olması

10. Hz. Muhammed herhangi bir konuda karar vermeden önce işin uzmanı olan kişilerle görüşür, onların görüşlerini alırdı. Hz. Muhammed'in bu tutumu aşağıdakilerden hangisiyle ilgilidir?

- A) Özgürlük
B) Dua
C) Tefekkür
D) İstişare

1. OTURUM

11. Aşağıdakilerden hangisinin başkalarının hatalarını affetmeye engel olduğu söylenebilir?

- A) Şefkat B) Haset
C) Merhamet D) Hoşgörü

12. “Boş kaldın mı hemen başka bir işe koyul.” (İnşirah suresi, 7. ayet)

Aşağıdakilerden hangisi bu ayetten çıkarılamaz?

- A) Çalışmak
B) Sabırlı olmak
C) Zamanı verimli kullanmak
D) Tembellikten uzak durmak

13. İslam’da akıl, dini sorumluluğun ön koşulu olarak kabul edilmiştir.

Aşağıdakilerden hangisi bu fikri destekler?

- A) “Akıllı olmayanın dini de yoktur.” (Hadis-i Şerif)
B) “İnsan, kendisinin başıboş bırakılacağını mı sanır.” (Kıyame suresi, 36. ayet)
C) “Allah’ı görüyor gibi ibadet edersin. Zira sen O’nu görmesen de O seni görüyor.” (Hadis-i Şerif)
D) “Kuralları içinde ancak âlim olanlar Allah’a derin saygı duyarlar.” (Fatır suresi, 28. ayet)

14. Aşağıdakilerden hangisi Kur’an’a göre bilgi edinme yollarından biri değildir?

- A) Akıl B) Vahiy
C) İlham D) Duyular

15. Aşağıdakilerden hangisi kişiyi taassuptan kurtarır?

- A) Saygılı olmak
B) Taklit etmek
C) Alçakgönüllü olmak
D) Doğru bilgiye açık olmak

16. Hz. Yusuf hakkında aşağıda verilen bilgilerden hangisi yanlıştır?

- A) Kendisine rüyaları yorumlama bilgisi verilmiştir.
B) Sabrederek sıkıntıların üstesinden gelmiştir.
C) Kardeşlerinin ihanetini asla bağışlamamıştır.
D) Mısır’ın mali işlerinden sorumlu kişi olarak görev yapmıştır.

17. Kişinin elde ettiği kazançta karşı tarafın rızası olmadığı için kin, nefret ve düşmanlıklar ortaya çıkar. Allah’ın insana nimet olarak vermiş olduğu zamanın boşa tüketilmesine sebep olur. Yukarıdaki paragrafta İslam’ın yasakladığı hangi kötü alışkanlıktan bahsedilmektedir?

- A) Kumar B) Sigara
C) Alkol D) Uyuşturucu

18. Aşağıdakilerden hangisi kötü alışkanlık edinmenin sebepleri arasında sayılmaz?

- A) Merak ve özentî
B) Eğitim yetersizliği
C) Kötü alışkanlıklara özendirici programlar
D) İletişim araçlarını dikkatli ve seçici kullanma

19. Aşağıdakilerden hangisinin insanı kötü alışkanlıklardan koruduğu söylenemez?

- A) Duyarlı anne-babaların bulunduğu bir ailede yetişmek
B) Kötü alışkanlıklar ve zararları konusunda bilinçli olmak
C) Boş zamanlarını kitap okumak, spor yapmak gibi etkinliklerle geçirmek
D) Bağımlı olmama konusunda kendi iradesine güvenmek

20. Aşağıdakilerden hangisi ilahî din kapsamında değerlendirilmez?

- A) Yahudilik B) Budizm
C) Hristiyanlık D) İslam

TEST BİTTİ.
CEVAPLARINIZI KONTROL EDİNİZ.

SINAV SÜRESİNCE UYULACAK KURALLAR

1. Adaylar, sınav kurallarına ve salon görevlilerinin tüm uyarılarına uymak zorundadırlar. Kurallara ve uyarılara uymayan adayların sınavları geçersiz sayılacaktır.
2. Sınav başladıktan sonra adayların salon görevlileri ve birbirleri ile konuşmaları, kalem, silgi vb. şeyleri istemeleri yasaktır.
3. Adaylar sınav süresince, sınav giriş belgesi ile birlikte kimlik belgelerinden birini (nüfus cüzdanı, pasaport veya sürücü belgesi) masalarının üzerinde bulundurmamak zorundadırlar.
4. Sınav evraklarını teslim etmeyen, soru kitapçıklarının sayfalarından bir kısmını eksik teslim edenlerin sınavları geçersiz sayılacaktır.

SALON GÖREVLİLERİNCE SINAV BAŞLAMADAN ÖNCE ADAYLARA YAPILACAK SON UYARI

- Soracağınız bir şey var mı? Varsa, şimdi sorunuz.
- Sınav başladıktan sonra sorularınıza cevap verilmeyecektir.
- Başlama zilini bekleyiniz.
- Hepinize başarılar dileriz.

(Salon başkanı başlama ve bitiş saatini tahtaya yazacaktır.)

Bu kitapçığın her hakkı saklıdır. Hangi amaçla olursa olsun, kitapçığın tamamının veya bir kısmının Millî Eğitim Bakanlığı Ölçme, Değerlendirme ve Sınav Hizmetleri Genel Müdürlüğünün yazılı izni olmadan kopya edilmesi, fotoğraflarının çekilmesi, bilgisayar ortamına alınması, herhangi bir yolla çoğaltılması, yayımlanması veya başka bir amaçla kullanılması yasaktır. Bu yasağa uymayanlar, doğabilecek cezai sorumluluğu ve kitapçığın hazırlanmasındaki mali külfeti peşinen kabullenmiş sayılır.

19 EKİM 2014 TARİHİNDE YAPILAN
AÇIK ÖĞRETİM ORTAOKULU 2014-2015 ÖĞRETİM YILI 1. DÖNEM SINAVI
1. OTURUM CEVAP ANAHTARI

TÜRKÇE – 7	FEN ve TEKNOLOJİ – 7	İNGİLİZCE – 8	FRANSIZCA – 8
1. D	1. B	1. C	1. C
2. C	2. A	2. B	2. A
3. A	3. C	3. D	3. C
4. B	4. D	4. A	4. D
5. D	5. D	5. B	5. A
6. C	6. A	6. C	6. D
7. B	7. C	7. D	7. B
8. A	8. B	8. B	8. B
9. D	9. B	9. A	9. C
10. A	10. D	10. C	10. D
11. D	11. C	11. B	11. B
12. B	12. C	12. C	12. A
13. C	13. A	13. A	13. B
14. A	14. B	14. D	14. C
15. B	15. B	15. C	15. C
16. C	16. C	16. A	16. A
17. A	17. D	17. D	17. C
18. B	18. A	18. B	18. D
19. D	19. A	19. C	19. A
20. C	20. D	20. A	20. B
MATEMATİK – 7	TC İNK. TAR. VE ATA. – 8	ALMANCA – 8	DİN KÜLTÜRÜ ve AHLAK BİLGİSİ – 8
1. B	1. D	1. B	1. D
2. A	2. B	2. B	2. C
3. D	3. B	3. C	3. A
4. C	4. C	4. C	4. B
5. B	5. A	5. D	5. D
6. B	6. C	6. B	6. B
7. A	7. D	7. D	7. A
8. D	8. A	8. A	8. C
9. D	9. B	9. A	9. A
10. C	10. D	10. B	10. D
11. A	11. A	11. C	11. B
12. D	12. C	12. B	12. B
13. A	13. B	13. D	13. A
14. C	14. B	14. C	14. C
15. B	15. D	15. B	15. D
16. D	16. D	16. A	16. C
17. C	17. C	17. A	17. A
18. C	18. A	18. B	18. D
19. B	19. C	19. D	19. D
20. A	20. D	20. C	20. B