

OTURUM**1**

T.C.

MİLLÎ EĞİTİM BAKANLIĞI

AÇIK ÖĞRETİM LİSESİ / MESLEKİ AÇIKÖĞRETİM LİSESİ

2013-2014 ÖĞRETİM YILI 2. DÖNEM SINAVI

1. OTURUM: 31 MAYIS 2014 Saat:09.30

T

DERS KODU VE ADI	SAYFA	DERS KODU VE ADI	SAYFA	DERS KODU VE ADI	SAYFA
(111) DİN KÜL. AHL. BİL.-1	2	(417) TÜRK EDEBİYATI-7	28	(525) SEÇ. Y. DİL İNG.-5	56
(112) DİN KÜL. AHL. BİL.-2	3	(418) TÜRK EDEBİYATI-8	29	(525) SEÇ. Y. DİL ALM.-5	57
(115) DİN KÜL. AHL. BİL.-5	4	(421) FİZİK-1	30	(525) SEÇ. Y. DİL FRAN.-5	58
(121) FELSEFE-1	6	(425) FİZİK-5	32	(528) SEÇ. Y. DİL İNG.-8	59
(123) SEÇMELİ FELSEFE-1	7	(432) KİMYA-2	34	(528) SEÇ. Y. DİL ALM.-8	60
(132) TARİH-2	9	(436) KİMYA-6	36	(528) SEÇ. Y. DİL FRAN.- 8	61
(136) TARİH-6	10	(441) BİYOLOJİ-1	37	(532) HZ. MUHAMMED'İN HAY.-2	62
(151) COĞRAFYA-1	11	(443) BİYOLOJ-3	38	(609) MATEMATİK- 6	64
(155) COĞRAFYA-5	13	(446) BİYOLOJİ-6	39	(611) KARŞ. DİN. TAR.-1	65
(157) COĞRAFYA-7	14	(461) EKONOMİ-1	41	(617) SEÇ. DİL ve ANLA.-7	66
(181) İNGİLİZCE-1	15	(465) TEMEL DİNİ BİL.-1	42	(618) SEÇ. DİL ve ANLA.-8	67
(181) ALMANCA-1	16	(474) İŞ GÜVENLİĞİ-1	43	(624) SEÇ. TÜRK EDEB.-4	69
(181) FRANSIZCA-1	17	(477) İŞLETME-2	44	(627) SEÇ. TÜRK EDEB.- 7	70
(244) İNGİLİZCE-5	18	(479) MANTIK-2	46	(628) SEÇ. TÜRK EDEB.-8	71
(244) ALMANCA-5	19	(484) SAĞLIK BİLGİSİ-2	47	(711) İSLAM TARİHİ-1	72
(244) FRANSIZCA-5	20	(491) TRAF. ve İLK YARD.-1	48	(811) KELAM-1	74
(401) DİL VE ANLATIM-1	21	(495) GEOMETRİ-5	50	(931) SİYER-1	75
(402) DİL VE ANLATIM-2	22	(502) İNGİLİZCE-8	52	(974) GİRİŞİMCİLİK-1	76
(407) DİL VE ANLATIM-7	24	(502) ALMANCA-8	53	(999) MATEMATİK-2	78
(408) DİL VE ANLATIM-8	25	(502) FRANSIZCA-8	54		
(414) TÜRK EDEBİYATI-4	26	(511) FİKİH-1	55		

ADAYLARIN DİKKATİNE!

- Her ders için **20** soru bulunmaktadır. Bu oturumda **180** dakikalık cevaplama süreniz vardır. Sınav başladıktan sonra ilk **30** dakika dolmadan dışarı çıkmayınız.
- Sınav sırasında sözlük, hesap cetveli veya makinesi, çağrı cihazı, cep telefonu, telsiz, radyo gibi elektronik iletişim araçlarını yanınızda bulundurmuyunuz. Bu araçları kullanmanız ve kopya çekmeye teşebbüs etmeniz hâlinde sınavınız geçersiz sayılacaktır.
- Başvuru şartlarını taşımadığınız hâlde sınava girmeniz, kopya çekmeniz, başka adayın sınav evrakını kullanmanız, geçerli kimlik belgenizi ve sınav giriş belgenizi ibraz edemediğiniz durumlarda sınavınız geçersiz sayılacaktır.
- Sınavın değerlendirilmesi aşamasında, bilgisayar ortamında yapılan kopya analizinde ikili veya toplu kopya tespiti hâlinde sınavınız geçersiz sayılacaktır.

CEVAP KÂĞIDI VE SORU KİTAPÇIĞI İLE İLGİLİ AÇIKLAMALAR

- Cevap kâğıdınızdaki bilgilerin doğruluğunu kontrol ediniz ve cevap kâğıdınızı mürekkepli kalemle imzalayınız.
- Cevap kâğıdı üzerinde kodlamalarınızı kurşun kalemle yapınız.
- Değiştirmek istediğiniz bir cevabı, yumuşak silgiyle cevap kâğıdını örselemeden temizce siliniz ve yeni cevabınızı kodlayınız.
- Soru kitapçığının sayfalarını kontrol ediniz, baskı hatası var ise değiştirilmesini sağlayınız.
- Soruların çözümü için size ayrıca boş kâğıt verilmeyecektir. Soru kitapçığının içindeki boş alanları soru çözümleri için kullanabilirsiniz.
- Her sorunun dört seçeneğinden sadece biri doğrudur. Doğru seçeneği, cevap kâğıdınızın ilgili sütununa soru numarasını dikkate alarak yuvarlağın dışına taşırmadan kodlayınız. **Soru kitapçığı üzerinde yapılan cevaplandırmalar dikkate alınmayacaktır.**
- Cevaplamaya istediğiniz dersin sorusundan başlayabilirsiniz. Cevabını bilmediğiniz sorular üzerinde fazla zaman kaybetmeden diğer sorulara geçiniz. Zamanınız kalırsa bu sorulara daha sonra dönebilirsiniz.
- Yanlış cevaplarınız dikkate alınmadan sadece doğru cevaplarınız üzerinden puanlama yapılacaktır.
- Soruları ve sorulara verdiğiniz cevapları, yanınızda götürmek amacıyla kaydetmeyiniz; hiçbir şekilde dışarı çıkarmayınız.
- Sınav bitiminde, soru kitapçığı ve cevap kâğıdını salon görevlilerine teslim ediniz.**

BAŞLAYINIZ DENİLMEDEN SORU KİTAPÇIĞINI AÇMAYINIZ.

1. OTURUM

(111) DİN KÜL. AHL. BİL. – 1

1. • Tanrının eşi ve benzeri yoktur.
• Tanrı sonsuz gücüyle evrendeki herşeye hükmeder.
• Sadece Tanrıya ibadet edilir.

Bu bilgiler aşağıdaki inanma biçimlerinden hangisine aittir?

- A) Politeizm B) Monoteizm
C) Ateizm D) Gnostisizm

2. Aşağıdakilerden hangisi Ateist düşüncenin (Ateizm) öğretilerinden?

- A) Evrenin kendi kendine varolduğu
B) Tanrının birden çok olduğu
C) Evrenin tek bir yaratıcısının olduğu
D) Tanrının varlığının bilineme-yeceği

3. • Tanrıların sayısı belirsizdir.
• Her Tanrının bir görevi vardır.

Yukarıdaki bilgiler hangi inanç biçimine aittir?

- A) Monoteizm B) Ateizm
C) Politeizm D) Gnostisizm

4. Yahudilik ve İslamiyet aşağıdaki inanma biçimlerinden hangisi içinde değerlendirilebilir?

- A) Monoteizm B) Politeizm
C) Ateizm D) Gnostisizm

5. Aşağıdaki ibadetlerden hangisi hüküm bakımından diğerlerinden farklıdır?

- A) Selam vermek
B) Sadaka vermek
C) Zekat vermek
D) Borç para vermek

6. Aşağıdakilerden hangisi abdestin farzlarından biridir?

- A) Ağza ve burna su vermek
B) Enseyi meshetmek
C) Kulakları temizlemek
D) Yüzü yıkamak

7. “De ki: Şüphesiz benim namazım, ibadetlerim, hayatım ve ölümüm hepsi âlemlerin Rabb’i Allah içindir.”
(Ena’m suresi, 162. ayet)

Bu ayet aşağıdaki sorulardan hangisine cevap niteliğindedir?

- A) İbadetin anlamı ve kapsamı nedir?
B) İbadetlerin yapılış amacı nedir?
C) İbadetin insana kazandırdıkları nelerdir?
D) İbadet nasıl yapılır?

8. “Ancak Allah’a kalb-i selim (temiz bir kalp) ile gelenler o günde fayda bulur.”
(Şuara suresi, 89. ayet)

Bu ayet aşağıdaki temizlik çeşitlerinden hangisine işaret etmektedir?

- A) Beden temizliği
B) Çevre temizliği
C) Manevi temizlik
D) Mekan temizliği

9. Aşağıdakilerden hangisi gusül abdestinin farzlarından biridir?

- A) Niyet etmek
B) Ağzı yıkamak
C) Yüzü yıkamak
D) Kolları yıkamak

10. Gerektiğinde boy abdesti (gusül) almayan kişi aşağıdaki ibadetlerden hangisini yapamaz?

- A) Oruç B) Namaz
C) Zekat D) Kurban

11. Aşağıdakilerden hangisi Hicaz bölgesinde bulunan şehirlerden biri değildir?

- A) Mekke B) Medine
C) Taif D) Şam

12. Hz. Muhammed kaç tarihinde nerede vefat etmiştir?

- A) 632 - Mekke
B) 630 - Medine
C) 632 - Medine
D) 630 - Mekke

13. Mekke’den Medine’ye hicret eden Müslümanlara ne denir?

- A) Muhacir B) Ensar
C) Hanif D) Sahabi

14. Hz. Muhammed’le ilgili aşağıda verilen bilgilerden hangisi diğerlerinden farklıdır?

- A) Ticaretle uğraşmıştır.
B) Çoluk - çocuk sahibi olmuştur.
C) Komşularıyla iyi ilişkiler kurmuştur.
D) Kur’an-ı insanları açıklamıştır.

15. Aşağıdakilerden hangisi Hz. Muhammed’in Medine sözleşmesini imzalamasının amaçlarından biri değildir?

- A) Can ve mal güvenliğini sağlamak
B) Kabileler arası uzlaşma zemini sağlamak
C) Toplumsal barışı ve kardeşliği tesis etmek
D) İlim öğrenmeyi teşvik etmek

16. Aşağıdaki gelişmelerden hangisi Hicretten önce meydana gelmiştir?

- A) Müslümanlar, (Mekke’li) müşriklerin zulüm ve baskılarından kurtuldu.
B) Müslümanlara Habeşistan’a göç etme izni verildi.
C) Peygamberimiz Mekkeli müşriklerle barış antlaşmasını imzaladı.
D) Müslümanlar Hz. Peygamber başkanlığında bir devlet kurdu

17. Kur’an-ı Kerim’in en uzun suresi hangisidir?

- A) Bakara B) Hûd
C) Yûnus D) Âl-i İmran

18. Kelime olarak kapalı şeyi ortaya çıkarmak, açmak, yorumlamak anlamına gelir. Terim olarak ise Kur’an-ı Kerim’i açıklayıp yorumlayan ilim dalıdır.

Yukarıda hakkında bilgi verilen ilim dalı aşağıdakilerden hangisidir?

- A) Kelam B) Hadis
C) Tefsir D) Fıkıh

1. OTURUM

19. Kur'an-ı Kerim'in iki kapak arasına toplanmış haline ne ad verilir?

- A) Cüz B) Mushaf
C) Ayet D) Sure

20. Kur'an-ı Kerim'in 23 yılda parçalar halinde indirilmesi aşağıdakilerden hangisine katkı sağlamamıştır?

- A) Anlaşılması ve uygulanmasına
B) Yazılıp ezberlenmesine
C) Ortaya çıkan problemleri çözmesine
D) Kitap haline getirilmesine

(112) DİN KÜL. AHL. BİL. – 2

1. “İyi - kötü” kavramları hangi tür değerleri ifade eder?

- A) Dini değerler
B) Sanatsal değerler
C) Ahlaki değerler
D) Milli değerler

2. Aşağıdakilerden hangisi Hz. Musa'ya indirilen “on emir”den biri değildir?

- A) Konuşana karşı yalan şahitlik yapmayacaksın.
B) Anne ve babana hürmet edeceksin.
C) Öldürmeyeceksin.
D) Bütün insanların Tanrı karşısında eşit olduğuna inanacaksın.

3. Hz. Aişe'ye Peygamberimizin ahlaki sorulduğunda nasıl cevap vermiştir?

- A) Sünnetullah'tı
B) Kur'an ahlaki idi
C) Doğruluktu
D) Allah'a olan bağlılığı idi

4. İnsanın kişilik gelişiminde en önemli etken aşağıdakilerden hangisidir?

- A) Aile B) Örf - adet
C) Arkadaş D) Özgüven

5. Kişinin kendine özgü, az veya çok her zaman gözlenebilen davranış ve alışkanlıkları olarak tarif edilen kavram aşağıdakilerden hangisidir?

- A) Kişilik B) Özgüven
C) Ahlak D) Örf - adet

6. • “... :Yavrucuğum! Allah'a ortak koşma! Doğrusu şirk, büyük bir zulumdür, ...!”
• “Küçümseyerek insanlardan yüz çevirme ve yeryüzünde böbürlenerek yürüme. Zira Allah , kendini beğenmiş övünüp duran kimseleri asla sevmez.”

Yukarıdaki ayetlerde oğluna öğütler veren peygamber aşağıdakilerden hangisidir?

- A) Hz. Nuh B) Hz. Lokman
C) Hz. İbrahim D) Hz. Musa

7. Aşağıdakilerden hangisi toplumu bir arada tutan değerlerden biri değildir?

- A) Milli Seciye
B) Sanat ve ticaret
C) Ülkü birliği
D) Milliyet

8. Laiklik ilkesi ilk olarak hangi tarihte Türkiye Cumhuriyeti Anayasasına girmiştir?

- A) 1982 B) 1961
C) 1937 D) 1928

9. Ulaşılmak istenen ortak amaç, ideal ve mefküre anlamına gelen kavram aşağıdakilerden hangisidir?

- A) Vatan B) Millet
C) İstiklal D) Ülkü

10. Peygamberimiz Medine'ye hicret ettikten sonra oradaki farklı inanç gruplarıyla temel insan haklarını güvence altına alan bir antlaşma imzalamıştır.

Bu antlaşma aşağıdakilerden hangisidir?

- A) Medine sözleşmesi
B) Akabe biatı
C) Hudeybiye antlaşması
D) Rıdvan biatı

11. Hoca Ahmet Yesevî'nin söylemiş olduğu sözlerinden oluşan eseri aşağıdakilerden hangisidir?

- A) Makalâtül-İslamiyyîn
B) Er-Risale
C) Te'vilatü'l-Kur'an
D) Divan-ı Hikmet

12. Aşağıdakilerden hangisi İslam dininin korunmasını istediği beş temel esastan biri değildir?

- A) Kültürün korunması
B) Aklın korunması
C) Malın korunması
D) Canın korunması

13. Laiklik için aşağıdakilerden hangisi söylenemez?

- A) İnsanlara ibadet etme özgürlüğünü sağlamaktır.
B) İnsanlara inançlarını ifade etme özgürlüğünü sağlamaktır.
C) İnsanların aynı inanç etrafında toplanmalarını sağlamaktır.
D) Din ve devlet işlerinin birbirinden ayrılmasını sağlamaktır.

14. Aşağıdakilerden hangisi Türklerin Gök Tanrı inancının temel özellikleri arasında yer almaz?

- A) Bir ve tek olan Gök Tanrı vardır.
B) Tanrı insanlara mesajını peygamber ve kitap göndererek ulaştırır.
C) Dünya hayatından sonra sonsuz bir hayat vardır.
D) Dünyada iyilik edenler öldükten sonra karşılığını sonsuz olarak yaşayacakları bir yerde görecektir.

1. OTURUM

15. Aşağıdakilerden hangisi ilk Müslüman Türk Devletidir?

- A) Anadolu Selçuklu
- B) Büyük Selçuklu
- C) Endülüs Emevi
- D) Karahanlılar

16. Aşağıdakilerden hangisi Türklerin İslam anlayışında etkili olan bir şahsiyet değildir?

- A) Ebu Hanife
- B) Rabiâtül Adeviyye
- C) Ahmet Yesevi
- D) Ahî Evran

17. Aşağıdakilerden hangisi Hanefi Mezhebi'nin yaygın olduğu ülkelerden biridir?

- A) Fas
- B) Tunus
- C) Libya
- D) Pakistan

18. • 874 yılında Basrada doğmuş, 936 yılında Bağdat'ta vefat etmiştir.
• Kırk yaşına kadar Mu'tezile Mezhebi'nin tesirinde kalmış daha sonra ayrılarak bir İkkadî Mezhep kurmuştur.
• Makalâtül - İslamiyyîn, el ibâne an Usalî'd - Diyanе başlıca eserleridir.

Hakkında bilgi verilen alim kimdir?

- A) Ahî Evran
- B) Eş'arî
- C) Maturudî
- D) Hacı Bektaş Veli

19. Aşağıdakilerden hangisi Ahi - Evran'a ait bir bilgidir?

- A) Ahlaki kurallarla, iktisadi kuralları birleştiren bir teşkilat kurmuştur.
- B) Fıkıh alanında bir mezhep kurucusudur.
- C) "El - Alim ve'l-Müteallim" en meşhur eseridir.
- D) Selçuklu Sultanı Alaaddin Keykubat'ın daveti üzerine Anadolu'ya gelmiştir.

20. Aşağıdakilerden hangisi medreselerde okutulan bir ilim değildir?

- A) Kelam
- B) Matematik
- C) Astronomi
- D) Antropoloji

(115) DİN KÜL. AHL. BİL. – 5

1. Allah'ın önceden takdir ettiği olayların, zamanı geldiğinde ortaya çıkması şeklinde tarif edilen kavram aşağıdakilerden hangisidir?

- A) Kader
- B) İrade
- C) Kaza
- D) Ecel

2. "Kim hidayet yolunu seçerse, bunu ancak kendi iyiliği için seçmiş olur; kim de doğruluktan ayrılırsa kendine zarar vermiş olur..."
(İsra suresi, 15. ayet)

Bu ayette vurgulanmak istenen aşağıdakilerden hangisidir?

- A) İnsanın kaderinde nelerin yazılı olduğu
- B) Hidayete ulaşmada kulun tercihinin önemsiz olduğu
- C) İnsanın iradesini iyi ya da kötü yönde özgürce kullanabileceği
- D) İnsanın merhametli olması gerektiği

3. Eksik malzeme kullanılan bir binanın çökmesi kader ve kaza açısından değerlendirildiğinde aşağıdakilerden hangisi söylenebilir?

- A) Müteahhit özgür iradesini yanlış kullanmıştır.
- B) Kişi kaderinin mahkumu olmuştur.
- C) Bu olay kadere aykırı gerçekleşmiştir.
- D) Kader inancı sorumluluğu ortadan kaldırmaktadır.

4. "Biz gökleri, yeri ve ikisi arasındakileri ancak hak ile ve belirlirli bir süre için yarattık."
(Ahkaf suresi, 3. ayet)

Bu ayet aşağıdaki kavramlardan hangisiyle ilişkilendirilebilir?

- A) İrade
- B) Ecel
- C) Rızık
- D) Tevekkül

5. Aşağıdakilerden hangisi İslam'ın tevekkül anlayışına aykırı bir tutumdur?

- A) Başarıya ulaşmak için planlı bir şekilde çalışmak
- B) Başarıya ulaşmada karşılaşılmış olumsuzluklarla mücadele etmek
- C) Çabaların sonucunu Allah'tan beklemek
- D) Başarının şans faktörüne bağlı olduğuna inanmak

6. "Kararını verdiğin zaman artık Allah'a dayanıp güven. Çünkü Allah kendisine dayanıp güvenenleri sever."
(Al-i İmran suresi, 159. ayet)

Bu ayette tavsiye edilen davranış aşağıdakilerden hangisidir?

- A) Tevekkül
- B) Tedbir
- C) İrade
- D) Kader

7. Aşağıdakilerden hangisi oruç ibadetinin faydaları arasında sayılamaz?

- A) Sabır gücünü artırır.
- B) İradeyi güçlendirir.
- C) Çalışma azmini artırır.
- D) Toplumsal dayanışmaya katkı sağlar.

8. "De ki: Şüphesiz bana, dini Allah'a has kılarak ona ibadet etmem emredildi."
(Zümer suresi, 11. ayet)

Bu ayet ibadetlerle ilgili temel ilkelerden hangisine kanıt oluşturur?

- A) Sabır
- B) Samimiyet
- C) Kararlılık
- D) Kolaylık

1. OTURUM

9. İnsanların Allah'a kulluk bilinci ile inancının gereği olarak yaptığı bütün iyi ve güzel davranışlar olarak tarif edilen kavram aşağıdakilerden hangisidir?

- A) Dua B) İhlas
C) Tevekkül D) İbadet

10. Allah'a dayan, sâye sarıl, hikmete ram ol.
Yol varsa budur, bilmiyorum başka çıkar yol..

M. Akif Ersoy

Şairin yukarıdaki beyitte öğütlediği davranış aşağıdakilerden hangisidir?

- A) Kader B) İrade
C) Tevekkül D) Rızık

11. Aşağıdakilerden hangisi ibadetin toplumsal yararlarından biri değildir?

- A) İç huzuru güçlendirmesi
B) Birlik beraberliğe katkı sağlaması
C) İnsanları kötü alışkanlıklardan kurtarması
D) Yardımlaşma ve dayanışmaya katkı sağlaması

12. İslamdan önceki Arap toplumunda adaleti sağlamak için kurulan, Peygamberimizin de üye olduğu cemiyet aşağıdakilerden hangisidir?

- A) Mazlumlar Birliği
B) Erdemliler Birliği
C) Güvenilirler Birliği
D) Merhametliler Birliği

13. Kur'an'da bazı müteşabih ayetlerde; "Allah'ın eli" (Fetih suresi, 10. ayet), "Allah'ın yüzü" (Kasas suresi, 88. ayet) gibi ifadeler geçmektedir. Bir kısım İslam alimleri bu ifadelerden yola çıkarak Allah'ın insan gibi elinin, yüzünün bulunabileceğini savunmuş, diğer bir kısmı da bu ifadeleri "Allah'ın kudreti", "Allah'ın zâtı" şeklinde yorumlamışlardır.

Yukarıdaki açıklamalar İslam düşüncesinde yorum farklılıklarının sebeplerinden hangisiyle ilişkilendirilebilir?

- A) İnsan yapısı
B) Sosyal ve kültürel sebepler
C) Siyasi sebepler
D) Dini metinlerden kaynaklanan sebepler

14. Aşağıdakilerden hangisi Şiîlik mezhebinin temel görüşlerinden biri değildir?

- A) Peygamberimizden sonra halifelik Hz. Ali'nin hakkıdır.
B) Hz. Ali ve onun soyundan gelenler İmamet yetkisini taşırlar.
C) Hz. Ali ve soyundan gelen imamlar günah işlemezler.
D) Tehlike karşısında takiye yapmak haramdır.

15. İnsan kendi eylemlerinde tamamen özgürdür. Allah'ın bu fiillerin yaratılmasında bir müdahalesi yoktur. Eğer insanın fiillerinin yaratıcısı Allah olsaydı, o zaman Allah'ın insanları cezalandırması anlamsız olurdu.

Bu paragraf Mu'tezilenin temel görüşlerinden hangisini açıklamaktadır?

- A) Adalet
B) Tevhit
C) El va'd vel va'id
D) Emri bil maruf nehyi anilmünker

16. Türklerin çoğunlukla benimstedikleri itikadî mezhep aşağıdakilerden hangisidir?

- A) Maturidî B) Eş'arî
C) Malikî D) Şafiî

17. "Ey iman edenler! Sadakalarınızı, insanlara gösteriş için malını harcayan, Allah'a ve âhiret gününe inanmayan kimse gibi başa kakma ve eziyet etmek suretiyle boşa çıkarmayın. Çünkü onun bu gösterişinin hali, üzerinde az bir toprak bulunan bir kaya parçasının haline benzer ki, ona şiddetli yağmur isâbet edince üzerindeki toprağı temizleyip kendini katı bir toz halinde bırakır."

(Bakara suresi, 264. ayet)

Bu ayette, ibadetlerle ilgili temel ilkelerden hangisine işaret edilmektedir?

- A) İsteklilik
B) Samimiyet
C) Gösterişten uzak olmak
D) Kolaylık ve güç yetirebilirlik

18. • Allah, kulun gücünün yetmeyeceği şeyleri ona yükleyebilir.
• Kendilerine tebliğ ulaşmayan kimseler, akıllarıyla Allah'ı bulmak ve iman etmekte yükümlü değildir.
• Büyük günah işleyen kimse dinden çıkmaz, günahkar olur.

Yukarıda hakkında bilgi verilen itikadi mezhep hangisidir?

- A) Eş'arîlik B) Mu'tezile
C) Maturudîlik D) Haricîlik

19. • Osmanlı Devleti'nin resmi mezhebidir.
• Dini hükümler kadar, bunların anlamları ve konuluş gerekçeleri de önemlidir. Bu sebepten ayetlerin niçin indirildiği de incelenmelidir.
• Örf adetler fıkıhın ikincil kaynağıdır.

Yukarıda hakkında bilgi verilen mezhep aşağıdakilerden hangisidir?

- A) Malikî B) Hanefî
C) Hanbelî D) Caferî

20. Aşağıdakilerden hangisi ameli bir mezheptir?

- A) Maturudîlik B) Haricîlik
C) Şia D) Caferilik

1. OTURUM

(121) FELSEFE – 1

1. Bütünsel olarak evrenin kendisini, insanın eylemlerini ve yaşamın anlamını kavrayabilmek için gereksinim duyulan bilgi çeşidi **öncelikle** hangisidir?

- A) Felsefe bilgisi
- B) Sanat bilgisi
- C) Gündelik bilgi
- D) Teknik bilgi

2. Aşağıdakilerden hangisi gündelik bilgiye örnek **olmaz**?

- A) Yeşil elma ekşidir.
- B) Tahta, suda yüzebilir.
- C) Papatya, öksürüğe iyi gelir.
- D) Üçgenin iç açılarının toplamı 180°'dir.

3. Felsefe ve sanatın bazı bakımlardan benzerlikleri vardır.

Aşağıdakilerden hangisi bu benzerliklerden biridir?

- A) Hayatı ve insanı anlamaya, yorumlamaya çalışma
- B) Akla ve akıl yürütme gücüne dayanma
- C) Güzeli bulmaya ya da yaratmaya çalışma
- D) Doğruya ulaşmayı amaç edinme

4. – “Olguya dayanan bilgi doğru bilgidir.”

– “Sezgiye dayanan bilgi doğru bilgidir.”

Yukarıda verilenler **öncelikle** aşağıdaki sorulardan hangisine verilmiş yanıtlardandır?

- A) Evrende bir düzen var mıdır?
- B) Varlığın ana maddesi nedir?
- C) Doğru bilginin ölçütü nedir?
- D) Bilimsel yöntemin özellikleri nedir?

5. İnsan zihninin kesin bilgiye ulaşamayacağını gerçeğin özünü bilemeyeceğini, bunun için herhangi bir konuda özellikle ana madde, tanrı, ruh gibi konularda olumlu yada olumsuz yargıda bulunmanın yersiz olduğunu ileri süren öğretiyi aşağıdakilerden hangisidir?

- A) Rasyonalizm
- B) Fenomenoloji
- C) Pozitivizm
- D) Septisizm

6. “Sorgulanmamış yaşam yaşamaya değmez.” sözünden yola çıkarak herşeyin sorgulanması gerektiğini öğütleyen, tartışma yöntemi olarak da maiotik (doğurtma) ve ironi (alay)den oluşan diyalektik yöntemini kullanan, kesin ve genel geçer bilginin var olduğunu ve bilginin doğuştan geldiğini savunan akılcı filozof hangisidir?

- A) J. Locke
- B) Sokrates
- C) Protagoras
- D) L. Wittgenstein

7. Bilgimizin kaynağında, yalnızca deneyin bulunduğunu söyleyen düşünce akımı hangisidir?

- A) Kritisizm
- B) Empirizm
- C) Pragmatizm
- D) Rasyonalizm

8. “Fenomenoloji”nin kelime anlamı hangisidir?

- A) Şüphecilik
- B) Eleştiricilik
- C) Bilgi kuramı
- D) Görüngü bilim

9. “Felsefe, doğruluğu test edilemeyen görüşler öne sürmemelidir. Felsefenin görevi dildeki kavramları çözümlemektir. Çünkü, doğru bilgi ancak böyle elde edilebilir.”

Yukarıdaki görüşü savunan düşünce akımı hangisidir?

- A) Pozitivizm
- B) Pragmatizm
- C) Analitik felsefe
- D) Fenomenoloji

10. A. Comte’un üç hâl yasasına göre, insan düşüncesi üç evreden geçerek ilerler.

Aşağıdakilerin hangisinde bu evrelerin tarihsel süreci doğru sıralamayla verilmiştir?

- A) Metafizik evre → Teolojik evre → Pozitif evre
- B) Teolojik evre → Pozitif evre → Metafizik evre
- C) Metafizik evre → Teolojik evre → Pozitif evre
- D) Teolojik evre → Metafizik evre → Pozitif evre

11. İbni Sinâ öncelikle hangi alanda verimli olmuş bir bilgidir?

- A) Astronomi
- B) Tarih
- C) Tıp
- D) Coğrafya

12. Olguların saptanması → Gözlem → Hipotez → → Kuram → Yasa

Yukarıdaki noktalı yere hangisi getirilirse bilimsel yöntemin aşamaları doğru bir şekilde sıralanmış olur?

- A) Suje
- B) Deney
- C) Öndeyi
- D) Genelleme

1. OTURUM

13. Bilim, bilim insanları topluluğunun bir etkinliğidir. Bilim o dönemin değerlerinden, inançlarından bağımsız değildir. Bilim adamları topluluğu da o toplum içinde yaşamaktadır, toplumdaki inanç, değer ve kültürel değişimler onları da etkilemektedir.

Yukarıdaki görüşleri savunan yaklaşım hangisiyle ifade edilir?

- A) Olguculuk
- B) Görüngü bilim
- C) Ürün olarak bilim
- D) Etkinlik olarak bilim

14. Aşağıdakilerden hangisi “Mantıkçı pozitivizm” yaklaşımının bilim konusundaki görüşlerinden değildir?

- A) Olgulardan elde edilip tekrar olgularla denetlenemeyen önermeler bilimsel önerme değildir.
- B) Bilim düz bir çizgi biçiminde mükemmel doğru ilerlemez, bir paradigmadan diğerine sıçrayarak ilerler.
- C) Anlamlı önermeler, doğrulanabilme ya da yanlışlanabilme özelliğine sahip önermelerdir.
- D) Bilimi anlamının yolu, ürün olarak ortaya konmuş bilgiler yığınına incelemektir.

15. “Bilimin ürünü olan bilgi, onu ortaya koyan bilim insanının inançlarından, kişisel kanaatlerinden, dünya görüşünden bağımsız bir bilgidir.”

Bu açıklama bilimsel bilginin öncelikle hangi özelliği ile ilgilidir?

- A) Objektif olma
- B) Genellemeler yapma
- C) Birikimli olarak ilerleme
- D) Belli bir metoda dayalı olma

16. “Olgular arası ilişkilerden ya da bilimsel açıklamalardan yararlanarak henüz olmamış bir olguyu önceden kestirmedir.”

Yukarıda tanımı verilen kavram hangisidir?

- A) Yasa
- B) Ön deyi
- C) Paradigma
- D) Doğrulama

17. Varlığın temel özelliklerini konu alan, somut varlığı araştırmak yerine varlığı soyut bir biçimde araştıran, varlığın var olmak bakımından ne olduğunu araştıran felsefe dalı hangisidir?

- A) Etik
- B) Estetik
- C) Ontoloji
- D) Epistemoloji

18. Aşağıdakilerden hangisi Metafiziğin varlıkla ilgili temel sorularındandır?

- A) Genel – geçer doğru bilgi var mıdır?
- B) Doğru bilgiye ulaşmak mümkün müdür?
- C) Bilginin kaynağı nedir?
- D) Evrende amaçlılık var mıdır?

19. • Nesneler dünyasındaki varlıklar, gerçekte var değildir.
• Gerçekte var olan varlıklar ideallerdir.
• Nesneler dünyasındaki varlıklar ise, ideaların görünüşleridir.

Yukarıdaki düşünceleri savunan filozof hangisidir?

- A) Platon
- B) Whitehead
- C) Herakleitos
- D) Demokritos

20. I- Ruh
II- Madde
III- Ateş
IV- Hava

Rene Descartes’e göre birbirinden özce farklı iki töz vardır. Onun öne sürdüğü bu iki töz yukarıda verilenlerden hangileridir?

- A) I ve II
- B) I ve III
- C) II ve IV
- D) III ve IV

(123) SEÇMELİ FELSEFE – 1

1. Bilgi, iki temel unsur arasında kurulan ilişki sonucu oluşur. Bu iki temel unsur aşağıdaki-lerin hangisinde birlikte verilmiştir?

- A) Özne - İnanç
- B) Özne - Nesne
- C) Hayal gücü - İnanç
- D) Hayal gücü - Özne

2. • Amacı; güzel ve estetik hazdır.
• Düşü ve hayale geniş yer verdiğinden doğaya uygunluğu ve doğruluğu zorunlu değildir.
• Öznel ve özgün bir üründür.

Yukarıda özellikleri belirtilen bilgi çeşidi hangisidir?

- A) Sanat bilgisi
- B) Teknik bilgi
- C) Bilimsel bilgi
- D) Dinî bilgi

3. Duyu organlarıyla algılanan gerçeklikle değil, varlık, tanrı, ruh, ölümsüzlük gibi felsefenin ilk ve son sorunlarıyla ilgilenen felsefe dalı hangisidir?

- A) Mantık felsefesi
- B) Bilgi felsefesi
- C) Bilim felsefesi
- D) Metafizik

4. “Belli bir bilgiyi ortaya koyan önermelerin gerekçelendirilmesi ve doğrulanmasıdır.”

Yukarıda tanımı verilen kavram hangisidir?

- A) Suje
- B) Obje
- C) Gerçeklik
- D) Temellendirme

5. Mantık bilimi ile ilgili olarak aşağıdakilerden hangisi söylenemez?

- A) Mantık biliminin formuyla ilgilenir.
- B) Mantık doğru düşünmenin temel yasalarını belirler.
- C) Mantık bilimler gibi öncelikle bilimsel doğruluğa ulaşmaya çalışır.
- D) Mantık için önemli olan yargılar arası ilişkisinin doğruluğudur.

1. OTURUM

6. • Hiçbir şey var değildir.
• Bir şey olsa bile, bilinemez.
• Bir şey var olsa ve bilinebilse bile, bu bilgi başkalarına aktarılamaz.

Yukarıdaki görüşü savunan filozof ve yaklaşım hangisidir?

- A) Gorgias - Septisizm
B) Aristoteles - Rasyonalizm
C) John Locke - Empirizm
D) William James - Pragmatizm

7. Bilgilerimizin kaynağında akıl ve deneyin var olduğunu; deneyin dış dünyaya ilişkin bilgilerimizin ham maddesini, içeriğini verdiğini; aklın ise bu maddeyi düzenleyip belli bir kalıba soktuğunu savunan filozof hangisidir?

- A) John Locke
B) G. W. Friedrich Hegel
C) Immanuel Kant
D) David Hume

8. • Kesin, genel-geçer bilginin var olduğunu ve bu bilginin doğuştan geldiğini savunur.
• Değişen hiçbir şekilde bilinemeyeceği için, insan zihninden bağımsız olan, değişmez bir varlık olmalıdır. Bu değişmez sabit kalıcı varlıklara idealar adını verir.
• Ona göre, asıl gerçeklik, idealar olduğundan doğru bilgi ideaların bilgisidir.

Yukarıda görüşleri açıklanan filozof hangisidir?

- A) Auguste Comte
B) David Hume
C) Platon
D) Zenon

9. • Bilim dışı her türlü spekülasyon reddedilmelidir.
• Dış dünyayı yalnızca duyu deneyi yoluyla bilebiliriz.
• İnsan için önemli olan; olguları ve bunlar arasında var olan değişmez ilişkileri araştırmak ve ortaya koymaktır.

Yukarıdaki görüşleri savunan felsefe akımı hangisidir?

- A) Rasyonalizm
B) Fenomenoloji
C) Pragmatizm
D) Pozitivizm

10. Doğruluğu ve gerçekliği tek yanlı olarak, yalnızca eylemlerin sonuçları ile değerlendiren ve onlara yalnızca sağladığı "fayda" açısından bakan akıma felsefede ne ad verilir?

- A) Pragmatizm
B) Analitik felsefe
C) Fenomenoloji
D) Pozitivizm

11. Bilimin konusunu, ulaştığı sonuçları, yapısını, doğasını ve yöntemini sorgulayan felsefe dalı aşağıdakilerden hangisidir?

- A) Metafizik
B) Bilgi felsefesi
C) Bilim felsefesi
D) Mantık felsefesi

12. Bilimi, ürün olarak ele alan yaklaşımın temsilcilerinden R. Carnap'a göre, bilimsel önermeleri doğrulamanın en iyi yolu aşağıdakilerden hangisidir?

- A) Sezgi
B) İnanç
C) İnsan bilimleri
D) Sembolik mantık

13. T. Khun'un öne sürdüğü "bilimin ilerleme aşamaları" aşağıdakilerin hangisinde doğru sıralamayla verilmiştir?

- A) Bunalımlar - Bilim öncesi dönem - Olağan bilim dönemi - Devrim
B) Bilim öncesi dönem - Bunalımlar - Devrim - Olağan bilim dönemi
C) Bilim öncesi dönem - Olağan bilim dönemi - Bunalımlar - Devrim
D) Bunalımlar - Devrim - Bilim öncesi dönem - Olağan bilim dönemi

14. Aşağıdakilerden hangisi bilimsel bilginin özelliklerinden değildir?

- A) Bilimsel yöntemle dayalı olma
B) Objektif olma
C) Olgusal olma
D) Öznel olma

15. I- Bilim, nesnel gerçekliği konu edinir.
II- Bilimler hiçbir şekilde birbirlerine indirgenemezler.
III- Bilim, doğrusal bir biçimde birikerek ilerler.

Yukarıdakilerden hangileri "klasik bilim" anlayışının temel görüşlerindendir?

- A) I ve II
B) I ve III
C) II ve III
D) I, II ve III

16. Bilimsel kuramın özellikleriyle ilgili olarak verilen aşağıdaki yargılardan hangisi yanlıştır?

- A) Her kuram, alışılmışın dışında yeni bir görüş ve yorumdur.
B) Bilimdeki gelişmelere bağlı olarak kuramlar değişebilir.
C) Kuramlar, deney ve gözlemlerle doğrulanmadan ortaya konmuş açıklamalardır.
D) Her kuram, belli bir alana ilişkin genel açıklamalardır.

1. OTURUM

(132) TARİH – 2

17. Varlık felsefesinde hiçbir şeyin var olmadığını, hiçbir şeyin bilinemeyeceğini savunan görüş hangisidir?

- A) İdealizm B) Nihilizm
C) Realizm D) Materyalizm

18. Herakleitos “İki kez yıkanamazsınız aynı ırmakta; üzerinde akan sular şimdi yeni sulardır.” sözüyle aşağıdakilerden hangisini ifade etmiştir?

- A) Gerçek varlığın idea olduğunu
B) Herşeyin sürekli bir değişim ve oluş içinde olduğunu
C) Maddi varlıklar dışında bir varlığın bulunmadığını
D) İnsan aklındaki bilgilerin doğuştan geldiğini

19. • Varlık madde ile başlar, düşünce maddenin ürünüdür.
• Dünyadaki değişme mekanik olarak değil, diyalektik yasalara göre gerçekleşir.
• Toplumda üretim biçimi kültürel, siyasal ve ekonomik yaşamı belirler.

Yukarıdaki düşünceleri savunan filozof hangisidir?

- A) Edmund Husserl
B) Rene Descartes
C) G. W. Friedrich Hegel
D) Karl Marx

20. • Tek tek nesnelerin özü ile ilgilenir.
• Her nesne, kendisini o nesne yapan ve doğrudan kavranan bir öz taşır.
• Nesnelerin özleri, ona yönelen insan zihni tarafından bilinebilir.

Yukarıda verilenler hangi felsefi yaklaşımın görüşleridir?

- A) Fenomenoloji
B) Materyalizm
C) İdealizm
D) Nihilizm

1. İslamiyet, aşağıdaki bölgelerin hangisinde ortaya çıkmıştır?

- A) Maveraünnehir
B) Mezopotamya
C) Harezmi
D) Hicaz

2. Hz. Muhammed, aşağıdakilerin hangisinde kan davalarını kaldırdığını Müslümanlara ilan etmiştir?

- A) Veda Hutbesi'nde
B) Kâbe hakemliğinde
C) Hudeybiye Barışı'nda
D) Medine Sözleşmesi'nde

3. Aşağıdakilerden hangisi İslam ordusu ile Bizans ordusu arasında yapılan savaşlardan biri değildir?

- A) Mute B) Köprü
C) Yermük D) Ecnadeyn

4. Aşağıdaki halifelerden hangisi döneminde yalancı peygamberler ortaya çıkmıştır?

- A) Hz. Ali B) Hz. Ömer
C) Hz. Osman D) Hz. Ebu Bekir

5. İslam dünyasının ünlü bilim insanlarından biri olan İbn-i Sina'nın “El-Kanun” adlı eseri, Latinceye çevrilerek Avrupa'da, asırlarca tıp öğreniminde temel tıp kitabı olarak kullanılmıştır.

Bu bilgidен, aşağıdaki yargılardan hangisi çıkarılamaz?

- A) İslam dini bilimsel gelişmelere açıktır.
B) Tıp bilimi, İslamiyet ile birlikte doğmuştur.
C) Batı dünyası, İslam bilginlerinden yararlanmıştır.
D) Tıp alanında büyük eserler veren Müslüman bilginler de vardır.

6. Müslüman Arapların, aşağıdaki devletlerden hangisini yıkmaları sonrasında Müslümanlar; Horasan, Maveraünnehir ve Kafkasya'daki Türklerle komşu olmuşlardır?

- A) Fatımî B) Emevi
C) Eyyûbi D) Sasani

7. İslamiyet'in Türkler arasında hızla yayılmasında, aşağıdakilerden hangisinin bir etkisi yoktur?

- A) İki ulusun kullandığı savaş taktikleri
B) Cihan hakimiyeti ideali ile cihat düşüncesinin örtüşmesi
C) Farklı inanışlara gösterilen hoşgörü yaklaşımı
D) Tek tanrı inancının benimsenmiş olması

8. Türk - İslam edebiyatının ilk yazılı örneği olan “Kutadgu Bilig” adlı eser ile ilgili, aşağıdaki bilgilerden hangisi yanlıştır?

- A) Arap alfabesi ile yazılmıştır.
B) Yusuf Has Hacıp tarafından kaleme alınmıştır.
C) Karahanlı hükümdarı Tabgaç Buğra Han'a sunulmuştur.
D) Hükümdarlara öğüt veren bir “Siyasetname” özelliğindedir.

9. Aşağıdakilerden hangisi, ilk Müslüman Türk devletlerinden biri değildir?

- A) Büyük Selçuklular
B) Tolunoğulları
C) Karahanlılar
D) Gazneliler

10. “Selçuklularda, hükümdar çocuklarının eğitim ve yetiştirmelerinden sorumlu olan kişi”, aşağıdakilerden hangisidir?

- A) Naib B) Hacıp
C) Atabey D) Emir-i Candar

1. OTURUM

11. Büyük Selçuklu hükümdarı Sultan Tuğrul, Abbasi halifesi Kaim bi-Emrillah'ı, aşağıdaki hangi devletin baskısından kurtarmak için 1055 yılının Ocak ayında Bağdat'a girmiştir?

- A) Fatimî
- B) Eyyûbi
- C) Büveyhoğulları
- D) Samanoğulları

12. Gazneli Sultan Mahmut'un Hindistan'a düzenlemiş olduğu 17 askerî sefer için, aşağıdakilerden hangisi söylenemez?

- A) Türkler, İslam dinine hizmet etmeye çalışmışlardır.
- B) Hindistan'ın tamamına İslam dini hâkim olmuştur.
- C) Sultan Mahmut, İslam dinini yaymaya çalışmıştır.
- D) İslam dünyasında Sultan Mahmut'un itibarı artmıştır.

13. Aşağıdakilerden hangisi, Malazgirt Zaferi'nden sonra Anadolu'da kurulan ilk Türk devletlerinin faaliyetlerinden biri değildir?

- A) Anadolu'daki Türk nüfusunu artırmaları
- B) Kutsal emanetleri, Mısır'dan İstanbul'a getirmeleri
- C) Anadolu'ya medrese, han, hamam, cami gibi eserler kazandırmaları
- D) Kuruldukları bölgeleri Haçlılara, Bizanslılara ve Gürcülere karşı korumaları

14. Büyük Selçuklularda "Tuğraî" adı verilen görevli, aşağıdaki divanlardan hangisinin başkanıdır?

- A) Divan-ı Arz
- B) Divan-ı İşraf
- C) Divan-ı İnşa
- D) Divan-ı İstifa

15. Aşağıdakilerden hangisi, Büyük Selçuklularla Türkiye Selçuklularının ortak düşmanlarından biri değildir?

- A) Haçlılar
- B) Moğollar
- C) Bizanslılar
- D) Danişmentliler

16. Aşağıdakilerden hangisi, Miryokefalon Savaşı'nın sonuçlarından biridir?

- A) Anadolu'daki Türk siyasi birliğinin bozulması
- B) Karamanoğlu Mehmet Bey'in, Konya'yı ele geçirmesi
- C) Osmanlı sınırlarının, Adriyatik Denizi kıyılarına ulaşması
- D) Bizans'ın, Anadolu'da taarruz durumundan savunma durumuna geçmesi

17. Aşağıdaki olaylardan hangisi, Türkiye Selçuklu Devleti'nin yıkılmasında diğerlerinden daha çok etkili olmuştur?

- A) Haçlı Seferleri
- B) Köseadağ Savaşı
- C) Bizans saldırıları
- D) Anadolu'da kurulan Türk beylikleri

18. "Selçuklu Tarihi" adlı eseri yazarak, Türkiye Selçuklu sultanı I. Gıyaseddin Keyhüsrev'e sunan dönemin büyük tarihçisi, aşağıdakilerden hangisidir?

- A) Ravendi
- B) İbn-i Bibi
- C) Âşıkpaşazade
- D) Kerimüddin Aksarayî

19. Türkiye Selçuklu Devleti Dönemi'nde, kervanların güvenliğini sağlamak amacıyla yapılan mimari yapılar, aşağıdakilerden hangisidir?

- A) Bedestenler
- B) Bimarhaneler
- C) Kervansaraylar
- D) İmarethaneler

20. Türkiye Selçuklularında, bütün kadıları denetleme yetkisine sahip olan ve "Kadi'l Kudat" unvanını taşıyan kadıların başkanı, aşağıdaki şehirlerin hangisinde otururdu?

- A) Konya
- B) Kayseri
- C) Bursa
- D) İstanbul

(136) TARİH – 6

1. İslam Devleti, aşağıdaki konulardan hangisini gerçekleştirmede diğerlerine göre daha çok zorlanmış olabilir?

- A) İslami fetihler yapma
- B) Hukuksal olarak örgütlenme
- C) Devletin sınırlarını genişletme
- D) Araplar arasında birlik sağlama

2. Fatimî Devleti, kaçınıcı yüzyılda ve nerede kurulmuştur?

- A) 7. yy - İspanya
- B) 8. yy - Anadolu
- C) 9. yy - Mısır
- D) 10. yy - Tunus

3. İslam Devleti, aşağıdaki şehirlerin hangisinde kurulmuştur?

- A) Kudüs
- B) Mekke
- C) Medine
- D) İskenderiye

4. Eski Türkler "Kara" ismini, hangi yönü ifade etmek için kullanmışlardır?

- A) Doğu
- B) Batı
- C) Güney
- D) Kuzey

5. • Tarihteki ilk Arap - Çin savaşıdır.

• Türklerin, İslam dinini kabul etmelerinde etkili olmuştur.

Yukarıda, hangi savaşın bazı özellikleri verilmiştir?

- A) Talas
- B) Katvan
- C) Nihavend
- D) Dandanakan

1. OTURUM

6. Selçuklu Türklerinin, Bizans'a karşı kazandıkları ilk önemli zaferi, aşağıdakilerden hangisidir?

- A) Pasinler
- B) Malazgirt
- C) Yassı Çimen
- D) Miryokefalon

7. Asla zapt edilemez denilen Ani Kalesi'ni ele geçiren ve bu başarısından dolayı da Abbasi halifesi Kaim bi - Emrillah tarafından "fetih babası" anlamına gelen "Ebü'l Feth" unvanı ile onurlandırılan Selçuklu hükümdarı, aşağıdakilerden hangisidir?

- A) Melikşah
- B) Alp Arslan
- C) Tuğrul Bey
- D) Selçuk Bey

8. Aşağıdakilerden hangisi, Tolunoğulları ile İhşidilerin ortak özelliklerinden biri değildir?

- A) Mısır'da kurulmuş olmaları
- B) Hâkimiyetlerinin kısa sürmesi
- C) Fatimiler tarafından yıkılmaları
- D) Yöneticilerinin ve askerî gücünün Türklerden oluşması

9. Harzem valisi Anuş Tegin'in ölümü sonrasında oğlu Kudbeddin Muhammed'i, 1097 yılında Harzem'e vali olarak atayan Selçuklu sultanı, aşağıdakilerden hangisidir?

- A) Berkjaruk
- B) Alp Arslan
- C) Melikşah
- D) Sencer

10. Aşağıdakilerden hangisi, Gazne Devleti'nin ordu teşkilatında bulunan sınıflardan biri değildir?

- A) Gulamlar
- B) Gönüllüler
- C) Hassa Ordusu
- D) Eyalet Askerleri

11. Bağdat'taki Nizamiye Medresesi'ni kurduran Selçuklu veziri, aşağıdakilerden hangisidir?

- A) Buzgânî
- B) Dihistânî
- C) Nizâmülmülk
- D) Dergezinî

12. Selçuklularda, şehzadeleri yetiştiren âlim kişilere ne ad verilir?

- A) Lala
- B) Şihne
- C) Yuğruş
- D) Atabey

13. Ahmet Yesevî'nin, Türklere, İslam'ın ilkelerini basit ve anlaşılır bir dille öğretmeye çalıştığı eserinin adı, aşağıdakilerden hangisidir?

- A) Şerefiyye
- B) Divan-ı Hikmet
- C) Atabetü'l Hâkayık
- D) Divan-ı Lûgatü't Türk

14. Türk - İslam devletlerinde ordunun sefer emrini, aşağıdakilerden hangisi verirdi?

- A) Ulak
- B) Tuğrai
- C) Devaddar
- D) Hükümdar

15. Aristo'nun fikirlerini en iyi şekilde açıkladığı için kendisine ikinci öğretmen anlamında "Muallim-i Sâni" unvanı verilen ünlü filozof ve bilim insanı, aşağıdakilerden hangisidir?

- A) Farabi
- B) Harezmi
- C) İbn-i Türk
- D) Zemahşeri

16. Selahaddin Eyyûbi'nin 1187 yılında Kudüs kralını Hittin Savaşı'nda yenerek Kudüs'ü ele geçirmesi, aşağıdaki Haçlı Seferleri'nden hangisinin başlamasına neden olmuştur?

- A) Dördüncü Haçlı Seferi
- B) Üçüncü Haçlı Seferi
- C) İkinci Haçlı Seferi
- D) Birinci Haçlı Seferi

17. Memlûk Devleti, aşağıdaki savaşlardan hangisinin sonucunda yıkılmıştır?

- A) Katvan
- B) Ayn Câlud
- C) Ridaniye
- D) Mercidabık

18. Dünyanın en güzel anıtlarından biri olan "Tac Mahal", aşağıdaki devletlerden hangisinin döneminde yapılmıştır?

- A) İlhanlılar
- B) Babürlüler
- C) Selçuklular
- D) Timurlular

19. Eyyubîlerde, sultanla görüşmek isteyenleri görüştüren ve sultanın korunmasını sağlayan saray görevlisi, aşağıdakilerden hangisidir?

- A) Hâcip
- B) Taştdar
- C) Silahdar
- D) Muhtesip

20. Aşağıdaki devlet adamlarından hangisi, Batınlığın beyni olarak kabul edilen Alamut Kalesi'ni (Kartal Yuvası) alarak Batınlığa son vermiştir?

- A) Selçuklu hükümdarı Tuğrul Bey
- B) Babür hükümdarı Babür
- C) Gazneli Sultan Mahmut
- D) İlhanlı hakani Hülagü

(151) COĞRAFYA – 1

1. Aşağıdaki faaliyetlerden hangisinin doğa ve canlılar üzerindeki etkisi kesinlikle olumludur?

- A) Baraj yapmanın
- B) Köprü yapmanın
- C) Hayvancılık yapmanın
- D) Ağaçlandırma yapmanın

2. Silindir projeksiyonu yöntemiyle yapılan bir Dünya haritasında aşağıda verilen yerlerin hangisinde gerçek alan bozulmadan korunur?

- A) Kutuplar ve çevresi
- B) Ekvator ve çevresi
- C) Oğlak Dönencesi ve çevresi
- D) Yengeç Dönencesi ve çevresi

1. OTURUM

3. Ardışık iki paralel dairesi arasındaki mesafe yaklaşık 111 km'dir.

Buna göre Ekvator ile Kuzey Kutup Noktası arası yaklaşık kaç km'dir?

- A) 1665 B) 3330
C) 9990 D) 19980

4. Haritalarda yön oku olmadığı zaman bununla ilgili bilgiyi aşağıdakilerden hangisi verir?

- A) Ölçeği
B) Lejanti
C) Meridyenlerin uzanışı
D) Tarih değiştirme çizgisi

5. Yeryüzü şekillerinin gösterilme yöntemlerinin hangisinde haritalanacak bölge üç boyutlu maket haline getirilerek küçültülür?

- A) İzohips
B) Kabartma
C) Gölgeleme
D) Renklendirme

6. Aşağıdakilerden hangisi Dünya'nın günlük hareketinin bir sonucu değildir?

- A) Cisimlerin gölge boylarının gün içinde değişmesi
B) Dinamik basınç alanlarının oluşumu
C) Çöllerde mekanik ufalanmanın görülmesi
D) Ekliptik düzlem ile yer ekseninin arasında açının oluşması

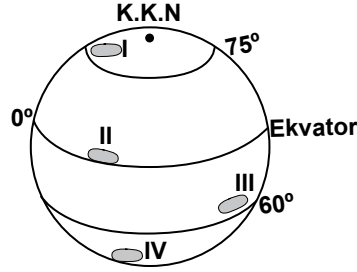
7. Aşağıdaki gazlardan hangisinin atmosfer içindeki miktarının artması; sera etkisine ve buna bağlı olarak iklim değişikliğine neden olur?

- A) Karbondioksit
B) Kripton
C) Oksijen
D) Metan

8. Aşağıdaki atmosfer katlarından hangisinde dikey yönlü sıcaklık değişimi çok azdır?

- A) Termosfer B) Troposfer
C) Stratosfer D) Mezosfer

9.



Yukarıdaki şekilde numaralandırılarak verilen alanlardan hangisine güneş ışınları daha dik açı ile gelmektedir?

- A) I B) II C) III D) IV

10. Coğrafi konumları dikkate alındığında aynı gün içinde aşağıdaki şehirlerin hangisinde gece ile gündüz sıcaklık değerleri arasındaki fark daha çoktur?

- A) Malatya B) Sinop
C) Manisa D) Çanakkale

11. İzobar haritalarında hangi iklim elemanına ait değerler gösterilmektedir?

- A) Nem B) Sıcaklık
C) Yağış D) Basınç

12. Alize rüzgarları için aşağıdakilerden hangisi söylenemez?

- A) Sürekli esen rüzgarlardır.
B) Ekvatordaki alçak basınç merkezine eserler.
C) Çoğunlukla nemli olup yağış bırakırlar.
D) 30° Kuzey ve 30° Güney paralellerinden doğarlar.

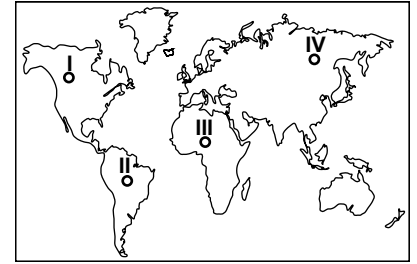
13. Aşağıdaki yerlerin hangisinde tundra iklimi görülmez?

- A) Sibirya'da
B) Avustralya adasında
C) Kanada'nın kuzeyinde
D) İskandinav Yarımadası'nda

14. Aşağıdaki iklim tiplerinin hangisinde yıllık sıcaklık ortalaması daha yüksektir?

- A) Muson B) Karasal
C) Akdeniz D) Tropikal

15.



Haritada numaralandırılarak verilen yerlerden hangisi Kuzey Amerika Levhası üzerinde yer almaktadır?

- A) I B) II C) III D) IV

16. • Yaklaşık 600 milyon ile 250 milyon yıl öncesini kapsar.
• İklim genel olarak nemli ve ılımandır.
• İlk sürüngenler, böcekler, balıklar ve kafadan bacaklılar ortaya çıkmıştır.

Yukarıdaki gelişmelerin tamamı hangi jeolojik zamanda gerçekleşmiştir?

- A) Prekambrien
B) Paleozoik
C) Mezozoik
D) Neozoik

17. Epirojenez aşağıdakilerden hangisini ifade eden kavramdır?

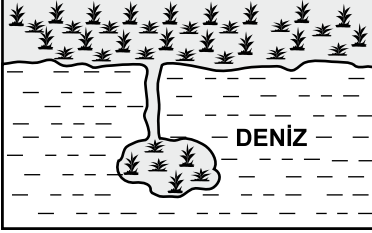
- A) Volkanik püskürmeleri
B) Dağ oluşumlarını
C) Kıt'a oluşumlarını
D) Depremleri

1. OTURUM

18. Tektonik depremleri diğer deprem türlerinden ayıran en önemli özelliği aşağıdakilerden hangisidir?

- A) Etki alanlarının geniş ve şiddetli olması
- B) Depremlerin büyük kısmını bu türün oluşturması
- C) Oluşumunda konveksiyonel akımlarının etkili olması
- D) Yeryüzünde büyük ve uzun fay sistemleri oluşturması

19.



Dalgalar sonucu oluşan kıyı okunun zamanla şekildeki gibi adıyla bağlanmasıyla oluşan kıyı şeklinin adı nedir?

- A) Tombolo
- B) Falez
- C) Kumsal
- D) Barkan

20. Aşağıdakilerden hangisinin oluşumu diğerlerinden farklı bir dış güce bağlıdır?

- A) Sirk
- B) Moren
- C) Mantar kaya
- D) Hörgüç kaya

(155) COĞRAFYA – 5

1. Aşağıdakilerden hangisi yeryüzünde canlı hayatını ve çeşitliliğini olumlu yönde etkiler?

- A) Suların kirlenmesi
- B) Kentleşmenin hızlanması
- C) İnsan nüfusunun artması
- D) Erozyonla mücadele edilmesi

2. Karbon ve bileşikleri için aşağıdakilerden hangisi söylenemez?

- A) Canlı dokularının temel taşıdır.
- B) Tuzlar en önemli kaynağıdır.
- C) Günlük ve mevsimlik sıcaklıkları dengeler.
- D) Fotosentezin gelişiminde rol alırlar.

3. Aşağıdakilerden hangisi tropikal yağmur ormanlarının genel özelliğidir?

- A) Uzun boylu, geniş yapraklı ve sık ağaçlardan oluşurlar
- B) Kış mevsiminde yapraklarını döken ağaçlardan oluşurlar
- C) Kuzey yarım küre'de 45°-70° paralelleri arasında yayılış gösterirler
- D) İçinde barındırdığı hayvan tür ve sayısı oldukça düşüktür

4. Aşağıdaki canlı türlerinden hangisi sıcak çöllerde yayılış gösterir?

- A) Fok
- B) Penguen
- C) Kertenkele
- D) Kutup ayısı

5.

Ülke	Nüfusu	Nüfus Artış Hızı %
Türkiye	76 Milyon	1,2
İran	77 Milyon	3
Fransa	66 Milyon	0,4
Japonya	127 Milyon	0,1

Yukarıda verilen tabloya göre bir yılda nüfusu en fazla artan ülke aşağıdakilerden hangisidir?

- A) Türkiye
- B) İran
- C) Fransa
- D) Japonya

6. Aşağıdaki şehirlerden hangisinin küresel ekonomide yeri ve önemi daha fazladır?

- A) Şam
- B) Buenos Aires
- C) Essen
- D) Tokyo

7. Süt ve süt ürünleri üretimi yapmak için fabrika kurmak isteyen bir iş adamı bu yatırım için aşağıdakilerden hangisine öncelik vermelidir?

- A) Hayvancılığın yoğun yapıldığı yer seçimine
- B) Modern pazarlama yöntemleri geliştirmeye
- C) Fabrika arsasını düşük fiyatla satın almaya
- D) Çalıştıracağı iş gücü ihtiyacını temin etmeye

8. Aşağıdaki illerimizin hangisinde petrol rafinerisi bulunmaktadır?

- A) İstanbul
- B) Zonguldak
- C) Kırklareli
- D) Kırıkkale

9. Aşağıdaki ürünlerden hangisinin tüketim noktalarına ulaştırılmasında modern depolama ve hızlı taşıma sektörlerine daha çok ihtiyaç duyulur?

- A) Tahıllar
- B) Turuncgiller
- C) Deniz ürünleri
- D) Tekstil ürünleri

10. Aşağıdaki doğal kaynaklardan hangisinin önemi insanlık için diğerlerinden daha azdır?

- A) Petrol
- B) Uranyum
- C) Toprak
- D) Güneş

11. Türkiye'nin yeryüzü özelliklerinden hangisi ekonomisini olumsuz etkiler?

- A) Sık akarsu ağına sahip olması
- B) Kıyılarında büyük delta ovalarının olması
- C) Arazisinin büyük kısmının dağlık ve engebeli olması
- D) Platoların yüzölçümünde geniş yer tutması

12. Aşağıda verilen yerlerin hangisinde ekonomik faaliyetler daha yoğun yapılmaktadır?

- A) Van Gölü
- B) Çukurova
- C) Taşeli Platosu
- D) Kaçkar Dağları

13. Aşağıdakilerden hangisi ülkemizde uygulanan ekonomi politikalarının amaçlarından biri olamaz?

- A) İstikrarlı kalkınmayı sağlamak
- B) Dengeli gelir dağılımı oluşturmak
- C) Kaynakları en verimli biçimde kullanmak
- D) Ekonomide devletin ağırlığını ve payını arttırmak

1. OTURUM

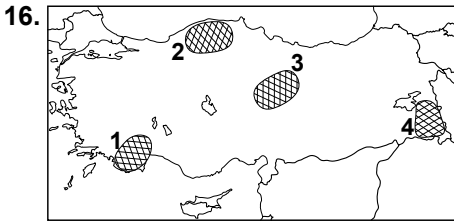
14. Ekonomik kalkınmasını sağlamak için aşağıdaki illerden hangisi teşvik politikalarına ve uygulamalarına daha fazla ihtiyaç duyar?

- A) Ağrı B) Muğla
C) Konya D) Gaziantep

15. Cumhuriyet'in ilk yıllarında tarımın ülke ekonomisindeki ağırlığı fazla iken günümüzde milli gelire katkısı % 10'un altına inmiştir.

Bunun sebebi aşağıdakilerden hangisidir?

- A) Kırdan kente yoğun göç yaşanması
B) Sanayi ve hizmet sektörünün daha çok gelişmesi
C) Nüfus artış hızının uzun yıllar yüksek çıkması
D) Tarım sektöründe çalışan sayısının artması



Haritada numaralandırılarak verilen taralı alanların hangisinde küçükbaş hayvan (koyun) sayısı daha fazladır?

- A) 1 B) 2 C) 3 D) 4

17. Anadolu'da ilk kullanılan metal maden aşağıdakilerden hangisidir?

- A) Bakır B) Kurşun
C) Demir D) Krom

18. Bor minareli için aşağıdakilerden hangisi söylenemez?

- A) 250 değişik alanda kullanılır.
B) Sanayide kullanımı yüksek teknoloji gerektirir.
C) En önemli yataklar Sivas, Malatya, Kayseri ve Adana'dadır.
D) Dünya rezervlerinin %72 si Türkiye'dedir.

19. Aşağıda verilen yerlerin hangisinde coğrafi konum ve yeryüzü özellikleri burada sanayinin gelişmesine daha çok imkan verir?

- A) Batı Anadolu'da
B) Doğu Anadolu'da
C) Kuzey Anadolu'da
D) Güney Anadolu'da

20. Orman yangınları aşağıda verilen illerimizin hangisinde daha çok yaşanmaktadır?

- A) Bolu B) İstanbul
C) Muğla D) Rize

(157) COĞRAFYA – 7

1. Alp dağlarındaki kış turizmi ile adını duyuran ve bununla büyük ölçüde döviz girdisi sağlayan ülke aşağıdakilerden hangisidir?

- A) İtalya B) Almanya
C) Portekiz D) İsviçre

2. "Yükselen sıcaklıklar tropik bölgelerde ürün kaybına neden olurken, tahıl üretimi için çok soğuk olan kuzey bölgeleri de tarım için elverişli hale gelecektir."

Paragrafta sözü edilen gelişmeler aşağıdakilerden hangisinin sonucu olabilir?

- A) Kuraklığın
B) Erozyonun
C) Sel ve taşkınların
D) Küresel ısınmanın

3. ABD Kaliforniya'daki Central Valley Projesinin amacı aşağıdakilerden hangisidir?

- A) Sulama projesiyle çölde yaşam alanı oluşturmak
B) Ağaçlandırma çalışmalarıyla erozyonu önlemek
C) Bataklık kurutarak arazi elde etmek
D) Raylı sistemle ulaşımı hızlandırmak

4. İnka Uygarlığı nerede kurulup gelişmiştir?

- A) Akdeniz kıyılarında
B) Nil Nehri çevresinde
C) And Dağları üzerinde
D) İndus Nehri'nin kuzeyinde

5. Rotterdam Limanı hangi ülkenin kıyısındadır?

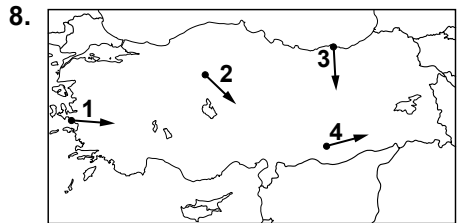
- A) İspanya B) Fransa
C) Hollanda D) Danimarka

6. Aşağıdakilerden hangisi kültürel aktivitelerin yapıldığı mekânlardan biri değildir?

- A) Müzeler
B) Hava alanları
C) Konser salonları
D) Sinema salonları

7. Güneydoğu Anadolu'dan başlayarak Basra Körfezi'ne kadar uzanan Dicle ve Fırat nehirleri arasındaki bölgenin adı nedir?

- A) Trakya B) İyonya
C) Kapadokya D) Mezopotamya



Ülkemizin yer şekilleri dikkate alındığında haritadaki numaralı oklardan hangisinde aynı özelliklerdeki kara ve demiryolunun yapımı daha zordur?

- A) 1 B) 2 C) 3 D) 4

9. Gebze'de nüfusun hızlı artışında etkili olan en önemli ekonomik faaliyet aşağıdakilerden hangisidir?

- A) Sanayi
B) Tarım
C) Turizm
D) Yeraltı kaynağı

1. OTURUM

10. Aşağıdaki yerlerden hangisi maden bölgesi grubundadır?

- A) Antalya ve çevresi
- B) Zonguldak ve çevresi
- C) Adana ve Mersin çevresi
- D) Konya ve Aksaray çevresi

11. Yaz kuraklığı aşağıdakilerden hangisinin azalmasına neden olur?

- A) Akarsu debisinin
- B) Yaylacılık faaliyetlerinin
- C) Tarımda sulama ihtiyacının
- D) Deniz turizmi faaliyetlerinin

12. Aşağıdaki hangi bölgenin oluşumunda ekonomik özellikler etkili olmamıştır?

- A) Tarım Bölgesinin
- B) Maden Bölgesinin
- C) Dağlık Bölgenin
- D) Turizm Bölgesinin

13. “Ülkemizde Akdeniz, Güney Marmara, Ege Bölümü ve Güneydoğu Anadolu’da Gaziantep çevresi başlıca zeytin üretim alanlarıdır.”

Buna göre; aşağıdakilerden hangisi zeytin üretim alanlarının ortak özelliğidir?

- A) Engebeli arazilerdir.
- B) Akdeniz iklimi hakimdir.
- C) Alüvyal topraklar yaygındır.
- D) Büyükbaş hayvancılık gelişmiştir.

14. Aşağıdaki limanlardan hangisi ülkemizin kuzeyinde yer alır?

- A) Sinop
- B) İzmir
- C) Mersin
- D) Bandırma

15. Aşağıdakilerden hangisi Almanya’da sanayinin gelişmesindeki temel etkendir?

- A) Coğrafi özelliklerinin uygun olması
- B) Dışarıdan çok sayıda işçi göçü alması
- C) Verimli tarım alanlarına sahip olması
- D) Ruhr ve Saar havzalarındaki maden yatakları

16. Türkiye’de karayoluyla yapılan taşımacılığın diğer ulaşım sistemlerinden yaygın olmasında aşağıdakilerden hangisinin etkisi daha fazladır?

- A) Karayolu taşımacılığının ucuz olmasının
- B) Taşıt kapasitesinin fazla olmasının
- C) İklimin karayolu taşımacılığına uygun olmasının
- D) Karayoluyla Türkiye’nin her yerine ulaşılabilmesinin

17. Aşağıdakilerden hangisi kıyı(deniz) turizminin potansiyelini düşürür?

- A) İnce kumlu plajlar
- B) Elverişli koy ve körfezler
- C) Kıyılarda madencilik yapmak
- D) Çevredeki orman varlığı

18. Aşağıdaki il ve turizm değerleri arasında yapılan eşleştirmelerden hangisi yanlıştır?

İl	Turizm değerleri
A) Gaziantep	Nemrut Heykelleri
B) Nevşehir	Peribacaları
C) Konya	Mevlana Türbesi
D) Çanakkale	Truva Atı

19. Bir yerde ticaretin büyüüp gelişmesinde aşağıdakilerden hangisinin etkisi en azdır?

- A) Toprak çeşidinin
- B) Ulaşım ağının
- C) Konumunun
- D) Nüfusunun

20. Şifalı suları ve bembeyaz görünümlüyle birçok turisti çeken Pamukkale hangi ilimizin sınırları içindedir?

- A) Adıyaman
- B) Denizli
- C) Antalya
- D) Trabzon

(181) İNGİLİZCE – 1

1 - 20. sorularda boş bırakılan yere uygun gelen kelime ya da ifadeyi işaretleyiniz.

1. My sister hates vegetables. She eats carrots.

- A) frequently
- B) always
- C) often
- D) never

2. I'm cold. the window, please.

- A) Open
- B) Close
- C) Look
- D) Take

3. Don't make noise! Your father

- A) slept
- B) sleeps
- C) to sleep
- D) is sleeping

4. My father to İstanbul next week.

- A) flies
- B) is going to fly
- C) flew
- D) has flown

5. My brother to the cinema two hours ago.

- A) went
- B) goes
- C) is going
- D) to go

6. They football until 7 o'clock in the evening yesterday.

- A) play
- B) played
- C) playing
- D) to play

7. I with my friends in the library yesterday at 3 o'clock.

- A) were
- B) am
- C) will
- D) was

1. OTURUM

8. I help my mother every day but I help her tomorrow because I have exams.

- A) will B) am not
C) will not D) do

9. My parents visit my teacher yesterday because they went to work.

- A) didn't B) don't
C) aren't D) haven't

10. You swim in the river. It is full of crocodiles.

- A) can B) couldn't
C) should D) mustn't

11. Please, give me glasses.

- A) those B) that
C) this D) a

12. How books do you want to buy?

- A) much B) some
C) any D) many

13. do you visit your friends?

- A) Who B) What
C) How often D) How much

14. Ten years ago, there a beautiful park opposite our house, now there tall buildings.

- A) are / were
B) used to be / are
C) were / were
D) are / used to be

15. Student: I go out?
Teacher: Yes, of course.

- A) Do B) Did
C) May D) Am

16. A: Does your mother play chess?
B: No,

- A) she doesn't
B) she does
C) she isn't
D) she is

17. A: Do you like watching football?

B: Yes, I

A: Does your father like it?

B: No, he

- A) do / doesn't
B) don't / does
C) do / don't
D) does / does

18. A: Do you prefer tea or coffee?
B:

- A) I'm having tea.
B) I had some tea.
C) I'll have tea, please.
D) I have tea every day.

19. A: What is the student doing?
B:

- A) She swam.
B) He's studying.
C) You have cooked.
D) They will watch TV.

20. A:
B: I'm sorry. He isn't in the office.

- A) Can I help you?
B) Is that Mr. Aksu?
C) What can I do for you?
D) Can I speak to Mr. Aksu?

(181) ALMANCA – 1

1 - 20. sorularda boş bırakılan yere uygun gelen ek, kelime ya da ifadeyi işaretleyiniz.

1. A: kommst du?
B: Aus Deutschland.

- A) Woher B) Wohin
C) Wo D) Was

2. A: ist deine Telefonnummer?
B: Meine Telefonnummer ist 4-5-7-8.

- A) Wohin B) Woher
C) Wie D) Wer

3. A: Wer ist das?
B: Das Osman und Veli.

- A) ist B) sind
C) seid D) bin

4. A: Was macht Hans?
B: Hans Musik.

- A) trinkt B) hört
C) schaut D) isst

5. A: Hallo Michael!.....Ayşe das Buch von Agatha Christie?
B: Das weiss ich nicht.

- A) Hat B) Hast
C) Haben D) Habe

6. A: Wie schmeckt die Suppe?
B: schmeckt gut.

- A) Der B) Er C) Es D) Sie

7. A: Heike und Menekşe! ihr mir helfen?
B: Tut uns leid Mutti! Wir machen unsere Hausaufgaben.

- A) Können B) Möchte
C) Möchten D) Könnt


1. OTURUM

8. A: Was sagt er?

B: Er sagt, das sein Wörterbuch ist.

- A) aber B) weil
C) dass D) sonst

9. Das ist ein



- A) Fotoalbum B) Bild
C) Kochbuch D) Arbeitsbuch

10. Das ist mein Onkel und das ist Frau.

- A) ihr B) seine
C) ihre D) seine

11. Es ist Sommer. Ich brauche Sonnenbrille.

- A) der B) eine
C) das D) ein

12. Weil es regnet, nimmt Frau Berger Regenschirm.

- A) ihre B) seinen
C) ihren D) seine

13. Ich habe Ayşe drei Jahren nicht gesehen.

- A) seit B) um
C) ab D) von

14. Unter 18 man nicht Autofahren.

- A) wollen B) können
C) darf D) müssen

15. Die Mathelehrerin viele Regeln

- A) haben / erklärten
B) hat / erklärten
C) haben / erklärt
D) hat / erklärt

16. Das Flugzeug ist um 14 Uhr

- A) ankommen B) angekommen
C) gekommen D) kamm

17. Hans ist mit seiner Prüfungsnote zufrieden, sie schlecht ist.

- A) als B) weil
C) sobald D) obwohl

18. Das Buch liegt in Regal (das).



Ich stelle das Buch in Regal (das).



- A) dem / das B) das / dem
C) den / der D) der / der

19. Meine Tante hat ein-... Rot-... Auto.

- A) -es / - B) - / -es
C) -en / -er D) -e / -e

20. Marion ist hungrig ein Löwe.

- A) so B) als
C) wie D) wenn

(181) FRANSIZCA – 1

1 - 17. sorularda boş bırakılan yere uygun gelen kelime ya da ifadeyi işaretleyiniz.

1. Ma mère un régime pour maigrir.

- A) fera B) ferons
C) ferai D) ferez

2. mes amies sont parties pour Paris.

- A) Tous B) Tout
C) Toutes D) Toute

3. Alex, tu fais toujours la faute !

- A) autres B) même
C) mêmes D) autre

4. Vous allez en donner une à élève !

- A) pour B) toujours
C) avec D) chaque

5. joueurs n'ont pas bien joué dans le match.

- A) Certaine B) Certaines
C) Certain D) Certains

6. personne ne viendra au bal.

- A) Aucune B) Aucun
C) Plusieurs D) Autres

7. Si nous travailler, ne parlons pas !

- A) voudriez B) avons voulu
C) voulons D) vouliez

8. Les lunettes servent à

- A) manger B) bien voir
C) boire D) parler

1. OTURUM

9. Çağla n'..... pas encore allée au Maroc.

- A) est B) a C) es D) ont

10. Ezgi n'as lu ce roman.

- A) très B) encore
C) personne D) pas

11. Les prix de l'essence sont en Turquie.

- A) élevé B) élevés
C) élevées D) élevée

12. J'ai les cheveux

- A) blanc B) blanche
C) blancs D) blanches

13. Tous les élèves respectent-..... leur professeur?

- A) ils B) elle
C) nous D) tu

14. Sur la lune, il n'y a signe de vie.

- A) aucune B) pendant
C) toujours D) aucun

15. Lundi dernier, j'ai un nouveau CD de Hande.

- A) acheté B) achètes
C) achète D) achetez

16. A: Vous nous connaissez?
B: Oui, nous connaissons bien.

- A) vous B) me C) te D) eux

17. A: Il neige. Tu as mis les bottes?

B: Oui, je ai mises.

- A) la B) le C) les D) lui

18 - 20. soruları resimleri dikkate alarak cevaplayınız.


18.



Ce collier est en

- A) coton B) soie
C) or D) laine

19.



A : Qu'est-ce que c'est?

B : C'est un

- A) pentagone B) triangle
C) étoile D) hexagone

20.



Elle porte des

- A) colliers
B) boucles d'oreilles
C) lunettes
D) bracelets

(244) İNGİLİZCE – 5

1 - 20. sorularda boş bırakılan yere uygun gelen kelime ya da ifadeyi işaretleyiniz.

1. I will have a long holiday

..... .

- A) last month B) yesterday
C) next year D) today

2. She has been here last year.

- A) from B) since
C) than D) after

3. I have lived in this city two years.

- A) at B) of C) in D) for

4. I met her, she was talking to her teacher.

- A) Then B) While
C) Since D) When

5. My room is bigger my sister's room.

- A) from B) after
C) than D) then

6. Silver is expensive than copper.

- A) much B) more
C) many D) most

7. Ayşe is a student than Özge.

- A) good B) well
C) best D) better

8. Rabbits are than cheetahs.

- A) slower B) younger
C) earlier D) older

1. OTURUM

9. It's than yesterday.
Please, open the window.
- A) taller B) cleaner
C) fatter D) hotter
10. Planes carry people more than buses.
- A) fluently B) quickly
C) carelessly D) happily
11. You haven't been on holiday since last August,?
- A) are you B) did you
C) have you D) were you
12. Your behaviour was too bad.
Please don't do that again,?
- A) is he B) were they
C) has she D) will you
13. Let's go on a picnic,?
- A) will we B) shall we
C) will you D) shall you
14. I hope I an interesting gift for my sister.
- A) will find B) have found
C) find D) found
15. I haven't my uncle for a long time.
- A) seeing B) seen
C) saw D) see
16. Linda to help me.
- A) was promising
B) to promise
C) promised
D) promise

17. Where you your umbrella?
- A) did / forget
B) are / forgetting
C) was / forgetting
D) will / forget
18. We a picnic by a lake last weekend.
- A) watched B) had
C) cleaned D) forgot
19. My father drink milk when he was young.
- A) used to B) have to
C) can D) might
20. Ahmet was watching a film while
- A) they will visit us next week.
B) she prepared the lunch for us.
C) his brother was reading a book.
D) I often go shopping on Sunday.

(244) ALMANCA – 5

1 - 15. sorularda boş bırakılan yere uygun gelen kelime ya da ifadeyi işaretleyiniz.

1. Das Haus A ist
Das Haus B ist
Das Haus C ist



- A) dünn, dünner, am dünnsten
B) dick, dicker, am dicksten
C) hoch, höher, am höchsten
D) kurz, kürzer, am kürzesten

2. Heute ist das Wetter schöner Gestern.
- A) weil B) wenn
C) dass D) als
3. A: isst du kein Fleisch?
B: ich Vegetarier bin.
- A) Wozu / weil
B) Warum / weil
C) Wie / um...zu
D) Warum / um...zu
4. A: sind Sie hier?
B: Um Urlaub zu machen .
- A) Wozu B) Wann
D) Wo E) Wie
5. In Antalya ist das Wetter



- A) regnerisch B) sonnig
C) bewölkt D) windig

6. Unsere Sprechstunden sind
Freitags nur 9:00 Uhr
..... 12:30 Uhr.

- A) nach / von B) um / zu
C) von / bis D) um / um

7. der Mittag,, der Abend

- A) Die Nacht B) der Vormittag
C) der Mittag D) der Nachmittag

8. Februar,, April

- A) März B) Mai
C) Juni D) Januar

9. A: Hallo Monika!
B: Hallo!
A: Das meine Tochter Heike.
B: Freut mich!

- A) sind B) ist
C) seid D) bin

1. OTURUM

10. Im Jahre 1988 habe ich die Grundschule

- A) wohnen B) gegangen
C) geboren D) besucht

11. Montag habe ich Geburtstag.

- A) Am B) Im C) Um D) Von

12. A: hast du Sport gemacht?

B: Tagelang.

- A) Wie B) Wann
C) Wie lange D) Wo

13. Ich hole dich 8.00 Uhr ab.

- A) am B) um C) im D) von

14. Um gesund zu leben man niemals rauchen.

- A) sollte B) sollen
C) können D) konnten

15. A: Das mein Bruder Ali.
B: Angenehm.

- A) bist B) bin
C) ist D) sind

16. Aşağıdakilerden hangisinde yanlış derecelendirme yapılmıştır?

- A) der stärkste Sportler
B) der höchste Gebirge
C) der heißeste Kontinent
D) das schnellere Auto

17. Was ist er von Beruf?



- A) Rechner B) Mechaniker
C) Sportler D) Spieler

18. (März, April, Mai) Welche Jahreszeit ist das?

- A) der Herbst
B) der Winter
C) der Sommer
D) der Frühling

19. Wie spät ist es?



- A) Viertel nach sieben
B) Viertel vor acht
C) Dreiviertel nach acht
D) Dreiviertel nach neun

20. Was macht der Mann?



- A) fernsehen B) arbeiten
C) rauchen D) radio hören

(244) FRANSIZCA – 5

1-16. sorularda boş bırakılan yere uygun gelen kelime ya da ifadeyi işaretleyiniz.

1. Quel est le jour de fête tu t'amuses le plus?

- A) où B) dont
C) que D) quel

2. aimons lire des romans policiers.

- A) Elles B) Vous
C) Elle D) Nous

3. Ma mère a les courses au marché.

- A) faire B) fait
C) faites D) fais

4. Pour aller à l'école, je prends toujours le métro part à 7h.

- A) ce que B) que
C) qui D) ce qui

5. Ma mère fait le ménage en

- A) chante B) chantant
C) chantes D) chantez

6. Les que ma fille a préparés sont meilleurs qu'au restaurant.

- A) repas B) gâteau
C) fruit D) boisson

7. Les étudiants qui parlent bien français viennent de leurs devoirs.

- A) finit B) finis
C) finir D) fini

8. La semaine prochaine, on à Tokyo pour la fête nationale.

- A) partirons B) partirai
C) partiront D) partira

9. En le Japon a perdu la deuxième guerre mondiale.

- A) hier B) 1945
C) demain D) aujourd'hui

10. Elle a réussi son examen en

- A) triche B) triches
C) trichant D) trichons

11. Le cours tu as besoin n'est pas enseigné ce semestre.

- A) que B) dont
C) ce que D) quel

1. OTURUM

12. J'ai passé une journée cette semaine.

- A) mauvaise B) mauvais
C) mauvaises D) mauviète

13. Le Grand Canyon se trouve Etats-Unis.

- A) au B) à
C) aux D) à la

14. sont vos lectures préférées?

- A) Quel B) Quelle
C) Quels D) Quelles

15. Qu'est-ce que tu faire ce week-end?

- A) vas B) vais
C) vont D) va

16. Pierre et pensez voyager ensemble.

- A) eux B) lui
C) toi D) moi

17-18. sorularda verilen Fransızca cümlelerin Türkçe dengini işaretleyiniz.

17. Ma sœur a acheté la robe dont elle a envie.

- A) Kız kardeşine istediğin elbiseyi alabilirsin.
B) Kız kardeşinin istediği elbiseyi al.
C) Kız kardeşim istediği elbiseyi aldı.
D) İsteddiği elbiseyi alan kız benim kardeşimdir.

18. Ils s'entretiennent en attendant l'ascenseur.

- A) Asansör beklerken konuşuyorlar.
B) Asansör beklerken birbirlerine baktılar.
C) Konuşanlar aynı zamanda asansör bekliyor.
D) Asansör bekleyenler durmadan konuşuyor.

19-20. sorularda verilen Türkçe cümlelerin Fransızca dengini işaretleyiniz.

19. TGV'ye binerek iki saat sonra Paris'te olursunuz.

- A) Prenez le TGV, vous serez à Paris dans deux heures.
B) Vous êtes à Paris en prenant le TGV à deux heures.
C) A deux heures prenez le TGV qui va à Paris.
D) En prenant le TGV, vous serez à Paris dans deux heures.

20. Dedemin öldüğü hastane Balıkesir'de.

- A) L'hôpital que mon grand-père a acheté est à Balıkesir.
B) L'hôpital où mon grand-père est mort se trouve à Balıkesir.
C) L'hôpital où mon grand-père va se trouve à cote de Balıkesir.
D) L'hôpital dont mon grand-père me parle se trouve à Balıkesir.

(401) DİL VE ANLATIM – 1

1. Aşağıdakilerin hangisinde "ki"nin yazımı yanlıştır?

- A) Bir de baktım ki kimse kalmamış.
B) Soğuk su içme ki hasta olmayasın.
C) Dizimde ki kızarıklık bir haftada geçti.
D) Arkadaşımın elindeki kitabı daha önce ben okumuştum.

2. Nefes borusundan gelen hava, ağız boşluğu içerisinde herhangi bir bölgede sese dönüşür. Bu sesin oluşmasına ne ad verilir?

- A) Telaffuz B) Boğumlanma
C) Vurgu D) Tonlama

3. Aşağıdakilerden hangisi Göktürkçe yazılmamıştır?

- A) Altın Yaruk
B) Kültigin Anıtı
C) Tonyukuk Anıtı
D) Bilge Kağan Anıtı

4. Aşağıdaki altı çizili sözcüklerden hangisi küçük ünlü uyumuna uymaz?

- A) Hani o gezmeler kırdı, denizde?
B) Hani o cümbüşler, sazlar temmuzda?
C) Kıyılarda neydi o eğlenceler?
D) Ağustos mehtabı tam üstümüzde.

5. "Akatça" aşağıdaki dil ailelerinden hangisi içinde yer alır?

- A) Çin Dilleri Ailesi
B) Bantu Dilleri Ailesi
C) Hami - Sami Dilleri Ailesi
D) Ural - Altay Dilleri Ailesi

6. Aşağıdaki altı çizili sözcüklerin hangisinde ünsüz sertleşmesi vardır?

- A) Gidiyordum, gurbeti gönlümde duya duya
Ulukışla yolundan Orta Anadolu'ya
B) Eğlenme gurbette yayla zamanı
Mevlâyı seversen ağlatma beni
C) Her kim ki olursa bu sırma mazhar
Dünyaya bırakır ölmez bir eser
D) Ey suyun sesinden anlayan bağlar
Ne söyler şu dağa çoban çeşmesi

7. Aşağıdaki birleşik sözcüklerden hangisi ünlü düşmesi yoluyla oluşmamıştır?

- A) Camgöbeği B) Kahvaltı
C) Cumartesi D) Niçin

8. Aşağıdaki sözcüklerin hangisinde sadece yuvarlak ünlüler bulunmaktadır?

- A) Değerlendirme
B) Korunaklı
C) Özellik
D) Görücü

1. OTURUM

9. • 484 dizeden oluşmuştur.
• Ahlaki, öğretici tarzda yazılmış manzum bir eserdir.
• Eserin tamamı dördlük ve beyitlerden oluşmuştur.
• Çağatay lehçesiyle Edip Ahmet tarafından yazılmıştır.

Bu bilgiler aşağıdaki eserlerin hangisine aittir?

- A) Kutadgu Bilig
B) Atabetü'l-Hakayık
C) Divan-ı Hikmet
D) Divanü Lügati't-Türk

10. Şimdi okşar gibi hafif hafif
Bir gün yerden yere çalan rüzgâr
Küçük zerdali ağacım
Bakma güzel gitsin havalara
(Cahit KÜLEBİ)

Yukarıdaki dizelerde büyük ünlü uyumuna uymayan kaç sözcük vardır?

- A) 1 B) 2 C) 3 D) 4

11. Aşağıdaki sözcüklerden hangisi ünlü ile başlayan bir ek aldığı anda sonundaki sert ünsüz yumuşamaz?

- A) Ağaç B) Ekmek
C) Gayret D) Tabak

12. Aşağıdaki altı çizili kelimelerin hangisinde ünlü düşmesi yoktur?

- A) Bu gurbet ellerde boşa geçti ömrümüz.
B) Aklını kullandığı için bu kadar başarılıdır.
C) Bütün zehrini akıttı ve gitti.
D) Onun derdini ancak ben anlarım.

13. Aşağıdakilerin hangisinde ünsüz benzeşmesi kuralına uymaktan kaynaklanan bir yazım yanlış vardır?

- A) Sokakda görünce, gülümse Yanıma yaklaş
B) Bakıyorlar her akşam elimize Bir şey sormak ister gibi hepimize
C) Birkaç bahar, bir o kadar kış Ömürdür: Uzun, kısa.
D) Üç odalı bir ev kiraladığım gün Kurtulacak kitaplarım

14. Aşağıdakilerden hangisi iletişim öğelerinden biri değildir?

- A) Kaynak B) Zaman
C) Alıcı D) Mesaj

15. Aşağıdakilerin hangisinde “de”nin yazımıyla ilgili bir yanlışlık yapılmıştır?

- A) Zeynep akıl ettide başına bir kova su döktü.
B) Aradığın kıyafetleri bu mağazada bulabilirsin.
C) İsrarcı olması da bir şey kazandırmayacaktır ona.
D) Otur da yemek ye, diye ısrar etmeseler yanlarına gitmeye niyeti yoktu.

16. İyi bir devlet yönetiminin olması için yönetim kadrosunda bulunan bey, vezir, subaşı, uluğ hacip, kapugıcı, yalavaç gibi her kademedeki görevli kişilerin nasıl olması ve ne gibi nitelikler taşıması gerektiği bu eserde belirtilir.

Bu parçada söz edilen eser aşağıdakilerden hangisidir?

- A) Kutadgu Bilig
B) Divan-ı Hikmet
C) Atabetü'l-Hakâyık
D) Divanü Lügati't -Türk

17. Aşağıdakilerin hangisinde sayıların yazımıyla ilgili bir yanlışlık yapılmıştır?

- A) Arkadaşımla sözleştiğimiz yerde on ikiye beş kala buluşacağım.
B) İki hafta sonra mahalleden taşınacağız.
C) Bu okul, tercihlerimin 5'inci sırasındaydı.
D) Bir yıl üçyüzaltmışbeş gündür.

18. Aşağıdakilerin hangisinde virgül, eş görevli sözcükleri veya sözcük gruplarını ayırmak için kullanılmıştır?

- A) Şimdi, efendiler, müsadde buyursanız, size bir sorayım.
B) Bir varmış, bir yokmuş diye anlatmaya başladı masalı ninem.
C) Nedir o elmaslar, yakutlar, akikler, zümrütler, şunlar bunlar?
D) Bugünlerde başımı kaşımaya vakit bulamıyorum, dedi.

19. Sözcükleri anlam yönüyle inceleyen bilim dalına ne ad verilir?

- A) Sentaks B) Semantik
C) Fonetik D) Morfoloji

20. 16 ve 20. yüzyıllar arası dönemi kapsayan; Osmanlıca, Azeri Türkçesi, Çağatayca, Özbekçe vb. dillerden oluşan dönem aşağıdakilerden hangisidir?

- A) Modern Türkçe
B) İlk Türkçe Çağı
C) Yeni Türkçe
D) Altay Çağı

(402) DİL VE ANLATIM – 2

1. Aşağıdaki cümlelerin hangisi yalnızca özne ve yüklemden oluşmuştur?

- A) Bu iş yarın akşam biter.
B) Seninle bu kitabı okuyacağız.
C) Ankara Türkiye'nin başkentidir.
D) Tezgâhtar yüzümüze gülümseyerek baktı.

2. “Asker başını çevirdi, işi anladi, yere atladı.” cümlesi için aşağıdakilerden hangisi söylenemez?

- A) Sıralı cümledir.
B) Ortak özne kullanılmıştır.
C) Fiiller belirli geçmiş zamanla çekimlenmiştir.
D) “Yere” sözcüğü cümlenin belirtli nesnesidir.

3. Aşağıdakilerden hangisi isim tamlamasıdır?

- A) Yeşil saha B) Yazı tahtası
C) Beş kiş D) Büyük iş

4. Aşağıdakilerden hangisi türemiş sözcüktür?

- A) Sağlıksız B) Kelebekler
C) Sabahtan D) Evimiz

1. OTURUM

5. Bir de şunu düşündüm: Ne biliyor o yazar, o olayın gerçekte tıpkı öyle geçtiğini? Thukydides'in sözü aklıma geldi: "Ben bu kitapta gözlerimle gördüklerimi anlatıyorum ama belki yanlış görmüşümdür." demiş. O yazar ise kendi gözle-rinden, kendi görme-sinden hiç şüphe etmiyor. Bana insanların içini anlatacak en gizli duygularını, düşüncelerini sezdirecek, bunun için sadece gördüklerini, işittiklerini olduğu gibi yazmakla yetinecek. Demek ki anlamıyor sanatın ne olduğunu.

Bu paragrafın türü aşağıdakilerden hangisidir?

- A) Çözümleme paragrafı
- B) Betimleme paragrafı
- C) Mizahi paragraf
- D) Olay paragrafı

6. Aşağıdakilerin hangisinde haber kiplerinden biri kullanılmıştır?

- A) Gülmelisin B) Güleceksin
- C) Gülesin D) Gülsen

7. Aşağıdakilerden hangisinin kökü ad değildir?

- A) Dışlamak B) Güldürmek
- C) Gözlemek D) Taşlamak

8. Aşağıdakilerin hangisinde "kırmak" sözcüğü mecaz anlamıyla kullanılmıştır?

- A) Dikkatli ol! Düşüp de bir yerini kırma.
- B) Elindeki poşeti hızlı bırakınca yumurtaların ikisini kırdı.
- C) O kadar dikkatsiz ki yeni aldığı bardağı da kırmış.
- D) Birkaç gün evvel yağın yağmur sığağı kırmamış.

9. "Beni merakla dinliyor ve not alıyordu." cümlesindeki anlatım bozukluğunun sebebi aşağıdakilerden hangisidir?

- A) Sözcüğün yanlış yerde kullanılması
- B) Gereksiz sözcük kullanımı
- C) Nesne eksikliği
- D) Çatı uyumsuzluğu

10. "Avcı Süleyman yürüye yürüye, dik bir kayalığın dibine vardı."

Bu cümledeki altı çizili bölüm, cümlelerin hangi ögesidir?

- A) Dolaylı tümleş
- B) Belirtili nesne
- C) Zarf tümleci
- D) Özne

11. Aşağıdaki altı çizili sözcüklerden hangisinin sesteşi yoktur?

- A) Yedi yaşından gün almamış çocukları kaydetmiyoruz.
- B) Yavaş yavaş yüzünün ifadesi değişti.
- C) Ayakkabının bağı çözüldü.
- D) Her sabah ballı süt içtim.

12. Aşağıdakilerden hangisi anlamına göre olumlu bir cümledir?

- A) Semtlerde bir tek garaj yok.
- B) En sevdiğim çiçek, gül değildir.
- C) Bir tarafta deniz bir tarafta da havuz vardı.
- D) Elif de dayanmamış bu kadar yüksekte uçuşuna.

13. Aşağıdakilerin hangisi gereklilik cümlesidir?

- A) Bundan böyle daha erken uyumalıyım.
- B) Bu akşam sinemaya gidecekmış.
- C) Havalarda birkaç gün içinde soğuyabilir.
- D) Bana da bunun mavisini alalım.

14. I- Yola çıktığımız zaman deniz dümdüzdü.

II- Ehem kuşağı zaman zaman gözümüzden silinip tekrar ortaya çıkıyordu.

III- Sanki dünyanın kuruluşundan bir gün yaşıyor gibi gi-di-yorduk.

IV- Merakla arkama baktım.

Bu parçadaki cümlelerle ilgili olarak aşağıdakilerden hangisi söylenemez?

- A) I. cümle isim cümlesidir.
- B) II. cümle birleşik cümledir.
- C) III. cümle birden fazla yargı içermektedir.
- D) IV. cümle özne, nesne ve yüklemden oluşmuştur.

15. Çağrışıma bağlı, tamamen olağan veya olağan dışı, hayal gücüne dayanılarak oluşturulan paragraf çeşidi, aşağıdakilerden hangisidir?

- A) Düşünce paragrafı
- B) Çözümleme paragrafı
- C) Düşsel (fantastik) paragraf
- D) Betimleme (tasvir) paragrafı

16. "Ayşe evden koşarak çıktı." cümlesinde aşağıdaki öğelerden hangisi yoktur?

- A) Dolaylı tümleş
- B) Zarf tümleci
- C) Yüklem
- D) Nesne

17. Aşağıdakilerin hangisinde altı çizili sözcük, terim anlamıyla kullanılmamıştır?

- A) Rakamları üçer üçer ayırarak kümeler oluşturunuz.
- B) Dünyanın hazinelere başını çevirip bakmazdı.
- C) Türkçede kökler genellikle tek haceden oluşur.
- D) Nota bile bilmeyen insanlar beste yapıyor.

18. Aşağıdaki sözcüklerden hangisi soyuttur?

- A) Cadde B) Özgürlük
- C) Taş D) Çiçek

19. Aşağıdaki cümlelerin hangisinde altı çizili sözcük yapım eki almıştır?

- A) Çantasını otobüste unutmuş.
- B) Türkçe ağzında annemin sü-tüdür.
- C) Karakterler yavaş yavaş ka-famda canlanmaya başlamıştı.
- D) Annesinin aldığı çantayı gör-dün mü?

1. OTURUM

20. Eskiden “alan” sözcüğü, “düz, açık yer” anlamında kullanılırken günümüzde, bu anlamın yanında “meslek, iş, araştırma-inceleme alanı” anlamlarında da kullanılmaktadır.

Bu açıklama aşağıdaki anlam değişmelerinden hangisine örnektir?

- A) Anlam genişlemesine
- B) Anlam daralmasına
- C) Başka anlama geçişe
- D) Mecaz anlama

(407) DİL VE ANLATIM – 7

1. Akla karşı duyguyu, seçkin sınıfa karşı halkı, kurallara karşı kuralsızlığı işleyen roman türüdür. Victor Hugo’nun “Sefiller”i, Namık Kemal’in “İntibah”ı bu roman türüne örnektir.

Bu parçada anlatılan roman türü aşağıdakilerden hangisidir?

- A) Klasik roman
- B) Romantik roman
- C) Realist roman
- D) Natüralist roman

2. Eski Türk edebiyatının öğretici nitelik taşıyan ünlü eserlerinden olan “Haname” adlı eseri yazan 15. yüzyıl şairi aşağıdakilerden hangisidir?

- A) Şeyhi
- B) Beydaba
- C) Mevlana
- D) Ali Şir Nevai

3. Dostoyevski’nin “Suç ve Ceza”sı, Peyami Safa’nın “Dokuzuncu Hariciye Koşuşu” konusu yönüyle aşağıdaki roman türlerinden hangisine örnektir?

- A) Tarihi roman
- B) Macera romanı
- C) Psikolojik roman
- D) Otobiyografik roman

4. Ağlasam sesimi duyar mısınız,
Mısrarlarımda;
Dokunabilir misiniz,
Gözyaşlarıma, ellerinizle?
Bilmezdim şarkıların bu kadar güzel,
Kelimelerinse kifayetsiz olduğunu
Bu derde düşmeden önce.
Bir yer var, biliyorum;
Her şeyi söylemek mümkün;
Epeyce yaklaşmışım, duyuyorum;
Anlatamıyorum.

(Orhan Veli Kanık)

Bu şiirin teması aşağıdakilerden hangisidir?

- A) Kahramanlık
- B) Ayrılık
- C) Ölüm
- D) Aşk

5. “Hay mübarek! Bereket yaşıyor, bereket!” cümlesinde “bereket” sözcüğündeki mecazımürsel aşağıdaki ilgi türlerinden hangisine örnektir?

- A) İç-dış
- B) Parça-bütün
- C) Neden-sonuç
- D) Sanatçı-eser

6. Ey benim sarı tamburam
Sen ne için inilersin
İçim oyuk derdim büyük
Ben anıncün inilerim
(Pir Sultan Abdal)

Bu dörtlükte aşağıdaki edebî sanatlardan hangisi vardır?

- A) Cinas
- B) Kinaye
- C) Tariz
- D) Mübalağa

7. Birçok yönüyle operayı andıran fakat sahnedeki bütün hareketlerin ahenkli ve zengin dans figürleri hâlinde gösterildiği baştan sona besteli tiyatro çeşidi aşağıdakilerden hangisidir?

- A) Revü
- B) Skeç
- C) Bale
- D) Operet

8. Aşağıdakilerden hangisi geleneksel Türk tiyatrosu türlerine ait bir özellik değildir?

- A) Oyunların hemen hepsi temelde güldürüye dayanır.
- B) Oyunların sonunda alınması gereken ders belirtilir.
- C) Önceden hazırlanmış ve ezberlenmesi gereken metinleri vardır.
- D) Bireysel yanlışlar alaya alınarak seyirciyi iyi ve doğru yönde eğitmek amaçlanır.

9. Romanda anlatılan konunun süresini günlere hatta saatlere indirgeyen roman anlatım tekniği aşağıdakilerden hangisidir?

- A) Montaj
- B) Leitmotiv
- C) Bilinç akımı
- D) Görece zaman anlayışı

10. Aşağıdakilerden hangisi post-modernist romanın özelliklerinden değildir?

- A) Romanın kurmaca ve uydurma olmadığı özellikle vurgulanır.
- B) Çok seslilik ve çoğulculuk önem kazanmıştır.
- C) Farklı anlatım tekniklerine aynı metin içinde yer verilebilir.
- D) Sanatı bir tür oyun olarak görür.

11. Aşağıdakilerden hangisi “kahraman anlatıcı bakış açısı”na ait bir özellik değildir?

- A) Birinci tekil kişi ağzıyla konuşur.
- B) Olaylar bir kamera tarafsızlığı ile yansıtılır.
- C) Hikâyeyi anlatan “ben”, hikâyenin kahramanı olabileceği gibi tanık ya da gözlemci de olabilir.
- D) Roman, olayları anlatan kişinin bilgisi, deneyimi, algılama ve yorumlama yeteneğiyle sınırlıdır.

1. OTURUM

12. Batılı anlamda öykü türünün ilk örneği sayılabilecek “Küçük Şeyler” adlı eser aşağıdaki Türk edebiyatçılarından hangisine aittir?

- A) Samipaşazade Sezai
- B) Recaizade Mahmut Ekrem
- C) Memduh Şevket Esenal
- D) Sait Faik Abasıyanık

13. Aşağıdakilerden hangisi masal türüne ait bir özellik değildir?

- A) Yer ve zaman kavramı belirsizdir.
- B) Genellikle manzum olarak oluşturulur.
- C) Bir masalın içinde türkü, bilmece, ağıt gibi diğer türlere de rastlanır.
- D) Anlatımda genellikle geniş zaman ve öğrenilen geçmiş zaman kullanılır.

14. Aşağıdakilerden hangisi “ben merkezli hikâye”nin özelliklerinden biri değildir?

- A) Gerçeklikle hayaller bir arada verilir.
- B) Hikâyeler birinci şahsın ağzından anlatılır.
- C) Çarpıcı ve beklenmedik bir sonla biter.
- D) Kahraman dış dünyayı olduğu ve gördüğü gibi anlatır.

15. Aşağıdakilerden hangisi hikâyenin planını oluşturan bölümlerden değildir?

- A) Fasıl
- B) Serim
- C) Düşüm
- D) Çözüm

16. Fabllarda anlatılmak istenen ana düşüncenin açıklandığı eskiden “kıssadan hisse” diye nitelendirilen bölüm aşağıdakilerden hangisidir?

- A) Serim
- B) Düşüm
- C) Çözüm
- D) Öğüt

17. Aşağıdakilerden hangisi fabllarda işlenen olumlu temalardan biri değildir?

- A) Adalet
- B) Cömertlik
- C) Özentî
- D) Dostluk

18. Aşağıdakilerden hangisi öğretici metinlere ait bir özellik değildir?

- A) Gerçeklik ön plandadır.
- B) Okuyucuya bilgi vermek amacıyla yazılır.
- C) Açık, sade bir dille yazılır; üslup kaygısı yoktur.
- D) Hayallere ve mecazlı anlatımlara yer verilir.

19. “Gider oldum kömür gözlüm elveda.”

(Karacaoğlan)

dizesindeki benzetmenin benzetme yönü aşağıdakilerden hangisidir?

- A) Göz
- B) Kömür
- C) Elveda
- D) Gider oldum

20. Aşağıdakilerden hangisi klasik Türk şiiri nazım biçimlerinden?

- A) Kaside
- B) Koşma
- C) Semai
- D) Türkü

(408) DİL VE ANLATIM – 8

1. Sempozyumda dinleyiciler tarafından beklenen bilgi, belge ve önerilerin açıklandığı bölüm aşağıdakilerden hangisidir?

- A) Giriş
- B) Deney
- C) Özet
- D) Bulgular

2. Gazetelerin ilk sayfasının birinci sütununda yayımlanan, günlük olaylarla ilgili görüş belirten yazılara ne ad verilir?

- A) Deneme
- B) Biyografi
- C) Eleştiri
- D) Başmakale

3. Aşağıdakilerden hangisi münazara başkanının görevlerinden değildir?

- A) Ortaya çıkan düşünceleri değerlendirip kazanan tarafı belirlemek
- B) Konunun nitelik ve sınırlarının dinleyiciler tarafından anlaşılmasını sağlamak
- C) Tartışmanın konu dışına çıkmasını, gereksiz yere uzamasını önlemek
- D) Konuşanların düşüncelerini rahatlıkla söyleyebilecekleri bir ortam sağlamak

4. “Makalede temel öge (...)” cümlesinde boş bırakılan yere aşağıdakilerden hangisi getirilmelidir?

- A) duygudur.
- B) düşüncedir.
- C) deneyimdir.
- D) dil ve anlatımdır.

5. Yazar, düşünür ve sanatçıların veya alanında uzman kişilerin bilgi vermek, bir konuyu açıklamak, öğretmek amacıyla yaptıkları konuşmalara ne ad verilir?

- A) Söylev
- B) Münazara
- C) Konferans
- D) Mülakat

6. Aşağıdakilerden hangisi bilimsel yazılarda kullanılan “bibliyografya” teriminin karşılığıdır?

- A) Dokümantasyon
- B) Kaynakça
- C) İndeks
- D) Dipnot

7. Bilimsel yazılarda aşağıdaki anlatım türlerinden hangisi kullanılmaz?

- A) Öyküleyici
- B) Kanıtlayıcı
- C) Açıklayıcı
- D) Tartışmacı

8. Aşağıdakilerden hangisi sözlü anlatım türlerinden biri değildir?

- A) Forum
- B) Makale
- C) Münazara
- D) Konferans

1. OTURUM

9. Bilimsel yazıların aşağıda verilen özelliklerinden hangisi makaleye göre farklılık gösterir?

- A) Okuyucu kitlenin belli bir bilgi birikimine sahip olması gerekir.
- B) Anlatılanların kanıtlanması gerekir.
- C) Amaç okuyucuyu bilgilendirmektir.
- D) Kurallı cümlelerle kurulur.

10. Aşağıdakilerden hangisi konferans sırasında dikkat edilmesi gerekenlerden biri değildir?

- A) Dinleyicilerin sıkılmaması için bir saatten uzun sürmemeli.
- B) Dinleyicilerin kültür ve zevk düzeyleri dikkate alınmalı.
- C) Konu dağıtılmamalı, ses tonu konuşmaya göre ayarlanmalı.
- D) Konferansçı konunun dağılmasını engellemek için konferansını elindeki notları okuyarak sürdürmeli.

11. "Konferansta amaç dinleyicileri (...)" cümlesi aşağıdakilerin hangisiyle tamamlanmalıdır?

- A) düşündürmektir.
- B) coşkulandırmaktır.
- C) bilgilendirmektir.
- D) duygulandırmak

12. İbrahim Şinasi ve Agâh Efendi tarafından 1860 yılında çıkarılan ilk özel gazete aşağıdakilerden hangisidir?

- A) Tercüman-ı Ahval
- B) Ceride-i Havadis
- C) Takvim-i Vakayi
- D) Tasvir-i Efkâr

13. Aşağıdakilerin hangisinde toplantılarda konuşulanların bir tutanakla tespit edilmesi zorunludur?

- A) Söylev
- B) Mülakat
- C) Konferans
- D) Dernek toplantısı

14. Belli bir konuyu aydınlatmak amacıyla bilim adamı ve araştırmacıların bir araya geldikleri ve konuşmacıların konunun belirli bölümlerini sundukları tartışmalı toplantılara ne ad verilir?

- A) Forum
- B) Sempozyum
- C) Mülakat
- D) Röportaj

15. Toplumunu ilgilendiren bir konuda farklı gruplardan oluşan dinleyicilerin söz sırası olarak yaptıkları tartışmalara ne ad verilir?

- A) Konferans
- B) Münazara
- C) Forum
- D) Sempozyum

16. Bir konunun dinleyiciler önünde söyleşi havası içinde birkaç kişi tarafından tartışıldığı sözlü anlatım türü aşağıdakilerden hangisidir?

- A) Nutuk
- B) Sempozyum
- C) Konferans
- D) Açık oturum

17. "Toplum mu sanatkârı yetiştirir, sanatkâr mı toplumu yetiştirir?" konusu aşağıdaki toplantı türlerinin hangisiyle tartışılmalıdır?

- A) Sempozyum
- B) Konferans
- C) Münazara
- D) Açık oturum

18. Bir kitabın veya derginin kişi, konu, yer adı vb. bakımından içindekileri yer numarasıyla belirten ve eserlerin arkasında yer alan alfabetik listeye ne ad verilir?

- A) Dipnot
- B) İndeks
- C) Kaynakça
- D) Dokümantasyon

19. Bilimsel yazılarda metnin tamamında anlatılanların küçültülerek bir paragraf hâline getirilip verildiği bölüm aşağıdakilerden hangisidir?

- A) Başlık
- B) Giriş
- C) Özet
- D) Sonuç

20. Aşağıdakilerden hangisi öğretici metinler arasında yer almaz?

- A) Öykü
- B) Makale
- C) Fıkra
- D) Biyografi

(414) TÜRK EDEBİYATI – 4

1. Aşağıdakilerden hangisi Türklerin şairlere verdiği isimlerden biri değildir?

- A) Ozan
- B) Baksı
- C) Cönk
- D) Şaman

2. Türkülerin her bendinin sonunda tekrarlanan nakarat dizelerine ne ad verilir?

- A) Bozlak
- B) Bağlama
- C) Mânî
- D) Durak

3. Eski edebiyatımızda romanın yerini tutan Battalname, Saltukname ve Danışmendname'nin konusu aşağıdakilerden hangisidir?

- A) Aşk
- B) Göç
- C) Ayrılık
- D) Kahramanlık

4. Divan edebiyatında çeşitli devirlerde yaşayan şairlerin hayat hikâyelerinden ve eserlerinden kısaca söz eden kitaplara ne ad verilir?

- A) Seyahatname
- B) Tezkire
- C) Mesnevi
- D) Destan

5. Yağız atlar kişnedi, meşin kırbaç şakladı
Bir dakika araba yerinde durakladı.

(Faruk Nafiz Çamlıbel)

Bu dizelerin ölçüsü ve kafiyesi aşağıdakilerden hangisidir?

- A) 7 + 7 = 14'lü hece ölçüsü-tam kafiye
- B) 6 + 7 = 13'lü hece ölçüsü-tam kafiye
- C) 4 + 4 + 3 = 11'li hece ölçüsü-zengin kafiye
- D) 6 + 6 = 12'li hece ölçüsü-zengin kafiye

1. OTURUM

6. Oyun, hayalî veya hayalbaz denilen bir kişi tarafından oynatılır ve seslendirilir. Bu oyunlardaki başlıca tiplerden birkaçı Karagöz, Hacivat, Külhanbeyi, Tuzsuz Deli Bekir ve Beberuhi'dir.

Bu parçada sözü geçen Türk halk tiyatrosu aşağıdakilerden hangisidir?

- A) Meddah
- B) Orta oyunu
- C) Gölge oyunu
- D) Köy seyirlik oyunu

7. Aşağıdaki yazar-eser eşleştirmelerinden hangisi yanlıştır?

- A) Leyla ve Mecnun - Fuzulî
- B) Çarhnâme - Ahmet Fakih
- C) Mesnevî - Mevlânâ Celâleddin-i Rumî
- D) Hüsn ü Aşk- Nâbî

8. Almaya al olaydım
Serviyeye dal olaydım
Ela gözlü yârimin
Altına nal olaydım.

Bu mâninin konusuna göre türü aşağıdakilerden hangisidir?

- A) Sevda mânisi
- B) Niyet mânisi
- C) Mektup mânisi
- D) Bekçi-davulcu mânisi

9. Kırgızların hayat tarzlarını, geleneklerini, dinî inanışlarını, günlük yaşayışlarını, komşularıyla ilişkilerini anlatan ünlü destanın adı nedir?

- A) Göç Destanı
- B) Manas Destanı
- C) Ergenekon Destanı
- D) Oğuz Kağan Destanı

10. 15. yüzyılda yazıya geçirilen destan, hikâye özelliği gösterir. Kahramanları olağanüstü özellikler taşır. Bu kahramanlardan bazıları şunlardır: Deli Dumrul, Salur Kazan, Tepegöz...

Yukarıda tanıtılan bu eser aşağıdakilerden hangisidir?

- A) Dede Korkut Hikâyeleri
- B) Alp Er Tunga Destanı
- C) Babürnâme
- D) Göç Destanı

11. Aşağıdakilerden hangisi dinî tasavvufî halk şiirinin özelliklerinden biri değildir?

- A) Anlatım içten ve coşkuludur.
- B) Tabiat ve kahramanlık konuları işlenmiştir.
- C) Genellikle yarım uyak kullanılmıştır.
- D) Ölçü, ağırlıklı olarak hece ölçüsüdür.

12. Aşağıda kasideyle ilgili verilen bilgilerden hangisi yanlıştır?

- A) Beyit sayısı 33-99 arasında değişir.
- B) En güzel beytine beytü'l-kasid denir.
- C) İlk beytine makta adı verilir.
- D) Bir kişiyi ya da yeri öven şiirlerdir.

13. Bestelenmek üzere yazılan ve dört mısralık bentlerden oluşan nazım biçimi, aşağıdakilerden hangisidir?

- A) Rubai
- B) Gazel
- C) Murabba
- D) Şarki

14. Karahanlı dönemi şairlerinden biridir. 12. yüzyıl sonu ile 13. yüzyıl başlarında yaşadığı sanılmaktadır. Atabetü'l-Hakâyık adlı ahlaki, öğretici tarzda bir eser meydana getirmiş olan bu sanatçı aşağıdakilerden hangisidir?

- A) Edip Ahmet
- B) Ahmet Yesevi
- C) Yusuf Has Hacip
- D) Kaşgarlı Mahmut

15. Aşağıdaki eserlerden hangisi Karahanlılar döneminde yazılmamıştır?

- A) Kutadgu Bilig
- B) Divanü Lügati't-Türk
- C) Atabetü'l-Hakâyık
- D) Muhakemetü'l-Lügateyn

16. XVII. yüzyılın hattat, nakkaş, musikişinaslarından olan ve asıl ününü dünyaca tanınmış "Seyahatname" adlı eseriyle kazanan yazar aşağıdakilerden hangisidir?

- A) Âşık Çelebi
- B) Evliya Çelebi
- C) Kâtip Çelebi
- D) YirmiSekiz Mehmet Çelebi

17. Âşık edebiyatı ile ilgili olarak aşağıdakilerden hangisi söylenmez?

- A) Nazım birimi beyittir.
- B) Şiirlerde daha çok yarım uyak tercih edilir.
- C) En çok kullanılan nazım şekilleri koşma ve semaidir.
- D) Aşk, ayrılık, güzellik, ölüm, tabiat, kahramanlık gibi konular işlenmiştir

18. Müzik, raks, taklit ve muhavereden oluşan (...); kol oyunu, meydan oyunu adlarıyla da anılır. Yazılı bir metni yoktur. Oyuncular ellerindeki olayı istedikleri biçimde işleyerek seyirciye sunarlar.

Bu paragrafta üç nokta ile belirtilen yere aşağıdakilerden hangisi getirilmelidir?

- A) meddah
- B) tiyatro
- C) karagöz
- D) orta oyunu

19. Aşağıdakilerden hangisi kaside şairin kendisini övdüğü bölümdür?

- A) Tegazzül
- B) Medhiye
- C) Fahriye
- D) Dua

20. Halk edebiyatı nazım şekillerindendir. Hece ve aruzla yazılan iki çeşidi vardır. Heceyle yazılanı şekil açısından koşmaya benzer. Uyak şeması xaxa / abcb / dddb / eeeb ... şeklinde olan bu nazım biçimi, aşağıdakilerden hangisidir?

- A) Türkü
- B) Gazel
- C) Semai
- D) Mânî

1. OTURUM

(417) TÜRK EDEBİYATI – 7

1. Türk edebiyatında ilk makale aşağıdaki gazetelerden hangisinde yayımlanmıştır?

- A) Takvim-i Vakayi
- B) Ceride-i Havadis
- C) Tercüman-ı Ahval
- D) İrade-i Millîye

2. Aşağıdakilerden hangisi Garip akımının özelliklerinden biri değildir?

- A) Yalın bir dil kullanmak
- B) Günlük konuları ele almak
- C) Süsten uzak bir anlatımı tercih etmek
- D) Ölçülü, uyaklı bir şiir dili oluşturmak

3. Aşağıdaki yazarlardan hangisi hem hikâye hem tiyatro türlerinde eser vermiştir?

- A) Nurullah Ataç
- B) Salâh Bursalı
- C) Nermi Uygur
- D) Haldun Taner

4. Aşağıdakilerden hangisi yurt dışı gezi yazılarından biridir?

- A) Seyir Defteri (Nedim Gürsel)
- B) Gide Gide (Fikret Otyam)
- C) Anadolu'da (Nahit Sırrı Örik)
- D) Bu Diyar Baştan Başa (Yaşar Kemal)

5. Eserlerinde köy gerçeğini değişik boyutlarıyla ele alan iki yazar aşağıdakilerden hangisidir?

- A) Oğuz Atay - Yusuf Atılgan
- B) Yaşar Kemal - Kemal Tahir
- C) Orhan Pamuk - Atilla İlhan
- D) Peyami Safa - Ahmet Hamdi Tanpınar

6. Deneme türünün öncüsü ve temsilcisi olan yazar, aşağıdakilerden hangisidir?

- A) Montaigne
- B) Albert Camus
- C) T.S. Eliot
- D) Bacon

7. Aşağıdakilerden hangisi Orhan Kemal'in eserlerinden biri değildir?

- A) Kardeş Payı
- B) İspinozlar
- C) Evcilik Oyunu
- D) Bekçi Murtaza

8. Faruk Nafiz Çamlıbel'in, Ulukışla yoluyla Kayseri'ye gidişinin izlenimlerinden oluşan, memleketçi şiirin örneklerinden olan eser aşağıdakilerden hangisidir?

- A) Olvido
- B) Han Duvarları
- C) Deniz Hasreti
- D) Otuz Beş Yaş Şiiri

9. Aşağıdakilerden hangisi toplumcu şiirin temsilcilerinden biri değildir?

- A) Rifat Ilgaz
- B) Arif Damar
- C) Ahmet Arif
- D) Oktay Rifat

10. Aşağıdakilerden hangisi gezi yazısı türlerinden biri değildir?

- A) Günü gününe alınmış notlara dayanan gezi yazıları
- B) Mektup biçiminde yazılan gezi yazıları
- C) Tarihî olayları aydınlatan gezi yazıları
- D) Bir ülkeyi nesnel ve derinlemesine tanıtan gezi yazıları

11. Aşağıdaki eser-yazar eşleştirmelerinden hangisi doğrudur?

- A) Abdullah Efendi'nin Rüyaları - Ahmet Hamdi Tanpınar
- B) Zeliş - Sait Faik Abasıyanık
- C) Çalikuşu - Peyami Safa
- D) Fatih-Harbiye - Reşat Nuri Güntekin

12. Bir kimsenin kendi başından geçenleri veya tanık olduğu olayları anlattığı yazı türü, aşağıdakilerden hangisidir?

- A) Hikâye
- B) Anı
- C) Makale
- D) Deneme

13. "Bir Adam Yaratmak" adlı tiyatro oyunu aşağıdaki yazarların hangisine aittir?

- A) Nazım Hikmet
- B) Ahmet Kutsi Tecer
- C) Musahipzade Celal
- D) Necip Fazıl Kısakürek

14. "Çok partili döneme geçişi izleyen yıllarda ve 1950'lerde yazarlar daha çok köye yöneldiler. Bu yazarlardan biri de köy notlarını topladığı "Bizim Köy" adlı eseri kaleme alan (...) 'dır." cümlesinde boş bırakılan yere aşağıdakilerden hangisi getirilmelidir?

- A) Yusuf Atılgan
- B) Mahmut Makal
- C) Abdülhak Şinasi Hisar
- D) Memduh Şevket Esenal

15. Aşağıdakilerden hangisi "İkinci Yeni" şairlerinden biridir?

- A) İlhan Berk
- B) Orhan Veli Kanık
- C) Ziya Osman Saba
- D) Ahmet Muhip Dıranas

16. "Alemdağ'da Var Bir Yılan" adlı öykü kitabı, aşağıdaki yazarlardan hangisine aittir?

- A) Halide Edip Adıvar
- B) Sait Faik Abasıyanık
- C) Reşat Nuri Güntekin
- D) Abdülhak Şinasi Hisar

17. İçeride dönük bir kişiliğe sahip olan şair, şiirlerinde büyük şehrin içinde kaybolmuş insanın kırıktır, karanlık, karmaşık duygularını yansıttı. "Kitaplarda Ölmek" isimli şiirin sahibi olan bu sanatçı aşağıdakilerden hangisidir?

- A) Ahmet Hamdi Tanpınar
- B) Asaf Halet Çelebi
- C) Behçet Necatigil
- D) Necati Cumalı

1. OTURUM

18. “Halikarnas Balıkçısı” takma adıyla hikâye ve romanlar yazmış olan sanatçı aşağıdakilerden hangisidir?

- A) Tarık Buğra
- B) Haldun Taner
- C) Sait Faik Abasıyanık
- D) Cevat Şakir Kabaağaçlı

19. 2006 yılında “Nobel Edebiyat Ödülü”nü kazanan Türk yazar aşağıdakilerden hangisidir?

- A) Adile Ayda
- B) Nermi Uygur
- C) Orhan Pamuk
- D) Peyami Sefa

20. Reşat Nuri Güntekin’in gezi yazısı türündeki eseri aşağıdakilerden hangisidir?

- A) Anadolu Notları
- B) Bir Bulut Kaynıyor
- C) Pasifik Kıyılarında
- D) Frankfurt Seyahatnamesi

(418) TÜRK EDEBİYATI – 8

1. Dinle sana bir nasihat edeyim
Hatırdan gönülden geçici olma
Yiğidin başına bir iş gelince
Anı (onu) yad ellere açıcı olma
(Karacaoğlan)

Bu halk şiirinin konusuna göre türü, aşağıdakilerden hangisidir?

- A) Ağıt
- B) Öğüt
- C) Taşlama
- D) Koçaklama

2. Aşağıdakilerden hangisi Türk edebiyatında hikâye türünün önde gelen yazarlarından biri değildir?

- A) Ömer Seyfettin
- B) Sait Faik Abasıyanık
- C) Mehmet Akif Ersoy
- D) Memduh Şevket Esendal

3. “Kara Kitap” aşağıdakilerin hangisi tarafından yazılmıştır?

- A) Fakir Baykurt
- B) Orhan Pamuk
- C) Oğuz Atay
- D) Enis Batur

4. Aşağıdakilerden hangisi Âşık Veysel’in kullandığı temalardan biri değildir?

- A) Aşk
- B) Tabiat
- C) Hasret
- D) Yabancılaşma

5. Aşağıdakilerden hangisi İkinci Yeni şiirinin özelliklerinden biridir?

- A) Bireyci bir şiir anlayışına sahip olmak
- B) Yaşama sevincini ve yaşama hakkını işlemek
- C) Gülmecedan ve şaşırtmacadan yararlanmak
- D) Süslü, söz oyunlarına dayalı bir dil yerine yalın bir dil geliştirmek

6. Kitabe-i Seng-i Mezar

Hiçbir şeyden çekmedi dünyada
Nasırdan çektiği kadar;
Hatta çirkin yaratıldığından bile
O kadar müteessir değildi;
Kundurasi vurmadiği zamanlarda
Anmazdı Allah’ın adını,
Günahkâr da sayılmazdı
Yazık oldu Süleyman Efendi’ye.

Bu şiirin şairi aşağıdakilerden hangisidir?

- A) Halide Nusret Zorlutuna
- B) Ömer Bedrettin Uşaklı
- C) Orhan Veli Kanık
- D) Zeki Ömer Defne

7. Aşağıdakilerden hangisi halk edebiyatında söyleyeni bilinmeyen şiir türüdür?

- A) Mânî
- B) Koşma
- C) Semai
- D) Divan

8. Aşağıdakilerden hangisi “Kuyucaklı Yusuf” adlı eserin yazarıdır?

- A) Mehmet Günsür
- B) Sabahattin Âli
- C) Ayfer Tuna
- D) Nazlı Eray

9. Aşağıdaki eser-yazar eşleştirmelerinden hangisi yanlıştır?

- A) Divan - Turgut Uyar
- B) Türkiye Şarkısı - İlhan Berk
- C) Uçurumda Açan - Cemal Süreyya
- D) Kendi Gök Kubbemiz - Ece Ayhan

10. Aşağıdakilerden hangisi halk şiirinde insan, doğa güzelliklerini dile getirmek, övmek amacıyla söylenmiş şiirlere verilen addır?

- A) Koçaklama
- B) Taşlama
- C) Güzelleme
- D) Nasihat

11. 1940 sonrası Türk şiirinde, halk şiirinden yola çıkarak yeni şiire varan şair, gününün akımlarına bağlı kalmadan kendi şiirini geliştirdi. “Tokat’a Doğru” isimli şiirin de şairi olan bu sanatçı, aşağıdakilerden hangisidir?

- A) İlhan Berk
- B) Cahit Külebi
- C) Edip Cansever
- D) Orhan Veli Kanık

12. Aşağıdaki eserlerden hangisi Yusuf Atılgan tarafından yazılmıştır?

- A) Anayurt Oteli
- B) Tutunamayanlar
- C) Havada Bulut
- D) Yeni Hayat

1. OTURUM

13. Aşağıdakilerden hangisi 1940’larda gelişen yeni şiirin temsilcilerinden biri değildir?

- A) Fazıl Hüsnu Dağlarca
- B) Behçet Necatigil
- C) Asaf Halet Çelebi
- D) Mehmet Akif Ersoy

14. Aşağıdakilerden hangisi 1980 sonrası şiirinin özelliklerinden biri değildir?

- A) Şiirin düz yazıya yaklaştırılması
- B) Şehirli kimliğinin ön planda olması
- C) Yapı ve söyleyişe içerikten fazla önem verilmesi
- D) Millî Edebiyat akımının etkisiyle sadece hece ölçüsünün kullanılması

15. “Kuva-yı Milliye Destanı” ve “Memleketimden İnsan Manzaraları” gibi eserlerle hayata ve topluma geniş ve gerçekçi bir açıdan bakan şair, aşağıdakilerden hangisidir?

- A) Turgut Uyar
- B) Kemalettin Kamu
- C) Nazım Hikmet
- D) Edip Cansever

16. “Olvido” isimli şiir aşağıdaki şairlerden hangisine aittir?

- A) Ahmet Haşim
- B) Ahmet Muhip Dıranas
- C) Bedri Rahmi Eyüpoğlu
- D) Melih Cevdet Anday

17. “Bir İlkbahar Hikâyesi” isimli eser aşağıdaki yazarlardan hangisi tarafından yazılmıştır?

- A) Sait Faik Abasıyanık
- B) Muzafer Buyrukçu
- C) Necati Cumalı
- D) Ayla Kutlu

18. “Halk şiirinde genellikle (...) uyak kullanılır.” cümlesinde boş bırakılan yere Türk halk şiirinin özelliklerine göre aşağıdakilerden hangisi getirilmelidir?

- A) zengin
- B) tunç
- C) tam
- D) yarım

19. Aşağıdakilerden hangisi Cumhuriyet’in ilk yıllarında yetişen halk şairlerinden biridir?

- A) Murat Çobanoğlu
- B) Şeref Taşlıova
- C) Ali İzzet Konyalı
- D) Halil Karabulut

20. Aşağıdakilerden hangisi Nabizade Nazım’ın gerçekçi edebiyata örnek olarak yazdığı eseridir?

- A) Karabibik
- B) Küçük Paşa
- C) Mahalle Kahvesi
- D) Memleket Hikâyeleri

(421) FİZİK – 1

1. Madde ve enerji arasındaki etki-leşimi inceleyen, evrenimizdeki doğa olaylarının anlaşılmasıyla ilgili deneysel gözlemler ve nicel ölçümlere dayanarak mantıklı açıklamalar üretmeye çalışan bilim dalı aşağıdakilerden hangisidir?

- A) Kimya
- B) Fizik
- C) jeoloji
- D) Biyoloji

2. Fiziksel bir olay için Ali ve Ayşe aşağıdaki gözlemleri yapıyorlar. Ali’nin gözlemi: Elindeki dinamometre ile çantanın ağırlığını ölçerek, 20 newton olduğunu söylüyor.

Ayşe’nin gözlemi: Evden dışarı çıktığında, kalın giyinmediğini ve havanın çok soğuk olduğunu söylüyor.

	Ali’nin gözlemi	Ayşe’nin gözlemi
A)	Nicel	Nitel
B)	Nitel	Nicel
C)	Nicel	Nicel
D)	Nitel	Nitel

3. Fizikte kullanılan büyüklükler, temel büyüklükler ve türetilmiş büyüklükler olarak sınıflandırılmıştır.

- ▲ . Kütle
- . Ağırlık
- . Akım şiddeti
- ★ . Enerji

Buna göre, yukarıda verilen büyüklüklerin temel ve türetilmiş olarak doğru sınıflandırılması nasıldır?

	Temel büyüklükler	Türetilmiş büyüklükler
A)	▲ , ●	■ , ★
B)	▲ , ★	■ , ●
C)	▲ , ■	● , ★
D)	● , ■	▲ , ★

4. Bilim dalları, alanları içine giren konuları inceler ve meydana gelen olayları açıklamaya çalışır.

Buna göre, aşağıda verilen güncel olaylardan hangisini fizik bilimi açıklar?

- A) Yoğurdun ekşimesi
- B) Bahar gelince ağaçların çiçek açması
- C) Ali’nin doğal sayıları kullanarak toplama işlemi yapması
- D) Fotoğraf makinesinin çekim yapması

5. Bazı fiziksel büyüklükler ve bunları ölçen ölçüm araçları verilmiştir.

- I- Sıcaklık
- II- Kütle
- III- Uzunluk
- a- Metre
- b- Terazî
- c- Termometre

Buna göre, bu fiziksel büyüklükler ve ölçüm araçlarının doğru eşleştirilmesi aşağıdaki-lerin hangisinde verilmiştir?

- A) I- a
- B) I- b
- II- b
- III- c
- C) I- c
- D) I- c
- II- a
- III- b

1. OTURUM

6. ▲ . 100 m = 1 km
■ . 1 ton = 10^3 kg
● . 1 Saat = 3600 saniye

Yukarıda verilen büyüklük birim dönüştürmelerinden hangileri doğrudur?

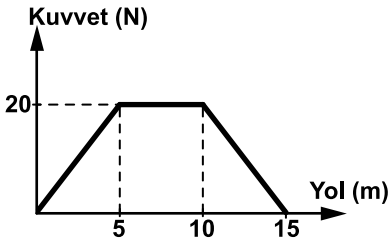
- A) ▲ ve ■ B) ▲ ve ●
C) ■ ve ● D) ▲, ■ ve ●

7. Gücü 2 kw olan bir klima günde 8 saat çalıştırılıyor.

Buna göre bu klima 1 ay (30 gün) çalıştırıldığında kaç kwh enerji tüketir?

- A) 48 B) 60 C) 240 D) 480

8. Sürtünmesiz yatay düzlemdeki bir cismin üzerine etki eden net kuvvetin yola bağlı değişim grafiği şeklindeki gibidir.



Buna göre, cisme etki eden net kuvvetin 15 m yol sonunda yaptığı iş kaç J'dür?

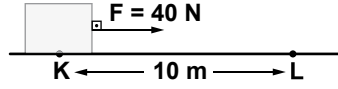
- A) 50 B) 100
C) 200 D) 300

9. Ahmet 4 kg kütleli bir cismi yerden alarak 6 m yüksekliğe çıkarıyor.

Buna göre, Ahmet'in yerçekim kuvvetine karşı yaptığı iş kaç joule'dir? ($g=10\text{N/kg}$ alınacak)

- A) 240 B) 120
C) 24 D) 12

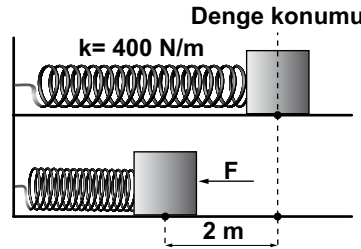
10. Yol boyunca sabit 10 N'luk sürtünme kuvveti etki eden 4 kg kütleli cisim, 40 N'luk sabit kuvvetin etkisiyle şeklindeki gibi 10 m yer değiştiriyor.



Buna göre, K - L yolu boyunca cisme etki eden sürtünme kuvvetinin yaptığı iş (w_s) ve F kuvvetinin yaptığı iş (w_F) kaç joule'dir

w_s	w_F
A) 100	400
B) 400	100
C) 300	400
D) 100	300

11. Yay sabiti 400 N/m olan yay ve cisim sürtünmesi ihmal edilen yatay düzlemde şeklindeki gibi dengededir. Sistem F kuvvetinin etkisiyle 2 m sıkıştırılıyor.



Buna göre, yayda depolanan yay potansiyel enerjisi kaç Joule'dir?

- A) 1600 B) 800
C) 400 D) 200

12. Kütleli 60 kg olan bir aslanın 8 m/s hızla avını kovalarken sahip olduğu kinetik enerji kaç Joule'dir?

- A) 3840 B) 2400
C) 1920 D) 960

13. 1200 J'lük enerji ile çalışabilen bir motor 960 J'lük iş yapıyor.

Buna göre, bu motorun verimi % kaçtır?

- A) 40 B) 60 C) 70 D) 80

14. Aşağıdakilerden hangisi yenilenebilir enerji kaynaklarından?

- A) Doğalgaz B) Güneş
C) Petrol D) Kömür

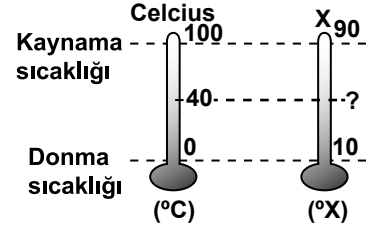
15. Isının etrafa yayılması;

- I- İletim
II- Konveksiyon
III- Işıma

yollarından hangileri ile gerçekleşir?

- A) I ve II B) II ve III
C) I ve III D) I, II ve III

16. Celcius termometresi ile X termometresinde suyun donma ve kaynama sıcaklıkları şeklindeki gibidir.



Buna göre, Celcius termometresinin 40 °C gösterdiği değer X termometresinde kaç °X olarak ölçülür?

- A) 40 B) 42 C) 45 D) 60

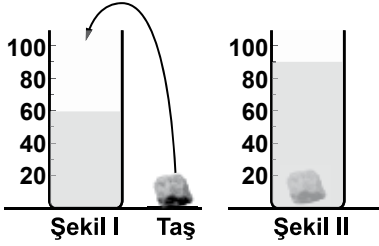
17. Kenar uzunlukları 30 cm, 40 cm ve 50 cm olan dikdörtgenler prizması şeklindeki bir kap kaç litre su ile doldurulur?

- A) 6 B) 60
C) 600 D) 6000

1. OTURUM

(425) FİZİK – 5

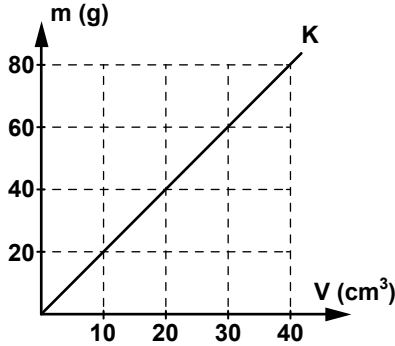
18. Şekil I'deki taş parçası cm^3 ölçümleri dereceli kaba bırakılıyor.



Dereceli kaptaki su seviyesi Şekil II'deki konuma geldiğine göre, taşın hacmi kaç cm^3 'tür?

- A) 30 B) 40 C) 60 D) 90

19. K sıvısına ait Kütle-Hacim grafiği şekildeki gibidir.



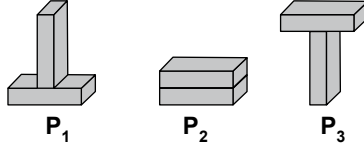
Buna göre, 200 cm^3 hacmindeki K sıvısının kütlesi kaç gramdır?

- A) 100 B) 200
C) 400 D) 600

20. Güneşte sürekli gerçekleşen, hafif radyoaktif atom çekirdeğinin birleşerek, ağır atom çekirdeklerini oluşturması olayı aşağıdakilerden hangisidir?

- A) Füzyon B) Filyon
C) Bileşik D) Radyasyon

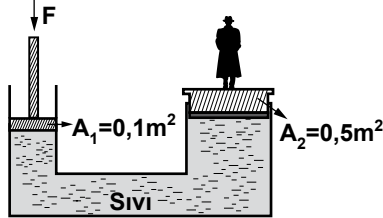
1. Özdeş dikdörtgen prizmalar şekildeki gibi üç farklı konumda zemine bırakılıyor.



Buna göre, cisimlerin zemine yaptıkları basınçlar P_1, P_2, P_3 arasındaki ilişki aşağıdakilerin hangisinde doğru verilmiştir?

- A) $P_1 = P_2 < P_3$ B) $P_1 = P_2 = P_3$
C) $P_2 < P_1 = P_3$ D) $P_3 < P_1 = P_2$

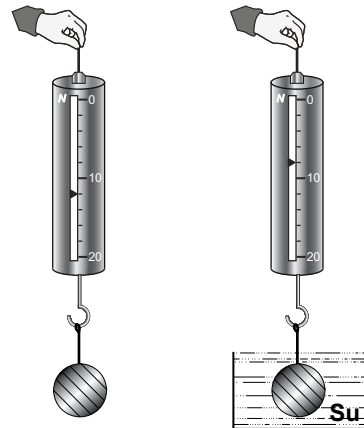
2. Ağırlığı 600 N olan Ahmet, hidrolik sistemin büyük pistonunun üzerinde durmaktadır.



Buna göre, Ahmet'i dengede tutmak için küçük pistonu uygulaması gereken en küçük kuvvet kaç N olmalıdır?

- A) 600 B) 150 C) 120 D) 60

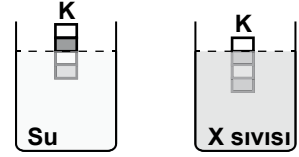
3. Metal bir cismin ağırlığı, şekildeki gibi dinamometre ile önce havada, daha sonra da tamamen suya daldırılarak tartılıyor.



Buna göre, bu cisme su tarafından uygulanan kaldırma kuvveti kaç N'dur?

- A) 4 B) 8 C) 12 D) 16

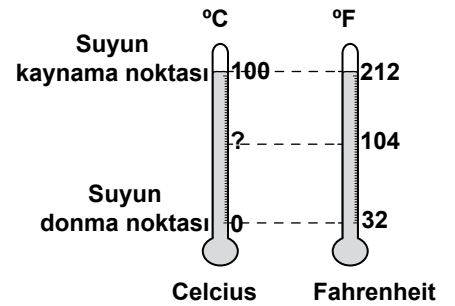
4. Eşit bölmeli türdeş K cismi, önce suya daha sonra da X sıvısına bırakıldığında şekildeki konumda dengede kalıyor.



Buna göre, X sıvısının yoğunluğu kaç g/cm^3 tür? ($d_{\text{su}} = 1 \text{ g/cm}^3$)

- A) $\frac{3}{2}$ B) 1 C) $\frac{2}{3}$ D) $\frac{1}{2}$

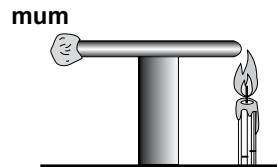
5. Fahrenheit ve Celcius termometrelerinde suyun donma ve kaynama noktaları şekildeki gibi verilmiştir.



Buna göre, Fahrenheit termometresiyle 104°F olarak ölçülen bir sıcaklık, Celcius termometresiyle kaç $^\circ\text{C}$ olarak ölçülür?

- A) 72 B) 40 C) 32 D) 20

6. Ali, metal bir çubuğun ucuna mum yapıştırıp şekildeki gibi diğer ucundan ısıtıyor. Isınan metal çubuğun ucundaki mum bir süre sonra eriyip düşüyor.

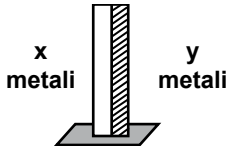


Buna göre Ali, yaptığı bu etkinlikte, ısının yayılma yollarından hangisine örnek vermiştir?

- A) Konveksiyon yoluyla
B) Isınan hava yoluyla
C) Işıma yoluyla
D) İletim yoluyla

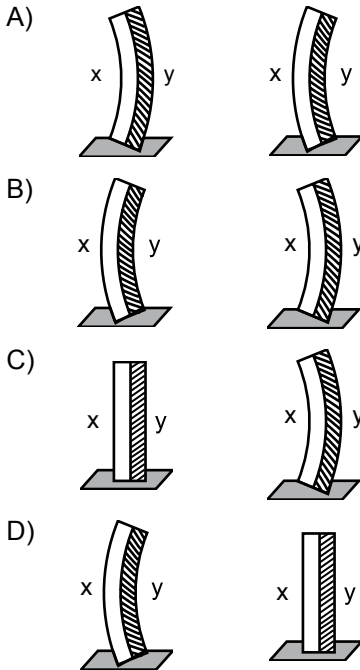
1. OTURUM

7. Boyları eşit X ve Y metalleri şekildeki gibi birbirlerine perçinlenmiştir.

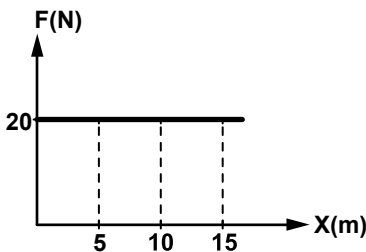


x metalinin boyca uzama katsayısı, y metalinin boyca uzama katsayısından büyük olduğuna göre, bu metal çifti ısıtıldığında ve soğutulduğunda alacağı şekil aşağıdakilerin hangisinde doğru verilmiştir?

Isıtıldığında Soğutulduğunda



8. Yatay yolda hareket eden bir cisme uygulanan net kuvvet-yol grafiği şekilde verilmiştir.



Buna göre, bu cisme uygulanan kuvvetin 15 m yol sonunda yaptığı iş kaç N.m dir?

- A) 150 B) 300 C) 450 D) 600

9. Bir futbolcu yanından 10 m/s hızla geçen 0,3 kg kütleli futbol topuna hareket yön ve doğrultusunda vurarak hızını 20 m/s'ye çıkarıyor.

Futbolcunun bu olay için yaptığı iş kaç J'dür?

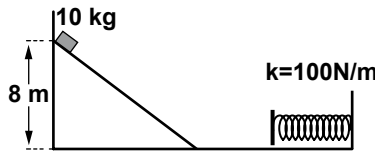
- A) 200 B) 120 C) 60 D) 45

10. Kütleli 1 kg, yarıçapı 50 cm olan homojen içi dolu küre yatay bir düzlemde 10 rad/s açısal hızla yuvarlanmaktadır.

Bu küre aynı zamanda 2 m/s'lik çizgisel hızla ilerlemektedir. Buna göre, kürenin sahip olduğu toplam kinetik enerji kaç J'dir? ($I_{\text{küre}} = \frac{2}{5}mr^2$)

- A) 7 B) 14 C) 28 D) 56

11. Şekildeki eğik düzlem ve yatay yolun sürtünmesi ihmal edilmiştir. Eğik düzlemin 8 m yükseklikteki noktasından serbest bırakılan 10 kg kütleli bir cisim yay sabiti 100 N/m olan yay tamponuna çarpıyor.



Buna göre yay kaç m sıkışır? ($g = 10\text{m/s}^2$)

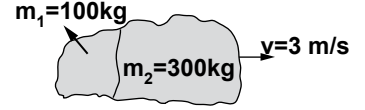
- A) 8 B) 6 C) 4 D) 2

12. Ahmet, çalışmayan arabasına 2 s süreyle ortalama 200 N'luk kuvvet uyguluyor.

Buna göre, Ahmet'in arabaya uyguladığı itme kaç N.s'dir?

- A) 100 B) 200 C) 300 D) 400

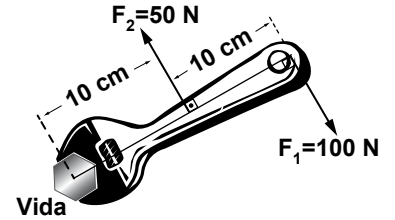
13. Durmakta olan 400 kg kütleli şekildeki kaya parçası patlayıcı kullanılarak 300 kg ve 100 kg kütleli iki parçaya ayrılıyor.



m_2 , kütleli parça 3 m/s'lik hızla şekildeki gibi hareket ettiğine göre, diğer parçasının hızının büyüklüğü kaç m/s olur?

- A) 9 B) 6 C) 3 D) 1

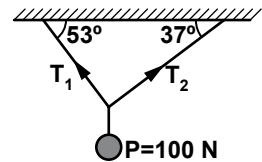
14. Şekildeki vida, anahtara uygun kuvvetle döndürülmek isteniyor.



Vidanın merkezine göre kuvvetlerin oluşturdukları toplam tor-kun büyüklüğü kaç N.m'dir?

- A) 150 B) 75 C) 50 D) 15

15. Ağırlığı 100 N olan bir cisim şekildeki gibi iplerle asılmıştır.



Buna göre, iplerde oluşan gerilme kuvvetleri T_1 ve T_2 kaç N'dur? ($\sin 37^\circ = 0,6$ $\sin 53^\circ = 0,8$)

	T_1	T_2
A)	60	100
B)	100	80
C)	80	60
D)	60	80

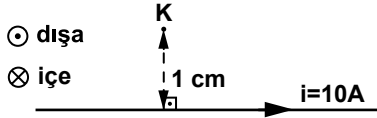
1. OTURUM

16. Uzunluğu 10 m olan bir kalası eğik düzlem olarak kullanarak 500 N'luk yükü yerden 2 m yükseklisindeki kamyonu taşımak istiyoruz.

Bunun için en az kaç N'luk kuvvet uygularsak yükü taşıyabiliriz?

A) 100 B) 500 C) 800 D) 1000

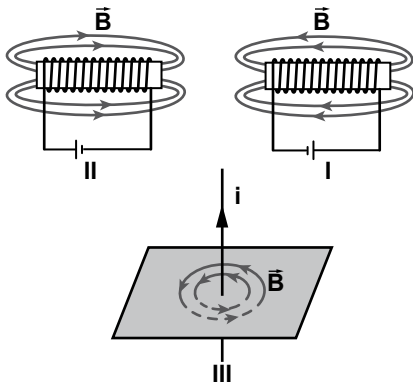
17. Sonsuz uzunluktaki şekildeki iletken telden 10 A'lık akım geçmektedir.



İletken, telden 1 cm uzaklıktaki K noktasında oluşan manyetik alanın (\vec{B}) yönü ve şiddeti aşağıdakilerin hangisinde doğru verilmiştir? ($K = 10^{-7} \text{ T.m/A}$)

- A) \otimes içe ve $2 \cdot 10^{-4} \text{ T}$
 B) \odot dışa ve $2 \cdot 10^{-4} \text{ T}$
 C) \odot dışa ve $2 \cdot 10^{-5} \text{ T}$
 D) \otimes içe ve $2 \cdot 10^{-5} \text{ T}$

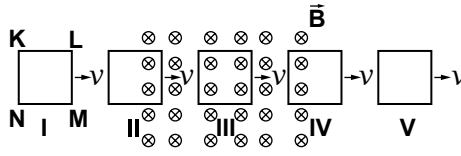
18. Üzerinden akım geçen selenoid ve iletken tel şekildeki gibidir.



Buna göre, bu şekillerde oluşan \vec{B} manyetik alan çizgileri hangilerinde doğru çizilmiştir?

- A) I ve II B) II ve III
 C) I ve III D) I, II ve III

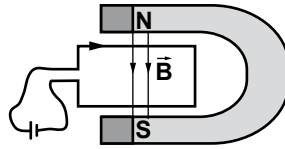
19. KLMN iletken teli sabit v hızıyla düzgün \vec{B} manyetik alanı içine şekildeki gibi giriyor.



Buna göre, KLMN iletken telinde hangi durumlarda indüksiyon akımı oluşur?

- A) I ve V'te B) II, III ve IV'te
 C) II ve IV'te D) I, III ve V'te

20. Eni 10 cm ve boyu 20 cm olan şekildeki iletken telden 10 A akım geçmektedir.



Dikdörtgen tel manyetik alan şiddeti $B=4 \text{ T}$ olan alan içine yerleştirildiğinde çerçeveye etki eden manyetik tork (τ) kaç N.m olur?

- A) 0,4 B) 0,8 C) 1,2 D) 1,6

(432) KİMYA – 2

1. Aşağıda bazı madde örnekleri verilmiştir:

I- Süt
 II- Kolonya
 III- Demir

Bu örneklerden hangileri karışımdır?

- A) Yalnız II B) Yalnız III
 C) I ve II D) I ve III

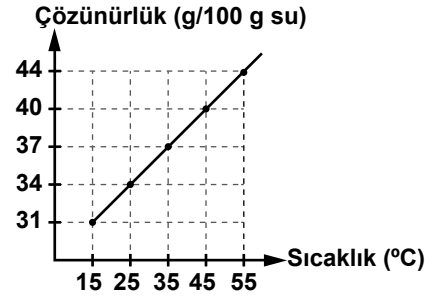
2. Tabloda çözücü ve çözünene ait örnekler verilmiştir:

Çözücü	Çözünene
Su	Karbon dioksit
Su	Etanol

Tabloda verilen örneklerden oluşan karışımlar aşağıdakilerden hangisine aittir?

- A) Sıvı çözeltilere
 B) Gaz çözeltilere
 C) Saf maddelere
 D) Heterojen karışımlara

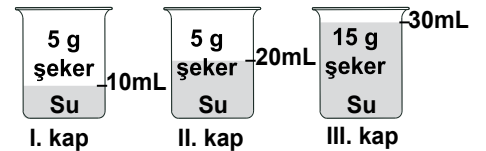
3. KCl katısının çözünürlüğünün sıcaklıkla değişimini gösteren grafik verilmiştir:



Buna göre, 50 g su ile hazırlanan aşağıdaki KCl çözeltilerinden hangisi doymamış çözeltilerdir?

- A) 17 g KCl, 25 °C
 B) 15 g KCl, 35 °C
 C) 25 g KCl, 45 °C
 D) 44 g KCl, 55 °C

- 4.



Şekildeki kaplarda verilen çözeltilerin, şeker miktarına göre küçükten büyüğe doğru sıralanışı aşağıdakilerden hangisidir?

- A) I < II < III B) I = II = III
 C) III < II < I D) II < I = III

1. OTURUM

5. Çözeltilerde kaynama noktası yükselmesi;

I- Çözünen madde türü

II- Çözünen madde miktarı

III- Çözeltildeki tanecik sayısı

nitelik/niceliklerinden hangilerine bağlı değildir?

- A) Yalnız I B) Yalnız II
C) I ve III D) II ve III

6. Çöplerden demir hurdaları ayırmak için hangi araç kullanılır?

- A) Elek B) Süzgeç kâğıdı
C) Mıknatıs D) Ayırma hunisi

7. Kum-çakıl taşı karışımı aşağıdakilerden hangisi ile ayrılır?

- A) Damıtma B) Eleme
C) Süzme D) Mıknatıs

8. Süzme yöntemi aşağıda özelliği verilen hangi karışıma uygulanır?

- A) Homojen katı-sıvı
B) Homojen sıvı-gaz
C) Heterojen sıvı-sıvı
D) Heterojen katı-gaz

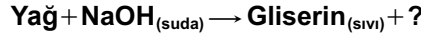
9. Aşağıdakilerden hangisi yoğunluk farkından yararlanılarak geliştirilen bir ayırma yöntemidir?

- A) Süzme B) Damıtma
C) Yüzdürme D) Çöktürme

10. Ham petrolün rafine edilmesinden dizel, benzin, fuel-oil gibi maddeler elde edilir. Buna göre, ham petrolü rafine etme sırasında uygulanan işlem hangisidir?

- A) Flotasyon B) Destilasyon
C) Diyaliz D) Dekantasyon

11.



tepkimesinde oluşan diğer ürün hangisidir?

- A) Yağ asidi
B) Arap sabunu
C) Çamaşır suyu
D) Beyaz sabun

12. Sabunla temizlenen yüzeylerde beyaz kalıntılar meydana gelir. Bunun nedeni sabunun hangi özelliği ile açıklanır?

- A) Zayıf asit tuzu olması
B) Suda çökelek oluşturması
C) Suda bazik çözelti oluşturması
D) Hidrofob, hidrofil uçlarının olması

13. I- Çamaşır suyu
II- Deterjan
III- Sabun

Yukarıda verilen temizlik ürünlerinin hangilerinde hidrofob uç bulunmaz?

- A) Yalnız I B) Yalnız III
C) I ve II D) II ve III

14. Kireç üretiminde, kireç taşı aşağıdaki hangi işlemlerden geçer?

- A) Tavlama ve kurutma
B) Pişirilme ve kurutma
C) Kurutma ve söndürme
D) Pişirilme ve söndürme

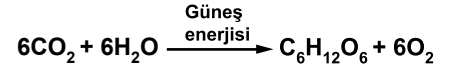
15. Camın ana maddesi aşağıdakilerden hangisidir?

- A) Kil B) Harç
C) Kum D) Kireç

16. Aşağıdakilerden hangisi boyanın bileşenlerinden değildir?

- A) Çözücü B) Kalınlaştırıcı
C) Bağlayıcı D) Renklendirici

17. Yeşil bitkilerde sadece gündüz gerçekleşen olayın tepkimesi verilmiştir:



Buna göre, aşağıdakilerden hangisi doğrudur?

- A) Bitkiler, gece ve gündüz solunum yapar.
B) Kimyasal sindirimde enzim ve su kullanılır.
C) İnorganik maddelerden organik madde elde edilir.
D) Besinlerin oksijenle yanması sonucu karbon dioksit ve su oluşur.

18. Nişasta gibi polisakkaritler ağızda bulunan hangi enzim yardımıyla sindirime uğrar?

- A) Maltoz B) Amilaz
C) Lipaz D) Pepsin

19. Aşağıdaki etkenlerden hangisinin artması hava kirliliğine neden olmaz?

- A) Ağaçlandırma çalışmalarının
B) Otomobil kullanımının
C) Sanayi kuruluşlarının
D) Kentleşmenin

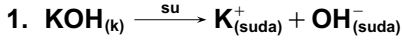
20. I- Cam
II- Kâğıt
III- Gübre
IV- Plastik ambalaj

Yukarıdaki maddelerden hangilerinin geri dönüşümü vardır?

- A) Yalnız III B) Yalnız IV
C) II ve III D) I, II ve IV

1. OTURUM

(436) KİMYA – 6



denkleme göre;

I- KOH bazdır.

II- OH^{-} hidrojen iyonudur.

III- KOH iyonik maddedir.

ifadelerinden hangileri doğrudur?

- A) Yalnız I B) Yalnız II
C) I ve III D) II ve III

2. NH_3 maddesinin bazik özellik gösterdiğini aşağıdaki teorilerden hangisi açıklayamaz?

I- Arrhenius

II- Bronsted - Lowry

III- Lewis

- A) Yalnız I B) Yalnız III
C) I ve II D) II ve III

3. Aşağıdaki ifadelerden hangisi Bronsted - Lowry'nin teorisine göre asit ve bazı açıklar?

- A) Sulu çözeltilerine hidrojen veya hidroksit iyonu verebilen maddelerdir.
B) Serbest elektron çifti bulunduran ve bunu başka maddeye verebilen veya alabilen maddelerdir.
C) Ortamın asidik veya bazik olmasına göre renk değiştirebilen maddelerdir.
D) Sulu çözeltilerine proton verebilen veya sulu çözeltilerinden proton alabilen maddelerdir.

4. Metal oksitler su ile tepkime vererek çözünürler. Buna göre, metal oksitler suda hangi iyonların derişimini arttıırırlar?

- A) H^{+} B) OH^{-} C) Na^{+} D) Cl^{-}

5. Aşağıdaki özelliklerden hangisi sadece bazlara aittir?

- A) Ele kayganlık hissi verme
B) Suda iyonlaşarak çözünme
C) Çözeltilerinin elektrik akımını iletmesi
D) İndikatör maddelerin rengini değiştirme

6. Değerliği 2 olan baz aşağıdaki-lerden hangisidir?

- A) NH_3 B) KOH
C) $\text{Ba}(\text{OH})_2$ D) $\text{Al}(\text{OH})_3$

7. 25 °C'ta saf sudaki H^{+} ve OH^{-} iyonlarının derişimleri arasındaki ilişki aşağıdakilerin hangisinde doğru verilmiştir?

- A) $[\text{H}^{+}] > [\text{OH}^{-}]$
B) $[\text{H}^{+}] = [\text{OH}^{-}]$
C) $[\text{OH}^{-}] > [\text{H}^{+}]$
D) $[\text{H}^{+}] + [\text{OH}^{-}] = 7$

8. 25 °C'ta pH değeri 7 olan bir çözeltili için aşağıdakilerden hangisi doğrudur?

- A) $K_{\text{su}} = 1 \times 10^{-7}$ 'dir.
B) Asidiktir.
C) Baziktir.
D) Nötrdür.

9. Asit ve bazların kuvveti aşağıdakilerden hangisine bağlıdır?

- A) Değerliklerine
B) İyonlaşma yüzdelere
C) Elektrik iletkenliklerine
D) Yükseltgenme basamaklarına

10. I- NaCl
II- NH_4Cl
III- CH_3COONa

tuzlarından hangileri hidroliz olmaz?

- A) Yalnız I B) Yalnız II
C) I ve III D) II ve III

11. Aşağıdakilerden hangisi bir yükseltgenme - indirgenme tepkimesidir?

- A) $\text{MgCl}_{2(k)} \rightarrow \text{Mg}_{(\text{suda})}^{+2} + 2\text{Cl}_{(\text{suda})}^{-}$
B) $\text{Fe}_{(\text{suda})}^{+2} + 2\text{OH}_{(\text{suda})}^{-} \rightarrow \text{Fe}(\text{OH})_{2(k)}$
C) $\text{Mg}_{(k)} + \text{Fe}_{(\text{suda})}^{+2} \rightarrow \text{Mg}_{(\text{suda})}^{+2} + \text{Fe}_{(k)}$
D) $\text{HCl}_{(g)} + \text{H}_2\text{O}_{(s)} \rightarrow \text{H}_3\text{O}_{(\text{suda})}^{+} + \text{Cl}_{(\text{suda})}^{-}$

12. Bir redoks tepkimesinde yükseltgenen maddeye ne ad verilir?

- A) Yükseltgen B) Yükseltgenme
C) indirgenme D) İndirgen

13. $\text{H}_{(\text{suda})}^{+} + \text{Au}_{(k)} \rightarrow$ tepkimesi kendiliğinden gerçekleşmez. Buna göre, aşağıdakilerden hangisi doğrudur?

- A) Au yükseltgenir.
B) H^{+} yükseltgenir.
C) Au aktif bir metaldir.
D) Au elementel hâlde kalma eğilimindedir.

14. Elementlerin bileşik yapma isteğine ne ad verilir?

- A) Redoks B) Aktiflik
C) Elektroliz D) Elektrolit

15. Aşağıdaki bileşiklerin hangisinde O'nin yükseltgenme basamağı -1'dir?

- A) H_2O B) CO_2
C) H_2O_2 D) Na_2O

16. Bir elektrokimyasal pilde tuz köprüsünün görevi aşağıdakilerden hangisidir?

- A) Yük denkliliği sağlamak
B) Elektrik akımı üretmek
C) Elektrot gerilimi oluşturmak
D) Elektrotları birbirine bağlamak

1. OTURUM

(441) BİYOLOJİ – 1

17. Zn elektrot anot, Cu elektrot katot olduğuna göre Zn-Cu pilinin şematik olarak doğru gösterimi aşağıdakilerden hangisidir?

- A) $\text{Cu} / \text{Cu}^{+2} // \text{Zn}^{+2} / \text{Zn}$
 B) $\text{Zn} / \text{Zn}^{+2} // \text{Cu}^{+2} / \text{Cu}$
 C) $\text{Cu}^{+2} / \text{Cu} // \text{Zn} / \text{Zn}^{+2}$
 D) $\text{Zn}^{+2} / \text{Zn} // \text{Cu} / \text{Cu}^{+2}$

18. Pb – Ag pilinin indirgenme yarı tepkimeleri verilmiştir:



Buna göre, aşağıdakilerden hangisi söylenemez?

- A) Pil elektrik akımı üretir.
 B) E° pil değeri +0,93 V'tur.
 C) Ag^{+} iyonları yükseltgenir.
 D) Tepkime kendiliğinden gerçekleşir.

19. Derişim pilleri ile ilgili aşağıdakilerden hangisi yanlıştır?

- A) Bir redoks tepkimesidir.
 B) Çözeltilerin türü aynıdır.
 C) Elektrotların türü farklıdır.
 D) Çözeltilerin derişimi farklıdır.

20. Asidik ortamda gerçekleşen $\text{Zn} + \text{NO}_3^{-} \rightarrow \text{Zn}^{+2} + \text{NO}_2$ tepkimesi denkleştirildiğinde H^{+} ve H_2O 'nun katsayıları aşağıdakilerden hangisi olur?

	H^{+}	H_2O
A)	2	2
B)	1	2
C)	2	4
D)	4	2

1. Canlının yaşama ve üreme yeteneğine sahip olan temel birimine ne ad verilir?

- A) Çekirdek B) Hücre
 C) Sitoplazma D) Golgi cisimciği

2. Canlıya özgü karakter özelliklerinin genler aracılığıyla bir nesilden sonraki nesile aktarılmasına ne denir?

- A) DNA
 B) Soya çekim
 C) Eşeysiz üreme
 D) Büyüme ve gelişme

3. I- Basınç

II- Sıcaklık

III- Kimyasal maddeler

Yukarıdakilerden hangileri canlılarda uyarı yaratan etkilerdendir?

- A) Yalnız I B) I ve II
 C) II ve III D) I, II ve III

4. Aşağıdaki pH derecelerinden en asidik olanı hangisidir?

- A) pH=1 B) pH=3
 C) pH=5 D) pH=7

5. Aşağıda verilen minerallerden hangisi, ATP ve nükleik asitlerin yapısında yer alır?

- A) Demir B) Fosfor
 C) Kalsiyum D) Sodyum

6. Aşağıdakilerden hangisi disakarit şekerlere örnektir?

- A) Glikoz B) Fruktoz
 C) Maltoz D) Galaktoz

7. Lipitler, aşağıda verilen çözücülerin hangisinde en az çözünür?

- A) Su B) Eter
 C) Aseton D) Kloroform

8. Aşağıdakilerden hangisi doymuş yağlara örnektir?

- A) Soya yağı B) Pamuk yağı
 C) Kuyruk yağı D) Ayçiçeği yağı

9. I- Proteinlerde amino asitlerin dizilişi genlerle kontrol edilir.
 II- Hücrede sentezlenen protein her canlıda kendine özgüdür.

Yukarıda proteinlerle ilgili olarak verilenler için ne söylenebilir?

- A) Yalnız I doğru
 B) Yalnız II doğru
 C) Her ikisi de doğru
 D) Her ikisi de yanlış

10. Aşağıda enzimlerle ilgili verilenlerden hangisi yanlıştır?

- A) Enzim çeşidi koenzim ve ko-faktör çeşidinden azdır.
 B) Tepkimelerden değişmeden çıkarlar.
 C) Hücrede takım halinde çalışırlar.
 D) Çok hızlı çalışırlar.

11. Aşağıdakilerden hangisi vitaminler için yanlış bir bilgidir?

- A) Enerji vermezler.
 B) Hücrenin yapısına katılmazlar.
 C) Metabolizmada düzenleyici rol oynarlar.
 D) Vücuttaki işlevleri için çok miktarda bulunmaları gerekir.

12. I- Çekirdek
 II- Mitokondri
 III- Kloroplast

Yukarıda verilenlerin hangilerinde DNA molekülü bulunur?

- A) Yalnız I B) I ve II
 C) II ve III D) I, II ve III

13. ATP'den fosfatların ayrılması hangi olayla gerçekleşir?

- A) Hidroliz B) Fosforilasyon
 C) Dehidrasyon D) Plazmoliz

1. OTURUM

14. Aşağıdaki ifadelerden hangisi hücre teorisi içinde yer almaz?

- A) Bütün canlılar bir ya da daha fazla hücreden oluşmuştur.
- B) Hücre, canlılık özelliklerini gösteren en küçük yapı birimidir.
- C) Bütün canlıların vücutlarında doku oluşması gözlenir.
- D) Yeni hücreler var olan hücrelerin bölünmesi ve büyümesi ile oluşur.

15. Aşağıdakilerden hangisi değişim farkına bağlı olarak kolaylaştırılmış difüzyon yolu ile hücre zarından taşınmaz?

- A) Su
- B) Glikoz
- C) Protein
- D) Amino asit

16. Aktif taşıma ile ilgili olarak aşağıda verilen bilgilerin hangisi yanlıştır?

- A) Enerji harcanır.
- B) Taşıyıcı proteinler görev alır.
- C) Canlı hücrelerde gerçekleşir.
- D) Hücreye alınan tüm maddeler bu yöntemle taşınır.

17. Hücre zarı ve çekirdek arasında bir ağ oluşturan kanalcıklar ve borucuklar sistemine ne ad verilir?

- A) Lizozom
- B) Mitokondri
- C) Golgi cisimciği
- D) Endoplazmik retikulum

18. İçerdiği sindirim enzimleri sayesinde hücrede lipit, karbonhidrat ve proteinlerin yapı taşlarına parçalanmasını sağlayan organel hangisidir?

- A) Koful
- B) Lizozom
- C) Hücre iskeleti
- D) Golgi cisimciği

19. I- Plastitler
II- Mikrotübüller
III- Ara filamentler

Yukarıdakilerden hangileri hücre iskeleti elemanları arasında sayılmaz?

- A) Yalnız I
- B) I ve II
- C) II ve III
- D) I, II ve III

20. Aşağıdakilerden hangisi, hem prokaryot hem de ökaryot hücrelerde görülen ortak özelliktir?

- A) Protein sentezi için ribozom bulundurma
- B) Peptidoglikan yapıda hücre duvarı bulundurma
- C) Hücre duvarının dışında kapsül bulundurma
- D) Endositoz ve ekzositoz olaylarını gerçekleştirme

(443) BİYOLOJİ – 3

1. Aşağıdakilerden hangisi bilim adamında bulunması gereken özelliklerden değildir?

- A) Akılcı ve gerçekçi olmalı
- B) Meraklı ve iyi bir gözlemci olmalı
- C) Yaptığı çalışmalarda dikkatli, kararlı, şüpheli ve sabırlı olmalı
- D) Daha önce yapılan gözlem ve deneyleri tekrar tekrar yapmalı

2. Bilimsel bir problem için önerilen geçici çözüm yoluna ne denir?

- A) Hipotez
- B) Gözlem
- C) Veri
- D) Kanun

3. 1800'lü yıllarda yaptığı çalışmalarla, mikroskobik canlıların fermentasyona neden olduğunu ve kuduz aşısını bulan bilim adamı aşağıdakilerden hangisidir?

- A) Galileo
- B) Pasteur
- C) Wilmut
- D) Mendel

4. Hücrenin yapı, görev ve çoğalma ile ilgili özelliklerini inceleyen bilim dalına ne denir?

- A) Sitoloji
- B) Biyokimya
- C) Embriyoloji
- D) Moleküler biyoloji

5. I- Tıp
II- Ekoloji
III- Jeoloji

Verilenlerden hangileri biyolojinin uygulama alanlarındandır?

- A) Yalnız I
- B) I ve II
- C) II ve III
- D) I, II ve III

6. Herhangi bir canlıdan alınan dokunun uygun ortamda saklanması ve bu ortamlarda büyüme yeteneğini kazanmasını sağlayan tekniğe ne ad verilir?

- A) Boyama tekniği
- B) Vital inceleme
- C) Kesit alma
- D) Doku kültürü

7. Aşağıdakilerden hangisi canlıları etkileyen canlı (biyotik) etmenlerdendir?

- A) Işık
- B) Sıcaklık
- C) Ayrıştırıcılar
- D) Toprak ve mineraller

8. Aşağıdaki canlı gruplarından hangisinde büyük çoğunlukla ototrof beslenme görülür?

- A) Protistler
- B) Bitkiler
- C) Mantarlar
- D) Hayvanlar

9. Bir arada yaşayan canlılardan bir tanesi zarar görürken, diğer canlı bu ortaklıktan yarar görüyorsa, bu birlikteliğe ne ad verilir?

- A) Herbivor
- B) Karnivor
- C) Kommensalizm
- D) Parazit yaşam

1. OTURUM

10. I- Çekirge
II- Kurbağa
III- Balina
IV- Bitki
- Verilen canlılardan bir besin zinciri oluşturmak istersek, kaç numaralı canlı bu besin zincirinin dışında kalır?

A) I B) II C) III D) IV

11. I- Canlılar oksijeni, organik maddelerin parçalanmasında kullanır.
II- Yanma olayı için oksijen gereklidir.

Oksijenle ilgili verilenler için ne söylenebilir?

A) Yalnız I doğru
B) Yalnız II doğru
C) Her ikisi de doğru
D) Her ikisi de yanlış

12. Aşağıdakilerden hangisi bir popülasyonu ifade eder?

A) Karadeniz'deki hamsiler
B) İç Anadolu'daki bitkiler
C) Van Gölü'ndeki canlılar
D) Konya Ovası'ndaki göller

13. Bir popülasyonun yaş dağılımına bakıldığında, genç bireylerin fazla olduğu tespit ediliyor. Bu popülasyon için ne söylenebilir?

A) Dengededir.
B) Küçülmektedir.
C) Büyümektedir.
D) Zamanla yok olacaktır.

14. I- Kara komünitelerinde bitki türleri baskındır.
II- Su komünitelerinde balık türleri baskındır.

Yukarıda komünitelerle ilgili olarak verilenler için ne söylenebilir?

A) Yalnız I doğru
B) Yalnız II doğru
C) Her ikisi de doğru
D) Her ikisi de yanlış

15. Tarımsal aktiviteler sonucu, sulara bol miktarda azot ve fosfor bileşiklerinin karışmasından dolayı ortamda aşırı bitki üremesine ne ad verilir?

A) Popülasyon
B) Süksesyon
C) Ötrofikasyon
D) Biyosfer

16. Yeşil alanların tahrip edilmesi ve fosil yakıtların aşırı tüketimi sonucu atmosferde aşağıda verilenlerden hangisinin oranı giderek artmaktadır?

A) Azot B) Argon
C) Oksijen D) Karbon dioksit

17. Aşağıdakilerden hangisi toprak kirliliğine neden olabilen etmenlerden değildir?

A) Erozyon
B) Plansız kentleşme
C) Evsel, sanayi ve hastane atıkları
D) Hava kirliliği sonucu oluşan asit yağmurları

18. Aşağıdakilerden hangisi erozyonun önlenmesi için alınması gereken tedbirlerle ilgili değildir?

A) Toprağın yanlış kullanımı önlenmeli
B) Ormanların ve bitki örtüsünün tahribi önlenmeli
C) Nükleer silahlar kontrol altına alınmalı
D) Verimli arazinin yerleşim birimi olarak kullanılmasına izin verilmemeli

19. Beyine iletilmeksizin bir impulsa karşı verilen yanıtı ne denir?

A) Nasti B) Refleks
C) Adaptasyon D) Tropizma

20. "Canlı kendiliğinden var olabilir, yani cansız maddelerden kendiliğinden meydana gelebilir."

Yukarıda verilen bilgi, hayatın başlangıcı ile ilgili hangi görüşe aittir?

A) Ototrof
B) Abiyogenez
C) Heterotrof
D) Panspermia

(446) BİYOLOJİ – 6

1. Kusursuz bir şekilde yapılmış madeni bir paranın havaya atıldığında yazı veya tura gelme olasılığı eşit olup % 50'dir. Bu para peş peşe 9 kez havaya atıldığında her defasında tura gelmişse 10. denemede tura gelme olasılığı % kaçtır?

A) 25 B) 50 C) 75 D) 100

2. I- Dd
II- DD
III- dd

Yukarıda verilenlerden hangileri heterozigot karakterlerin gösterim şeklidir?

A) Yalnız I B) I ve II
C) II ve III D) I, II ve III

3. Bir organizmanın dış görünüş özelliklerine ne denir?

A) Gen B) Lokus
C) Genotip D) Fenotip

4. Homozigot yuvarlak tohumlu bir bezelye bitkisi ile buruşuk tohumlu bezelye bitkisinin çaprazlanmasıyla oluşan F_1 fertlerinin kendileşmesi ile meydana gelen F_2 dölünde, homozigot yuvarlak tohumlu bireylerin oranı % kaçtır? (Bezelyelerde yuvarlak tohumluluk, buruşuk tohumluluğa baskındır.)

A) 25 B) 50 C) 75 D) 100

1. OTURUM

5. AaBBcc genotipine sahip bir canlının oluşturabileceği gamet çeşidi sayısı kaçtır?
A) 1 B) 2 C) 3 D) 4
6. Endülüs tavuklarında, beyaz tüylü bir horoz ile siyah tüylü bir tavuk çaprazlandığında F₁ de oluşan yavruların mavi tüylü olma olasılığı % kaçtır? (Endülüs tavuklarında beyaz ve siyah tüylü olma özellikleri eksik baskın özelliktir.)
A) 25 B) 50 C) 75 D) 100
7. I- RR
II- Rr
III- rr
Yukarıdakilerden hangileri, Rh (+) kan grubunun genotip gösterim şeklidir?
A) Yalnız I B) I ve II
C) II ve III D) I, II ve III
8. Aşağıdakilerden hangisi insanda sağlıklı erkek bir bireyin kromozom dağılımının gösterim şeklidir?
A) 44+XX B) 44+XY
C) 46+XX D) 46+XY
9. I- Hemofili hastası bir bayanın erkek çocukları daima hemofili olur.
II- Hemofili hastası bir erkeğin kız çocukları daima hemofili olur.
İnsanlarda hemofili hastalığı ile ilgili olarak verilenler için ne söylenebilir?
A) Yalnız I doğru
B) Yalnız II doğru
C) Her ikisi de doğru
D) Her ikisi de yanlış
10. Aşağıdakilerden hangisi gonozomlara bağlı ayrılmama olayı olduğunu gösteren bir genotip çeşididir?
A) 45+XX B) 45+XY
C) 44+X0 D) 43+XX
11. Aşağıdaki azotlu organik bazlardan hangisi DNA'nın yapısında bulunmaz?
A) Adenin B) Timin
C) Urasil D) Guanin
12. I- 5 C'lu şeker
II- Fosfat grubu
III- Organik baz grubu
DNA ve RNA'nın adlandırılması, yapılarında bulunan yukarıdaki moleküllerden hangilerine göre yapılır?
A) Yalnız I B) I ve II
C) II ve III D) I, II ve III
13. mRNA üzerindeki üçlü baz dizilerine ne denir?
A) Gen B) Kodon
C) Antikodon D) Protein sentezi
14. I- DNA
II- RNA
III- Enzim
Protein sentezinde yukarıda verilenlerden hangileri görev alır?
A) Yalnız I B) I ve II
C) II ve III D) I, II ve III
15. Bakterilerde kromozom dışında bulunan ve kendi kendine bölünebilen küçük halkasal DNA'lara ne ad verilir?
A) Plazmit
B) Poliploid
C) Rekombinant
D) Modifikasyon
16. 1996 yılında araştırmacı Ian Wilmut ve arkadaşları hangi hayvanda klonlama yapmışlardır?
A) Fare B) Tavşan
C) Koyun D) Köpek
17. I- Babalık davalarında
II- Suçluların tespitinde
III- Safkan köpek ırklarının tespitinde
DNA parmak izi yöntemi yukarıdakilerin hangilerinde kullanılabilir?
A) Yalnız I B) I ve II
C) II ve III D) I, II ve III
18. Aşağıdaki coğrafi bölgelerden hangisi bir ekoton olarak kabul edilebilir?
A) Göl B) Deniz
C) Nehir D) Bataklık
19. Birincil süksesyonda görülen ilk evre aşağıdakilerden hangisidir?
A) Ot evresi
B) Yosun evresi
C) Liken evresi
D) Ağaç evresi
20. Popülasyonda doğum ve içe göçler, ölüm ve dışa göçlerden daha yavaş gerçekleşiyorsa bu popülasyon için ne söylenebilir?
A) Popülasyon küçülmemektedir.
B) Popülasyon büyümektedir.
C) Popülasyon dengededir.
D) Popülasyon önce büyür, sonra dengeye gelir.

1. OTURUM

1. Ekonomide fiyat artış hızının yavaşlatılması, fiyatlarda az çok uzun bir süre içinde büyük oranlı değişmelerin önlenmesi, aşağıda verilen ekonomi politikasının başlıca hedeflerinden hangisiyle ilgilidir?

- A) Tam İstihdam
- B) Ekonomik Denge
- C) Hakça Gelir Dağılımı
- D) Ekonomik Büyüme ve Kalkınma

2. Devletin, bazı malların ithal ve ihracını yasaklayan önlemleri, ekonomi politikasının hangi vasıtaları olarak adlandırılır?

- A) Yönlendirici
- B) Nicelik Belirleyen
- C) Nitelik Belirleyen
- D) Emredici

3. Aşağıda verilen açıklamalardan hangisi tımdengelinin yetersizliklerinden biri değildir?

- A) Olaylarla olan ilgimiz kesilebilir.
- B) Bizi gözlemden yoksun bırakabilir.
- C) Somut şartlar üzerinden olayları inceler.
- D) Gerçeğe uygunluk kontrolü yapmamıza engel olabilir.

4. İnsanların siyah-beyaz televizyon yerine renkli televizyonu seçmeleri aşağıda verilen ihtiyaç yasalarından hangisine bir örnek teşkil eder?

- A) İhtiyaçların miktarı sınırsızdır.
- B) İhtiyaçlar birbirine rakiptir.
- C) Bazı ihtiyaçların kapasiteleri sınırlıdır.
- D) İhtiyaçlar değişmektedir.

5. Aşağıdakilerden hangisi kültürel mal olarak kabul edilir?

- A) Su
- B) Elbise
- C) Ekmek
- D) Televizyon

6. Servet ile ilgili verilen bilgilerden hangisi yanlıştır?

- A) Servet görecelidir.
- B) Servet bir miktardır.
- C) Toplam olarak ifade edilir.
- D) Servetin göstergesi sadece paradır.

7. Aşağıda verilenlerden hangisi “Üretim Değer Meydana Getirmektir” görüşüne aykırı bir açıklamadır?

- A) Faaliyet süresince malın şekli değişir.
- B) Madde yerine başka bir madde geçer.
- C) Eski maddelerin değerleri daha büyük olur.
- D) Faaliyet sonunda malın değeri artar.

8. Pamuğun yeterli ölçüde üretilmediği bölge ve ülkelerde tekstil endüstrisi de gelişir.

Verilen açıklama, hangi üretim faktörünün etkisi ile ilgilidir?

- A) Doğa
- B) Emek
- C) Sermaye
- D) Girişimci

9. Aşağıdakilerden hangisi birinci enerji kaynakları arasında yer almaz?

- A) Doğal gaz
- B) Biogaz
- C) Nükleer enerji
- D) Rüzgar enerjisi

10. Aşağıdaki açıklamaların hangisinde bir emek vardır?

- A) Dağ sporu yapmak
- B) Otomobil kullanmak
- C) Bir şoförün faaliyetleri
- D) Zevk için kürek çekmek

11. Aşağıdakilerden hangisi sübjektif emeğe örnek gösterilebilir?

- A) Kitap okumak
- B) Tarla sürmek
- C) Terzilik
- D) Maden çıkarmak

12. Az gelişmiş ülkelerde görülen açlık ve sefaletin oluşumunda, aşağıdakilerden hangisi etkili değildir?

- A) Kadın erkek çalışma sorumluluğuna sahip oluş
- B) Gereğinden fazla kaderciliğe inanış
- C) Çok düşük bir gelir düzeyi
- D) Aşırı derecede tutuculuk

13. Aşağıda verilenlerden hangisi tasarrufa etki eden sübjektif etkenlerden biri değildir?

- A) Cimrilik
- B) Miras bırakma
- C) Çıkar sağlama
- D) Mali politikadaki değişiklik

14. Bir tekstil atölyesinde bir yılda yapılacak üretim için ham madde gideri 80 000 TL’dir. Atölyenin değişmeyen sermaye değeri 50 000 TL ve 5 yıl kullanım sürelidir. Bu atölyede yapılacak üretimin maliyet değeri aşağıdakilerden hangisidir?

- A) 30 000 TL
- B) 60 000 TL
- C) 90 000 TL
- D) 130 000 TL

15. Tasarrufa etki eden objektif etkenler ile ilgili aşağıda yapılan açıklamalardan hangisi doğru değildir?

- A) İnsanların gelir düzeyi tasarrufa etki eder.
- B) Sahip olunan servet, tasarruf üzerine etki eder.
- C) Faiz, tasarrufa yönelten vasıta nedenlerden biridir.
- D) Faizdeki yükselme, bir servetin sermaye değerini düşürür.

16. Aşağıdakilerden hangisi, girişimin amaçları kapsamında girişimde çalışanların beklentilerini karsılamaz?

- A) Çalışma ücretlerinin artması
- B) Vergilerin düzenli ödenmesi
- C) Çalışma güvenliğinin sağlanması
- D) Sürekli çalışma imkanının olması

1. OTURUM

17. Birkaç kişinin değişik hukuksal şekilde kurdukları girişimlere ne ad verilmektedir?

- A) Kooperatifler
- B) Kamu giriřimi
- C) Kiřisel giriřimler
- D) řirket durumunda giriřimler

18. Giriřimci, bařardığı ekonomik ve teknik fonksiyonların karřılı olarak ařağıdakilerden hangisini alır?

- A) Kâr
- B) Faiz
- C) Rant
- D) Ücret

19. İnsan çalışmasının (emeğın) sonucu olan gelirlere ne ad verilmektedir?

- A) İtibari gelir
- B) Temelsiz gelirler
- C) Gerçek gelir
- D) Temelli gelirler

20. Türkiye'nin milli gelir hesaplamaları, hangi yöntem kapsamında yürütölmektedir?

- A) Anket yöntemi
- B) Tahmin yöntemi
- C) Milletler arası yöntemler
- D) Üretim istatistiklerinden yararlanma

(465) TEMEL DİNİ BİL. – 1

1. İnsanları akıl ve iradeleri ile dünyada iyiliğe, ahirette mutluluğa götürmeyi amaçlayan ilahî kurallar bütününe ne denir?

- A) İbadet
- B) İman
- C) Kültür
- D) Din

2. Allah'ın varlığını inkâr ettiğı gibi tüm dinlere ve dinlerin tanrı tasavvurlarına karřı çıkan inanç sistemi ařağıdakilerden hangisidir?

- A) Politeizm
- B) Monoteizm
- C) Agnostisizm
- D) Ateizm

- 3. • Milli bir din olduğı için Japon adalarında yaygındır.
- Gök (Baba Tanrı) ile Yer (Ana Tanrı) tanrı Japon adalarını ve diğeri tanrıları doğurduğuna inanılır.
- Ölen bütün insanların tanrı olduğuna inanılır.
- Bu dine inanan bir kişi aynı anda başka bir dine de inana-bilir.

Yukarıda hakkında bilgi verilen din ařağıdakilerden hangisidir?

- A) Şintoizm
- B) Konfüçyanizm
- C) Hinduizm
- D) Taoizm

4. Hristiyanlık tarihi hakkında ařağıda verilen bilgilerden hangisi İslam'a göre yanlıştır?

- A) Hz. İsa Allah'tan aldığı emirleri insanlara ulařtırmıştır.
- B) Hz. İsa putperest Romalılar tarafından öldürölmüřtür.
- C) Hz. İsa babasız olarak Hz. Meryemden doğmuřtur.
- D) Hz. İsa birçok mucize göstermiřtir.

5. Ařağıdakilerden hangisi Hristiyan mezheblerinden biri değildir?

- A) Ortodoks
- B) Protestan
- C) Katolik
- D) Reformist

6. Hz. Muhammed'in tebliğ için gittiğı ancak mesajının kabul görmeyerek tařlandığı yer ařağıdakilerden hangisidir?

- A) Yesrib
- B) Yemen
- C) Taif
- D) Habeřistan

7. Ařağıdakilerden hangisi ilk Müslömanlardan biri değildir?

- A) Hz. Zeyd
- B) Hz. Ömer
- C) Hz. Hatice
- D) Hz. Ali

8. Mekke'nin fethinde, Peygamberimiz; "Her kim o kişinin evine girerse emniyettedir." diye ilan etti.

Bu kişi ařağıdakilerden hangisidir?

- A) Selman-ı Farisi
- B) Halit b. Velit
- C) Sa'd b. Ebi Vakkas
- D) Ebu Süfyan

9. Allah'ın (c.c) sıfatlarından olan "Hayat"ın anlamı ařağıdakilerden hangisidir?

- A) Var olmak
- B) Bir olmak
- C) Canlı ve diri olmak
- D) Var olmak için başkasına ihtiya-yaç duymamak

10. Peygamberlerin, kendilerine, "Allah tarafından ulařtırılan ilahi vahyi insanlara tam olarak ak-tarmaları" anlamına gelen kav-ram ařağıdakilerden hangisidir?

- A) Sıdk
- B) Tebliğ
- C) Fetanet
- D) Emanet

11. Allah'ın, belirlemiş olduğı şeylerin zamanı ve yeri gelince ortaya çıkmasına ne denir?

- A) Kaza
- B) Kader
- C) Tevekköl
- D) İrade

12. Ařağıdakilerden hangisi Allah'ın subuti sıfatlarındanıdır?

- A) Vücut
- B) İlim
- C) Vahdaniyet
- D) Kıdem

13. "... namaz, insanı kötölüklerden ve hayasızlıktan alıkoyar." (Ankebut suresi, 45. ayet)

Bu ayetin konusu ařağıdakilerden hangisidir?

- A) İbadetin ilkeleri
- B) İbadetin kapsamı
- C) İbadetin insana kazandırdıkları
- D) İbadet - Temizlik ilişkisi

1. OTURUM

14. Aşağıdakilerden hangisi namazın hazırlık şartlarından biridir?

- A) Niyet B) Kıraat
C) Secde D) Ruku

15. Aşağıdakilerden hangisi namazın vaciplerinden biridir?

- A) Farz namaz için ezan okumak
B) Rukuda üç defa "Subhâne rabbiyil azim" demek
C) Tekbir alırken elleri yukarı kaldırmak
D) Namaza "Allahu ekber" sözü ile başlamak

16. Aşağıdakilerden hangisi abdestin farzlarından biridir?

- A) Ağza - burna su vermek
B) Kulakları meshetmek
C) Elleri dirseklere kadar yıkamak
D) Enseyi meshetmek

17. Bayram namazı hakkında aşağıda verilen bilgilerden hangisi yanlıştır?

- A) İki rekattır.
B) Sünnet bir namazdır.
C) Cemaatle kılınır.
D) Her rekatta ziyade üç tekbir alınır.

18. Aşağıdakilerden hangisi zekatın sözlük anlamlarından biri değildir?

- A) Yakınlaşmak
B) Çoğalmak
C) Temizlik
D) Bereket

19. Hac ibadeti ne zaman farz kılınmıştır?

- A) Hicretten 1 yıl önce
B) Hicretten 1 yıl sonra
C) Hicretin 3. yılında
D) Hicretin 9. yılında

20. Hac ibadeti yapılırken şeytan taşlandıktan sonra aşağıdakilerden hangisi yapılır?

- A) Hacerülesved öpülür.
B) Ziyaret tavafı yapılır.
C) Müzdelife vakfesi yapılır.
D) Sa'y yapılır.

(474) İŞ GÜVENLİĞİ – 1

1. Aşağıdakilerden hangisi, iş yerindeki çalışma koşullarının sağlık ve güvenlik içinde olmasını sağlayan ve sonucunda iş kazaları ile meslek hastalıklarını azaltan bir bilimdir?

- A) İş güvenliği
B) Site güvenliği
C) Fiziki güvenlik
D) Çevre güvenliği

2. Aşağıdakilerden hangisi, kalifiye teknik elemanlar yetiştirilmesi için gerekli bilgi ve becerilerin verildiği eğitimidir?

- A) Trafik eğitimi
B) Çevre eğitimi
C) İlk yardım eğitimi
D) Mesleki ve teknik eğitim

3. Aşağıdakilerden hangisi insan sağlığının bozulmasına neden olan fiziksel etmenlerdendir?

- A) Stres B) Zehir
C) Soğuk D) Parazit

4. Bir işverene bağlı olarak çalışan sigortalının, görevli olarak iş yeri dışında başka bir yere gönderilmesi sırasında kaza geçirilmesi durumu, ilgili yasaya göre aşağıdakilerden hangisi olarak kabul edilir?

- A) Tehdit
B) İş kazası
C) İş güvenliği
D) Meslek hastalığı

5. Aşağıdakilerden hangisi, endüstride kullanılan ve işçi sağlığına zarar veren başlıca zehirler arasında yer alır?

- A) Kurşun B) Silikon
C) Oksijen D) Kalsiyum

6. Meslek hastalıklarının iş kazalarından farkı, hastalık etkeninin sürekli olması, hastalığın ilerleyici olması ve başlangıç tarihinin kesin olarak saptanamamasıdır.

Buna göre, yıllarca yüksek şiddette gürültülü ortamda çalışmış bir işçinin işitme kaybına uğraması durumu ne ile ifade edilir?

- A) Vurgun
B) İş kazası
C) Meslek hastalığı
D) Geçici hastalık

7. • Böcekler, parazitler
• Bakteriler, virüsler, mantarlar ve küfler

Yukarıda verilen unsurların bir iş yerinde bulunması durumu o iş yerinin hangi tür tehdit altında olduğunu gösterir?

- A) Fiziki B) Biyolojik
C) Kimyasal D) Endüstriyel

8. I- Baş ağrıları
II- Göz bozuklukları
III- Yorgunluk belirtileri

Verilenlerden hangileri bir iş yerinde aydınlatmanın iyi olmadığı durumlarda ortaya çıkar?

- A) Yalnız I B) I ve II
C) II ve III D) I, II ve III

9. Hangi renk, makine ve tezgâhların "Elektrik Stop Düğmeleri"nde kullanılır?

- A) Sarı B) Yeşil
C) Kırmızı D) Turuncu

1. OTURUM

10. Aşağıdakilerden hangisi, konutların içinden geçen soğuk su borularında oluşması muhtemel “terlemeye” karşı alınması gereken önlemlerdendir?

- A) Boruların izole edilmesi
- B) Binalara hidrofor konulması
- C) Boruların sık sık değiştirilmesi
- D) Boruların toprak altına döşenmesi

11. Yapılarda, çeşitli su akıtma yerlerinden gelen kirli suları şehir kanalizasyonuna ya da bunun olmadığı yerlerde süzme, çürütme çukurlarına ileten boru sistemine ne ad verilir?

- A) Isıtma tesisatı
- B) Pis su tesisatı
- C) Temiz su tesisatı
- D) Havalandırma tesisatı

12. Hangisi, elektrik devresinin aşırı elektrik gücü alması durumunda elektriğin termik ısısından dolayı kendi kendisini kapatmasını sağlayan düzeneştir?

- A) Fiş
- B) Priz
- C) Lamba duyu
- D) Elektrik sigortası

13. Aşağıdakilerden hangisi elektrik tesisatında topraklama yapılmasının amaçlarındadır?

- A) Elektrikli cihazların temizlik, bakım ve onarımlarını aksatmak
- B) Elektrikli cihazları kullananların can güvenliğini sağlamak
- C) Elektrik enerjisinin depo edilebilmesini sağlamak
- D) Elektrikli cihazların tahrip olmasını sağlamak

14. Aşağıdakilerden hangisi iş kazalarının ortaya çıkmasında etken olan nedenlerden biri değildir?

- A) Denetim hizmetlerinin eksikliği
- B) Kaza istatistik ve araştırmalarının yetersizliği
- C) Çalışanlarda iş güvenliği bilincinin oluşturulması
- D) İş yerinin fiziksel ve mekanik çevre koşullarının yetersizliği

15. Üzerindeki dişler yardımıyla metallerin yüzeylerinin düzeltilmesi, çapaklarının alınması, istenen biçim ve ölçüye getirilmesi gibi çeşitli tesviye işlemlerinde kullanılan el aleti aşağıdakilerden hangisidir?

- A) Ege
- B) Kumpas
- C) Mihengir
- D) Kargaburun

16. Aşağıdakilerden hangisi elektrikli aletleri kullanırken dikkat edilmesi gereken hususlardandır?

- A) Ellerin ıslak olmasına özen gösterilmesi
- B) Enerjisi kesilmeden temizliğinin yapılması
- C) Kablosunun geçit yerlerinde ve ayakaltında bulundurulması
- D) Onarımının her zaman yetkili bir elektrikçi tarafından yapılması

17. Her yıl iş yerlerinde oluşan göz yaralanmaları, gözlerin korunmasına yeterince dikkat edilmediğini göstermektedir.

Uçucu, fırlayıcı ve sıçrayıcı parçalardan meydana gelen göz yaralanmalarının önlenmesi için aşağıdakilerden hangisinin kullanılması zorunludur?

- A) Baret
- B) Yanmaz elbise
- C) Koruyucu gözlük
- D) Oksijen üretimli solunum cihazı

18. Aşağıdakilerden hangisi, nikel ve bileşiklerinin kullanıldığı bir iş yerinde uyulması gereken kurallardan biri değildir?

- A) İş yerini çok iyi havalandırmak
- B) Çalışanların kişisel temizlikleri için önlemler almak
- C) Çalışanlara iş elbisesi, eldiven, ayakkabı ve maske kullandırmak
- D) Üretimin yapıldığı bölümlerde bir şeyin yenilmesine ve içilmesine izin vermek

19. Kömür madenlerinde patlamaya neden olan gaz aşağıdakilerden hangisidir?

- A) Klor
- B) Metan
- C) Hidrojen sülfür
- D) Hidrojen siyanür

20. • Kaza soruşturması ve neden analizi yapmak
• Aynı tip ya da benzer kaza ve yaralanmanın yinelenmesini önlemek

Yukarıda verilenlerin gerçekleşmesi için hazırlanan ve iş güvenliğinin önemli bir parçası olan basılı formlara ne ad verilir?

- A) Kaza raporu
- B) Kaza zinciri
- C) Sağlık raporu
- D) Ceza tutanağı

(477) İŞLETME – 2

- 1. I. Pazarlama
II. Planlama
III. Finansman
IV. Örgütlenme
V. Denetim

Yukarıda verilen işlevlerden “Yönetim” tanımı kapsamında bulunanların tümünün verildiği seçenek hangisidir?

- A) I – II
- B) III – IV
- C) I – III – VI
- D) II – VI – V

2. Etkinlik ve verimliliğin artırılması için aşağıdakilerden hangisi Klasik Yönetim Teorisi ilkeleri arasında yer almaz?

- A) Amaç birliği
- B) Hiyerarşik yapı
- C) İnsan unsuru
- D) Denetim alanı

3. Çevre boyutunu analiz eden ve örgütü açık sistem olarak kabul eden yönetim teorisi aşağıdakilerden hangisidir?

- A) Modern Yönetim Teorisi
- B) Neo-Klasik Yönetim Teorisi
- C) Klasik Yönetim Teorisi
- D) Siyasal Yönetim Teorisi

4. İşletmelerin yönetim süreçlerinde gerekli emir-komuta zincirinin oluşturulması, aşağıdakilerden hangisi ile ilgilidir?

- A) Koordinasyon
- B) Yönelme
- C) Planlama
- D) Organizasyon

1. OTURUM

5. Planlamanın işletmeye sağlayacağı faydalar düşünüldüğünde, aşağıdakilerden hangisi uygun bir açıklama değildir?
- A) İşletmenin etkin bir denetimden korunmasını sağlar.
B) İşletme kaynaklarının verimli kullanılmasını sağlar.
C) Yöneticilere geleceği tahmin etme yeteneği kazandırır.
D) İşletmenin bölümleri arasındaki koordinasyonu sağlar.
6. İşletmenin ihtiyacı olan fonların sağlanması, aşağıdaki kavramlardan hangisini ifade etmektedir?
- A) Finans
B) Finansman
C) Finansal yönetim
D) Finansman fonksiyonu
7. Pazarlama hizmetleri kapsamında malın üretim merkezlerinden alınarak tüketiciye ulaştırılmasının sağlayacağı fayda, aşağıdakilerden hangisidir?
- A) Şekil faydası
B) Zaman faydası
C) Yer faydası
D) Mülkiyet faydası
8. Aşağıdaki açıklamalardan hangisi, reklamın özelliklerine uygun bir açıklamadır?
- A) Reklam veren bir bedel alır.
B) Reklam kişisel bir sunuştur.
C) Reklam kişisel satış çabasıdır.
D) Reklam bir pazarlama iletişim yöntemidir.
9. Bazı işletmelerin, toptancı yerine acente veya komisyoncu vasıtasıyla perakendecilere, özellikle büyük perakendecilere ulaşmayı tercih etmeleri, hangi dağıtım kanalını kullanacaklarını göstermektedir?
- A) Üretici – Acente – Perakendeci – Tüketici
B) Üretici – Toptancı – Perakendeci – Tüketici
C) Üretici – Acente – Toptancı – Tüketici
D) Üretici – Toptancı – Acente – Tüketici
10. Aşağıdakilerden hangisi perakendeci işletmelerin, üretici ve toptancı işletmelere sağladığı faydalardan biri değildir?
- A) Üreticinin riskini azaltır.
B) Üreticinin mallarını satar.
C) Üreticinin nakliye işlerini üstlenir.
D) Stok kontrolüne yardımcı olur.
11. Üretim sisteminin öğeleri dikkate alındığında, hangi süreçte katma değer üretilir?
- A) İşlem
B) Girdi
C) Çıktı
D) Geri bildirim
12. Aşağıdakilerden hangisi, yerli tüketiminin ülke ekonomisine katkılarında biri değildir?
- A) İstihdam olanağı sağlar.
B) Tüketicilerin alım gücü artar.
C) Enflasyonun artmasına neden olur.
D) Vergi gelirlerinin artmasını sağlar.
13. Üretim için gerekli olan malzemelerin, gerektiği anda ihtiyaç noktasında bulunmasını sağlayan sıfır stok ve sıfır hatayı hedef alan stok kontrol yöntemi aşağıdakilerden hangisidir?
- A) Gözle kontrol yöntemi
B) Sabit sipariş süresi yöntemi
C) Sabit sipariş miktarı yöntemi
D) Stoksuz malzeme yönetim sistemi
14. Aşağıdakilerden hangisi, herhangi bir mamulün kalitesini oluşturan ve mamulün kalitesini doğrudan etkileyen bir faktör olarak düşünülemez?
- A) İşçilik kalitesi
B) İmalat kalitesi
C) Fiyat kalitesi
D) Kullanım kalitesi
15. Yapılan açıklamalardan hangisi, bir işletmede performans değerlendirmenin çalışanlar üzerindeki etkilerinden birine yönelik değildir?
- A) Yöneltilir.
B) Yarıştırır.
C) Motive eder.
D) İşletmeye olan güveni artırır.
16. İyi yapılan bir oryantasyon eğitiminin yeni personel ve işletmeye sağladığı yarar aşağıdakilerden hangisidir?
- A) Beklenen standartlara ulaşılmasını sağlar.
B) İşten ayrılanların sayısını artırır.
C) Başlangıç maliyetlerinin artmasını sağlar.
D) İşin uzun sürede öğrenilmesini sağlar.
17. AR – GE çalışmaları ile ilgili, geliştirmeye yönelik yapılan açıklamalardan hangisi yanlıştır?
- A) Geliştirme, bilinenleri kullanmayı amaçlar.
B) Geliştirme çalışmalarında yeni bir buluş söz konusudur.
C) Geliştirme, uygulamada daha iyi sonuçlar almayı amaçlar.
D) Geliştirme, araştırma ile üretim faaliyetleri arasında köprü görevi görür.
18. Aşağıdakilerden hangisinin yerine getirilmesi, işletmeler için bir zorunluluk değildir?
- A) Çalışanlarına ücret ödemek.
B) Bir yıldan az çalışmalarda kıdem tazminatı ödemek.
C) Çalışanlarına, uygun fiziksel çalışma ortamı sağlamak.
D) İş sağlığı ve güvenliğinin sağlanması için tedbir almak.
19. Aşağıdakilerden hangisi, bir işletme yeri doğru seçilmediğinde ortaya çıkabilecek olumsuzluklardan biri olamaz?
- A) Tarım arazilerinin azalması
B) Doğal kaynakların kirletilmesi
C) Yanlış ve hızlı kentleşmenin ortaya çıkması
D) Üretim sürecinde ortaya çıkan zehirli gazların atmosfere bırakılması

1. OTURUM

20. Bir işletmenin faaliyette bulunduğu ülkedeki yasalara uyması, onun topluma karşı aşağıdaki sorumluluklardan hangisini yerine getirdiğinin bir göstergesidir?

- A) Ekonomik sorumluluğu
- B) Kültürel sorumluluğu
- C) Hukuksal sorumluluğu
- D) Gönüllü sorumluluğu

(479) MANTIK – 2

1. Aşağıdakilerden hangisi modern (sembolik) mantığı, klasik mantıktan ayırt eden bir özellik değildir?

- A) Sembolik bir dil kullanılması
- B) Daha güvenilir denetlemeler yapması
- C) Günlük dili kullandığı için, içeriğin etkisinde olması
- D) Aristoteles mantığının alanını aşmış ve onu genişletmiş olması

2. Aşağıdakilerden hangisi, birden fazla önermeyi birleştiren önerme eklemlerinden biridir?

- A) çok
- B) ki
- C) ve
- D) az

3. Aşağıdaki önermelerden hangisi tümel evetleme (\wedge) eklemiyle oluşturulmuştur?

- A) Çalışkansa başarır.
- B) Tekin yaramaz değildir.
- C) Ahmet avukat veya savcıdır.
- D) Murat ve Mehmet çalışkandır.

4. " $(p \wedge \sim q) \vee (p \Rightarrow q)$ " bileşik önermesinin ana eklemi hangisidir?

- A) \wedge
- B) \vee
- C) \sim
- D) \Rightarrow

5. "Gülşah ancak ve ancak çalışırsa başarır." önermesinin, önermeler mantığında sembolleştirilmiş biçimi aşağıdakilerden hangisidir?

- A) $p \Leftrightarrow q$
- B) $p \vee q$
- C) $p \Rightarrow q$
- D) $p \wedge q$

6. " $\sim p$ " önermesi ana eklemi dikkate alındığında hangisiyle ifade edilir?

- A) Koşul önermesi
- B) Değilleme önermesi
- C) Karşılıklı koşül önermesi
- D) Tümel evetleme önermesi

7. Aşağıdaki işlemlerden hangisi doğru (D) değerini alır?

- A) $\sim D =$
- B) $Y \wedge Y =$
- C) $D \vee Y =$
- D) $Y \Leftrightarrow D =$

8. Bir önermenin doğruluk tablosunda almış olduğu değerlerin tümü doğruysa, bu önerme için aşağıdakilerden hangisi söylenemez?

- A) Önerme totolojidir.
- B) Önerme tutarlıdır.
- C) Önerme geçerlidir.
- D) Önerme tutarsızdır.

9. Çözümleyici çizelge kurallarına göre aşağıdaki önermelerden hangisinin çözümlemesi yanlış verilmiştir?

- A) $1. p \vee q$

$$\begin{array}{c} p \\ \text{---} \\ q \end{array} (1)$$
- B) $1. p \wedge q$

$$\begin{array}{c} p \\ \text{---} \\ q \end{array} (1)$$
- C) $1. \sim p \vee q$

$$\begin{array}{c} \sim p \\ \text{---} \\ q \end{array} (1)$$
- D) $1. p \Rightarrow q$

$$\begin{array}{c} p \\ \text{---} \\ \sim p \end{array} (1) \quad \begin{array}{c} q \\ \text{---} \\ q \end{array}$$

10. "Hakan mühendistir." önermesinin niceleme mantığındaki sembolik ifadesi hangisidir?

- A) Fab
- B) Fa
- C) p
- D) $\sim p$

11. Niceleme mantığının sembolik ifadesiyle verilen aşağıdaki önermelerden hangisi ikili yüklemlidir?

- A) Ga
- B) $\sim Fa$
- C) Gb
- D) Fab

12. Niceleme mantığında " \exists " sembolü hangisiyle adlandırılır?

- A) Tikel niceleyici
- B) Tümel niceleyici
- C) Zorunlu önerme
- D) Mümkün önerme

13. Aşağıdakilerden hangisi açık önermedir?

- A) $Y+4=5$
- B) $5+5=10$
- C) $\sim p$
- D) $p \vee q$

14. Tümel niceleyici değilleme kuralına göre " $\sim \forall x Fx$ " önermesinin dengi olan tikel önerme hangisidir?

- A) $\forall x Fx$
- B) $\forall x \sim Fx$
- C) $\sim \forall x \sim Fx$
- D) $\exists x \sim Fx$

15. " $\forall x (x \text{ madendir.})$ " tümel önermesini gerçekleyen evren aşağıdakilerden hangisidir?

- A) $E = \{ \text{su, taş, toprak} \}$
- B) $E = \{ \text{tahta, gümüş, su} \}$
- C) $E = \{ \text{demir, tahta, hava} \}$
- D) $E = \{ \text{altın, gümüş, krom} \}$

16. "Alp dağları vardır. ($E!a$)" önermesi, hangisine örnek oluşturur?

- A) Açık önermeye
- B) Kiplik mantığına
- C) Varlık mantığına
- D) Bileşik önermeye

1. OTURUM

(484) SAĞLIK BİLGİSİ – 2

17. Aşağıdakilerden hangisi üç değerli mantığın kabul ettiği doğruluk değerlerinden biri değildir?

- A) Özdeş B) Doğru
C) Yanlış D) Belirsiz

18. Zorunlu ve mümkün önermeleri kapsayan mantık hangisidir?

- A) Varlık mantığı
B) Kiplik mantığı
C) Özdeşlik mantığı
D) Üç değerli mantık

19. Bilimsel yöntem hakkında öne sürülen görüşlerden biri olan modern görüş, bilimsel yöntemi aşağıdakilerden hangisine dayandırmıştır?

- A) Anoloji yöntemine
B) Tam tümevarım yöntemine
C) Eksik tümevarım yöntemine
D) Varsayımlı dedüktif yöntemine

20. Aşağıdakilerden hangisi, mantık felsefesinin doğruluk değeri ve varlık kavramlarıyla ilgili sorularındandır?

- A) Mantık ilkelerinin temel kaynağı nedir?
B) Bilgi ile nesnesi arasında tam bir uyum olabilir mi?
C) Mantık bilimin mi yoksa felsefenin mi alt dalıdır?
D) Mantık ilkeleri her yer ve zaman için geçerli midir?

1. Aşağıdakilerden hangisi çekirdek ailede yer alır?

- A) Anneanne
B) Babaanne
C) Evli çocuklar
D) Evlenmemiş çocuklar

2. Ailenin iyi bir temelini olması öncelikle aşağıdakilerden hangisine bağlıdır?

- A) Karı-koca arasındaki sağlıklı ilişkiye
B) Ailedeki çocuk sayısına
C) Karı-kocanın akraba olmamasına
D) Aile bireylerinin iş hayatındaki başarılarına

3. Aşağıdakilerden hangisi aile planlamasının çocuk sağlığı açısından olumlu etkilerinden değildir?

- A) Çocukların hastalıklara yakalanma riskinin azalması
B) Düşük doğum ağırlıklı bebek doğma olasılığının artması
C) Çocukların ruhsal yönden sağlıklı olması
D) Ailede çocuğa yeterli ilgi gösterilmesi

4. Gebelik dönemi ile ilgili olarak aşağıda verilen bilgilerden hangisi doğrudur?

- A) Oluşan zigot, 5-7 gün sonra bölünerek çoğalmaya başlar.
B) İlk üç ayda embriyo gelişimi en yavaş durumdadır.
C) İstenmeyen gebeliklerin yasal olarak 10. haftaya kadar sonlandırılması mümkündür.
D) Düşüğün ortaya çıkma olasılığı son üç ayda en yüksektir.

5. Aşağıdakilerden hangisi doğumda sezaryen yönteminin kullanılmasını gerekli kılan durumlardandır?

- A) İlk doğumlar
B) Erken doğumlar
C) Bebeğin normal pozisyonunda gelişi
D) Bebeğin küçük, annenin doğum kanalının geniş olması

6. Çocuğun büyüme ve gelişmesinin izlenmesi sırasında, özellikle ilk aylarda;

- I- Kalça çıkığı
II- Solunum bozukluğu
III- Fenilketonüri
IV- Hipotiroidizm

hastalıklarından hangilerinin erken tanısı ve tedavisi çok önemlidir?

- A) Yalnız I B) I ve II
C) II, III ve IV D) I, II, III ve IV

7. Aşağıdakilerden hangisi vücuttaki hormonların salgılanışındaki bozukluğa bağlı olarak ortaya çıkan hastalıklardandır?

- A) Guatr B) Hemofili
C) Kas erimesi D) Balık pulluluk

8. Çevresel hastalık sebeplerinden hangisi kimyasal çevre içinde yer alır?

- A) İklim şartları
B) Giyim eşyaları
C) Kanser yapıcı maddeler
D) Bitkisel ve hayvansal ürünler

9. Bulaşıcı bir hastalığın yayılmasında, aşağıdakilerden hangisi şekilde sıralanarak bulaşma zinciri oluşturur?

- I- Bulaşma yolu
II- Konak (sağlam kişi)
III- Enfeksiyon etkeni ve kaynağı

- A) I - II - III B) I - III - II
C) III - I - II D) II - III - I

1. OTURUM

10. Hekimin önerdiği ilacı kullanan bir hastanın, ilaçla ilgili olarak aşağıdakilerden hangisini bilmesi beklenemez?

- A) Hangi miktarda kullanacağını
- B) Ne kadar süreyle kullanacağını
- C) Hangi ortamda muhafaza edeceğini
- D) Başka hastalıklarda kullanıp kullanılmayacağını

11. Hasta bakımında eğer tecrit uygulanıyorsa aşağıdakilerden hangisi yanlış bir davranıştır?

- A) Odaya sadece hasta yakınlarının alınması
- B) Bakım yapan kişinin ellerini sık sık yıkaması
- C) Hasta odasının sık sık havalandırılması
- D) Çarşaf ve kullandığı diğer eşyaların ayrılması

12. • Bu hastalığa virüs, bakteri ya da mantarlar yol açabilir.
• Belirtileri arasında yüksek ateş, göğüs ağrısı, solunum güçlüğü, hırıltılı öksürük yer alır.
• Akciğerlerde hava keseciklerinin iltihaplanmasına yol açar.

Yukarıda özellikleri verilen hastalık hangisidir?

- A) Su çiçeği B) Kızamık
- C) Zatürre D) Difteri

13. Aşağıdakilerden hangisi iç parazitlerin yol açtığı hastalıklardandır?

- A) Uyuz B) Sıtma
- C) AIDS D) Kuduz

14. Aşağıdakilerden hangisi ilkyardımın ABC'si içinde yer almaz?

- A) Sindirimin değerlendirilmesi
- B) Solunumun değerlendirilmesi
- C) Kan dolaşımının değerlendirilmesi
- D) Hava yolu açıklığının değerlendirilmesi

15. Kazalarda ilkyardım uygulamalarının başarılı olabilmesi için on başarı anahtarı bilinmelidir. Aşağıdakilerden hangisi bunlardan biri değildir?

- A) Solunum durmuşsa yapay solunum yapılmalıdır.
- B) Kanama varsa durdurulmalıdır.
- C) Şoka karşı önlem alınmalıdır.
- D) Vücut sıcaklığı sürekli düşürülmelidir.

16. Bayılacağını hisseden kişiye aşağıdaki uygulamalardan hangisi yapılmaz?

- A) Sıkran giysilerinin gevşetilmesi
- B) Sırt üstü yatırılıp, ayaklarının 30 cm kaldırılması
- C) Vücudun battaniyeyle örtülüp çok sıcak tutulması
- D) Kendini iyi hissedinceye kadar dinlenmesinin sağlanması

17. Kalp masajı ve solunumun birlikte yapılması gerektiği durumlarda, iki ilk yardımcı varsa uygulama nasıl olmalıdır?

- A) 1 kalp masajı, 1 yapay solunum
- B) 5 kalp masajı, 1 yapay solunum
- C) 10 kalp masajı, 5 yapay solunum
- D) 30 kalp masajı, 2 yapay solunum

18. Aşağıdakilerden hangisi donma belirtilerindendir?

- A) Öncelikle derinin kızarması
- B) Zarar gören bölgede gevşeme olması
- C) Vücudun su kaybetmesi
- D) Uyuşukluk ve halsizlik

19. Aşağıdaki durumlardan hangisi burkulma, zorlanma, çıkık ve kırıklarda görülen ortak belirtilerindendir?

- A) Ağrı ve şişlik
- B) Kanama ve şok
- C) Kemik bütünlüğünün bozulması
- D) Eklem yüzeylerinin kalıcı olarak ayrılması

20. Bir kaza sırasında baygın ve ağır yaralı hastaların taşınması gerekiyor ve de bir ilk yardımcı bulunuyorsa aşağıdaki taşıma yöntemlerinden hangisi uygun olur?

- A) Sürünme yöntemi
- B) Altın beşik yöntemi
- C) Battaniye ile taşıma yöntemi
- D) İlk yardımcının omzundan destek olma yöntemi

(491) TRAF. ve İLK YARD. – 1

1. Temel trafik bilgilerinin toplumca bilinmesi ve uygulanması konusunda Fatih, Zeynep ve Ali aşağıdaki görüşlere sahiptir.



Bu duruma bağlı olarak aşağıdakilerden hangisi kesinlikle söylenir?

- A) Fatih'in trafik görevlisi olduğu
- B) Zeynep'in trafik bilgisinin yetersiz olduğu
- C) Ali'nin görüşünün konu ile alakasının olmadığı
- D) Fatih, Zeynep ve Ali'nin trafik bilgisinin gerekliliğine inandıkları

2. Trafik için, kamunun yararlanmasına açık olan arazi şeridi, köprüler ve alanlara ne ad verilir?

- A) Kara yolu B) Trafik
- C) Yaya yolu D) Banket

1. OTURUM

3. Sürücünün hangi davranışı yolcularda rahatsızlığa neden olur?

- A) Trafik polisinin verdiği işaretlere uyması
- B) Trafik işaretlerine uymaya özen göstermesi
- C) Sürekli ani fren yaparak durmaya çalışması
- D) Yağışlı havalarda normal hızın altında seyretmesi

4. Kara yolu üzerinde hareket hâlinde olan bir veya birden fazla aracın karıştığı ölüm, yaralanma veya zararlı sonuçlanan olaylara ne ad verilir?

- A) Kayıp
- B) Hasar
- C) Devrilme
- D) Trafik kazası

5. Şekildeki trafik görevlisinin yapmış olduğu işaretin sürücüler için anlamı nedir?



- A) Dur
- B) Yavaşla
- C) Hızlan
- D) Sağa yanaş

6. Işıklı trafik işaret cihazında, yeşil ışıktan sonra sarı ışığın yanması sürücülere aşağıdakilerden hangisini bildirir?

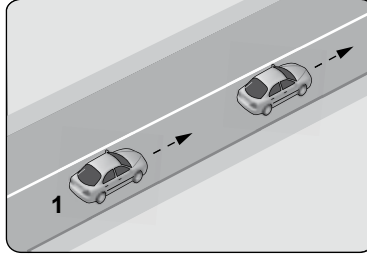
- A) Yolun trafiğe açılmak üzere olduğunu
- B) Yolun trafiğe kapanmak üzere olduğunu
- C) Kavşağa yaklaşırken hızın artırılması gerektiğini
- D) Yaya geçidi işgal edilecek şekilde durulması gerektiğini

7. Şekildeki trafik işaretinin anlamı nedir?



- A) Yol ver
- B) İleri mecburi yön
- C) Girişi olmayan yol
- D) Taşıt trafiğine kapalı yol

8. Şekle göre, 1 numaralı araç sürücüsünün önündeki aracı geçmesi yasaktır.



Bu durumu sürücüye aşağıdakilerden hangisi bildirir?

- A) Devamlı yol çizgisi
- B) Diğer taşıt sürücüsü
- C) Yol kenarındaki banketler
- D) Hız kontrolü yapan uyarı cihazları

9. I- Yerlerinin değiştirilmesi
II- Üzerlerine yazı yazılması
III- Görülmelerinin engellenmesi
IV- Sorumlu kuruluşların eskiyenleri yenileriyle değiştirmesi

Trafik işaret levhalarıyla ilgili olarak, verilenlerden hangileri trafiği tehlikeye düşürür?

- A) Yalnız I
- B) I, II ve III
- C) II, III ve IV
- D) I, II, III ve IV

10. Aşağıdakilerden hangisinin temel işlevi, çarpma anında oluşabilecek etkileri vücudun daha güçlü bölgelerine yönlendirerek ölüm ve yaralanma riskini azaltmaktır?

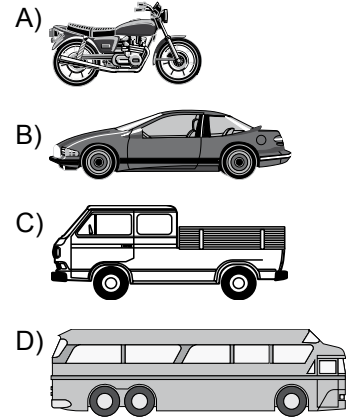
- A) Kriko
- B) Reflektör
- C) Çekme halatı
- D) Emniyet kemeri

11. Trafikte güvenle seyahat etmek yüksek seviyede konsantrasyon gerektirir.

Buna göre, direksiyon başında iken seyir emniyetinin tehlikeye düşmemesi için aşağıdakilerden hangisinin yapılması doğru bir uygulama değildir?

- A) Elde cep telefonu ile konuşulması
- B) Temiz hava için araç camlarının kısa süreliğine açılması
- C) Yol şartlarına göre kontrol edilebilecek hızda araç kullanılması
- D) Trafik yoğunluğu düşük olan alternatif güzergâhların seçilmesi

12. Aksine bir işaret yoksa, hangisinin yerleşim yerleri dışındaki azami hızı diğerlerine göre daha fazladır?



13. Sürücülerin sağa dönüşlerde aşağıdakilerden hangisini yapması yanlıştır?

- A) Hızını azaltması
- B) Dar kavisle dönmesi
- C) Sağa dönüş işareti vermesi
- D) Karşıya geçen yaya varsa geçiş hakkını kendisinin kullanması

14. Kamu hizmeti yapan yolcu taşıtlarının duraklarını belirten levhalara, her iki yönden kaç metre mesafe içinde park edilmesi yasaktır?

- A) 15
- B) 25
- C) 35
- D) 45

1. OTURUM

15. Bir kaç öğrenciyi okula getiren bir otomobil, gidiş yönüne göre yolun sağında duruyor.

Bu durumda öğrenciler, otomobilden inerlerken aracın hangi kapılarını kullanmak zorundadır?

- I- Sağ ön kapı
II- Sol arka kapı
III- Sağ arka kapı

- A) I ve II B) I ve III
C) II ve III D) I, II ve III

16. Geceleyin öndeki araç yakından izlenirken hangi ışıkların yakılması mecburidir?

- A) Dörtlü ikaz lambaları
B) Uzun hüzmeli farlar
C) Kısa hüzmeli farlar
D) Sis ışıkları

17. Yayaların aşağıdakilerden hangisini yapmaları doğrudur?

- A) Otoyola girmeleri
B) Kendi gidiş yönlerine göre yolun sol tarafındaki banketten yürümeleri
C) İlerisi görülmeyen tepe üstü ve dönemeçli yol kesimlerinden karşıya geçmeleri
D) Duran veya park halindeki araçların önünden, arkasından veya arasından karşıya geçmeleri

18. Denetimlerin olmadığı yer ve zamanlarda yapılan kural ihlalleriyle trafik akışı ve güvenliği olumsuz etkilenmektedir.

Bu tür ihlaller tespit edildiği anda, aşağıdaki telefon numaralarından hangisine bildirimde bulunulması bir vatandaşlık görevidir?

- A) 110 B) 112
C) 155 D) 177

19. Aşağıdakilerden hangisinin yapılması, kara yollarında motorlu taşıt kullanabilmek için zorunludur?

- A) Yeni bir iş kurmak
B) Kasko sigortası yaptırmak
C) Motor tamirciliği eğitimi almak
D) Aracın cinsine uygun sürücü belgesi almak

20. Şehirler arası yük veya yolcu nakliyatı yapan otobüs, kamyon ve çekicilerde takograf cihazının kullanılmasındaki başlıca amaç nedir?

- A) Sürücünün araç kullanma, dinlenme süreleri ile araç kullanırken yaptığı hızı tespit etmek
B) Sürücünün kat ettiği kilometreyi ve tükettiği akaryakıtı tespit etmek
C) Sürücünün taşıdığı yük miktarını ve aldığı parayı tespit etmek
D) Sürücünün çalıştığı günleri ve hak ettiği ücreti tespit etmek

(495) GEOMETRİ – 5

1. 15 kenarlı düzgün bir çokgenin bir dış açısının ölçüsü kaç derecedir?

- A) 15 B) 24 C) 143 D) 156

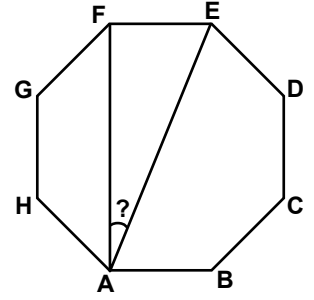
2. Bir köşesinden geçen köşegenlerinin sayısı 9 olan bir çokgenin tüm köşegenlerinin sayısı kaçtır?

- A) 12 B) 36 C) 54 D) 72

3. İç açılarının ölçüleri toplamı 2880° olan düzgün çokgenin bir dış açısının ölçüsü kaç derecedir?

- A) 20 B) 24 C) 30 D) 36

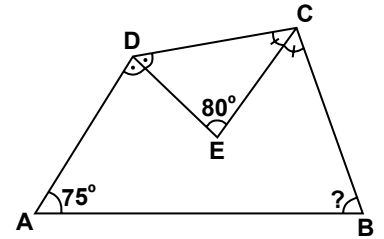
4.



Şekildeki düzgün sekizgende, $m(\widehat{FAE})$ kaç derecedir?

- A) 20 B) 22,5
C) 37,5 D) 45

5.



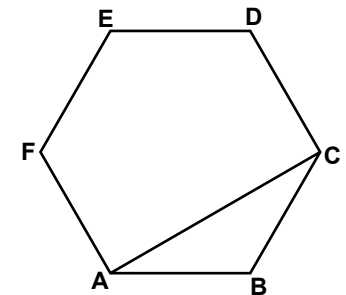
Şekildeki ABCD dörtgeninde $[DE]$ \widehat{ADC} 'nin ve $[CE]$ \widehat{DCB} 'nin açıortayıdır. $m(\widehat{DEC}) = 80^\circ$ ve $m(\widehat{DAB}) = 75^\circ$ olduğuna göre, $m(\widehat{ABC})$ kaç derecedir?

- A) 70 B) 75 C) 80 D) 85

6. Bir yıldızlı beşgenin iç açılarından dördünün ölçüleri 29° , 32° , 37° ve 43° olduğuna göre, beşinci iç açısının ölçüsü kaç derecedir?

- A) 39 B) 49 C) 219 D) 399

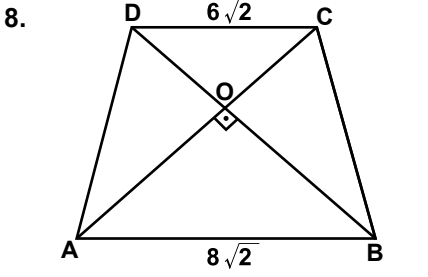
7.



Şekildeki ABCDEF düzgün altıgenin çevresinin uzunluğu 72 cm olduğuna göre, $|AC|$ kaç santimetredir?

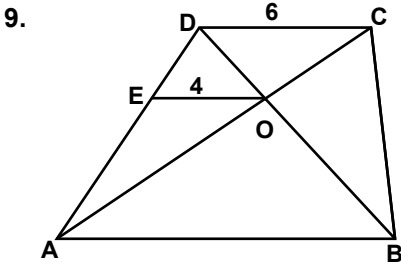
- A) 8 B) $6\sqrt{3}$
C) $12\sqrt{3}$ D) 24

1. OTURUM



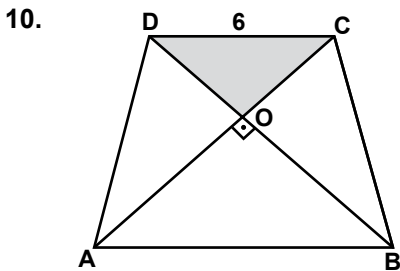
Şekildeki ABCD yamuğunda, $[AB] \parallel [DC]$, $|AD| = |BC|$ ve $[AC] \perp [BD]$ 'tir. $|DC| = 6\sqrt{2}$ cm ve $|AB| = 8\sqrt{2}$ cm olduğuna göre, $|BC|$ kaç santimetredir?

- A) 6 B) $5\sqrt{2}$
C) $7\sqrt{2}$ D) 10



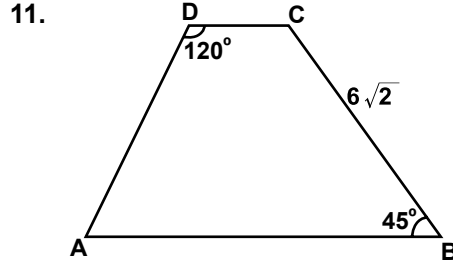
Şekildeki ABCD yamuğunda $[DC] \parallel [EO] \parallel [AB]$ 'dir. $|EO| = 4$ cm ve $|DC| = 6$ cm olduğuna göre, $|AB|$ kaç santimetredir?

- A) 8 B) 9 C) 10 D) 12



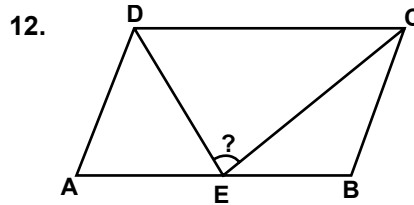
Şekildeki ABCD yamuğunda $[AB] \parallel [DC]$, $|AD| = |BC|$ ve $|DC| = 6$ cm olduğuna göre, $A(\widehat{DOC})$ kaç santimetrekaredir?

- A) 9 B) 10 C) 12 D) 15



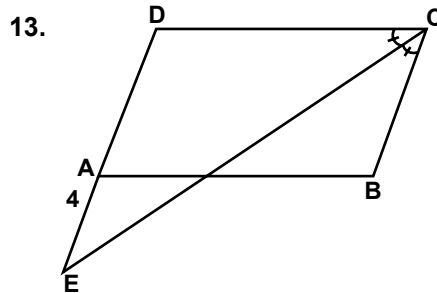
Şekildeki ABCD yamuğunda, $[AB] \parallel [DC]$, $m(\widehat{ADC}) = 120^\circ$, $m(\widehat{ABC}) = 45^\circ$ ve $|BC| = 6\sqrt{2}$ cm olduğuna göre, $|AD|$ kaç santimetredir?

- A) $3\sqrt{2}$ B) $4\sqrt{2}$
C) $4\sqrt{3}$ D) $6\sqrt{3}$



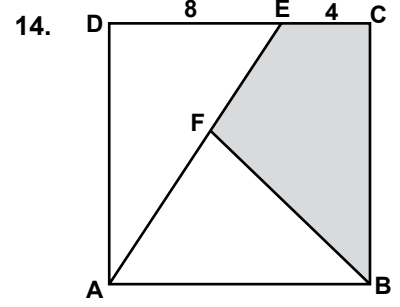
Şekildeki ABCD paralelkenarında, $|AD| = |AE| = |EB|$ olduğuna göre, $m(\widehat{DEC})$ kaç derecedir?

- A) 86 B) 90 C) 92 D) 96



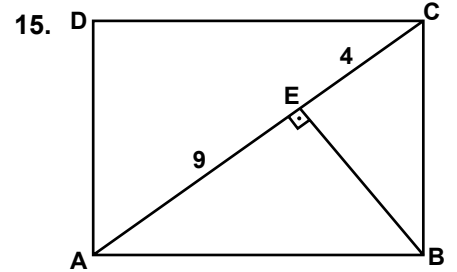
Şekildeki ABCD paralelkenarında D, A, E doğrusal ve $[EC] \parallel \widehat{BCD}$ 'nin açıortayıdır. $|AE| = 4$ cm ve ABCD paralelkenarının çevresinin uzunluğu 40 cm olduğuna göre, $|AD|$ kaç santimetredir?

- A) 6 B) 7 C) 8 D) 9



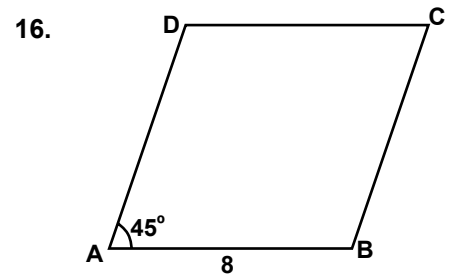
Şekildeki ABCD karesinde, $|AF| = 2|FE|$, $|DE| = 8$ cm ve $|EC| = 4$ cm olduğuna göre, $A(BCFE)$ kaç santimetrekaredir?

- A) 48 B) 60 C) 72 D) 80



Şekildeki ABCD dikdörtgeninde, $[BE] \perp [AC]$ 'tir. $|AE| = 9$ cm ve $|EC| = 4$ cm olduğuna göre, $A(ABCD)$ kaç santimetrekaredir?

- A) 48 B) 66 C) 74 D) 78



Şekildeki ABCD eşkenardörtgeninde, $m(\widehat{DAB}) = 45^\circ$ ve $|AB| = 8$ cm olduğuna göre, $A(ABCD)$ kaç santimetrekaredir?

- A) 28 B) $32\sqrt{2}$
C) $48\sqrt{3}$ D) 64

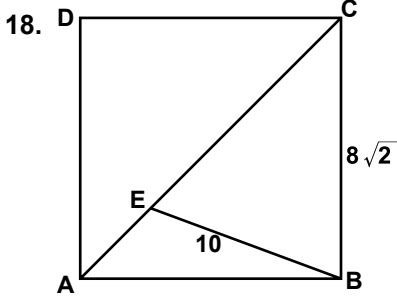
1. OTURUM

(502) İNGİLİZCE – 8

1 - 18. sorularda boş bırakılan yere uygun gelen kelime ya da ifadeyi işaretleyiniz.

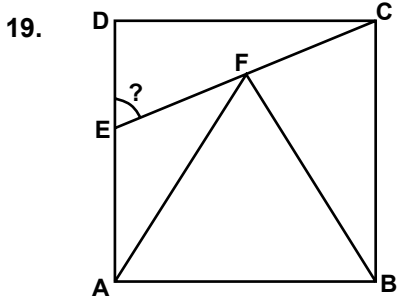
17. Köşegenlerinin uzunlukları 16 cm ve 30 cm olan eşkenar-dörtgenin bir kenarının uzunluğu kaç santimetredir?

A) 13 B) 15 C) 17 D) 21



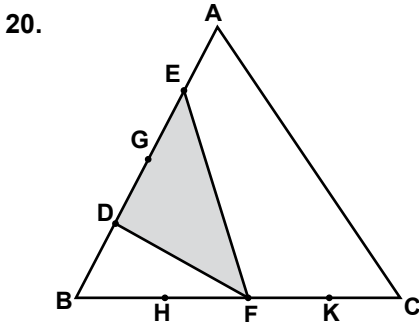
Şekildeki ABCD karesinde, $[AC]$ köşegendir. $|BE| = 10$ cm ve $|BC| = 8\sqrt{2}$ cm olduğuna göre, $|EC|$ kaç santimetredir?

A) 8 B) 10 C) 12 D) 14



Şekilde ABCD bir kare ve ABF eşkenar üçgen olduğuna göre, $m(\widehat{DEC})$ kaç derecedir?

A) 80 B) 75 C) 60 D) 45



Şekildeki ABC üçgeninde, $[AB]$ ve $[BC]$ dörder eş parçaya ayrılmıştır. $A(\widehat{DEF}) = 9 \text{ cm}^2$ olduğuna göre, $A(\widehat{ABC})$ kaç santimetrekaredir?

A) 36 B) 40 C) 48 D) 60

9. The car by the mechanic now.

A) was repaired
B) to be repaired
C) is being repaired
D) has been repaired

10. He will have his suitcase by tomorrow.

A) pack B) packed
C) packing D) to pack

11. We to the disco on Saturday.

A) go B) going
C) goes D) will be going

12. My brother in the school band if he the drum every day.

A) could play / practiced
B) had played / practices
C) plays / will practice
D) played / practiced

13. If the cat in the tree, the dog it.

A) hides / won't find
B) hides / would find
C) hides / found
D) hiding / finds

14. If they carefully, they the woodpecker.

A) listened / will hear
B) listen / could hear
C) listened / might hear
D) listen / would hear

15. It probably when I reach New York.

A) will / be raining
B) was / raining
C) is / raining
D) be / raining

1. The thief was caught the police.

A) at B) up C) in D) by

2. Take your umbrella you won't get wet in the rain.

A) until B) because
C) so that D) as soon as

3. that I live on my own, I have to cook my own food.

A) Because B) Due to the fact
C) Since D) For

4. I found my umbrella I had left it.

A) where B) why
C) so D) to

5. You should run as fast you can.

A) of B) as C) on D) if

6. I'll be studying

A) last month
B) two days ago
C) previous night
D) in a few minutes

7. All of the food in the kitchen has been There is no left.

A) spoken B) eaten
C) broken D) seen

8. I would read the newspaper if you one.

A) hidden B) watched
C) bought D) caught

1. OTURUM

(502) ALMANCA – 8

1 - 18. sorularda boş bırakılan yere uygun gelen ek, kelime ya da ifadeyi işaretleyiniz.

1.



Heike

**Klaus sagt Heike ist dünn.
Monika sagt Heike ist dick.**

A:

B: Klaus.

- A) Wer hat Recht?
- B) Was meinst du?
- C) Woher kommst du?
- D) Wo bist du?

2. Sie schreibt in ihrer E-Mail, sie Vokabel lernen muss.

- A) was B) wenn
- C) die D) dass

3. ich im Urlaub wäre, würde ich glücklich sein.

- A) Dann / wenn
- B) Wenn / dann
- C) Wenn / dass
- D) Dann / dass

4. Nach dem Abitur werde ich an einer Universität

- A) erlernen B) sammeln
- C) haben D) studieren

5. Die Frau, aus Hannover kommt, heisst Henrike.

- A) die B) der
- C) das D) den

6. Das Buch, Lisa mir empfohlen hat, war sehr spannend.

- A) die B) der C) das D) den

7. A: Was denkst du, Helga und Marion Tennisschläger kaufen?

B: Tennis zu spielen.

- A) was / um B) wie / um
- C) warum / um D) wo / um

8. Die Schüler eine Klassenfahrt machen.

- A) werden B) wird
- C) wurde D) wirst

9. Ihr von mir nächste Woche kein Taschengeld bekommen.

- A) wirst B) werdet
- C) wurde D) werden

10. Ich muss zum Flughafen. Können Sie mir ein Taxi?

- A) laufen B) rennen
- C) arbeiten D) bestellen

11. Er später einkaufen gehen.

- A) wollt B) willst
- C) will D) wollen

12. Jeder Mensch..... die Lebensweise anderer Menschen respektieren.

- A) soll B) sollen
- C) sollt D) sollst

**13. A: der Ort Kızılcahamam?
B: Rund 70 Kilometer nordwestlich der Stadt Ankara.**

- A) Was gibt es B) Wo liegt
- C) Wie lange D) Wie viel

16. My mother cleaning the house by 6 o'clock.

- A) is finishing
- B) was finishing
- C) will be finishing
- D) will have finished

17. Sinan could have worked as a policeman if

- A) she could visit us.
- B) he had been taller.
- C) you will study Maths.
- D) they are coming tonight.

18. If the teacher had explained the homework better,

- A) she would work late.
- B) they will help me do it.
- C) you can finish your project.
- D) I could have solved it easily.

**19. Aşağıda verilen cümlelerin "passive" (edilgen) halini işaretleyiniz.
"I will mail the letter tomorrow."**

- A) I will write a letter tomorrow.
- B) The postman will mail the letters.
- C) Letters are mailed by the secretary.
- D) The letters will be mailed tomorrow.

**20. Aşağıda verilen cümlelerin "active" (etken) halini işaretleyiniz.
"The house is being painted now."**

- A) I will paint my new house soon.
- B) This house needs to be painted.
- C) They are painting the house now.
- D) The painters will come to the house.

1. OTURUM

14. Können Sie mir bitte sagen, wo hier Bustickets kaufen kann?

- A) zum B) man
C) von D) um

15. Meine Oma die Musik von Tarkan.

- A) mag B) soll
C) darf D) mögen

16. Ich trage ein Artikel in der Konferenz

- A) nach B) ab
C) vor D) bis


17. Die Freunde haben beim Umzug geholfen.

- A) Sie B) sie C) es D) mir

18. Die klein - ... Katze liegt auf dem weich - ... Kissen.

- A) -en / -e B) -e / -en
C) -er / -e D) -er / -en

19.



Was ist sie von Beruf?

- A) Architektin B) Arzthin
C) Lehrerin D) Manager

20. Aşağıdakilerden hangisi sıfattır (Adjektiv)?

- A) entwickeln B) aussprechen
C) verstehen D) langweilig

(502) FRANSIZCA – 8

1 - 20. sorularda boş bırakılan yere uygun gelen kelime ya da ifadeyi işaretleyiniz.

1. Ma mère nous a souhaité de pour notre voyage.

- A) bonne nuit
B) bonne journée
C) bonnes vacances
D) bon appétit

2. Özkan mange quelque chose restaurant.

- A) au B) à la
C) aux D) ou

3. Tu cesser de manger le chocolat.

- A) devrait B) devrais
C) devrions D) devraient

4. Sa mère est en colère à de ses notes.

- A) même B) avec
C) cause D) sous

5. Nicole veut apprendre à nager elle n'a pas de courage.

- A) mais B) sur
C) pendant D) plus

6. Je ne peux pas finir ce livre depuis un mois je dois lire cent pages par jour.

- A) pour B) par
C) depuis D) donc

7. Je te promets, on va ensemble pour préparer aux concours.

- A) travaille B) travailler
C) travailles D) travaillez

8. S'il plus de la guitare, il peut réussir dans son show.

- A) a joué B) jouais
C) joue D) jouer

9. Vous avez l'intention acheter une nouvelle voiture ?

- A) des B) du
C) de l' D) d'

10. Le professeur donne des cours d'anglais est français.

- A) qui B) que
C) où D) quel

11. Cécile et son frère vont acheter un cadeau pour leur mère

- A) la semaine dernière
B) hier
C) avant-hier
D) aujourd'hui

12. Mon frère la musique classique à la musique rock.

- A) parle B) mange
C) viens D) préfère

13. Céline est toujours au cours.

- A) créatif B) créative
C) créatifs D) créatives

14. Le cousin est de l'oncle ou de la tante.

- A) la fille B) le fils
C) le frère D) la sœur

15. Un pull coûte plus qu'une casquette.

- A) grande B) rapide
C) cher D) forte

1. OTURUM

16. La musique d'un slow est lent que celle du rock.

- A) plus B) autant
C) moins D) aussi

17. Je te conseille ce livre je viens de lire.

- A) quoi B) qui
C) que D) donc

18. A : Tu veux un thé ou un café ?
B : Non, je n'ai pas assez de temps.

- A) comme si c'était
B) tant mieux que
C) tu sais que
D) ils pensent que

19. A : Ton père mange une pizza ?
B : Oui, il mange.

- A) les B) au C) le D) la

20. A : Allez-vous au cours de français?
B : Oui, j'..... vais deux jours par semaine.

- A) aux B) y
C) ai D) ou

(511) FIKIH – 1

1. "İnsanın Rabbine, kendisine ve diğer insanlara karşı sorumluluğunu bilmesidir."

Yukarıdaki ifade fıkıhın hangi yönünü açıklamaktadır?

- A) Konularını B) Usulünü
C) Amacını D) Kapsamını

2. Şerî bir problemin çözümünü noktasında, hangi kaynaklara başvurulacağını ve hangi temel ilkeler çerçevesinde çözüleceğini konu edinen ilim dalı aşağıdakilerden hangisidir?

- A) Kelam
B) Fıkıh usulü
C) Tefsir usulü
D) Hadis Usulü

3. Aşağıdakilerden hangisi hüküm bildirir?

- A) "Sahur yemeği yiyin, sahur yemeğinde bereket vardır." (Hadis-i Şerif)
B) "Peygamberin tavsiyesine uymak kişiye sevap kazandırır."
C) Bu hadis "Buhari Savm, 20"den alınmıştır.
D) Sahur yemeği yemek sünnettir.

4. Fıkıh ilminin en az ilişkili olduğu bilim dalı aşağıdakilerden hangisidir?

- A) Dinler tarihi B) Tefsir
C) Hadis D) Siyer

5. Oruç ibadetinin başlangıç ve bitiş zamanını belirlemek isteyen bir fakihin hangi ilimlerden öncelikle yararlanması gerekir?

- A) Coğrafya-Tefsir
B) Sosyoloji-Mantık
C) Astronomi-Kimya
D) Astronomi-Coğrafya

6. I- Hicri 150-204 yılları arasında yaşamıştır.
II- Ahmed b. Hanbel talebelerinden biridir.
III- Irak'taki görüşlerini Mısır'a geldikten sonra değiştirmiştir.

Yukarıda özellikleri verilen mezhep imamı kimdir?

- A) İmam Şafi
B) İmam Malik
C) İmam Yusuf
D) İmam Buhari

7. Aşağıdaki alimlerden hangileri Hanbeli mezhebinin benimsenmişlerdir?

- A) İmam Cafer - İmam Zeyd
B) İbn-i Teymiyye - İbn Kayyim
C) İmam Muhammed - İmam Yusuf
D) Hasan el-Basri - Süfyan-ı Sevrî

8. • Ehli beyt yoluyla rivayet edilen hadislerle öncelik verilir.
• Abdestde ayaklar mesh edilir.
• Ehli kitap kadınlarıyla evlenilmez.

Yukarıda özellikleri verilen fıkıh mezhebi hangisidir?

- A) Şafii mezhebi
B) Maliki mezhebi
C) Caferi mezhebi
D) Hanbeli mezhebi

9. İnsanların mezheplere bağlandığı ve ichtihadın terkedildiği dönem aşağıdakilerden hangisidir?

- A) Taklid dönemi
B) Tabiun dönemi
C) İchtihad dönemi
D) Mezheplerin oluşum dönemi

10. Mecelle için aşağıdakilerden hangisi söylenemez?

- A) Heyet başkanlığını "Ahmet Cevdet Paşa" yapmıştır.
B) Osmanlı'nın kuruluş döneminde yazılmıştır.
C) Başlangıçta Hanefi mezhebinin görüşleri esas alınmıştır.
D) 1926 yılında yürürlükten kaldırılmıştır.

11. Aşağıdaki durumların hangisinde mükellefiyet ortadan kalkmaz?

- A) Çocukluk B) Akıl hastalığı
C) Bayılma D) Cehalet

12. Aşağıdaki ibadetlerden hangisi Hanefi mezhebine göre vaciptir?

- A) Sadaka vermek
B) Kurban kesmek
C) Cenaze namazı kılmak
D) Ramazan ayı dışında oruç tutmak

13. Şarabın "haram" kılınmasından yola çıkarak tüm alkollü içeceklerde haram kabul edilmiştir.

Bu fıkıh hükümü aşağıdakilerden hangisine örnek oluşturur?

- A) İcma B) Kitap
C) Kıyas D) Sünnet

1. OTURUM

14. “Fıkhi kaynaklarda bu konuyla ilgili herhangi bir yasak görüyor muyum” diyen kişi hangi kuralı dile getirmektedir?

- A) Eşyada asıl olan ibahadır.
- B) Şek ile yakın zail olmaz.
- C) Beraatı zimmet asıldır.
- D) Örf anlaşmazlıklarda hakemdir.

15. Aşağıdakilerden hangisi icmanın gerçekleşmesinin şartlarından değildir?

- A) İcmanın şeri bir konuda olması
- B) Görüş beyan edecek âlimin Müçtehit olması
- C) Müçtehitlerin yarısından fazlasının fikir birliğine varması
- D) İcmanın Hz. Peygamberin vefatından sonra gerçekleşmesi

16. Aşağıdakilerin hangisi İmam-ı Azam Ebu Hanife'nin öğrencisi değildir?

- A) İmam Züfer
- B) İmam Yusuf
- C) İmam Muhammed
- D) Hammad b. Süleyman

17. Aşağıdakilerden hangisi içtihat yapmayı gerektiren sebepler arasında yer almaz?

- A) Sosyal değişimin içtihadı kaçınılmaz kılışı
- B) Bilimsel ve teknolojik gelişmelerin ortaya koyduğu değişimler
- C) Siyasi ve toplumsal değişimlerin getirdiği yenilikler
- D) Kur'an ve sünnetle insanların problemlerinin tamamen çözülmüş olması

18. Aşağıdakilerden hangisi “sahabe” içtihadına örnektir?

- A) Bedir esirleri hakkında verilen karar.
- B) Teravih namazının cemaatle kılınması
- C) Namaza davet için ezan okunması
- D) Müllefe-i kuluba zekat verilmesi

19. Aşağıdakilerden hangisi sahabe dönemi müçtehitleri arasında yer almaz?

- A) Abdullah b. Mesut
- B) Ata bin Ebi Rebah
- C) Abdullah b. Ömer
- D) Zeyd b. Sabit

20. Aşağıdakilerden hangisi müçtehitte bulunması gereken özellikler arasında yer almaz?

- A) Kuran-ı ezbere bilmesi
- B) Arapçaya hakim olması
- C) Fıkıh usulüne vakıf olması
- D) İçinde yaşadığı toplumun şartlarını ve ihtiyaçlarını bilmesi

(525) SEÇ. Y. DİL İNG. – 5

1 - 20. sorularda boş bırakılan yere uygun gelen kelime ya da ifadeyi işaretleyiniz.

1. He will be an engineer

- A) since July
- B) for two weeks
- C) in the future
- D) last year

2. I have been in Ankara five days.

- A) at
- B) for
- C) in
- D) of

3. Tom hasn't eaten anything morning.

- A) since
- B) from
- C) than
- D) after

4. I was eating a hamburger at the canteen Betty came.

- A) before
- B) when
- C) while
- D) then

5. Lucy drives carefully than Angela.

- A) much
- B) many
- C) more
- D) most

6. Today I woke up earlier usual.

- A) than
- B) from
- C) after
- D) then

7. I feel than yesterday. I need to see a doctor.

- A) little
- B) less
- C) bad
- D) worse

8. Metin is 16 years old. Sevgi is 10 years old. Metin is than Sevgi.

- A) older
- B) shorter
- C) fatter
- D) younger

9. Mount Ağı is than Mount Erciyes.

- A) faster
- B) cheaper
- C) higher
- D) easier

10. You should drive more You will have an accident.

- A) comfortably
- B) slowly
- C) fluently
- D) happily

11. He hasn't played badminton before,?

- A) are you
- B) does she
- C) will they
- D) has he

12. Be quite,?

- A) do you
- B) are you
- C) will you
- D) have you

13. Ali is studying in the library now,?

- A) is he
- B) isn't he
- C) was he
- D) wasn't he

14. Tomorrow a hard day for you.

- A) will be
- B) has been
- C) are
- D) was

1. OTURUM

15. My car has

- A) break down
- B) breaking down
- C) broke down
- D) broken down

16. Ali rates.

- A) was hating
- B) to hate
- C) hated
- D) hate

17. My grandmother two years ago.

- A) died
- B) was dying
- C) dies
- D) to die

18. She the dishes in the kitchen a few minutes ago.

- A) slept
- B) watched
- C) drank
- D) washed

19. She have long hair but she had it all cut off.

- A) used to
- B) have to
- C) might
- D) should


20. The bell rang while

- A) they visit us.
- B) we were sleeping.
- C) you will work harder.
- D) she cleaned the room.

(525) SEÇ. Y. DİL ALM. – 5

1 - 17. sorularda boş bırakılan yere uygun gelen kelime ya da ifadeyi işaretleyiniz.

1. Frau Müller ist
Frau Horst ist
Frau Lucius ist



- A) kurz, kürzer, am kürzesten
- B) schnell, schneller, am schnellsten
- C) dünn, dünner, am dünnsten
- D) alt, älter, am ältesten

2. Meine Noten sind jetzt besser ZUVOR.

- A) als
- B) wenn
- C) dass
- D) weil

3. A: hat dir der Film nicht gefallen?

B: er langweilig war.

- A) Wie / Um...zu
- B) Wozu / Weil
- C) Warum / Weil
- D) Warum / Um...zu

4. A: rennst du?

B: nicht spät zu kommen.

- A) Wozu / Weil
- B) Wie / Um
- C) Wozu / Um
- D) Warum / Weil

5. In Ankara ist das Wetter



- A) sonnig
- B) regnerisch
- C) bewölkt
- D) windig

6. Gestern hat es morgen abend geregnet.

- A) von / bis
- B) um / zu
- C) nach / von
- D) um / um

7. A: Guten Morgen, Frau Müller!
B: Hallo!

A: Das meine Kinder Marco und Florian.

B: Angenehm.

- A) ist
- B) sind
- C) seid
- D) bin

8. Um gesund zu sein man manchmal Sport treiben.

- A) sollte
- B) sollen
- C) können
- D) konnten

9. Vier Jahre lang habe ich die Realschule

- A) gegangen
- B) besucht
- C) geboren
- D) wohnen

10. Mittag habe ich Pause.

- A) Von
- B) Im
- C) Um
- D) Am

11. A: Wie lange hast du gearbeitet?

B: 2 Stunden.

- A) Bis
- B) Um
- C) Nur
- D) Dauernd

1. OTURUM

12. A: besuchst du deine Eltern?
B: Selten.

- A) Wie lange B) Wann
C) Wie oft D) Wo

13. 13.00 Uhr wird meine Schwester operiert.

- A) Um B) Am C) Im D) Von

14. (September, Oktober, November) Welche Jahreszeit ist das?

- A) der Winter B) der Herbst
C) der Sommer D) der Frühling

15. der Abend,, die Mitternacht

- A) der Nachmittag
B) der Vormittag
C) der Mittag
D) die Nacht

16. Oktober,, Dezember

- A) September B) November
C) August D) Januar

17. A: kommst du nach Deutschland?

B: Ich weiss nicht, vielleicht nächste Woche.

- A) Wann B) Wie lange
C) Wo D) Woher

18. Aşağıdakilerden hangisinde yanlış derecelendirme yapılmıştır?

- A) der dunkelste Zimmer
B) der teuerste Pullover
C) die schönste Frau
D) ein moderneres Stadt

19. Wie spät ist es?



- A) Dreiviertel nach sieben.
B) Viertel vor acht.
C) Viertel nach neun.
D) Dreiviertel nach neun.

20. Was ist er von Beruf?



- A) Ingenieur
B) Verkehrspolizist
C) Gesetzgeber
D) Verkehrspolizistin

(525) SEÇ. Y. DİL FRAN. – 5

1 - 16. sorularda boş bırakılan yere uygun gelen kelime ya da ifadeyi işaretleyiniz.

1. se sont promenées au bord du lac.

- A) Elles B) Elle
C) Ils D) Vous

2. Voulez-vous boire café au lait ?

- A) des B) de C) du D) de la

3. Mon père lit son journal buvant du thé.

- A) en B) ou C) car D) par

4. Elle est allée pour regarder un film d'amour.

- A) à la boucherie
B) à la boulangerie
C) au stade
D) au cinéma

5. Voilà l'épicerie je fais toutes mes courses.

- A) qui B) quel
C) où D) dont

6. Nous allons finir ce projet deux ans.

- A) dans B) avec
C) donc D) puis

7. As-tu aimé la voiture ton père t'a achetée.

- A) qui B) que
C) quoi D) dont

8. Marie et Meryem vont la discothèque.

- A) au B) aux C) à D) en

9. C'est une personne on parle beaucoup.

- A) dont B) qui
C) quel D) sans

10. je lui ai dit quelque chose, elle dormait.

- A) Depuis B) Quand
C) Parce que D) Pourquoi

11. J'ai acheté les chaussures j'avais envie.

- A) quel B) que
C) ce que D) dont

1. OTURUM

12. Cette jeune fille paraissait de son voyage.

- A) enchanté B) enchantées
C) enchantée D) enchantés

13. Je serai Amérique printemps.

- A) en / au B) au / en
C) au / au D) en / en

14. Ma mère faire ses courses pour le dîner.

- A) vais B) aller
C) vas D) va

15. Marie et, nous allons au musée du Louvre, vous venez avec nous?

- A) moi B) vous
C) toi D) lui

16. A: Quand est-ce que vous partez en vacances?
B:

- A) En famille
B) En été
C) À la montagne
D) Avec nos amis

17 - 18. sorularda verilen Fransızca cümlelerin Türkçe dengini işaretleyiniz.

17. Prends les livres dont tu as besoin.

- A) Bu kitaplara ihtiyaç duyacaksın.
B) İhtiyacın olan kitapları al.
C) Bu kitaplar sana çok lazım.
D) Bu kitaplara ihtiyacım var.

18. La réponse que tu as donnée était fausse.

- A) Verdiğim cevap doğru mu?
B) Yanlış cevap vermeyiniz.
C) Soruya yanlış cevap verdin.
D) Verdiğin cevap yanlıştı.

19 - 20. sorularda verilen Türkçe cümlelerin Fransızca dengini işaretleyiniz.

19. Eve vardığımızda hırsızı fark ettik.

- A) On a vu le voleur quand on est arrivé à la maison.
B) Nous ne savons pas comment le voleur est entré à la maison.
C) En arrivant à la maison, nous avons remarqué le voleur.
D) Quand on a remarqué le voleur, il ne s'était pas échappé.

20. Hasta olan çocuğu doktor muayene etti.

- A) Mon enfant est malade et le médecin l'a contrôlé.
B) Le médecin a examiné l'enfant qui est malade.
C) Le médecin qui est malade a examiné l'enfant.
D) L'enfant dont le père est malade a été examiné.

(528) SEÇ. Y. DİL İNG. – 8

1 - 20. sorularda boş bırakılan yere uygun gelen kelime ya da ifadeyi işaretleyiniz.

1. you heat iron, it expands.

- A) By B) Of C) Up D) If

2. The film was too boring some people left the cinema before it finished.

- A) at B) so C) as D) to

3. I came home, it was almost midnight.

- A) By the time B) As long as
C) As soon as D) Until

4. I work hard I want to earn more money.

- A) while B) wherever
C) before D) because

5. They will have visited New York by the end of

- A) next year
B) last week
C) a month ago
D) previous night

6. Water if the temperature falls below zero.

- A) rains B) waits
C) freezes D) works

7. I would go shopping with you if I better.

- A) touched B) felt
C) spoke D) thought

8. French and English are in Canada.

- A) spoken B) told
C) said D) talked

9. The window was by the cleaner.

- A) hidden B) beaten
C) broken D) eaten

10. This time tomorrow she to London.

- A) will be travelling
B) has travelled
C) is travelling
D) travels

11. The door of the mall at 10 o'clock every morning.

- A) has opened
B) is opened
C) had opened
D) have opened

1. OTURUM

12. If lived in a village, I cows.

- A) have raised B) had raised
C) will raise D) would raise

13. They married for ten years by 2019.

- A) are B) will have been
C) have been D) were

14. I an English test tomorrow at 10 o'clock.

- A) solve
B) was solving
C) will be solving
D) have solved

15. If I had more money, I a bigger house.

- A) had bought B) will buy
C) would buy D) have bought

16. if you are in need.

- A) I'll help you
B) We aren't late
C) He didn't travel
D) You won't get fat

17. By the time I get there

- A) they will have finished the dinner.
B) he moved to Van two years ago.
C) the police arrested the burglar.
D) she was washing the dishes.

18. What will you be doing when?

- A) he washed his car
B) she's reading a book
C) they will travel there
D) you finish cleaning the house

19. You wouldn't suffer so much if

- A) I lend you some money.
B) they have bought a car.
C) you went to a doctor.
D) we'll play tennis.

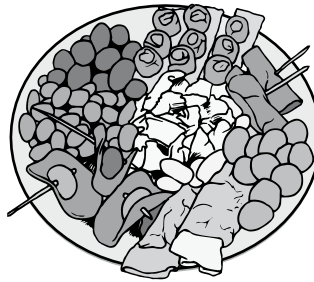
20. We would have played in the park if

- A) it had rained all weekend.
B) the weather had been nice.
C) she didn't fall down the stairs.
D) we hadn't seen the film before.

(528) SEÇ. Y. DİL ALM. – 8

1 - 14. sorularda boş bırakılan yere uygun gelen ek, kelime ya da ifadeyi işaretleyiniz.

1.



A: Ist der Teller voll oder nicht?

B: Der Teller voll ist.

- A) Was meinst du?
B) Woher kommst du?
C) Wie alt bist du?
D) Wie meinst du?

2. A: Was meinst du, ist Jürgen früh ins Bett gegangen?

B: um sich zu entspannen.

- A) was / Ich meine
B) wie / Ich denke
C) warum / Ich meine
D) wo / Ich meine

3. A: Was ist los Herr Maier!
B: Wir nicht ins Haus rein. Die Tür ist zu!

- A) sollen B) können
C) kann D) will

4. Ich finde super, du die Prüfung bestanden hast.

- A) was B) wenn
C) die D) dass

5. Wenn Sie Zeit hätte, Sie euch gerne besuchen.

- A) dann B) würde
C) dass D) wenn

6. Nach der Schule möchte ich einen Beruf

- A) erlernen B) arbeiten
C) gehen D) studieren

7. Die Fotos, ich in Hamburg gemacht habe, sind sehr gut.

- A) das B) der C) die D) den

8. Der Mann, dort steht, ist nicht von hier.

- A) die B) der C) das D) den

9. Er vermutet, das Fußballspiel Jürgen Spaß macht.

- A) denn B) weil
C) wenn D) dass

10. Von Atakule aus hat einen schönen Ausblick.

- A) man B) bis
C) zum D) nach

1. OTURUM

11. Die Kinder ein Gedicht in der Klasse ...-getragen.

- A) hast / vor- B) haben / nach-
C) hat / vor- D) haben / vor-

12. Ich spare Geld, ich ein Auto kaufen möchte.

- A) dass B) denn
C) weil D) als

13. helfen,, hat geholfen (Präteritum)

- A) half B) halfte
C) halfe D) halfte


14. Frau Müller kann ich mit zum Einkaufen fahren.

- A) er B) du
C) euch D) wir

15. Aşağıdakilerden hangisi sıfattır? (Adjektiv)

- A) aufregend B) entwickeln
C) verfolgen D) bewerten

16. Was machen Sie ?




- A) Hochradrennen
B) Autorennen
C) Motorradrennen
D) Fahrradrennen

17. Aşağıdakilerden hangisi ayrılabilen fiil değildir? (trennbares Verb)

- A) nachschlagen
B) zubereiten
C) aufstehen
D) gelaufen

18. Was ist das?

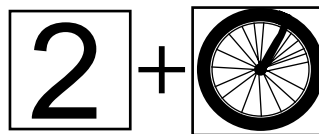


- A) Ein Wegweiser
B) Ein Ortsschild
C) Ein Landkarte
D) Ein Musikinstrument.

19. Was macht ein Lehrer?

- A) Filme leiten.
B) Touristen führen.
C) Lehren.
D) Kranke Menschen helfen.

20. Bu iki resimden oluşan bileşik sözcük hangisidir (Komposita)?



- A) das Laufrad
B) das Zweirad
C) das Hinterrad
D) das Fahrrad

(528) SEÇ. Y. DİL FRAN. – 8

1-20. sorularda boş bırakılan yere uygun gelen kelime ya da ifadeyi işaretleyiniz.

1. Je ne connais pas cette fille qui dans ce restaurant.

- A) travaillons B) travaillez
C) travaille D) travailles

2. On inviter notre voisine à l'anniversaire de ma mère.

- A) voudrait B) voudriez
C) voudrais D) voudrions

3. La poste est à côté la mairie.

- A) du B) des
C) aux D) de

4. Si vous chez nous, vous allez voir notre nouvelle voiture.

- A) êtes venu B) venez
C) veniez D) étiez venu

5. Voyez-vous les enfants jouent au tennis dans le jardin?

- A) qui B) quel C) où D) que

6. au bureau jusqu'à six heures!

- A) Restent B) Rester
C) Restez D) Restant

7. chemise choisissez-vous?

- A) Quelle B) Quels
C) Quel D) Quelles

8. Demain matin on très tôt pour aller au Mexique.

- A) partez B) part
C) parti D) pars

9. Alper, tu as l'air

- A) énervé B) énervée
C) énervées D) énervés

10. Il dit qu'..... organise une fête jeudi soir.

- A) elles B) il
C) tu D) nous

11. Ça combien ce livre?

- A) faire B) fais
C) font D) fait

1. OTURUM

12. Pour une fenêtre ouverte, il faut cliquer sur ce signe.

- A) ferme B) fermer
C) fermes D) fermons

13. Le parfum cette fille porte sent vraiment bon.

- A) quoi B) qui C) que D) où

14. Les invités nous ont prévenus qu'ils ne pas de la viande.

- A) mangerons B) mangerai
C) mangeront D) mangerez

15. Ma mère a préparé des épinards pour le dîner

- A) hier
B) demain
C) demain matin
D) le mois prochain

16. Il me manque des œufs, tu peux acheter trois?

- A) y B) le C) en D) la

17. Je sais que mon père a faim il doit manger quelque chose.

- A) par B) dans
C) donc D) pas

18. A: Vous prenez la deuxième rue à droite.
B:

- A) Lequel B) Lesquels
C) Lesquelles D) Laquelle

19. A: Fatih mange un kilo de chocolats par jour.
B: C'est

- A) très peu B) beaucoup trop
C) assez D) peu

20. A: Tu travailles dans ta chambre?
B: Oui, je (j') travaille.

- A) en B) des C) les D) y

(532) HZ. MUHAMMED'İN HAY. – 2

1. “*Ergenlik çağına erişinceye kadar malına onun iyiliği için olmadıkça dokunmayın.*”
(En'am suresi, 152. ayet)

Ayette boş bırakılan yere aşağıdakilerden hangisi gelmelidir?

- A) Fakirlerin B) Yetimlerin
C) Engellilerin D) Kölelerin

2. “*Ey insanlar! Şüphe yok ki, biz sizi bir erkek ve bir dişiden yarattık ve birbirinizi tanımanız için sizi boylara ve kabilelere ayırdık.*”
(Hucurat Suresi, 13. ayet)

Bu ayette vurgulanan temel konu aşağıdakilerden hangisidir?

- A) Özgürlük B) Eşitlik
C) Hoşgörü D) Merhamet

3. “*Çekememezlik etmeyin, birbirinize darılmayın, sırt çevirmeyin, birbirinizin akitlerini bozmayın ve Allah'ın kulları, kardeşler olunuz...*”

Bu hadiste aşağıdakilerden hangisine değinilmemiştir?

- A) Dayanışma B) Kardeşlik
C) Haset D) Takva

4. “*Allah'a yemin ederim ki hiçbir kul kendisi için istediğini komşusu için yahut din kardeşi için de istemedikçe tam anlamı ile iman etmiş olmaz.*”

Bu hadise göre sakınılması gereken davranış aşağıdakilerden hangisidir?

- A) Hile B) Kin ve nefret
C) Haset D) Gıpta

5. Peygamberimizin “*Allah hiç kimseye 'dan/den daha geniş bir ihsanda bulunmamıştır.*” bu hadiste bahsedilen davranış aşağıdakilerden hangisidir?

- A) Sabır B) Edep
C) Şükür D) Cesaret

6. Hz. Muhammed kendisini ziyaret eden ve yanına girince de titremeye başlayan bir kişiye “*Arkadaş, titreme! Ben kral değilim. Kureys kabilesinden, kurutulmuş et yiyen bir kadının oğluyum.*” demişti.

Aşağıdakilerden hangisi Hz. Muhammed'in bu tutumunun asıl nedenini açıklar?

- A) Kendisini diğer insanlardan ayrıcalıklı görmemesi
B) Kişinin özgüven sahibi olmasını istemesi
C) Kendisine kral muamelesi yapılmasını istememesi
D) Kişinin Allah'tan başka kimse-den korkmamasını istemesi

7. Mekke'nin ileri gelenlerinden bir kaç Peygamberimizin yanına geldiler. Peygamberimizin yanında fakir ve kimsesiz Müslümanlar olduğu için “Biz onlarla oturmayız, bizimle onlardan ayrı bir yerde otur.” dediler. O sırada “*Sabah akşam Allah'ın rızasını dileyerek Rablerine dua edenleri sakın yanından uzaklaştıрма!... Eğer onları uzaklaştırırsan zalimlerden olursun.*” (En'am suresi, 52. ayet) ayet-i kerimesi indirildi.

Bu ayette vurgulanan husus aşağıdakilerden hangisidir?

- A) Kullukta eşitlik
B) Hukuk karşısında eşitlik
C) Peygamberler arasında eşitlik
D) Paylaşımda eşitlik

1. OTURUM

8. “Kıyamet gününde insanların Allah’a en sevimli ve en yakın olanı, devlet başkanıdır.” (Hadis-i Şerif)

Bu hadiste boş bırakılan yere aşağıdakilerden hangisi gelmelidir?

- A) Merhametli B) Adaletli
C) Cömert D) Sabırlı

9. Hırsızlık yapan bir kadına hırsızlık cezasının uygulanmasını istemeyen kabile mensupları, Üsame b. Zeyd-i Peygamberimize aracı olarak gönderdiler. Üsame’yi dinleyen Peygamberimizin yüz hatları gerildi ve Üsame’ye “Allah’ın koyduğu bir cezayı uygulamayım diye aracılık mı ediyorsun?” dedi. Daha sonra insanları toplayıp onlara şöyle seslendi: “...Allah’a yemin ederim ki eğer Muhammed’in kızı Fatma hırsızlık etseydi, onu da aynı şekilde cezalandırırdım.”

Yukarıda anlatılan olayda Hz. Muhammed’in hangi yönüne işaret edilmiştir?

- A) Merhametine
B) Cesaretine
C) Adaletine
D) Sabrına

10. Peygamberimiz haya hakkında: “O sizin anladığınız utanma hissi değildir! Allah’tan gerektiği biçimde haya etmek demek; baş ve başta bulunan organlarla, karın ve karnın için aldığı organları her türlü günah ve haramdan korumaktır.....daima Allah’ı hatırlamaktır. Kim bu şekilde davranırsa Allah’tan gereği biçimde hayâ etmiş olur.”

Bu hadiste vurgulanan husus aşağıdakilerden hangisidir?

- A) Sabır - amel ilişkisi
B) Haya - amel ilişkisi
C) Merhamet - iman ilişkisi
D) Hoşgörü - iman ilişkisi

11. İslam tarihinde ilk hicretin yapıldığı ülke ve o ülkenin kralı aşağıdakilerden hangisidir?

- A) Şam - Rüstem
B) Bizans - Heraklius
C) Mısır - Cüreyc
D) Habeşistan - Necaşi

12. Mûte savaşında şehit düşen İslam ordusunun komutanı aşağıdakilerden hangisidir?

- A) Abdullah b. Ömer
B) Cafer b. Ebi Talib
C) Halit b. Velit
D) Amr b. As

13. “...Yetimlerin ihtiyacına koşan kişi, Allah yolunda savaşa giden, gündüzün oruç tutup, geceyi ibadetle geçiren gibidir.” (Hadis-i Şerif)

Bu hadis aşağıdakilerden hangisini teşvik etmektedir?

- A) Öksüzlere sahip çıkmayı
B) Gazilere sahip çıkmayı
C) Anne-babaya yardım etmeyi
D) Öğrencilere yardım etmeyi

14. Ebu Zer ile Bilal-i Habeşi arasında bir tartışma yaşanmıştı. Ebu Zer, Bilal’e “kara kadının oğlu” diyerek ithamda bulunmuştu. Peygamberimiz de Ebu Zer’e “Sende cahiliyye adetlerini görüyorum.” diyerek uyardı. O da Bilal’den özür diledi.

Bu olaydan çıkarılacak asıl sonuç aşağıdakilerden hangisidir?

- A) Öfkenin insanı bazı kötü sonuçlara götürebileceği
B) Bazı örf ve adetlerin kişiyi zor durumda bıraktığı
C) İslam’ın ırk, soy ve mezhebe dayalı üstünlüğü reddettiği
D) Kişiler arasında tartışmaların bazı güzel sonuçları olabileceği

15. “Kardeşin zalimde olsa mazlum da olsa ona yardım et. Bunun üzerine biz Ey Allah’ın Resulü! Mazluma yardım etmeyi bildik ama zalime niçin ve nasıl yardım edeceğiz? ”dedi. Peygamberimiz buyurdular ki:

.....
Buna göre, bu hadis nasıl devam etmektedir?

- A) “Allah her yapılanın karşılığını verecektir.”
B) “Allah mazlumların yardımcısıdır.”
C) “Zayıf, güçsüz ve kimsesiz olanların mükafatını Allah tarafından verilecektir.”
D) “Ona zulümden el çektirirsin, ona yapacağın yardım işte budur.”

16. Aşağıdakilerden hangisi istişarenin yararlarından biri değildir?

- A) Problemi ortadan kaldırır.
B) En doğru kararı almaya katkı sağlar.
C) Birlik ve beraberlik anlayışını güçlendirir.
D) Hedefe kısa zamanda ve daha kolay ulaştırır.

17. Aşağıdakilerden hangisi istişareye engel bir tutum değildir?

- A) Başkalarının düşüncelerine değer vermeme
B) Bilmediği halde biliyor iddiasında olma
C) Kendi düşüncelerine aşırı güvenme
D) Her konuda yeterli olmadığını fark etme

18. İstişare hakkında aşağıdakilerden hangisi yanlıştır?

- A) Kendine aşırı güvenmektir.
B) Fikri zenginliktir.
C) Peygamberimizin sünnetidir.
D) Farklı fikirlere açık olmaktır.

1. OTURUM

19. Aşağıdakilerden hangisi sa-habenin toplumsal konularda yaptığı istişareye örnek olmaz?

- A) İlk halifenin seçilmesi
- B) Kur'an'ın kitap haline getirilmesi
- C) Hudeybiye anlaşmasının yapılması
- D) Hz. Ömer'in halife seçilmesi

20. Aşağıdakilerden hangisi Peygamberimizin toplumsal konularda yaptığı istişareye örnek değildir?

- A) Müslümanların namaza nasıl çağrılacağı konusunda sahabenin görüşüne başvurulması
- B) Uhut savaşının savunma ya da saldırı savaşı olması konusunda sahabeye görüşmesi
- C) İlk vahyi aldığı Hz. Hatice ile beraber Varaka b. Nevfel'e gidip yaşadıklarını anlatması
- D) Havazin kabilesinden elde edilen ganimetin geri verilmesi konusunda sahabenin fikrini alması

(609) MATEMATİK – 6

1. $\frac{2n!}{(n-2)!} = 112$ olduğuna göre, n kaçtır?

- A) 11 B) 9 C) 8 D) 7

2. $A = \{1, 2, 3, 4, 5, 6, 7\}$ kümesinin elemanları kullanılarak rakamları farklı 400'den büyük kaç farklı üç basamaklı çift sayı yazılabilir?

- A) 40 B) 50 C) 60 D) 70

3. Gökhan 5 matematik, 4 fizik ve 3 kimya kitabını aynı tür kitaplar yan yana gelecek şekilde bir rafa dizecektir. Gökhan, bu dizilişi kaç farklı şekilde yapabilir?

- A) $12!3!$ B) $12!5!4!3!$
- C) $5!4!3!$ D) $3!5!4!3!$

4. 3323222 sayısındaki rakamların yerleri değiştirilerek yedi basamaklı kaç farklı sayı yazılır?

- A) 35 B) 21 C) 14 D) 7

5. 7 elemanlı bir kümenin en fazla iki elemanlı alt kümelerinin sayısı kaçtır?

- A) 14 B) 21 C) 28 D) 29

6. Bir dosya kağıdı üzerinde herhangi üçü doğrusal olmayan 8 nokta işaretleniyor. Köşeleri bu noktalar üzerinde olacak şekilde kaç farklı üçgen çizilebilir?

- A) 28 B) 56 C) 60 D) 74

7. Yan yana bulunan 8 sandalyeye 3 kişi hep bir arada olmak şartıyla kaç farklı şekilde oturabilirler?

- A) 18 B) 24 C) 36 D) 56

8. Bir çift zar havaya atılıyor. Üst yüze gelen sayıların toplamının 9 olma olasılığı kaçtır?

- A) $\frac{1}{9}$ B) $\frac{1}{6}$ C) $\frac{1}{4}$ D) $\frac{2}{3}$

9. 4 erkek ve 5 kadın arasından rastgele seçilen 3 kişiden en az birinin kadın olma olasılığı nedir?

- A) $\frac{5}{42}$ B) $\frac{14}{25}$ C) $\frac{1}{2}$ D) $\frac{20}{21}$

10. Aşağıdakilerden hangisi 121'den küçük 3 ile bölünebilen pozitif tam sayıların toplamını ifade eder?

- A) $\sum_{k=1}^{121} 3k$ B) $\sum_{k=1}^{40} 3k$
- C) $\sum_{k=1}^{121} \frac{k}{3}$ D) $\sum_{k=1}^{40} k$

11. $\sum_{k=4}^{15} k$ değeri kaçtır?

- A) 60 B) 84 C) 114 D) 120

12. $\sum_{k=1}^4 \sum_{n=1}^6 (2k + 3n - 4)$ değeri kaçtır?

- A) 179 B) 198 C) 224 D) 276

13. $\prod_{k=3}^{26} \left(1 + \frac{1}{k}\right)$ değeri kaçtır?

- A) 9 B) 8 C) $\frac{26}{3}$ D) $\frac{27}{26}$

14. $\prod_{k=2}^{127} \log_k(k+1)$ değeri kaçtır?

- A) 6 B) 7 C) 32 D) 64

15. Aşağıdakilerden hangisi bir dizinin genel terimi olabilir?

- A) $\frac{n}{n^2 - 25}$ B) $\frac{n}{n+2}$
- C) $\sqrt{n-8}$ D) $\log(5-n)$

16. $(a_n) = \left(\frac{6n+m}{n+2}\right)$ dizisi sabit bir dizi olduğuna göre, m kaçtır?

- A) 2 B) 4 C) 6 D) 12

17. $(a_n) = \left(\frac{n+1}{4n+8}\right)$ dizisinin limiti kaçtır?

- A) 4 B) $\frac{5}{2}$ C) $\frac{1}{4}$ D) $\frac{1}{9}$

18. Bir aritmetik dizide $a_{19} = 87$ ve $a_5 = 17$ olduğuna göre, a_1 kaçtır?

- A) -3 B) -1 C) 2 D) 4

1. OTURUM

19. Ortak çarpanı 4 ve 4. terimi 2^9 olan geometrik dizinin 15. terimi kaçtır?

A) 2^{31} B) 2^{29} C) 2^{27} D) 2^{18}

20. $\sum_{n=0}^{\infty} \left(\frac{4}{5}\right)^n$ değeri kaçtır?

A) 0 B) 1 C) 5 D) 20

(611) KARŞ. DİN. TAR. – 1

1. Karşılaştırmalı dinler tarihi hakkında aşağıdakilerden hangisi **yanlış** bir bilgidir?

A) Temel islam bilimleri ile ilişkilidir.
B) Dinleri doğruluk ve yanlışlık bakımından değerlendirir.
C) Dinlerin tarihi gelişimini inceleyen, tarihi karşılaştırmalı metoda başvurur.
D) Tüm dinleri inceleme konusu yapar.

2. Aşağıdakilerden hangisi dinin kaynağı hakkında evrimci görüşe karşı çıkıp, monoteist (tek tanrıcı) görüşü savunan bir bilim adamıdır?

A) Frazer
B) Durkheim
C) Edvard Tylor
D) Wilhem Schmidt

3. İbranî terimi aşağıdaki dinlerden hangisiyle ilişkilendirilebilir?

A) İslamiyet B) Hristiyanlık
C) Yahudilik D) Zerdüştlük

4. • M.Ö 15. Yüzyılda Filistin’de göçebe olarak yaşayan kabilenin adıdır.
• “Öte tarafın insanları” anlamına gelmektedir.
• Bununla da Fırat ve Ürdün nehirlerinin öte kıyısından Filistine göçenler kasdetilmiştir.

Hakkında bilgi verilen terim aşağıdakilerden hangisidir?

A) İbrani B) İsmaili
C) Musevi D) Yehova

5. 325 yılında İmparator Konstantin’in emriyle toplanan Konsilde, İsa’nın tanrı olduğu tartışılarak kabul edilmiştir.

Bu konsil aşağıdakilerden hangisidir?

A) Vatikan Konsili
B) Efes Konsili
C) İznik Konsili
D) İstanbul Konsili

6. Yahudilikte “Arz-ı Mevud”un anlamı aşağıdakilerden hangisidir?

A) Seçilmiş özel millet
B) Kudüs’teki Süleyman mabedi
C) Olağanüstü güçlere sahip kur-tarıcı
D) Yahudilere vadedilmiş kutsal topraklar

7. Hristiyanlığın ortaya çıktığı miladi yılın başlarında Filistinde hangi din mensupları yaşıyordu?

A) Sabiiler B) Yahudiler
C) Zerdüştlər D) Putperestler

8. Aşağıdaki peygamberlerden hangisini İslamiyet, Hristiyanlık ve Yahudilik peygamber olarak kabul etmektedir?

A) Hz. İsa
B) Hz. Muhammed
C) Hz. Süleyman
D) Hz. İbrahim

9. I- Tarsusta doğdu ve Yahudi inançlarına göre yetişti.
II- Katı bir İsa düşmanı iken Hz. İsa çarmıha gerildikten sonra yaptıklarından pişman olup İsa’nın en büyük savunucularından oldu.
III- Hz. İsa’nın getirdiği inancın yayılması için Havarî Barnaba’yla Anadolu, Kıbrıs ve Antakya’ya seyahatler yaptı.

Yukarda hakkında bilgi verilen kişi kimdir?

A) Pavlus
B) Aziz Petrus
C) Aziz Thomas
D) Musa b. Meymun

10. Hristiyanlıkta aşağıdaki sakramentlerden hangisi Katolik, Ortadoks ve Protestan mezhepleri tarafından kabul edilmektedir?

A) Vaftiz
B) Günah itirafı
C) Son yağlama
D) Konfirmasyon

11. • 16. yüzyılda katolikliğin uygulamalarına tepki göstermeyle tanınmış bir Alman din adamıdır.
• Katolik Kilisesi’nin cezalandırıcı tanrı anlayışını eleştirmiş, tanrının rahmet anlayışının gö-zardı edildiğini ifade etmiştir.
• Papanın yanılmazlığını, kutsal kitap ve ibadet dilinin Latince olmasını eleştirmiştir.

Hakkında bilgi verilen din adamı aşağıdakilerden hangisidir?

A) Pavlus
B) Barnabas
C) Aziz Petrus
D) Martin Luther

1. OTURUM

12. Aşağıdakilerden hangisi Hristiyan inançlarından olan "Vaftiz"i ifade eder?

- A) Evlenen çiftler için kilisede yapılan törendir.
- B) Hristiyanlığa giren kişinin suyla günahından arındırılmasıdır.
- C) Şükretmek anlamına gelen bir ayindir.
- D) Hastalıkta ve özellikle ölüm anında kişiyi rahatlatmak için yapılan bir ayindir.

13. Aşağıdakilerden hangisi İslam dininin temel özelliklerinden değildir?

- A) Allah vardır ve birdir
- B) Bütün insanlar günahsız doğar
- C) Peygamberler ilahi niteliklere sahiptir
- D) İslam inanç ilkeleri ve ibadet esasları Kur'an-ı Kerim'de belirtilmiştir.

14. Aşağıdakilerden hangisi Hinduizm'e ait bir özelliktir?

- A) Budizm'den doğmuştur.
- B) Ruhun varlığı reddedilir.
- C) Sekiz dilimli yol benimsenir.
- D) Kast sistemi bir inanç esasıdır.

15. Yogo ve meditasyon aşağıdaki dinlerden hangisinde önemli bir kavramdır?

- A) Budizm
- B) Sihizm
- C) Zerdüştlük
- D) Yahudilik

16. Hinduizm'de doğum-ölüm girdabı ve bu sürecin sebep olduğu her türlü acı ve kederden kurtulup mutlak aydınlanmaya kavuşmak anlamına gelen terim aşağıdakilerden hangisidir?

- A) Kast
- B) Nirvana
- C) Tenasüh
- D) Konfirmasyon

17. Aşağıdakilerden hangisi Budizm'deki "sekiz dilimli yol"dan biri değildir?

- A) Sürekli çaba
- B) Doğru bilgi, kesin iman
- C) Tek olan tanrıya inanmak
- D) Doğru amaç, doğru düşünce

18. Aşağıdakilerden hangisi Tanrının tek, ebedî, görünmez, sözle anlatılmaz, her yerde hazır ve nazır olduğunu ifade etmektedir?

- A) Mahavira
- B) Guru Nanak
- C) Buda
- D) Konfüçyus

19. Şintoizm hakkında aşağıda verilen bilgilerden hangisi yanlıştır?

- A) Hindistanda yaşayan bir dindir.
- B) "Şinto" tanrıların yolu anlamına gelir.
- C) Tabiat güçlerine ve ruhlara tapınılır.
- D) Şintoist bir kişi aynı zamanda başka dinlere de mensup olabilir.

20. Zerdüştlük dini aşağıdaki ülkelerin hangisinde doğmuştur?

- A) Filistin
- B) Arabistan
- C) Hindistan
- D) İran

(617) SEÇ. DİL ve ANLA. – 7

1. Birçok yönüyle operayı andıran fakat sahnedeki bütün hareketleri ahenkli ve zengin dans figürleri hâlinde gösterildiği baştan sona besteli tiyatro çeşidi aşağıdakilerden hangisidir?

- A) Revü
- B) Skeç
- C) Bale
- D) Operet

2. Eski Türk edebiyatının öğretici nitelik taşıyan ünlü eserlerinden olan "Harnâme" adlı eseri yazan 15. yüzyıl şairi aşağıdakilerden hangisidir?

- A) Şeyhi
- B) Beydaba
- C) Mevlana
- D) Ali Şir Nevai

3. Ağlasam sesimi duyar mısınız,
Mırsalarımda;
Dokunabilir misiniz,
Gözyaşlarıma, ellerinizle?
Bilmezdim şarkıların bu kadar güzel,
Kelimelerinse kifayetsiz olduğunu
Bu derde düşmeden önce.
Bir yer var, biliyorum;
Her şeyi söylemek mümkün;
Epeyce yaklaşmışım, duyuyorum;
Anlatamıyorum.

(Orhan Veli Kanık)

Bu şiirin teması aşağıdakilerden hangisidir?

- A) Kahramanlık
- B) Ayrılık
- C) Ölüm
- D) Aşk

4. "Hay mübarek! Bereket yağıyor, bereket!" cümlesinde "bereket" sözcüğündeki mecazımürsel aşağıdaki ilgi türlerinden hangisine örnektir?

- A) İç-dış
- B) Parça-bütün
- C) Neden-sonuç
- D) Sanatçı-eser

5. "Gider oldum kömür gözlüm elveda" (Karacaoğlan)

dizesindeki benzetmenin benzetme yönü aşağıdakilerden hangisidir?

- A) Göz
- B) Kömür
- C) Elveda
- D) Gider oldum

6. Aşağıdakilerden hangisi hikâyenin planını oluşturan bölümlerden değildir?

- A) Fasil
- B) Serim
- C) Düğüm
- D) Çözüm

7. Ey benim sarı tamburam
Sen ne için inilersin
İçim oyuk derdim büyük
Ben anıncün inilerim
(Pir Sultan Abdal)

Bu dörtlükte aşağıdaki edebî sanatlardan hangisi vardır?

- A) Cinas
- B) Kinaye
- C) Tariz
- D) Mübalağa

1. OTURUM

8. Akla karşı duyguyu, seçkin sınıfa karşı halkı, kurallara karşı kuralsızlığı işleyen roman türüdür. Victor Hugo'nun "Sefiller"i, Namık Kemal'in "İntibah"ı bu roman türüne örnektir.

Bu parçada anlatılan roman türü aşağıdakilerden hangisidir?

- A) Romantik roman
- B) Natüralist roman
- C) Realist roman
- D) Klasik roman

9. Aşağıdakilerden hangisi post-modernist romanın özelliklerinden değildir?

- A) Sanatı bir tür oyun olarak görür.
- B) Çok seslilik ve çoğulculuk önem kazanmıştır.
- C) Farklı anlatım tekniklerine aynı metin içinde yer verilebilir.
- D) Romanın kurmaca ve uydurma olmadığı özellikle vurgulanır.

10. Aşağıdakilerden hangisi fabllarda işlenen olumlu temalardan biri değildir?

- A) Adalet
- B) Özenti
- C) Cömertlik
- D) Dostluk

11. Dostoyevski'nin "Suç ve Ceza"sı, Peyami Safa'nın "Dokuzuncu Hariciye Koşuşu" konusu yönüyle aşağıdaki roman türlerinden hangisine örnektir?

- A) Tarihi roman
- B) Macera romanı
- C) Psikolojik roman
- D) Otobiyografik roman

12. Aşağıdakilerden hangisi "kahraman anlatıcı bakış açısı"na ait bir özellik değildir?

- A) Birinci tekil kişi ağzıyla konuşur.
- B) Olaylar bir kamera tarafsızlığı ile yansıtılır.
- C) Hikâyeyi anlatan "ben", hikâyenin kahramanı olabileceği gibi tanık ya da gözlemci de olabilir.
- D) Roman, olayları anlatan kişinin bilgisi, deneyimi, algılama ve yorumlama yeteneğiyle sınırlıdır.

13. Fabllarda anlatılmak istenen ana düşüncenin açıklandığı eskiden "kıssadan hisse" diye nitelendirilen bölüm aşağıdakilerden hangisidir?

- A) Serim
- B) Düğüm
- C) Çözüm
- D) Öğüt

14. Romanda anlatılan konunun süresini günlere hatta saatlere indirgeyen roman anlatım tekniği aşağıdakilerden hangisidir?

- A) Montaj
- B) Leitmotiv
- C) Bilinç akımı
- D) Görece zaman anlayışı

15. Aşağıdakilerden hangisi klasik Türk şiiri nazım biçimlerinden?

- A) Kaside
- B) Koşma
- C) Semai
- D) Türkü

16. Aşağıdakilerden hangisi geleksel Türk tiyatrosu türlerine ait bir özellik değildir?

- A) Oyunların hemen hepsi temelde güldürüye dayanır.
- B) Oyunların sonunda alınması gereken ders belirtilir.
- C) Önceden hazırlanmış ve ezberlenmesi gereken metinleri vardır.
- D) Bireysel yanlışlar alaya alınarak seyirciyi iyi ve doğru yönde eğitmek amaçlanır.

17. Batılı anlamda öykü türünün ilk örneği sayılabilecek "Küçük Şeyler" adlı eser aşağıdaki Türk edebiyatçılarından hangisine aittir?

- A) Samipaşazade Sezai
- B) Sait Faik Abasıyanık
- C) Memduh Şevket Esendal
- D) Recaizade Mahmut Ekrem

18. Aşağıdakilerden hangisi masal türüne ait bir özellik değildir?

- A) Yer ve zaman kavramı belirsizdir.
- B) Genellikle manzum olarak oluşturulur.
- C) Bir masalın içinde türkü, bilmece, ağıt gibi diğer türlere de rastlanır.
- D) Anlatımda genellikle geniş zaman ve öğrenilen geçmiş zaman kullanılır.

19. Aşağıdakilerden hangisi "ben merkezli hikâye"nin özelliklerinden biri değildir?

- A) Gerçeklikle hayaller bir arada verilir.
- B) Hikâyeler birinci şahsın ağzından anlatılır.
- C) Çarpıcı ve beklenmedik bir sonla biter.
- D) Kahraman dış dünyayı olduğu ve gördüğü gibi anlatır.

20. Aşağıdakilerden hangisi öğretici metinlere ait bir özellik değildir?

- A) Gerçeklik ön plandadır.
- B) Okuyucuya bilgi vermek amacıyla yazılır.
- C) Açık, sade bir dille yazılır; üslup kaygısı yoktur.
- D) Hayallere ve mecazlı anlatımlara yer verilir.

(618) SEÇ. DİL ve ANLA. – 8

1. Bilimsel yazılarda aşağıdaki anlatım türlerinden hangisi kullanılmaz?

- A) Tartışmacı
- B) Kanıtlayıcı
- C) Açıklayıcı
- D) Öyküleyici

2. Bilimsel yazılarda metnin tamamında anlatılanların küçültülerek bir paragraf hâline getirilip verildiği bölüm aşağıdakilerden hangisidir?

- A) Başlık
- B) Giriş
- C) Özet
- D) Sonuç

1. OTURUM

3. Toplumu ilgilendiren bir konuda farklı gruplardan oluşan dinleyicilerin söz sırası olarak yaptıkları tartışmalara ne ad verilir?
- A) Forum B) Sempozyum
C) Münazara D) Konferans
4. Yazar, düşünür ve sanatçıların veya alanında uzman kişilerin bilgi vermek, bir konuyu açıklamak, öğretmek amacıyla yaptıkları konuşmalara ne ad verilir?
- A) Söylev B) Münazara
C) Konferans D) Mülakat
5. Belli bir konuyu aydınlatmak amacıyla bilim adamı ve araştırmacıların bir araya geldikleri ve konuşmacıların konunun belirli bölümlerini sundukları tartışmalı toplantılara ne ad verilir?
- A) Forum B) Sempozyum
C) Mülakat D) Röportaj
6. Bir kitabın veya derginin kişi, konu, yer adı vb. bakımından içindekileri yer numarasıyla belirten ve eserlerin arkasında yer alan alfabetik listeye ne ad verilir?
- A) Dipnot
B) İndeks
C) Kaynakça
D) Dokümantasyon
7. Aşağıdakilerden hangisi öğretici metinler arasında yer almaz?
- A) Öykü B) Makale
C) Fıkra D) Biyografi
8. “Konferansta amaç dinleyicileri (...)” cümlesi aşağıdakilerin hangisiyle tamamlanmalıdır?
- A) düşündürmektir.
B) coşkulandırmaktır.
C) bilgilendirmektir.
D) duygulandırmaktır.
9. Aşağıdakilerden hangisi bilimsel yazılarda kullanılan “bibliyografya” teriminin karşılığıdır?
- A) Dokümantasyon
B) Kaynakça
C) İndeks
D) Dipnot
10. İbrahim Şinasi ve Agâh Efendi tarafından 1860 yılında çıkarılan ilk özel gazete aşağıdakilerden hangisidir?
- A) Tercüman-ı Ahval
B) Ceride-i Havadis
C) Takvim-i Vakayi
D) Tasvir-i Efkar
11. Sempozyumda dinleyiciler tarafından beklenen bilgi, belge ve önerilerin açıklandığı bölüm aşağıdakilerden hangisidir?
- A) Giriş B) Deney
C) Özet D) Bulgular
12. Bilimsel yazıların aşağıda verilen özelliklerinden hangisi makaleye göre farklılık gösterir?
- A) Okuyucu kitlenin belli bir bilgi birikimine sahip olması gerekir.
B) Anlatılanların kanıtlanması gerekir.
C) Amaç okuyucuyu bilgilendirmektir.
D) Kurallı cümlelerle kurulur.
13. Bir konunun dinleyiciler önünde söyleşi havası içinde birkaç kişi tarafından tartışıldığı sözlü anlatım türü aşağıdakilerden hangisidir?
- A) Nutuk B) Açık oturum
C) Konferans D) Sempozyum
14. Aşağıdakilerden hangisi münazara başkanının görevlerinden değildir?
- A) Konuşanların düşüncelerini rahatlıkla söyleyebilecekleri bir ortam sağlamak
B) Konunun nitelik ve sınırlarının dinleyiciler tarafından anlaşılmasını sağlamak
C) Tartışmanın konu dışına çıkmasını, gereksiz yere uzamasını önlemek
D) Ortaya çıkan düşünceleri değerlendirip kazanan tarafı belirlemek
15. Gazetelerin ilk sayfasının birinci sütununda yayımlanan, günlük olaylarla ilgili görüş belirten yazılara ne ad verilir?
- A) Deneme B) Biyografi
C) Eleştiri D) Başmakale
16. “Makalede temel öge (...)” cümlesinde boş bırakılana yere aşağıdakilerden hangisi getirilmelidir?
- A) duygudur.
B) deneyimdir.
C) düşüncedir.
D) dil ve anlatımdır.
17. Aşağıdakilerden hangisi sözlü anlatım türlerinden biri değildir?
- A) Forum B) Makale
C) Münazara D) Konferans
18. Aşağıdakilerin hangisinde toplantılarda konuşulanların bir tutanakla tespit edilmesi zorunludur?
- A) Dernek toplantısı
B) Konferans
C) Mülakat
D) Söylev

1. OTURUM

19. Aşağıdakilerden hangisi konferans sırasında dikkat edilmesi gerekenlerden biri değildir?

- A) Dinleyicilerin sıkılmaması için bir saatten uzun sürmemeli.
- B) Dinleyicilerin kültür ve zevk düzeyleri dikkate alınmalı.
- C) Konu dağıtılmamalı ses tonu konuşmaya göre ayarlanılmalı.
- D) Konferansçı konunun dağılmasını engellemek için konferansını elindeki notları okuyarak sürdürmeli.

20. “Toplum mu sanatkarı yetiştirir, sanatkar mı toplumu yetiştirir?” konusu aşağıdaki toplantı türlerinin hangisiyle tartışılmalıdır?

- A) Sempozyum
- B) Konferans
- C) Münazara
- D) Açık oturum

(624) SEÇ. TÜRK EDEB. – 4

1. Aşağıdakilerden hangisi Dede Korkut Hikâyeleri’ne ait bir özellik değildir?

- A) 15. yüzyılda yazıya geçirilmiştir.
- B) On iki hikâyeden oluşmaktadır.
- C) Müslüman Oğuzların iç ve dış savaşları anlatılmıştır.
- D) Mesnevi nazım şekli ile yazılmıştır.

2. “Leylâ ve Mecnûn” mesnevilerinin içinde en tanınmış, aşağıdakilerin hangisi tarafından yazılmıştır?

- A) Şeyhî
- B) Fuzulî
- C) Şeyh Galip
- D) Süleyman Çelebi

3. Aşağıdakilerden hangisi eski edebiyatımızda romanın yerini tutan kahramanlık hikâyelerinden biri değildir?

- A) Harname
- B) Saltukname
- C) Müslimname
- D) Danişmendname

4. Manas Destanı aşağıdaki Türk boylarından hangisine aittir?

- A) Uygur
- B) Kazak
- C) Göktürk
- D) Kırgız

5. Kutadgu Bilig aşağıdaki yazarların hangisine aittir?

- A) Kaşgarlı Mahmut
- B) Yükneklî Edip Ahmet
- C) Yusuf Has Hacı
- D) Ahmet Yesevî

6. Yükneklî Edip Ahmet tarafından XII. yüzyılda Çağatay lehçesiyle yazılmış ve Emir Muhammed’e sunulmuş olan eser, aşağıdakilerden hangisidir?

- A) Manas Destanı
- B) Atabetü’l-Hakayık
- C) Çarhname
- D) İlâhî

7. “Divanü Lügati’t-Türk” ün günümüz Türkçesindeki karşılığı, aşağıdakilerden hangisidir?

- A) Hikmetler
- B) Hakikatlerin Eşiği
- C) Mutluluk Veren Bilgi
- D) Türk Dilinin Karşılaştırmalı Sözlüğü

8. Dinî-Tasavvufî Türk Edebiyatının kurucusu Hoca Ahmet Yesevî’nin hikmetlerini topladığı eseri, aşağıdakilerden hangisidir?

- A) Divanü Lügati’t-Türk
- B) Kutadgu Bilig
- C) Divan-ı Hikmet
- D) Hüsn ü Aşk

9. Aşağıdakilerden hangisi Ahmedî’ye ait bir eserdir?

- A) İskendername
- B) Battalname
- C) Çarhname
- D) Harname

10. Aşağıdakilerden hangisi Türk edebiyatındaki ilk öğretici manzumedir?

- A) Hayriyye
- B) Hayrabat
- C) Kutadgu Bilig
- D) Risaletü’n- Nushiyye

11. Kurtulamam üç nesnenin elinden
Biri firkat biri gurbet biri aşk
Üçü bilmez birbirinin dilinden
Biri firkat biri gurbet biri aşk
(Gevheri)

Bu şiirin durak ve ölçüsü aşağıdakilerden hangisidir?

- A) 4+4=8
- B) 4+4+3=11
- C) 7+7=14
- D) 6+5=11

12. Dereler dolmasaydı
Çiçekler solmasaydı
Ölüm Allah’ın emri
Ayrılık olmasaydı

Bu mâninin türü aşağıdakilerden hangisidir?

- A) Düz mâni
- B) Kesik mâni
- C) Ayaklı mâni
- D) Cinaslı mâni

13. Kaygusuz Abdal’ın daha çok hikâyeye etme anlatım biçimini ve benzetmeleri kullanarak tasavvufun temel ilkelerini açıkladığı eseri, aşağıdakilerden hangisidir?

- A) Menakıbname
- B) Tazarrüname
- C) Cihannüma
- D) Dilgüşa

14. Aşağıdakilerden hangisi divan edebiyatı ile ilgili bir bilgi değildir?

- A) Şiir ölçüsü aruzdur.
- B) Tasavvufî ve dünyevî aşk işlenir.
- C) Nazım birimi sadece dördlüktür.
- D) Konu birliği beyitte yoğunlaşmıştır.

1. OTURUM

(627) SEÇ. TÜRK EDEB. – 7

15. Aşağıdakilerden hangisi gazelin özelliklerinden biri değildir?

- A) Nazım birimi beyittir.
- B) Dört mısralık bentlerden oluşur.
- C) İlk beytine matla, son beytine makta denir.
- D) Türk edebiyatına İran edebiyatından geçmiştir.

16. Gazelin en güzel beytine ne ad verilir?

- A) Beytü'l -gazel
- B) Yekâvâz gazel
- C) Musammat gazel
- D) Düz gazel

17. • Dört mısralık divan edebiyatı nazım şeklidir.

- Birinci, ikinci ve dördüncü mısralar kendi aralarında uyaklı, üçüncü mısra ise serbesttir.
- En verimli şairlerinden biri Azmizâde Mustafa Halefî'dir.

Bu özellikler aşağıdaki nazım şekillerinin hangisine aittir?

- A) Kaside
- B) Rubai
- C) Gazel
- D) Terakib-i bent

18. Aşağıdakilerden hangisi şarkı nazım şeklini kullanan şairlerden biri değildir?

- A) Nedim
- B) Enderunlu Vasıf
- C) Yahya Kemal Beyatlı
- D) Yusuf Has Hâcîp

19. Aşağıdakilerden hangisi anonim halk şiirinin özelliklerinden biri değildir?

- A) Nazım birimi beyittir.
- B) Yalın bir dil kullanılmıştır.
- C) Hece ölçüsü kullanılmıştır.
- D) Sözlü olarak yaşayan bir edebiyattır.

20. Aşağıdakilerden hangisi Osmanlıda yazılan ilk tezkiredir?

- A) Rıza Tezkiresi
- B) Adab-ı Zürafâ
- C) Heşt-Behişt
- D) Kınalızâde Tezkiresi

1. Aşağıdakilerden hangisi İkinci Yeni akımının temsilcilerinden biri değildir?

- A) İlhan Berk
- B) Ece Ayhan
- C) Turgut Uyar
- D) Murathan Mungan

2. Aşağıdakilerden hangisi Garip akımının özelliklerinden biri değildir?

- A) Yalın bir dil kullanmak
- B) Ölçülü, uyaklı bir şiir dili oluşturmak
- C) Günlük konuları ele almak
- D) Süsten uzak bir anlatımı tercih etmek

3. Deneme türünün öncüsü ve temsilcisi olan yazar, aşağıdakilerden hangisidir?

- A) Montaigne
- B) Albert Camus
- C) T.S. Eliot
- D) Bacon

4. Köy romanının en tanınmış örneği olan "Yılanların Öcü" aşağıdakilerden hangisine aittir?

- A) Yaşar Kemal
- B) Orhan Kemal
- C) Samim Kocagöz
- D) Fakir Baykurt

5. Aşağıdakilerden hangisi Reşat Nuri Güntekin'in eserlerinden biri değildir?

- A) Balıkesir Muhasebecisi
- B) Yaprak Dökümü
- C) Hayat Ne Tatlı
- D) Eski Şarkı

6. "Fatih-Harbiye" aşağıdaki yazarlardan hangisine aittir?

- A) Peyami Safa
- B) Sabahattin Âli
- C) Sait Faik Abasıyanık
- D) Ahmet Hamdi Tanpınar

7. Aşağıdakilerden hangisi fıkra (köşe yazısı) türünün özelliklerinden biri değildir?

- A) Güncel konularda yazılır.
- B) Gazete ve dergi yazısıdır.
- C) Bilimsel gerçekleri ortaya koyar.
- D) Amaç önemli noktalara okurun dikkatini çekmektir

8. "Han Duvarları" şiiri aşağıdaki şairlerden hangisine aittir?

- A) Cahit Külebi
- B) Faruk Nafiz Çamlıbel
- C) Yahya Kemal Beyatlı
- D) Ahmet Muhip Dıranas

9. Aşağıdakilerden hangisi "Memleketçi" şiire tepki olarak çıkardıkları ortak kitabın adından ötürü "Yedi Meşaleciler" olarak bilinen topluluğun temsilcilerinden biri değildir?

- A) Cevdet Kudret
- B) Yaşar Nabi Nayır
- C) Vasfi Mahir Kocatürk
- D) Ahmet Hamdi Tanpınar

10. Bir kimsenin kendi başından geçenleri veya tanık olduğu olayları anlattığı tür, aşağıdakilerden hangisidir?

- A) Hikâye
- B) Anı
- C) Makale
- D) Günlük

11. GÜNAYDIN

Günaydın tavuklar, horozlar
Artık memnunum yaşamaktan
Sabah erkenden kalktığım zaman
Siz varsınız;
Gündüz, işim var, arkadaşlarım.
Gece, yıldızlar var, karım var;
Günaydın tavuklar, horozlar!
(Necati Cumalı)

Bu şiirin ana duygusu aşağıdakilerden hangisidir?

- A) Sevgi
- B) Kıskançlık
- C) Yaşama sevinci
- D) Çocukluk özlemi

1. OTURUM

12. Bir insanın gezip gördüğü yerlerden edindiği izlenimleri, bilgileri aktardığı yazılara ne ad verilir?

- A) Makale B) Anı
C) Günlük D) Gezi yazısı

13. Aşağıdaki yazar - eser eşleştirmelerinden hangisi yanlıştır?

- A) Haldun Taner - Mikadonun Çöpleri
B) Turan Oflazoğlu - Genç Osman
C) Orhan Asena - Hürrem Sultan
D) Aziz Nesin - Biraz Gelir misiniz?

14. 1942 - 1970 yılları arasında yirmi bir tiyatro oyunu yazarak döneminin en popüler yazarı olmuştur. Toplumun güncel sorunlarını seyircinin kolayca tanıyabileceği durumlar içinde ele almıştır.

Bu parçada sözü edilen yazar aşağıdakilerden hangisidir?

- A) Necati Cumalı
B) Nazım Kurşunlu
C) Cevat Fehmi Başkut
D) Sabahattin Kudret Aksal

15. Aşağıdaki anı yazarı ve eser eşleştirmelerinden hangisi yanlıştır?

- A) Ahmet Rasim - Eşkal-i Zaman
B) Halit Ziya Uşaklıgil - Portreler
C) Salâh Bîrsel - Ah Beyoğlu Vah Beyoğlu
D) Hüseyin Cahit Yalçın - Edebî Hatıralar

16. Aşağıdakilerden hangisi Müşahipzade Celal'in eserlerinden biri değildir?

- A) Paydos
B) Ayvanoz Kadısı
C) İstanbul Efendisi
D) Bir Kavuk Devrildi

17. Aşağıdakilerden hangisi Orhan Kemal'in eserlerinden biri değildir?

- A) İspinozlar
B) Kardeş Payı
C) Evcilik Oyunu
D) Bekçi Murtaza

18. Aşağıdakilerden hangisi gezi yazısı değildir?

- A) Bizim Akdeniz
B) Anadolu Notları
C) Pasifik Kıyıları
D) Karalama Defteri

19. Aşağıdakilerden hangisi "Garip" akımının öncülerinden biri değildir?

- A) Attilâ İlhan
B) Oktay Rifat
C) Orhan Veli Kanık
D) Melih Cevdet Anday

20. Gazete ve dergilerin yaygınlaşması bu türün gelişmesini sağlamıştır. Servet-i Fünun, Genç Kalemler, Dergâh, Türk Yurdu gibi dergiler bu konuda etkili olmuştur. Bu yıllarda bu türün usta yazarları arasında Ahmet Rasim, Refik Halit Karay ve Ahmet Haşim ilk akla gelenlerdir.

Bu parçada anlatılan tür, aşağıdakilerden hangisidir?

- A) Tiyatro B) Fıkra
C) Deneme D) Roman

(628) SEÇ. TÜRK EDEB. – 8

1. Kişiye, topluma, feleğe, tabiata âşık (halk şairi) tarafından yöneltilen yergi, alay ve eleştiri içeren şiirlere ne ad verilir?

- A) Koçaklama B) Öğüt
C) Ağıt D) Taşlama

2. Aşağıdakilerden hangisinin yazarı "Orhan Pamuk"tur?

- A) Yaban
B) Yeni Hayat
C) Sinekli Bakkal
D) Hüküm Gecesi

3. Aşağıdakilerden hangisi "Dokuzuncu Hariciye Koğuşu" adlı eserin yazarıdır?

- A) Kemal Bilbaşar
B) Orhan Kemal
C) Peyami Safa
D) İlhan Tarus

4. 1923-1940 yıllarında kişiliğini bulan şairlerin önemli bir bölümü eserlerinde yurdu sevmeye, tanıtmaya ve kalkınmaya yönelik "memleketçi" bir çaba içindedirler.

Aşağıdaki şiirlerden hangisi böyle bir çaba gösterilerek yazılmamıştır?

- A) Kar (Ahmet Muhip Dıranas)
B) Çoban Çeşmesi (Faruk Nafiz Çamlıbel)
C) Bingöl Çobanları (Kemalettin Kamu)
D) Halay Çeken Kızlar (Ahmet Kutsi Tecer)

5. Hecenin beş şairinden biridir. Anadolu edebiyatının en tanınmış şairidir. "Han Duvarları" isimli eserin de sahibi olan bu şair aşağıdakilerden hangisidir?

- A) İlhan Berk
B) Sezai Karakoç
C) Yavuz Bülent Bakiler
D) Faruk Nafiz Çamlıbel

6. Halk söyleyişlerinden ve masallardaki tekerlemelerden esinlenerek yazılmış olan "Karadut" adlı şiir aşağıdaki şairlerden hangisine aittir?

- A) Bedri Rahmi Eyüboğlu
B) Necip Fazıl Kısakürek
C) Ahmet Kutsi Tecer
D) Ahmet Muhip Dıranas

7. Aşağıdakilerden hangisi serbest nazım için söylenebilir?

- A) Dizelerdeki hece sayıları eşittir.
B) Nazım birimi dördlüktür.
C) Herhangi bir ölçüsü yoktur.
D) Mutlaka kafiye kullanılır.

1. OTURUM

8. “(...) dizelerdeki hece sayısının eşit olmasıdır.” cümlesinde boş bırakılan yere aşağıdakilerden hangisi getirilmelidir?

- A) Anonim
- B) Güzelleme
- C) Zengin uyak
- D) Hece ölçüsü

9. “Kocaoğlan” adlı oyun, aşağıdakilerden hangisine aittir?

- A) Necip Fazıl Kısakürek
- B) Orhan Hançerlioğlu
- C) Orhan Asena
- D) İlhan Berk

10. “Endülüs’te Raks” isimli şiir aşağıdaki şairlerden hangisi tarafından yazılmıştır?

- A) Yahya Kemal Beyatlı
- B) Mehmet Akif Ersoy
- C) Faruk Nafiz Çamlıbel
- D) Ahmet Hamdi Tanpınar

11. Duygu, düşünce ve hayallerin ölçülü, uyaklı dizeler hâlinde örülmüş biçimine ne ad verilir?

- A) Tema
- B) Mecaz
- C) Uyak
- D) Nazım

12. Aşağıdakilerden hangisi Cumhuriyet Dönemi halk şairlerinden biridir?

- A) Ahmet Haşim
- B) Murat Çobanoğlu
- C) Mehmet Âkif Ersoy
- D) Yahya Kemal Beyatlı

13. Kitabe-i Seng-i Mezar

Hiçbir şeyden çekmedi dünyada
Nasırdan çektiği kadar;
Hatta çirkin yaratıldığından bile
O kadar müteessir değildi;
Kundurası vurmadiği zamanlarda
Anmazdı Allah’ın adını,
Günahkâr da sayılmazdı
Yazık oldu Süleyman Efendi’ye.

Bu şiirin şairi aşağıdakilerden hangisidir?

- A) Halide Nusret Zorlutuna
- B) Ömer Bedrettin Uşaklı
- C) Orhan Veli Kanık
- D) Zeki Ömer Defne

14. Millî Edebiyatın zevk ve anlayışını sürdüren şairlerdendir. Anadolu’da folklor çalışmaları yapmıştır. “Orda bir köy var uzakta; / O köy bizim köyümüzdür...” dizelerinin sahibidir.

Bu parçada tanıtılan şair aşağıdakilerden hangisidir?

- A) Orhan Veli Kanık
- B) Ahmet Kutsi Tecer
- C) Fazıl Hüsnü Dağlarca
- D) Asaf Halet Çelebi

15. Aşağıdakilerden hangisi hikâyenin özelliklerindendir?

- A) Serim, düğüm ve çözüm denenilen üç temel öge üzerine kurulur.
- B) Kahramanların kişilikleri derinliğine incelenir.
- C) Göstermeye bağlı edebî metin türüdür.
- D) Olayları ve kişileri olağanüstüdür.

16. “Bir İlkbahar Hikâyesi” isimli eser aşağıdaki yazarlardan hangisi tarafından yazılmıştır?

- A) Sait Faik Abasıyanık
- B) Muzaffer Buyrukçu
- C) Necati Cumalı
- D) Ayla Kutlu

17. “Memleket Hikâyeleri” adlı eser aşağıdakilerden hangisi tarafından yazılmıştır?

- A) Sabahattin Âli
- B) Ömer Seyfettin
- C) Refik Halit Karay
- D) Sait Faik Abasıyanık

18. Aşağıdakilerden hangisi İkinci Yeni akımının öncülerinden biri değildir?

- A) Turgut Uyar
- B) Cemal Süreya
- C) Edip Cansever
- D) Orhan Veli Kanık

19. Aşağıdakilerden hangisi Garipçilerin ilkelerinden biri değildir?

- A) Şiirsel söyleyişte konuşma dilinin doğallığından yararlanmak
- B) Yaşama sevincini ve yaşama hakkını işlemek
- C) Hece ölçüsü ve dörtlülük nazım birimi kullanmak
- D) Gülmededen, şaşırtmadan yararlanmak

20. Nazım Hikmet havasında şiirler yazdı. Zamanın Batı’da moda olan fütürist, kübik ve gerçeküstücü şiir akımlarını denedi. 20. yüzyılın sanat akımlarının etkisi altında yazılmış şiirlerinde yenileşme sürecine yol açtı.

“Sihirli Değnek” isimli şiirin de şairi olan bu sanatçı aşağıdakilerden hangisidir?

- A) Yahya Kemal Beyatlı
- B) Ercüment Behzat Lav
- C) Turgut Uyar
- D) Oktay Rifat

(711) İSLAM TARİHİ – 1

1. Hz. Muhammed’in ilk eşi, aşağıdakilerden hangisidir?

- A) Hz. Aişe
- B) Hz. Sevrde
- C) Hz. Hatice
- D) Hz. Zeynep

2. “Belli zamanlarda kurulan ve sergi niteliği taşıyan büyük pazar” tanımı, aşağıdaki kavramlardan hangisine aittir?

- A) Birun
- B) Evkaf
- C) Seriyeye
- D) Panayır

3. Hz. Muhammed’in ilk torunu, aşağıdakilerden hangisidir?

- A) Zeynep
- B) Hz. Hasan
- C) Hz. Hüseyin
- D) Ümmü Gülsüm

1. OTURUM

4. Müslümanların, Mekkelilere yenildikleri ilk ve son savaş, aşağıdakilerden hangisidir?
- A) Uhud B) Huneyn
C) Bedir D) Hendek
5. İran'ın fethi için yapılan Köprü, Kadisiye ve Nihavend savaşları, aşağıdaki hangi halifenin iktidarı dönemine rastlar?
- A) Hz. Ali B) Hz. Ömer
C) Hz. Osman D) Hz. Ebu Bekir
6. Rumi takvimin ilk ayı, aşağıdakilerden hangisidir?
- A) Kânûn-ı Sâni
B) Teşrin-i Evvel
C) Eylül
D) Mart
7. Aşağıdakilerden hangisi, Hz. Muhammed'in Hicret'ten sonra kazandığı bir özelliktir?
- A) Güvenirlik
B) Rasullük
C) Peygamberlik
D) Devlet başkanlığı
8. Müslümanların kendi aralarında yaptıkları ilk savaş, aşağıdakilerden hangisidir?
- A) Evtas B) Cemel
C) Celula D) Sıffin
9. Hz. Muhammed'in vefatı sonrası sahabe arasında ortaya çıkan halifelik tartışmasında Hz. Ebu Bekir, aşağıdakilerden hangilerine biat edilmesini önererek bu tartışmayı sonlandırmak istemiştir?
- A) Hz. Ali veya Hz. Osman'a
B) Hz. Ömer veya Hz. Hamza'ya
C) Hz. Ömer veya Ebu Ubeyde'ye
D) Hz. Hasan veya Hz. Hüseyin'e
10. Hz. Ali'yi zehirli bir kılıç darbesiyle yaralayarak onun şehit olmasına sebep olan Harici, aşağıdakilerden hangisidir?
- A) Velid bin Utbe
B) Muğire bin Şu'be
C) Muaviye bin Ebu Süfyan
D) Abdurrahman bin Mülcem
11. Sufyan bin Avf el-Ezdi kimdir?
- A) Muaviye Döneminde İstanbul'u kuşatan Emevi komutan
B) İber Yarımadası'nı fetheden Abbasi ordu komutanı
C) Hz. Muhammed'in sütkardeşi
D) Uhud Savaşı'ndaki okçulardan biri
12. Egemenliği "saltanat yoluyla" teslim alan ilk halife, aşağıdakilerden hangisidir?
- A) Mervan bin Hakem
B) Yezit bin Muaviye
C) Abdülmelik bin Mervan
D) Mervan bin Muhammed
13. Aşağıdakilerden hangisi, Dört Halife Dönemi'nde görülen gelişmelerden biri değildir?
- A) Puvatya Savaşı'nın kaybedilmesi
B) Suriye, İran ve Filistin'in fethedilmesi
C) Hicri takvimin kullanılmaya başlanması
D) Yalancı peygamberlerin ortadan kaldırılması
14. Arap General Ukbe bin Nafi tarafından yaptırılan Kayrevan Camisi, bugün hangi ülkenin sınırları içindedir?
- A) Mısır B) Libya
C) Tunus D) İspanya
15. Türkler, daha çok İslam tarihinin hangi döneminde, Müslüman Araplarla savaş hâlinde olmuşlardır?
- A) Emeviler Dönemi
B) Abbasiler Dönemi
C) Dört Halife Dönemi
D) Hz. Muhammed Dönemi
16. Endülüs emirlerinden Abdullah'ın 912 yılında ölümü sonrasında oğullarından ve kardeşlerinden kimse yönetimi üstlenmeyince yerine, aşağıdakilerden hangisi geçmek zorunda kalmıştır?
- A) Hasmî İbn Hafsûn
B) Asî İbrahim bin Haccâc
C) Dedesi II. Abdurrahman
D) Torunu III. Abdurrahman
17. İslam devletlerinde, savaşlarda elde edilen ganimetlerin beşte birinin devlete bırakılıp geri kalanının da savaşa katılanlar arasında paylaşılması durumu, özellikle aşağıdakilerden hangisinin gelişmesine katkı sağlamış olabilir?
- A) Bilim B) Sanat
C) Eğitim D) Askerlik
18. "İslâm mimarisinde bilinen ilk kubbeli eserlerden olan, Emevî Halifesi Abdülmelik devrinde 687 - 691 yılları arasında inşa edilmiştir." Verilen bilgi cümlesinin doğru olabilmesi için boş bırakılan yere, aşağıdakilerden hangisi yazılmalıdır?
- A) Ribat'ı Şerif Kervansarayı
B) Kubbetü's Sahra
C) Emeviye Camii
D) Kâbe
19. 930 yılında Mekke'yi yağmalayanlar ve sonrasında da Kâbe'den Hacerü'l-Esved taşını söküp Ahsa'ya götürenler, aşağıdakilerden hangileridir?
- A) Karmatîler B) Büveyhîler
C) Samanîler D) İhşidîler
20. Aşağıdaki devletlerden hangisinin yıkılması, Abbasilerle Moğolları komşu iki devlet yapmıştır?
- A) Memlûklerin
B) Rûstemîlerin
C) Harzemşahların
D) Anadolu Selçuklularının

1. OTURUM

(811) KELAM – 1

1. Aşağıdakilerden hangisi kelam ilminin amaçlarından biri değildir?

- A) Taklitten kurtarmak
- B) Şüpheleri gidermek
- C) İbadete yönlendirmek
- D) İnançları delillendirmek

2. Allah'ın "bir"liğini öne çıkaran delil aşağıdakilerden hangisidir?

- A) Hudus
- B) İmkan
- C) Kemal
- D) Temanu'

3. "De ki: O, Allah birdir. Allah samed (hiçbir şeye muhtaç olmayan her şeyin kendine muhtaçtır. O, doğurmamış ve doğurulmamıştır. Hiç bir şey O'na denk değildir." (İhlas suresi, 1-4 ayetler) Yukarıdaki surede konusu geçmeyen Allahın sıfatı hangisidir?

- A) Semi
- B) Vahdaniyet
- C) Kıyam binefsihi
- D) Muhalefetün li-l-Havadis

4. • 1058-1112 yılları arasında yaşamıştır.
• Mantık ilmini islami ilimler arasına almıştır.
• "Müteahhirin Dönemi" Onunla başlamıştır.

Hakkında bilgi verilen kelam alimi kimdir?

- A) İmam Eş'ari
- B) İmam Gazali
- C) İmam-ı Azam
- D) İmam Maturidi

5. Kelam alanında ilk eserler hangi mezhep alimleri tarafından yazılmıştır?

- A) Mutezile
- B) Eş'ariye
- C) Maturidiye
- D) Murcie

6. Allah'ın varlığının zorunlu olduğunu ifade etmek için aşağıdaki kavramlardan hangisi kullanılır?

- A) Âlem
- B) Hâdis
- C) Mümkün
- D) Vacip

7. Aşağıdakilerden hangisi kelamcılara göre bilginin kaynaklarından değildir?

- A) Akıl
- B) Vahiy
- C) İlham
- D) Duyu

8. "İnsan kendi fillerinin yaratıcısıdır. Eğer insanın fiillerinin yaratıcısı Allah olsaydı, insanın cezalandırılması anlamsız olurdu." Mutezile'nin yukarıda açıkladığı ilke hangisidir?

- A) Tevhit
- B) Adalet
- C) Va'd ve Va'id
- D) El-Menzil Beyne'l-Menziletayn

9. • Müslümanlar arasında ilk ortaya çıkan mezheplerdendir.
• Hakem olayını kabul edenleri "kafir" ilan etmişlerdir.
• Halifenin kureyşten olmasını şart koşmazlar.

Yukarıda hakkında bilgi verilen mezhep hangisidir?

- A) Şia
- B) Mürcie
- C) Havaric
- D) Mu'tezile

10. Aşağıdakilerden hangisi Eşari'nin görüşlerini devam ettiren alimlerden biri değildir?

- A) Bakıllani
- B) Beyzavi
- C) Fahreddin Razi
- D) Vasil b. Ata

11. Alevi-Bektaşî düşüncesinde "şariat kapısı"nın anlamı aşağıdakilerden hangisidir?

- A) Dinin ilk öğrenildiği kapıdır.
- B) Mürşide teslim olunan tevbe-karlık kapısıdır.
- C) Bilgi'yle Allaha ulaşma kapısıdır.
- D) Her zaman ve mekanda Allah ta yok olma kapısıdır.

12. "Makalat" adlı eser kimindir?

- A) Mevlana
- B) Yunus Emre
- C) Hacı Bektaş Veli
- D) Hoca Ahmet Yesevi

13. Ehli Beyti ve Hz. Ali'yi içten sevmek, onlardan şefaât beklemek anlamına gelen terim aşağıdakilerden hangisidir?

- A) Musahiplik
- B) Mehdilik
- C) Teberra
- D) Tevella

14. Aşağıdakilerden hangisi imam Maturidi'nin görüşlerinden değildir?

- A) Müminler ahiretle Allah'ı görebilecektir.
- B) Akıl yoluyla Allah'ın varlığı fikrine ulaşamaz.
- C) Büyük günah işleyen kişi kafir olmaz.
- D) Din aklın güzel olanı emreder, çirkin olanı yasaklar.

15. Alevilik-Bektaşîlik düşüncesine göre aşağıdakilerden hangisi Ehli Beyt'ten kabul edilmez?

- A) Hz. Aişe
- B) Hz. Fatıma
- C) Hz. Hasan
- D) Hz. Hüseyin

16. "Var olan her şeyin bir yaratıcısı olması gerekir" şeklinde özetlenen delil aşağıdakilerden hangisidir?

- A) İmkan
- B) Hudus
- C) Kemal
- D) Gaye ve Nizam

1. OTURUM

(931) SİYER – 1

17. İnsanların amellerini kaydeden melek aşağıdakilerden hangisidir?

- A) Mikail
- B) Cebrail
- C) Kiramen-Kâtibin
- D) Koruyucu melekler

18. “Onlar müminlerle karşılaş-tıkları imana ettik” derler. Şeytanları ile başbaşa kaldıkları ise; Biz sizinle beraberiz, onlarla sadece alay ediyoruz” derler. (Bakara suresi, 14. ayet)

Bu ayette dile getirilen tutum aşağıdakilerden hangisine aittir?

- A) Mümin
- B) Münafık
- C) Kafir
- D) Müşrik

19. Allahın isimlerinden olan “mü-heymin” kelimesinin anlamı nedir?

- A) Ezeli olan
- B) Edebi olan
- C) Terbiye eden
- D) Görüp gözetken

20. Kuran-ı Kerim’de şeytan ile ilgili aşağıdakilerden hangisine değinilmez?

- A) Gaybı bildiğine
- B) İnsanı saptırdığına
- C) Ateşten yaratıldığına
- D) İnanmayanların dostu olduğuna

1. Aşağıdakilerden hangisi İslam öncesi Arap Yarımadasındaki dini inanışlardan biri değildir?

- A) Putperestlik
- B) Mecusilik
- C) Yahudilik
- D) Bedevilik

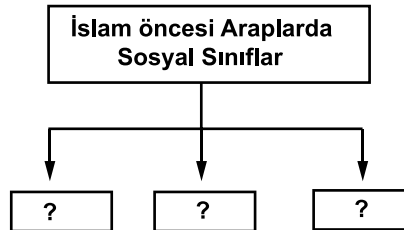
2. Aşağıdakilerden hangisi İslam öncesi Arap toplumunda aslen Arap olmayıp sonradan Araplaşan kabilelere verilen isimdir?

- A) Arab-ı âribe
- B) Arab-ı müstağribe
- C) Muallakat-ı Seba
- D) Eyyamü-l Arab

3. Hadarî kavramının anlamı aşağıdakilerden hangisinde dile getirilmiştir?

- A) Aynı soydan gelen fertlerin oluşturduğu topluluk
- B) İslam gelmeden önce Hz. İbrahim’in tebliğ ettiği inancı benimseyenler
- C) Çöl ve vahalarda göçebe olarak yaşayan Araplar
- D) İslam öncesi Araplarda köy, kasaba ve şehirde yerleşik hayat yaşayanlar

4.



“?” işareti ile belirten yerlere konulacak kavramlar hangi şıkta birlikte verilmiştir?

- A) Hür - Mevali - Köle
- B) Mecusi - Hadarî - Köleler
- C) Bedevi - Putperest - Mevali
- D) Hristiyan - Yahudi - Mecusi

5. “Onlara, ‘Allah’ın indirdiğine uyun!’ denildiğinde, ‘Hayır, biz atalarımızı üzerinde bulduğumuz yola uyarız!’ derler...” (Bakara suresi, 170. ayet)

Bu ayet Mekke müşriklerinin İslam’ı kabullenmelerini zorlaştıran aşağıdaki özelliklerinden hangisi dile getirilmektedir?

- A) Statülerini kaybetmek istememeleri
- B) Yaygın olarak putperestliği benimsemeleri
- C) Örf ve adetlerine bağlı olmaları
- D) Ekonomik kayba uğrayacaklarını düşünmeleri

6. Aşağıdakilerden hangisi İslam öncesi Mekke toplumunda yazının kullanıldığına kanıt olmaz?

- A) Çok beğenilen şiirlerin Kâbe’nin duvarına asılması
- B) Şairlerin toplumda saygın bir yerde olması
- C) Deri, hurma dalları, deve kemikleri gibi şeylerin yazı malzemesi olarak kullanılması
- D) O döneme ait bazı anlaşma metinlerinin mevcut olması

7. İslam öncesi Arap toplumunda aşağıdaki sanat dallarından hangisi gelişmiştir?

- A) Resim
- B) Mimari
- C) Edebiyat
- D) Minyatür

8. İslam öncesi Arap toplumunda kan davalarının çok yaygın olmasının en temel sebebi aşağıdakilerden hangisidir?

- A) Fertlerin gelirlerinin birbirinden farklı olması
- B) Toplum yapısının asabiyet üzerine kurulması
- C) İnsanların çoğunluğunun göçebe hayat yaşamaması
- D) Toplumda düzeni sağlayacak merkezî bir gücün olmaması

1. OTURUM

(974) GİRİŞİMCİLİK – 1

9. Hz. Muhammed'e gelen ilk ayetlerde (Alak suresi 1-5. ayetler) aşağıdakilerden hangisinden bahsedilmez?

- A) İbadetten B) Yaratmaktan
C) Yazmaktan D) Öğrenmekten

10. Fetretü'l-vahiy (vahyin kesilmesi) hangi suredeki ayetlerle son bulmuştur?

- A) Alak B) Hicr
C) Müddesir D) İnşirah

11. Aşağıdakilerden hangisi "ilk müslümanlar" arasında sayılmaz?

- A) Hz. Ali
B) Hz. Hamza
C) Hz. Ebu Bekir
D) Zeyd bin Harise

12. "Sana emrolunanı açıkça söyle ve müşriklere aldırma" (Hicr suresi, 94. ayet)

Bu ayetin Hz. Muhammed'in İslam'ı tebliği açısından önemi aşağıdaki seçeneklerin hangisinde ifade edilmiştir?

- A) Açıktan davet dönemi başlamıştır.
B) Kendisinin bir peygamber olduğunu farketmiştir.
C) Davetinde ısrarcı olmaktan vazgeçmiştir.
D) Daveti Mekke'nin dışına taşımıştır.

13. Aşağıdakilerden hangisi Mekkeli müşriklerin, İslam'ın yayılmasını engellemek için başvurdukları yollardan biri değildir?

- A) Müslümanlara eziyet ve işken-
ce ederek insanların gözünü korkutmak
B) Ebu Talib aracılığıyla davasından dönmesi konusunda Hz. Muhammed'i ikna etmek
C) Servet ve Mekke'nin liderliği gibi çeşitli tekliflerle Hz. Muhammed'i davasından döndürmek
D) İslam dinini benimseyenleri Mekke'nin dışına çıkarmak

14. Müslümanların Habeşistan'a ilk hicretleri hangi tarihte gerçekleşmiştir?

- A) 615 B) 617 C) 619 D) 621

15. Habeşistan'a hicret eden ikinci kabileye aşağıdakilerden hangisi başkanlık etmiştir?

- A) Amr bin As
B) Ali bin Ebi Talib
C) Cafer bin Ebi Talib
D) Abdurrahman bin Avf

16. Mekkeli müşriklerin Hz. Muhammed ve diğer müslümanlara uyguladıkları "boykot" hangi yıllar arasında gerçekleşmiştir?

- A) 610-612 B) 616-619
C) 622-630 D) 620-632

17. Aşağıdakilerden hangisi İslam tarihine "hüzün yılı" olarak geçen 620'de gerçekleşmiştir?

- A) Hz. Hatice'nin vefatı
B) Medine'ye Hicret
C) İsrâ ve Miraç olayı
D) Boykot'un sona ermesi

18. Hz. Muhammed'in İslam'ı öğretmesi için Medine'ye gönderdiği sahâbi aşağıdakilerden hangisidir?

- A) Ali b. Ebi Talib
B) Amr ibn As
C) Bilal-i Habeşi
D) Musab b. Umeyr

19. İslam'ın ilk mescidi nerede inşa edilmiştir?

- A) Mekke B) Taif
C) Kuba D) Şam

20. Aşağıdaki olaylardan hangisi Hicret'ten sonra gerçekleşmiştir?

- A) Akabe biatları
B) Hudeybiye antlaşması
C) Hz. Ömer'in müslüman olması
D) Hz. Muhammed'in Taif yolculuğu

1. Bir girişimci, yapacağı üretim çalışmaları planlanmasında, aşağıdakilerden hangisine öncelikle ihtiyaç duymaz?

- A) Doğal kaynaklara
B) Emek ve sermayeye
C) Planlama yapacak kişilere
D) Yöneticilerin belirlenmesine

2. Daha önceden üretilip, üretimde kullanılan tüm değerlerin karşılığı aşağıdakilerden hangisidir?

- A) Emek
B) Doğal kaynaklar
C) Sermaye
D) Üretim

3. Fırsat müteşebbisliği türünde, aşağıdakilerden hangisi yapılmaz?

- A) Pazar fırsatlarını değerlendirmek.
B) Piyasaya herkesten önce girmek.
C) Yeni bir buluş üzerinde çalışmak.
D) İhtiyaç duyulan malları önceden fark etmek.

4. Aşağıdakilerden hangisi, müteşebbisin ekonomik bir kaynak olduğunu göstermez?

- A) Risk alması
B) Kâr amacı gütmemesi
C) Mal ve hizmet üretmeyi hedeflemesi
D) Üretim faktörlerini bir araya getirmesi

5. Aşağıdakilerden hangisi, dünyada müteşebbisliğin önemli bir konuma sahip olmasının nedenlerinden biri değildir?

- A) İthalatın artmasını sağlar.
B) İşsizlikle mücadele eder.
C) Bilimin gelişmesini sağlar.
D) Kamu hizmetlerinin kalitesini artırır.

1. OTURUM

6. Bilim adamı Abraham H. Maslow'un ihtiyaç hiyerarşisine göre, diğer bütün gereksinimlerini karşılayan insanlarda görülebilecek ihtiyaç hangisidir?

- A) Fizyolojik B) Başarma
C) Saygı D) Ait olma

7. Başka fiziksel malların yapımı için kullanılan, temel özellikleri kısmen yada tamamen değişen mal türü aşağıdakilerden hangisidir?

- A) Hammaddeler
B) İşletme gereçleri
C) Yatırım donatım malları
D) Üretim gereçleri ve parçaları

8. Aşağıdakilerden hangisi arz kapsamında değerlendirilecek özelliklerden biridir?

- A) Kâr sağlama
B) Topluma hizmet etme
C) İşletmenin yaşamını sürdürme
D) Belli bir fiyat karşılığının olması

9. Bir işletmenin iş güvenliği ile ilgili yapacakları, aşağıda verilenlerden hangisi kapsamında planlanmalıdır?

- A) İşletmenin işlevleri
B) İşletmenin özellikleri
C) İşletmenin özel amaçları
D) İşletmenin genel amaçları

10. Aşağıdakilerden hangisi, işletme yönetiminde başarılı bir yöneticinin "Destekleyicilik" niteliğini göstermektedir?

- A) Tutarlı davranışlar gösterme.
B) Kişisel heyecanını kanıtlama.
C) Başarıyı arama, bulma ve kullanma.
D) Etkileme ve duygularını anlayabilme.

11. Planlama ile ilgili verilen açıklamalardan hangisi doğru değildir?

- A) Planlama akılcı bir yöntemdir.
B) Planlama ile yüksek risk alınmış olunur.
C) Planlama ileriye görerek önceden karar vermedir.
D) Davranış biçimlerinin önceden tespit edilmesidir.

12. Tüm işletmelerde birimlerin çalışırken birbirleri ile uyumlu olması şartı, yönetimin temel işlevlerinden hangisi ile ilgilidir?

- A) Planlama
B) Organizasyon
C) Koordinasyon
D) Sevk ve idare

13. Sosyal sorumluluk ile ilgili kalite belgesi aşağıdakilerden hangisidir?

- A) ISO 8000 B) ISO 9000
C) ISO 14000 D) ISO 22000

14. Aşağıdakilerden hangisi kamu işletmelerinin kuruluş nedenleri arasında yer almaz?

- A) Mali nedenler
B) Sosyal nedenler
C) Ekonomik nedenler
D) Yasal nedenler

15. Aşağıdakilerden hangisi, bir işletmenin şirket olabilmesi için uygun bir şart değildir?

- A) Ortak bir amaç olmalıdır.
B) Ortaklar arası bir görüşme olmalıdır.
C) Ortak üretim elemanlarına sahip olunmalı.
D) Şirket kuranların sayısı birden çok olmalıdır.

16. Aşağıdaki açıklamalardan hangisi, Kamu İktisadi Teşebbüslerinin Özelliklerinden biri değildir?

- A) Sorumlulukları, tüm servetleri kadardır.
B) Başbakanlık Denetleme Kurulunca denetlenir.
C) Yüksek denetleme Kurulunca da denetlenebilir
D) KİT ürün fiyatları Bakanlar Kurulunca belirlenir.

17. Köprü, baraj,büyük santral projeleri için birden fazla işletmenin geçici olarak bir araya gelerek bu projeleri gerçekleştirmeleri, işletmelerin sınıflandırılması bakımından aşağıdakilerden hangisidir?

- A) Tröstler
B) Holdingler
C) Karteller
D) Konsorsiyumlar

18. İşletme yöneticilerinin sözlü olarak ürettikleri bir yada bir kaç malı depo etme konusunda kurdukları birlikteliklere ne ad verilmektedir?

- A) Merger B) Füzyon
C) Kornerler D) Konsernler

19. Aşağıdaki açıklamalardan hangisi, satışın temel ilkelerinden biri değildir?

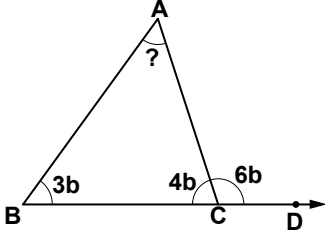
- A) Satış, satıcıya göre düzenlenmelidir.
B) Pazar ve rakiplerin şartları bilinmelidir.
C) Satış için gereken tüm çabalar sarfedilmelidir.
D) Pazarlama elemanlarına uygun şartlar yaratılmalıdır.

20. "Açık hava reklamı" aşağıdaki reklam çeşitlerinden hangisi ile ilgilidir?

- A) Coğrafi açıdan
B) Yapanlar açısından
C) Reklam içeriği açısından
D) Kullanılan araç açısından

1. OTURUM

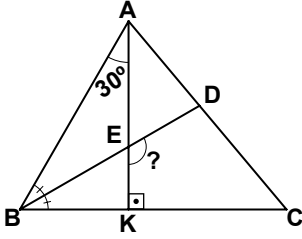
1.



Şekildeki ABC üçgeninde, $m(\widehat{ABC}) = 3b$, $m(\widehat{BCA}) = 4b$ ve $m(\widehat{ACD}) = 6b$ olduğuna göre, $m(\widehat{BAC})$ kaç derecedir?

- A) 54 B) 60 C) 64 D) 72

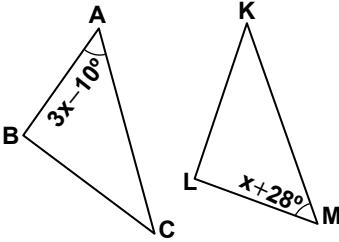
2.



Şekildeki ABC üçgeninde, $[AK] \perp [BC]$ ve $[BD] \perp [AC]$ 'nin açıortaydır. $m(\widehat{BAK}) = 30^\circ$ olduğuna göre, $m(\widehat{DEK})$ kaç derecedir?

- A) 110 B) 120
C) 140 D) 150

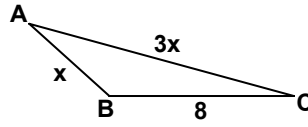
3.



Şekildeki ABC ve KLM üçgenleri için $\widehat{ABC} \cong \widehat{MLK}$, $m(\widehat{BAC}) = 3x - 10^\circ$ ve $m(\widehat{LMK}) = x + 28^\circ$ olduğuna göre, x kaç derecedir?

- A) 9 B) 15 C) 19 D) 23

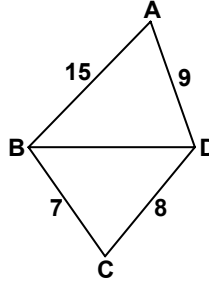
4.



Şekildeki ABC üçgeninde, x bir tam sayı, $|BC| = 8$ cm, $|AB| = x$ cm ve $|AC| = 3x$ cm olduğuna göre, ABC üçgeninin çevresinin uzunluğu kaç santimetredir?

- A) 23 B) 22 C) 21 D) 20

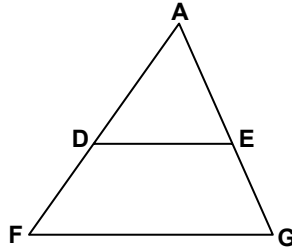
5.



Şekilde verilenlere göre, $|BD|$ 'nin alabileceği kaç farklı tam sayı değeri vardır?

- A) 6 B) 7 C) 8 D) 9

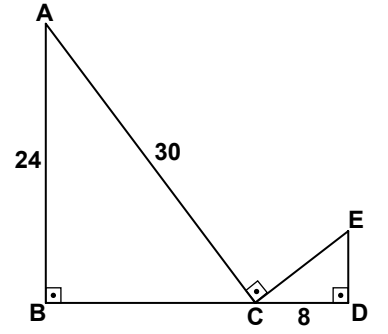
6.



Şekildeki AFG üçgeninde, $[DE] \parallel [FG]$, $\frac{|AD|}{|DF|} = \frac{2}{3}$ ve $|DE| = 10$ cm olduğuna göre, $|FG|$ kaç santimetredir?

- A) 18 B) 21 C) 24 D) 25

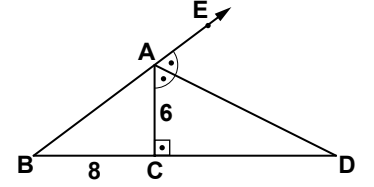
7.



Şekilde B, C, D noktaları doğrusal, $[AB] \perp [BC]$, $[AC] \perp [CE]$ ve $[ED] \perp [DC]$ 'tir. $|AB| = 24$ cm, $|AC| = 30$ cm ve $|CD| = 8$ cm olduğuna göre, $|CE|$ kaç santimetredir?

- A) 10 B) 12 C) 14 D) 18

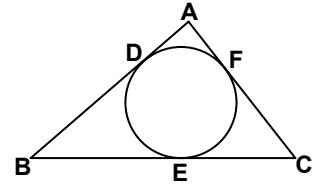
8.



Şekilde $[AC] \perp [BD]$ ve $[AD] \perp [CE]$ 'nin açıortaydır. $|AC| = 6$ cm ve $|BC| = 8$ cm olduğuna göre, $|CD|$ kaç santimetredir?

- A) 10 B) 12 C) 14 D) 16

9.

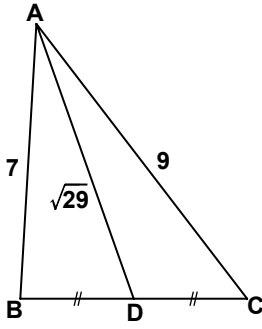


Şekilde ABC üçgeni ve iç teğet çemberi verilmiştir. $|AD| = 3$ cm, $|AB| = 11$ cm ve $|BC| = 14$ cm olduğuna göre, $|AC|$ kaç santimetredir?

- A) 9 B) 10 C) 11 D) 12

1. OTURUM

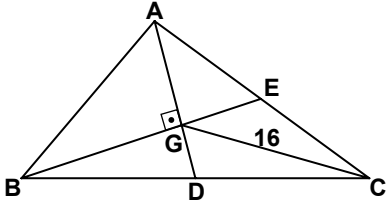
10.



Şekildeki ABC üçgeninde, $[AD]$ kenarortaydır. $|AB| = 7$ cm, $|AC| = 9$ cm ve $|AD| = \sqrt{29}$ cm olduğuna göre, $|BC|$ kaç santimetredir?

- A) 8 B) 10 C) 12 D) 14

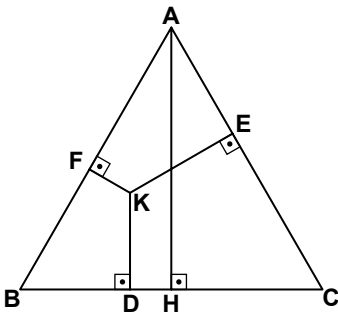
11.



Şekildeki ABC üçgeninde, $[AD]$ ve $[BE]$ kenarortay ve $[AG] \perp [BG]$ 'tir. $|GC| = 16$ cm olduğuna göre, $|AB|$ kaç santimetredir?

- A) 8 B) 12 C) 14 D) 16

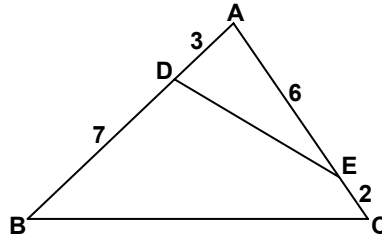
12.



Şekildeki ABC üçgeni eşkenar üçgendir. $[AH] \perp [BC]$, $[KF] \perp [AB]$, $[KE] \perp [AC]$ ve $[KD] \perp [BC]$ 'tir. $|KF| = 2$ cm, $|KE| = 4$ cm ve $|KD| = 4$ cm olduğuna göre, ABC üçgeninin çevresinin uzunluğu kaç santimetredir?

- A) 20 B) $20\sqrt{3}$
C) 30 D) $30\sqrt{3}$

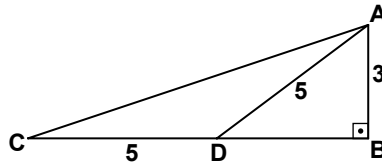
13.



Şekildeki ABC üçgeninde, $|AD| = 3$ cm, $|DB| = 7$ cm, $|AE| = 6$ cm ve $|EC| = 2$ cm olduğuna göre, $\frac{A(\widehat{ADE})}{A(\widehat{ABC})}$ kaçtır?

- A) $\frac{9}{40}$ B) $\frac{5}{13}$
C) $\frac{1}{2}$ D) $\frac{4}{5}$

14.



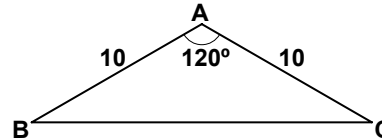
Şekildeki ABC üçgeninde, $[AB] \perp [BC]$ 'tir. $|AB| = 3$ cm, $|AD| = 5$ cm ve $|CD| = 5$ cm olduğuna göre, $|AC|$ kaç santimetredir?

- A) $5\sqrt{2}$ B) $3\sqrt{5}$
C) $4\sqrt{6}$ D) $3\sqrt{10}$

15. $0^\circ < \alpha < 90^\circ$ olmak üzere, $\sin \alpha = \frac{2}{\sqrt{13}}$ ise $\tan \alpha$ kaçtır?

- A) $\frac{\sqrt{13}}{2}$ B) $\frac{\sqrt{13}}{3}$
C) $\frac{3}{2}$ D) $\frac{2}{3}$

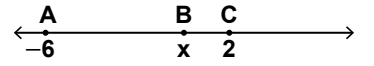
16.



Şekildeki ABC üçgeninde, $|AB| = |AC| = 10$ cm ve $m(\widehat{BAC}) = 120^\circ$ olduğuna göre, $|BC|$ kaç santimetredir?

- A) $10\sqrt{2}$ B) $10\sqrt{3}$
C) 12 D) 15


17.



Şekildeki sayı doğrusunda, $|\overrightarrow{AB}| = 3 \cdot |\overrightarrow{BC}|$ olduğuna göre, x kaçtır?

- A) -2 B) -1
C) 0 D) 1

18.



A, B, C noktaları doğrusal ve $5|\overrightarrow{AB}| = 3|\overrightarrow{BC}|$ olduğuna göre, \overrightarrow{BA} nün \overrightarrow{AC} cinsinden ifadesi aşağıdakilerden hangisidir?

- A) $-\frac{3}{5}\overrightarrow{AC}$ B) $-\frac{3}{8}\overrightarrow{AC}$
C) $\frac{5}{3}\overrightarrow{AC}$ D) $\frac{8}{3}\overrightarrow{AC}$

19. Bir torbada 1'den 9'a kadar numaralandırılmış aynı büyüklükte 9 top vardır. Torbadan rastgele bir top çekildiğinde 5'ten küçük veya tek sayı olması olasılığı nedir?

- A) $\frac{4}{9}$ B) $\frac{5}{9}$ C) $\frac{7}{9}$ D) $\frac{8}{9}$

20. 6, 8, 11, x sayılarının aritmetik ortalaması 8 olduğuna göre, standart sapması kaçtır?

- A) $\sqrt{\frac{14}{3}}$ B) $\sqrt{\frac{17}{3}}$
C) $\sqrt{\frac{21}{4}}$ D) $\sqrt{\frac{23}{4}}$

TEST BİTTİ.
CEVAPLARINIZI KONTROL EDİNİZ.

SINAV SÜRESİNCE UYULACAK KURALLAR

- 1. Adaylar, sınav kurallarına ve salon görevlilerinin tüm uyarılarına uymak zorundadırlar. Kurallara ve uyarılara uymayan adayların sınavları geçersiz sayılacaktır.**
- 2. Sınav başladıktan sonra adayların salon görevlileri ve birbirleri ile konuşmaları, kalem, silgi vb. şeyleri istemeleri yasaktır.**
- 3. Adaylar sınav süresince, sınav giriş belgesi ile birlikte kimlik belgelerinden birini (nüfus cüzdanı, pasaport veya sürücü belgesi) masalarının üzerinde bulundurmamak zorundadırlar.**

SALON GÖREVLİLERİNCE SINAV BAŞLAMADAN ÖNCE ADAYLARA YAPILACAK SON UYARI

- Soracağınız bir şey var mı? Varsa şimdi sorunuz.
- Sınav başladıktan sonra sorularınıza cevap verilmeyecektir.
- Başlama zilini bekleyiniz.
- Hepinize başarılar dileriz.

(Salon başkanı başlama ve bitiş saatini tahtaya yazacaktır.)

Bu kitapçığın her hakkı saklıdır. Hangi amaçla olursa olsun, kitapçığın tamamının veya bir kısmının Millî Eğitim Bakanlığı Yenilik ve Eğitim Teknolojileri Genel Müdürlüğünün yazılı izni olmadan kopya edilmesi, fotoğraflarının çekilmesi, bilgisayar ortamına alınması, herhangi bir yolla çoğaltılması, yayımlanması veya başka bir amaçla kullanılması yasaktır. Bu yasağa uymayanlar, doğabilecek cezai sorumluluğu ve kitapçığın hazırlanmasındaki mali külfeti peşinen kabullenmiş sayılır.

**31 MAYIS 2014 TARİHİNDE YAPILAN AÇIKÖĞRETİM LİSESİ / MESLEKİ AÇIKÖĞRETİM LİSESİ
2013-2014 ÖĞRETİM YILI 2. DÖNEM SINAVI 1. OTURUM T KİTAPÇIĞI CEVAP ANAHTARI**

DİN KÜL. AHL. BİL. – 1	DİN KÜL. AHL. BİL. – 5	SEÇMELİ FELSEFE – 1	TARİH – 6
1. B	1. C	1. B	1. D
2. A	2. C	2. A	2. D
3. C	3. A	3. D	3. C
4. A	4. B	4. D	4. D
5. C	5. D	5. C	5. A
6. D	6. A	6. A	6. A
7. B	7. C	7. C	7. B
8. C	8. B	8. C	8. C
9. B	9. D	9. D	9. A
10. B	10. C	10. A	10. C
11. D	11. A	11. C	11. C
12. C	12. B	12. D	12. D
13. A	13. D	13. C	13. B
14. D	14. D	14. D	14. D
15. D	15. A	15. B	15. A
16. B	16. A	16. C	16. B
17. A	17. C	17. B	17. C
18. C	18. A	18. B	18. B
19. B	19. B	19. D	19. A
20. D	20. D	20. A	20. D
DİN KÜL. AHL. BİL. – 2	FELSEFE – 1	TARİH – 2	COĞRAFYA – 1
1. C	1. A	1. D	1. D
2. D	2. D	2. A	2. B
3. B	3. A	3. B	3. C
4. A	4. C	4. D	4. C
5. A	5. D	5. B	5. B
6. B	6. B	6. D	6. D
7. B	7. B	7. A	7. A
8. C	8. D	8. A	8. D
9. D	9. C	9. B	9. B
10. A	10. D	10. C	10. A
11. D	11. C	11. C	11. D
12. A	12. B	12. B	12. C
13. C	13. D	13. B	13. B
14. B	14. B	14. C	14. D
15. D	15. A	15. D	15. A
16. B	16. B	16. D	16. B
17. D	17. C	17. B	17. C
18. B	18. D	18. A	18. A
19. A	19. A	19. C	19. A
20. D	20. A	20. A	20. C

**31 MAYIS 2014 TARİHİNDE YAPILAN AÇIKÖĞRETİM LİSESİ / MESLEKİ AÇIKÖĞRETİM LİSESİ
2013-2014 ÖĞRETİM YILI 2. DÖNEM SINAVI 1. OTURUM T KİTAPÇIĞI CEVAP ANAHTARI**

COĞRAFYA – 5	İNGİLİZCE – 1	FRANSIZCA – 1	ALMANCA – 5
1. D 2. B 3. A 4. C 5. B 6. D 7. A 8. D 9. C 10. B 11. C 12. B 13. D 14. A 15. B 16. D 17. A 18. C 19. A 20. C	1. D 2. B 3. D 4. B 5. A 6. B 7. D 8. C 9. A 10. D 11. A 12. D 13. C 14. B 15. C 16. A 17. A 18. C 19. B 20. D	1. A 2. C 3. B 4. D 5. D 6. A 7. C 8. B 9. A 10. D 11. B 12. C 13. A 14. D 15. A 16. A 17. C 18. C 19. D 20. B	1. C 2. D 3. B 4. A 5. A 6. C 7. D 8. A 9. B 10. D 11. A 12. C 13. B 14. A 15. C 16. D 17. C 18. D 19. B 20. B
COĞRAFYA – 7	ALMANCA – 1	İNGİLİZCE – 5	FRANSIZCA – 5
1. D 2. D 3. A 4. C 5. C 6. B 7. D 8. C 9. A 10. B 11. A 12. C 13. B 14. A 15. D 16. D 17. C 18. A 19. A 20. B	1. A 2. C 3. B 4. B 5. A 6. D 7. D 8. C 9. A 10. B 11. B 12. C 13. A 14. C 15. D 16. B 17. D 18. A 19. B 20. C	1. C 2. B 3. D 4. D 5. C 6. B 7. D 8. A 9. D 10. B 11. C 12. D 13. B 14. A 15. B 16. C 17. A 18. B 19. A 20. C	1. A 2. D 3. B 4. C 5. B 6. A 7. C 8. D 9. B 10. C 11. B 12. A 13. C 14. C 15. A 16. C 17. C 18. A 19. D 20. B

**31 MAYIS 2014 TARİHİNDE YAPILAN AÇIKÖĞRETİM LİSESİ / MESLEKİ AÇIKÖĞRETİM LİSESİ
2013-2014 ÖĞRETİM YILI 2. DÖNEM SINAVI 1. OTURUM T KİTAPÇIĞI CEVAP ANAHTARI**

DİL ve ANLATIM – 1	DİL ve ANLATIM – 7	TÜRK EDEBİYATI – 4	TÜRK EDEBİYATI – 8
1. C	1. B	1. C	1. B
2. B	2. A	2. B	2. C
3. A	3. C	3. D	3. B
4. D	4. D	4. B	4. D
5. C	5. C	5. A	5. A
6. B	6. B	6. C	6. C
7. A	7. C	7. D	7. A
8. D	8. C	8. A	8. B
9. B	9. D	9. B	9. D
10. D	10. A	10. A	10. C
11. C	11. B	11. B	11. B
12. D	12. A	12. C	12. A
13. A	13. B	13. D	13. D
14. B	14. D	14. A	14. D
15. A	15. A	15. D	15. C
16. A	16. D	16. B	16. B
17. D	17. C	17. A	17. A
18. C	18. D	18. D	18. D
19. B	19. B	19. C	19. C
20. C	20. A	20. C	20. A
DİL ve ANLATIM – 2	DİL ve ANLATIM – 8	TÜRK EDEBİYATI – 7	FİZİK – 1
1. C	1. D	1. C	1. B
2. D	2. D	2. D	2. A
3. B	3. A	3. D	3. C
4. A	4. B	4. A	4. D
5. A	5. C	5. B	5. D
6. B	6. B	6. A	6. C
7. B	7. A	7. C	7. D
8. D	8. B	8. B	8. C
9. C	9. A	9. D	9. A
10. A	10. D	10. C	10. A
11. D	11. C	11. A	11. B
12. C	12. A	12. B	12. C
13. A	13. D	13. D	13. D
14. D	14. B	14. B	14. B
15. C	15. C	15. A	15. D
16. D	16. D	16. B	16. B
17. B	17. C	17. C	17. B
18. B	18. B	18. D	18. A
19. C	19. C	19. C	19. C
20. A	20. A	20. A	20. A

**31 MAYIS 2014 TARİHİNDE YAPILAN AÇIKÖĞRETİM LİSESİ / MESLEKİ AÇIKÖĞRETİM LİSESİ
2013-2014 ÖĞRETİM YILI 2. DÖNEM SINAVI 1. OTURUM T KİTAPÇIĞI CEVAP ANAHTARI**

FİZİK – 5	KİMYA – 6	BİYOLOJİ – 3	EKONOMİ – 1
1. A	1. C	1. D	1. B
2. C	2. A	2. A	2. D
3. A	3. D	3. B	3. C
4. C	4. B	4. A	4. A
5. B	5. A	5. B	5. B
6. D	6. C	6. D	6. D
7. B	7. B	7. C	7. C
8. B	8. D	8. B	8. A
9. D	9. B	9. D	9. B
10. A	10. A	10. C	10. C
11. C	11. C	11. C	11. A
12. D	12. D	12. A	12. A
13. A	13. D	13. C	13. D
14. D	14. B	14. A	14. C
15. C	15. C	15. C	15. D
16. A	16. A	16. D	16. B
17. B	17. B	17. A	17. D
18. D	18. C	18. C	18. A
19. C	19. C	19. B	19. B
20. B	20. D	20. B	20. C
KİMYA – 2	BİYOLOJİ – 1	BİYOLOJİ – 6	TEMEL DİNİ BİL. – 1
1. C	1. B	1. B	1. D
2. A	2. B	2. A	2. D
3. B	3. D	3. D	3. A
4. D	4. A	4. A	4. B
5. A	5. B	5. B	5. D
6. C	6. C	6. D	6. C
7. B	7. A	7. B	7. B
8. D	8. C	8. B	8. D
9. C	9. C	9. A	9. C
10. B	10. A	10. C	10. B
11. D	11. D	11. C	11. A
12. B	12. D	12. A	12. B
13. A	13. A	13. B	13. C
14. D	14. C	14. D	14. A
15. C	15. C	15. A	15. D
16. B	16. D	16. C	16. C
17. C	17. D	17. D	17. B
18. B	18. B	18. D	18. A
19. A	19. A	19. C	19. D
20. D	20. A	20. A	20. B

**31 MAYIS 2014 TARİHİNDE YAPILAN AÇIKÖĞRETİM LİSESİ / MESLEKİ AÇIKÖĞRETİM LİSESİ
2013-2014 ÖĞRETİM YILI 2. DÖNEM SINAVI 1. OTURUM T KİTAPÇIĞI CEVAP ANAHTARI**

İŞ GÜVENLİĞİ – 1	MANTIK – 2	TRAF. VE İLK YARD. – 1	İNGİLİZCE – 8
1. A	1. C	1. D	1. D
2. D	2. C	2. A	2. C
3. C	3. D	3. C	3. B
4. B	4. B	4. D	4. A
5. A	5. A	5. C	5. B
6. C	6. B	6. B	6. D
7. B	7. C	7. A	7. B
8. D	8. D	8. A	8. C
9. C	9. A	9. B	9. C
10. A	10. B	10. D	10. B
11. B	11. D	11. A	11. D
12. D	12. A	12. B	12. A
13. B	13. A	13. D	13. A
14. C	14. D	14. A	14. C
15. A	15. D	15. B	15. A
16. D	16. C	16. C	16. D
17. C	17. A	17. B	17. B
18. D	18. B	18. C	18. D
19. B	19. D	19. D	19. D
20. A	20. B	20. A	20. C
İŞLETME – 2	SAĞLIK BİLGİSİ – 2	GEOMETRİ – 5	ALMANCA – 8
1. D	1. D	1. B	1. A
2. C	2. A	2. C	2. D
3. A	3. B	3. A	3. B
4. B	4. C	4. B	4. D
5. A	5. B	5. D	5. A
6. B	6. D	6. A	6. C
7. C	7. A	7. C	7. C
8. D	8. C	8. D	8. A
9. A	9. C	9. D	9. B
10. D	10. D	10. A	10. D
11. A	11. A	11. C	11. C
12. C	12. C	12. B	12. A
13. D	13. B	13. C	13. B
14. C	14. A	14. A	14. B
15. B	15. D	15. D	15. A
16. A	16. C	16. B	16. C
17. B	17. B	17. C	17. D
18. B	18. D	18. D	18. B
19. D	19. A	19. B	19. C
20. C	20. A	20. A	20. D

**31 MAYIS 2014 TARİHİNDE YAPILAN AÇIKÖĞRETİM LİSESİ / MESLEKİ AÇIKÖĞRETİM LİSESİ
2013-2014 ÖĞRETİM YILI 2. DÖNEM SINAVI 1. OTURUM T KİTAPÇIĞI CEVAP ANAHTARI**

FRANSIZCA – 8	SEÇ. Y. DİL İNG. – 5	SEÇ. Y. DİL FRAN. – 5	SEÇ. Y. DİL ALM. – 8
1. C	1. C	1. A	1. A
2. A	2. B	2. C	2. C
3. B	3. A	3. A	3. B
4. C	4. B	4. D	4. D
5. A	5. C	5. C	5. B
6. D	6. A	6. A	6. A
7. B	7. D	7. B	7. C
8. C	8. A	8. C	8. B
9. D	9. C	9. A	9. D
10. A	10. B	10. B	10. A
11. D	11. D	11. D	11. D
12. D	12. C	12. C	12. C
13. B	13. B	13. A	13. A
14. B	14. A	14. D	14. C
15. C	15. D	15. A	15. A
16. A	16. C	16. B	16. D
17. D	17. A	17. B	17. D
18. C	18. D	18. D	18. B
19. D	19. A	19. C	19. C
20. B	20. B	20. B	20. B
FIKİH – 1	SEÇ. Y. DİL ALM. – 5	SEÇ. Y. DİL İNG. – 8	SEÇ. Y. DİL FRAN. – 8
1. C	1. D	1. D	1. C
2. B	2. A	2. B	2. A
3. D	3. C	3. A	3. D
4. A	4. C	4. D	4. B
5. D	5. D	5. A	5. A
6. A	6. A	6. C	6. C
7. B	7. B	7. B	7. A
8. C	8. A	8. A	8. B
9. A	9. B	9. C	9. A
10. B	10. D	10. A	10. B
11. D	11. C	11. B	11. D
12. B	12. C	12. D	12. B
13. C	13. A	13. B	13. C
14. A	14. B	14. C	14. C
15. C	15. D	15. C	15. A
16. D	16. B	16. A	16. C
17. D	17. A	17. A	17. C
18. B	18. D	18. D	18. D
19. B	19. C	19. C	19. B
20. A	20. B	20. B	20. D

**31 MAYIS 2014 TARİHİNDE YAPILAN AÇIKÖĞRETİM LİSESİ / MESLEKİ AÇIKÖĞRETİM LİSESİ
2013-2014 ÖĞRETİM YILI 2. DÖNEM SINAVI 1. OTURUM T KİTAPÇIĞI CEVAP ANAHTARI**

HZ. MUHAMMED'İN HAY. – 2	KARŞ. DİN. TARİHİ – 1	SEÇ. DİL ve ANLA. – 8	SEÇ. TÜRK EDEB. – 7
1. B	1. B	1. D	1. D
2. B	2. D	2. C	2. B
3. D	3. C	3. A	3. A
4. C	4. A	4. C	4. D
5. A	5. C	5. B	5. C
6. A	6. D	6. B	6. A
7. A	7. B	7. A	7. C
8. B	8. D	8. C	8. B
9. C	9. A	9. B	9. D
10. B	10. A	10. A	10. B
11. D	11. D	11. D	11. C
12. B	12. B	12. A	12. D
13. A	13. C	13. B	13. A
14. C	14. D	14. D	14. C
15. D	15. A	15. D	15. B
16. A	16. B	16. C	16. A
17. D	17. C	17. B	17. C
18. A	18. B	18. A	18. D
19. C	19. A	19. D	19. A
20. C	20. D	20. C	20. B
MATEMATİK – 6	SEÇ. DİL ve ANLA. – 7	SEÇ. TÜRK EDEB. – 4	SEÇ. TÜRK EDEB. – 8
1. C	1. C	1. D	1. D
2. B	2. A	2. B	2. B
3. D	3. D	3. A	3. C
4. A	4. C	4. D	4. A
5. D	5. B	5. C	5. D
6. B	6. A	6. B	6. A
7. C	7. B	7. D	7. C
8. A	8. A	8. C	8. D
9. D	9. D	9. A	9. C
10. B	10. B	10. C	10. A
11. C	11. C	11. B	11. D
12. D	12. B	12. A	12. B
13. A	13. D	13. D	13. C
14. B	14. D	14. C	14. B
15. B	15. A	15. B	15. A
16. D	16. C	16. A	16. A
17. C	17. A	17. B	17. C
18. A	18. B	18. D	18. D
19. A	19. D	19. A	19. C
20. C	20. D	20. C	20. B

**31 MAYIS 2014 TARİHİNDE YAPILAN AÇIKÖĞRETİM LİSESİ / MESLEKİ AÇIKÖĞRETİM LİSESİ
2013-2014 ÖĞRETİM YILI 2. DÖNEM SINAVI 1. OTURUM T KİTAPÇIĞI CEVAP ANAHTARI**

İSLAM TARİHİ – 1

1. C
2. D
3. B
4. A
5. B
6. D
7. D
8. B
9. C
10. D
11. A
12. B
13. A
14. C
15. A
16. D
17. D
18. B
19. A
20. C

SİYER – 1

1. D
2. B
3. D
4. A
5. C
6. B
7. C
8. D
9. A
10. C
11. B
12. A
13. D
14. A
15. C
16. B
17. A
18. D
19. C
20. B

MATEMATİK – 2

1. A
2. B
3. C
4. D
5. C
6. D
7. A
8. B
9. A
10. C
11. D
12. B
13. A
14. D
15. D
16. B
17. C
18. B
19. C
20. A

KELAM – 1

1. C
2. D
3. A
4. B
5. A
6. D
7. C
8. B
9. C
10. D
11. A
12. C
13. D
14. B
15. A
16. B
17. C
18. B
19. D
20. A

GİRİŞİMCİLİK – 1

1. D
2. C
3. C
4. B
5. A
6. B
7. A
8. D
9. C
10. D
11. B
12. C
13. A
14. D
15. B
16. A
17. B
18. C
19. A
20. D