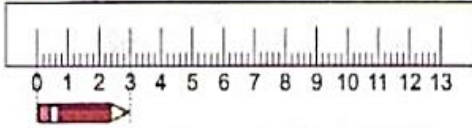


1



Yukarıdaki kalemin 3 katı büyüklüğündeki bir kalem kaç cm olur?

- A. 3 cm B. 6 cm C. 9 cm

2



Benim boyum 115 cm babamın boyu 172 cm annemin boyu ise babamın boyundan 2 cm eksiktir.

Benim boyum annemin boyundan kaç cm eksiktir?

- A. 50 cm
B. 55 cm
C. 57 cm

3

Yeni aldığım kalemin boyu 14 cm'dir. Bu hafta sonu ölçtüm 8 cm geldi. Üç gün sonra 2 cm daha kullandığımı ölçerek anladım.

Buna göre kalemin kaç cm kalmıştır?

- A. 6cm B. 5cm C. 4cm

4

30'dan başlayıp ikişer ikişer geriye doğru saydığımızda 5. seferde hangi sayıyı söyleriz? (30 dahil)

- A. 20
B. 22
C. 24

5

Sınıfımızda 37 öğrenci vardır. İlk hafta 12, ikinci hafta 7 kişi nöbetçilik yapmıştır. Sınıfımızda nöbetçilik yapmayan kaç öğrenci vardır?

- A. 18
B. 19
C. 20

6

Sınıfımızda 73 tane kitap vardır. Birinci hafta 13 tanesi, ikinci hafta 28 tanesi okunmuştur. Sınıfımızda okunmayan kaç kitap kalmıştır?

- A. 30
B. 31
C. 32

7

İki basamaklı en küçük doğal sayı için aşağıdaki söylenenlerden hangisi doğrudur?

- A. Bir desteye eşittir.
B. Bir düzineye eşittir.
C. Bir düzineden 3 eksiktir.

8

Sınıfımızda 8 sıra var. Her sırada 2 öğrenci oturuyor. Her sıraya 1 öğrenci daha gelirse sınıfımızda kaç öğrenci olur?

- A. 22 B. 23 C. 24

9

Su bardağın boyu 11 cm 1 cm ekşiğine kadar su doldurup 4 cm'lik suyu da içtim. Bardakta kaç cm su kalmıştır?

- A. 6 cm
B. 10 cm
C. 7

10



Oltamın boyu 120 cm denize attığımda ise ipliyle beraber 480 cm'lik bir mesafenin olduğunu ölçtüm. Acaba ipimin yarısı kaç cm'dir.

- A. 160 cm
B. 360 cm
C. 180 cm

11



Bir karışım 9 cm geldiğine göre aşağıdakilerden hangisini söylersem doğru olur?

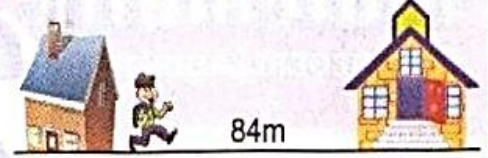
- A. 3 karışımın uzunluğu 25 cm'dir.
B. 2 karışımın yarısı 9 cm'dir.
C. Karışımın 6 cm fazlası 16 cm'dir.

12

Bir terzi aşağıdaki aletlerden hangisinin ölçüm yapmak için kullanılır?

- A. Makas
B. Mezura
C. Karış

13



Yaşarın evi ile okulunun arası 84 m'dir. Yolum yarısını giden Yaşar'ın kaç m'lik yolu kalmıştır?

- A. 40 B. 42 C. 62

14

Aşağıdaki verilenlerden hangisi 1 m'den daha küçüktür?


- A. Evimizin kapısı
B. Odanın boyu
C. Çantamın boyu

15

Bu yıl okulumuzun bahçesine diktiğimiz çam ağacı fidanının boyu 45 cm dir. Fidan her yıl ortalama 15 cm büyüyeceğine göre, 2. yılın sonunda fidanın boyu kaç cm olur?

- A. 60 cm
B. 75 cm
C. 90 cm

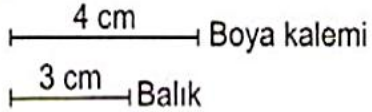
1



Yukarıdaki uzunluğa göre aşağıdakilerden hangisi **söylenemez**?

- A. Kalemın boyu 10cm'dir.
- B. 3 kalemın boyu 6cm'dir.
- C. 2 kalemın boyu 4cm'den uzundur.

2



Yukarıdaki şekle göre 2 boya kalemının uzunluğu bir balıktan kaç cm fazladır?

- A. 3cm B. 4cm C. 5cm

3

Aşağıdaki varlıklardan hangisi cm ile ölçmemiz daha doğru sonuç verir?

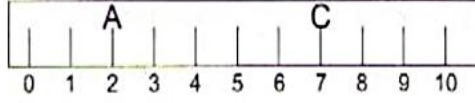
- A. Silgi
- B. Evimizle okulumuz arası
- C. Bayrak direğinin uzunluğu

4

Aşağıdakilerden hangisinin uzunluğu 1 metreden kısadır?

- A. Odamızın boyu
- B. Taksi
- C. Kitabımızın boyu

5



A ve C harfleri arasında kaç cm'lik uzunluk vardır?

- A. 5 B. 6 C. 7

6

Gökhan bugün yeni aldığı pantolonunun boyu uzun olduğu için terzi'ye gitmiş. Pantolonun boyunu yaptırmış. Terzi Gökhan'ın pantolonun kısaltırken hangi aletten faydalanmıştır?

- A. Mezura
- B. Kilogram
- C. Litre

7

Sınıfımızı teknoloji sınıfı olarak tasarladık. Açılış için 50 cm uzunluğunda bir kurdele ayarladık. Bunu 10 cm uzunluğunda kesecek şekilde ayarladık.

Bu iş için kaç kesim yapmalıyız?


- A. 5 B. 4 C. 6

8

Aşağıdakilerden hangisi 1 metreden fazla olabilir?

- A. Defterimin uzunluğu
- B. Bahçedeki kavak ağacı
- C. Kedi'nin boyu

9



Yukarıdaki şekle göre farenin 4 cm gittikten sonra peynire ulaşması için kaç cm daha yol gitmesi gerekir?

- A. 4 cm B. 8 cm C. 6 cm

10

Ablam tasarım dersi için aldığı 70 cm kumaştan 20cm'si ile bir elbezi yaptı. Ablam 2 elbezi daha yaparsa geriye kaç cm kumaşı kalır?

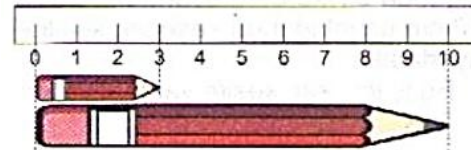
- A. 10 cm B. 20 cm C. 30 cm

11

Aşağıdakilerden hangi 1 karışım-dan daha **büyüktür**?

- A. Çantam
- B. Kalemim
- C. Silgim

12



Yukarıdaki şekle göre, boya kalemlerinden büyük olan kaç cm daha küçük olsaydı diğeri ile eşit boyda olurdu?

- A. 8 B. 7 C. 10

13

Okulumuzun yüksekliği 12 ..., çiçeğimizin boyu 40 ...'dir.

Yukarıda boş bırakılan yerlere sırasıyla hangi uzunluk ölçülerini yazarsam doğru olur?

- A. Metre - Metre
- B. Metre - Santimetre
- C. Santimetre - Metre

14

Babamın boyu 1 metre 80 cm benim boyum 1 metre 30 cm'dir.

Buna göre aşağıdakilerden hangisi doğrudur?

- A. Babamın boyu benden 1 metre uzundur.
- B. Babamın boyu benden 40 cm daha uzundur.
- C. Benim boyum babamdan 50 cm kısadır.

15

Annemin bugün bana aldığı pantolonu ölçtüm 4 karış geldi her karışım 15 cm geldiğine göre benim pantolonum 70 cm'den kaç cm kısadır?

- A. 5
- B. 10
- C. 15

16

Okulumuzun bahçe duvarını ören Mustafa usta günde 4 metre duvar örüyor. Okulumuzun bahçesinin uzunluğu 32 m olduğuna göre işi kaç günde bitirir?

- A. 6 B. 7 C. 8