

# O-1



# T

**T.C.  
MİLLÎ EĞİTİM BAKANLIĞI  
AÇIK ÖĞRETİM ORTAOKULU**

**2013-2014 ÖĞRETİM YILI 2. DÖNEM SINAVI  
1. OTURUM: 9 MART 2014 Saat: 10.00**

<u>DERSLER</u>	<u>SAYFA</u>	<u>DERSLER</u>	<u>SAYFA</u>
(501) TÜRKÇE – 5	2	(701) TÜRKÇE – 7	17
(502) MATEMATİK – 5	4	(702) MATEMATİK – 7	19
(503) FEN VE TEKNOLOJİ – 5	6	(703) FEN VE TEKNOLOJİ – 7	21
(604) SOSYAL BİLGİLER – 6	9	(806) TC İNK. TAR. VE ATATÜRK. – 8	25
(607) İNGİLİZCE – 6	11	(807) İNGİLİZCE – 8	27
(607) ALMANCA – 6	12	(807) ALMANCA – 8	28
(607) FRANSIZCA – 6	14	(807) FRANSIZCA – 8	29
(608) DİN KÜL. VE AHLAK BİLGİSİ – 6	15	(808) DİN KÜL. VE AHLAK BİLGİSİ – 8	30

**ADAYLARIN DİKKATİNE!**

- Her ders için **20** soru bulunmaktadır. Bu oturumda **150** dakikalık cevaplama süreniz vardır. Sınav başladıktan sonra ilk **30** dakika dolmadan dışarı çıkmayınız.
- Sınav sırasında sözlük, hesap cetveli veya makinesi, çağrı cihazı, cep telefonu, telsiz, radyo gibi elektronik iletişim araçlarını yanınızda bulundurmayınız. Bu araçları kullanmanız ve kopya çekmeye teşebbüs etmeniz hâlinde sınavınız geçersiz sayılacaktır.
- Başvuru şartlarını taşımadığınız hâlde sınava girmeniz, kopya çekmeniz, başka adayın sınav evrakını kullanmanız, geçerli kimlik belgenizi ve sınav giriş belgenizi ibraz edemediğiniz durumlarda sınavınız geçersiz sayılacaktır.
- Sınavın değerlendirilmesi aşamasında, bilgisayar ortamında yapılan kopya analizinde ikili veya toplu kopya tespiti hâlinde sınavınız geçersiz sayılacaktır.

**CEVAP KÂĞIDI VE SORU KİTAPÇIĞI İLE İLGİLİ AÇIKLAMALAR**

- Cevap kâğıdınızdaki bilgilerin doğruluğunu kontrol ediniz ve cevap kâğıdınızı mürekkepli kalemle imzalayınız.
- Cevap kâğıdı üzerinde kodlamalarınızı kurşun kalemle yapınız.
- Değiştirmek istediğiniz bir cevabı, yumuşak silgiyle cevap kâğıdını örselemeden temizce siliniz ve yeni cevabınızı kodlayınız.
- Soru kitapçığının sayfalarını kontrol ediniz, baskı hatası var ise değiştirilmesini sağlayınız.
- Soruların çözümü için size ayrıca boş kâğıt verilmeyecektir. Soru kitapçığının içindeki boş alanları soru çözümleri için kullanabilirsiniz.
- Her sorunun dört seçeneğinden sadece biri doğrudur. Doğru seçeneği, cevap kâğıdınızın ilgili sütununa soru numarasını dikkate alarak yuvarlağın dışına taşırmadan kodlayınız. **Soru kitapçığı üzerinde yapılan cevaplandırmalar dikkate alınmayacaktır.**
- Cevaplamaya istediğiniz dersin sorusundan başlayabilirsiniz. Cevabını bilmediğiniz sorular üzerinde fazla zaman kaybetmeden diğer sorulara geçiniz. Zamanınız kalırsa bu sorulara daha sonra dönebilirsiniz.
- Yanlış cevaplarınız dikkate alınmadan sadece doğru cevaplarınız üzerinden puanlama yapılacaktır.
- Soruları ve sorulara verdiğiniz cevapları, yanınızda götürmek amacıyla kaydetmeyiniz; hiçbir şekilde dışarı çıkarmayınız.
- Sınav bitiminde, soru kitapçığı ve cevap kâğıdını salon görevlilerine teslim ediniz.**

**BAŞLAYINIZ DENİLMEYEN SORU KİTAPÇIĞINI AÇMAYINIZ.**

# 1. OTURUM

## (501) TÜRKÇE – 5

1. “İşlemek” sözcüğü aşağıdaki cümlelerin hangisinde “Elindeki bilgileri bir kâğıda tek tek işlemiştir.” cümlesindeki anlamıyla kullanılmıştır?

A) Bu dükkân beş elemanla işliyordu.  
B) Bu caddede belediye otobüsleri işler.  
C) Uzun ve derin bakışı yüreğime işledi.  
D) Söylediklerimi not defterine dikkatlice işledi.

2. Aşağıdakilerin hangisinde altı çizili sözcük gerçek anlamıyla kullanılmıştır?

A) Bu davranışınız beni size bağladı.  
B) O, şiirimizin vazgeçilmez ışıklarından biriydi.  
C) Başını kaldırarak köşkün aydınlık cephesine baktı.  
D) Bunu saymam, başka bir gün yine beklerim.

3. “Söz” kelimesine aşağıdakilerden hangisi eklenirse “bir kurul, bir topluluk veya kişi adına söz söyleme yetkisi olan kimse” anlamına gelen bir kelime türetilmiş olur?

A) -cü      B) -lü      C) -lük      D) -süz

4. “Aslan dünyanın en güçlü hayvanıdır.” cümlesindeki altı çizili sözcüğün eş anlamlısı aşağıdakilerden hangisidir?

A) Büyük      B) Kuvvetli  
C) Vahşi      D) Hızlı

5. “Sessiz ve telaşlı konuştuklarını gördüğüm andan itibaren icime bir kurt düştü.” cümlesindeki altı çizili ifade aşağıdaki duygulardan hangisini belirtmek için kullanılmıştır?

A) Kuşku      B) Özlem  
C) Pişmanlık      D) Mutluluk

6. “Yazın teyzeme gittiğimizde bahçede bir kirpi gördüm.”

Bu cümlede aşağıdaki sorulardan hangisinin cevabı yoktur?

A) Ne      B) Nerede  
C) Niçin      D) Ne zaman

7. Aşağıdaki kelimeler alfabetik sıraya göre dizildiğinde hangisi, 2. sırada yer alır?

A) Kavun      B) Karton  
C) Kaptan      D) Kaşık

8. 1. almak  
2. defterimi  
3. için  
4. kalktım  
5. yerimden

Numaralandırılmış sözcükler, anlamlı ve kurallı bir cümle oluşturmak için nasıl sıralanmalıdır?

A) 2 - 1 - 3 - 5 - 4      B) 3 - 2 - 1 - 5 - 4  
C) 4 - 1 - 5 - 2 - 3      D) 5 - 1 - 2 - 4 - 3

9. Aşağıdaki cümlelerin hangisinde karşılaştırma vardır?

A) Zarfın içinden boş bir kâğıt çıktı.  
B) Pencereden karla kaplı dağlar görölüyordu.  
C) Apartmanın kapısına gelince biraz dinlendi.  
D) Onun yaptığı resim diğerlerinden daha dikkat çekiciydi.

10. Aşağıdaki cümlelerin hangisinde duygusal bir öge vardır?

A) Derginin son sayısı çıkmış.  
B) Telefonumu evde unutmuşum.  
C) Yağmurda ıslanmayı severim.  
D) Hafta sonu alışveriş merkezine gittim.

11. Aşağıdakilerin hangisinde “genellikle” anlamı vardır?

A) Akşama doğru eve gidip onun da onayını alacağız.  
B) Bu güzel ve şaşırtıcı habere yalnızca iki kişi sevindi.  
C) Kendisini, uzun zamandır hissetmediği kadar mutlu hissetti.  
D) Meyve ağaçlarını çok sever, çoğunlukla bahçesinde vakit geçirirdi.

## 1. OTURUM

12. (1) 11 Ağustos 2009 günü öğleden sonra Muradiye Şelalesi'ne ulaştık. (2) Şelalenin fotoğrafını çekmek için asma köprüden geçtik. (3) Günün sonunda elimizde şelalenin otuz iki fotoğrafı vardı. (4) Bana göre burası Doğu Anadolu'nun bozkırları arasında cennetten bir köşe gibiydi.

Numaralandırılmış cümlelerin hangisinde öznel bir yargı vardır?

- A) 1 B) 2 C) 3 D) 4

13. (1) Gezmeyi çok sevdiği için gün doğar doğmaz yola koyulmuş. (2) Nihayet, geniş dümdüz bir ovaya gelmiş. (3) Köyü çevreleyen uzun kavak ağaçlarının altında biraz dinlenmek istemiş. (4) Dalların arasında bir sürü kuşun ötüşüp konuştuğunu görmüş.

Numaralandırılmış cümlelerin hangisinde sebep-sonuç ilişkisi vardır?

- A) 1 B) 2 C) 3 D) 4

14. Her şey yeniden başlayabilir. Dün unutulabilir, sıkıntılar bitebilir, acılara alışılabilir, ümit yeşerebilir, hayat sevilir, yeniden yola çıkılabilir.

Böyle düşünen biri için aşağıdakilerden hangisi söylenemez?

- A) Yaşamayı sevdiği  
B) Geleceğe umutla baktığı  
C) Geçmişe özlem duyduğu  
D) Olumsuzluklarla başa çıkabildiği

15. Çoğunlukla ruhlarımızın beraber olmasını sağlayan bir rastlantıdır dostluk ya da zorunluluklarla edindiğimiz bir yakınlıktır. Bu yakınlık, ruhları o kadar derinden kaynaştırır ki onları birleştiren dikişi silip süpürür. Âdeta iki varlığı duyguları ortak tek bir varlığa dönüştürür.

Aşağıdakilerden hangisi, bu parçanın konusudur?

- A) Dostluk B) Duygu  
C) Ruh D) Varlık

16. İstasyondan yavaş yavaş hareket etmeye başlayan trenin penceresinden ailesine el sallıyordu Mehmet. İyice uzaklaştıktan sonra koltuğuna oturup ufka bakmaya başladı. Bu yolculuğun sonunda varacağı yeni okulunu düşünüyordu. Derslerine canla başla çalışacak, zamanının bir kısmını da sınıf arkadaşlarıyla oynamaya ayıracaktı.

Bu parçaya göre aşağıdakilerden hangisi hayal ürünüdür?

- A) Mehmet'in trenle yolculuk yapması  
B) Mehmet'in tren uzaklaştıktan sonra ufka bakması  
C) Mehmet'in tren uzaklaşana kadar ailesine el sallaması  
D) Mehmet'in derslerinden arta kalan zamanda sınıf arkadaşlarıyla oynaması

17. Aşağıdaki altı çizili sözcüklerden hangisi "biten bir eylem"i ifade eder?

- A) Geçen pazar gölde balık tuttuk.  
B) Yarım saat sonra yola çıkacaklar.  
C) Bahçeden mis gibi çiçek kokuları geliyor.  
D) Minik bebek annesinin kucağında uyuyor.

18. Ne zaman dalıp gitsem.

Bir derinlik gelse usuma,  
Hep küçücük çocukları düşlerim;  
Onlarla yaşarım en güzeli,  
En doyumsuzu,  
Akar gider düşüncelerim.

Bu şiirdeki altı çizili sözcüklerden hangisi, bir varlığı nitelemiştir?

- A) Zaman B) Küçücük  
C) Onlarla D) Gider

19. Aşağıdaki cümlelerin hangisinde "da, de"nin yazımıyla ilgili bir yanlışlık yapılmıştır?

- A) Yarın bugünden de güzel olacak.  
B) Annem de bu akşam bize katılacak.  
C) Dağ da çağılayan pınardan su içtik.  
D) Onun da bu kitabı okuduğunu öğrendi.

# 1. OTURUM

20. Adam gülmüş ( )  
( ) Sen çok güzel ıslık çalıyorsun ( ) anladım.  
Peki kaval da çalabiliyor musun?

Bu parçada yay ayrıla belirtilen yerlere,  
sırasıyla aşağıdaki noktalama işaretlerinden  
hangileri getirilmelidir?

- A) (.) (-) (!) B) (:) (—) (.)  
C) (.) (-) (;) D) (:) (—) (.)

## (502) MATEMATİK – 5

1. 4, 11, 18, 25, 32, 39, 46, ?

Verilen sayı örüntüsünde 46'dan sonra aşağı-  
daki sayılardan hangisi gelir?

- A) 53 B) 54 C) 55 D) 56

2. Yanda verilen toplama iş-  
leminde a ve b birer rakam  
belirttiğine göre, iki basamaklı  
ab sayısı kaçtır?

$$\begin{array}{r} 570a8 \\ 49b81 \\ 30397 \\ + 2113 \\ \hline 138669 \end{array}$$

- A) 61 B) 70 C) 72 D) 80

3. 465 000 : 300 işleminin sonucu kaçtır?

- A) 155 B) 165  
C) 1550 D) 1650

4. Öğretmen, bir poşetin içinde getirdiği fındık-  
ları sınıftaki her bir öğrenciye 24 tane vere-  
rek dağıttığında poşette hiç fındık kalmıyor.  
Sınıfta 21 öğrenci olduğuna göre, poşette kaç  
fındık vardı?

- A) 45 B) 126 C) 441 D) 504

5.  $\frac{43}{8}$  kesrinin tam sayılı kesir biçiminde yazılışı  
aşağıdakilerden hangisidir?

- A)  $3\frac{4}{8}$  B)  $4\frac{3}{8}$  C)  $5\frac{3}{8}$  D)  $8\frac{3}{4}$

6. Bir kütüphanedeki 525 kitabın  $\frac{11}{25}$ 'i hikaye ki-  
tabıdır. Bu kütüphanedeki hikaye kitaplarının  
sayısı kaçtır?

- A) 294 B) 231 C) 221 D) 192

7.  $\frac{7}{15} + 3$  işleminin sonucu kaçtır?

- A)  $\frac{10}{15}$  B)  $\frac{10}{18}$  C)  $\frac{21}{15}$  D)  $\frac{52}{15}$

8. 5,908 ondalık kesrindeki 8'in basamak değeri  
aşağıdakilerden hangisidir?

- A) 0,008 B) 0,08  
C) 0,8 D) 8

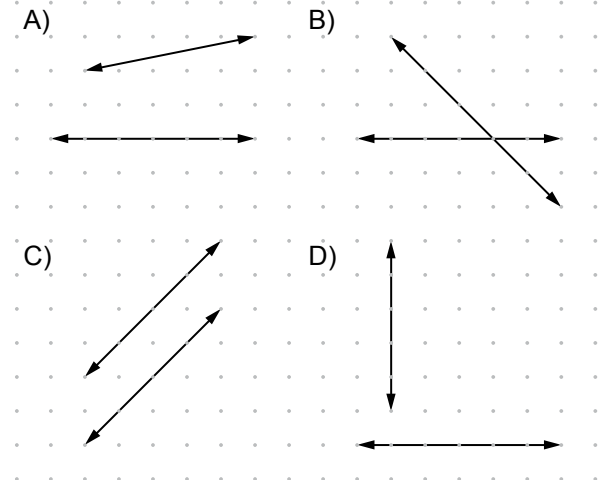
9. 3,47 – 1,6 çıkarma işleminin sonucu kaçtır?

- A) 1,87 B) 2,41 C) 3,31 D) 33,1

10. 0,47 ondalık kesrinin yüzde sembolü ile yazılı-  
şı aşağıdakilerden hangisidir?

- A) % 28 B) % 47 C) % 63 D) % 74

11. Aşağıdakilerin hangisindeki doğrular birbirine  
paraleldir?

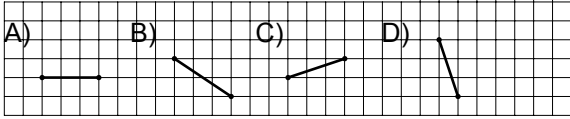


# 1. OTURUM

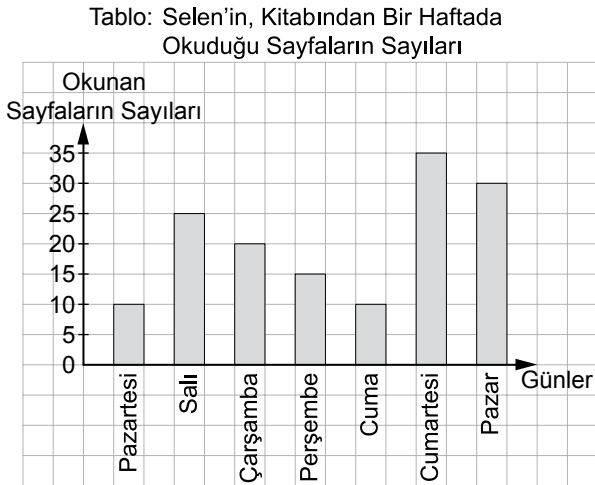
12. Aşağıdakilerden hangisi bir araştırma sorusudur?

- A) Sınıfınızdaki öğrenciler günde kaç saat ders çalışmaktadır?
- B) Serap günde kaç saat uyumaktadır?
- C) Cem hangi marketten alışveriş yapar?
- D) 1 ekmek kaç kuruştur?

13. Aşağıdaki hangi doğru parçasının uzunluğu, yandaki doğru parçasının uzunluğuna eşittir?



14. Grafikte, Selen'in kitabından bir haftada okuduğu sayfaların günlere göre sayıları verilmiştir.



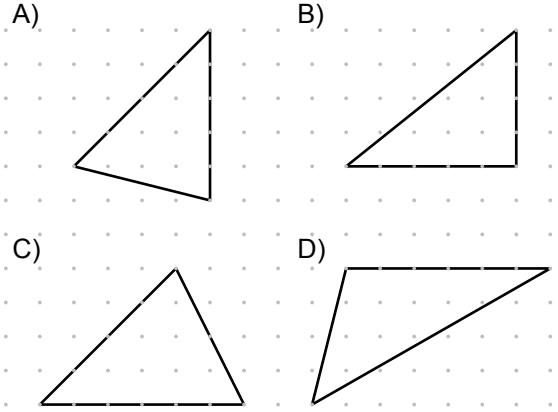
Selen, kitaptan cumartesi günü, pazartesi okuduğundan kaç sayfa fazla okumuştur?

- A) 10
- B) 15
- C) 20
- D) 25

15. Canan cumartesi günü 2 saat 13 dakika, pazar günü 1 saat 55 dakika ders çalışmıştır. Canan bu iki günde toplam kaç dakika ders çalışmıştır?

- A) 71
- B) 174
- C) 206
- D) 248

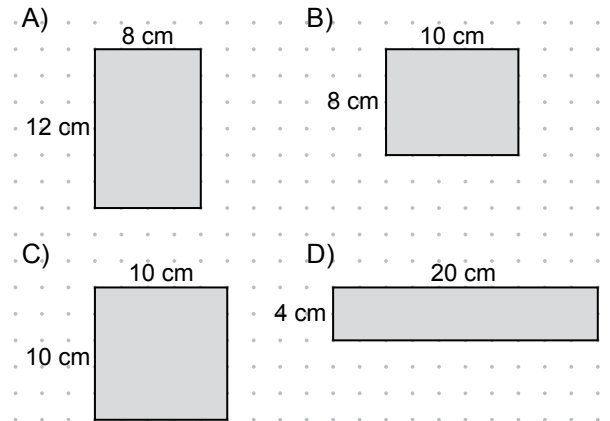
16. Aşağıdakilerden hangisi geniş açılı üçgendir?



17. Aşağıdaki çokgenlerin hangisinde karşılıklı açılar eş değildir?

- A) Kare
- B) Eşkenar dörtgen
- C) Paralelkenar
- D) Yamuk

18. Aşağıdakilerden hangisi yandaki dikdörtgen ile aynı alana sahiptir?

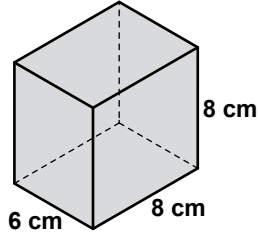


19. Yüzeyi paralelkenar biçiminde olan bir sehpanın farklı kenarlarının uzunlukları 47 cm ve 33 cm'dir. Bu sehpanın yüzeyinin çevre uzunluğu kaç santimetredir?

- A) 80
- B) 95
- C) 125
- D) 160

## 1. OTURUM

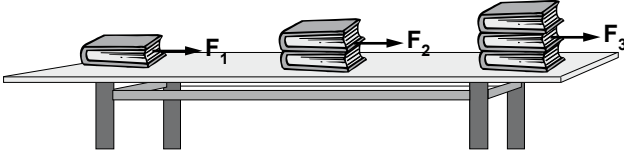
20. Yanda verilen dik prizmanın yüzey alanı kaç santimetrekaredir?



- A) 160 B) 288 C) 320 D) 384

### (503) FEN VE TEKNOLOJİ – 5

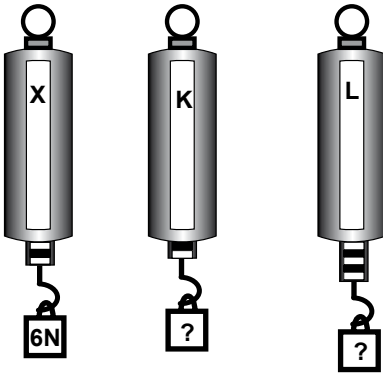
1. Hasan, masa üzerinde duran özdeş kitapları şekildeki gibi  $F_1$ ,  $F_2$  ve  $F_3$  kuvvetleri uygulayarak hareket ettiriyor.



Hasan'ın kitapları hareket ettirmesi için uyguladığı kuvvetlerin büyükten küçüğe doğru sıralanışı aşağıdakilerin hangisinde doğru verilmiştir?

- A)  $F_1 > F_2 > F_3$  B)  $F_1 > F_2 = F_3$   
C)  $F_3 > F_2 > F_1$  D)  $F_3 > F_2 = F_1$


2. Şekildeki dinamometreler özdeştir. Bu dinamometrelere farklı cisimler takılmış ve uygulanan kuvvetler şekildeki gibi ölçülmüştür.



X dinamometresinde okunan değer 6N olduğuna göre, K ve L dinamometrelerinde okunan değerler kaç N olmalıdır?

	K	L
A)	2	5
B)	4	10
C)	6	7
D)	2	8

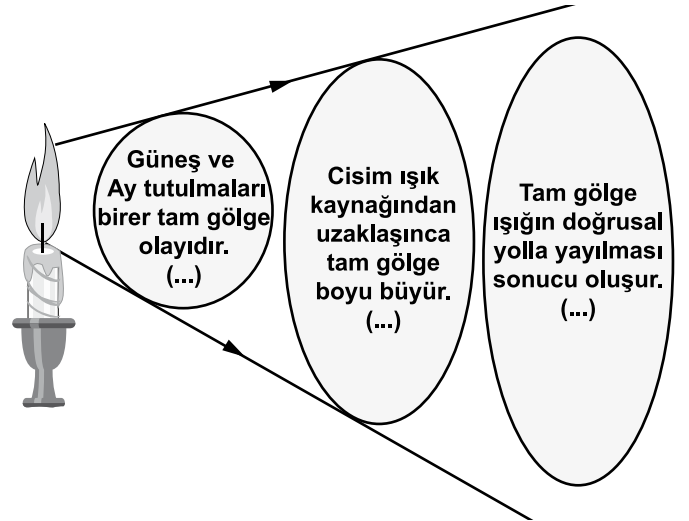
3. Mehmet, şekildeki gibi K ve L maddelerinin arkasında yanan mumu bakıyor.



K maddesinin arkasından baktığında mumu net olarak görüyor. Ancak L maddesinin arkasından baktığında ise mumu bulanık görüyor. Buna göre, mum önündeki K ve L maddeleri neler olabilir?

	K maddesi	L maddesi
A)	Pencere camı	Buzlu cam
B)	Tahta	Pencere camı
C)	Pencere camı	Tahta
D)	Buzlu cam	Pencere camı

4. Tam gölge ile ilgili aşağıdaki bilgiler verilmiştir:



Verilen açıklamaların doğru (D) ya da yanlış (Y) olduğuna karar verdiğinizde aşağıdakilerden hangisi doğru sonuç olur?

A)	(Y)	B)	(D)
	(D)		(D)
	(Y)		(D)
C)	(D)	D)	(Y)
	(Y)		(D)
	(D)		(D)

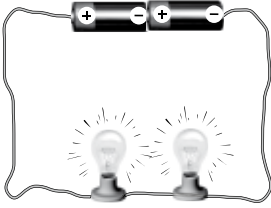
## 1. OTURUM

5. Fatma, elindeki iki taşı önce suyun içinde daha sonra havada birbirine vurarak çıkan sesi dinliyor. Taşlardan çıkan seslerin suda ve havada neden farklı olduğunu öğretmenine soruyor.


Fatma'nın öğretmenin verdiği doğru cevap aşağıdakilerden hangisidir?

- A) Sesin yayılması için mutlaka bir katı ortam gereklidir.
- B) Farklı cisimlerle üretilen sesler farklıdır.
- C) Sıvılar sesin yayılmasını engeller.
- D) Aynı ses farklı ortamlarda farklı duyulur.


6. Ahmet, basit bir elektrik devresinde pil sayısının lamba parlaklığına etkisini araştırmak istiyor.



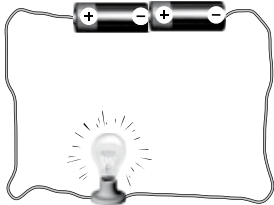
1. Devre



2. Devre



3. Devre



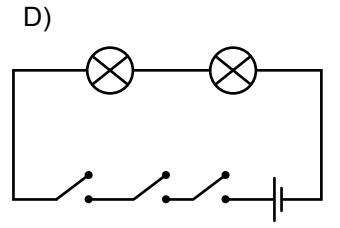
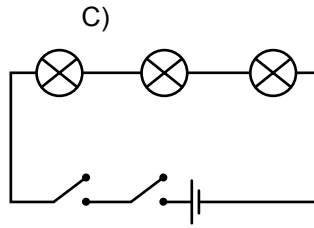
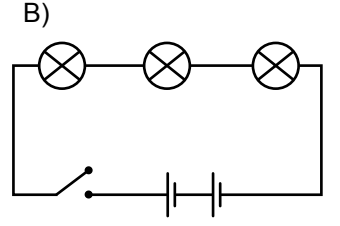
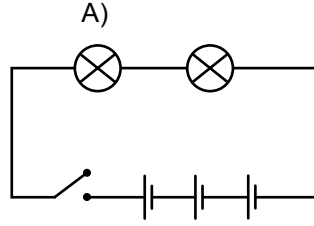
4. Devre

Buna göre Ahmet, araştırmasında yukarıdaki devrelerden hangi ikisini kullanmalıdır?

- A) 1. ve 2. devre
- B) 2. ve 3. devre
- C) 3. ve 4. devre
- D) 1. ve 4. devre

7. Ayşe, 3 pil, 2 ampul ve 1 tane anahtar ile elektrik devresi kuruyor.

Buna göre, Ayşe'nin kurduğu devrenin şeması aşağıdakilerin hangisinde doğru çizilmiştir?



8. Aşağıdaki resimlerde görülen anıtlardan hangisi doğal anıttır?




Çanakkale Şehitlik Anıtı



Anıtkabir



Efes Harabeleri



Peribacaları

9. Aşağıdakilerden hangisi erozyonun yol açabileceği olumsuz sonuçlardan biridir?

- A) Aşırı ve şiddetli yağış durumunda meydana gelir.
- B) Verimli tarım arazilerinin kaybedilmesine ve toprağın verimsizleşmesine neden olur.
- C) Toprağın yağış sonrası bütün halinde zemini ile birlikte kaymasına neden olur.
- D) Eğimi fazla olan yamaçlarda yerçekimine bağlı olarak yamacın yer değiştirmesine neden olur.

# 1. OTURUM

10. Aşağıdakilerin hangisinde verilen iki hâl değişimi olayının sonucunda, maddenin fiziksel hâli aynı olur?

- A) Buharlaşıma - Donma
- B) Erime - Buharlaşıma
- C) Yoğuşma - Donma
- D) Erime - Yoğuşma

11. I- Erime noktası

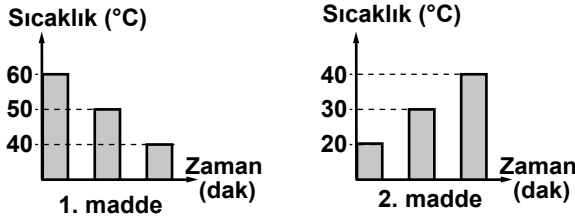
II- Donma noktası

III- Kaynama noktası

niceliklerinden hangileri saf katı maddeler için ayırt edici bir özelliktir?

- A) Yalnız I
- B) Yalnız III
- C) I ve III
- D) II ve III

12. Birbirine temas ettirilen iki maddenin sıcaklık - zaman grafiği verilmiştir:



Grafiğe göre, sırasıyla 1. ve 2. maddenin son sıcaklıkları kaç °C'tur?

- A) 40, 20
- B) 40, 40
- C) 60, 20
- D) 60, 40

13.



Şemada verilen bilgiler aşağıdaki olaylardan hangisine aittir?

- A) Isı alışverişi
- B) Donma
- C) Genleşme
- D) Büzülme

14.

Besin içerikleri	Besin içeriklerinin bulunduğu besinler
I	Ayçiçeği, zeytin, ceviz
II	Makarna, ekmek, baklava

Tabloda, I ve II ile gösterilen temel besin içeriklerinin fazlaca bulunduğu besinler yazılmıştır. Buna göre, I ve II ile gösterilen besin içerikleri hangisinde verilmiştir?

	I	II
A)	Karbonhidrat	Protein
B)	Yağ	Karbonhidrat
C)	Protein	Yağ
D)	Karbonhidrat	Yağ

15. Aşağıdaki uygulamalardan hangisi, diş sağlığının bozulmasına yol açmaz?

- A) Süt ve süt ürünlerinin düzenli olarak tüketilmesi
- B) Karbonhidratlı besinlerin daha fazla tüketilmesi
- C) Diş aralarının sürekli olarak kürdanla temizlenmesi
- D) Çok soğuk ve çok sıcak yiyeceklerin bir arada tüketilmesi

16.

Yutak ①	İnce bağırsak ②	Böbrek ③
Kalın bağırsak ④	İdrar borusu ⑤	Kalp ⑥
Akciğer ⑦	Mide ⑧	Ağız ⑨

Tabloda, bazı organlarımız numaralandırılmıştır. Bunlardan sindirimde görevli olanlar aşağıdakilerin hangisinde birlikte verilmiştir?

- A) 1, 3, 5, 6
- B) 2, 6, 7, 9
- C) 2, 4, 5, 7, 8
- D) 1, 2, 4, 8, 9

17. İnsandaki boşaltım olayında,

I- İdrarın oluşması

II- Kanın süzülmesi

III- Kanın böbreklere gelmesi

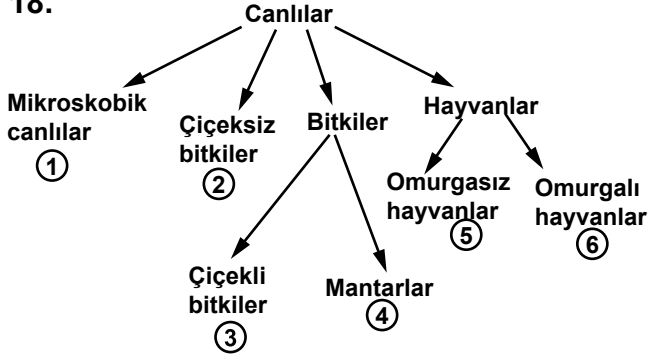
olayları hangi sırayla gerçekleşir?

- A) I - III - II
- B) II - III - I
- C) III - II - I
- D) II - I - III



# 1. OTURUM


18.



Şemada canlılar sınıflandırılmıştır. Kaç numaralı gruplar yer değiştirirse sınıflandırma doğru olur?

- A) 1 ve 3 B) 2 ve 4 C) 1 ve 5 D) 4 ve 6

19.



Ayşe, bazı omurgalı hayvanların resimlerini şekildeki gibi kartona yapıştırıyor. Boş kalan yere bu canlılarla aynı gruptan olan başka bir canlının resmini yapıştırarak.

Buna göre Ayşe'nin, aşağıdakilerden hangisinin resmini bu kartona yapıştırması uygun olmaz?

- A) Kurbağa B) Köpek  
C) Balina D) Fare

20. Çevre kirliliğinin oluşmasında aşağıdakilerden hangileri insan kaynaklı nedenler arasında yer alır?

- I- Atmosfere salınan zararlı gazlar  
II- Maden, su ve toprağın bilinçsiz kullanımı  
III- Plansız ve düzensiz kentleşme

- A) Yalnız III B) II ve III  
C) I ve II D) I, II ve III

## (604) SOSYAL BİLGİLER – 6

1. Hak ve sorumluluklarımız kapsamında, aşağıdaki ifadelerden hangisi yanlıştır?

- A) Toplum olarak bir arada yaşamanın koşulu, kurallara uygun davranmaktır.  
B) Herkes eşit haklara sahiptir ve herkes birbirinin hak ve özgürlüklerine saygı göstermelidir.  
C) Hak ve özgürlüklere sahip olmak demek, istediğimizi yapma ve gerçekleştirme anlamı taşır.  
D) Kurallar, insanların hangi hak ve özgürlüklere sahip olduğunu, sorumluluklarının neler olduğunu belirler.

2. I- Vergi vermek

II- Oy kullanmak

III- Meslek sahibi olmak

IV- Yüksek öğrenimini tamamlamak

Vatandaş olmanın yüklediği bazı sorumluluklar vardır. Yukarıda verilenlerden hangileri bu sorumluluklara örnek olarak gösterilebilir?

- A) Yalnız I B) II ve III  
C) III ve IV D) I ve II

3. Atatürk'ün direktifleriyle kurulan "Türk Tarihini Tetkik Cemiyeti" kaç yılında "Türk Tarih Kurumu" olarak isim değiştirmiştir?

- A) 1931 B) 1935 C) 1937 D) 1938

4. Okyanusya olarak da adlandırılan kıta, aşağıdakilerden hangisidir?

- A) Avustralya B) Afrika  
C) Avrupa D) Asya

5. Yazların sıcak ve kurak, kışların ise ılık ve yağışlı geçtiği iklim tipi, aşağıdakilerden hangisidir?

- A) Karasal iklim  
B) Karadeniz iklimi  
C) Akdeniz iklimi  
D) Marmara (Geçiş) iklimi

## 1. OTURUM

6. • Başkentleri Tuşpa (Van)dır.  
• En önemli tanrıları Haldi'dir.  
• Kale, baraj, su kanalı ve kaya anıtları önemli inşalarındandır.

Verilen bilgiler aşağıdaki medeniyetlerden hangisine aittir?

- A) Urartular B) Asurlular  
C) Hititler D) Frigler

7. I- Muğla  
II- Ankara  
III- Kayseri  
IV- Aydın

Verilen şehirlerden hangileri İpek Yolu üzerinde yer alır?

- A) I ve II B) II ve III  
C) III ve IV D) I ve III

8. Aşağıdakilerden hangisi, ilk Türk devletlerine ait doğru bir bilgidir?

- A) Daimi bir ordu yoktur, askerler ücretlidir.  
B) Halk gelirlerine göre sosyal sınıflara ayrılmıştır.  
C) Hükümdarı seçme görevi, kurultay adlı meclise verilmiştir.  
D) Devlet doğu ve batı olmak üzere iki kanat hâlinde yönetilmiştir.

9. Dört Halife Dönemi'ni sona erdiren olay, aşağıdakilerden hangisidir?

- A) Hz. Ali'nin şehit edilmesi  
B) Hz. Osman'ın şehit edilmesi  
C) Muaviye'nin halife ilan edilmesi  
D) İslam Devleti'nin başkentinin Şam'a taşınması

10. I- Su  
II- Petrol  
III- Rüzgâr  
IV- Kömür

Yukarıdakilerden hangileri yenilenemez enerji kaynaklarındandır?

- A) I ve II B) III ve IV  
C) II ve IV D) I ve III

11. İslamiyeti resmî din olarak kabul eden Karahanlı yöneticisi, aşağıdakilerden hangisidir?

- A) Arslan Han B) Satuk Buğra Han  
C) Oğulcak Kadir Han D) Bilge Kül Kadir Han

12. Aşağıdakilerden hangisi sanayi ürünü değildir?

- A) Pirinç B) Tütün  
C) Pamuk D) Şeker pancarı

13. .... hastaları diyaliz makinesi yardımıyla yaşamlarını sürdürürler.

Verilen boşluğa, aşağıdakilerden hangisi yazılmalıdır?

- A) Kalp B) Akciğer  
C) Mide D) Böbrek

14. Her ay devlet memurlarının maaşlarından belli miktarda kesilen vergi, aşağıdakilerden hangisidir?

- A) Gelir vergisi  
B) Kurumlar vergisi  
C) Otomobil vergisi  
D) Katma değer vergisi

15. I- Kahve  
II- Seramik  
III- Çimento  
IV- Kağıt

Yukarıdakilerden hangileri Türkiye'nin en çok ithal ettiği ürünlerdendir?

- A) I ve II B) II ve III  
C) I ve IV D) III ve IV

16. Aşağıdakilerden hangisi, 1991 yılında Sovyetler Birliği'nin dağılması ile bağımsızlığını kazanmış olan devletlerden biri değildir?

- A) Kazakistan B) Kırgızistan  
C) Özbekistan D) Pakistan

## 1. OTURUM

17. Aşağıdakilerden hangisi hava kirliliğinin temel nedenlerindendir?

- A) Tarım B) Ticaret  
C) Hayvancılık D) Sanayileşme

18. Ülkemizde ulusal egemenliğin gelişimi için yapılan, aşağıdaki inkılaplardan hangisi en son gerçekleştirilmiştir?

- A) Saltanatın kaldırılması  
B) Cumhuriyetin ilan edilmesi  
C) Kadınlara milletvekili olabilme yolunun açılması  
D) Kadınlara belediye seçimlerine katılabilme hakkının tanınması

19. Türkiye Cumhuriyeti'nin ilk kadın belediye başkanı, aşağıdakilerden hangisidir?

- A) Sabiha Gökçen B) Müfide İlhan  
C) Lale Aytaman D) Türkan Akyol

20. İslam ordularının, Cebelitarık Boğazı'nı geçerek İspanya'ya girmeleri, aşağıdaki savaşlardan hangisinin sonucudur?

- A) Kadiks B) Puvatya  
C) Talas D) Hendek

### (607) İNGİLİZCE – 6

1-20. sorularda boş bırakılan yere uygun gelen kelime ya da ifadeyi işaretleyiniz.

1. My father is ..... the kitchen.

- A) in B) at C) to D) on

2. There is a ..... of bread on the table.

- A) cup B) loaf C) bottle D) jar

3. .... has got a white cat.

- A) She B) We C) You D) They

4. She is an English teacher. .... name is Ceren.

- A) His B) Our C) Your D) Her

5. This is an ..... .

- A) lawyer B) house  
C) elephant D) dog

6. Those are my .....

- A) car B) book C) cat D) bags

7. We have ..... eggs. We can make a cake.

- A) much B) a few C) little D) a little

8. Turkey and Germany ..... big countries.

- A) am B) is C) are D) have

9. Cemre ..... two books every week.

- A) read B) reads  
C) to read D) is reading

10. She's 10 years old. She can't ..... .

- A) sing a song B) read a book  
C) draw a picture D) drive a car

11. Nikolay is from Russia. He is .....

- A) Russian B) Turkish  
C) Greek D) Irish

12. A: Do you like ..... to music?  
B: Yes I do.

- A) drinking B) reading  
C) listening D) cutting

13. A: What are these?  
B: ..... are pencils.

- A) This B) Those C) That D) These

## 1. OTURUM

14. A: ..... are you from?

B: I am from Italy.

- A) Where                      B) What  
C) When                      D) How

15. A: ..... brothers have you got?

B: I have got three brothers.

- A) Why                      B) How many  
C) Who                      D) How much

16. A: Hello. I am Selin. ....

B: Hello. My name is Rick.

- A) Where is your brother?  
B) Where are you from?  
C) What is your name?  
D) What are you?

17. A: What are you doing?

B: .....

- A) I am writing a letter.  
B) They are swimming.  
C) He is driving a car.  
D) It is snowing.

18. A: Excuse me, .....

B: It's three o'clock.

- A) where is it?  
B) what is it like?  
C) how much is it?  
D) what time is it?

19. A: .....?

B: It is yellow.

- A) How are you?  
B) How old are you?  
C) What colour is it?  
D) What is her number?

20. Tarkan: How old are you?

Gürkan: .....

- A) I am a florist.  
B) I am from Muğla.  
C) I am not a student.  
D) I am sixteen years old.

### (607) ALMANCA – 6

1-17. sorularda boş bırakılan yere uygun gelen kelime ya da ifadeyi işaretleyiniz.

1. A: Guten Tag! Ich heiße Henrike.

B: Hallo! Ich bin Marion.

A: .....?

B: Das ist Frau Müller.

- A) Wie ist das                      B) Wer ist das  
C) Was ist das+                      D) Wo ist das

2. A: Hallo, Wer ..... du?

B: Ich bin Christian.

- A) bist                      B) ist                      C) heißt                      D) name

3. neunzehn, ..... einundzwanzig

- A) elf                      B) vierzehn  
C) sieben                      D) zwanzig

4. A: Hallo, Ich bin Fatma.

B: .....?

A: Ich bin 16 Jahre alt.

- A) Wie alt bist du                      B) Wie geht es Ihnen  
C) Was geht es Ihnen                      D) Wo alt bist du

5. .... wohn- ..... Sie?

- A) Wer/-en                      B) Wo/-st  
C) Wo/-en                      D) Wer/-st

6. A: ..... kommt er?

B: ..... Izmir

- A) Woher/In                      B) Wo/Aus  
C) Woher/Aus                      D) Wo /In

7. Was ..... er von Beruf?

- A) ist                      B) sind                      C) bin                      D) bist

# 1. OTURUM

8.



**Das ist ein Buch.**

**Das ist ..... Buch ..... Ayşe.**

- A) die/von                      B) der/von  
C) eine/von                    D) das/von

9.



**A: Ist das eine Lampe?**

**B: Nein, das ist ..... Lampe.**

- A) ein      B) eine      C) kein      D) keine

**10. A: ..... Sie gern Kaffee?**

**B: Ich mag Tee.**

- A) Essen                      B) Trinken  
C) Trinkst                    D) Isste

**11. Das ist ein Hamburger.**

**Hakan isst ein-..... Hamburger.**

- A) -e      B) -en      C) -      D) -em

**12. A: ..... du gern?**

**B: Ich nehme eine Suppe.**

- A) Was nehmen              B) Wie nehmen  
C) Was nimmst              D) Wie nimmst

**13. A: Was ..... die Cola?**

**B: Drei Mark.**

- A) kostet                      B) kosten  
C) trinken                    D) nehmen

14.



**A: Wie spät ist es?**

**B: .....**

- A) Viertel nach sechs      B) Fünfzehn nach fünf  
C) Viertel vor sechs      D) Viertel vor fünf

**15. A: Ich bin eine Schülerin.**

**A: Ich ..... jeden Tag zur Schule gehen.  
(zorunluluk)**


- A) müssen                      B) kann  
C) können                      D) muss

**16. Am Sonntag ..... er den ganzen Tag**

**.....**

- A) fern/sieht                      B) sieht/fern  
C) sehe/fern                      D) sehen/fern


17.



**Mein Hobby ist .....**

- A) schwimmen                      B) radfahren  
C) tanzen                              D) spielen

18.



**Yukarıdaki resimde ne söylenir? (selamlaşma)**

- A) Guten Tag                      B) Guten Morgen  
C) Gute Nacht                      D) Gute Nachmittag

# 1. OTURUM

19.



Was ist das?

- A) das Waschbecken B) der Elektroherd  
C) der Tisch D) die Taschenlampe

20. "achtunddreissig" in sayı şekli  
aşağıdakilerden hangisidir?

- A) 27 B) 28 C) 37 D) 38

## (607) FRANSIZCA – 6

1-18. sorularda boş bırakılan yere uygun  
gelen kelime ya da ifadeyi işaretleyiniz.

1. D'habitude je sors à 9 heures mais ..... je  
suis sortie à 11 heures.

- A) demain B) la semaine prochaine  
C) après-demain D) avant-hier

2. Ce matin, en classe, j'ai ..... un texte de  
Molière.

- A) lis B) lisent C) lu D) lire

3. Pierre va jouer ..... guitare.

- A) de B) des C) du D) de la

4. Je fais du ski ..... mois de janvier à  
Sarıkamış.

- A) aux B) au C) en D) à la

5. Dans une année, il y a ..... saisons.

- A) quatre B) trois  
C) cinq D) dix

6. Il faut ..... quelque chose pour ma cousine.

- A) fait B) font  
C) faire D) fais

7. On ne mange ..... de viande !

- A) rien B) encore  
C) toujours D) jamais

8. On voit la course de taureaux en ..... .

- A) Paris B) Espagne  
C) Pays-Bas D) Mexique

9. Je vais à la ..... pour emprunter des livres.

- A) bibliothèque B) boucherie  
C) poste D) cinéma

10. Dans une chambre, il y a un tapis, un lit,  
..... fauteuil et des rideaux.

- A) une B) un C) des D) les

11. Dans le dessin, Martine est ..... Milou et  
Noiraud.

- A) sous B) dans C) côté D) entre

12. Dans les ....., on vend des gâteaux.

- A) boucheries B) librairies  
C) crémeries D) pâtisseries

13. Elles vont ..... une nouvelle voiture.

- A) achète B) achetez  
C) acheter D) achètes

## 1. OTURUM

14. .... Autriche se trouve au centre de l'Europe.

- A) Les B) L' C) Le D) La

15. Mon frère n'aime pas le .....

- A) fruits B) viande  
C) fromage D) légumes

16. .... films préfères-tu ?

- A) Quels B) Quelle  
C) Quelles D) Quel

17. Je veux faire voler ..... avion!

- A) cet B) cette C) ces D) ce

18. A: ..... est-ce que tu viens?

B: Je viens à midi.

- A) Comment B) Quand  
C) Que D) Qui

19-20. soruları resimleri dikkate alarak cevaplayınız.

19.



On sort de la classe à midi moins .....

- A) le quart B) et demie  
C) cinq D) heures

20.



Le ver de terre est ..... du pot.

- A) derrière B) devant  
C) à côté D) face

### (608) DİN KÜL. VE AHLAK BİLGİSİ – 6

1. Bütün peygamberler, Allah'tan aldıkları mesajları önce kendi hayatlarında uygulamış, sonra insanlara tebliğ etmişlerdir. Onlar, ilahi mesajları insanlara ulaştırırken baskı ve zorlamaya başvurmamışlardır. Mesajın iyi anlaşılmasına yardımcı olmuşlardır.

Bu anlatılanlar ışığında peygamberlerin hangi tutum ve davranıştan kaçındıkları görülmektedir?

- A) İlahi mesaja uyma konusunda insanlara örneklik etme  
B) İlahi mesajı insanlara bildirme  
C) İlahi mesajı kabul ettirmek için baskı yapma  
D) İlahi mesajın insanlara iyi anlaşılması için çalışma

2. İnsanları hak yola çağırarak için Allah'ın izniyle peygamberler tarafından gösterilen olağanüstü olaylara ne denir?

- A) Keramet B) Mucize  
C) Vahiy D) Gayb

3. "... Allah, peygamberleri müjdecî ve uyarıcı olarak gönderdi. İnsanların ayrılığa düştükleri hususlarda, aralarında hüküm vermeleri için onlarla birlikte hak kitaplar gönderdi..."

(Bakara suresi, 213. ayet)

Bu ayet aşağıdaki sorulardan en çok hangisine cevap oluşturmaktadır?

- A) Son ilahi kitap hangisidir?  
B) Peygamberlerin özellikleri nelerdir?  
C) Allah niçin vahiy göndermiştir?  
D) Peygamberler neden insanlardan seçilmiştir?

## 1. OTURUM

4. Peygamberlerin yalan söylememesi, doğruluktan ayrılmaması anlamına gelen sıfatı aşağıdakilerden hangisidir?

- A) Emanet B) Sıdk  
C) Fetanet D) İsmet

5. I - Vakit namazlarının farzından önce okunur.  
II - “Kad kâmetis salâh.” cümlesi söylenir.  
III - Okunuşu sade ve kısadır.

Bu özellikler aşağıdakilerden hangisine aittir?

- A) Ezan B) Kamet  
C) Salavat D) Başlama tekbiri

6. Cenaze namazı hakkında aşağıda verilen bilgilerden hangisi doğrudur?

- A) Cemaatle kılınır.  
B) Rûku’a gidilir.  
C) Secde yapılır.  
D) İki rekâttır.

7. Hz. Muhammed’in Medine’ye Hicret yolculuğunda Sevr mağarasında kalmasının nedeni aşağıdakilerden hangisidir?

- A) Yardım beklemek  
B) Hz. Ali’yi beklemek  
C) Müşriklerin takibinden kurtulmak  
D) Kısa yoldan Medine’ye ulaşmak

8. İlk görüşmede altı kişi olan Medineliler ertesi yıl oniki kişi olarak tekrar Peygamberimizle Mekke’de görüştüler. Peygamberimiz onlardan Allah’a şirk koşmayacaklarına, birşey çalmayacaklarına, çocukları öldürmeyeceklerine, iftira atmayacaklarına ve kendisine bağlı kalacaklarına dair söz aldı.

İslam tarihindeki bu olay aşağıdakilerden hangisidir?

- A) I. Akabe Biati  
B) Medine Sözleşmesi  
C) Hudeybiye Antlaşması  
D) II. Akabe Biati

9. Kur’an’ın ilk inen ayetleri aşağıdaki ifadelerin hangisiyle başlamıştır?

- A) Dinle B) Söyle C) Yaz D) Oku

10. Veda Hutbesi ile aşağıdakilerden hangisi kastedilir?

- A) Hz. Peygamberin 622 yılında Medine’ye Hicret ettiği gün yaptığı konuşma  
B) Hz. Peygamberin Uhud savaşında ordusuna yaptığı konuşma  
C) Hz. Peygamberin 632 yılında Arafat meydanında yaptığı konuşma  
D) Hz. Peygamberin Mekke’nin fethinde Mekkelilere yaptığı konuşma

11. Mekkelilere Allah’ın verdiği emniyet, istikrar ve zenginlik gibi nimetlerden bahsederek onların Kabe’nin Rabbi yüce Allah’a ibadet etmelerinin istendiği sure aşağıdakilerden hangisidir?

- A) Asr suresi B) Nasr suresi  
C) Kureyş suresi D) Fil suresi

12. Aşağıdaki ayetlerden hangisinin konusu inançtır?

- A) “... ‘İşittik ve karşı geldik’ dediler de... De ki, ‘Eğer inanmışsanız, imanınız size ne kötü şey emrediyor?’” (Bakara suresi, 93. ayet)  
B) “Ey Resulüm!... Sen dini Allah’a has kılarak kulluk et.” (Zümer suresi, 2. ayet)  
C) “Peygamberlerin kıssalarından senin kalbini sağlamlaştıracak her şeyi sana anlatıyoruz.” (Hud suresi, 120. ayet)  
D) “Ey iman edenler! Allah’tan sakının ve doğru söz söyleyin.” (Ahzab suresi, 70. ayet)

13. Peygamber ve o peygamber kıssasıyla verilmek istenen mesaj aşağıdaki seçeneklerin hangisinde yanlış verilmiştir?

- A) Hz. Adem: İyi niyet ve tevbe  
B) Hz. İbrahim: Doğruyu aramak ve akli kullanmak  
C) Hz. Yusuf: Düşmanla savaşma ve adaletli olmak  
D) Hz. Eyyüp: Zorluklara karşı sabır ve Allah’a bağlılık



## 1. OTURUM

14. Dinimiz aşağıdaki durumlardan hangisinde yalan söylemeye izin vermiştir?

- A) Müslüman olmayan biriyle ticaret yaparken
- B) Mahkemede akrabaların lehine şahitlik ederken
- C) Kişilik haklarını savunmak gerektiğinde
- D) Dağılacak bir aileyi birleştirmek için

15. İnsana sadakat yakışır görse de ikrah, Yardımcısıdır doğruların Hz. Allah Ziya Paşa

Aşağıdakilerden hangisi bu şiirle ilişkilendilemez?

- A) "Sözüm odun gibi olsun doğru olsun tek"
- B) "Aldatan bizden değildir."
- C) "Emrolunduğun gibi dosdoğru ol."
- D) "Biz bir peygamber göndermedikçe hiçbir kimseye azab etmiş değiliz."

16. Başkaları hakkında ön yargılı bir şekilde olumsuz tahminlerde bulunmak anlamına gelen kavram aşağıdakilerden hangisidir?

- A) Su-i zan
- B) Haset
- C) Gıybet
- D) İftira

17. Felak suresinin konusu aşağıdaki seçeneklerin hangisinde verilmiştir?

- A) Kötülüklerden Allah'a sığınmak
- B) Zorluklarla mücadele etmek
- C) İslam'ı tebliğ etmek
- D) Dinin inanç esaslarını bilmek

18. • Horasan'dan Anadolu'ya gelerek insanlara hoşgörü ve güzel ahlakı öğütlemiştir.  
• Makalat adlı eserinde dinin kurallarına uymayı, Hz. Muhammed'in yolunu izlemeyi, Hz. Ali ve Ehl-i Beyt'i sevmeyi tavsiye etmiştir.  
• Anadolu'da İslam'ın insan sevgisi, kardeşlik ve hoşgörü gibi değerlerinin yerleşmesinde önemli katkı sağlamıştır.

Yukarıda hakkında bilgi verilen İslam alimi aşağıdakilerden hangisidir?

- A) Yunus Emre
- B) Somuncu Baba
- C) Ahi Evran-ı Veli
- D) Hacı Bektaş Veli

19. Ol Allah'ın habibi, dertlilerin tabibi  
Enbiyalar serveri, Resul Muhammed yatur.  
Hayber kalasın yıkan, kafiri od'a yakan  
Şahinler gibi bakan, Ali gibi er yatur.  
Ata ona gülleri, Kur'an okur dilleri  
Fatma ana oğulları, Hasan Hüseyin yatur.

Bu şiir daha çok aşağıdakilerden hangisine örnek oluşturur?

- A) Türklerin İslam kültürüne katkılarına
- B) Türklerde Peygamber ve ehl-i beyt sevgisine
- C) Türk kültüründe İslam ahlakının önemli bir yeri olduğuna
- D) Türklerin İslam tasavvufuna katkılarına

20. Batıda Algorismus olarak bilinen, matematikte cebir konularını ele alan ve sıfırı ilk keşfeden Müslüman bilim adamı aşağıdakilerden hangisidir?

- A) Harezmi
- B) Ali Kuşçu
- C) Zehmahşerî
- D) Farabi

### (701) TÜRKÇE – 7

1. "Yol" sözcüğü aşağıdaki cümlelerin hangisinde bir deyim in içerisinde kullanılmıştır?

- A) Yolda oynayan çocuklara ne olduğunu sordu.
- B) Bahçe ile ev arasında bir toprak yol vardı.
- C) Eskişehir'e gitmek için bu yolu tercih ediyorlar.
- D) İyi davranışıyla arkadaşlarına yol gösteriyordu.

2. Aşağıdaki altı çizili sözcüklerden hangisi mecaz anlamıyla kullanılmıştır?

- A) Her gün kırdaki bayırda dolaşmaya alışmış.
- B) Bizim şairlerimiz sanatın sanat için olduğuna inanırlar.
- C) Böyle bir yolculuğa katlanabilecek hâlde değildir.
- D) Nefes nefese koşan anneme, başını cevirmeden cevap verdi.

3. Aşağıdakilerden hangisi bildirme yazısıdır?

- A) Tiyatro
- B) Tutanak
- C) Sohbet (Söyleşi)
- D) Makale

## 1. OTURUM

4. Amacı “Öğrencilerin bir konu üzerinde olumlu veya olumsuz fikirler yürüterek benimsedikleri fikirleri savunma becerisini geliştirmek” olan konuşma yöntem ve tekniği aşağıdakilerden hangisidir?

- A) Tartışma B) Yaratıcı konuşma  
C) Serbest konuşma D) Hafızada tutma tekniği

5. Amacı “Dinleyicinin kendisini konuşmacının yerine koyarak onun neler hissettiğini, sözlerinin hangi deneyimleri yansıttığını, kendini ve dünyayı nasıl algıladığını anlamak” olan dinleme yöntem ve tekniği aşağıdakilerden hangisidir?

- A) Not alarak dinleme B) Empati kurma  
C) Seçici dinleme D) Yaratıcı dinleme

6. Okuma ve birlikte çalışma becerilerinin geliştirilmesi amaçlanır. Bir şiirin ya da düz yazının belli bölümlere ayrılarak bir grup tarafından birlikte okunmasıdır.

Bu açıklama, aşağıdaki okuma yöntemlerinin hangisine aittir?

- A) Metinlerle ilişkilendirme  
B) Tahmin ederek okuma  
C) Özetleyerek okuma  
D) Söz korosu

7. Aşağıdaki atasözlerinin hangisinde karşıt anlamlı sözcükler bir arada kullanılmamıştır?

- A) Dost başa, düşman ayağa bakar.  
B) Bakarsan bağ olur, bakmazsan dağ olur.  
C) Saçın ak mı kara mı önüne düşünce görürsün.  
D) Alçak yerde yatma sel alır, yüksek yerde yatma yel alır.

8. Aşağıdaki altı çizili sözcüklerden hangisi bir terimdir?

- A) Son yağmurlar biraz yüzümüzü güldürdü.  
B) Bu iş ancak bir ay sonra biter.  
C) Oyunun üç perdesi de alkışlar içinde geçti.  
D) İnsanlar, kerpiç evlerin damlarına çıkmışlardı.

9. Aşağıdakilerden hangisi yapısına göre basit fiildir?

- A) Garipse- B) İncel-  
C) Sakın- D) Söylet-

10. Aşağıdakilerden hangisi oluş fiilidir?

- A) Büyü- B) Çiz-  
C) Uzan- D) Dinle-

11. “Bak-” fiili, aşağıdakilerin hangisinde bildirme kiplerinden biriyle çekimlenmiştir?

- A) Baksanız B) Bakmalısın  
C) Bakayım D) Bakıyor

12. Aşağıdaki kurallı birleşik fiillerden hangisi “süreklilik” fiillidir?

- A) Zamanında yetişebilmek için çok uğraştım.  
B) Gördüğüm olay karşısında ağızım açık bakakaldım.  
C) Yüz sayfalık kitabı bir solukta okuyuverdim.  
D) Toplantıda öyle bunaldım ki çıkayazdım.

13. Aşağıdaki cümlelerin hangisinde anlam kayması vardır?

- A) Yarın akşam bize gelecek.  
B) Dün akşam mektubunu okudum.  
C) Derslerime her hafta düzenli olarak çalışıyorum.  
D) Her hafta sonu bu ormanda koşu yapar.

14. Aşağıdakilerin hangisinde “ölçü zarfı” vardır?

- A) Bu gömleği pek beğenmedim.  
B) Dersi bize güzel anlatıyorsunuz.  
C) Öğrenciler okulun arkasında oynuyor.  
D) Denizli’ye gelecek yıl gideceğiz.

15. Aşağıdakilerin hangisinde “önemli” sözcüğü, ek fiil aracılığıyla görülen geçmiş zaman kipinde çekilmiştir?

- A) Önemliymiş B) Önemliydi  
C) Önemlidir D) Önemliyse

## 1. OTURUM

16. Aşağıdakilerin hangisinde birleşik zamanlı bir fiil vardır?

- A) İlk ödülünü geçen sene almış.
- B) Sokaktan geçen eskiciyi çağırdı.
- C) Şu anda odasında kitap okuyor.
- D) İkinci kitabını bu yıl çıkaracaktı.

17. Aşağıdakilerin hangisinde fiil, olumlu soru şeklinde çekimlenmiştir?

- A) Söyleyecek misiniz
- B) İçmez mi
- C) Gelmeyelim mi
- D) Bilmiyor mu

18. “Aslı memleketine yarın gidecektmiş.” cümlesinde hangi sözcük vurgulanmak istenmiştir?

- A) Aslı
- B) memleketine
- C) yarın
- D) gidecektmiş

19. Aşağıdaki cümlelerin hangisinde sayıların yazımıyla ilgili bir yanlışlık yapılmıştır?

- A) Merdivenleri ikişer ikişer çıkıyordu.
- B) İki hafta sonra izne ayrılacaktı.
- C) Projeyi otuziki günde bitirebildi.
- D) Yarışma yarın 11.00’de başlayacak.

20. Alıntılarda; başta, ortada veya sonda alınmayan sözcük ve bölümlerin yerine hangi noktalama işareti kullanılır?

- A) ...
- B) -
- C) ?
- D) !

### (702) MATEMATİK – 7

1.  $[(3 - 15) : (4 - 10)] - 6$

Yukarıdaki işlemin sonucu kaçtır?

- A) -24
- B) -8
- C) -4
- D) +6

2. Aşağıdaki sayılardan hangisi, sayı doğrusunda  $\frac{5}{3}$  rasyonel sayısının sağında yer alır?

- A)  $-\frac{17}{3}$
- B)  $\frac{5}{6}$
- C) 1
- D)  $\frac{11}{6}$

3.  $2 - \left(\frac{5}{8} + \frac{3}{2}\right)$

Yukarıdaki işlemin sonucu kaçtır?

- A)  $-\frac{1}{8}$
- B)  $-\frac{1}{2}$
- C)  $\frac{15}{8}$
- D)  $\frac{17}{6}$

4. Mehtap hafta içi her gün  $\frac{3}{2}$  saat ders çalışmıştır. Hafta sonu cumartesi ve pazar günleri toplam 5 saat ders çalışan Mehtap, bu hafta kaç saat ders çalışmıştır?

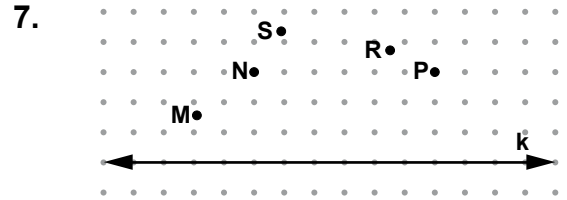
- A) 9
- B) 10
- C)  $\frac{25}{2}$
- D)  $\frac{29}{2}$

5. Aynı iş gücüne sahip 6 bahçıvan, bir bahçenin çimlerini 20 dakikada biçebilmektedir. Bu bahçıvanlardan 4’ü aynı bahçeyi kaç dakikada biçebilir?

- A) 25
- B) 30
- C) 35
- D) 40

6. % 40 kârla 56 liraya satılan bir pantolonun maliyet fiyatı kaç liradır?

- A) 25
- B) 36
- C) 40
- D) 44



Verilen şekilde, hangi iki noktadan geçen doğru çizilirse k doğrusuna paralel olur?

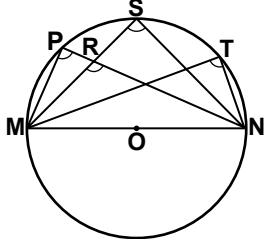
- A) M ve N
- B) S ve R
- C) N ve R
- D) N ve P

8. Aşağıdakilerden hangisi dikdörtgenin özelliklerinden biri değildir?

- A) Karşılıklı kenarları eşittir.
- B) Köşegenleri birbirini ortalar.
- C) Köşegenleri birbirine diktir.
- D) Bütün açıları dik açıdır.

## 1. OTURUM

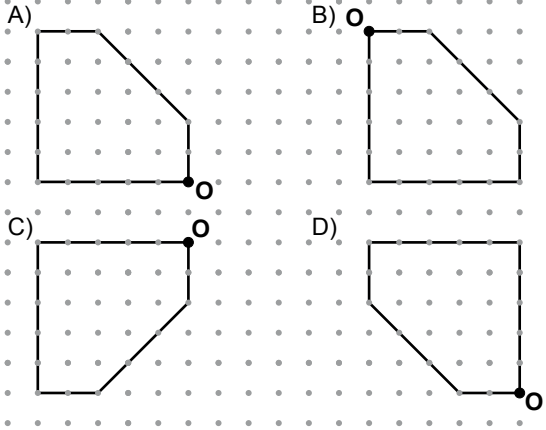
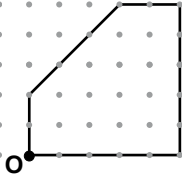
9.



Şekilde M, P, S, T, N noktaları O merkezli çember üzerindedir. M, O, N noktaları doğru-  
sal noktalar olduğuna göre, aşağıdaki hangi  
açının ölçüsü diğerlerinden farklıdır?

- A)  $\widehat{MRN}$  B)  $\widehat{MPN}$  C)  $\widehat{MSN}$  D)  $\widehat{MTN}$

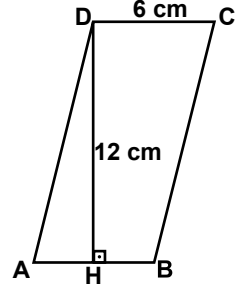
10. Aşağıdakilerden hangisi  
yandaki şeklin O noktası  
etrafında saat yönünde  
270° döndürülmüş halidir?



11. Düzgün altıgenin bir iç açısının ölçüsü kaç  
derecedir?

- A) 108 B) 120 C) 144 D) 150

12. Şekildeki ABCD paralel-  
kenarında  $|DC| = 6$  cm  
ve  $|DH| = 12$  cm'dir.  
 $[DH] \perp [AB]$  olduğuna  
göre, bu paralelkenarın  
alanı kaç santimetrekare-  
redir?

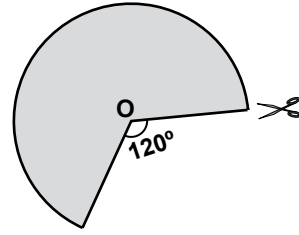


- A) 18 B) 36 C) 48 D) 72

13. Bir çemberde 90° lik merkez açığa karşılık  
gelen yayın uzunluğu 18 cm'dir. Bu çemberin  
yarıçapının uzunluğu kaç santimetredir?  
( $\pi$  yerine 3 alınız.)

- A) 12 B) 14 C) 15 D) 18

14.



Yarıçapının uzunluğu 5 cm olan dairesel bir  
kartondan, merkez açısı 120° olan bir dilim  
şekildeki gibi kesilerek çıkarılmıştır. Kalan  
kartonun alanı kaç santimetrekaredir?  
( $\pi$  yerine 3 alınız.)

- A) 15 B) 50 C) 60 D) 75

15. Yarıçapının uzunluğu 6 m, yüksekliği 2 m olan  
dik dairesel silindir şeklindeki bir havuzun  
iç yüzeyi boyanacaktır. Boyanacak alan kaç  
metrekaredir? ( $\pi$  yerine 3 alınız.)

- A) 62 B) 108 C) 128 D) 180

16. 3, 6 ve 8 rakamları kullanılarak, rakamları birbi-  
rinden farklı üç basamaklı kaç sayı yazılabilir?

- A) 3 B) 6 C) 9 D) 15

## 1. OTURUM

17. Mehmet küp şeklindeki bir karton kutunun 2 yüzünü maviye, 3 yüzünü kırmızıya ve 1 yüzünü beyaza boyuyor. Bu kutu art arda iki kez atıldığında üste gelen yüzün her ikisinde de kırmızı gelme olasılığı nedir?

A)  $\frac{1}{2}$  B)  $\frac{1}{3}$  C)  $\frac{1}{4}$  D)  $\frac{1}{6}$

18.

Tablo: Yatırım Belgeli Konaklama Tesisleri

İller	Tesis Sayıları
Amasya	3
Artvin	5
Giresin	2
Ordu	2
Rize	9
Samsun	3
Sinop	5
Tokat	2
Trabzon	5

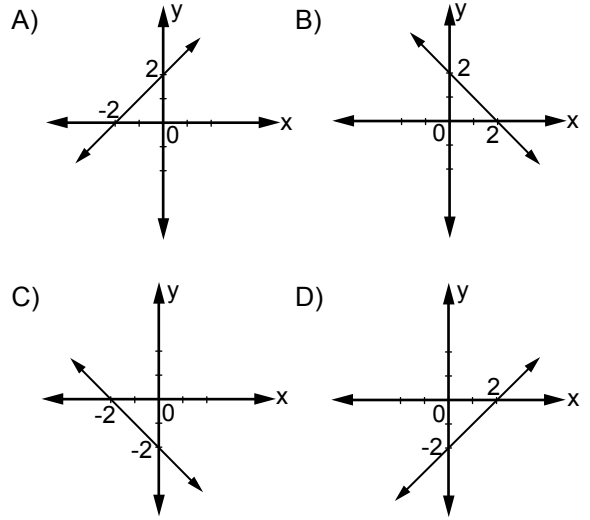
Yukarıdaki tabloda, bazı illerimizdeki yatırım belgeli konaklama tesislerinin sayıları verilmiştir. Buna göre, tablodaki verilerin ortancası kaçtır?

A) 2 B) 3 C) 5 D) 9

19.  $x(2x + 1)$  cebirsel ifadesi aşağıdakilerden hangisine eşittir?

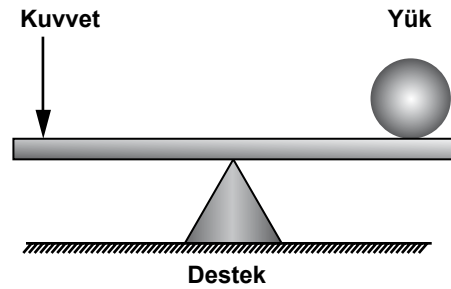
A)  $2x^2 + x$   
 B)  $2x^2 + 1$   
 C)  $3x + 1$   
 D)  $2 + \frac{1}{x}$

20.  $y = x + 2$  denkleminin grafiği aşağıdakilerden hangisidir?


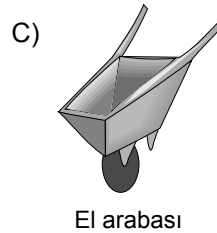
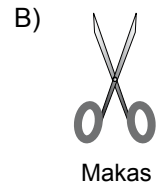


### (703) FEN VE TEKNOLOJİ – 7

1. Bazı kaldıraçlarda destek, şekildeki gibi uygulama kuvveti ile yük arasındadır.







Buna göre, aşağıdakilerden hangisi bu kaldıraç çeşidine örnektir?



## 1. OTURUM

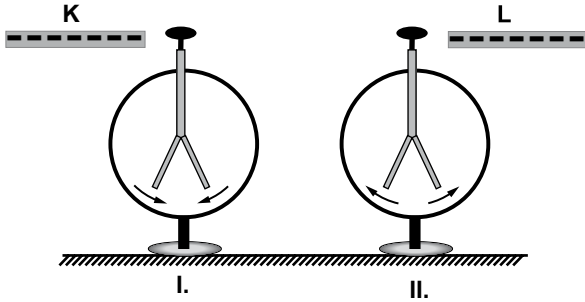
2. Aşağıdaki tabloda bazı hayvanların kütleleri ve koşarken ulaşabilecekleri en büyük süratleri verilmiştir:

<p>Ceylan</p>  <p>kütlesi:60 kg sürati:100 km/h</p>	<p>Çita</p>  <p>kütlesi:60 kg sürati:150 km/h</p>
<p>Aslan</p>  <p>kütlesi:60 kg sürati:120 km/h</p>	<p>Leopar</p>  <p>kütlesi:60 kg sürati:130 km/h</p>

Buna göre, verilen süratlere ulaştıklarında hangi hayvanın kinetik enerjisi en büyük olur?

- A) Ceylanın B) Çitanın  
C) Aslanın D) Leoparın

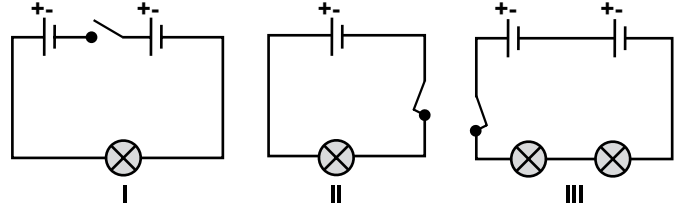
3. Negatif (–) yüklü K ve L çubukları, yüklü elektroskoplara şekildeki gibi yaklaştırıldığında,  
I. elektroskopun yaprakları kapanırken  
II. elektroskopun yaprakları biraz açılıyor.



Buna göre, elektroskopların yüklerinin işaretleri ile ilgili aşağıdakilerden hangisi doğrudur?

	I. elektroskop	II. elektroskop
A)	+	–
B)	–	+
C)	+	+
D)	–	–

4. Özdeş pil, ampul, anahtar ve bağlantı kablolarından oluşan devreler şekildeki gibidir.



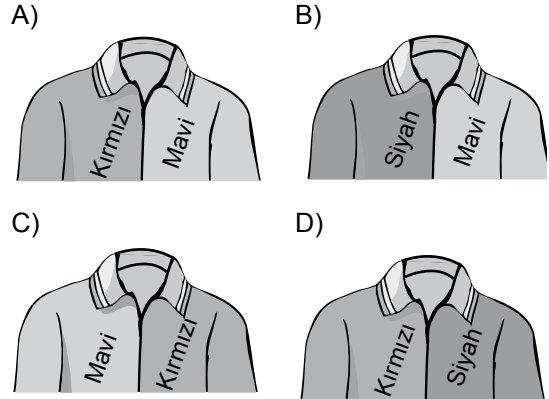
Buna göre, bu devrelerdeki ampullerden hangileri ışık verir?

- A) I ve II B) I ve III  
C) II ve III D) I, II ve III

5. Selçuk, kırmızı-mavi renkli şekildeki formasını sadece kırmızı ışığın aydınlatıldığı bir odada giyiyor.

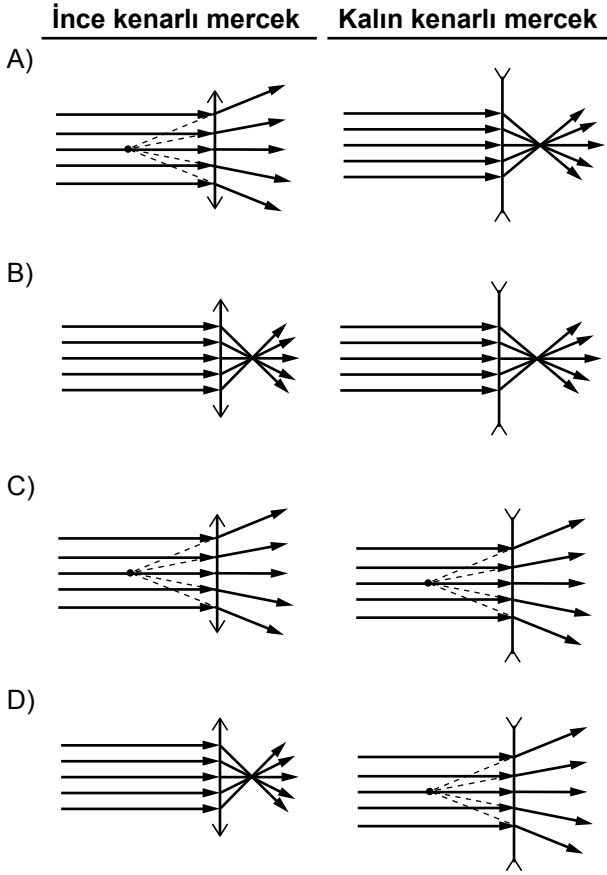


Buna göre Selçuk, formasını aşağıdakilerden hangisi gibi görür?



# 1. OTURUM

6. İnce kenarlı (yakınsak) ve kalın kenarlı (ıraksak) merceklerle paralel gelen ışık ışınlarının merceklerde kırılması aşağıdakilerden hangisinde doğru çizilmiştir?



7. Aşağıdaki açıklamaların her biri, karşıladığı kavramla eşleştirilmek isteniyor.

- |  |           |
|--|-----------|
| 1. Gündüzleri görebildiğimiz tek yıldızdır.          | a. Göktaş |
| 2. Atmosfere girerek yeryüzüne ulaşabilen meteorlar. | b. Halley |
| 3. En ünlü kuyruklu yıldızdır.                       | c. Güneş  |

Buna göre, açıklamalar ve kavramların eşleştirilmesi aşağıdakilerin hangisinde doğru verilmiştir?

- |          |          |
|----------|----------|
| A) 1 - a | B) 1 - b |
| 2 - b    | 2 - c    |
| 3 - c    | 3 - a    |
| C) 1 - c | D) 1 - c |
| 2 - a    | 2 - b    |
| 3 - b    | 3 - a    |

8. Güneş sistemimizde bulunan bir gezegenin özellikleri aşağıda verilmiştir:
- Güneş'e en yakın gezegendir.
  - Güneş sisteminin en küçük gezegenidir.
  - Yüzeyinde çok sayıda krater vardır.
  - Uydusu ve halkası yoktur.

Yukarıda verilen özelliklere göre bu gezegen aşağıdakilerden hangisidir?

- |           |           |
|-----------|-----------|
| A) Merkür | B) Venüs  |
| C) Mars   | D) Neptün |

9. Türkçe adı sodyum, Latince adı Natrium olan elementin sembolü aşağıdakilerden hangisidir?

- |       |       |      |      |
|-------|-------|------|------|
| A) Na | B) Ni | C) N | D) S |
|-------|-------|------|------|

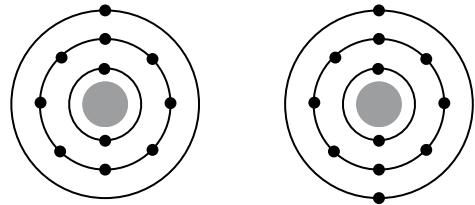
10. Bir atomda bulunan;

- I- Elektron
- II- Nötron
- III- Proton

taneciklerinden hangileri elektrik yüküne sahiptir?

- |              |              |
|--------------|--------------|
| A) Yalnız I  | B) Yalnız II |
| C) II ve III | D) I ve III  |

- 11.

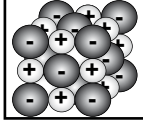


Katman - elektron dizilimleri verilen atomlar, hangi bakımdan birbirini ile benzerlik gösterir?

- A) Birbirinin izotopu olmaları
- B) Elektron almaya yatkın olmaları
- C) Elektron vermeye yatkın olmaları
- D) Aynı proton sayısına sahip olmaları

# 1. OTURUM

12. Bir bileşiğe ait tanecik modeli verilmiştir:



Modele göre, aşağıdakilerden hangisi doğrudur?

- A) Tanecikler arasında oluşan bağ kovalenttir.
- B) Tanecikler arasında oluşan bağ iyoniktir.
- C) Tanecikler farklı ametal atomlardır.
- D) Tanecikler aynı cins atomlardır.

13. Çözeltilerin bileşenleri aşağıdakilerden hangisidir?

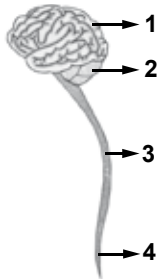
- A) Bileşik - formül
- B) Derişik - seyreltik
- C) Element - sembol
- D) Çözücü - çözünen

14. • Özellikle sıcak ve kuru havalarda, yeterli miktarda su içilmesi,  
• Tuzlu, acı ve baharatlı yiyeceklerden kaçınılması  
• Varsa diş çürüğü ve boğaz enfeksiyonlarının hemen tedavi ettirilmesi

Yukarıda verilen tedbirlerin hepsi öncelikle hangi sistemin sağlığı için gereklidir?

- A) Denetleyici ve düzenleyici sistem
- B) Destek ve hareket sistemi
- C) Sindirim sistemi
- D) Boşaltım sistemi

15.



Çevreden gelen ışık etkisi sonucu sinir sisteminde uyarı mesajı oluşturulur. Bu uyarı mesajı, şekildeki merkezi sinir sisteminin kaç numaralı kısmında değerlendirilip cevap oluşturulur?

- A) 1
- B) 2
- C) 3
- D) 4


16. İnsan sindirim sisteminde, yağların sindiriminde safra salgısı etkilidir. Safranın üretildiği ve kullanıldığı kısım aşağıdakilerin hangisinde verilmiştir?

Üretildiği kısım	Kullanıldığı kısım
A) Karaciğer	Mide
B) Karaciğer	İnce bağırsak
C) Safra kesesi	Kalın bağırsak
D) Safra kesesi	Mide

17. Aşağıda kulağımızın bazı kısımları görevlerle eşleştirilmiştir. Bu eşleştirmelerden hangisi yanlıştır?

- A) Kulak kepçesi → Ses dalgalarını toplama
- B) Kulak zarı → Titreşerek, titreşimleri orta kulağa iletme
- C) Salyangoz → Ses dalgalarını işitme almaçları ile işitme sinirlerine iletme
- D) Yarım daire kanalları → İşitme merkezini uyandırıp, sesin algılanmasını sağlama

18. Sınıfta "popülasyon" kavramı hakkında bilgi veren öğretmen, öğrencilerden aşağıdaki tablodan popülasyon resimlerini seçmelerini istiyor.

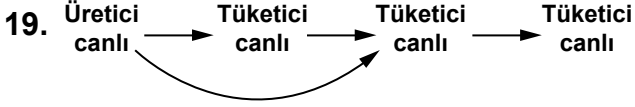


Öğrenciler, kaç numaralı resimleri seçmelidir?

- A) 1 ve 3
- B) 2, 4 ve 5
- C) 3 ve 5
- D) 1, 4 ve 6



## 1. OTURUM



Yukarıda bir besin zincirinde üretici ve tüketici canlılar gösterilmiştir. Buna göre aşağıdakilerden hangileri, tüketici canlılar grubunda gözlenen özelliklerdir?

- I- İnorganik maddelerden besin yapma
- II- Hem ot, hem de etle beslenme
- III- Üreticilerin ürettikleri besinle beslenme
- IV- Canlı atıklarını parçalama

A) I ve II    B) I ve IV    C) II ve III    D) III ve IV

20. Aşağıdakilerden hangisi toprak kirliliğini önlemek için alınabilecek önlemlerdendir?

- A) Tarım ilacı ve gübrenin bilinçli kullanılması
- B) Bütün sanayi atıklarının toprağa gömülmesi
- C) Evsel ve endüstriyel atıkların sulara bırakılması
- D) Sanayi tesislerinin verimli araziler üzerine kurulması

### (806) TC İNK. TAR. VE ATATÜRK. – 8

1. Mustafa Kemal Atatürk'ün "baba soyu", Anadolu'nun hangi şehriden göç ederek Manastır'a yerleşmiştir?

- A) Sivas    B) Karaman
- C) Kayseri    D) Erzurum

2. Mustafa Kemal'in İttihat ve Terakki Cemiyetinden ayrılması, aşağıdaki fikirlerden hangisinin cemiyetce kabul edilmemesi üzerine gerçekleşmiştir?

- A) Ordu politikadan ayrılmalıdır.
- B) Balkan siyaseti değiştirilmelidir.
- C) II. Meşrutiyet ilan edilmelidir.
- D) 31 Mart Ayaklanması acilen bastırılmalıdır.

3. Lozan Barış Konferansı'nda, Türkiye ile İngiltere arasında çözümü daha sonraya bırakılan konu, aşağıdakilerden hangisidir?

- A) Yabancı okullar sorunu
- B) Nüfus mübadelesi
- C) Kapitülasyonlar
- D) Musul sorunu

4. Aşağıdakilerden hangisi I. Dünya Savaşı'nın sonuçlarından biri değildir?

- A) Çok uluslu imparatorluklar yıkıldı.
- B) Polonya, Yugoslavya gibi devletler kuruldu.
- C) Avrupa'daki monarşi rejimleri güç kazandı.
- D) Dünya barışı için Milletler Cemiyeti kuruldu.

5. I- Pontus Cemiyeti  
II- Hınçak Komitesi  
III- İngiliz Muhipleri Cemiyeti  
IV- Mavri Mira Cemiyeti

Yukarıdakilerden hangileri azınlıkların kurduğu cemiyetlerden biri değildir?

- A) Yalnız I    B) Yalnız III
- C) II ve IV    D) I, II, III ve IV

6. Mustafa Kemal'in askerlik mesleğinden istifa etmesi aşağıdakilerden hangisi öncesinde gerçekleşmiştir?

- A) Sivas Kongresi
- B) Erzurum Kongresi
- C) Amasya Genelgesi
- D) Amasya Görüşmeleri

7. Aşağıdaki devletlerden hangisi, Balkan Antantı'nı imzalayan devletlerden biri değildir?

- A) Romanya    B) Yunanistan
- C) Türkiye    D) Bulgaristan

8. Mustafa Kemal, İsmet Paşa'ya çektiği kutlama telgrafında, "Siz orada yalnız düşmanı değil, milletin makûs (kötü) talihini de yendiniz!" diyerek kazanılan zaferin önemini vurgulamıştır. Verilen bu kutlama telgrafı, aşağıdaki savaşlardan hangisi için çekilmiştir?

- A) Çanakkale    B) Birinci İnönü
- C) İkinci İnönü    D) Kütahya - Eskişehir

9. "Türk Kurtuluş Hareketi'nin lideri Mustafa Kemal Atatürk bütün dünya için bir örnektir. Onun ölümü ile yalnız İslam alemi değil, bütün dünya tarih boyunca yaşamış en büyük insanlardan birini kaybetmiştir."

Bu söz, aşağıdaki liderlerden hangisine aittir?

- A) Rıza Pehlevi
- B) Amanullah Han
- C) Cevahirlal Nehru
- D) Muhammed Ali Cinnah

## 1. OTURUM

10. Lozan Barış Antlaşması'nın aşağıdaki maddelerinden hangisi, Türk ekonomisini yabancı devletlerin baskısından kurtarmıştır?

- A) Kapitülasyonların kesin olarak kaldırılması
- B) Boğazların her iki yakasının askerden arındırılması
- C) Ülkede yaşayan bütün gayrimüslimlerin Türk vatandaşlığı kabul edilmesi
- D) Türkiye - Suriye sınırının, Fransızlarla imzalanan Ankara Antlaşması (20 Ekim 1920)'nda olduğu gibi kabul edilmesi

11. • Devletin adı belli olmuştur.

- Devlet başkanlığı sorunu çözülmüştür.
- Kabine sistemine geçilerek hükûmet kurmada ortaya çıkan sorunlar ortadan kaldırılmıştır.

Verilen gelişmeler aşağıdakilerden hangisinin sonucudur?

- A) Saltanatın kaldırılmasının
- B) Cumhuriyetin ilan edilmesinin
- C) Halifelik makamının kaldırılmasının
- D) Türkiye Büyük Millet Meclisi'nin açılmasının

12. Sanayileşmede özel sektörün desteklenmesi için çıkarılan Teşvik-i Sanayi Kanunu, kaç yılında kabul edilmiştir?

- A) 1924    B) 1925    C) 1927    D) 1929

13. Mustafa Kemal Atatürk yapmayı planladığı inkılapları bu partinin programına koymuştur. Parti, TBMM'de inkılapların gerçekleştirilmesi için büyük çaba harcamıştır. Ülke yönetiminde 1950 yılına kadar söz sahibi olmuştur.

Verilen bilgi, aşağıdaki partilerden hangisini anlatmaktadır?

- A) Millî Kalkınma Partisi
- B) Cumhuriyet Halk Partisi
- C) Serbest Cumhuriyet Fırkası
- D) Terakkiperver Cumhuriyet Fırkası

14. Bütün millet bireylerini ayrılık gözetmeksizin memleketin öz evladı kabul etmek, onların temel hak ve özgürlüklerini güvence altına almak, onları yasa önünde eşit tanımak kuralına dayanır.

Bu açıklama aşağıdaki Atatürk ilkelerinden hangisine aittir?

- A) Laiklik
- B) Devletçilik
- C) Milliyetçilik
- D) Halkçılık

15. Yunan askerlerinin İzmir'i işgal etmesi üzerine; Türk halkının ilk tepkisi aşağıdakilerden hangisi olmuştur?

- A) Kuvayimillîye birliklerini kurmak
- B) Yerel kongreler düzenlemek
- C) Düzenli orduları oluşturmak
- D) Ankara'da TBMM'yi açmak

16. I- İtalya'nın Habeşistan'a saldırması

II- Japonya'nın Milletler Cemiyeti'nden çekilmesi

III- Avrupa'da yeniden savaş rüzgârlarının esmeye başlaması

Atatürk'ün boğazlar sorununu kesin olarak çözmeye karar vermesinde yukarıdaki gelişmelerden hangileri etkili olmuştur?

- A) Yalnız I
- B) Yalnız III
- C) I ve II
- D) I, II ve III

17. Aşağıdakilerden hangisi Gümrü Antlaşması'nın sonuçlarından biri değildir?

- A) Misakımillî'nin doğu sınırları gerçekleştirilmiştir.
- B) Türk halkının ordu ve TBMM'ye olan güveni artmıştır.
- C) Fransa işgal ettiği güney illerimizden çekilme kararı almıştır.
- D) TBMM'nin uluslararası alandaki ilk siyasi başarısı olmuştur.

18. 3 Mart 1918'de imzalanan Brest - Litovsk Antlaşması ile aşağıdaki cephelerin hangisi kapanmıştır?

- A) Kafkas
- B) Kanal
- C) Galiçya
- D) Suriye - Filistin

19. Türkiye'de ilk çok partili seçimlerin yapıldığı yıl, aşağıdakilerin hangisidir?

- A) 1940    B) 1946    C) 1949    D) 1952

20. Mihver Devletler, aşağıdakilerin hangisinde doğru olarak bir arada verilmiştir?

- A) Fransa - İtalya - SSCB
- B) ABD - İngiltere - Japonya
- C) Almanya - İtalya - Japonya
- D) İngiltere - Fransa - Japonya

## 1. OTURUM

(807) İNGİLİZCE – 8

1-20. sorularda boş bırakılan yere uygun gelen kelime ya da ifadeyi işaretleyiniz.

1. The tea is too hot ..... .

- A) drink                      B) drank  
C) to drink                  D) drinking

2. Would you mind if I ..... the window?

- A) open                      B) opened  
C) to open                  D) opening

3. How many tests ..... in this course?

- A) give                      B) given  
C) to give                  D) are given

4. Some different languages are ..... in Belgium.

- A) told      B) said      C) spoken      D) made

5. I ..... tea to coffee.

- A) prefer                      B) should  
C) shall                      D) need

6. He's old ..... to drive a car.

- A) very      B) many      C) much      D) enough

7. There are two ..... of soap.

- A) bars      B) cups      C) jars      D) loaves

8. There is ..... milk in the bottle.

- A) a      B) an      C) any      D) some

9. I don't like dogs. My brother doesn't like dogs, ..... .

- A) neither                      B) either  
C) too                          D) so

10. Have you ..... been to Paris?

- A) already                      B) since  
C) ever                          D) for

11. I haven't seen the film ..... is on Odeon Cinema.

- A) who      B) whom      C) which      D) where

12. I'll meet my friend ..... brother had an accident last week.

- A) whose                      B) that  
C) what                          D) why

13. Lake Van is the ..... in Turkey.

- A) highest                      B) largest  
C) longest                      D) least

14. They went to İzmir ..... .

- A) yesterday                      B) tomorrow  
C) at the moment                  D) next week

15. You should eat this apple-pie. It ..... .

- A) looks bad                      B) smells awful  
C) feels terrible                  D) tastes delicious

16. You ..... cross the road if traffic lights ..... red.

- A) can / were                      B) mustn't / are  
C) will / have been                  D) wouldn't / aren't

17. She ..... her leg while she ..... tennis.

- A) hurt / played  
B) is hurting / plays  
C) hurt / was playing  
D) was hurting / played

18. Helen is the most beautiful girl .....

- A) I have ever seen.  
B) they have ever got.  
C) she has ever visited.  
D) you have ever studied.

# 1. OTURUM

19. .... You will have an accident.

- A) You shouldn't make too much noise.
- B) You shouldn't spend much money.
- C) You shouldn't be late to work.
- D) You shouldn't drive so fast.

20. A: ..... is Antalya?

B: It's about 600 km.

- A) What about                      B) What size
- C) How far                         D) How much

## (807) ALMANCA – 8

1-20. sorularda boş bırakılan yere uygun gelen kelime ya da ifadeyi işaretleyiniz.

1. A: Kaufst du für uns Kuchen?

B: Ja, ich kaufe für ..... Kuchen.

- A) dir            B) dich            C) euch            D) ihnen

2. A: Hallo Marion! Wie geht es deiner Mutter?

B: Danke, es geht ..... gut.

- A) ihm            B) ihr            C) mir            D) sie

3. A: Wen siehst du an?

B: Ich sehe ..... Frau an.

- A) die            B) der            C) dem            D) den

4. A: Wem gehören die Kleider?

B: Die Kleider gehören ..... Mann.

- A) der            B) die            C) dem            D) den

5. Ich suche Arbeit, ..... ich Geld brauche.

- A) mir            B) denn            C) als            D) wenn

6. Ich gehe zum Arzt, ..... ich habe Kopfschmerzen.

- A) ihm            B) wenn            C) ihr            D) denn

7. Das Flugzeug ..... nach Erzurum. (Präteritum)

- A) geflogen                      B) fliegen
- C) flog                            D) flogte

8. Meine Mutter hat es mir verboten, ich ..... nicht spät nach Hause kommen.

- A) darf            B) muss            C) mochten            D) wolltet

9. Heike putzt ..... jeden Morgen die Zähne.

- A) meine            B) sich            C) mich            D) dich

10. dünn, ..... , am dünnsten

- A) dünne            B) dünnste            C) dünnen            D) dünner

11. Katja ist älter ..... Melanie.

- A) die            B) wie            C) als            D) sie

12. Die gut- ..... Leute. (Plural)

- A) -e            B) -er            C) -en            D) -es

13. Die alte Frau, ..... dort steht, ist meine Tante.

- A) der            B) die            C) das            D) den

14. Ich habe mein- ..... Freundin eine SMS geschrieben.

- A) -er            B) -en            C) -e            D) -es

15. Ich und Monika ..... eine Suppe.

- A) trinken            B) essen            C) isst            D) trinkt

16. .... rote Pullover gefällt mir.

- A) Dieser            B) Diese            C) Dieses            D) Dies

17. Die Eltern unterhalten .....

- A) euch            B) mich            C) uns            D) sich

# 1. OTURUM

18. A: ..... fährst du in den Ferien?

B: Antalya.

A) Wie B) Was C) Wer D) Wohin

19. Wir reisen ..... Berlin.

A) auf B) nach C) im D) mehr

20. Der Polizist prüft den Pass .....  
Autofahrer-....

A) des / -s B) dem / -s  
C) der / -s D) des / -

## (807) FRANSIZCA – 8

1-20. sorularda boş bırakılan yere uygun  
gelen kelime ya da ifadeyi işaretleyiniz.

1. Il y a une église en ..... de l'hôtel.

A) face B) côté C) derrière D) entre

2. Pouvez-vous me dire ..... se trouve  
Notre-Dame ?

A) ou B) au C) aux D) où

3. La seine ? C'est un fleuve qui  
..... Paris.

A) traverses B) traversez  
C) traverse D) traverser

4. Pour aller à l'agence immobilière,  
..... la première rue à gauche.

A) mangez B) prenez  
C) parlez D) écoutez

5. .... parfum mettez-vous?

A) Quelle B) Quel C) Quelles D) Quels

6. La maison ..... je préfère doit être à  
la campagne.

A) qui B) quel C) que D) où

7. Les chèvres sont en danger à ..... de  
l'incendie de la forêt.

A) cause B) même C) pendant D) chaque

8. Le père à Jean : "Ouvre la porte de la voiture."

Son père dit à Jean d'..... la porte  
de la voiture.

A) ouvres B) ouvrir C) ouvrez D) ouvre

9. Je ..... lève à 10 heures le  
dimanche.

A) lui B) leur C) me D) elle

10. Être riche et être bonne santé ; c'est  
..... que d'être pauvre et malade.

A) meilleure B) mieux  
C) pire D) moins

11. Les Turcs sont les gens .....  
hospitaliers du monde.

A) les plus B) le plus  
C) le moins D) la moins

12. Paul a 12 livres et Virginie a 12 livres. Paul a  
..... de livres que Virginie.

A) plus B) aussi C) autant D) moins

13. Kızılırmak est la plus ..... rivière  
de la Turquie.

A) long B) longs C) longues D) longue

14. Je veux ces chaussures-ci et tu veux aussi  
.....

A) ceux-ci B) celle-ci  
C) celles-là D) ceux-là

15. Il a perdu son livre et il veut lire  
..... de sa sœur.

A) celle B) ceux C) cela D) celui

## 1. OTURUM

16. Les pingouins ..... vivent en mer de Nord disparaissent de plus en plus.

- A) qui B) que C) quoi D) où

17. Quand j'étais jeune, je ..... au foot.

- A) jouerai B) jouais  
C) vais jouer D) jouer

18. Hier, nous ..... au bord de la mer.

- A) sommes allés B) allons  
C) soyons allés D) irons

19. Edvard a mal à la .....

- A) main B) dos C) nez D) ventre

20. .... venait à son bureau en taxi.

- A) Nous B) Vous C) Elles D) Marc

### (808) DİN KÜL. VE AHLAK BİLGİSİ – 8

1. Hac ibadeti yapılırken “Arafat Vakfe”sinden sonra aşağıdakilerden hangisi yapılır?

- A) Sa'y  
B) Kurban kesme  
C) Şeytan taşlama  
D) Müzdelife vakfesi

2. Dinen zengin sayılmanın ölçüsü veya servetin zekâtı gerektiren miktarı olarak tarif edilen kavram aşağıdakilerden hangisidir?

- A) Nisap B) Öşür  
C) Fitre D) Şavt

3. Aşağıdakilerden hangisi “Tevekkül” kelimesinin sözlük anlamları arasında yoktur?

- A) Teslim olmak B) Güvenmek  
C) Sığınmak D) Tercih etmek

4. Yüce Allah'ın evrende koymuş olduğu yasalar aşağıdaki kavramlardan hangisi ile ifade edilir?

- A) Kelamullah B) Küllî irade  
C) Sünnetullah D) Şeriat

5. Aşağıdakilerden hangisi adak kurbanına örnek oluşturur?

- A) Çocuğu doğan kimsenin kurban kesmesi  
B) Ev alan birinin şükür maksadıyla kurban kesmesi  
C) Zengin bir kimsenin Kurban Bayramı'nda kurban kesmesi  
D) “Sınıfımı gerçersem kurban keseceğim” diyen kimsenin kurban kesmesi

6. Aşağıdakilerden hangisinin taassubu önlediği söylenebilir?

- A) Taklit etme B) Sorgulama  
C) Kutsallaştırma D) İnanma

7. Kâbe'nin etrafındaki her bir dönüşü ne denir?

- A) Tavaf B) Sa'y  
C) Şavt D) Vakfe

8. Zekâtın hangi mallardan ne kadar verileceği ile ilgili olarak aşağıda verilen eşleştirmelerden hangisi doğrudur?

- A) Sığır ve manda : 1/5  
B) Toprak ürünleri : 1/10  
C) Koyun - Keçi : 1/20  
D) Ticaret malları : 1/30

9. Aşağıdakilerden hangisi kul hakkına sebep olan bir davranış değildir?

- A) İntihar etmek  
B) Gıybet etmek  
C) Kötü zanda bulunmak  
D) Hırsızlık yapmak

10. “Bir adam peygamberimize gelerek 'hayvanımı bağlayarak mı, yoksa serbest bırakarak mı Allah'a tevekkül edeyim.' diye sordu. Hz. Peygamber de ona 'bağla ve tevekkül et!' dedi.”

Aşağıdakilerden hangisinin davranışı Hz. Peygamberin yukarıdaki öğütüne uygundur?

- A) Derslerine çalışmayan ama başarılı olmak için dua eden öğrenci.  
B) Arabanın bakımını yaptırmadan yola çıkan şoför.  
C) İnşaatında gereğinden az demir kullanan müteahhit.  
D) Kurallara göre tarlasını ekip sonucu bekleyen çiftçi.

## 1. OTURUM

11. Allah'ın affetmeyi, hak sahibinin affetmesi şartına bağladığı günah aşağıdakilerden hangisidir?

- A) Şirk koşturmak
- B) Kumar oynamak
- C) Kul hakkı yemek
- D) Uyuşturucu kullanmak

12. Aşağıdakilerden hangisine zekât verilmez?

- A) Zekât memurlarına
- B) Cami derneklerine
- C) Özgürlüğünü yitirmiş olanlara
- D) Kalbi İslam'a ısındırılmak istenenlere

13. I- "Güneş de yörüngesinde akıp gitmektedir. Bu, üstün ve bilen Allah'ın kanunudur." (Yasin suresi, 38. ayet)

II- "O, insanı alaktan (embriyodan) yarattı." (Alak suresi, 2. ayet)

III- "Her toplumun belirlenmiş bir eceli vardır. Ecelleri geldiğinde onu ne bir an erteleyebilirler ne de bir an öne alabilirler." (A'raf suresi, 34. ayet)

Bu ayetlerden hangisi veya hangileri evrendeki fiziksel yasalarla ilgilidir?

- A) Yalnız I
- B) I ve II
- C) I, II ve III
- D) Yalnız III

14. "Haham", aşağıdaki dinlerden hangisinin din adamlarına verilen isimdir?

- A) Hristiyanlık
- B) Budizm
- C) Yahudilik
- D) Hinduizm

15. Aşağıdakilerden hangisi Hinduizm'deki "karma" denilen yasanın bir sonucudur?

- A) Tenasüh
- B) Yoga
- C) Teslis
- D) Meditasyon

16. Hz. Yusuf hapiste iken Hükümdarın rüyasını yorumlamış ve hapisten kurtulmuştu. Bu rüya aşağıdakilerden hangisidir?

- A) Çocuğunu Allah için kurban ettiği
- B) Yedi zayıf ineğin yedi semiz ineği yediği
- C) Bir gemi yaparak büyük tufandan kurtulduğu
- D) Denizde boğulmak üzere iken bir balığın kendisini yuttuğu

17. Yüce Allah'ın neyin, ne zaman, nerede olacağını belli bir ölçü ve düzen içerisinde planlaması aşağıdaki kavramlardan hangisi ile ifade edilir?

- A) Cûz'i irade
- B) Kaza
- C) Kader
- D) İrade

18. Sığır ve manda kurban edilebilmesi için kaç yaşını doldurmuş olması gerekir?

- A) 1
- B) 2
- C) 3
- D) 5

19. Hz. İsa'nın doğduğu yer hangi seçenekte doğru olarak verilmiştir?

- A) Mısır
- B) Filistin
- C) Antakya
- D) Lübnan

20. Hz. Muhammed'in "Hilfu'l-fudul'a üye olmasında onun aşağıdaki özelliklerden hangisinin etkili olduğu söylenebilir?

- A) Hakkı gözetmesi
- B) Hoşgörülü olması
- C) Sabırlı olması
- D) Affedici olması

TEST BİTTİ.  
CEVAPLARINIZI KONTROL EDİNİZ.

**9 MART 2014 TARİHİNDE YAPILAN**  
**AÇIK ÖĞRETİM ORTAOKULU 2013-2014 ÖĞRETİM YILI 2. DÖNEM SINAVI**  
**1. OTURUM CEVAP ANAHTARI**

<b>TÜRKÇE – 5</b>	<b>FEN ve TEKNOLOJİ – 5</b>	<b>İNGİLİZCE – 6</b>	<b>FRANSIZCA – 6</b>
1. D	1. C	1. A	1. D
2. C	2. B	2. B	2. C
3. A	3. A	3. A	3. D
4. B	4. C	4. D	4. B
5. A	5. D	5. C	5. A
6. C	6. C	6. D	6. C
7. B	7. A	7. B	7. D
8. A	8. D	8. C	8. B
9. D	9. B	9. B	9. A
10. C	10. D	10. D	10. B
11. D	11. A	11. A	11. D
12. D	12. B	12. C	12. D
13. A	13. C	13. D	13. C
14. C	14. B	14. A	14. B
15. A	15. A	15. B	15. C
16. D	16. D	16. C	16. A
17. A	17. C	17. A	17. A
18. B	18. B	18. D	18. B
19. C	19. A	19. C	19. A
20. B	20. D	20. D	20. C
<b>MATEMATİK – 5</b>	<b>SOSYAL BİLGİLER – 6</b>	<b>ALMANCA – 6</b>	<b>DİN KÜLTÜRÜ ve AHLAK BİLGİSİ – 6</b>
1. A	1. C	1. B	1. C
2. B	2. D	2. A	2. B
3. C	3. B	3. D	3. C
4. D	4. A	4. A	4. B
5. C	5. C	5. C	5. B
6. B	6. A	6. C	6. A
7. D	7. B	7. A	7. C
8. A	8. D	8. D	8. A
9. A	9. A	9. D	9. D
10. B	10. C	10. B	10. C
11. C	11. B	11. B	11. C
12. A	12. A	12. C	12. A
13. B	13. D	13. A	13. C
14. D	14. A	14. A	14. D
15. D	15. C	15. D	15. D
16. D	16. D	16. B	16. A
17. D	17. D	17. B	17. A
18. A	18. C	18. C	18. D
19. D	19. B	19. A	19. B
20. C	20. A	20. D	20. A



**9 MART 2014 TARİHİNDE YAPILAN**  
**AÇIK ÖĞRETİM ORTAOKULU 2013-2014 ÖĞRETİM YILI 2. DÖNEM SINAVI**  
**1. OTURUM CEVAP ANAHTARI**

<b>TÜRKÇE – 7</b>	<b>FEN ve TEKNOLOJİ – 7</b>	<b>İNGİLİZCE – 8</b>	<b>FRANSIZCA – 8</b>
1. D	1. B	1. C	1. A
2. C	2. B	2. B	2. D
3. B	3. A	3. D	3. C
4. A	4. C	4. C	4. B
5. B	5. D	5. A	5. B
6. D	6. D	6. D	6. C
7. B	7. C	7. A	7. A
8. C	8. A	8. D	8. B
9. C	9. A	9. B	9. C
10. A	10. D	10. C	10. B
11. D	11. C	11. C	11. A
12. B	12. B	12. A	12. C
13. C	13. D	13. B	13. D
14. A	14. D	14. A	14. C
15. B	15. A	15. D	15. D
16. D	16. B	16. B	16. A
17. A	17. D	17. C	17. B
18. C	18. C	18. A	18. A
19. C	19. C	19. D	19. A
20. A	20. A	20. C	20. D
<b>MATEMATİK – 7</b>	<b>TC İNK. TAR. VE ATA. – 8</b>	<b>ALMANCA – 8</b>	<b>DİN KÜLTÜRÜ ve AHLAK BİLGİSİ – 8</b>
1. C	1. B	1. C	1. D
2. D	2. A	2. B	2. A
3. A	3. D	3. A	3. D
4. C	4. C	4. C	4. C
5. B	5. B	5. D	5. D
6. C	6. B	6. D	6. B
7. D	7. D	7. C	7. C
8. C	8. C	8. A	8. B
9. A	9. D	9. B	9. A
10. D	10. A	10. D	10. D
11. B	11. B	11. C	11. C
12. D	12. C	12. C	12. B
13. A	13. B	13. B	13. A
14. B	14. D	14. A	14. C
15. D	15. A	15. B	15. A
16. B	16. D	16. A	16. B
17. C	17. C	17. D	17. C
18. B	18. A	18. D	18. B
19. A	19. B	19. B	19. B
20. A	20. C	20. A	20. A

### SINAV SÜRESİNCE UYULACAK KURALLAR

1. Adaylar, sınav kurallarına ve salon görevlilerinin tüm uyarılarına uymak zorundadırlar. Kurallara ve uyarılara uymayan adayların sınavları geçersiz sayılacaktır.
2. Sınav başladıktan sonra adayların salon görevlileri ve birbirleri ile konuşmaları, kalem, silgi vb. şeyleri istemeleri yasaktır.
3. Adaylar sınav süresince, sınav giriş belgesi ile birlikte kimlik belgelerinden birini (nüfus cüzdanı, pasaport veya sürücü belgesi) masalarının üzerinde bulundurmamak zorundadırlar.
4. Sınav evraklarını teslim etmeyen, soru kitapçıklarının sayfalarından bir kısmını eksik teslim edenlerin sınavları geçersiz sayılacaktır.

### SALON GÖREVLİLERİNCE SINAV BAŞLAMADAN ÖNCE ADAYLARA YAPILACAK SON UYARI

- Soracağınız bir şey var mı? Varsa, şimdi sorunuz.
- Sınav başladıktan sonra sorularınıza cevap verilmeyecektir.
- Başlama zilini bekleyiniz.
- Hepinize başarılar dileriz.

(Salon başkanı başlama ve bitiş saatini tahtaya yazacaktır.)

Bu kitapçığın her hakkı saklıdır. Hangi amaçla olursa olsun, kitapçığın tamamının veya bir kısmının Millî Eğitim Bakanlığı Yenilik ve Eğitim Teknolojileri Genel Müdürlüğünün yazılı izni olmadan kopya edilmesi, fotoğraflarının çekilmesi, bilgisayar ortamına alınması, herhangi bir yolla çoğaltılması, yayımlanması veya başka bir amaçla kullanılması yasaktır. Bu yasağa uymayanlar, doğabilecek cezai sorumluluğu ve kitapçığın hazırlanmasındaki mali külfeti peşinen kabullenmiş sayılır.