

ADI:
SOYADI:
SINIFI : NO:

DERS: MATEMATİK 5,6
KONU: VERİ İŞLEME KONU TESTİ-1
HAZIRLAYAN: ÖMER ASKERDEN

PİRİ MEHMET PAŞA ORTAOKULU EĞİTİM ÇALIŞMALARI

1. Ekonomik bir otomobil almak isteyen Ayhan Bey bu konuda araştırma yapmak istiyor.



Buna göre araştırma için uygun örneklem aşağıdakilerden hangisidir?

- A) Memurlar C) Ev hanımları
B) Öğretmenler D) Oto galericileri

2. Futbol takımlarının formasını üreterek geçinen bir tekstilci bu yıl hangi takımın formasını üreteceğine karar vermek istiyor.

Takımlar	O	G	M	B	P
Beşiktaş	25	20	-	5	65
Fenerbahçe	25	19	3	3	60
Galatasaray	25	18	3	1	55
Trabzon	25	17	4	2	53

Yukarıdaki puan durumunun elde edildiği hafta bir anket hazırlayan tekstilcinin örneklemini aşağıdakilerden hangisi **olamaz**?

- A) Futbolcular B) Spor yazarları
C) Öğrenciler D) Ev hanımları

3. Cüneyt Bey bir çanta dolusu parasını hangi yatırım aracına yatıracığına karar vermek istiyor.



Buna göre aşağıdaki sorulardan hangisinin cevabı faydalı **olmaz**?

- A) Cumhuriyet Altını'nın 1 yıllık seyri nedir?
B) Dolar son 1 ayda yüzde kaç düştü?
C) Euro, Dolar'dan kaç TL fazla?
D) Borsa son bir yıldaki en düşük seviyesinde mi?

4. Tabloda 6-D sınıfı öğrencilerinin ödevleri kontrol edilmiş, yapılmayan ödevlerin çetelesi tutulmuştur.

Adı	Yapmadığı ödev sayısı
Ziya	≠ ≠ ≠ -
Hande	≠ ≠ -
Selim	≠ ≠ ≠ ≠ ≠ -
Yeliz	≠ ≠ ≠
Taha	≠ ≠ ≠ ≠ =

Buna göre öğretmen hangi öğrencilerini uyarmalıdır?

- A) Hande-Yeliz B) Ziya-Hande
C) Selim-Taha D) Yeliz-Ziya

5. Tüccar Selim bey birikimlerini değerlendirmek için bir yatırım aracı seçecektir.



Araştırma yapmak için aşağıdaki araçlardan hangisini **seçmez**?

- A) Ekonomi dergileri C) Finans kurumları
B) TV haber kanalları D) İlköğretim kitapları

6. Kalemtraş üreten bir firma yepyeni bir model geliştirmiştir. Pazarlamadan önce belirli bir gruba tanıtılarak beğenilip beğenilmediğini araştıran bir anket düzenleyecektir.



Buna göre, bu anketin uygulanacağı örneklem aşağıdakilerden hangisi **olamaz**?

- A) İlköğretim öğrencileri C) Üniversite öğrencileri
B) Öğretmenler D) Futbolcular

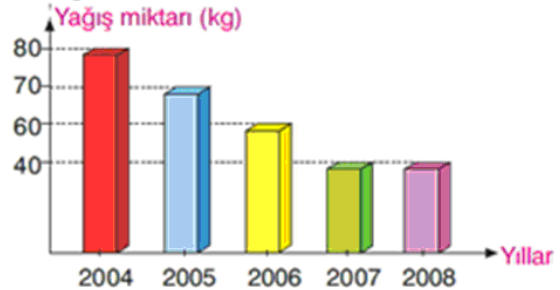
7. Gelecek yıl patates, soğan veya şeker pancarından birini ekmek isteyen bir çiftçi bu ürünlerden birisine karar verecektir.



Buna göre, aşağıdaki sorulardan hangisinin cevabına ihtiyacı **yoktur**?

- A) Geçen yıl hangi üründen bol miktarda vardı?
B) Geçen yıl yumurtanın fiyatı ne kadar arttı?
C) Geçen yıl hangi ürün daha çok kâr getirirdi?
D) Bu yıl hangi ürünün maliyeti arttı?

8. Yaz mevsiminin 5 yıllık yağış ortalaması grafikte verilmiştir. Grafik: Yaz mevsiminde 5 yıllık yağış ortalaması



I. Arıcılık III. Sebzeçilik II. Meyvecilik IV. Çeltik

Buna göre çiftçi yukarıdaki iş kollarından hangisini seçeceğine nasıl karar verebilir?

- A) Su gereken iş kolunu seçer
B) Su gerekmeyen iş kolunu seçer
C) Çeltik eker
D) Sebze eker

ADI:
SOYADI:
SINIFI : NO:

DERS: MATEMATİK 5,6
KONU: VERİ İŞLEME KONU TESTİ-1
HAZIRLAYAN: ÖMER ASKERDEN

PİRİ MEHMET PAŞA ORTAOKULU EĞİTİM ÇALIŞMALARI

9. Dört farklı romandan birini alıp okumak isteyen Faruk; öğretmeni, arkadaşı ve babasına bu romanlarla ilgili fikirlerini sormuştur.

Kitap adı	Öğretmen	Arkadaşı	Babası
I. roman	10	1	8
II. roman	4	5	6
III. roman	6	8	4
IV. roman	8	4	6

Fikirlerini sorduğu kişiler puan vererek cevap verdiklerine göre Faruk hangi romanı seçer?

- A) I B) II C) III D) IV

10.



Yukarıdaki iş merkezinden büro tutup işlerini bürodan idare etmek isteyen bir iş adamı aşağıdaki sorulardan hangisine cevap **aramaz**?

- A) Kirası ne kadar? C) Ulaşımı nasıl?
B) Güvenliği var mı? D) Penceresi var mı?

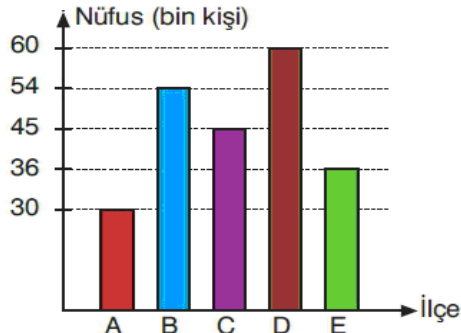
11. Kırtasiye açmak isteyen bir emekli öğretmen uygun bir yer araştırması yapacaktır.



- A) Okul yanı
B) Cadde üstü
C) Plajda
D) Adliye karşı

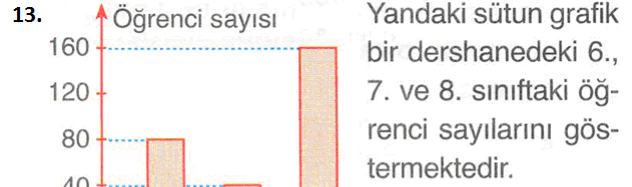
Buna göre, açılacak olan kırtasiye aşağıdaki yerlerden hangisinde iş **yapmaz**?

12. Grafikte ilçe nüfusları verilen bir ilimizin, nüfusu en fazla olan iki ilçesine birer kültür merkezi yapılacaktır. **Grafik:** Bir ilimizin ilçelerinin nüfusları



- A) B ile C
B) A ile E
C) C ile D
D) B ile D

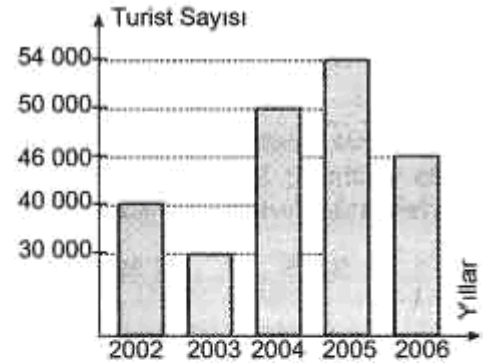
Buna göre, kültür merkezi yapılacak olan ilçeler aşağıdakilerden hangisidir?



Buna göre, aşağıdakilerden hangisi **yanlıştır**?

- A) En az öğrenci 7. sınıfta vardır.
B) 8. sınıftaki öğrenci sayısı 6. sınıftaki öğrenci sayısından 80 kişi azdır.
C) En çok öğrenci 8. sınıfta vardır.
D) Bu sınıflarda toplam 280 öğrenci vardır.

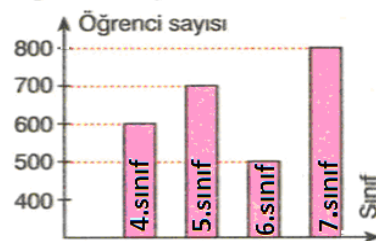
14.



Yukarıdaki grafik bir bölgemize son 5 yılda gelen turist sayısını göstermektedir. Buna göre, aşağıdaki ifadelerden hangisi **yanlıştır**?

- A) En fazla turist artışı 2004 yılında olmuştur.
B) En çok turist 2005 yılında gelmiştir.
C) 2006 yılında gelen turist sayısı 2003 yılında gelen turist sayısından 1600 fazladır.
D) 2003 ve 2006 yılında gelen turist sayısında azalma olmuştur.

15. Bir dershanenin yaptığı ödüllü sınava katılan öğrenci sayıları aşağıdaki grafikte verilmiştir.



Bu grafiğe göre, aşağıdakilerden hangisi **doğrudur**?

- A) Sınava giren 4. sınıflar, 6. sınıfların 2 katıdır.
B) Sınava giren toplam öğrenci sayısı 2400'dür.
C) Sınava en çok katılım 7. sınıflardan olmuştur.
D) Sınava giren 6. sınıf öğrenci sayısı, 7. sınıf öğrencilerinin yarısından azdır.

ADI:
SOYADI:
SINIFI : NO:

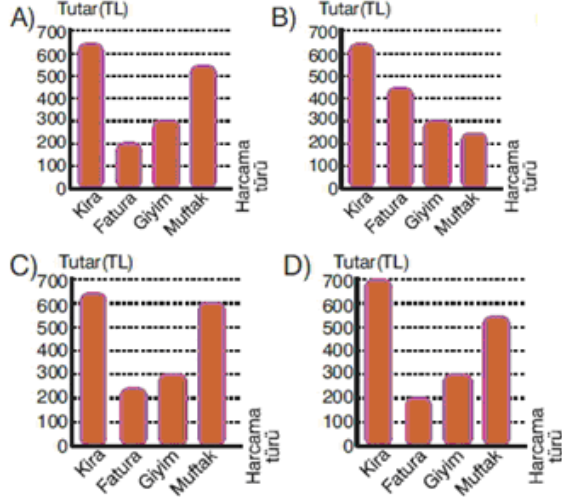
DERS: MATEMATİK 5,6
KONU: VERİ İŞLEME KONU TESTİ-1
HAZIRLAYAN: ÖMER ASKERDEN

PİRİ MEHMET PAŞA ORTAOKULU EĞİTİM ÇALIŞMALARI

16. Zeki Bey'in aylık harcamalarının tablosu aşağıdaki gibidir.

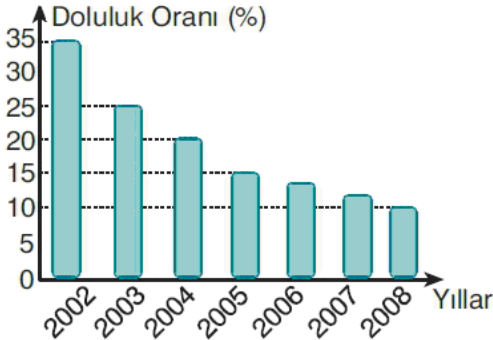
Harcama türü	Tutar
Kira	650 TL
Fatura	200 TL
Giyim	300 TL
Mutfak	550 TL

Bu tabloyu yansıtan grafik aşağıdakilerden hangisidir?



18. İstanbul'daki barajların doluluk oranı aşağıdaki grafik verilmiştir.

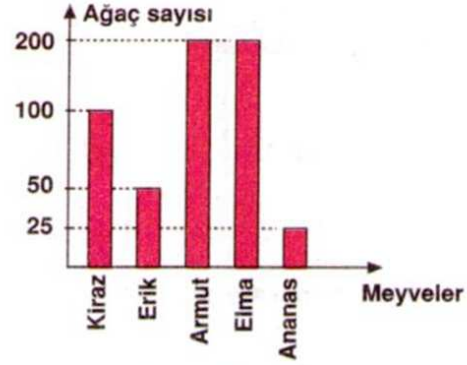
Grafik: İstanbul'daki barajların yıllara göre doluluk oranı



Buna göre, aşağıdaki yorumlardan hangisi yapılamaz?

- A) Her yıl daha kurak geçmektedir.
B) Küresel ısınma ülkemizi etkilemektedir.
C) Su kaynaklarımızı verimli kullanmaktayız.
D) İleriki yıllarda su sıkıntısı artabilir.

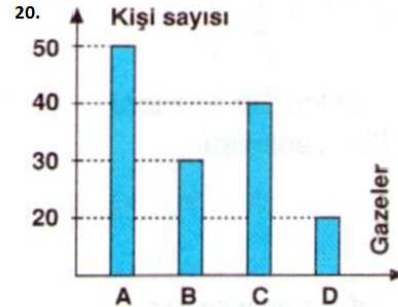
19.



Yukarıdaki grafikte bir tarlada yetişen meyve ağaçları ve sayıları verilmektedir.

Buna göre tarladaki toplam ağaç sayısı kaçtır?

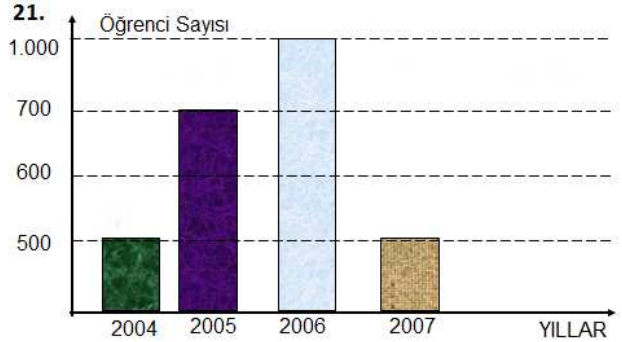
- A) 525 B) 550 C) 575 D) 600



Yukarıdaki grafikte bir site oturanların okuduğu gazeteler verilmiştir.

Buna göre A gazetesi okuyanların sayısı, okunan ortalama gazete sayısından kaç fazladır?

- A) 18 B) 17 C) 16 D) 15



Yukarıda grafikte A dershanesindeki yıllara göre öğrenci sayıları verilmiştir.

Grafığe göre bir önceki yıla oranla en fazla artış hangi yılda olmuştur?

- A) 2004 B) 2005 C) 2007 D) 2006

1D,2D,3C,4C,5D,6D,7B,8B,9A,10D,11C,12D,13B,14C,15C,16C,17A,18C,19C,20D,21D