

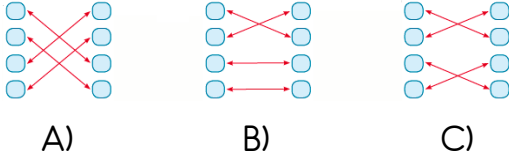
NAZİRE MERZECİ İLKOKULU 3/B SINIFI "OKUL HEYECANIM" TEMASI GENEL DEĞERLENDİRME

Adı Soyadı :

Numarası :

- 1) 29 Ekim Atatürk'ü Anma, Gençlik ve Spor Bayramı
23 Nisan Zafer Bayramı
19 Mayıs Cumhuriyet Bayramı
30 Ağustos Ulusal Egemenlik ve Çocuk Bayramı

Millî bayramlarımızla kutlama tarihleri eşleştirilecektir. Eşleştirme hangi seçenekteki gibi olmalıdır?



- 2) • Özel günlerimiz toplumsal paylaşımlar için uygun zamanlardır.
• Evlilik yıl dönümleri uluşa kutladığımız özel günlerdir.
• Millî bayramlarımızı kutlarken büyüklerimizi ziyarete gideriz.
• Okulda kutlanan bayram törenlerinde çeşitli etkinlikler yapılır.

Yukarıda verilen bilgilerden kaç tanesi doğrudur?

- A) 2 B) 3 C) 4

- 3) • Bilgiler alfabetik sıralamaya göre düzenlenmiştir.
• Bilgisayar ekranındaki görüntüyü perdeye yansıtır.

Hangi seçenekteki aracın özelliğiyle ilgili bir bilgi verilmemiştir?



A) Tepegöz



B) Ansiklopedi



C) Projeksiyon cihazı

- 4) Ders sırasında öğretmenimi çok iyi dinleyerek öğreniyorum.
Şekiller çizerek konuları zihnimde daha iyi canlandırıyorum.

Yukarıda hangi öğrenme türüne örnek verilmemiştir?

- A) İşitsel öğrenme B) Görsel öğrenme
C) Deney yaparak öğrenme

- 5) Temiz Okul Sağlıklı Eğitim! 1
Damlaya Damlaya Göl Olur! 2
Nasıl Bulmak İstiyorsan Öyle Bırak! 3

Kaç numaralı afişleri temizlik kulübündeki öğrenciler hazırlamıştır?

- A) 1 ve 2 B) 1 ve 3 C) 2 ve 3

- 6) Arda ve Selim aynı sınıfta okuyan ve aynı apartmanda oturan iki arkadaşdır. Arda uzun boylu, siyah saçlı ve kahverengi gözlüdü. Selim ise kısa boylu, sarı saçlı ve mavi gözlüdür. Arda basketbol oynamaktan, Selim ise futbol oynamaktan hoşlanır. Arda ile Selim birlikte bilgisayar oyunu oynadıklarında çok eğlenirler.

Yukarıdaki paragrafa göre hangi öğrencinin ifadesi yanlıştır?

- A) Selim ve Arda'nın fiziksel özellikleri farklıdır.
B) Arda, okulda Selim'den daha başarılıdır.
C) Arda ve Selim'in ilgi alanlarında farklılıklar vardır.

7)

Pazartesi	Hayat Bilgisi	Türkçe	Türkçe	Matematik	Matematik	Müzik
Salı	Hayat Bilgisi	Türkçe	Türkçe	Matematik	Türkçe	Görsel Sanat.
Çarşamba	Hayat Bilgisi	Türkçe	Türkçe	Matematik	Beden Eğitimi	Rehberlik

3/B sınıfının üç günlük ders programı yukarıdaki tabloda gösterilmiştir. Buna göre,

1. Eşofman → Çarşamba
2. Sulu boya → Pazartesi
3. Flüt → Salı

Yukarıdaki eşleştirmede hangi seçeneklerdeki araçlar yer değiştirirse ders programına uygun araçlar okula götürülmüş olur?

- A) 1 - 2 B) 2 - 3 C) 1 - 3

8)

Selim, Hande ve Ömer "Çevremiz" konulu bir proje ödevi hazırlayacaklardı. Selim konu ile ilgili araştırmaları yapacak, Hande görsel malzeme toplayacaktı. Ömer de çevre sorunları ile ilgili bilgi toplayacaktı. Üç arkadaş üzerlerine düşen sorumlulukları yerine getirerek ödevi hazırladılar. Sunumlarını öğretmenleri çok beğendi ve hepsine teşekkür etti.

Yukarıdaki paragrafa göre aşağıdakilerden hangisi söylenemez?

- A) Grup üyeleri sorumluluklarını yerine getirmiştir.
B) Grup çalışmasında iş bölümü yapılmıştır.
C) Grubun liderliğini Ömer yapmıştır.

9)

1. Halk yönetime katılmıştır.
2. Hak ve özgürlükler devlet güvencesi altına alınmıştır.

Yukarıdakilerden hangisi ya da hangileri cumhuriyetle birlikte gerçekleşmiştir?

- A) Yalnız 1 B) Yalnız 2 C) 1 ve 2

10)

3/A sınıfı öğrencileri şiir okuma yarışması düzenlediler. Seçici kurulda Bülent de vardı. Katılımcılar Gürkan'ın okuduğu şiiri çok beğendi. Ancak Bülent oyunu Gürkan'a değil Ali'ye verdi. Çünkü Ali, Bülent'in yakın arkadaşıdır.

Bu açıklamaya göre Bülent için hangisi söylenebilir?

- A) Yanlı davranmıştır. B) Dürüst davranmıştır.
C) Toplumsal paylaşıma önem vermiştir.

11) Bilinçli bir tüketici, alışverişte devlet bütçesine gelir sağlamak için hangisini yapmalıdır?

- A) Alacağı ürünün son kullanma tarihine bakmalıdır.
B) Alacağı ürünün garanti belgesini kontrol etmelidir.
C) Alışveriş sonrası fiş ya da fatura almalıdır.

1. Tanımadığımız ama iyi niyetli görünen insanların teklifleri kabul edilebilir.
2. Arkadaşlarımızın zamansız oyun teklifleri kabul edilmemelidir.
3. Yabancıların bizi eve götürme teklifleri kabul edilebilir.

12) Kaç numaralı cümle ya da cümlelerde verilen bilgiler doğrudur?

- A) Yalnız 2 B) 1 ve 2 C) 2 ve 3

- 13) ☐ Reklamı yapılan her ürün satın alınmamalıdır.
☐ Her reklam tüketiciyi aldatmaya yöneliktir.
☐ Satın alınacak ürünü görerek almalıyız.

Yukarıdaki ifadeler doğru ise önündeki kutucuğa "D", yanlış ise "Y" yazılacaktır. Buna göre doğru sıralama aşağıdakilerden hangisidir?

D	D	D
Y	D	Y
D	D	Y

A) B) C)

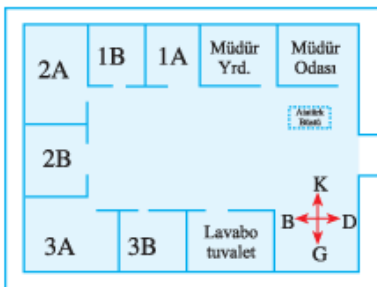
14) Aşağıdakilerden hangisi yanlıştır?

- A) Farklılıklarımız bizi eşsiz ve özel yapar.
B) Duygu ve düşüncelerimiz davranışlarımızı etkilemez.
C) "Lütfen" sözcüğü, sihirli bir anahtar gibi bütün kapıları açar.

15)




3/B sınıfında okuyorum.



Dilek'in sınıfının kuzeyinde aşağıdaki verilenlerden hangisi yoktur?

- A) 3/A B) 1/B C) 1/A

16)



Dengeli beslenmeye dikkat ederim. Yemeklerimi hızlı bir şekilde yemem.

Boran aşağıdaki verilen bilgilerden hangisini uygulamaz?

- A) Her türlü besinden yeterince yemektedir.
B) Çok fazla yememektedir.
C) Sadece sevdiği yiyecekleri yemektedir.

17)

Aşağıda Mustafa Kemal Atatürk'ün okuduğu okullar verilmiştir. Buna göre "? ile belirtilen yere aşağıdaki okullardan hangisi gelmelidir?



- A) Harp Okulu B) Askerî Fakülte C) Harp Bilimleri

18)



Annem, aldığı kazağı kullanma talimatına göre yıkadı. Yıkama sonucu kazağın şekli bozuldu. Annem kazağı aldığı mağazaya geri götürdü ama mağaza kazağı geri almadı.

Elif'in annesi bu durumda hangi kuruluşa başvurmalıdır?

- A) Türk Standartları Enstitüsü
B) Tüketici Haklarını Koruma Derneği
C) TEMA

19)

Aşağıdaki verilen eşleştirmelerden hangisi yanlıştır?

- A) 110 → İtfaiye
B) 112 → Trafik
C) 155 → Polis imdat

20)

I. Trafik işaret ve levhaları, yaya ve araçların güvenliği içindir.

II. Herhangi bir trafik levhasının üzerindeki eğik çizgi, yapılamaz ya da yasak anlamı taşır.

III. Trafik ışığı olmayan kavşaklarda trafik polisinin işaretlerine uyulur.

IV. Alt ve üst geçitler yorucu ve uğraştırıcıdır, hızla yoldan karşıya geçebiliriz.

Yukarıda verilen bilgilerden hangileri doğrudur?

- A) I ve II. B) I, II ve III. C) I, II, III ve IV.

B A Ş A R I L A R...

Nevin YÜCEL

3/B Sınıf Öğretmeni