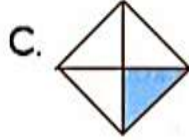



1 Hangi seçenekteki şeklin yarısı boyanmıştır?



2 Hangi seçenekteki pastanın eş parçalarından biri alınırsa, bir bütün pastanın yarısı alınmış olur?



3 Aşağıdaki öğrencilerden hangisinin verdiği bilgi yanlıştır?



Bütün, 2 yarımdan oluşur.



Bütün, 2 çeyrekten oluşur.



Yarım, 2 çeyrekten oluşur.


4 Aşağıdaki kesirlerden hangisi bir bütünün yarısını gösterir?

A. $\frac{1}{2}$

B. $\frac{2}{2}$

C. $\frac{2}{1}$

5



Yandaki şeklin taralı kısmı, şeklin ne kadarını göstermektedir?

A. Yarısını

B. Çeyreğini

C. Bütününü

6



Yukarıdaki deniz yıldızlarının yarısı kaç tanedir?

A. 3

B. 4

C. 5

7

Aşağıdaki kesirlerden hangisi çeyreği gösterir?

A. $\frac{1}{2}$

B. $\frac{4}{1}$

C. $\frac{1}{4}$

8

Topladığım 20 kıp çiçeğinin yarısını anneme, 4 tanesini de ablama verdim. Kalan çiçekleri vazoya koydum.



Onur

Onur, vazoya kaç çiçek koymuştur?

A. 12

B. 6

C. 5

9

Alper, arkadaşlarıyla pikniğe gitti. Piknikte, her biri çeyrek ekmek yedi.

Toplam 2 ekmek yendiğine göre, pikniğe kaç kişi katılmıştır?

A. 4

B. 8

C. 12

10

Aslı, bir düzine kalemin yarısını kardeşine verdi.

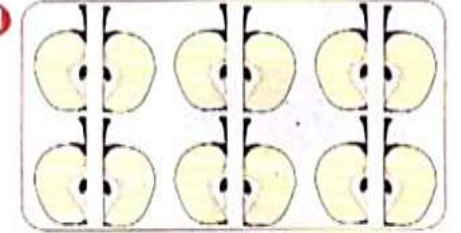
Aslı, kardeşine kaç kalem vermiştir?

A. 3

B. 4

C. 6

11




Yukarıdaki çeyrek elmaları, her birine yarım elma vererek kaç kişiye paylaşırabiliriz?

A. 6

B. 8

C. 12


12



Yukarıdaki yarım elmalardan kaç bütün elma elde ederiz?

- A. 5
B. 4
C. 3

14



Yukarıdaki ekmeklerden kaç tane bütün ekmek elde ederiz?

- A. 3 B. 4 C. 8

15

Aşağıdaki kesirlerden hangisi bütünü gösterir?

- A. $\frac{1}{2}$ B. $\frac{2}{4}$ C. $\frac{4}{4}$

16




Resimdeki karpuzları, her birine çeyrek karpuz vererek kaç kişiye paylaştırabiliriz?

- A. 16
B. 8
C. 6

17

Aşağıdaki civcivlerin sayısı, bir kümesteki tavukların sayısının çeyreği kadardır.



Bu kümeste kaç tane tavuk vardır?

- A. 12
B. 16
C. 24

18

Annem, 16 metre kumaşın yarısı ile perde, 3 metresi ile de masa örtüsü dikti.



Esra

Esra'nın annesinin, kaç metre kumaşı kalmıştır?

- A. 5
B. 8
C. 12

19

Kumbaramda biriktirdiğim paranın çeyreği 2 YTL'dir.



Ercan

Ercan'ın kumbarasında kaç YTL vardır?

- A. 6
B. 8
C. 10

20



Sercan, her gün çeyrek litre süt içiyor.

Sercan, 2 Litre sütü kaç günde içer?

- A. 8
B. 9
C. 12

13

Aşağıdaki şekillerden hangisinin boyalı kısmı 3 çeyreği gösterir?

- A. 
- B. 
- C. 