

TATİL EĞLENCEİ

ADI SOYADI:.....

23 .01.2010

ÖZGEÇMİŞİMİ YAZIYORUM

Aşağıdaki soruların cevaplarını karşlarına yazınız.

Adınız Soyadınız	
Doğum Yeriniz	
Doğum Tarihiniz	
Babanızın adı	
Annenizin adı	
Nüfusa kayıtlı olduğunuz il	
Kaç kardeşsiniz	
Kardeşlerinizin adı	
Okuduğunuz okulun adı	
Sınıf ve numaranız	
Küçükken oynadığınız oyunlar	
Küçükken hangi oyuncaklarınız vardı	
Hobileriniz nelerdir	
Severek yaptığınız şeyler nelerdir	
Hangi yemekleri seviyorsunuz	
Hangi takımı tutuyorsunuz	
Nelerden korkarsınız	
Arkadaşlarınız kimler	
Boş zamanlarınızı nasıl değerlendiriyorsunuz	

Buraya kendi resminizi iziniz

Masal Okuyalım

YALANCI

Koyun sürüsünü gütmekte olan küçük çoban, bir kurt görmüş gibi bağınmaya başladı:

— Yetişin! Yetişin! Kurt var!

Çobanlar hemen koşup yetiştiler. Ama küçük çobanın yalan söylediğini anladılar.

Küçük çoban, aynı şeyi birkaç kez daha yaptı. Kurt geldi diye bağırıp herkesi başına topladı.

Denken, günün birinde kurt gerçekten çıkageldi. Oğlan, yine:

— Yetişin! Yetişin! Kurt var! Diye bağındı.

Ne yazık ki çobanlar, onu yine yalancıktan bağındığını sanıp yanına gitmediler. Kurt da korkacak kimse olmadığını görüp sürüdeki tüm koyunları biren biren yedi.

TATİL EĞLENESİ

ADI SOYADI:.....

24 .01.2010

Aşağıdaki ritmik saymaları tamamlayınız.

5	10	15									
2	4	8									
3	6	9									
4	8	12									
10	20	30									
16	18	20									
21	24	27									
35	40	45									

Aşağıdaki sayı örüntülerini tamamlayınız

5	15	25			
3	8	13			
1	4	7			
2	6	10			
12	17	22			
23	26	29			

TATİL EĞLENCESİ

ADI SOYADI:.....

25 .01.2010

GÖRSEL OKUMA- 1

Önce Resmi Boyyalım Sonra Resimde Gördüklerimizle İlgili Bir hikâye yazalım



.....

.....

.....

.....

.....

.....

.....

.....

.....

.....

TATİL EĞLENCESİ

ADI SOYADI:.....

25 .01.2010

Yazılışları farklı anlamları aynı olan sözcüklere “Eş Anımlı Sözcükler” denir. Aşağıdaki cümlelerde altı çizili sözcüklerin eş anlamlarını bulunuz ve cümle içerisinde kullanınız.

Dağlara sonbahar çoktan gelmişti.

Babama doğum gününde hediye aldım.

Her çocuk vakti geldiğinde mektebe gitmelidir.

Büyük kentlerde yaşamak zordur.

Her insanın anıları vardır.

Bayramda yoksul insanlara yardım ettik.

Annem konuklarımız için pasta yaptı.

Sınıf başkanı vazifesini yerine getirmedi.

TATİL EĞLENCESİ

ADI SOYADI:.....

26 .01.2010

MESLEKLER

Aşağıdaki Mesleklerin adını ve mesleklere ait bilgiler öğreniniz.



TATİL EĞLENCEŚİ

ADI SOYADI:.....

26 .01.2010

Ařağıdaki tabloda boş bırakılan yerleri örneęe bakarak doldurunuz.

48	
onluk	birlik
4	8
4 onluk + 8 birlik	

59	
onluk	birlik

62	
onluk	Birlik

onluk	birlik
8	3

onluk	birlik
9	7

onluk	Birlik
7	0

onluk	birlik
4 onluk + 9 birlik	

onluk	birlik
5 onluk + 1 birlik	

onluk	Birlik
6 onluk + 5 birlik	

64	

7	3

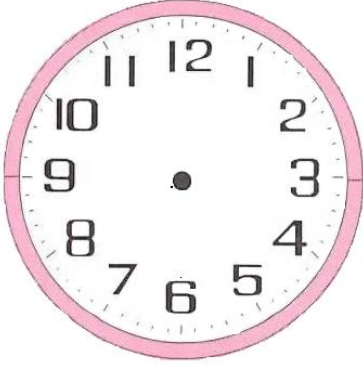
9 onluk + 1 birlik	

TATİL EĞLENCESİ

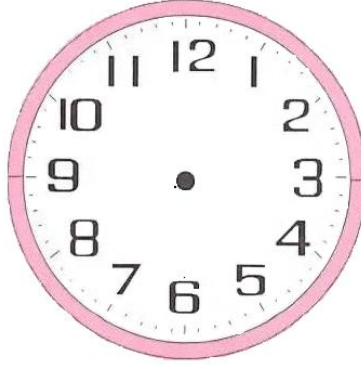
ADI SOYADI:.....

27 .01.2010

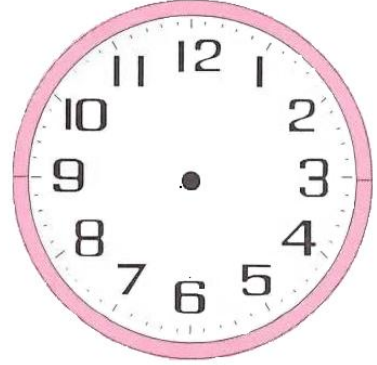
Aşağıdaki saatleri tamamlayınız



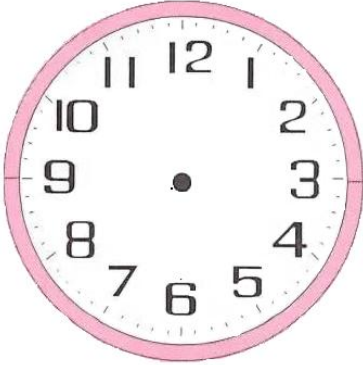
9 30



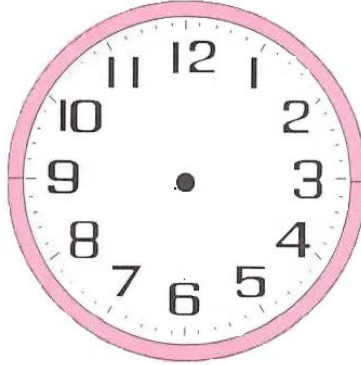
12 00



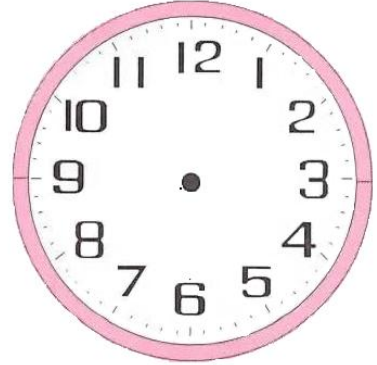
15 30



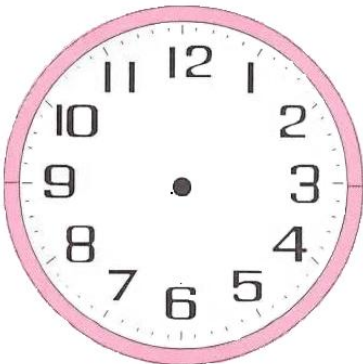
17 30



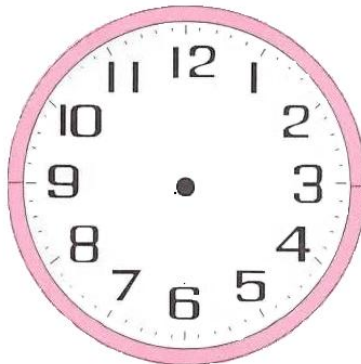
06 00



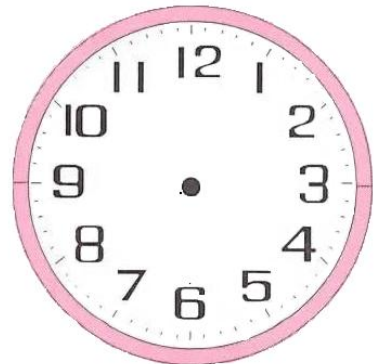
11 30



22 00



18 30



02 30

TATİL EĞLENCEİ

ADI SOYADI:.....

27 .01.2010

Yazılıřları ve anlamları farklı olan kelimeler “Zıt Anlamlı Kelimeler” denir. Ařağıdaki cümlelerde altı çizili sözcüklerin zıt anlamlarını bulunuz ve cümle içerisinde kullanınız.

Babam benim için çok sevindi.

Arabayı büyük garaja götürdük.

Kardeřim yemek yemediğıinden zayıfladı.

Her zaman daha ileriye gitmeliyiz.

Çantalar çok ağır olduğundan taşıyamadım.


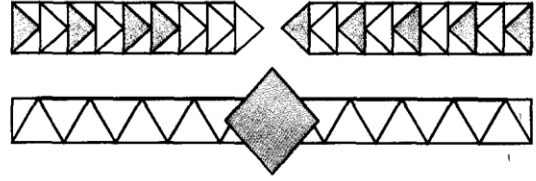
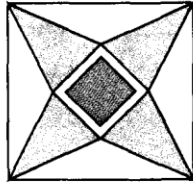
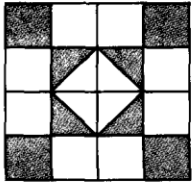
Her malın bir alıcısı vardır.

Babam uzun yoldan geldi.

Yaşlı adamı yolun karşısına geçirdim.

SÜSLEME YAPIYORUM

Aşağıdaki boşluğa üçgen, kare ve dikdörtgen kullanarak çeşitli süslemeler yapmayı deneyin. Yaptığınız süslemeleri boyamayı ihmal etmeyin. İşte senin için bir kaç örnek.



TATİL EĞLENCESİ

ADI SOYADI:.....

28 .01.2010

Aşağıda verilen sayıları karşılaştıralım büyük olan kırmızıya boyayalım.

38	45	29	39	24	26
69	72	35	45	65	79
37	29	15	40	74	71
73	66	32	75	64	74
74	37	61	81	63	88

Aşağıda verilen sayıları karşılaştıralım küçük olan maviye boyayalım.


27	39	48	55	45	37
31	59	62	42	81	75
25	50	43	86	73	63
89	90	87	88	50	78
83	45	54	68	67	50

TATİL EĞLENCESİ

ADI SOYADI:.....

29 .01.2010

BULMACA ÇÖZELİM- 1



- 1 – Aynı topraklar üzerinde yaşayan insan
- 2 – Vatandaşlık görevlerimizden biri.
- 3 – İnsanların birbirine karşı duyduğu değerli sevgi
- 4 – Atalarımızdan günümüze kadar gelen alışkanlıklar
- 5 – Bir yardım kuruluşu
- 6 - Seçme işi
- 7 – Bir eğitim kurumu
- 8 – Seçilme tercihini kullanma
- 9 – Sebze ve meyve satan kişi
- 10 – Giysi diken kişi
- 11 – Hastaların ayakta tedavi gördüğü sağlık kuruluşu
- 12 – Toplumdaki en küçük sosyal kurum

TATİL EĞLENCESİ

ADI SOYADI:.....

29 .01.2010

Dilimizde yazılıları ve okunuşları aynı olduğu halde cümle içerisinde kullanırken farklı anlam taşıyabilen sözcükler vardır. Bu sözcüklere “Eş Sesli Sözcükler” deniz.

Aşağıdaki cümlelerde geçen eş sesli sözcükleri farklı anlamda başka bir cümle içerisinde kullanalım.

Bir demet gül aldım.

Çayı şekerli içmeyi severim.

Havalar iyice serinledi.

Arkadaşımın yüzü çok güzel.

Gölün kenarındaki sazlara kuşlar kondu.

Bahçeye çiçek ekmek çok güzel.

Ocak ayı yılın birinci ayıdır.

Ayakkabımın bağı koptu.


TATİL EĞLENCESİ

ADI SOYADI:.....

30 .01.2010

GÖRSEL OKUMA- 2

Önce Resmi Boyyalım Sonra Resimde Gördüklerimizle İlgili Bir hikâye yazalım



.....

.....

.....

.....

.....

.....

.....

TATİL EĞLENCESİ

ADI SOYADI:.....

30 .01.2010

Aşağıdaki toplama işlemlerini yapalım.

$$\begin{array}{r} 43 \\ + 38 \\ \hline \end{array}$$

.....

$$\begin{array}{r} 58 \\ + 33 \\ \hline \end{array}$$

....

$$\begin{array}{r} 39 \\ + 41 \\ \hline \end{array}$$

....

$$\begin{array}{r} 74 \\ + 17 \\ \hline \end{array}$$

....

$$\begin{array}{r} 38 \\ + 52 \\ \hline \end{array}$$

....

$$\begin{array}{r} 57 \\ + 14 \\ \hline \end{array}$$

.....

$$\begin{array}{r} 36 \\ + 55 \\ \hline \end{array}$$

.....

$$\begin{array}{r} 47 \\ + 26 \\ \hline \end{array}$$

.....

$$\begin{array}{r} 12 \\ + 79 \\ \hline \end{array}$$

.....

$$\begin{array}{r} 68 \\ + 27 \\ \hline \end{array}$$

.....

$$\begin{array}{r} 35 \\ + 57 \\ \hline \end{array}$$

....

$$\begin{array}{r} 49 \\ + 12 \\ \hline \end{array}$$

....

$$\begin{array}{r} 27 \\ + 15 \\ \hline \end{array}$$

....

$$\begin{array}{r} 74 \\ + 19 \\ \hline \end{array}$$

....

$$\begin{array}{r} 63 \\ + 18 \\ \hline \end{array}$$

....

$$\begin{array}{r} 57 \\ + 35 \\ \hline \end{array}$$

.....

$$\begin{array}{r} 67 \\ + 36 \\ \hline \end{array}$$

.....

$$\begin{array}{r} 75 \\ + 15 \\ \hline \end{array}$$

.....

$$\begin{array}{r} 28 \\ + 57 \\ \hline \end{array}$$

.....

$$\begin{array}{r} 46 \\ + 16 \\ \hline \end{array}$$

.....

$$\begin{array}{r} 53 \\ + 38 \\ \hline \end{array}$$

....

$$\begin{array}{r} 45 \\ + 39 \\ \hline \end{array}$$

....

$$\begin{array}{r} 67 \\ + 37 \\ \hline \end{array}$$

....

$$\begin{array}{r} 88 \\ + 18 \\ \hline \end{array}$$

....

$$\begin{array}{r} 79 \\ + 19 \\ \hline \end{array}$$

....

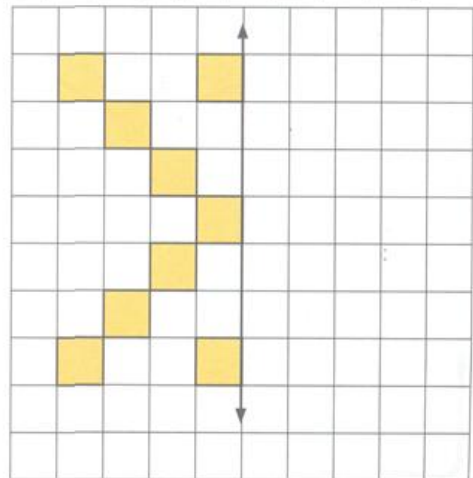
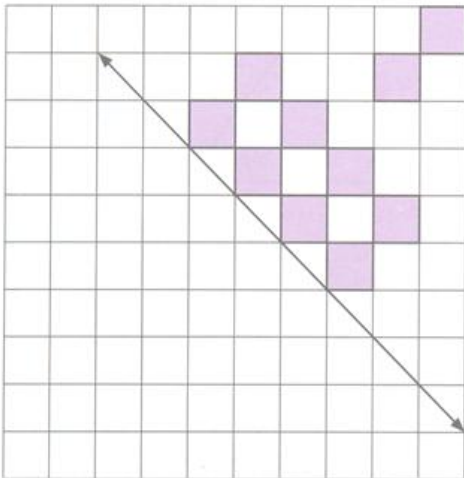
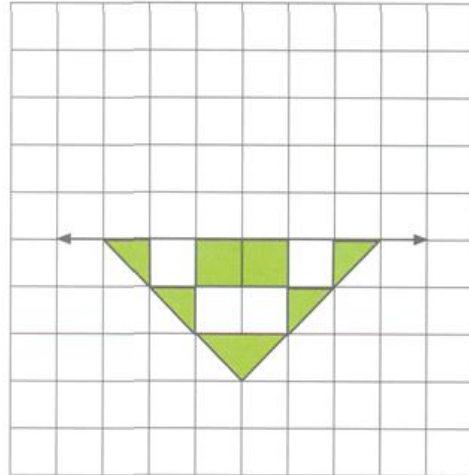
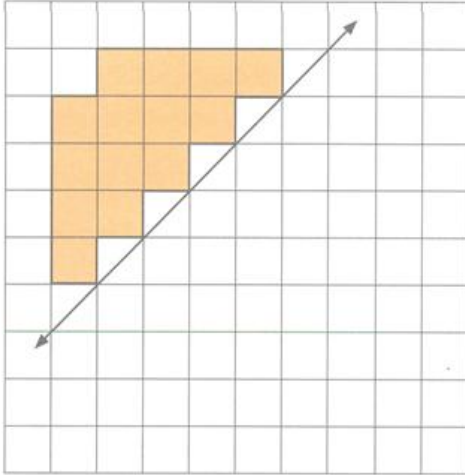
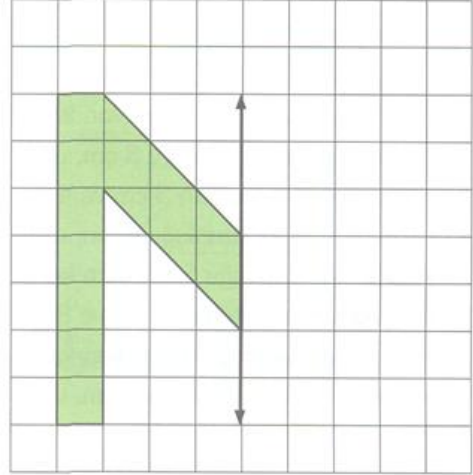
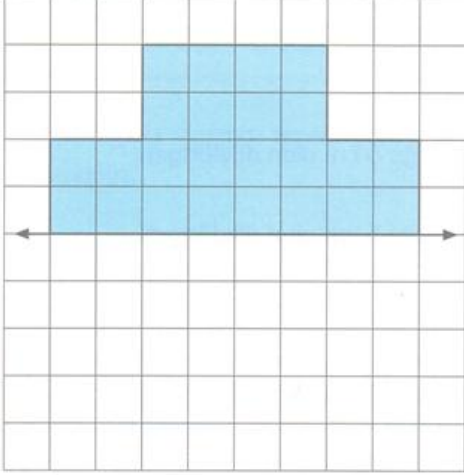
TATİL EĞLENCESİ

ADI SOYADI:.....

31 .01.2010

SİMETRİK DESEN OLUŞTURUYORUM

Aşağıdaki desenleri simetri eksenlerine göre boyayarak tamamlayın.



TATİL EĞLENESİ

ADI SOYADI:.....

31 .01.2010

PROBLEM ÇÖZELİM

1. 75 santimetre uzunluğunda bir tahtadan 27 santimetre uzunluğunda bir parça kesilirse kalan parçanın uzunluğu kaç santimetre olur?

2. Dedem 47 yaşındadır. Babam, dedemden 24 yaş küçüktür. Babamın yaşı kaçtır?

3. Bir çiftlikte 23 tavuk vardır. Civcivler, tavuklardan 14 tane fazladır. Çiftlikteki toplam hayvan sayısı kaçtır?

4. Bahçemizde 12 elma ağacı ile 15 erik ağacı vardır. Bu yıl 22 tane armut ağacı diktik. Bahçemizde toplam kaç ağacımız oldu?

5. Sibel kır gezisinde 37 papatya, 16 gelincik ve 22 tane lale topladı. Sibel kaç tane çiçek toplamış oldu?

6. Mehmet'in 18 tane boya kalemi vardır. Ablasının ise Mehmet'ten 6 tane fazla kalemi vardır. Mehmet ile ablasının kalemlerinin toplamı kaçtır?

7. Bir çıkarma işleminde eksilen 83, kalan sayı 34 ise çıkan sayı kaçtır?

8. Hakan, 42 sayfalık öykü kitabının 25 sayfasını okudu. Hakan'ın okunacak kaç sayfası kaldı?

9. Bir kümeste 7 tavuk ve 5 horoz vardır. Kümesteki hayvanların ayak sayılarının toplamı kaçtır?

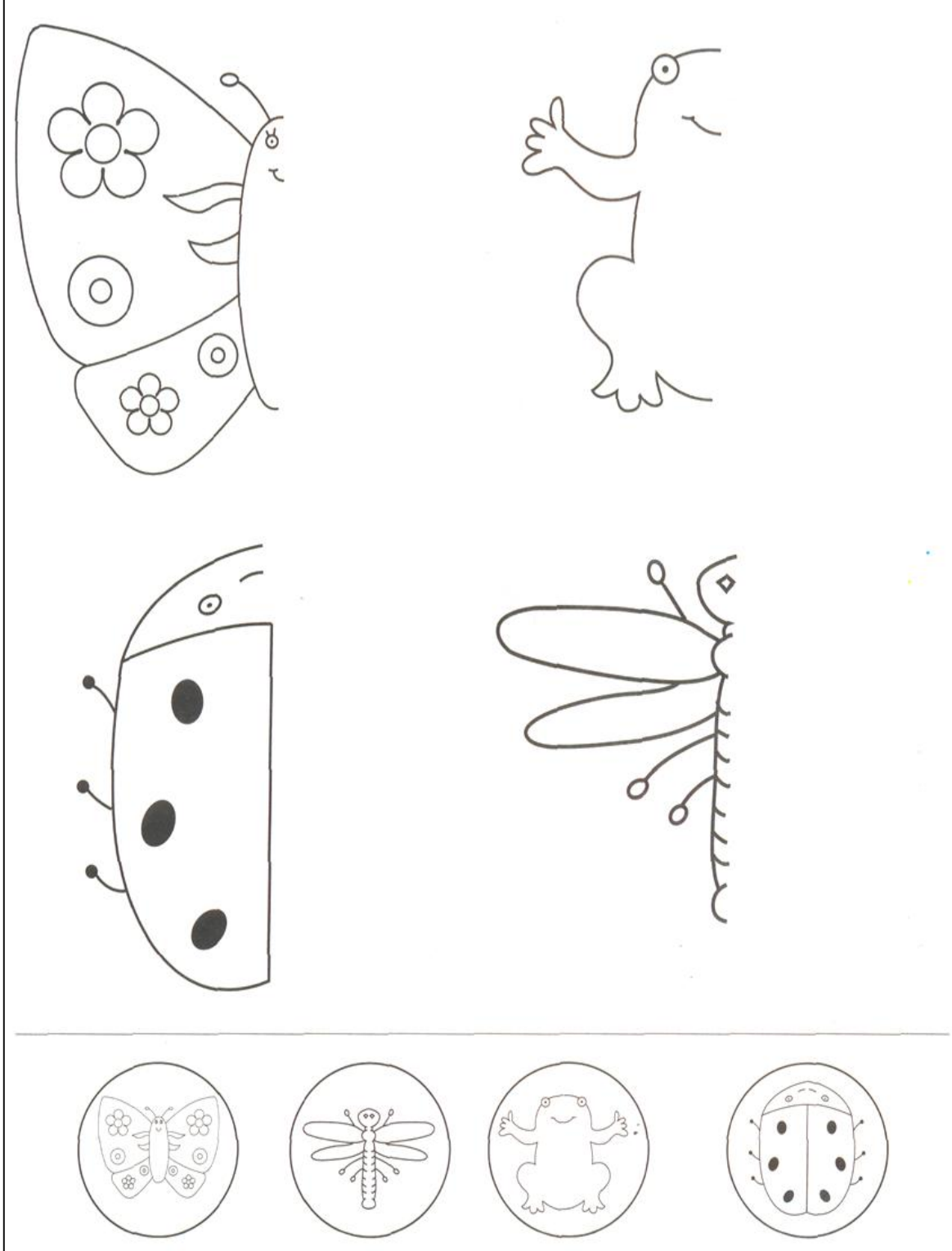
10. 24 kalem, 3 kutuya eşit olarak yerleştirilmek isteniyor. Her kutuya kaç kalem konur?

TATİL EĞLENCESİ

ADI SOYADI:.....

01 .02.2010

Aşağıdaki resimlerin simetrilerini tamamlayınız. Sonrada boyayınız.








TATİL EĞLENCEİ

ADI SOYADI:.....

01 .02.2010

2- C sınıfında sınıf başkanlığı seçiminde verilen oylar grafik haline getirilmiştir. Hazırlanan grafiğe ait sorular ise size bırakılmıştır. Sizin göreviniz bu grafiğe uygun soruları ve cevaplarını hazırlamaktır. Başarılar dilerim.

Grafiğin adı:.....

AHMET	
SEDAT	
HÜLYA	
YELİZ	
KENAN	

Her şekil bir oyun göstermektedir.

Sorularım:

- 1-
- 2-
- 3-
- 4-
- 5-
- 6-
- 7-
- 8-
- 9-
- 10-

TATİL EĞLENCESİ

ADI SOYADI:.....

02.02.2010

GÖRSEL OKUMA- 3



YUKARIDAKİ HACIVAT VE KARAGÖZ'ÜN RESİMLERİNİ BOYAYINIZ
DİĞER SAYFAYA HACIVAT VE KARAGÖZ FIKRALARINDAN BİRİNİ YAZINIZ.

02.02.2010

[illegible]

TATİL EĞLENCESİ

ADI SOYADI:.....

03 .02.2010

GÖRSEL OKUMA- 4

Önce Resmi Boyayalım Sonra Resimde Gördüklerimizle İlgili Bir hikâye yazalım



.....

.....

.....

.....

.....

.....

.....

.....

.....

.....

TATİL EĞLENCESİ

ADI SOYADI:.....

03 .02.2010

GÜZEL DİLİMİZİ ÖĞRENELİM

“Okul ile Öğrenci” arasında bir anlam ilişkisi vardır. Buna göre aşağıdaki verilen sözcükler ile anlam ilişkisi olan sözcükleri bularak işaretleyelim.

EKMEK	→	<input type="checkbox"/>	yemek	<input type="checkbox"/>	fırın	<input type="checkbox"/>	pasta
AY	→	<input type="checkbox"/>	gün	<input type="checkbox"/>	hafta	<input type="checkbox"/>	şubat
SAYI	→	<input type="checkbox"/>	rakam	<input type="checkbox"/>	yazı	<input type="checkbox"/>	sonuç
HASTA	→	<input type="checkbox"/>	öğretmen	<input type="checkbox"/>	doktor	<input type="checkbox"/>	işçi
KİTAP	→	<input type="checkbox"/>	çanta	<input type="checkbox"/>	bıçak	<input type="checkbox"/>	ayakkabı
YOĞURT	→	<input type="checkbox"/>	süt	<input type="checkbox"/>	su	<input type="checkbox"/>	meyve suyu
BEBEK	→	<input type="checkbox"/>	çocuk	<input type="checkbox"/>	mama	<input type="checkbox"/>	park
AĞAÇ	→	<input type="checkbox"/>	odun	<input type="checkbox"/>	kömür	<input type="checkbox"/>	kavak
SÖZCÜK	→	<input type="checkbox"/>	sözlük	<input type="checkbox"/>	defter	<input type="checkbox"/>	kitap
TAKI	→	<input type="checkbox"/>	katı	<input type="checkbox"/>	kolye	<input type="checkbox"/>	kolonya
EL	→	<input type="checkbox"/>	eldiven	<input type="checkbox"/>	çorap	<input type="checkbox"/>	atki
KAR	→	<input type="checkbox"/>	boya	<input type="checkbox"/>	havuç	<input type="checkbox"/>	kardan adam
FIRIN	→	<input type="checkbox"/>	kek	<input type="checkbox"/>	soğuk	<input type="checkbox"/>	çay
DÜMEN	→	<input type="checkbox"/>	araba	<input type="checkbox"/>	gemi	<input type="checkbox"/>	tren
KOKU	→	<input type="checkbox"/>	gitar	<input type="checkbox"/>	yol	<input type="checkbox"/>	gül

TATİL EĞLENCESİ

ADI SOYADI:.....

04 .02.2010

GÖRSEL OKUMA- 5

Önce Resmi Boyayalım Sonra Resimde Gördüklerimizle İlgili Bir hikâye yazalım



.....

.....

.....

.....

.....

.....

TATİL EĞLENCESİ

ADI SOYADI:.....

04 .02.2010

Aşağıda verilen sözcüklerin eş anlamlılarını bularak işaretleyelim

RÜYA	→	<input type="checkbox"/>	şeker	<input type="checkbox"/>	kabus	<input type="checkbox"/>	uyku	<input type="checkbox"/>	düş
KARA	→	<input type="checkbox"/>	beyaz	<input type="checkbox"/>	siyah	<input type="checkbox"/>	kırmızı	<input type="checkbox"/>	deniz
İHTİYAR	→	<input type="checkbox"/>	yaşlı	<input type="checkbox"/>	çocuk	<input type="checkbox"/>	genç	<input type="checkbox"/>	bekar
PİNTİ	→	<input type="checkbox"/>	yoksul	<input type="checkbox"/>	çalışkan	<input type="checkbox"/>	tembel	<input type="checkbox"/>	cimri
ŞAİR	→	<input type="checkbox"/>	şiir	<input type="checkbox"/>	ozan	<input type="checkbox"/>	kıta	<input type="checkbox"/>	yazar
KİRLİ	→	<input type="checkbox"/>	pis	<input type="checkbox"/>	temzi	<input type="checkbox"/>	karaltı	<input type="checkbox"/>	gür
NEŞE	→	<input type="checkbox"/>	keder	<input type="checkbox"/>	üzüntü	<input type="checkbox"/>	gölme	<input type="checkbox"/>	sevinç
GÜZ	→	<input type="checkbox"/>	sonbahar	<input type="checkbox"/>	yaz	<input type="checkbox"/>	kış	<input type="checkbox"/>	ilkbahar
YURT	→	<input type="checkbox"/>	kıta	<input type="checkbox"/>	millet	<input type="checkbox"/>	vatan	<input type="checkbox"/>	halk

Aşağıda verilen sözcüklerin zıt anlamlılarını bularak işaretleyelim.

AYDINLIK	→	<input type="checkbox"/>	güneş	<input type="checkbox"/>	sabah	<input type="checkbox"/>	karanlık	<input type="checkbox"/>	dünya
CANLI	→	<input type="checkbox"/>	ölü	<input type="checkbox"/>	yaşam	<input type="checkbox"/>	bebek	<input type="checkbox"/>	hayat
TEK	→	<input type="checkbox"/>	biraz	<input type="checkbox"/>	az	<input type="checkbox"/>	çift	<input type="checkbox"/>	küçük
İNCE	→	<input type="checkbox"/>	dar	<input type="checkbox"/>	nem	<input type="checkbox"/>	ıslak	<input type="checkbox"/>	kalın
SAVAŞ	→	<input type="checkbox"/>	barış	<input type="checkbox"/>	tabanca	<input type="checkbox"/>	bayrak	<input type="checkbox"/>	silah
YÜKSEK	→	<input type="checkbox"/>	uçurum	<input type="checkbox"/>	alçak	<input type="checkbox"/>	zor	<input type="checkbox"/>	yukarı
ZOR	→	<input type="checkbox"/>	problem	<input type="checkbox"/>	uğraş	<input type="checkbox"/>	güç	<input type="checkbox"/>	kolay
VAR	→	<input type="checkbox"/>	her zaman	<input type="checkbox"/>	yok	<input type="checkbox"/>	kayıp	<input type="checkbox"/>	hiç
UCUZ	→	<input type="checkbox"/>	pahalı	<input type="checkbox"/>	basit	<input type="checkbox"/>	kapı	<input type="checkbox"/>	sahil

TATİL EĞLENCESİ

ADI SOYADI:.....

05 .02.2010

GÖRSEL OKUMA- 6

Önce Resmi Boyayalım Sonra Resimde Gördüklerimizle İlgili Bir hikâye yazalım



.....

.....

.....

.....

.....

.....

TATİL EĞLENCESİ

ADI SOYADI:.....

05 .02.2010

TEST ÇÖZELİM

1. 6 ve 4 rakamlarını kullanarak yazılabilecek en küçük sayı, 78 sayısından kaç eksiktir?

A. 14 B. 23 C. 32

2. Dedem 69 yaşındadır. Babam, dedemden 32, ben de babamdan 25 yaş küçük olduğuma göre, ben kaç yaşındayım?

A. 11 B. 12 C. 14

3. Aylin, hafta sonu toplam 86 soru çözmüştür. Aylin, soruların 42 tanesini pazar günü çözdüğüne göre, cumartesi günü kaç soru çözmüştür?

A. 48 B. 44 C. 36

4. "Bir yolcu otobüsü 49 yolcu ile hareket etmiştir. Birinci durakta 16 kişi inmiş, 5 kişi binmiştir. Buna göre birinci duraktan otobüs kaç yolcu ile ayrılmıştır?"

Probleminin çözümünü veren işlem aşağıdakilerden hangisidir?

A. $49 - 16 = 33$
 $33 + 5 = 38$
B. $49 + 16 = 65$
 $65 - 5 = 60$
C. $49 - 16 = 33$
 $33 - 5 = 28$

5. 37 şekerim vardı. 12 tanesini arkadaşşıma verdim. 10 tanesini yedim. Kaç şekerim kaldı?

A. 22 B. 15 C. 13

6. 27 fazlası 72 olan sayının 8 eksiği kaçtır?

A. 37 B. 43 C. 45

7. Birler basamağında "0" olan iki basamaklı en büyük doğal sayı ile birler basamağında "9" olan iki basamaklı en küçük doğal sayının farkı kaçtır?

A. 89 B. 81 C. 71

8. 3 ve 8 rakamlarını birer kez kullanarak yazılabilecek iki basamaklı doğal sayıların farkı kaçtır?

A. 55 B. 52 C. 45

9. Aşağıdaki çıkarma işlemlerinden hangisinde kalan 27'dir?

A. $75 - 47$ B. $63 - 36$ C. $41 - 12$

10. 87 kişilik bir gezi grubunun 38'i bayan, 33'ü erkek, geriye kalanları da çocuktur. Gezi grubunda kaç çocuk vardır?

A. 8 B. 16 C. 24

11. Annem, manavdan 27 kg patates, patateslerden 18 kg fazla da soğan aldı. Annem, manavdan kaç kg soğan almıştır?

A. 35 B. 39 C. 45

12. 16 fazlası 39 olan sayının 3 fazlası kaçtır?

A. 26 B. 23 C. 20

TATİL EĞLENCESİ

ADI SOYADI:.....

06 .02.2010

GÖRSEL OKUMA- 7

Önce Resmi Boyyalım Sonra Resimde Gördüklerimizle İlgili Bir hikâye yazalım



.....

.....

.....

.....

.....

.....

TATİL EĞLENCESİ

ADI SOYADI:.....

06 .02.2010

1. Farkı 28 olan iki doğal sayının büyüğü 89 ise küçüğü kaçtır?

A. 57 B. 61 C. 63

2. 9 eksiği 34 olan sayının 9 fazlası kaçtır?

A. 52 B. 43 C. 34

3. Hangi sayıdan 17 çıkarırsak 4 kalır?

A. 13 B. 19 C. 21

4. Ege ile abisinin yaşlarının farkı 8'dir. Ege 9 yaşında olduğuna göre, abisi kaç yaşındadır?

A. 15 B. 17 C. 19

5. Tabaktaki çileklerin 11 tanesini yedim. Tabakta 28 çilek kaldı. Çilekleri yemeden önce tabakta kaç çilek vardı?

A. 39 B. 24 C. 17

6. Sınıfımızda 43 öğrenci vardır. Öğrencilerin bir kısmı koro çalışmasına katıldı. Sınıfımızda 29 öğrenci kaldı. Koroya katılan kaç öğrenci vardır?

A. 14 B. 16 C. 21

7. Cebimdeki paranın 38 TL'sine ayakkabı aldım. Geriye 27 TL param kaldığına göre, cebimde kaç TL vardı?

A. 11 B. 43 C. 65

8. $71 - \dots = 36$ işlemine göre noktalı yere hangi sayı yazılmalıdır?

A. 35 B. 37 C. 45

9. Bir çıkarma işleminde çıkan 12, fark 47 ise eksilen sayı kaçtır?

A. 35 B. 46 C. 59

10. 26 eksiği 37 olan sayının 8 eksiği kaçtır?

A. 55 B. 59 C. 63

11. 6 onluk 2 birlikten kaç çıkarılırsa kalan 43 olur?

A. 19 B. 21 C. 26

12. $39 - \dots = 23$ işleminde noktalı yere hangi sayı yazılmalıdır?

A. 15 B. 16 C. 17

13. Eksileni 54, farkı 36 olan bir çıkarma işleminde çıkan sayı kaçtır?

A. 18 B. 22 C. 28

14. İki basamaklı en büyük sayıdan kaç çıkardığımızda kalan sayı 34 olur?

A. 56 B. 65 C. 74

15. 63 sayısının 24 eksiğinin 9 eksiği kaçtır?

A. 39 B. 33 C. 30

16. Aralarındaki fark 37 olan sayı çifti aşağıdakilerden hangisidir?

A. 68 - 31 B. 79 - 43 C. 57 - 10