


BÖLME İŞLEMİ PROBLEMLERİ

Soru: 8 tane  kalem 2 öğrenciye




eşit olarak paylaşırsam her öğrenciye kaç kalem düşer?


Soru: 20 tane  domatesi 5 tabağa eşit şekilde yerleştirirsem bir tabağa kaç domates düşer?



Soru: 16  köpeği 4 tane

kulübeye  eşit olarak yerleştirelim.



Soru: 2 düzine yumurtayı  3 kardeşe paylaşırsak her bir kardeşe kaç yumurta düşer?



www.omeruslu06.com

Soru: 25 çiçeği  5 tane saksıya




eşit olarak yerleştirirsek, her bir saksıya kaç çiçek düşer?



Soru: 14 tane balonu  olan Efe,



balonlarının yarısını kardeşine verirse Efe'nin kaç balonu kalır?

Soru: 20 kurabiye  çeyreği kaç kurabiye yapar?

Soru: Bir tuhafiyeci 27 metre kumaşı 3 müşterisine eşit bir şekilde paylaşırsa her bir müşterinin kaç metre kumaşı olur?

