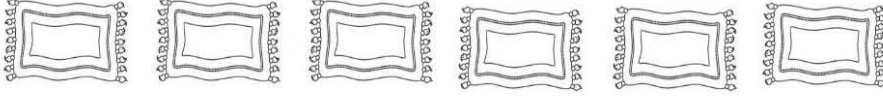


BÖLME İŞLEMİ ÇALIŞMAMIZ

SORU: 6 tane kilimi 2 eve eşit şekilde paylaştırsak evlerin her birinde kaç halı olur?



Ardışık çıkarma işlemlerini bu kutucuğa yapınız.

Bölme İşlemi

Her evde tane kilim olur.

SORU: 16 mumu 4'erli gruplandırarsak kaç grup oluşur?

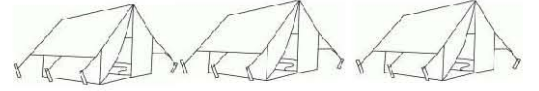


Ardışık çıkarma işlemlerini bu kutucuğa yapınız.

Bölme İşlemi

..... tane grup oluşur.

SORU: 9 tane izciyi 3 çadıra eşit şekilde dağılırsa, her çadırda kaç izci olur?

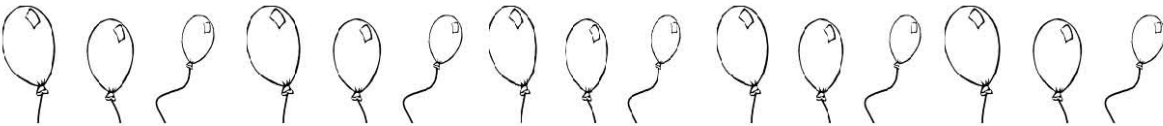


Ardışık çıkarma işlemlerini bu kutucuğa yapınız.

Bölme İşlemi

Her çadırda tane izci olur.

SORU: 15 tane balonu 5'erli gruplandırarsak kaç grup oluşur?

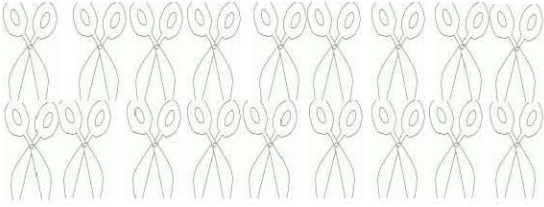


Ardışık çıkarma işlemlerini bu kutucuğa yapınız.

Bölme İşlemi

..... tane grup oluşur.

SORU: 18 tane makası 3 terziye eşit olarak paylaşırsak, her terziye kaç tane makas düşer?



Ardışık çıkarma işlemlerini bu kutucuğa yapınız.

Bölme İşlemi

Her terziye tane makas düşer.

SORU: 12 tane gitarı 2'şerli gruplandırırsak kaç grup oluşur?



Ardışık çıkarma işlemlerini bu kutucuğa yapınız.

Bölme İşlemi

..... tane grup oluşur.

SORU: 10 tane balığı 5 penguene eşit olarak paylaşırsak her birine kaç tane balık düşer?



Ardışık çıkarma işlemlerini bu kutucuğa yapınız.

Bölme İşlemi

Her penguene tane balık düşer.

SORU: 21 tane bayrağı 3'erli gruplandırırsak, kaç grup oluşur?



Ardışık çıkarma işlemlerini bu kutucuğa yapınız.

Bölme İşlemi

..... tane grup oluşur.