



GRUPLANDIRMA VE PAYLAŞTIRMA ÇALIŞMAMIZ

Aşağıdaki hamburgerleri 3'erli gruplandırınız.



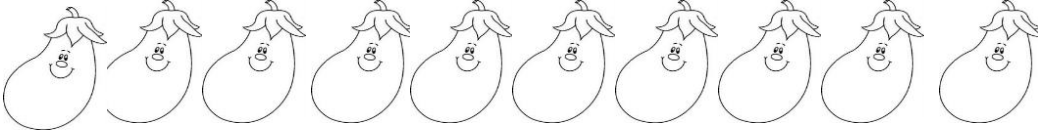
..... tane hamburgeri'erli gruplandırınca tane grup oluştu.

Aşağıdaki şekerleri 2'şerli gruplandırınız.




..... tane şekeri
.....'şerli
gruplandırınca tane
grup oluştu.

Aşağıdaki patlıcanları 5'erli gruplandırınız.




..... tane patlıcanı'erli gruplandırınca tane grup
oluşturdu.

Aşağıdaki yengeçleri 4'erli olarak gruplandırınız.




..... tane yengeci'erli
gruplandırınca tane grup oluştu.

Aşağıdaki televizyonları 2'şerli gruplayınız.




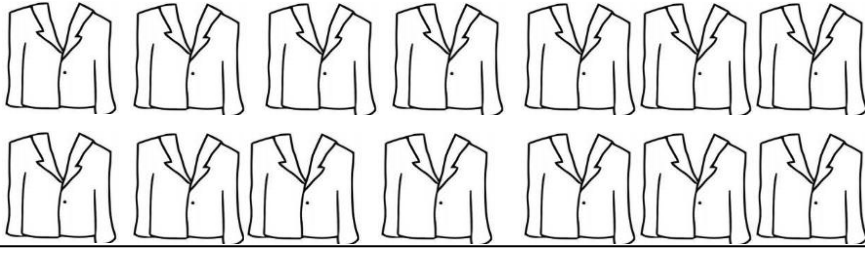
..... tane televizyonu'şerli
gruplandırınca tane grup oluştu.

Aşağıdaki koyunları 1'erli gruplayınız.



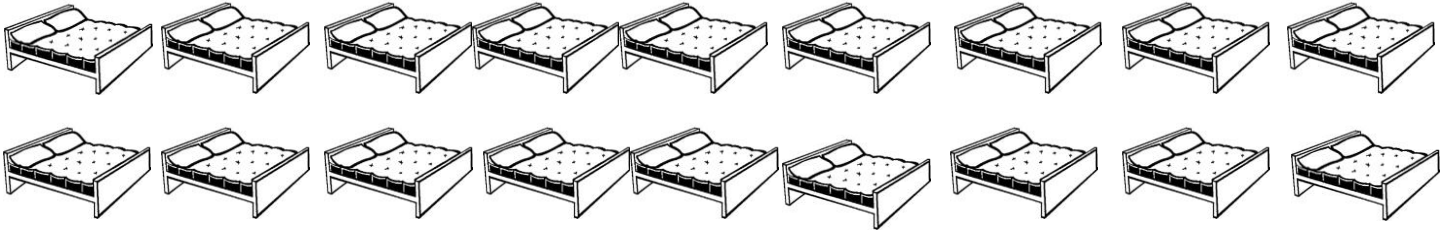
..... tane koyunu'erli gruplandırınca tane grup
oluşturdu.

SORU: Metin Bey 14 tane ceketini 2 askıya eşit olarak paylaşıyor. Her askıya kaç adet ceket düşer?



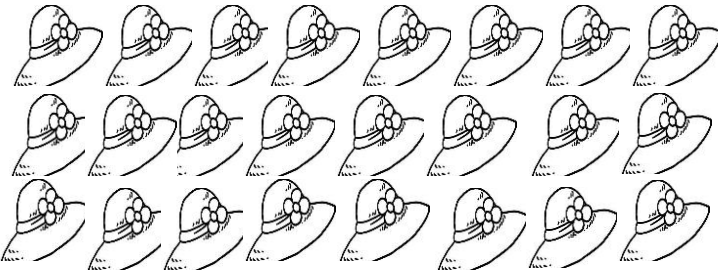
Metin Bey tane ceketinitane askıya paylaştırdı. Her askıya tane ceket düştü.

SORU: Aşağıdaki yatakları 3'erli gruplayınız.



..... tane yatağı'erli gruplandırınca tane grup oluştu.

SORU: Semiha Hanım, 24 tane şapkasını 4 dolaba eşit olarak paylaştırdı. Her dolaba kaç tane şapka düşer?



Semiha Hanım tane şapkayıtane dolaba paylaştırdı. Her dolaba tane ceket düştü.

SORU: Aşağıdaki kaplumbağaları 2'şerli gruplandırınız.



..... tane kaplumbağayı'şerli gruplandırınca tane grup oluştu.