

1)

$$\begin{array}{r} 63318 \\ -4749 \\ \hline \end{array}$$

Yandaki çıkarma işleminin sonucu aşağıdaki seçeneklerin hangisinde doğru olarak verilmiştir?

- a) 72368 b) 58 569 c) 64 345 d) 47 896

2)

$$\begin{array}{r} 96304 \\ -23573 \\ \hline \end{array}$$

Yandaki çıkarma işleminin sonucu aşağıdaki seçeneklerin hangisinde doğru olarak verilmiştir?

- a) 72 731 b) 78 946 c) 69785 d) 76 459

3)

$$\begin{array}{r} 24743 \\ -B1A7 \\ \hline 21626 \end{array}$$

Yandaki çıkarma işleminde A+B toplamı aşağıdaki seçeneklerin hangisinde doğru olarak verilmiştir?

- a) 1 b) 2 c) 3 d) 4

4)

$$\begin{array}{r} 8624A \\ -24B67 \\ \hline 61877 \end{array}$$

Yandaki çıkarma işleminde A+B toplamı aşağıdaki seçeneklerin hangisinde doğru olarak verilmiştir?

- a) 7 b) 5 c) 4 d) 3

$$\begin{array}{r} 24376 \\ +7403 \\ \hline \end{array}$$

Yandaki toplama işleminin sonucu aşağıdaki seçeneklerin hangisinde doğru olarak verilmiştir?

- a) 21 457 b) 16 973 c) 31 779 d) 19 246

6)

$$\begin{array}{r} 46373 \\ +14289 \\ \hline \end{array}$$

Yandaki toplama işleminin sonucu aşağıdaki seçeneklerin hangisinde doğru olarak verilmiştir?

- a) 54 768 b) 67 648 c) 56 784 d) 60 662

7)

$$\begin{array}{r} 247A3 \\ +50B15 \\ \hline 75258 \end{array}$$

Yandaki toplama işleminde A+B toplamı aşağıdaki seçeneklerin hangisinde doğru olarak verilmiştir?

- a) 10 b) 4 c) 9 d) 5

8)

$$\begin{array}{r} 24A76 \\ +B403 \\ \hline 31779 \end{array}$$

Yandaki toplama işleminde A+B toplamı aşağıdaki seçeneklerin hangisinde doğru olarak verilmiştir?

- a) 6 b) 10 c) 8 d) 4

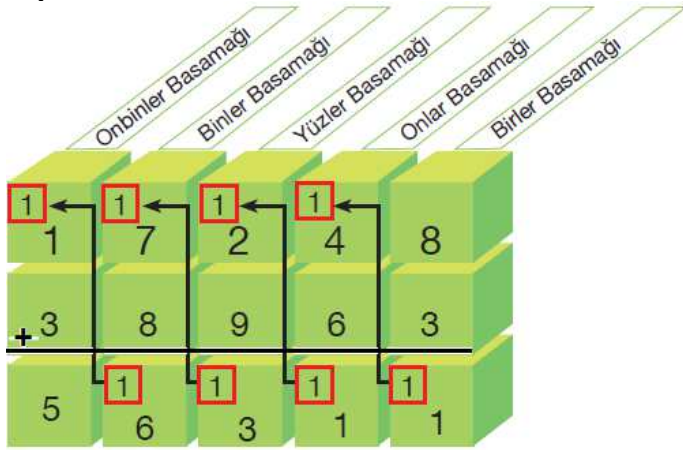
9)

$$\begin{array}{r} \text{Onbinler Basamağı} \quad \text{Binler Basamağı} \quad \text{Yüzler Basamağı} \quad \text{Onlar Basamağı} \quad \text{Birler Basamağı} \\ \begin{array}{r} 3 \quad 4 \quad 1 \quad 7 \quad 7 \quad 8 \quad 1 \quad 6 \\ -1 \quad 2 \quad 8 \quad 4 \quad 9 \\ \hline 2 \quad 1 \quad 9 \quad 3 \quad 7 \end{array} \end{array}$$

Yandaki çıkarma işleminde 8 ve 9 rakamlarının basamak değerleri toplamı aşağıdaki seçeneklerin hangisinde doğru olarak verilmiştir?

- a) 1680 b) 1880 c) 1780 d) 1980

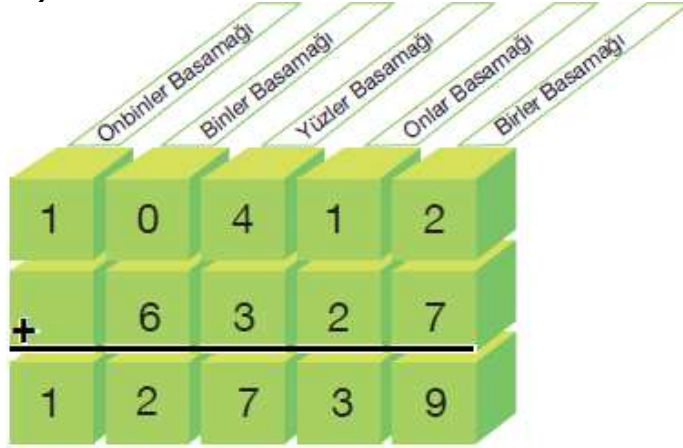
10)



Yukardaki toplama işleminin doğruluğunu kontrol ederek 2 rakamının basamak değerleri toplamı aşağıdaki seçeneklerin hangisinde doğru olarak verilmiştir?

- a) 740 b) 400 c) 800 d) 4000

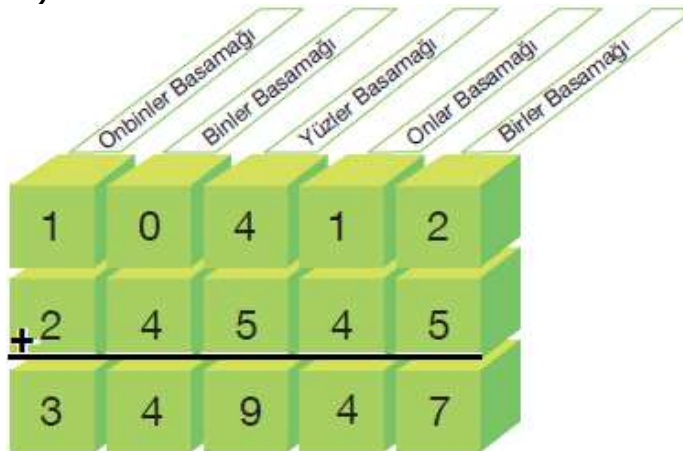
11)



Yukardaki toplama işleminin doğruluğunu kontrol ederek 6 rakamının basamak değerleri toplamı aşağıdaki seçeneklerin hangisinde doğru olarak verilmiştir?

- a) 12 000 b) 8 000 c) 6 000 d) 5 000

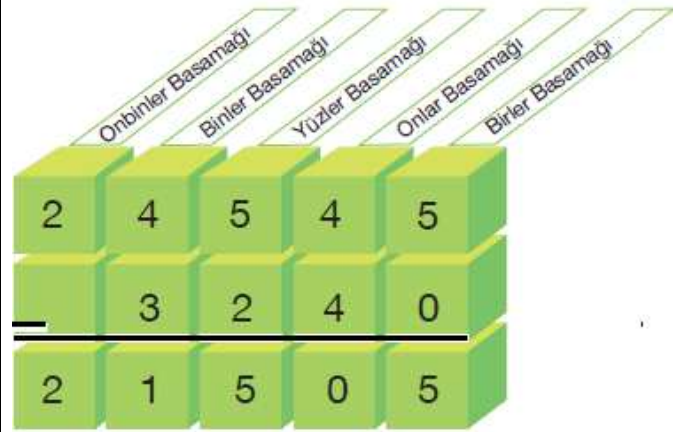
12)



Yukardaki toplama işleminin doğruluğunu kontrol ederek 5 rakamının basamak değerleri toplamı aşağıdaki seçeneklerin hangisinde doğru olarak verilmiştir?

- a) 5050 b) 550 c) 505 d) 555

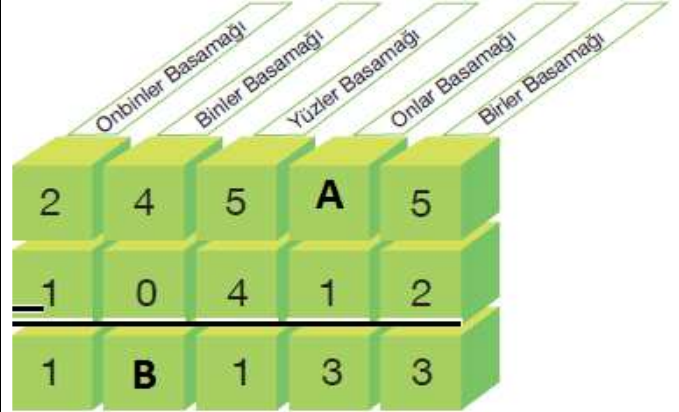
13)



Yukardaki çıkarma işleminin doğruluğunu kontrol ederek işlemdeki 3 rakamlarının sayı değerleri toplamı aşağıdaki seçeneklerin hangisinde doğru olarak verilmiştir?

- a) 15 b) 6 c) 9 d) 12

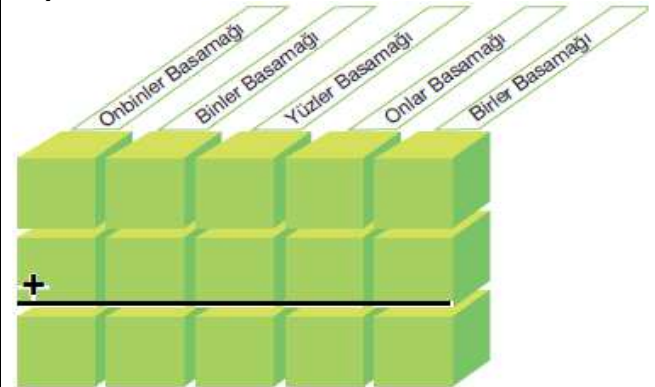
14)



Yukardaki çıkarma işleminde A+B toplamı aşağıdaki seçeneklerin hangisinde doğru olarak verilmiştir?

- a) 6 b) 10 c) 8 d) 4

15)



"0,2,4,6,8" rakamları ile 5 basamaklı oluşturulacak en büyük doğal sayı ile en küçük doğal sayının toplamı aşağıdaki seçeneklerin hangisinde doğru olarak verilmiştir?

- a) 16 898 b) 106 888 c) 89 876 d) 102 678

1B,2A,3D,4A,5C,6D,7C,8B,9C,10B,11A,12D,13B,14C,15C