



1) 300 000 000  
1  
400  
200 000  
10 000 000  
8 000



Yanda basamak değerleri verilen sayı aşağıdaki seçeneklerin hangisinde doğru olarak verilmiştir?

- a)310 280 410      b)310 208 401  
c)301 208 401      d)301 280 410


2) 20  
30 000  
100  
400 000 000  
8 000 000  
3



Yanda basamak değerleri verilen sayı aşağıdaki seçeneklerin hangisinde doğru olarak verilmiştir?

- a)408 030 123      b)480 030 321  
c)408 300 123      d)480 030 312

3) 10 000  
2 000 000  
4  
700  
90 000 000  
80



Yanda basamak değerleri verilen sayı aşağıdaki seçeneklerin hangisinde doğru olarak verilmiştir?

- a)92 100 748      b)92 100 784  
c)92 010 478      d)92 010 784

4) Binler Bölüğü : 101  
Milyonlar Bölüğü : 4  
Birler Bölüğü : 326

Yukarıda bölükleri verilen sayı , aşağıdaki seçeneklerin hangisinde doğru olarak verilmiştir?

- a)1 013 264      b)3 264 101  
c)4 101 326      d)4 326 101

5) Binler Bölüğü : 354  
Milyonlar Bölüğü : 246  
Birler Bölüğü : 12

Yukarıda bölükleri verilen sayı , aşağıdaki seçeneklerin hangisinde doğru olarak verilmiştir?

- a)354 246 012      b)246 354 120  
c)246 354 102      d)246 354 012

6) Binler Bölüğü : 100  
Milyonlar Bölüğü : 200  
Birler Bölüğü : 300

Yukarıda bölükleri verilen sayı , aşağıdaki seçeneklerin hangisinde doğru olarak verilmiştir?

- a)200 100 300      b)100 200 300  
c)200 300 100      d)300 100 200

7) a. 943 786 042 : Dokuzyüz kırk üç milyon yediyüz seksen altı bin kırk iki  
b. 6 004 400 : Altı milyon dört bin dört yüz  
c. 29 816 564 : Yirmi dokuz milyon sekizyüz on altı bin beşyüz altmış dört  
ç. İki yüz yirmi iki milyon bin otuz iki : 222 032  
d. Dört milyon dokuz yüz yirmi bir bin on dört : 4 921 140  
e. Kırk iki milyon elli altı : 42 000 056

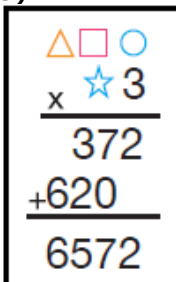
Yukarıda ki şıklarda verilen eşleştirmelerden kaç tanesinin yanlış olduğu , aşağıdaki seçeneklerin hangisinde doğru olarak verilmiştir?

- a) 3      b) 4  
c) 2      d) 5

8) "Doğal sayıların okunuşunu ve yazılışını kolaylaştırmak için sayı ..... gruplara ayrılır. Bu gruplara ..... denir."  
Boşluklara gelecek kelimeler veya kelime grupları aşağıdaki seçeneklerin hangisinde doğru olarak verilmiştir?

- a) Basamak değerleri - Basamak  
b) Basamak - Basamak değerleri  
c) Bölük - Sağdan sola doğru üçerli  
d) Sağdan sola doğru üçerli - Bölük

9)



Yandaki çarpma işleminde verilmeyen üstteki çarpan aşağıdaki seçeneklerin hangisinde doğru olarak verilmiştir?

- a)12      b)124      c) 5      d) 53

10)



### Kitap Haftası

Ayşe öğretmen, kitap haftası nedeniyle kütüphaneden en çok kitap alan ve okuyan öğrencilerini bulup onları ödüllendirmek istemiştir. Kütüphane kayıtlarından tespit ettiği 5 öğrenciye hediye etmek için 44 kitaptan oluşan bir kitap seti almıştır. Ayşe öğretmen her öğrenciye tahmini kaç kitap hediye etmiştir?

- a)11      b)10      c)8      d)9

11) "İki basamaklı sayıları bölerken, bölünen bölünen tam katı olacak şekilde onlar basamağına yuvarlayarak işlem yaparız."

29 kitap 4 öğrenciye dağıtılmış olsaydı, bu sayı tahmini olarak aşağıdaki seçeneklerden hangisi olurdu?

- a) 28      b) 30      c) 32      d) 24

12) "Üç basamaklı sayıları bir veya iki basamaklı sayılara bölmek için sayının ilk iki basamağı bölünen en yakın katına yuvarlanır ve son basamağı "0" a dönüştürülür."

895 kitap 14 öğrenciye dağıtılmış olsaydı, bu sayı tahmini olarak aşağıdaki seçeneklerden hangisi olurdu?

- a) 1000      b) 890      c) 840      d) 880

13) "Üç basamaklı sayıları bir veya iki basamaklı sayılara bölmek için sayının ilk iki basamağı bölünen en yakın katına yuvarlanır ve son basamağı "0" a dönüştürülür."

367 kitap 7 öğrenciye dağıtılmış olsaydı, bu sayı tahmini olarak aşağıdaki seçeneklerden hangisi olurdu?

- a) 370      b) 350      c) 360      d) 340

14) "İki basamaklı sayıları bölerken, bölünen bölünen tam katı olacak şekilde onlar basamağına yuvarlayarak işlem yaparız."

49 kitap 6 öğrenciye dağıtılmış olsaydı, bu sayı tahmini olarak aşağıdaki seçeneklerden hangisi olurdu?

- a) 50      b) 44      c) 54      d) 48

15) Emine yaz tatilinde 5. sınıfta öğrendiklerini tekrar etmek için tüm derslerin olduğu bir test kitabı almıştır. Emine kitabı ile ilgili aşağıdaki sorulara cevap aramaktadır. Bu soruların cevaplarını tahmin edebilir misiniz?

236 soruluk Türkçe kısmını 6 haftada bitirmek isterse günde kaç soru çözmelidir?

- a)240      b)246      c)300      d)218

16) Emine yaz tatilinde 5. sınıfta öğrendiklerini tekrar etmek için tüm derslerin olduğu bir test kitabı almıştır. Emine kitabı ile ilgili aşağıdaki sorulara cevap aramaktadır. Bu soruların cevaplarını tahmin edebilir misiniz?

367 soruluk matematik kısmını 7 haftada bitirmek isterse günde kaç soru çözmelidir?

- a)380      b)360      c)350      d)370

17) Emine yaz tatilinde 5. sınıfta öğrendiklerini tekrar etmek için tüm derslerin olduğu bir test kitabı almıştır. Emine kitabı ile ilgili aşağıdaki sorulara cevap aramaktadır. Bu soruların cevaplarını tahmin edebilir misiniz?

805 sorudan oluşan tüm kitabı 15 haftada bitirmek isterse günde kaç soru çözmelidir?

- a)380      b)750      c)350      d)370

18)

$$\begin{array}{r} 415 \\ \times 23 \\ \hline 124\Box \\ + 8\Box0 \\ \hline \end{array}$$

Yandaki çarpma işleminde içi boş karelerin yerine gelecek rakamların çarpımı aşağıdaki seçeneklerin hangisinde doğru olarak verilmiştir?

- a)25      b)20      c)10      d)15

19)

$$\begin{array}{r} 146 \\ \times 303 \\ \hline 4\Box8 \\ \Box0\Box \\ + 43\Box \\ \hline \end{array}$$

Yandaki çarpma işleminde içi boş karelerin yerine gelecek rakamların toplamı aşağıdaki seçeneklerin hangisinde doğru olarak verilmiştir?

- a)11      b)12      c)10      d)13

1B,2A,3D,4C,5D,6A,7C,8D,9B,10D,11A,12C,13B,14D,15A,16C,17B,18D,19