

Adı Soyadı:.....

Sınıfı No :.....

4.Sınıf Matematik

Doğal Sayılar

Değerlendirme Testi
-2-

1. **iki yüz iki bin iki yüz iki**

Yukarıda okunuşu verilen sayı aşağıdakilerden hangisidir?

- A) 202 002 B) 202 202
C) 220 202 D) 222 202


2. Aşağıda okunuşu verilen doğal sayılardan hangisinin basamak sayısı **farklıdır**?

- A) elli beş bin on beş
B) beş yüz on beş bin
C) üç yüz bin
D) üç yüz üç bin üç

3. Yandaki sayının okunuşu hangisidir?

- A) dört yüz dört bin dört
B) kırk dört bin
C) kırk dört bin dört
D) kırk dört bin kırk dört



4.  Balonun üzerindeki sayının basamak değeri **en küçük** olan rakamı kaçtır?

- A) 7 B) 5 C) 1 D) 0

5. Aşağıdaki doğal sayılardan hangisinin binler bölüğündeki rakamların sayı değerleri toplamı **en büyüktür**?

- A) yedi yüz yedi bin yedi
B) yetmiş yedi bin yedi
C) yedi yüz on yedi bin yedi
D) yedi yüz bin yetmiş yedi

6. **yirmi bin yüz otuz beş**

Yukarıda okunuşu verilen doğal sayıda basamak ve sayı değerleri aynı olan rakam hangisidir?

- A) 0 B) 1 C) 2 D) 3

7. **$(5 \times 1000) + (3 \times 100) + (6 \times 10) + (9 \times 1)$**

Şeklinde çözümlenmiş sayı kaçtır?

- A) 50 369 B) 15 369
C) 5639 D) 5369

8.  : Elli iki bin altı yüz **seksen üç** sayının okunuşuna göre  'un basamak değeri kaçtır?

- A) 6000 B) 600
C) 200 D) 60

9. **26K58** Yandaki sayının sayı değerleri toplamı 21'dir. Buna göre "K" rakamının basamak değeri kaçtır?

- A) 1000 B) 100
C) 1 D) 0

10. Aşağıdaki sayıların hangisi en yakın yüzlüğe yuvarlandığı zaman 2200 **etmez**?

- A) 2149 B) 2162
C) 2205 D) 2245

11. Aşağıdaki sayılar en yakın onluğa yuvarlanmıştır. Hangisi yanlıştır?

- A) $678 \rightarrow 680$ B) $506 \rightarrow 500$
C) $412 \rightarrow 410$ D) $745 \rightarrow 750$


12.



Yandaki sayının en yakın olduğu yüzlük 4200 olduğuna göre "M" rakamı hangisi **olamaz**?

- A) 2 B) 3 C) 4 D) 5


13.



Yukarıdaki şekil örüntüsünün kuralı aşağıdaki sayı örüntülerinden hangisinde vardır?

- A) 12 - 15 - 18 - 21
B) 10 - 12 - 15 - 19
C) 11 - 13 - 15 - 17
D) 9 - 12 - 15 - 18

14.



Yukarıdaki şekil örüntüsünde 3. balonda kaç tane yıldız vardır?

- A) 3 B) 4 C) 5 D) 6

15.



Yukarıdaki sayı örüntüsünde "?" yerine gelecek olan sayıların toplamı kaçtır?

- A) 43 B) 33 C) 26 D) 17

16. Aşağıdaki sayıların hangisi 9000 ile 10 901 arasında yer alan bir doğal sayıdır?

- A) 8999 B) 10 009
C) 10 909 D) 11 001

17.

5973

4783

54 207

32 507

Yukarıdaki sayıları küçükten büyüğe doğru sıraladığımızda **en sonda** hangisi yer alır?

- A) 54 207
B) 32 507
C) 5973
D) 4783

18.

45 214 > ■ 5 213

eşitsizliğinde "■" yerine yazılabilecek **en büyük** rakam kaçtır?

- A) 3 B) 4 C) 5 D) 9

19. Aşağıdaki sayılardan hangisinin sayı değerleri toplamı **en büyüktür**?

- A) 9061
B) 8201
C) 4574
D) 9105

20. Binler bölümünde 673, birler bölümünde 52 olan sayı kaçtır?

- A) 52 673
B) 520 673
C) 673 052
D) 673 520