

KUTULARI DOLDURALIM

Sayıların basamak değerlerini yazarak tabloları dolduralım.



	2 6	
	Onluk	Birlik
Basamak değeri	20	6



	3 9	
	Onluk	Birlik
Basamak değeri		

	5 4	
	Onluk	Birlik
Basamak değeri		

	6 8	
	Onluk	Birlik
Basamak değeri		

Nesneleri onluk ve birlik gruplara ayırıp, sonuçları tablolara yazalım.

					
	1 3				
	Onluk	Birlik		Onluk	Birlik
Basamak değeri	10	3	Basamak değeri		

					
	Onlar	Birlik		Onlar	Birlik
Basamak değeri			Basamak değeri		