

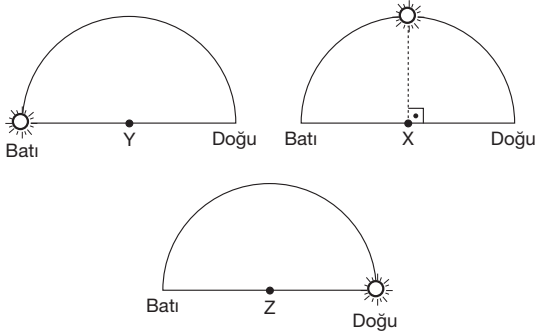
LYS – 4

COĞRAFYA – 2 TESTİ

1. Bu testte 14 soru vardır.

2. Cevaplarınızı, cevap kâğıdının Coğrafya – 2 Testi için ayrılan kısmına işaretleyiniz.

1. Aşağıda, 21 Mart'ta aynı anda üç farklı merkezde Güneş'in gökyüzündeki konumları gösterilmiştir.



Buna göre, aşağıdakilerden hangisi kesin doğrudur?

- A) Y, Kuzey Yarım Küre'dedir.
- B) X, orta kuşaktadır.
- C) Z, Greenwich'in batısındadır.
- D) Y ile X aynı enlemindedir.
- E) X ile Z arasında 6 saatlik yerel saat farkı vardır.

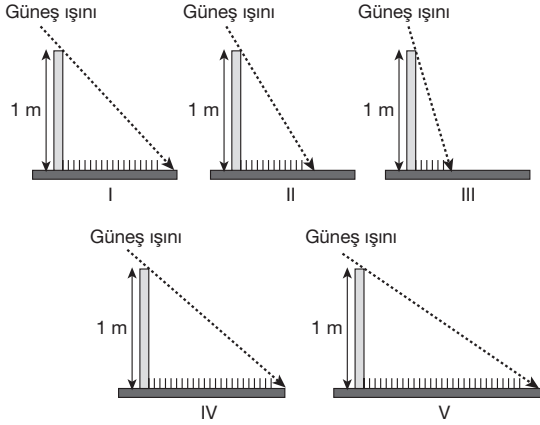
2. Ortak kullanım alanında yer alan Aras ve Kura nehirleri geçtikleri ülkeler arasında su sorununa neden olmazken Fırat ve Nil nehirleri geçtikleri ülkeler arasında su kullanımı açısından bazı sorunlara neden olmaktadır.

Bu durum üzerinde aşağıdakilerden hangisi daha çok etkilidir?

- A) İklim koşulları
- B) Akarsuların akış yönü
- C) Akarsuların havza özelliği
- D) Ülkelerin gelişmişlik durumu
- E) Ülkelerin nüfus artış hızı

3. Cisimlerin gölge boyu, güneş ışınlarının düşme açısına bağlı olarak değişir. Güneş ışınlarının dik açıyla düştüğü yerlerde gölge oluşmaz.

21 Aralık'ta Güney Yarım Küre'de beş noktada öğle vaktinde yatay düzlemdeki 1 metrelik cisimlerin gölge boyları, aşağıdaki grafiklerde verilmiştir.



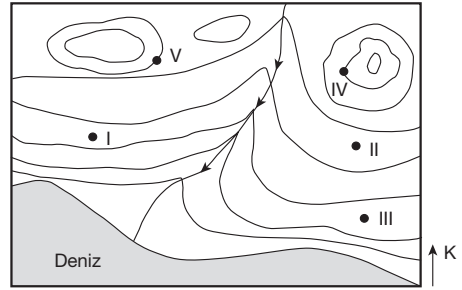
Buna göre, hangi nokta Oğlak Dönencesi'ne daha yakındır?

- A) V B) IV C) III D) II E) I

4. G-8'e üye olan aşağıdaki ülkelerden hangisi Avrupa Birliği'ne üye değilken NATO'ya üyedir?

- A) Almanya
B) ABD
C) Fransa
D) İtalya
E) İngiltere

5. Aşağıda verilen haritada eğriler arasındaki sabit yükselti farkı 250 m dir.



Topoğrafya haritası üzerinde verilen yukarıdaki bölgede çıkan orman yangını yükseltisi 1000 metreden fazla olan yerlerdeki alanlarda etkili olduğuna göre, haritada numaralı yerlerin hangisi bu yangından etkilanmemiştir?

- A) Yalnız I B) Yalnız III C) I ve V
D) II, IV ve V E) I ve III

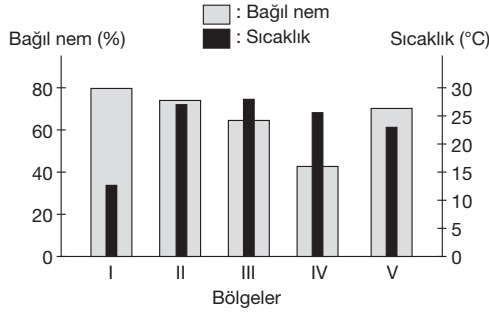
- 6.

	Dış alımda sanayi ürünlerinin payı (%)	Dış satımında sanayi ürünlerinin payı (%)
1996	23,5	4,8
2000	20,8	7,8
2005	17,4	10,8
2012	17,1	10,9

Türkiye ile ilgili yukarıda verilen değerler aşağıdaki-lerden hangisini kesin kanıtlar?

- A) İhracatın ithalatı karşıladığını
B) Ham madde satımının sona erdiğini
C) Sanayi gelirlerinin azaldığını
D) Sanayi alanında dışa bağımlılığın azaldığını
E) Milli gelirin azaldığını

7.



Sıcaklıkları ve bağıl nemleri verilen bölgelerle ilgili aşağıdaki açıklamalardan hangisi yanlıştır?

- A) Maksimum nemi en az olan I. bölgedir.
- B) Mutlak nemi en çok olan II. bölgedir.
- C) V. bölgenin bağıl nemi %60 dan fazladır.
- D) III. ve IV. bölgelerin sıcaklıkları ve bağıl nemleri aynı değildir.
- E) II. bölgede nem açığı yoktur.

8.

- I. Bilimsel ve estetik bakımdan ulusal ve uluslararası önemi bulunan; doğal ve kültürel kaynakları ve değerleri ile koruma, dinlenme ve turizm alanlarına sahip alanlar
- II. Birbiryle ve cansız ortamları ilişki içinde olan kendi içinde yeterli bitki ve hayvan topluluğu barındıran ortam
- III. Tropikal kuşakta ticari amaçla çok geniş alanlarda bir veya birkaç çeşit ürün yetiştirmeye dayalı tarım metodudur.

Yukarıdaki tanımlar; ekosistem, plantasyon tarım ve milli parklara aittir.

Buna göre, bu kavramlar ile verilen tanımları aşağıdakilerin hangisinde doğru eşleştirilmiştir?

	Ekosistem	Milli park	Plantasyon tarım
A)	I	II	III
B)	II	III	I
C)	II	I	III
D)	I	III	II
E)	III	I	II

9.

Aşağıdakilerin hangisinde verilen ürünü yetiştirmeye elverişli olmayan yer yanlış eşleştirilmiştir?

Ürün	Yetiştirmeye elverişli olmayan yerler
A) Zeytin	Datça Yarımadası
B) Çay	Göller Yöresi
C) Buğday	Doğu Karadeniz'in kıyısı
D) Pamuk	Kars-Ardahan Yöresi
E) Turunçgil	Konya Bölümü

10.

X ülkesinde hektar başına 2000 kg, Y ülkesinde ise 7000 kg buğday üretilmektedir.

Bu durum ülkelerde;

- I. tarımsal verim durumu,
- II. uygulanan tarım tekniği,
- III. tarım ürünü çeşidi

gibi özelliklerden hangilerinin farklı olduğunu gösterir?

- A) Yalnız I
- B) Yalnız III
- C) I ve II
- D) I ve III
- E) II ve III

11. Türkiye'nin deprem bölgelerini gösteren bir haritada kırmızı renk depremin en çok olduğu yerleri, beyaz renk ise deprem potansiyelinin en az olduğu yerleri göstermektedir.

Buna göre, aşağıdaki şehirlerden hangisi kırmızı renk grubunda yer almaz?

- A) İzmir B) Mardin C) İstanbul
D) Elazığ E) Bingöl

12. • Tarlaların eğim yönünde sürülmesi
• Yarı kurak iklim koşullarının görülmesi
• Otlaklarda hayvanların aşırı otlatılması
• Arazinin çok engebeli ve yüksek olması

Yukarıda verilenlerin ortak sonucu olarak ortaya çıkan durum aşağıdakilerden hangisidir?

- A) Erozyonun oluşması
B) Heyelan olayının başlaması
C) Toprağın veriminin artması
D) Nemliliğin ve yağışın artması
E) Bitki örtüsünün gürleşmesi

13. Karabük 1900'lü yılların başında küçük bir yerleşim alanı iken buraya 1930'lu yıllarda kurulan demir-çelik fabrikası sosyoekonomik yapıda önemli değişiklikler meydana getirmiştir.

Buna göre, aşağıdakilerden hangisinin Karabük'teki söz konusu değişimler arasında yer aldığı söylenemez?

- A) Nüfus artış hızının yükselmesi
B) İdari yapısının değişmesi
C) Ulaşım ağlarının gelişmesi
D) Çalışan nüfusun sektörel dağılışının değişmesi
E) Hinterlandının daralması

14. İletişimin ve ulaşımın gelişmesiyle sanayi, hizmet ve ticaret hayatında uluslararası iş bölümü ortaya çıkmıştır. Bu şekilde bir İngiliz şirketinin merkezi Tokyo'da, fabrikası Çin'de, pazarlama üssü Avrupa'da olabilmektedir.

Buna göre, yukarıdaki açıklama da göz önüne alındığında aşağıdakilerden hangisine ulaşılabilir?

- A) Yaşadığımız zamanda ticarete uluslararası sınırlar değişmiştir.
B) İletişim ve ulaşımın gelişmesiyle mesafe ve zaman kavramı zorluğu ortadan kalkmıştır.
C) Şirketler üretim maliyetinin ucuz olduğu ülkelere yatırım yapabilmektedir.
D) Uluslararası ticaretin gelişmesi için farklı arayış ve çözümler üretilmiştir.
E) Uluslararası sermaye ve ticaret hareketliliği eski akıcılığını yitirmiştir.