

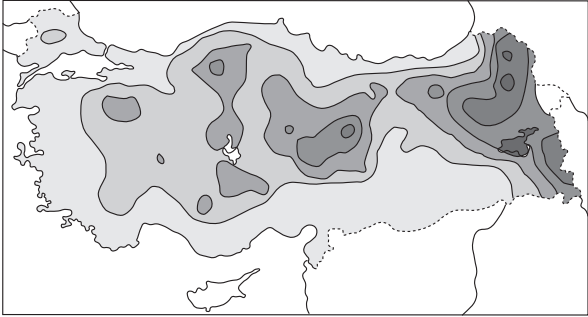
LYS – 3

COĞRAFYA – 1 TESTİ

1. Bu testte 24 soru vardır.

2. Cevaplarınızı, cevap kâğıdının Coğrafya – 1 Testi için ayrılan kısmına işaretleyiniz.

1. VE 2. SORULARI AŞAĞIDA VERİLEN HARİTALARA GÖRE CEVAPLAYINIZ.



İlkbaharda donlu gün sayısı

0-10 gün	31-40 gün
11-20 gün	41-50 gün
21-30 gün	51-60 gün



Sonbaharda donlu gün sayısı

0-10 gün	31-40 gün
11-20 gün	41-50 gün
21-30 gün	51-60 gün

1. Don olayı, sıcaklığın donma noktası altına düşmesi sonucu suyun buza dönüşmesidir. Sıcaklık günün herhangi bir saatinde 0 °C nin altına düşmüşse, o gün don olayının gerçekleştiği gün sayılır.

Buna göre, verilen haritalardan aşağıdakilerden hangisine ulaşamaz?

- A) Donlu gün sayıları her iki mevsimde de enleme göre düzenli bir dağılışı göstermemiştir.
- B) Kıyılarda donlu gün sayısı her iki mevsimde de iç kesimlerden kısıdır.
- C) Van Gölü çevresinde donlu gün sayıları mevsimlere göre farklıdır.
- D) İç Anadolu'da don olayları Doğu Anadolu'ya göre bir ay daha erken başlar.
- E) Batıdan doğuya doğru donlu gün sayıları genel olarak artmaktadır.

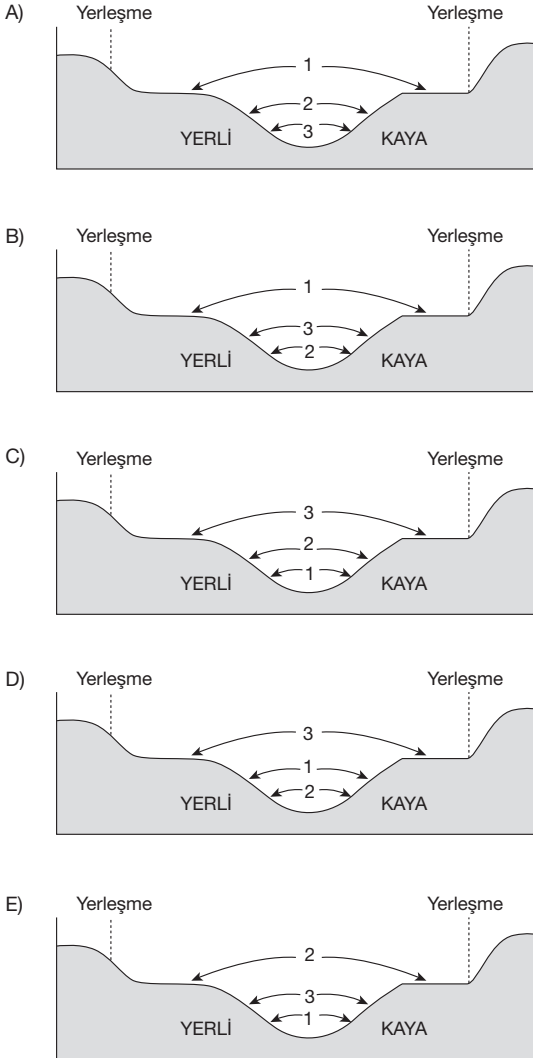
2. Türkiye'ye sonbahar ve ilkbaharda güneş ışınları aynı açılarla gelmesine rağmen, aynı coğrafi bölgede sonbahardaki donlu gün sayıları ile ilbahardaki donlu gün sayılarının farkı aşağıdakilerden hangisiyle açıklanabilir?

- A) Isı birikimi ya da kaybıyla
- B) Bakı durumuyla
- C) Yükseltinin etkisiyle
- D) Dağların konumuyla
- E) Bitki çeşidiyle

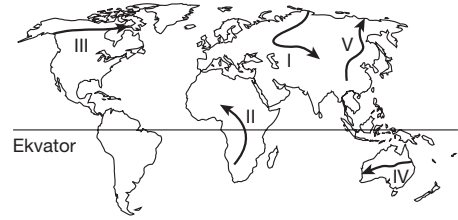
3. Akarsuyun yıl içinde gösterdiği değişiklikler üçe ayrılır.

1. Normal düzey
2. Çekik düzeyi
3. Taşkın düzeyi

Herhangi bir akarsuyun normal, çekik ve taşkın durumundaki seviye değişimi aşağıdakilerin hangisinde doğru verilmiştir?



4.



Yukarıdaki Dünya haritasında gösterilen doğrultuların hangisinde ok yönünde sırasıyla;

- tundra toprakları,
- tayga ormanları,
- çernezyom toprakları,
- kurakçıl çalı

topluluklarının yaygın olduğu alanlardan geçilir?

- A) I B) II C) III D) IV E) V

5. Aşağıdaki tabloda, özel konumları aynı olan üç farklı ülkede kalıcı kar alt sınırı ile iğne yapraklı orman ve tarım üst sınırları verilmiştir.

Ülke	Tarım üst sınırı (metre)	İğne yapraklı orman üst sınırı (metre)	Kalıcı kar alt sınırı (metre)
X	1500	1500	2100
Y	3000	2500	3200
Z	3500	3500	4400

Buna göre;

- I. Z ekvatora daha yakındır.
- II. X'in sıcaklık ortalaması daha düşüktür.
- III. Y'de yağış rejimi düzenlidir.

gibi açıklamalardan hangileri kesin değildir?

- A) Yalnız I B) Yalnız III C) I ve II
D) I ve III E) II ve III

6. Fiyort, hörgüç kaya ve sander ovası gibi yer şekillerinin oluşmasında;

- I. iklimin soğuk olması,
- II. yağışların düzensiz olması,
- III. bitki örtüsünün çeşitli olması

faktörlerinden hangileri etkilidir?

- A) Yalnız I
- B) Yalnız II
- C) Yalnız III
- D) I ve III
- E) II ve III

7. I. Konya
II. Edirne
III. Bingöl

Yukarıdaki şehirlerin gerçek sıcaklıkları ile indirgenmiş sıcaklıkları arasındaki farkın azdan çoğa sıralanışı aşağıdakilerin hangisinde doğru verilmiştir?

- A) I – II – III
- B) I – III – II
- C) II – III – I
- D) II – I – III
- E) III – II – I

8. Aşağıdakilerin hangisinde Türkiye’de arazinin kullanım alanı yanlış verilmiştir?

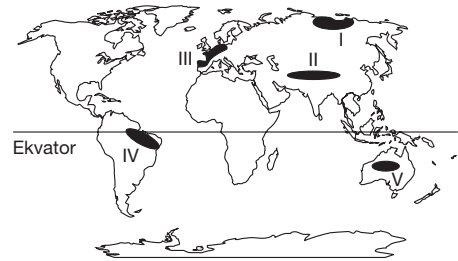
Yer şekli	Kullanım alanı
A) Göller	Jeotermal santral
B) Platolar	Hayvancılık
C) Kıyılardaki kumsallar	Kıyı turizmi
D) Akarsular	Enerji üretme
E) Dağlar	Turizm ve madencilik

9. Son yıllarda evlerimizde elektronik aletleri daha az enerji harcayanlardan seçiyoruz. Mobilyaların çevre dostu malzemelerden üretilenleri ilgi görüyor. Çevreyi daha fazla koruyabilmek için ekolojik bir evde yaşamak daha da önemli. Nedir ekolojik ev? Kendi enerjisini kendisi üretebilen, su ve atık sistemlerinin çevresel etkileri dikkate alınarak tasarlanmış evler. Ayrıca bu evlerin yapımında kullanılan temel öğeler, doğal, dönüşebilen, sürdürülebilir, atık üretmeyen, insan sağlığına zarar vermeyen ve enerji kaybettirmeyen malzemelerdir. Bu nedenle toksit madde içermeyen cam, keten, ahşap, toprak, kök boya gibi malzemeler tercih edilmektedir. Ekolojik evler temel enerji olarak güneş, su ve rüzgârı kullanıyor. Ayrıca bu yapılar üzerinde bulunduğu arazi parçasına düşen güneş enerjisinden en üst düzeyde yararlanmaya çalışıyor. Kullandığı suyu arındırıp depoluyor. Aynı zamanda rüzgardan elde edilen elektriği depolayıp gerektiği zaman kullanabiliyor.

Bu parçadan yararlanarak, ekolojik evlerde, ekolojik olmayan evlere göre aşağıdakilerden hangisinin daha az olduğu söylenemez?

- A) Üretilen evsel atık miktarı
- B) Şehir şebekesinden kullanılan elektrik miktarı
- C) Çevre kirliliğine olan katkı miktarı
- D) Tüketilen su miktarı
- E) Geri dönüşümlü malzeme tüketimi

10.



Yukarıdaki Dünya haritasında belirtilen yerler için aşağıdaki bölge adlandırmalarından hangisi yanlıştır?

- A) I. Soğuk iklim bölgesidir.
- B) II. Kurak iklim bölgesi
- C) III. Sanayi ve hizmet üretim bölgesidir.
- D) IV. Orman bölgesidir.
- E) V. Yoğun nüfuslu bölgedir.

11. Mercanlar denizel ortamlarda yığınak veya tek olarak genelde tutunarak yaşayan çok hücreli canlılardır. Yığınak yani resif meydana getiren mercanlar, su sıcaklığının 20 °C den düşük olmadığı, derinliğin 60 metreyi geçmediği suyun akıntılı ve temiz olduğu alanlarda çok iyi gelişir. Yığınaklar karaların kenarlarında resifleri, adaların kenarında ise atollerini oluştururlar.

Buna göre, aşağıdakilerden hangisi mercanların yaşamak için uygun ortam bulduğu alanlara örnek olarak verilebilir?

- A) Sicilya Adası
- B) Girit Adası
- C) Maldiv Adaları
- D) Falkland Adaları
- E) İzlanda Adası

12. "Türkiye'de hayvan sayımının ilk olarak 1984 yılında yapıldığını belirten Mehdi Eker, o dönemde 12 milyon 400 bin sığır varken, bu sayı 2002'de 9 milyon 800 bin sığıra gerilemişti. 10 yıl içinde 1984 yılının sayısına ulaşıldı ve sığır sayısı 12,4 milyona yükseldi. Küçükbaş hayvan sayısı 2002'de 31 milyon 953 iken, sayı 32 milyon 300 bine çıktı dedi."

(Basından 8 Kasım 2012)

Buna göre hayvan sayısında artış yaşanmasında;

- I. devletten kredi kullanımındaki artışlar,
- II. besiciliğin giderek yaygınlaşması,
- III. çayır ve otlak alanlarının daralması,
- IV. çiftçilerin tarımsal faaliyetlere daha çok ağırlık vermesi

gibi gelişmelerden hangileri daha çok etkili olmuştur?

- A) I ve II
- B) II ve III
- C) I ve III
- D) II ve IV
- E) III ve IV

13. Türkiye, Avrupa ve Afrika arasındaki en önemli kuş göç yolları üzerindedir. Özellikle yapımında kuşların uçuş rotası dikkate alınmalıdır. Aksi takdirde kuş ölümlerine ve uzun vadede kuşların göç yollarını değiştirmelerine neden olur.

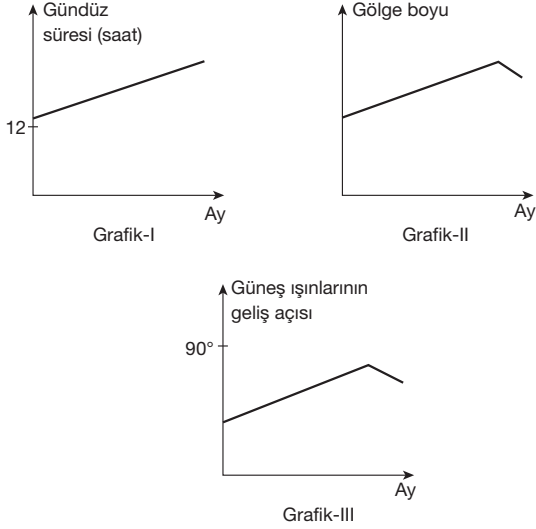
Bu açıklamada boş bırakılan kısma, aşağıdakilerden hangisi yazılırsa açıklamadaki anlam bütünlüğü doğru bir şekilde sağlanır?

- A) jeotermal santrallerin
- B) rüzgâr santrallerinin
- C) nadas tarımının
- D) hidroelektrik santrallerinin
- E) bahçe tarımının

14. **Aşağıdakilerden hangisi "Dünya kültürel ve doğal mirasının korunmasına dair sözleşmeyi imzalamış" ülkelerdeki çalışmalar ve UNESCO'nun amaçlarıyla örtüşmemektedir?**

- A) Mısır'da Giza Piramitleri'nin yanında otoyol yapılmasının engellenmesi
- B) Meksika'da gri balinaların üreme alanındaki tuz ocağının kapatılması
- C) Afrika'daki Victoria Çağlayanı'nda baraj yapılmasının iptal edilmesi
- D) Afrika'da Serengeti Parkı'nda birçok canlının koruma altına alınması
- E) Güneydoğu Anadolu Projesi kapsamında yapılan barajlarla Hasankeyf'in su altında kalma ihtimalinin olması

15.



Yukarıda verilen grafikler Türkiye'deki herhangi bir ayda çizilen gündüz süresi, gölge boyu ve güneş ışınlarının geliş açısını göstermektedir.

Buna göre, bu grafiklerin çizildiği aylar aşağıdakilerin hangisinden doğru verilmiştir?

	Grafik-I	Grafik-II	Grafik-III
A)	Nisan	Haziran	Haziran
B)	Mayıs	Aralık	Haziran
C)	Mayıs	Aralık	Aralık
D)	Nisan	Aralık	Temmuz
E)	Temmuz	Aralık	Haziran

16. Yakın zamana kadar Türkiye'nin ihracatında tarım ürünleri belirgin şekilde önde iken, günümüzde sanayi ürünleri ile hizmet sektörü ihracatta ilk iki sırayı oluşturmaktadır.

Buna göre,

- Bir Türk firmasının dış ülkelerde faaliyet izni alarak GSM şirketi kurması,
- Bir Türk firmasının Almanya'da danışmanlık yapan bir birim kurması,
- Bir Türk firmasının Türkiye'deki tekstil fabrikasını Çin'e taşıması

olaylarından hangileri hizmet sektörü ihracatına örnek gösterilemez?

- A) Yalnız II B) I ve III C) I ve II
D) Yalnız III E) II ve III

17. Coğrafya öğretmeni Mucip Bey, üç öğrencisine aşağıdaki ödevleri vermiştir.

Zeynep'e ; Mescid-i Aksa, Ağlama Duvarı gibi dini değer taşıyan tarihi eserlerin bulunduğu şehri

Boran'a ; Bir dönem dünya siyasetinde rol oynamış, çift başkent konumunda olan şehri

Elif'e ; Dünya ticaretinin kumanda merkezi olan, sivil toplum örgütlerinin bulunduğu şehri araştırıp sunmalarını istemiştir.

Buna göre, bu öğrencilerin ödevlerine konu olan şehirler aşağıdakilerin hangisinde doğru verilmiştir?

	Zeynep	Boran	Elif
A)	Roma	Oxford	Kudüs
B)	Kudüs	Roma	New York
C)	New York	Roma	Kudüs
D)	Kudüs	Roma	Washington
E)	Kudüs	Paris	New York

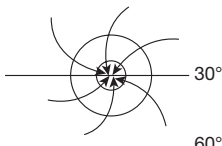
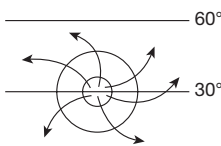
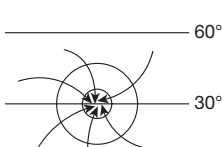
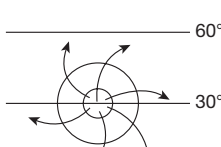
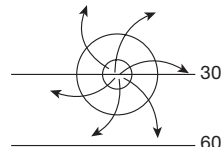
18. Türkiye’de denizden uzak iç kesimlerde kurulmuş şehir merkezlerinin bir kısmının kurulum yerinin seçiminde, yakın çevredeki yüksek dağ sıralarının etekleri tercih edilmiştir.

Buna göre, şehirlerin kuruluşunda söz konusu yerleşim alanlarının tercih edilmesinde aşağıdakilerden hangisinin etkili olduğu söylenebilir?

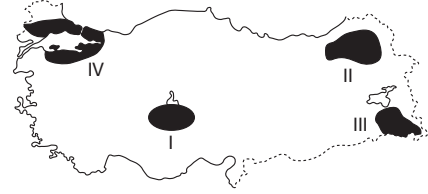
- A) Deprem riskini artıran fay hatlarından uzaklaşma isteği
- B) Eğimli dağ yamaçlarını takip eden kara yollarına yakın olma düşüncesi
- C) Yüksek dağlık alanlarda yağış miktarının ve su kaynaklarının alçak düzlüklere göre daha fazla olması
- D) Dağ yamaçlarından aşağıya doğru oluşan föhn rüzgârının sıcaklığı artırıcı etkisinden yararlanılmak istenilmesi
- E) Eğimli dağ eteklerinde kurulan şehirlerin alt yapı inşalarının daha kolay yapılması

19. Kuzey Yarım Küre’de 30° enlemleri çevresi, dinamik kökenli yüksek basıncın etkisindedir.

Aşağıdakilerin hangisinde bu basınç merkezi doğru gösterilmiştir?

- A) 
- B) 
- C) 
- D) 
- E) 

20.



Türkiye haritasında işaretli alanlarda yoğun olarak yapılan hayvancılık faaliyetleriyle ilgili özellikler düşünüldüğünde aşağıdaki bilgilerden hangisi yanlıştır?

- A) IV numaralı bölgede kapalı ortamlarda verimi yüksek olan hayvancılık faaliyetleri yapılmaktadır.
- B) III numaralı bölgede küçükbaş hayvancılık ve arıcılık faaliyetleri yaygındır.
- C) II numaralı bölgede ilkbahar yağışları ile yeşeren yaz kuraklığı ile sararan otlar daha çok kıl keçisi yetiştiriciliğinin yapılmasına olanak sağlamıştır.
- D) İklim ve yer şekillerinin farklılık göstermesi işaretli alanların genelinde farklı hayvancılık türlerinin yaygınlaşmasına neden olmuştur.
- E) I numaralı bölgede daha çok küçükbaş hayvan türleri yaygındır.

21. Türkiye’de etkili olan yerel rüzgârlarla ilgili, aşağıdaki bilgilerden hangisi yanlıştır?

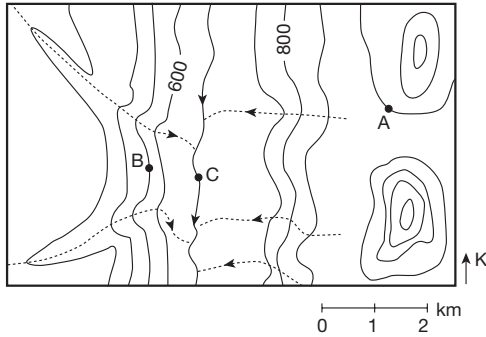
- A) Poyraz, Türkiye’nin kuzeydoğusundan esen soğuk ve şiddetli bir rüzgârdır. Bu rüzgar, genellikle fırtına şeklinde eser.
- B) Lodos, güneybatıdan esen daha çok Batı Anadolu ve Marmara Denizi çevresinde etkili olan bir rüzgârdır.
- C) Yıldız, kuzeyden esen ve daha çok Karadeniz ve Marmara kıyılarında esen rüzgârdır.
- D) Keşişleme, güneyden esen rüzgârdır. Denizden eserken aldığı nemi dağlara yağış olarak bırakır.
- E) Karayel kuzeybatıdan esen, soğuk ve şiddetli bir rüzgârdır. Marmara Denizi çevresinde ve Karadeniz’de etkilidir. Çoğunlukla fırtına şeklinde eser.

22. İnsanlardaki yeni yerleri keşfetme isteği ve merak duygusu geçmişten günümüze kadar insanı hep yeni maceralara sürüklemiştir. Bunun sonucunda yeni yerler keşfedilmiş ve bu yeni yerlere daha kolay ulaşabilmek için de yeni ulaşım yolları bulunmuştur.

Buna göre, Avrupa'nın batı kıyıları ile Asya'nın güneydoğu kıyıları arasında bağlantıyı kolaylaştıran ve kısaltan gelişme aşağıdakilerin hangisinde doğru verilmiştir?

- A) Korint Kanalı'nın açılması
- B) Okyanusya Kıtası'nın keşfedilmesi
- C) Süveyş Kanalı'nın açılması
- D) Macellan Boğazı'nın keşfedilmesi
- E) Korint ve Kiel kanallarının açılması

23. Aşağıda, bir bölgenin izohips yöntemine göre hazırlanan topoğrafya haritası gösterilmiştir.



Buna göre aşağıdaki açıklamalardan hangisi yanlıştır?

- A) B noktası sırt üzerindedir.
- B) A – C arası yükselti farkı B – C arasındakinden azdır.
- C) A noktasının bulunduğu tepe güneydeki tepeden daha az yükseltiye sahiptir.
- D) B noktasının yükseltisi A noktasından azdır.
- E) C noktası vadi tabanıdır.

- 24.
- Ortalama yükselti ve engebe fazladır.
 - Yükselti ortalaması batıdan doğuya gidildikçe artar.
 - Dağlar genellikle doğu–batı doğrultulu uzanır.
 - Fay hatları fazladır.

Türkiye ile ilgili yukarıda verilen bilgilerden yararlanılarak, aşağıdaki yargılardan hangisine ulaşamaz?

- A) Gerçek alan ile iz düşüm alan arasındaki fark fazladır.
- B) Karlı ve donlu geçen gün sayısı batıdan doğuya gidildikçe artar.
- C) Akdeniz ve Karadeniz kıyılarında, iç kesimlerle ulaşım da geçitlerden yararlanır.
- D) Kaplıca ve ılıcalar fazladır.
- E) Kuzeyden esen rüzgarlar hava sıcaklığını düşürür, güneyden esenler yükseltir.