

LYS – 4

COĞRAFYA – 2 TESTİ

1. Bu testte 16 soru vardır.
2. Cevaplarınızı, cevap kâğıdının Coğrafya – 2 Testi için ayrılan kısmına işaretleyiniz.

1.



Orman bölgelerinde, orman aralarında yer yer yukarıdaki fotoğrafta görüldüğü gibi şeritler halinde boşluklar ve yollar oluşturulmuştur.

Bu durumun nedenleri arasında;

- Orman yangınları sırasında söndürme amaçlı orman içlerine ulaşmayı kolaylaştırmak
- Ormanları farklı bitki türlerine göre sınıflandırmak
- Olası bir yangın sırasında yangının çevreye sıçrayıp dağılmasını zorlaştırmak
- Ormanlardan piknik alanı olarak yararlanmayı kolaylaştırmak
- Heyelanlara karşı önlem almak

gibi amaçlardan hangilerinin varlığından söz edilebilir?

- A) Yalnız I B) Yalnız IV C) I ve III
D) II ve IV E) III ve V

2. Türkiye’de aşağıdaki ovalardan hangisinde;

- İlkbaharda sulama, yaz aylarında kuraklık isteyen pamuk
- Yetiştirme döneminde yağış, olgunlaşma döneminde kuraklığa ihtiyaç duyan buğday

gibi ürünlerin ikisinin de yetiştirilme olanağı yoktur?

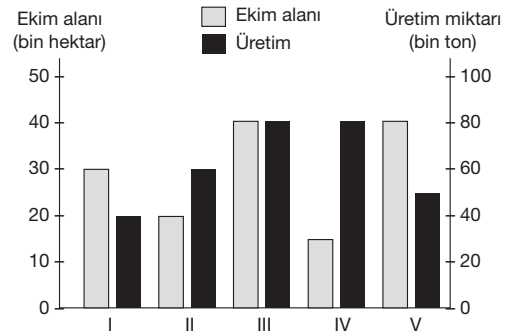
- A) Bafra B) Altınbaşak C) Iğdır
D) Çukurova E) Amik

3. Bir yerde sanayinin kurulup gelişmesi bazı koşullara bağlıdır. Bu koşulların başında sermaye (anapara) gelir. Ardından hammadde, enerji, ulaşım ve pazarlama olanakları yer alır. Ulaşımın gelişmesi ham veya yarı işlenmiş maddenin temininde de pazara iletilmesinde de önemli bir yere sahiptir. Bu nedenle sanayi tesisleri, liman kentlerinde, demiryolu ve karayolları ulaşımının gelişmiş olduğu yerlerde, yolların yakınlıklarına kurulmuştur.

Bu bilgiye göre, aşağıdaki yerlerin hangisi sanayinin gelişmesi için gerekli koşullar bakımından diğerlerine göre daha olumsuz koşullara sahiptir?

- A) Çukurova
B) Teke Yarımadası
C) Yukarı Sakarya Bölümü
D) Güney Marmara Bölümü
E) Ergene Havzası

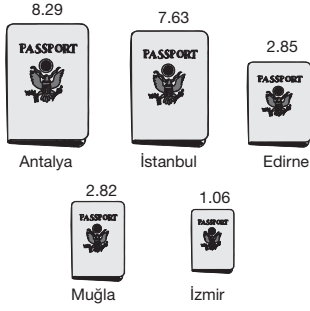
4. Tarım alanlarında sulama, gübreleme, toprak bakımı, tohum ıslahı gibi çalışmalarla birim alandan yüksek verim alınır. Aşağıdaki grafikte bir ürünün farklı bölgelerdeki ekim alanları ve üretim miktarları gösterilmiştir.



Buna göre, bu bölgelerden hangisinin tarımsal üretiminde modern tarım yöntemlerinden daha fazla yararlanıldığı söylenebilir?

- A) I B) II C) III D) IV E) V

5.

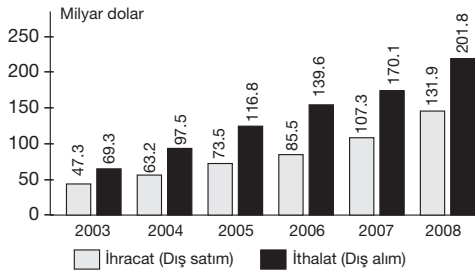


Yukarıda Türkiye'ye en fazla turist girişi olan ilk beş şehir ve giriş yapan turist sayıları (milyon kişi) verilmiştir.

Buna göre, aşağıdakilerden hangisi söylenemez?

- A) En fazla turist girişi Akdeniz Bölgesi'ne olmuştur.
- B) Verilen beş şehirden giriş yapan turist sayısı 20 milyon kişiden fazladır.
- C) İstanbul'a giriş yapan turist sayısı Edirne, Muğla ve İzmir'e giriş yapan turist sayısının toplamından fazladır.
- D) Edirne ve Muğla'ya giriş yapan turist sayıları birbirine yakındır.
- E) İzmir, Muğla'ya gelen turist sayısının yarısından az turist almıştır.

6. Aşağıda Türkiye'nin 2003–2009 Dönemi ithalat ve ihracatı (milyar dolar) gösterilmiştir.



Bu verilerden yararlanarak aşağıdakilerden hangisi söylenemez?

- A) Verilen yıllar içinde dış ticaret açığı 2003 yılında en azdır.
- B) Dış alımın en fazla olduğu yıl 2008'dir.
- C) Verilen yıllarda ithalat, ihracattan fazladır.
- D) Dış borçlanma sürekli azalmıştır.
- E) Verilen yıllarda ihracat sürekli artmıştır.

7. ve 8. soruları aşağıdaki tabloya göre cevaplandırınız.

Aşağıdaki tabloda İstanbul ve Adıyaman'da yaş gruplarına göre kadın ve erkek nüfus miktarı verilmiştir. (2009 yılı)

Yaş Grubu	İstanbul(bin kişi)			Adıyaman (bin kişi)		
	Kadın	Erkek	Toplam	Kadın	Erkek	Toplam
0–4	508	536	1044	30	32	62
5–9	497	527	1024	29	32	61
10–19	1001	1071	2072	64	67	131
20–29	1228	1227	2455	54	52	106
30–39	1165	1209	2374	41	40	81
40–49	845	879	1724	27	29	56
50–59	575	581	1156	20	19	39
60–69	324	290	614	14	11	25
70 +	270	177	447	12	10	22

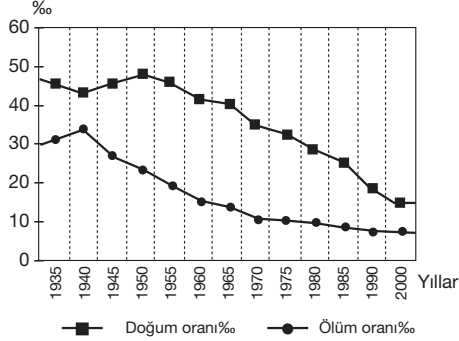
7. Sadece tablodaki bilgilerden yararlanarak aşağıdaki yargılardan hangisine ulaşamaz?

- A) 30–39 yaş grubunda toplam nüfus içinde kadınların oranı Adıyaman'da İstanbul'a göre daha fazladır.
- B) İki şehirde de 0–4 yaş arası toplam nüfus miktarı, 5–9 yaş arası toplam nüfus miktarından fazladır.
- C) 70 yaş ve üzerindeki nüfus içinde iki kentte de kadınların oranı erkeklerden fazladır.
- D) İki kentte de en fazla toplam nüfusa sahip yaş grubu 20–29 yaş arasıdır.
- E) İstanbul'da kadın ve erkek nüfus miktarı arasında en fazla fark 70 yaşın üzerinde gruptadır.

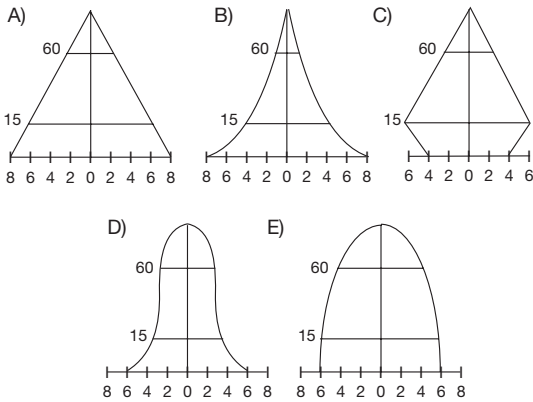
8. Grafikteki bilgiler incelendiğinde bu iki kentle ilgili aşağıdakilerden hangisi ile ilgili yorum yapılamaz?

- A) Toplam nüfus içinde kadın nüfusun oranı
- B) 20 yaşın altındaki nüfusun toplam nüfusa oranı
- C) En fazla nüfusa sahip olan yaş grubu
- D) Kadın nüfus oranının fazla olduğu yaş grupları
- E) Kentlerde km^2 'ye düşen kişi sayısı

9. Aşağıdaki grafik, Türkiye’de 1935–2000 yılları arasındaki doğum ve ölüm oranlarını göstermektedir.



Buna göre, Türkiye’de nüfus piramidinin son dönemde aşağıdakilerden hangisine benzemesi beklenir?



10. Yanlış arazi kullanımı, doğa olaylarının afete dönüşmesine yol açar. Bundan en çok etkilenen yerleşim merkezleri ve ulaşım hatlarıdır.

Aşağıdakilerden hangisi, bu duruma iyi bir örnek değildir?

- A) Yükselen dalgalar deniz doldurularak yapılan Karadeniz sahil yolunun bir bölümünü alıp götürmüştür.
- B) Kağıthane ve Alibeyköy dereleri havzasındaki ormansızlaşma ve dere yataklarına yerleşme, yağışların sel baskınlarına dönüşmesiyle sonuçlanmaktadır.
- C) Hint Okyanusu’nun tabanında meydana gelen deprem 8 ülkenin kıyısında tsunami tahribatına yol açmıştır.
- D) Adapazarı Ovası’nın alüvyal topraklarına kent yerleşmesi kurulması yaşanan deprem sırasında meydana gelen bina hasarı ve can kayıplarını artırmıştır.
- E) İzmir Karşıyaka’da dere yataklarının üstüne ev yapıp, caddeler geçirildiği için yağışın biraz fazla olduğu dönemlerde, su eski yatakları kaplayıp ciddi hasarlar vererek denize ulaşmaktadır.

11. Sanayide gelişmiş ülkeler olan Almanya ve İngiltere karşılaştırıldığında İngiltere ile ilgili aşağıda verilen,

- I. Kömür yatakları bakımından zengindir.
- II. AB üyesi ülkelerdendir.
- III. Balıkçılıkta başta gelen ülkelerdendir.
- IV. Birleşmiş Milletler Güvenlik konseyinin daimi üyesidir.
- V. Ada ülkesidir.

gibi bilgilerden hangileri bu iki ülkenin ortak özelliğidir?

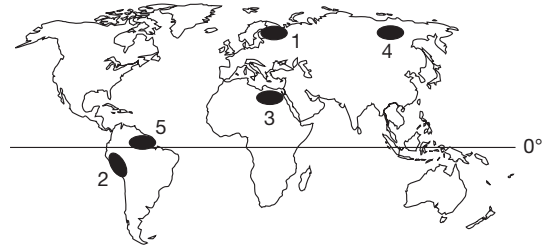
- A) I ve II
- B) I ve III
- C) II ve III
- D) III ve V
- E) IV ve V

12. Günümüzde ülkeler ve bölgeler arasındaki ticarete önemli bir yere sahip olan hammadde, üretim ve pazar ekonominin temel kaynağını oluşturur. Ekonomik sistem içerisinde bunların arasında sıkı bir ilişki vardır. Nasıl ki motor ve araba lastiği bir otomobilin ayrılmaz parçası ise bu üç unsur da ticaretin ayrılmaz parçalarıdır. Birisi olmazsa diğeri de varlığını sürdüremez. Dünya geneline baktığımızda ham madde alanları, üretim alanları ile pazar alanlarının bulunduğu yerler farklılık göstermektedir.

Buna göre, aşağıdakilerden hangisi sanayi üretim alanı olarak nitelendirilemez?

- A) Kuzey Amerika
- B) Japonya
- C) Orta Afrika
- D) Çin
- E) Batı Avrupa

- 13.



Yukarıdaki Dünya haritasındaki taralı alanların coğrafi özellikleri düşünüldüğünde aşağıdakilerden hangisi yanlış olur?

- A) Haziran–temmuz aylarında aydınlanma amaçlı enerji tüketimi en az olan yöre 1’dir.
- B) Karayolları yapımında birim maliyet 2. yöre de en fazladır.
- C) Tarımsal faaliyetlerde sulama suyu tüketimi en fazla olan yöre 3’tür.
- D) Aralık–ocak aylarında ısınma ve aydınlanma amacıyla enerji tüketimi 4’te çok fazladır.
- E) 5. yörede yerleşmeler için daha çok deniz seviyesine yakın alçak düzlükler tercih edilmektedir.

14. Yeryüzünde doğal, beşeri, ekonomik ve siyasi özellikleri açısından benzerlik gösteren alanlara bölge adı verilir. Bu nedenle bir ülke, sahip olduğu her özelliğe göre farklı bölgeler içinde yer alabilir.

Buna göre;

- iklim tipine göre, çöl iklimi bölgesinde,
- nüfus yoğunluğuna göre, az yoğun nüfuslu bölgede,
- yer altı kaynaklarına göre, petrol bölgesinde,
- siyasi özelliğine göre, İslam Konferansı örgütünde

yer alan ülke aşağıdakilerden hangisi olabilir?

- A) Endonezya
B) Suudi Arabistan
C) Nijerya
D) Hindistan
E) Malezya

15. Yaz mevsiminin sıcak ve kurak geçtiği verimli Ceylanpınar ve Harran ovalarında pamuk tarımı yaygındır (I). Burada üretilen kaliteli pamuk kamyonlarla Şanlıurfa, Adıyaman ve Gaziantep'teki tesislere yollanır (II). Gaziantep ve Adıyaman'daki tesislerde dokunarak ipliğe dönüştürülen pamuktan kumaş elde edilir (III). İstanbul, Adana, Gaziantep, İzmir gibi şehirlerdeki büyük alışveriş merkezleri ve mağazalarda alıcısını bekleyen kıyafetlere dönüştür (IV).

Yukarıdaki paragrafta pamuğun serüveni anlatılmıştır.

Buna göre, üretim, dağıtım, tüketim aşamaları hangisinde doğru verilmiştir?

	Üretim	Dağıtım	Tüketim
A)	I ve III	II	IV
B)	II	I ve IV	III
C)	III ve IV	I	II
D)	I	III	II ve IV
E)	II ve III	IV	I

16. Krom, çeliğe sertlik vererek kılınma ve darbelere direnç kazandırır, aşınma ve oksitlenmeye karşı koruma sağlar.

Aşağıdakilerden hangisinde, Türkiye'nin önemli krom çıkarım alanları gösterilmiştir?

A)



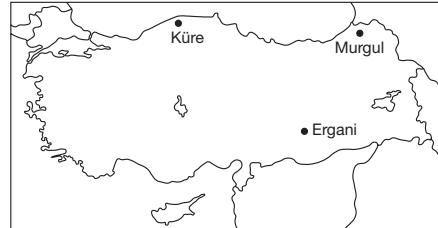
B)



C)



D)



E)

