

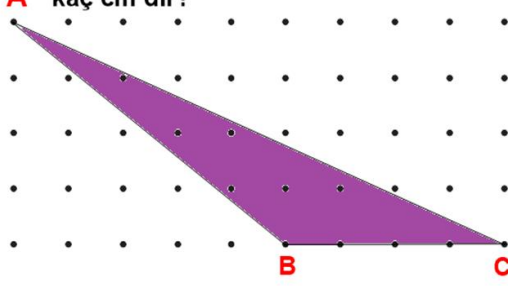
ADI:
SOYADI:
SINIFI : NO:

DERS: MATEMATİK 5,6,7,8
KONU: BİRİM KARELERLE ÜÇGENDE ALAN TESTİ
HAZIRLAYAN: ÖMER ASKERDEN (PİRİ MEHMET PAŞA ORTAOKULU EĞİTİM ÇALIŞMALARI)

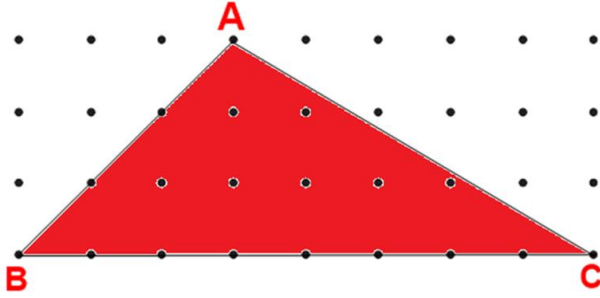
1) Yandaki ABC üçgeninin yüksekliği

A kaç cm dir?

- a) 8 b) 16 c) 24 d) 4

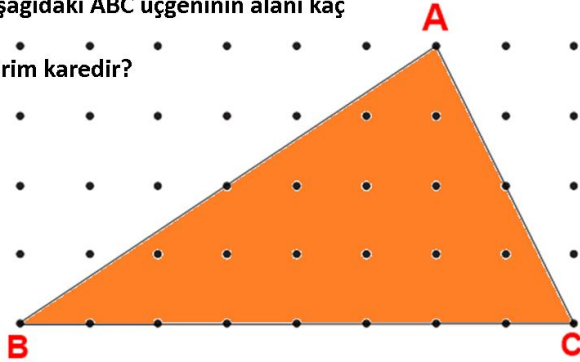


2) Aşağıdaki ABC üçgeninin alanı kaç birim karedir?



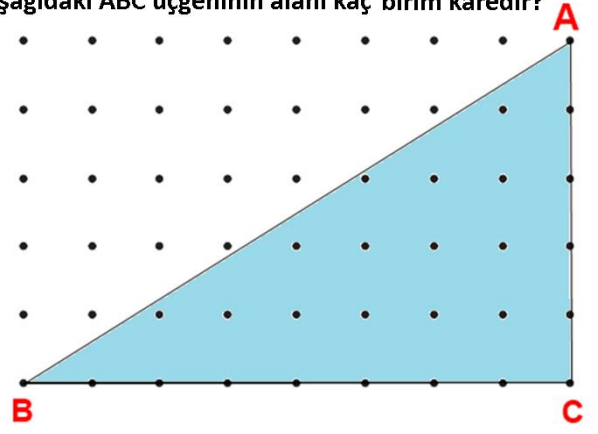
- a) 24 b) 36 c) 48 d) 12

3) Aşağıdaki ABC üçgeninin alanı kaç birim karedir?



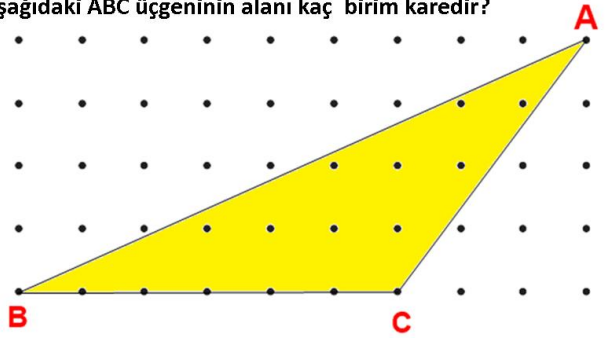
- a) 64 b) 32 c) 16 d) 96

4) Aşağıdaki ABC üçgeninin alanı kaç birim karedir?



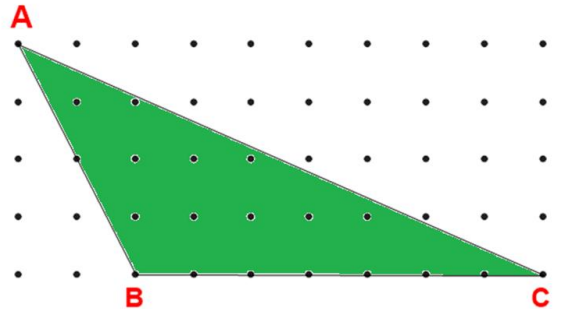
- a) 20 b) 40 c) 60 d) 80

5) Aşağıdaki ABC üçgeninin alanı kaç birim karedir?



- a) 36 b) 12 c) 18 d) 48

6) Aşağıdaki ABC üçgeninin alanı kaç birim karedir?

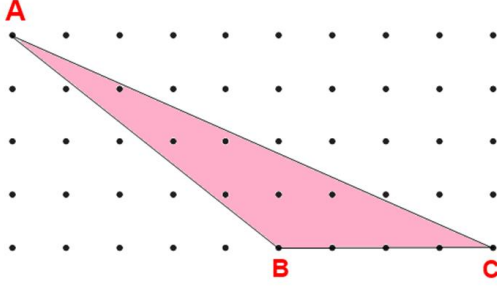


- a) 28 b) 21 c) 14 d) 35

ADI:
SOYADI:
SINIFI : NO:

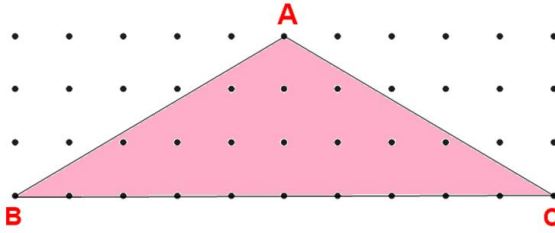
DERS: MATEMATİK 5,6,7,8
KONU: BİRİM KARELERLE ÜÇGENDE ALAN TESTİ
HAZIRLAYAN: ÖMER ASKERDEN (PİRİ MEHMET PAŞA ORTAOKULU EĞİTİM ÇALIŞMALARI)

7) Aşağıdaki ABC üçgeninin alanı kaç birim karedir?



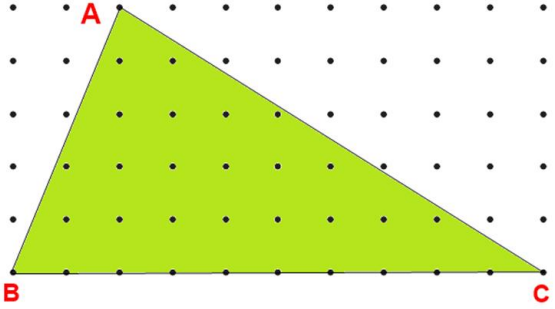
- a) 8 b) 16 c) 24 d) 4

8) Yandaki ABC üçgeninin yüksekliği kaç cm dir?



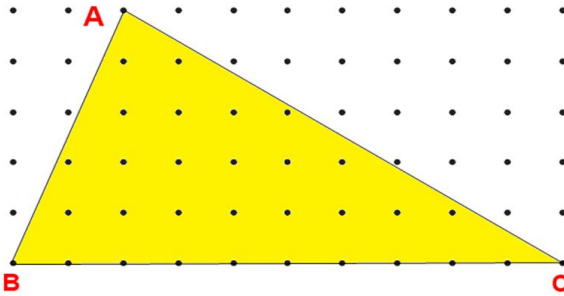
- a) 6 b) 4 c) 3 d) 5

9) Yandaki ABC üçgeninin yüksekliği kaç cm dir?



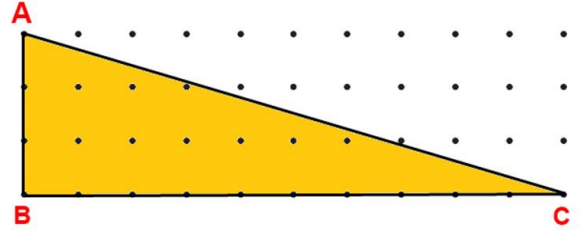
- a) 6 b) 4 c) 3 d) 5

10) Yandaki ABC üçgeninin alanı kaç birim karedir?



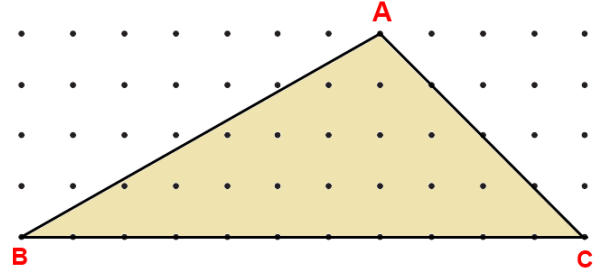
- a) 100 b) 75 c) 25 d) 50

11) Aşağıdaki ABC üçgeninin alanı kaç birim karedir?



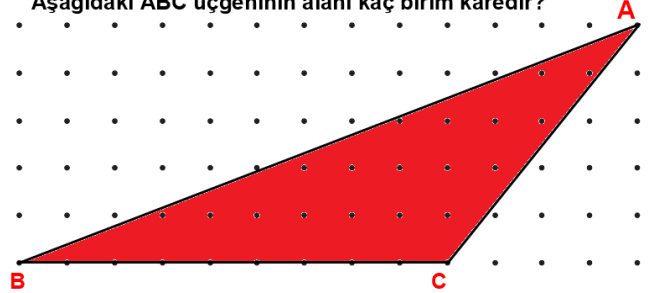
- a) 45 b) 15 c) 60 d) 30

12) Aşağıdaki ABC üçgeninin alanı kaç birim karedir?



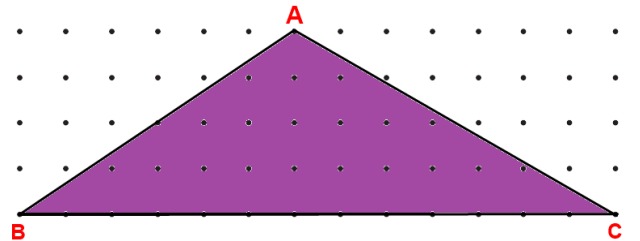
- a) 66 b) 44 c) 22 d) 33

13) Aşağıdaki ABC üçgeninin alanı kaç birim karedir?



- a) 22,5 b) 45 c) 66 d) 33,5

14) Aşağıdaki ABC üçgeninin alanı kaç birim karedir?

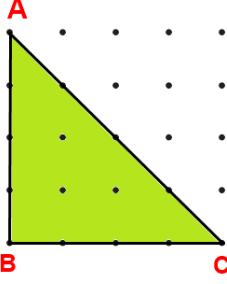


- a) 39 b) 78 c) 52 d) 26

ADI:
SOYADI:
SINIFI : NO:

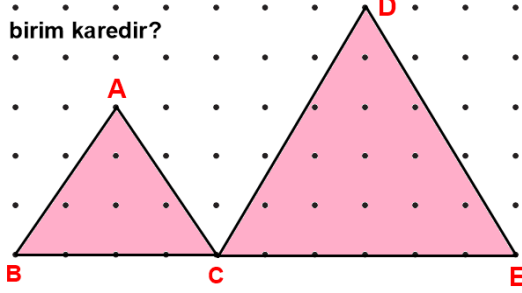
DERS: MATEMATİK 5,6,7,8
KONU: BİRİM KARELERLE ÜÇGENDE ALAN TESTİ
HAZIRLAYAN: ÖMER ASKERDEN (PİRİ MEHMET PAŞA ORTAOKULU EĞİTİM ÇALIŞMALARI)

- 15) Aşağıdaki ABC üçgeninin alanı kaç birim karedir?



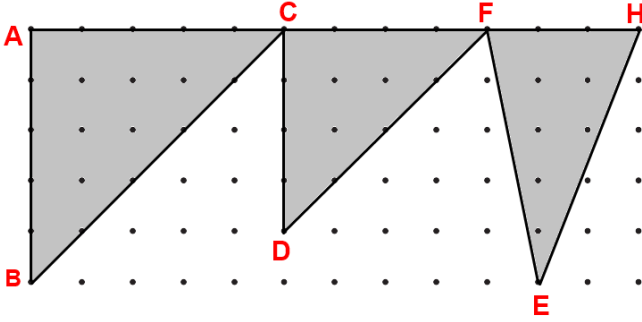
- a) 12 b) 8 c) 16 d) 24

- 16) Aşağıdaki ABC üçgeni ile DCE üçgeninin alanı kaç birim karedir?



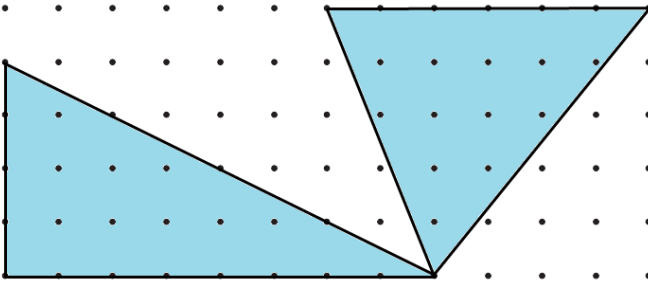
- a) 63 b) 42 c) 35 d) 21

- 17) Aşağıdaki taralı bölgenin alanı kaç birim karedir?



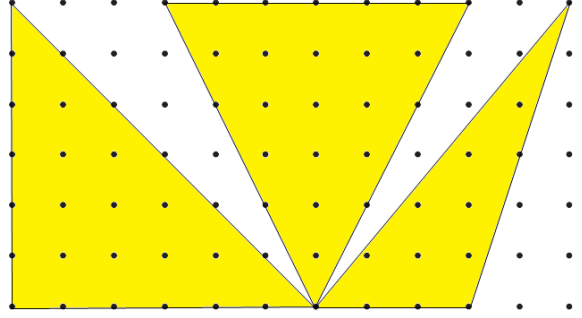
- a) 32 b) 28 c) 24 d) 36

- 18) Aşağıdaki taralı bölgenin alanı kaç birim karedir?



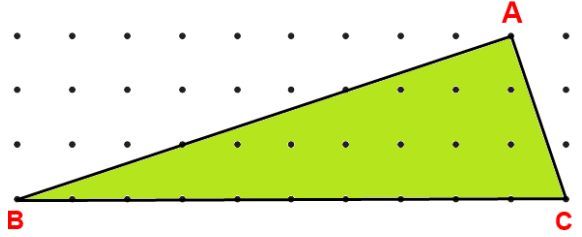
- a) 31 b) 42 c) 24 d) 36

- 19) Aşağıdaki taralı bölgenin alanı kaç birim karedir?



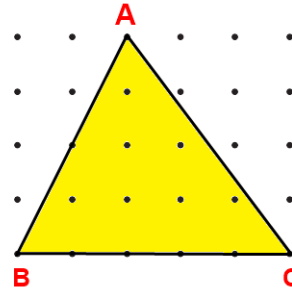
- a) 40 b) 45 c) 90 d) 50

- 21) Aşağıdaki ABC üçgeninin alanı kaç birim karedir?



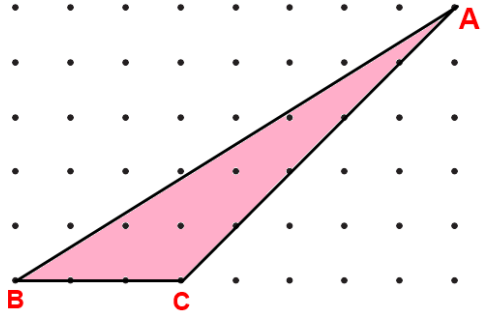
- a) 30 b) 60 c) 15 d) 45

- 22) Aşağıdaki ABC üçgeninin alanı kaç birim karedir?



- a) 20 b) 10 c) 15 d) 25

- 23) Aşağıdaki ABC üçgeninin alanı kaç birim karedir?

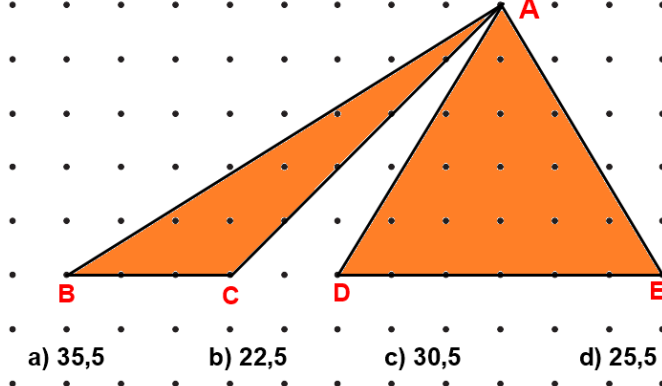


- a) 15 b) 10,5 c) 7,5 d) 10,5

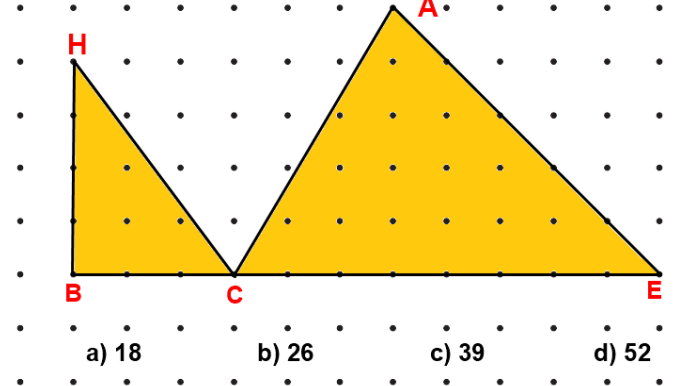
ADI:
SOYADI:
SINIFI : NO:

DERS: MATEMATİK 5,6,7,8
KONU: BİRİM KARELERLE ÜÇGENDE ALAN TESTİ
HAZIRLAYAN: ÖMER ASKERDEN (PİRİ MEHMET PAŞA ORTAOKULU EĞİTİM ÇALIŞMALARI)

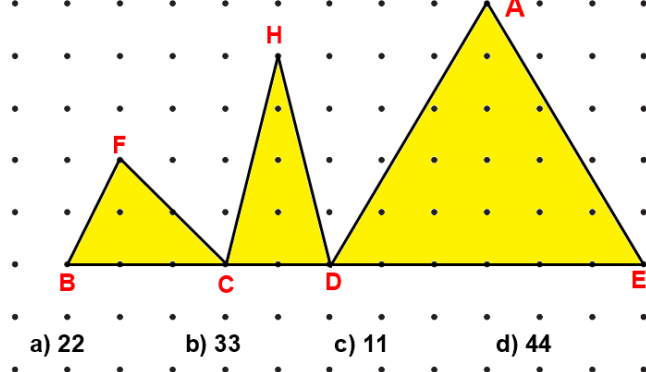
24) Aşağıdaki taralı üçgenlerin alanı kaç birim karedir?



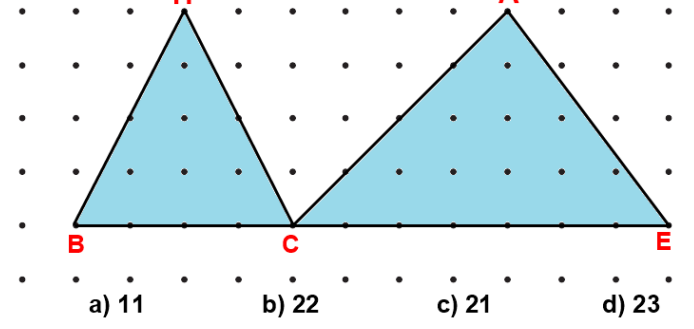
28) Aşağıdaki taralı üçgenlerin alanı kaç birim karedir?



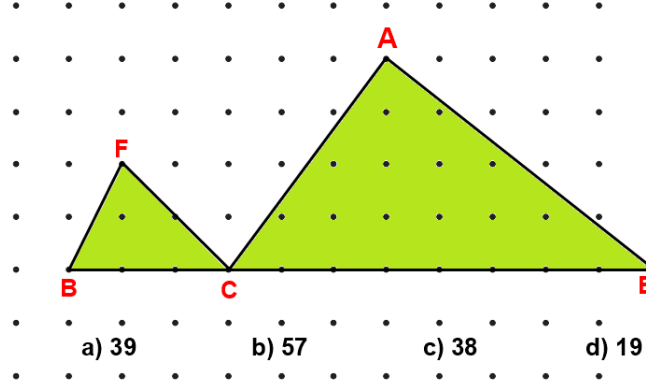
25) Aşağıdaki taralı üçgenlerin alanı kaç birim karedir?



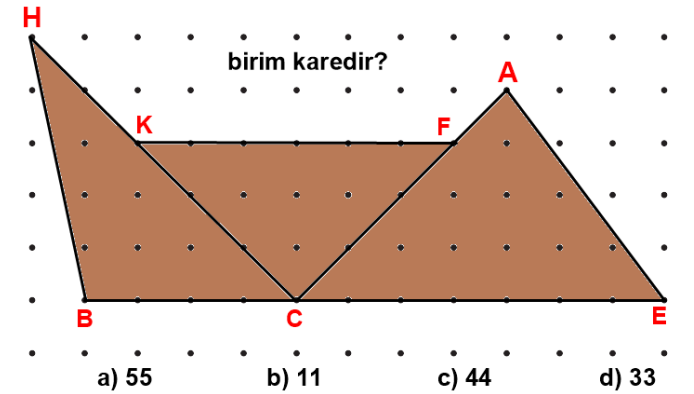
29) Aşağıdaki taralı üçgenlerin alanları toplamı kaç birim karedir?



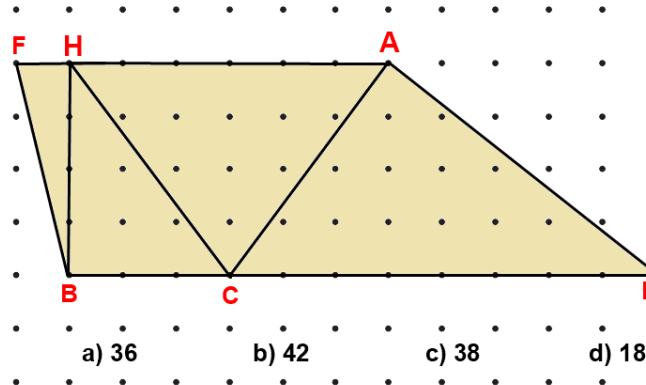
26) Aşağıdaki taralı üçgenlerin alanı kaç birim karedir?



30) Aşağıdaki taralı üçgenlerin alanları toplamı kaç birim karedir?



27) Aşağıdaki taralı üçgenlerin alanı kaç birim karedir?



31) Aşağıdaki taralı üçgenin alanı kaç birim karedir?

