

4.
SINIF



T.C.
MİLLÎ EĞİTİM BAKANLIĞI

A
KİTAPÇIK TÜRÜ

VEHBİ KOÇ VAKFI ÖZEL İLKOKULU VE ORTAOKULU SEVİYE TESPİT SINAVI
(3'ten 4'e Geçenler)
16 HAZİRAN 2013 Saat: 10.00

Soru Sayısı: 75

Sınav Süresi: 75 dakika

Adayın Adı ve Soyadı :
Aday Numarası (T.C. Kimlik No) :

DERS ADI	SORU SAYISI	TOPLAM SORU SAYISI	SINAV SÜRESİ (DAKİKA)
TÜRKÇE	25	75	75
MATEMATİK	25		
HAYAT BİLGİSİ	25		

ADAYLARIN DİKKATİNE!

1. Sınav başladıktan sonra ilk **30** dakika dolmadan dışarı çıkmayınız.
2. Sınav sırasında sözlük, hesap makinesi, saat fonksiyonu dışında özellikleri bulunan saat veya çağrı cihazı, cep telefonu, telsiz, radyo ve bilgisayar özelliği bulunan elektronik cihazları yanınızda bulundurmuyunuz. Bu araçları kullanmanız veya kopya çekmeye teşebbüs etmeniz hâlinde sınavınız geçersiz sayılacaktır.
3. Soruları ve sorulara verdiğiniz cevapları, yanınızda götürmek amacıyla kaydetmeyiniz; hiçbir şekilde dışarı çıkarmayınız.
4. Sınavın değerlendirilmesi aşamasında, bilgisayar ortamında yapılan kopya analizinde, herhangi bir testten ikili veya toplu kopya tespiti hâlinde ilgili testiniz geçersiz sayılacaktır.
5. Kopya çekmeniz, başka adayın sınav evrakını kullanmanız ve geçerli kimlik belgenizi ibraz edemediğiniz durumlarda sınavınız geçersiz sayılacaktır.

CEVAP KÂĞIDI VE SORU KİTAPÇIĞI İLE İLGİLİ AÇIKLAMALAR

1. Cevap kâğıdınızdaki bilgilerin doğruluğunu kontrol ediniz ve cevap kâğıdınızı imzalayınız.
2. Cevap kâğıdındaki bilgiler size ait değilse veya cevap kâğıdı kullanılmayacak durumdaysa salon görevlilerinin temin edeceği yedek cevap kâğıdına kimliğinizle ilgili bilgileri açıklamalar doğrultusunda yazınız ve kodlayınız.
3. Cevap kâğıdı üzerindeki kodlamaları kurşun kalemle yapınız.
4. Değiştirmek istediğiniz bir cevabı, yumuşak silgiyle cevap kâğıdını örselemeden temizce siliniz ve yeni cevabınızı kodlayınız.
5. Kitapçık türünü cevap kâğıdınızdaki ilgili alana kodlayınız. Bu kodlamayı yapmadığınız veya yanlış yaptığınız takdirde sınavınızın değerlendirilmesi doğru yapılamayacaktır.
6. Cevap kâğıdında **Türkçe, Matematik ve Hayat Bilgisi** testleri için üç ayrı sütun bulunmaktadır. Cevaplarınızı, cevap kâğıdındaki ilgili sütunlara yuvarlağın dışına taşırmadan kodlayınız.
7. **Soru kitapçığı üzerinde yapılan cevaplandırmalar dikkate alınmayacaktır.**
8. Soru kitapçığının sayfalarını kontrol ediniz, baskı hatası var ise değiştirilmesini sağlayınız.
9. Soruların çözümü için size ayrıca boş kâğıt verilmeyecektir. Soru kitapçığının içindeki boş alanları çözümlerinizi için kullanabilirsiniz.
10. Cevaplamaya istediğiniz testin sorusundan başlayabilirsiniz. Cevabını bilmediğiniz sorular üzerinde fazla zaman kaybetmeden diğer sorulara geçiniz. Zamanınız kalırsa bu sorulara daha sonra dönebilirsiniz.
11. Puanlama; her test için yanlış cevap sayısının **üçte biri, doğru cevap sayısından çıkarılarak** elde edilecek geçerli cevaplar üzerinden yapılacağı için cevap kâğıdı üzerinde rastgele cevaplama yapmayınız.
12. **Sınav bitiminde, soru kitapçığı ve cevap kâğıdını salon görevlilerine teslim ediniz.**

BAŞLAYINIZ DENİLMEDEN SORU KİTAPÇIĞINIZI AÇMAYINIZ.

1. Aşağıdaki sözcükler alfabetik sıraya göre dizildiğinde hangisi, en sonda yer alır?

- A) Sürücü B) Sürpriz
C) Sürükleyici D) Sürgü

2. “Gelmek” sözcüğü aşağıdakilerin hangisinde “izlemek, takip etmek” anlamında kullanılmıştır?

- A) Çocuklar arkamızdan geliyordu.
B) Dün akşam amcamlar bize geldi.
C) Bu ayakkabı sana küçük gelir.
D) Eski çağlardan birçok anıt, günümüze kadar gelmiştir.

3. “Sazı, bir usta kadar iyi çalıyordu.” cümlesindeki “saz” sözcüğünün sesteşi aşağıdakilerin hangisinde kullanılmıştır?

- A) Saz kaplı gölün kıyısı, bir zamanlar piknik yeri idi.
B) Akşam güneşini, saz eşliğinde söylenen yanık türkülere benzetirim.
C) Saz susunca davetliler de tek tek gitmeye başladı.
D) Duttan yapılmış bu saz ile, nice güzel eseri seslendirdi.

4. Aşağıdakilerin hangisinde zıt anlamlı sözcükler bir arada kullanılmıştır?

- A) Mümkün olduğu kadar hızlı yürüyüp sahile indi.
B) Yoldaki çeşmede durup elini yüzünü yıkadı.
C) Üstü dallarla örtülmüş kulübenin altında su deposu vardı.
D) Güneşli olmasına rağmen soğuk bir gündü.

5. “Düzenli olarak spor yapıyor fakat...” cümlesinde altı çizili sözcük dikkate alındığında, üç nokta (...) ile belirtilen yere aşağıdakilerden hangisi getirilmelidir?

- A) çalışkan bir sporcuydu.
B) dengeli besleniyordu.
C) yaşlılarından uzun boyluydu.
D) bir türlü zayıflayamıyordu.

6. 1. bölümünde
2. basit
3. ilk
4. tanıtılıyor
5. kitabın
6. makineler

Numaralandırılmış sözcüklerle anlamlı ve kurallı bir cümle oluşturmak için sıralama nasıl olmalıdır?

- A) 3, 2, 4, 6, 1, 5 B) 4, 2, 5, 3, 6, 1
C) 5, 3, 1, 2, 6, 4 D) 2, 3, 4, 1, 6, 5

7. Aşağıdaki cümlelerin hangisinde sebep-sonuç ilişkisi vardır?

- A) Paltosunu üzerine geçirip karlarla kaplı bahçeye indi.
- B) Çok acıktığı için ilk işi mutfağa gitmek oldu.
- C) Öğleden sonra yapacakları tren yolculuğunu iple çekiyorlardı.
- D) Mendiliyle güneş gözlüğünün camlarını temizledi.

8. Genç kız, spor salonunun önünde ısrarla bekliyordu.

Bu cümlede aşağıdaki sorulardan hangisinin cevabı yoktur?

- A) Kim? B) Niçin?
- C) Nerede? D) Nasıl?

9. Aşağıdaki cümlelerin hangisinde “abartma” vardır?

- A) Ucu iyice sivri bir çivi alarak çakmaya başladı.
- B) Balonlarını vapurun arkasındaki korkuluğa bağladı.
- C) Onu çok sevdiği her hâlden belliydi.
- D) Avuç içi kadar dükkânda tüm şehri doyuracak yiyecek vardı.


10. Aşağıdaki cümlelerin hangisinde “karşılaştırma” vardır?

- A) İçeriden müzik sesleri, yemek kokuları geliyordu.
- B) Alkışlar arasında güzel bir konuşma yaptı.
- C) Yarışmada diğerlerinden daha cesur davrandı.
- D) Sergiyi gezenlere, resimleriyle ilgili uzun uzun bilgi verdi.

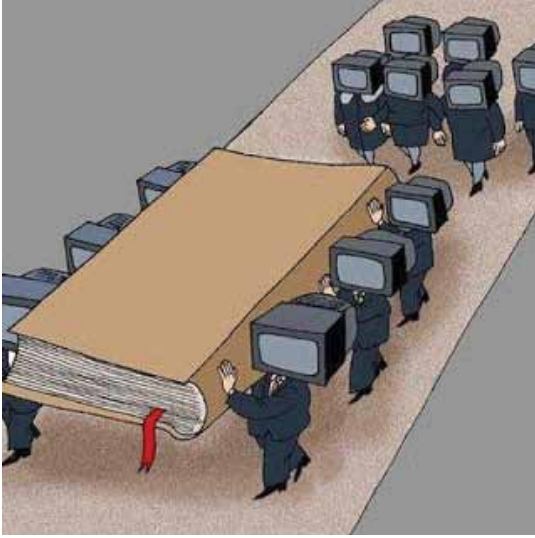
11. Aşağıdakilerden hangisi gerçek yaşamdan alınmıştır?

- A) Kırlarda dolaşan köpek, bir ırmağın kenarına gelmiş.
- B) Karnı acıkan kurt, tanınmamak için çoban kıyafeti giymiş.
- C) Kır langıç, tilkinin hile dolu sözlerine kanmamış.
- D) Hayvanlar, kaplumbağanın öğütlerine aldırmamış.

12. Aşağıdaki yüz ifadelerinin hangisinde “kızgınlık” belirtisi vardır?



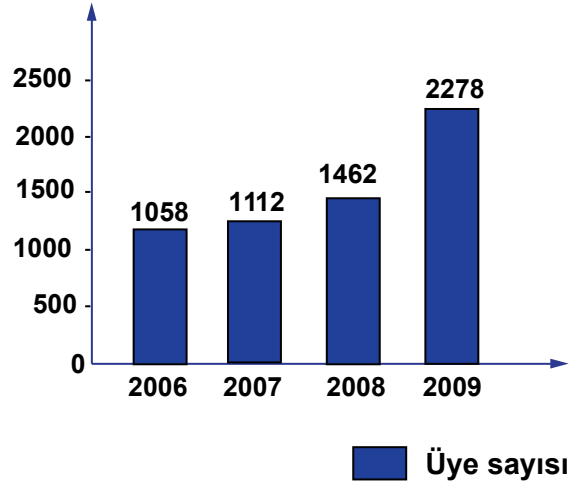
13.



Bu karikatürde verilmek istenen mesaj, aşağıdakilerden hangisidir?

- A) Televizyon başında fazla zaman geçirmek, aile bağlarımızı zayıflatır.
- B) Kitap okuyarak kelime dağarcığımızı zenginleştirebiliriz.
- C) Evimizdeki televizyon sayısı, kitap sayısından fazla olmamalıdır.
- D) Televizyon izleyelim derken kitabı hayatımızdan çıkarmayalım.

14.



Yukarıdaki grafikte 2006 - 2009 yılları arasında bir kütüphaneye üye olanların sayısı verilmiştir. Grafikteki bilgilere göre aşağıdaki yargıların hangisine ulaşılabilir?

- A) Üye olanların sayısı 2006'dan 2009'a doğru sürekli artış göstermiştir.
- B) 2009 yılındaki üye sayısı, bir önceki yıllara neredeyse aynıdır.
- C) Üye sayısındaki en büyük artış 2007 yılında olmuştur.
- D) Üye sayısında her yıl düzenli bir artış olmuştur.

15. Güneyden esen yel bile
İnceltemiyor buzları.
Nerede kaldı göçücü kuşlar,
Diyoruz denize bakarak.

Güven Turan

Bu şiirin ana duygusu aşağıdakilerden hangisidir?

- A) Mutluluk
- B) Pişmanlık
- C) Yalnızlık
- D) Özlem

16. Spor yapma alışkanlığı küçük yaşlarda edinilip bir ömür boyu sürdürülebilir. Düzenli spor yapmanın faydası saymakla bitmez. Sağlığınızın değerini anlamanıza, yaşam kalitenizi arttırmanıza yardımcı olur. Fiziksel performansınızı geliştirir, kalp rahatsızlığı riskini azaltır. Sıkıntılarınızın azalmasına, neşelenmenize, kısaca hayattan zevk almanıza yardımcı olur.

Bu metnin konusu aşağıdakilerden hangisidir?

- A) Alışkanlık çeşitleri ve etkileri
- B) Sağlığımızı koruma yolları
- C) Düzenli spor yapmanın faydaları
- D) Yaşamın güzellikleri

17. Süzülerek limandan
Açıldın enginlere.

Bizden selamlar götür,
Varacağın her yere.

Rakım Çalapala

Bu dördlükte kendisine seslenilen varlık aşağıdakilerden hangisidir?

- A) Gökyüzü
- B) Deniz
- C) Gemi
- D) Yıldız

18. Sayıları gün geçtikçe azalan Van kedilerinin özellikleri saymakla bitmez. Kendi isteğiyle suda yüzmeyi ve suyla oynamayı seven tek kedi türüdür. Vücutları uzun ve kaslı bir yapıdadır. Zeki ve enerjiktirler. Küçük nesnelerle oynamayı da çok severler.

Bu paragrafta Van kedileriyle ilgili olarak aşağıdakilerin hangisine yer verilmemiştir?

- A) Fiziksel özelliklerine
- B) Nasıl beslendiklerine
- C) Sayılarının azalıyor olmasına
- D) Yüzmeyi sevdiklerine

19. İnsan bir işi yaparken karşısına bilmediği birçok şey çıkar. Bunları doğru-yanlış demeden yapmamalı, bilenlere sorup öğrenmelidir. Bildiğini sandığı işlerde de yanılabilir. Onlar için de bilenlerin düşüncesini alırsa yanılmayı önlemiş ve boş yere yorulmamış olur.

Bu metni özetleyen atasözü aşağıdakilerden hangisidir?

- A) Söyleyene bakma, söyletene bak.
- B) Son pişmanlık fayda vermez.
- C) Sorma kişinin aslını, sohbetinden bellidir.
- D) Soran yanılmamış.

20. İsmet, o ağustos gecesinde, zilin sesiyle cam kapıyı açarak terasa çıktı. Üzerinde hafif bir ceket vardı. O gün misafir beklemiyordu. Kapıda arkadaşlarını görünce çok sevindi.

Bu hikâyedeki altı çizili ifade, hikâyenin hangi ögesidir?

- A) Yer B) Zaman
C) Olay D) Ana karakter

21. 1. İlk önce toprağı üç kulaç, sonra beş kulaç kazdı ama suyu bulamadı.
2. Kazmaya devam ederek daha derinlere indi ve suyu buldu.
3. Tarlanın ortasında bir adam gördüm, su arıyordu.
4. Sonra yerin derinliklerinde kara kaya tabakalarına rastladı.
5. Buna rağmen ümidini kesmedi.

Numaralandırılmış cümleler, olayların oluş sırasına göre nasıl sıralanmalıdır?

- A) 1, 2, 3, 5, 4 B) 2, 5, 3, 1, 4
C) 3, 1, 4, 5, 2 D) 4, 3, 2, 5, 1

22. “İyi bakılmış” anlamına gelen bir kelime yapmak için “bakım” kelimesine aşağıdakilerden hangisi eklenmelidir?

- A) -cı B) -lı C) -lık D) -sız

23. Doldurursunuz bütün yelkenleri
Bir rüzgâr, bir sen.

Fazıl Hüsnü Dağlarca

Aşağıdaki kelimelerden hangisi bu dize-lerde, bir adın yerine kullanılmıştır?

- A) Bütün B) Yelkenleri
C) Bir D) Sen

24. Aşağıdaki altı çizili sözcüklerden hangisinin ilk harfi büyük yazılmalıdır?

- A) Yavru kediye minnoş ismini vermişler.
B) Çayırılığın ortasında otlayan koyunlar ilgimi çekmişti.
C) Ünlü yazar, şehrimize ilk kez gelmişti.
D) Dedem, her akşam bize farklı masallar anlatırdı.

25. Aşağıdaki cümlelerin hangisinde “soru işareti (?)” kullanılmalıdır?

- A) Olayı ona anlatmak için mi gitti
B) Ona ne kadar anlayışlı davrandığını görmüştük
C) Çalışmaya devam ettiler birbirlerine yardım ederek
D) Araba bir süre sonra tepeyi aştı

TÜRKÇE TESTİ BİTTİ.
MATEMATİK TESTİNE GEÇİNİZ.

1.



Yukarıdaki otel kaç odalıdır?

- A) "Üç yüz"
- B) "Üç yüz üç"
- C) "Üç yüz on üç"
- D) "Üç yüz otuz üç"

2. $5\square9 < 578$ sıralaması, \square yerine aşağıdaki rakamlardan hangisi yazılırsa doğru olur?

- A) 6
- B) 7
- C) 8
- D) 9

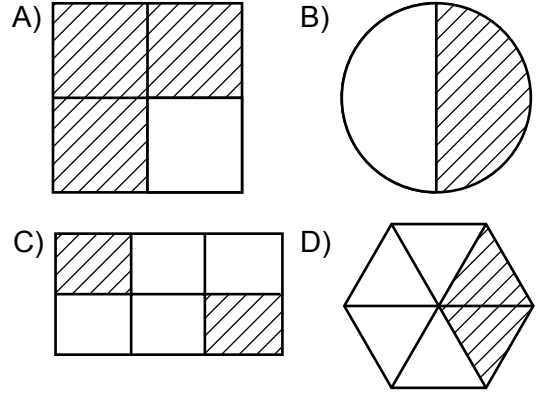
3. 19 sayısının romen rakamları ile yazılışı aşağıdakilerden hangisidir?

- A) IV
- B) XII
- C) XVI
- D) XIX

4. Yüzler basamağı 5, onlar basamağı 4 olan üç basamaklı en küçük çift sayı kaçtır?

- A) 450
- B) 485
- C) 540
- D) 542

5. Aşağıdakilerin hangisinde, sadece kesrin birimi taranmıştır?



6. $\frac{8}{25}$, $\frac{8}{13}$ ve $\frac{8}{19}$ kesirlerinin büyükten küçüğe doğru sıralanışı aşağıdakilerden hangisidir?

- A) $\frac{8}{13} > \frac{8}{19} > \frac{8}{25}$
- B) $\frac{8}{25} > \frac{8}{13} > \frac{8}{19}$
- C) $\frac{8}{25} > \frac{8}{19} > \frac{8}{13}$
- D) $\frac{8}{13} > \frac{8}{25} > \frac{8}{19}$

7.



Nalan, misafirlerine yukarıdaki tatlıları ikram etmiştir. Toplam kaç tatlı ikram ettiği aşağıdaki işlemlerden hangisi ile bulunur?

- A) $6 : 3$ B) $6 + 3$ C) $6 - 3$ D) 6×3

8. 47×10 işleminin sonucu aşağıdakilerden hangisidir?

- A) 407 B) 470 C) 704 D) 740

9. Bir meyve bahçesinde 750 tane meyve fidanı vardır. Bunların 674 tanesi kiraz, geri kalanların yarısı erik, yarısı elma fidanıdır. Bu bahçede kaç tane elma fidanı vardır?

- A) 36 B) 38 C) 42 D) 47

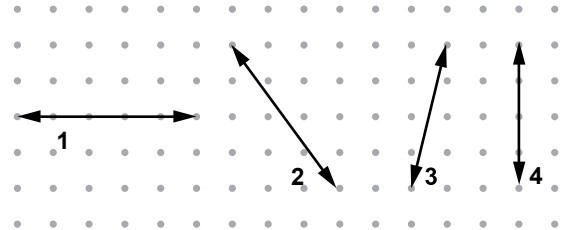
10. Bir simitçi birinci gün 335 tane, ikinci gün 575 tane simit satmıştır. Bu simitçi 2 günde kaç tane simit satmıştır?

- A) 455 B) 770 C) 910 D) 975

11. Bir trendeki 1 lokomotif ile 2 eş vagonun uzunluğu 49 metredir. Lokomotifin uzunluğu 11 metre olduğuna göre, vagonlardan birinin uzunluğu kaç metredir?

- A) 13 B) 19 C) 28 D) 34

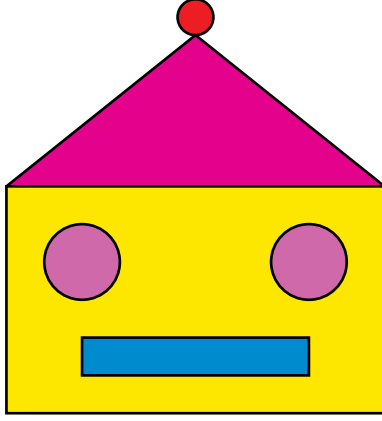
12.



Yukarıda verilen doğrulardan hangi ikisi birbirine dik olur?

- A) 1 ve 2 B) 2 ve 4
C) 2 ve 3 D) 1 ve 4

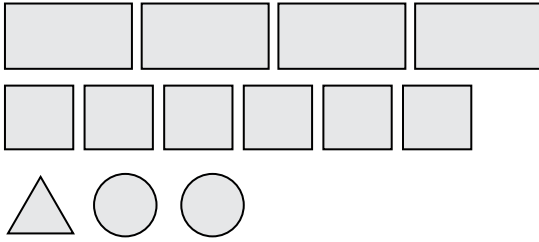
13.



Yukarıda verilen şekilde kaç tane köşesiz geometrik şekil vardır?

- A) 3 B) 4 C) 5 D) 6

14.




Yukarıda verilen geometrik şekiller ile aşağıdakilerden hangisi olusturulamaz?

- A) Kare prizma B) Küp
C) Üçgen prizma D) Silindir

15. Aşağıda verilen saat modellerinin hangisinde, akrep ve yelkovan arasındaki açı doğru açıdır?


A)




B)



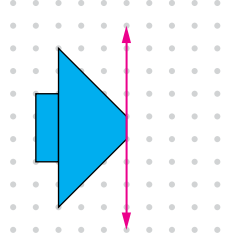
C)



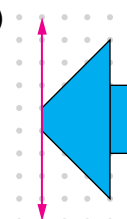
D)



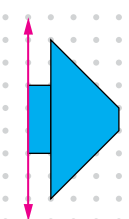
16. Yandaki şeklin verilen doğruya göre simetriği aşağıdakilerden hangisidir?



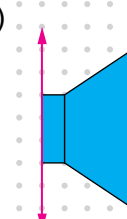
A)



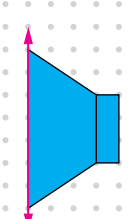
B)



C)



D)



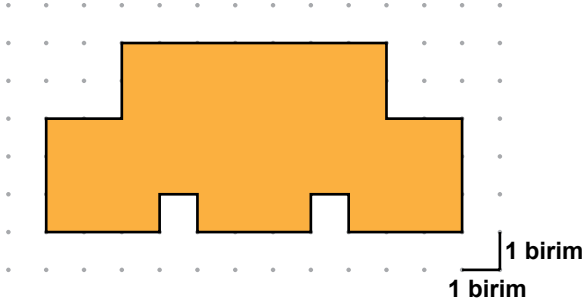
17. Ece 98 kitabı, odasındaki kitaplığın 7 rafına eşit sayılarda yerleştirecektir. Her rafa kaç kitap yerleştirir?

A) 7 B) 12 C) 14 D) 16

18. 1 litrelik bir süt paketinin boyunun bir tahmini, aşağıdakilerden hangisi olabilir?

A) 25 cm B) 95 cm
C) 20 m D) 12 m

19.

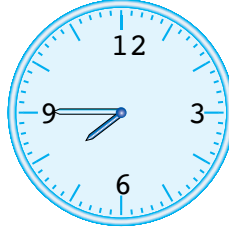


Verilen şeklin çevresinin uzunluğu kaç birimdir?

A) 24 B) 28 C) 32 D) 36

20. Eda ders çalışmaya başladığında saat 18.45'i gösteriyordu. 2 saat 30 dakika sonra saat kaç gösterir?

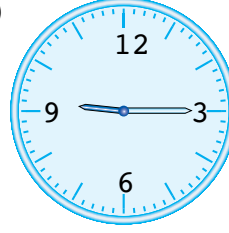
A)



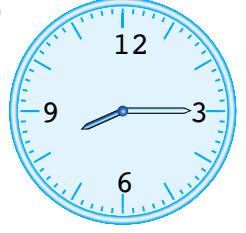
B)



C)



D)



21.



Şekildeki 7 kasada toplam 80 kg portakal ve elma vardır. Portakal kasalarının her birinde 8 kg portakal olduğuna göre, 3 kasada toplam kaç kilogram elma vardır?

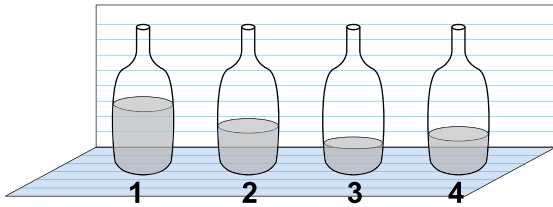
A) 42 B) 48 C) 54 D) 63

22. Yalçın, yandaki takım elbiseyi aşağıdakilerden hangisindeki paralarla alabilir?



- A)
- B)
- C)
- D)


23. Aşağıdaki şişelerin her biri 2 litre su almaktadır. Bu şişelerin hangisinde 1 litreden fazla su vardır?



- A) 1 B) 2 C) 3 D) 4

24.

Grafik: Öğrencilerin Diktiği Fidan Sayıları



Yukarıdaki grafik dört öğrencinin okul bahçesine diktiği fidan sayılarını göstermektedir. Grafığe göre, aşağıdakilerden hangisi yanlıştır?

- A) Hale 6 tane fidan dikmiştir.
 B) En çok fidanı Berk dikmiştir.
 C) En az fidanı Yalçın dikmiştir.
 D) Nuray ve Yalçın eşit sayıda fidan dikmiştir.

25. Bir çiçekçi 18 tane gül, 12 tane karanfil ve 6 tane lale satmıştır. Satılan bu çiçeklerin sayılarının çetele tablosu aşağıdakilerden hangisidir?

A) Tablo: Satılan Çiçekler

Çiçekler	Sayıları
Gül	### ### ### III
Karanfil	### ### II
Lale	### I

B) Tablo: Satılan Çiçekler

Çiçekler	Sayıları
Gül	### ### III
Karanfil	### ### II
Lale	I

C) Tablo: Satılan Çiçekler

Çiçekler	Sayıları
Gül	### ### ###
Karanfil	### ### II
Lale	### I

D) Tablo: Satılan Çiçekler

Çiçekler	Sayıları
Gül	### ### ### III
Karanfil	### ### I
Lale	###

MATEMATİK TESTİ BİTTİ.
HAYAT BİLGİSİ TESTİNE GEÇİNİZ.

1. Sakarya Savaşı'nda atından düşerek yaralanan Mustafa Kemal'e, doktorlarının "Paşa, iyileşinceye kadar dinlenmelisin. Yoksa hayatın tehlikeye girer." demelerine rağmen Mustafa Kemal, onlara şu cevabı verir: "Hayır benim hayatım değil, memleketin kurtulması önemlidir."

Verilen bu parçadan, Mustafa Kemal'in aşağıdaki kişilik özelliklerinden hangisi çıkarılabilir?

- A) Vatanseverliği B) İleri görüşlülüğü
C) Çalışkanlığı D) Planlılığı

2. Aysu'ya arkadaşı Elif, kötü bir şaka yapar. Bu şaka Aysu'yu çok öfkelenendir.

Böyle bir durumda Aysu, öfkesini yenibilmek için, aşağıdaki davranışlardan hangisini göstermelidir?

- A) Arkadaşını itmelidir.
B) Yumruklarını sıkmalıdır.
C) Derin derin nefes almalıdır.
D) Arkadaşına kötü sözler söylemelidir.

3. Mustafa Kemal'in Kurtuluş Savaşı'nı başlattığı günün anısına kutladığımız bayram, aşağıdakilerden hangisidir?

- A) Zafer Bayramı
B) Cumhuriyet Bayramı
C) Ulusal Egemenlik ve Çocuk Bayramı
D) Atatürk'ü Anma, Gençlik ve Spor Bayramı

4. Biyomedikal mühendisliğindeki üstün başarıları, bilim insanı ve öğrenci yetiştirmedeki katkıları, bilime ve akademiye hizmetleri sebebiyle Amerika Birleşik Devletleri Üniversiteler Birliği tarafından 2002 yılının bilim kadını seçildi.

Tanıtılan Türk bilim kadını, aşağıdakilerden hangisidir?

- A) Yasemin Dalkılıç
B) Semahat Demir
C) Sabiha Bengütaş
D) Türkân Saylan

5. Mustafa Kemal'in İstanbul'da öğrenim gördüğü okul, aşağıdakilerden hangisidir?

- A) Askerî Lise
B) Askerî Ortaokul
C) Harp Akademisi
D) Şemsi Efendi İlkokulu

6. İnsan sağlığına zararlı olan maddelerin kullanımını önlemek için bilgilendirmelerin yapıldığı hafta, aşağıdakilerden hangisidir?

- A) Kızılay Haftası
B) Yeşilay Haftası
C) Kütüphane Haftası
D) İnsan Hakları Haftası

7. Dilek Hanım, yeni aldığı saç kurutma makinesinin arızalı olduğunu eve gelince fark eder.

Bu durumda Dilek Hanım'ın yapması gereken ilk davranış, aşağıdakilerden hangisi olmalıdır?

- A) Üretici firmayı mahkemeye vermek
- B) Polise gidip mağazayı şikâyet etmek
- C) Tüketici Sorunları Hakem Heyetine başvurmak
- D) Fişiyle beraber mağazaya gidip, ürünün değiştirilmesini istemek

8. Sabah 06.30'da uyanan Ceren'in 07.00'de okul servisi geliyor.

Buna göre, Ceren'in yarım saatlik bu sürede aşağıdakilerden hangisini yapması doğru değildir?

- A) Kahvaltısını yapması
- B) Okul kıyafetlerini giymesi
- C) Türkçe proje ödevini tamamlaması
- D) Çantasını ve ders kitaplarını kontrol etmesi


9. Kayserili Sinan Bey:

- Ürettiğim sucukları yurt dışına satar-ken, sucukların toplam ağırlığının ne kadar olduğu konusunda hep kargaşa yaşıyorduk. Çünkü yabancılarla biz farklı ağırlık birimleri kullanıyorduk.

Sinan Bey'in yaşadığı bu sorun, Cumhuriyet Döneminde yapılan aşağıdaki yeniliklerden hangisi ile giderilmiştir?

- A) Ölçü ve tartıların değiştirilmesi ile
- B) Millet Mekteplerinin açılması ile
- C) Harf inkılabının gerçekleştirilmesi ile
- D) Türkiye Büyük Millet Meclisinin kurulması ile

- 10.



Öğretmenin bu sorusuna, yukarıdaki öğrencilerden hangisi yanlış cevap vermiştir?

- A) Mert
- B) Berk
- C) Betül
- D) Buse

11. Aşağıdaki haritada ülkemizin önemli turizm merkezleri numaralandırılarak gösterilmiştir:



Buna göre, Pamukkale Travertenleri ile Palandöken Kayak Pisti hangi seçenek-
te bir arada verilmiştir?

- A) 1 - 4 B) 1 - 3
C) 2 - 4 D) 2 - 3

12.



Yukarıdaki resimde hangi doğal afete
yönelik korunma gösterilmiştir?

- A) Sel B) Çığ
C) Yangın D) Deprem

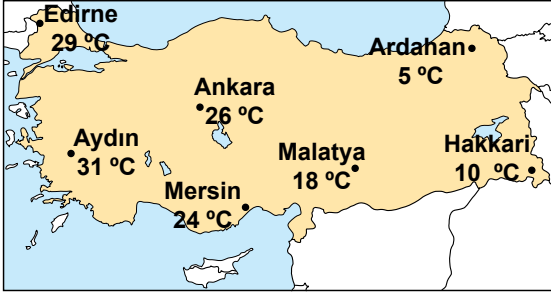
13. Dünya'nın hareketleri ile ilgili aşağıda
verilen bilgilerden hangisi doğrudur?

- A) Kış, bir yılda en uzun süren mevsimdir.
B) Dünya'nın güneş ışığı gören yüzünde
gündüz olur.
C) Dünya, kendi etrafındaki dönüşü 12
saatte tamamlar.
D) Dünya'nın, Güneş etrafındaki dönüşü
ile gece-gündüz oluşur.

14. Aşağıdakilerin hangisinde bir yerin hava
durumundan söz edilmemektedir?

- A) Aşırı yağışlar nedeniyle evleri su bastı.
B) Gece saatlerinde başlayan sis, trafiği
olumsuz etkiledi.
C) Aralıksız yağın kar nedeniyle okullar bir
gün kapandı.
D) Çok şiddetli geçen kış, yakıt tüketimini
artırdı.

15. Haritada bazı şehirlerin 23 Mayıs gününe ait sıcaklık değerleri verilmiştir:



Buna göre aşağıdakilerden hangisi doğrudur?

En soğuk şehir En sıcak şehir

- | | |
|------------|--------|
| A) Malatya | Ankara |
| B) Ardahan | Edirne |
| C) Ardahan | Aydın |
| D) Hakkari | Mersin |

16. BİLİNÇLİ ailesi haberleri izliyordu. Haberlerde doğal kaynakların tükenmek üzere olduğu, önlem alınmazsa tüm insanların zor durumda kalacağı söyleniyordu. Anne ve babaları çocuklara, "Bu konuda biz neler yapabiliriz?" diye sordular.

Anne ve babalarının bu sorularına çocuklar, aşağıdakilerden hangisi gibi cevap verirse doğru olur?

- A) Çok çalışmalıyız.
B) Tasarruf yapmalıyız.
C) Haklarımızı savunmalıyız.
D) Büyüklere yardım etmeliyiz.


17. Evlerimizde kullandığımız bazı araçlar uygun yerlerine bırakılmazsa ev kazalarına neden olabilir.



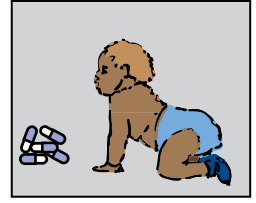
1



2



3



4

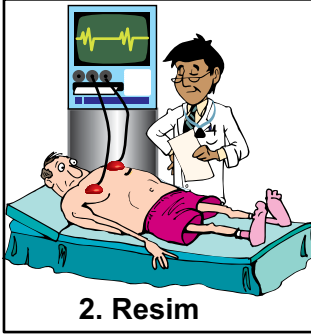
Yukarıdaki resimlerde verilen durumlardan hangileri ev kazalarına neden olabilir?

- A) 1, 2 ve 3
B) 2, 3 ve 4
C) 1, 3 ve 4
D) 1, 2 ve 4

18. Zeynep, günlük hayatımızın ayrılmaz bir parçası olan bilgisayarla ilgili aşağıdaki resimleri kullanarak bir sunum hazırladı:



1. Resim



2. Resim



3. Resim

Buna göre, Zeynep'in sunumundaki resimler, bilgisayarların hangi alanlarda kullanıldığını göstermektedir?

1. Resim	2. Resim	3. Resim
A) Eğitimde	Tıp alanında	İletişimde
B) Tıp alanında	Eğitimde	İletişimde
C) İletişimde	Eğitimde	Tıp alanında
D) Tıp alanında	İletişimde	Eğitimde

19. İrem yeni evlerine taşınacaktı. Bunun için önce cam bardakları, daha sonra porselen tabakları, en son olarak ta çelik tencere ve çaydanlıkları sırasıyla kutulara koyarak paketledi.

İrem'in paketlediği eşyaların yapıldığı maddelerin isimleri, sırasıyla aşağıdaki-lerin hangisinde doğru verilmiştir?

- A) Porselen, Çelik, Tahta
B) Tahta, Çelik, Porselen
C) Cam, Porselen, Tahta
D) Cam, Porselen, Çelik

20. Dünya'mızın kendi etrafında dönmesi ve Güneş etrafında dönmesi ile aşağıdaki olayların hangisi gerçekleşir?





Kendi etrafında dönmesi	Güneş etrafında dönmesi
A) Mevsimler	Gece ve Gündüz
B) Gece ve Gündüz	Mevsimler
C) Hava olayları	Gece ve Gündüz
D) Gece ve Gündüz	Hava olayları

21. Ahmet, okul bahçesinde arkadaşlarıyla oynarken düştü. Dizini yere çarptı. Dizinde ağrı ve kanama oldu.

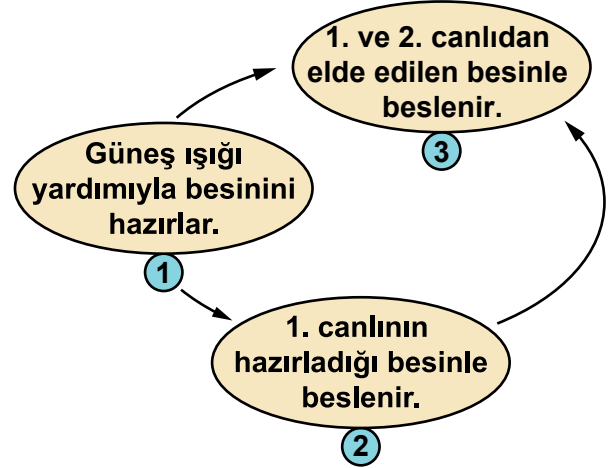
İlk yardımı bilen bir arkadaşı, aşağıdakilerden hangisini ilk önce uygulamıştır?

- A) Ahmet'i taşıyarak en yakın hastaneye ulaştırmıştır.
- B) Ahmet'i ilk yardım çantasının olduğu odaya yavaşça yürütmüştür.
- C) Sakin olup, orada toplanan kalabalığı uzaklaştırmıştır.
- D) Sınıf arkadaşlarını tedavi yapması için çağırmıştır.

22. Canlıların yavruları yetişkinlerine benzer. Aşağıdakilerden hangisi bu durumu göstermektedir?



23. Şekilde birbiriyle etkileşimde olan üç canlının özellikleri verilmiştir:



1, 2 ve 3 ile gösterilen bu canlılar aşağıdakilerin hangisinde verilmiştir?


1	2	3
A) İnsan	Aslan	Bitki
B) Bitki	Koyun	İnsan
C) Bitki	İnek	Koyun
D) Aslan	İnek	Bitki

24. Aşağıda çevrenin bozulmasına ve kirlenmesine yol açan bazı durumlar verilmiştir.

Bunlardan hangisinin yol açtığı bozulmaların eski haline dönmesi, daha kısa sürede gerçekleştirilebilir?

- A) Ev ve fabrika atıkları denize döküldüğünde
- B) Parkta oynayan çocuklar etrafa su şişeleri attığında
- C) Bir ormanda ev yapmak için çok sayıda ağaç kesildiğinde
- D) Piknik yapılan alanlarda söndürülmeyen ateşler, orman yangınına yol açtığında

25.



Şekildeki canlılar, ortak özelliklerinden birine göre gruplandırılmıştır.

Bu ortak özellik ile ilgili olarak aşağıdaki öğrencilerden hangisinin ifadesi doğrudur?

- A) Ayça: Vücutları kıllarla kaplıdır.
- B) Utku: Yedikleri besinler aynıdır.
- C) Neşe: Hepsinin yuvaları birbirine benzer.
- D) Murat: Hepsi de insanlar tarafından korunup, evde bakımları yapılır.

TEST BİTTİ.

CEVAPLARINIZI KONTROL EDİNİZ.

SINAV SÜRESİNCE UYULACAK KURALLAR

1. Adaylar, sınav kurallarına ve salon görevlilerinin tüm uyarılarına uymak zorundadırlar. Kurallara ve uyarılara uymayan adayların sınavları geçersiz sayılacaktır.
2. Sınav başladıktan sonra adayların salon görevlileri ve birbirleri ile konuşmaları, kalem, silgi vb. şeyleri istemeleri yasaktır.
3. Adaylar sınav süresince, sınav giriş belgesi ile birlikte kimlik belgelerinden birini (nüfus cüzdanı veya pasaport) masalarının üzerinde bulundurmamak zorundadırlar.
4. Sınav evraklarını teslim etmeyen, soru kitapçıklarının sayfalarından bir kısmını eksik teslim edenlerin sınavları geçersiz sayılacaktır.

SALON GÖREVLİLERİNCE SINAV BAŞLAMADAN ÖNCE ADAYLARA YAPILACAK SON UYARI

- Soracağınız bir şey var mı? Varsa, şimdi sorunuz.
- Sınav başladıktan sonra sorularınıza cevap verilmeyecektir.
- Başlama zilini bekleyiniz.
- Hepinize başarılar dileriz.

(Salon başkanı başlama ve bitiş saatini tahtaya yazacaktır.)

Bu kitapçığın her hakkı saklıdır. Hangi amaçla olursa olsun, kitapçığın tamamının veya bir kısmının Millî Eğitim Bakanlığı Yenilik ve Eğitim Teknolojileri Genel Müdürlüğünün yazılı izni olmadan kopya edilmesi, fotoğraflarının çekilmesi, bilgisayar ortamına alınması, herhangi bir yolla çoğaltılması, yayımlanması veya başka bir amaçla kullanılması yasaktır. Bu yasağa uymayanlar, doğabilecek cezai sorumluluğu ve kitapçığın hazırlanmasındaki mali külfeti peşinen kabullenmiş sayılır.

**16 HAZİRAN 2013 TARİHİNDE YAPILAN VEHBİ KOÇ VAKFI
ÖZEL İLKOKULU VE ORTAOKULU SEÇME SINAVI
4. SINIFLAR “A” KİTAPÇIĞI CEVAP ANAHTARI**

TÜRKÇE	MATEMATİK	HAYAT BİLGİSİ
1. C	1. B	1. A
2. A	2. A	2. C
3. A	3. D	3. D
4. C	4. C	4. B
5. D	5. B	5. C
6. C	6. A	6. B
7. B	7. D	7. D
8. B	8. B	8. C
9. D	9. B	9. A
10. C	10. C	10. B
11. A	11. B	11. A
12. B	12. D	12. D
13. D	13. A	13. B
14. A	14. C	14. D
15. D	15. D	15. C
16. C	16. A	16. B
17. C	17. C	17. C
18. B	18. A	18. A
19. D	19. D	19. D
20. B	20. C	20. B
21. C	21. B	21. C
22. B	22. D	22. D
23. D	23. A	23. B
24. A	24. C	24. B
25. A	25. A	25. A