

3.
SINIF



T.C.
MİLLÎ EĞİTİM BAKANLIĞI

TED ANKARA KOLEJİ VAKFI ÖZEL İLKOKULU VE ORTAOKULU SEÇME SINAVI
(2'den 3'e Geçenler)
16 HAZİRAN 2013 Saat: 14.00

Adayın Adı ve Soyadı :
Aday Numarası (T.C. Kimlik No) :

DERS ADI	SORU SAYISI	TOPLAM SORU SAYISI	SINAV SÜRESİ (DAKİKA)
TÜRKÇE	20	60	60
MATEMATİK	20		
HAYAT BİLGİSİ	20		

ADAYLARIN DİKKATİNE!

1. Sınav başladıktan sonra ilk **30** dakika dolmadan dışarı çıkmayınız.
2. Sınav sırasında sözlük, hesap makinesi, saat fonksiyonu dışında özellikleri bulunan saat veya çağrı cihazı, cep telefonu, telsiz, radyo ve bilgisayar özelliği bulunan elektronik cihazları yanınızda bulundurmuyunuz. Bu araçları kullanmanız veya kopya çekmeye teşebbüs etmeniz hâlinde sınavınız geçersiz sayılacaktır.
3. Soruları ve sorulara verdiğiniz cevapları, yanınızda götürmek amacıyla kaydetmeyiniz; hiçbir şekilde dışarı çıkarmayınız.
4. Sınavın değerlendirilmesi aşamasında, bilgisayar ortamında yapılan kopya analizinde, herhangi bir testten ikili veya toplu kopya tespiti hâlinde ilgili testiniz geçersiz sayılacaktır.
5. Kopya çekmeniz, başka adayın sınav evrakını kullanmanız ve geçerli kimlik belgenizi ibraz edemediğiniz durumlarda sınavınız geçersiz sayılacaktır.

CEVAP KÂĞIDI VE SORU KİTAPÇIĞI İLE İLGİLİ AÇIKLAMALAR

1. Cevap kâğıdınızdaki bilgilerin doğruluğunu kontrol ediniz ve cevap kâğıdınızı imzalayınız.
2. Cevap kâğıdındaki bilgiler size ait değilse veya cevap kâğıdı kullanılmayacak durumdaysa salon görevlilerinin temin edeceği yedek cevap kâğıdına kimliğinizle ilgili bilgileri açıklamalar doğrultusunda yazınız ve kodlayınız.
3. Cevap kâğıdı üzerindeki kodlamaları kurşun kalemle yapınız.
4. Değiştirmek istediğiniz bir cevabı, yumuşak silgiyle cevap kâğıdını örselemeden temizce siliniz ve yeni cevabınızı kodlayınız.
5. Cevap kâğıdında **Türkçe, Matematik ve Hayat Bilgisi** testleri için üç ayrı sütun bulunmaktadır. Cevaplarınızı, cevap kâğıdındaki ilgili sütunlara yuvarlağın dışına taşırmadan kodlayınız.
6. **Soru kitapçığı üzerinde yapılan cevaplandırmalar dikkate alınmayacaktır.**
7. Soru kitapçığının sayfalarını kontrol ediniz, baskı hatası var ise değiştirilmesini sağlayınız.
8. Soruların çözümü için size ayrıca boş kâğıt verilmeyecektir. Soru kitapçığının içindeki boş alanları çözümlerinizi için kullanabilirsiniz.
9. Cevaplamaya istediğiniz testin sorusundan başlayabilirsiniz. Cevabını bilmediğiniz sorular üzerinde fazla zaman kaybetmeden diğer sorulara geçiniz. Zamanınız kalırsa bu sorulara daha sonra dönebilirsiniz.
10. Puanlama; her test için yanlış cevap sayısının **üçte biri, doğru cevap sayısından çıkarılarak** elde edilecek geçerli cevaplar üzerinden yapılacağı için cevap kâğıdı üzerinde rastgele cevaplama yapmayınız.
11. Sınav bitiminde, **soru kitapçığı ve cevap kâğıdını** salon görevlilerine teslim ediniz.

BAŞLAYINIZ DENİLMEYEN SORU KİTAPÇIĞINIZI AÇMAYINIZ.

1. Aşağıdaki sözcükler alfabetik sıraya göre dizildiğinde hangisi üçüncü sırada yer alır?

A) Hatıra B) Harman
C) Havuz D) Hafta

2. Kemal'in çalışma azmini arttıran, babasının sağlığındaki iyiye doğru gidişti. Doktorunun dediği gibi, babasında "mucizevi bir değişiklik" olmuştu. Artık hastalığından kurtulmuş sayılırdı. Doktorun bunu söylediği gün, evde gerçekten bir bayram havası esmişti.

Bu parçaya göre "mucizevi" sözcüğünün anlamı aşağıdakilerden hangisidir?

A) Olması beklenen, şaşkınlık uyandırmayan
B) Herhangi bir özelliği olmayan sıradan
C) Yeterli, yetecek miktarda olan
D) Olağanüstü niteliklere sahip

3. "Kitapla dolu çantasını zor taşıyordu." cümlesindeki "dolu" sözcüğünün ses-teşi aşağıdakilerin hangisinde kullanılmıştır?


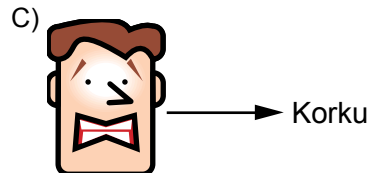
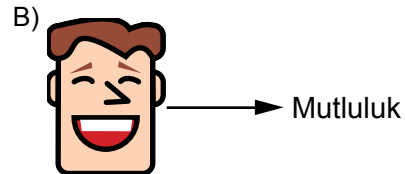
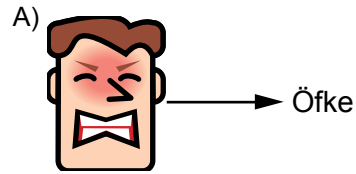
A) Elinde su ile dolu bir kova vardı.
B) Salon ağzına kadar seyirciyle doluydu.
C) Fındık büyüklüğünde dolu yağıyordu.
D) Pazartesiye kadar bütün uçaklar doluydu.

4. (1)Kıyıda küçük bir vapur, vapurun yanında büyük yiyecek sepetleriyle bekleyen gençler vardı. (2)Vapura binerek kasabanın beş kilometre uzağındaki sahile çıktılar. (3)Kayaların arasında koşup oynadılar. (4)Yorulunca karınlarını doyurdular ve ağaçların gölgesinde dinlendiler.

Numaralandırılmış cümlelerin hangisinde zıt anlamlı kelimeler bir arada kullanılmıştır?

A) 1 B) 2 C) 3 D) 4

5. Aşağıdaki yüz ifadelerinden hangisi, eşleştirildiği duyguyu yansıtmamaktadır?



6.



Bu afişte verilen mesaj, aşağıdakilerden hangisidir?

- A) Ormanları, fidanlar dikerek koruyabiliriz.
- B) Orman yangınları, insanların daha dikkatli olmasıyla önlenabilir.
- C) Orman ürünlerinden, ısınmak için de faydalalanabiliriz.
- D) Orman yangınları, canlıların hayatını olumsuz etkiler.

7. Aşağıdakilerden hangisi hem anlamlı hem de kurallı bir cümledir?

- A) Sokakta oynayan çocuklara baktı.
- B) Yedikten yemeğini sonra uyudu.
- C) Yeni okulunda edindi arkadaşlar.
- D) Annesine verdi elindeki çiçekleri.

8. Gökyüzü, güneş yükselirken yavaş yavaş açık maviye dönüştü.

Bu cümlede aşağıdaki sorulardan hangisinin cevabı yoktur?

- A) Nasıl? B) Ne zaman?
- C) Ne? D) Nerede?

9. “Deprem vb. doğa olaylarının oluşumunu engelleyemeyiz ancak...” cümlesinde, altı çizili sözcük dikkate alındığında, üç nokta (...) ile belirtilen yere aşağıdakilerden hangisi getirilmelidir?

- A) beklenmedik bir anda ortaya çıkarlar.
- B) bu vb. doğa olaylarını inceleyen bilim dalına sismoloji denir.
- C) olumsuz etkilerini azaltabiliriz.
- D) fay hatlarının çatlamasıyla oluşurlar.

10. (1)Beni tanıdığı için yanımda çok rahat-tı. (2)Başını sevdiğim kadar sırtını da sıvazladım. (3)Birden kıvrılıp kucağıma yerleşiverdi. (4)Yüzü karnıma dönük, gözleri kapalıydı hayvancağızın.

Numaralandırılmış cümlelerin hangisinde sebep-sonuç ilişkisi vardır?

- A) 1 B) 2 C) 3 D) 4

11. Aşağıdaki cümlelerin hangisinde karşılaştırmadır?

- A) Irmak büyük ve derindi.
- B) Bebeğini sevgi dolu ninnilerle büyüttü.
- C) Ayağındaki ayakkabılar gıcır gıcır parlıyordu.
- D) Mahalledeki arkadaşlarının çoğundan daha uzundu.

12. 1. Dışleri üstünde dolaştırdı, sonra ağzını açtı.

2. Kısarak, büyük ve sessiz boşluğun ortasında başını toprağa uzattı.

3. Islanmış otlar yere düştü.

4. Ağzına değen kuru ot parçalarından birkaçını kopardı.

Numaralandırılmış cümleler, olayların oluş sırasına göre nasıl sıralanmalıdır?

- A) 1, 3, 2, 4
- B) 2, 4, 1, 3
- C) 3, 2, 4, 1
- D) 4, 1, 3, 2

13. Elektronik kitaplar, normal kitaplara göre daha avantajlılar, çünkü dağıtım masrafı olmadığı için hesaplılar ve kâğıda basılmadıkları için ağaçlar kesilmiyor. İsteddiğiniz an, istediğiniz kitaba erişebilmeniz de mümkün. Üstelik yazı boyutunu küçültüp büyütebilir ve ekran parlaklığını da ayarlayabiliriz.

Bu parçanın konusu aşağıdakilerden hangisidir?

- A) Eğitimdeki gelişmeler
- B) Elektronik kitaplar
- C) Bilgiye ulaşmanın yolları
- D) Bilgisayarların hayatımızdaki yeri

14. İnsanların çoğu, kendi hatalarının görülmesini, bilinmesini asla istemezler. Kendilerine yapılacak uyarılar karşısında sevinmeleri gerekirken hemen kırılırlar, gücenirler. Ama başkalarının hatalarını yanlış ve gülünç yönlerini dinlemekten de ne yazık ki pek hoşlanırlar.

Bu parçada asıl anlatılmak istenen aşağıdakilerden hangisidir?

- A) İnsanların hatalarını görmezlikten gelmeliyiz.
- B) Her insanın iyi bir dosta ihtiyacı vardır.
- C) Birçok insan, kendi hataları yerine başkalarının hatalarıyla ilgilenir.
- D) Bazı durumlarda insanlar daha duygusal davranabilir.

15. Avucumun içi gibi bilirim şimdi
Trakya'yı, Anadolu'yu.
Havası nefesim, toprağı ekmeğim.
Kasabaları köyleri ne hâldedir,
Nasıl geçinir insanları bilirim

Mehmet Başaran

Bu şiirin ana duygusu aşağıdakilerden hangisidir?

- A) Doğaya özlem
- B) Umut
- C) Yalnızlık
- D) Vatan sevgisi

16. Soğuk havanın doğrudan ciğerlere çekilmesiyle solunum yolu hastalıkları artış gösteriyor. Ağız ve burnu kapatacak şekilde takılan giysiler filtre görevi yaptığından insan vücuduna oldukça faydası var. Ancak bu giysiler, temizliği-ne dikkat edilmediğinde solunum yolu hastalıklarına neden oluyor.

Bu parçada belirtilen “sorun”un en etkili çözümü aşağıdakilerden hangisidir?

- A) Kalabalık ortamlardan uzak yerleri tercih etmek
- B) Hastane, sağlık ocağı gibi yerlerde uzun süre kalmamak
- C) Atkı, bere, eldiven gibi giysileri temiz tutarak kullanmak
- D) Kalın elbiseler giyerek soğuktan korunmak

17. Tavşan, sabah olunca övünmeye başladı. Ona göre en hızlı koşan kendisiydi. Kiminle yarışsa rahatlıkla kazanabilirdi. “Benimle yarışmak isteyen var mı? Varsa yarışa hazırım.” dedi. Bunun üzerine diğer hayvanlar arasında bir uğultu başladı ama kimse onun karşısına çıkmaya cesaret edemedi.

Bu parçada “hikâye unsurları”ndan hangisi belirgin değildir?

- A) Ana karakter
- B) Yer
- C) Olay
- D) Zaman

18.



Edirne’nin topraklarına hayat veren Meriç Nehri’nde sular çekilmeye başladı. Yağışların bol olduğu dönemlerde yatağına sığmayan Meriç, şimdi sessiz ve sakin akıyor. Bulgaristan’ın suyu barajlarda toplaması, nehrin suyunu geçtiğimiz yıl aynı döneme göre %60 azalttı. Nehir yatağında kum adacıkları oluştu.

29 Mayıs 2013 tarihli bu habere göre Meriç Nehri’yle ilgili olarak aşağıdakilerden hangisi söylenemez?

- A) Kum adacıkları oluşmasının nedeni, nehrin ülkemize gelmeden barajlarda toplanmasıdır.
- B) Yağışlar bol olduğunda Meriç Nehri, coşkun bir şekilde akar.
- C) Meriç Nehri’nin barajlarda tutulmasının amacı tarım alanlarını sulamaktır.
- D) Meriç Nehri’nin şu andaki suyu, geçen yılki su miktarının yarısından da azdır.

19. Sabah olur doğarsın.
Yıldızlarsın her yanı.
Fakat neden batarsın,
Her gün akşam zamanı?

İsmail Hakkı Talas

Bu şiirde seslenilen varlık aşağıdakilerden hangisidir?

- A) Ay
B) Dünya
C) Güneş
D) Yıldız

20. Aşağıdakilerin hangisinde noktalama işaretlerinin kullanımıyla ilgili bir yanlışlık vardır?

- A) Niğde-de eylül ayının sonlarına doğru elma bahçeleri renk renk olur.
B) Kardan, yağmurdan, fırtınadan iyice bunalmıştık.
C) Sinemaya bu akşam mı gidecektik?
D) Arkadaşlar, bilirsiniz ki yardımlaşmak hayat demektir!

TÜRKÇE TESTİ BİTTİ.
MATEMATİK TESTİNE GEÇİNİZ.

1. 65'ten başlanarak geriye doğru beşer beşer sayılıyor.

Kaçıncı sayıta 35 sayısı söylenir?

- A) 4 B) 5 C) 6 D) 7

2. Emel, fiyatı 80 kuruş olan kalemi aşağıdakilerin hangisindeki paralarla satın alabilir?



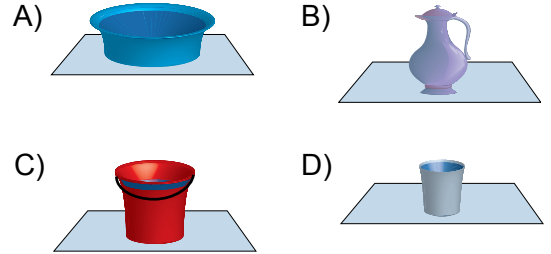
3. Bir sınıftaki kız öğrencilerin sayısı 9'dur. Erkek öğrencilerin sayısı, kız öğrencilerin sayısından 5 fazladır.

Buna göre, sınıfta kaç öğrenci vardır?

- A) 14 B) 23 C) 28 D) 32

4. Aşağıdaki kapların her birinde dört parmak yüksekliğinde su bulunmaktadır.

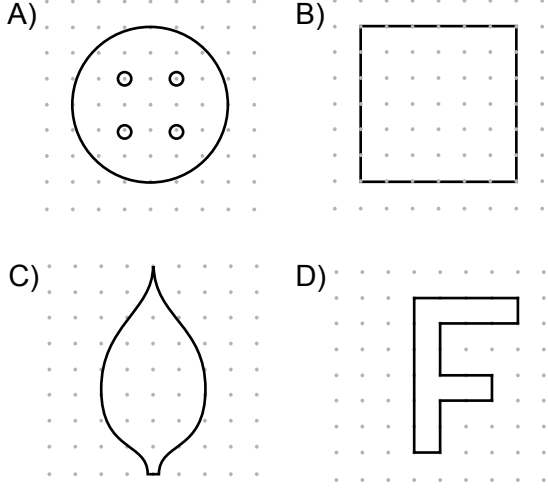
Hangi kaptaki su en fazladır?



5. $30 + \square = 70$ işleminde \square yerine aşağıdaki sayılardan hangisi yazılmalıdır?

- A) 30 B) 40 C) 50 D) 60

6. Aşağıdakilerden hangisi simetrik değil-dir?




7. Öğretmen, Hakan'a 5 tane şeker verdikten sonra 3 soru soruyor. Verdiği her doğru cevap için Hakan'a 1 şeker daha veriyor.

1 soruyu yanlış cevaplayan Hakan'ın kaç şekeri olmuştur?

- A) 7 B) 9 C) 10 D) 12

8.



Göldeki ördeklerin sayısı, aşağıdaki işlemlerden hangisi ile bulunmaz?

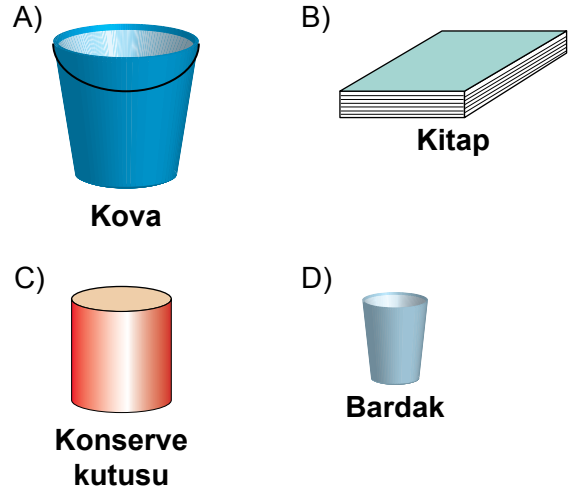
- A) 5×3 B) 3×5
C) $5 + 5 + 5$ D) $3 + 3 + 3$

9. Emel, en son bir ay önce tartılmıştı. Şimdi tartıldığında 27 kilogram geldi ve 3 kilogram almışım dedi.

Emel, bir ay önce kaç kilogram gelmiştir?

- A) 24 B) 26 C) 27 D) 30

10. Dairesel bir yüze sahip olmayan cisim aşağıdakilerden hangisidir?

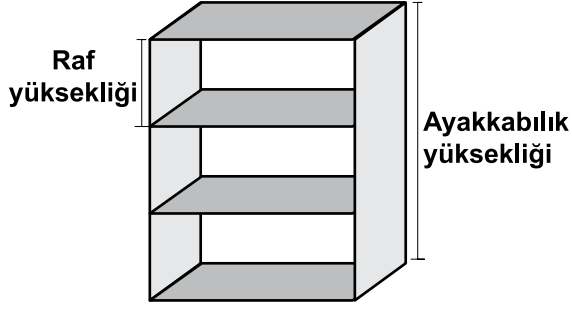


11. Ceren'in 19 tane şekeri vardı. 4 tanesini kendisine ayırdıktan sonra kalanını 5 arkadaşına eşit olarak paylaştırdı.

Ceren, her bir arkadaşına kaç tane şeker vermiştir?

- A) 2 B) 3 C) 4 D) 5


12.



Resimdeki ayakkabılığın her rafının yüksekliği 24 santimetredir. Selma, bu yüksekliği 20 santimetre olarak tahmin etmiştir. Buna göre Selma, ayakkabılığın yüksekliğini kaç santimetre hata ile tahmin eder?

- A) 9 B) 10 C) 12 D) 15

13.



Kerem, 2 yarım, 1 bütün ve 1 çeyrek simitin hepsini arkadaşlarına dağıtıyor. Her bir arkadaşına 1 çeyrek simit verdiği göre, Kerem'in kaç arkadaşı vardır?

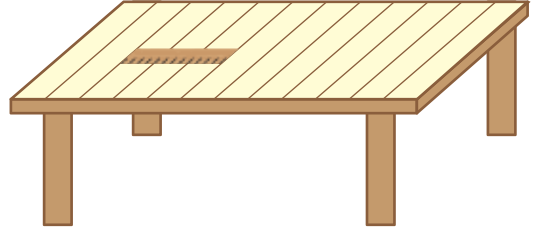
- A) 4 B) 6 C) 7 D) 9

14. Mesut'un 93 tane cevizi vardı. Bir miktarını arkadaşlarına dağıttıktan sonra 77 cevizi kaldı.

Mesut, arkadaşlarına kaç ceviz dağıtmıştır?

- A) 16 B) 20 C) 26 D) 61

15.



Yukarıdaki sehpa, üzerindeki cetvel ile ölçülüyor. Bu sehpanın uzun kenarı kaç cetvel boyundadır?

- A) 2 B) 3 C) 4 D) 5

16. 8 kişinin katıldığı bir koşuda Ali, yarışı altıncının hemen önünde bitirmiştir.

Yarışı sekizinci bitiren Rasim ile Ali'nin arasında kaç koşucu vardır?

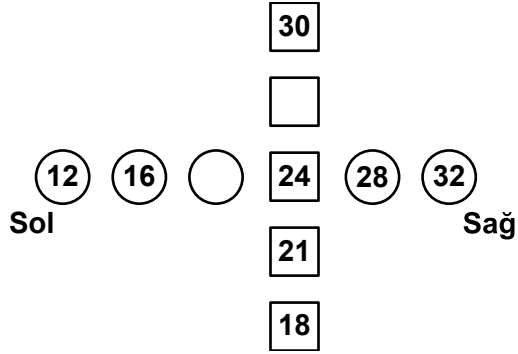
- A) 1 B) 2 C) 3 D) 4

17. Mehtap, pazar günü takvime bakıyor. 5 gün sonra doğum günü olduğunu görüyor.

Buna göre Mehtap'ın doğum günü hangi gündür?

- A) Cuma B) Cumartesi
C) Pazar D) Perşembe

18.



Şekilde soldan sağa ve aşağıdan yukarı sıralanmış iki sayı örüntüsü görülmektedir. Örüntülerdeki □ ve ○ içerisine yazılması gereken sayıların farkı kaçtır?

- A) 3 B) 4 C) 6 D) 7

19. Elif, düzenli olarak haftada 2 kitap okumaktadır. Şubat ayı 4 hafta olduğuna göre, Elif bu ayda kaç kitap okumuştur?

- A) 4 B) 6 C) 8 D) 12

20. Ayşe, bahçelerindeki meyve ağaçlarının sayılarını gösteren nesne grafiği yaptı. Bahçelerindeki kiraz ağaçları, elma ağaçlarından fazladır.

Buna göre, Ayşe'nin yaptığı grafik aşağıdakilerden hangisi olabilir?

- A) Grafik: Bahçedeki Ağaçların Sayıları

Elma					
Kiraz					
Armut					
Erik					

- B) Grafik: Bahçedeki Ağaçların Sayıları

Kiraz					
Armut					
Elma					
Erik					

- C) Grafik: Bahçedeki Ağaçların Sayıları

Elma					
Şeftali					
Kiraz					

- D) Grafik: Bahçedeki Ağaçların Sayıları

Kiraz					
Elma					
Şeftali					

**MATEMATİK TESTİ BİTTİ.
HAYAT BİLGİSİ TESTİNE GEÇİNİZ.**

1.



Çocuklar!
Ben;
• Hukuk eğitimi almak istiyorum.
• Adil olmaya çok önem veririm.
• Tarafsız ve bağımsız hareket etmeyi severim.

Sizce bu özelliklerine göre Tuğrul, aşağıdaki mesleklerden hangisini seçerse doğru tercih yapmış olur?

- A) Hâkimlik B) Doktorluk
C) Mühendislik D) Öğretmenlik

2. İstiklal Marşı'mızın yazarı olan millî şairimiz, aşağıdakilerden hangisidir?

- A) Sabiha Gökçen
B) Hasan Ali Yücel
C) Hayrettin Karaca
D) Mehmet Âkif Ersoy

3.

1. 2004 yılında Sinop'ta doğmuşum.
2. İlkokul 3. sınıfta iken Ankara'ya taşındık.
3. Altı yaşımda bağlama çalmasını öğrendim.
4. Büyüyünce tıp eğitimi almak istiyorum.



Sude'nin numaralandırılarak verilen bu öz geçmişinde kaç numaralı ifadenin olması doğru olmaz?

- A) 1 B) 2 C) 3 D) 4

4. "Atatürk, Türk milletine önderlik edip yurdumuzu düşmanlardan kurtarmak için Samsun'a çıktı. Böylece Kurtuluş Savaşı başlamış oldu."

Biz bugün, aşağıdaki bayramlardan hangisi ile kutluyoruz?

- A) 30 Ağustos Zafer Bayramı
B) 29 Ekim Cumhuriyet Bayramı
C) 19 Mayıs Atatürk'ü Anma, Gençlik ve Spor Bayramı
D) 23 Nisan Ulusal Egemenlik ve Çocuk Bayramı

5. ★. Bayrak, bir ulusun bağımsızlık sembolüdür.

▲. Bayrak, göndere çekilirken “hazır ol”da beklenir.

■. Bütün bayraklara saygı, insanlık görevidir.

Bayrak ile ilgili verilen, yukarıdaki bilgilerden hangileri doğrudur?

- A) Yalnız ★ B) Yalnız ▲
C) ▲ ve ■ D) ★, ▲ ve ■

6.

Göktürk, bilinçli tüketicinin özellikleri nelerdir, sayar mısın?



Öğretmen

1. İhtiyaçlarına öncelik verir.
2. En pahalı ürünü tercih eder.
3. Alacağı malın özelliklerini önceden araştırır.
4. Kaynakları ihtiyacı kadar kullanır.



Göktürk

Göktürk'ün verdiği cevapta yanlış olan bilgi hangisidir?

- A) 1 B) 2 C) 3 D) 4

7. Aşağıdakilerden hangisi, Atatürk'ün eğitim gördüğü okullardan biridir?

- A) Manastır Askerî İdadisi
B) Ziya Gökalp Ortaokulu
C) 23 Nisan İlkokulu
D) 19 Mayıs Lisesi

8. Aşağıdakilerden hangisi okul kurallarından biri değildir?

- A) Sınıfı temiz tutmak
B) Okuldan izin alarak ayrılmak
C) Zamanında uyuyup, uyanmak
D) Ders zili çaldığında sınıfa girmek

9. “Sınıf başkanını oy kullanarak seçimle belirledik. Böylece sınıfımızda bir ortam oluşturduk.”

Verilen boşluğa, aşağıdaki kelimelerden hangisinin yazılması doğru olur?

- A) Kararlı B) Sabırlı
C) Saygılı D) Demokratik

10. 2/A sınıfı öğrencileri, ayda bir defa olmak üzere sınıf dergisi çıkarmaya karar verirler ve hemen çalışmaya başlarlar.


Bu derginin çıkarılmasında 2/A sınıfının, aşağıdaki kulüplerin hangisinden yardım alması gerekir?

- A) Yeşili Koruma Kulübü'nden
- B) Sivil Savunma Kulübü'nden
- C) Kültür ve Edebiyat Kulübü'nden
- D) Gezi, Tanıtma ve Turizm Kulübü'nden

11. İnsanların şehirlerde çok katlı bina inşaatlarının temel nedeni aşağıdakilerden hangisidir?

- A) Yiyeceklerini saklamak
- B) Sıcak ve soğuktan korunmak
- C) Çeşitli tehlikelerden korunmak
- D) Artan nüfusun ihtiyacını karşılamak


12. Aşağıda 2/B sınıfının oturma düzeni verilmiştir:



Buna göre, aşağıdaki öğrencilerden hangileri öğretmenin sağ tarafında oturmaktadır?

- A) Ali - Umut
- B) Sevgi - Ece
- C) Murat - Kerem
- D) Sevgi - Kerem

13. Bu resme bakan öğrenci, aşağıdaki bilgilerden hangisine ulaşamaz?



- A) Kol ve bacaklar gövdeyle bağlantılıdır.
- B) Mide, ince bağırsakla bağlantılıdır.
- C) Boyun, gövde ile baş arasındadır.
- D) Kollar, omuzla bağlantılıdır.

14. Mesleğin adı :
Yaptığı iş : İnsan sağlığını korumak
Kıyafeti : Beyaz önlük

Özellikleri anlatılan meslek, aşağıdakilerden hangisi olamaz?

- A) Doktorluk B) Eczacılık
C) Hemşirelik D) Avukatlık

15. Şekilde vücudumuzdaki bazı iç organlarımız verilmiştir:



Aşağıdakilerden hangisi bu organlardan birinin görevi değildir?

- A) Kanı temizlemek
B) Kanı vücuda pompalamak
C) Besinleri bir süre bir arada tutmak
D) Besin artıklarını vücut dışına atmak

16. Üç kişi yemek yeme ile ilgili görüşlerini söylüyor:

Tabağımızdaki besinleri etrafa dökmeden yiyelim.



Ayla

Ağızda yemek varken konuşulmaz.



Ahmet

İnsanlar sevdikleri besini bolca yemelidir.



Metin

Bunlardan hangilerinin sözleri, görgü kurallarıyla ilgilidir?

- A) Ayla ve Metin
B) Metin ve Ahmet
C) Ahmet ve Ayla
D) Metin, Ayla ve Ahmet

17. Akşam, Yasemin masadaki sürahiden su alıp içmek istedi. Masaya doğru giderken elektrik kesildi. Elini sürahiye çarpıp devirdi.

Bu durum için aşağıdakilerden hangisi söylenebilir?

- A) Görme olayı ışıktaki gerçekleşir.
B) Tat almamız için görmemiz gerekir.
C) Eşyaların rengini dokunarak anlayabiliriz.
D) Karanlıkta eşyalarımızı daha çabuk bulabiliriz.

18. • Sınıf öğretmeninin verdiği ödevleri yapabilir.
• Her gün kişisel bakımını, artık kendisi yapabilir.
• Gerektiğinde anne, babasına ve dedesine yardım edebilir.

Bu özelliklere sahip olan kişi aşağıdakilerden hangisi olabilir?

A)



B)



C)



D)




19. ●, su ve güneşten faydalanır. Meyvelerini besin olarak kullanırız.

★, bitkilerle beslenir, yürüyerek hareket eder. Ondan besin elde ederiz.

● ve ★ ile gösterilen canlılar hangisinde verilmiştir?

- A) Elma ağacı ve koyun
B) Papatya bitkisi ve inek
C) Fasulye ve aslan
D) Kayısı ağacı ve balık

20.



Şekildeki verilen saksılar içindeki topraklar ve bitkiler birbirinin aynıdır.

Bunlardan yalnız birine su verecek bir öğrenci, neyi merak ediyor?

- A) Güneş ışığı almayan bitki gelişir mi?
B) Susuz kalan bitki gelişebilir mi?
C) Bitkiler toprak olmadan yaşar mı?
D) Hangi bitkiden besin elde ederiz?

TEST BİTTİ.

CEVAPLARINIZI KONTROL EDİNİZ.

SINAV SÜRESİNCE UYULACAK KURALLAR

1. Adaylar, sınav kurallarına ve salon görevlilerinin tüm uyarılarına uymak zorundadırlar. Kurallara ve uyarılara uymayan adayların sınavları geçersiz sayılacaktır.
2. Sınav başladıktan sonra adayların salon görevlileri ve birbirleri ile konuşmaları, kalem, silgi vb. şeyleri istemeleri yasaktır.
3. Adaylar sınav süresince, sınav giriş belgesi ile birlikte kimlik belgelerinden birini (nüfus cüzdanı veya pasaport) masalarının üzerinde bulundurmamak zorundadırlar.
4. Sınav evraklarını teslim etmeyen, soru kitapçıklarının sayfalarından bir kısmını eksik teslim edenlerin sınavları geçersiz sayılacaktır.

SALON GÖREVLİLERİNCE SINAV BAŞLAMADAN ÖNCE ADAYLARA YAPILACAK SON UYARI

- Soracağınız bir şey var mı? Varsa, şimdi sorunuz.
- Sınav başladıktan sonra sorularınıza cevap verilmeyecektir.
- Başlama zilini bekleyiniz.
- Hepinize başarılar dileriz.

(Salon başkanı başlama ve bitiş saatini tahtaya yazacaktır.)

Bu kitapçığın her hakkı saklıdır. Hangi amaçla olursa olsun, kitapçığın tamamının veya bir kısmının Millî Eğitim Bakanlığı Yenilik ve Eğitim Teknolojileri Genel Müdürlüğünün yazılı izni olmadan kopya edilmesi, fotoğraflarının çekilmesi, bilgisayar ortamına alınması, herhangi bir yolla çoğaltılması, yayımlanması veya başka bir amaçla kullanılması yasaktır. Bu yasağa uymayanlar, doğabilecek cezai sorumluluğu ve kitapçığın hazırlanmasındaki mali külfeti peşinen kabullenmiş sayılır.

**16 HAZİRAN 2013 TARİHİNDE YAPILAN TED ANKARA KOLEJİ VAKFI
ÖZEL İLKOKULU VE ORTAOKULU SEÇME SINAVI
3. SINIFLAR CEVAP ANAHTARI**

TÜRKÇE	MATEMATİK	HAYAT BİLGİSİ
1. A	1. D	1. A
2. D	2. C	2. D
3. C	3. B	3. D
4. A	4. A	4. C
5. D	5. B	5. D
6. B	6. D	6. B
7. A	7. A	7. A
8. D	8. D	8. C
9. C	9. A	9. D
10. A	10. B	10. C
11. D	11. B	11. D
12. B	12. C	12. A
13. B	13. D	13. B
14. C	14. A	14. D
15. D	15. C	15. D
16. C	16. B	16. C
17. B	17. A	17. A
18. C	18. D	18. C
19. C	19. C	19. A
20. A	20. C	20. B