

A

A

A

A

A

## TÜRKÇE TESTİ

1. Aşağıdaki cümlelerin hangisinde “duymak” sözcüğü cümlede kazandığı anlamla yanlış eşleştirilmiştir?

- A) Dün olanları arkadaşşımdan duydum. → Bilgi almak, öğrenmek
- B) Bu gürültüde seni duymam imkân-sız. → İşitmek, ses almak
- C) Sizi tanımaktan mutluluk duyuyorum. → Bir ruh durumu içine girmek
- D) Hepimiz onun sözlerini duyduk. → Fark etmek, hissetmek

2. Aşağıdaki cümlelerin hangisinde altı çizili sözcük nitel anlamdadır?

- A) Küçük çocuk, yüksek binalara şaşkınlıkla bakıyordu.
- B) Adam, ağır paketi güçlkle taşıyordu.
- C) Uzun sahil şeridinde insanlar keyifle yürür akşamları.
- D) Hayata dar görüşlü insanlarla arkadaşlık etmemelisin.

3. Aşağıdaki cümlelerin hangisinde altı çizili sözcük soyut anlamda kullanılmıştır?

- A) Anneannem, tatlı sesiyle bize masallar anlatırdı.
- B) Serin rüzgâr hepimizi rahatlatı.
- C) Çiçeklerin güzel kokusu tüm odaya yayılmış.
- D) Ilık süt boğazıma iyi geldi.

4.



O, kimsenin söylediklerini dik-kate almaz. Her zaman kendi bildiğini yapar.

Öykü

Aşağıdaki deyimlerden hangisi Öykü'nün sözünü ettiği kişi için kullanılır?

- A) Burnundan kıl aldirmamak
- B) Burnu havada olmak
- C) Burnunun dikine gitmek
- D) Burnunun ucunu görememek

5. “Ayrı ayrı” ikilemesi aşağıdaki cümlelerin hangisine “farklı, değişik” anlamı dışında kullanılmıştır?

- A) Öğretmenimiz, hepimizle ayrı ayrı ilgilenirdi.
- B) Hepimizin bu konudaki fikirleri ayrı ayrıydı.
- C) Çocukların hepsine ayrı ayrı ödevler verildi.
- D) Okul bitince hepimiz ayrı ayrı yönlelere savrulduk.

A

6. Aşağıdaki cümlelerin hangisinde altı çizili sözcük mecaz anlamıyla kullanılmamıştır?

- A) Bize her zaman çok sıcak davrandı.
- B) Bu sabah erkenden yola çıkmışlar.
- C) Sonunda şans yüzüme güldü.
- D) Bu davranışınla hepimizi çok kırdın.

A

A

A

A

8. Aşağıdaki cümlelerden hangisi bir paragrafın giriş cümlesi olabilir?

- A) Yazarın son kitabı da büyük ilgi gördü.
- B) İnsan, elindekilerin kıymetini bilirse mutlu olur.
- C) Öyküyse romana göre daha kısadır.
- D) Bu sözleri hepimiz duymuşuzdur.

7.

Denize günde iki kez girilirdi, sabah 10.30-12.00 ve akşamüstü 16.30-18.00 arası. Deniz izninin çıkması için sabahları bize verilen ödevleri yapmamız gerekirdi. Bu ödevler; ya derslerimizi bitirmek ya çarşıya gitmek ya da odamızı toplamak, bahçeyi sulamak gibi işler olurdu. Her sabah çok erken kalkıp bu ödevlerimizi tamamlar, annemizden yüzme izni alırdık. Görevini yapmayan çocuk için yalvarma dönemi başlar; annem de çoğu kez geç gönderme, hemen bir iş yaptırma gibi cezalarla idare ederdi. Eğer eksiklerimiz çoksa o gün yüzmeye gidememe cezası verilirdi ki en ağırı da buydu.

**Türkan Saylan'ın sözlerinden çocukluğuyla ilgili aşağıdaki yargılardan hangisine ulaşamaz?**

- A) Ailede çocuklara sorumluluk bilinci aşılanmaya çalışılmaktadır.
- B) Ailede belirli bir düzen ve iş bölümü vardır.
- C) Her şeyin saatle yapılması çocukları sıkırmaktadır.
- D) Herkes görevini yapmaya özen göstermektedir.

9. Adım uçurtmadır kardeş  
Ne güzel boyalı gül yüzüm  
Uzunca salsın ipimi çocuklar  
Çiçek açmak için gökyüzü  
Tek rüya yeter



**Yukarıdaki dizelerde aşağıdakilerden hangisinin örneği yoktur?**

- A) Sesteş sözcük
- B) Somut anlamlı sözcük
- C) Soyut anlamlı sözcük
- D) Terim anlamlı sözcük

10.

Oyun alanlarımızdan biri de Meliha teyzenin balkonunun altıydı. Misket savaşları o balkonun gölgesinde gerçekleşirdi. Bir keresinde gürültünün ayarını fazla kaçırmış olacağımız ki kafamızdan aşağı bir kova su boşaltmıştı kadıncağız.

**Bu parça aşağıdaki yazı türlerinin hangisinden alınmış olabilir?**

- A) Günlük
- B) Biyografi
- C) Anı
- D) Makale

A

A

A

A

A

11. Aşağıdaki cümlelerin hangisinde altı çizili sözcük, genel anlamlıdır?

- A) Roman, ülke gerçeklerini başarıyla anlatmış.
- B) Okuduğum şiiir, duygularımın aynasıydı.
- C) Bu makale, ülkemizdeki eğitim sorunlarını anlatıyor.
- D) Söyleşi, yazarın okuyucuyla konuşur gibi düşüncelerini anlattığı yazı türüdür.

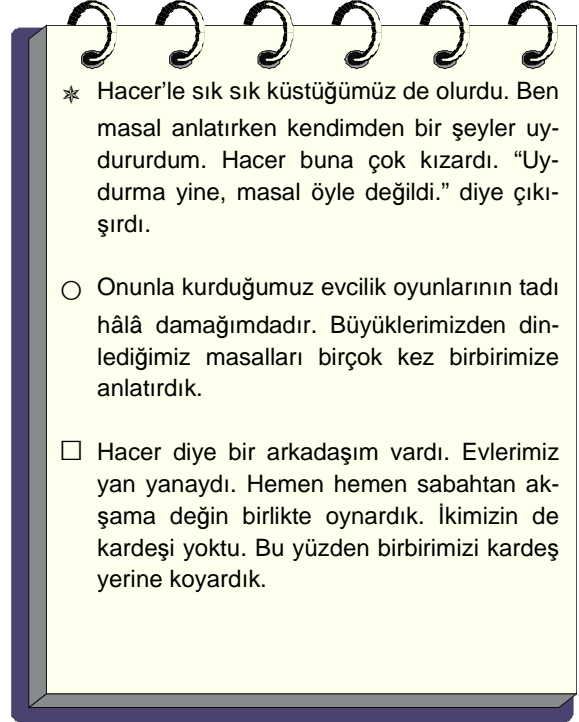
12.



Yukarıdaki konuşmanın anlam bütünlüğü dikkate alındığında baba aşağıdaki atasözlerinden hangisini kullanmaz?

- A) Öfke baldan tatlıdır.
- B) Öfkeyle kalkan zararlar oturur.
- C) Keskin sirke küpüne zarardır.
- D) Öfke gelir göz kızarır, öfke gider yüz kızarır.

(13 ve 14. soruyu aşağıdaki parçaya göre yanıtlayınız.)



13. Aşağıdakilerden hangisi yukarıdaki paragrafların “giriş, gelişme ve sonuç” sırasını verir?

- A) ○ – □ – ★
- B) □ – ○ – ★
- C) □ – ★ – ○
- D) ★ – □ – ○

14. Yukarıdaki parçanın bütünü göz önüne alındığında parça için aşağıdakilerden hangisi söylenemez?

- A) Olay üçüncü kişi ağzından aktarılmıştır.
- B) Yazarın çocukluk anılarını içerir.
- C) Deyimden ve ikilemelerden yararlanılmıştır.
- D) Nesnel anlatıma da yer verilmiştir.

A

15. Aşağıdaki cümlelerin hangisinde yazım yanlışı vardır?

- A) Sınav 13.00'te başlayacak.
- B) Arkadaşım "Vanilya Kokulu Mektuplar" adlı kitabı okuyor.
- C) Türkiye'nin Batısı, daha kalabalıktır.
- D) İstanbullular, bu projeyi sabırsızlıkla bekliyor.

16.



Bana göre en güzel renk, beyazdır.

Mert, cümlesinde aşağıdaki sözcük türlerinden hangisini kullanmamıştır?

- A) İsim
- B) Bağlaç
- C) Zamir
- D) Sıfat

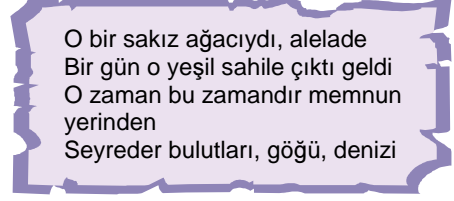
17.  $\triangle$  Yemekten bir yudum bile almadı.  
 $\star$  Karşıya geçerken yaya geçidini kullan.  
 $\circ$  İnsanlar durakta otobüs bekliyor.  
 $\square$  Bu mavi kalemlik, sıra arkadaşımın.

$\triangle$ ,  $\star$ ,  $\circ$ ,  $\square$  simgeleriyle gösterilen cümlelerin hangilerinde altı çizili sözcükler hem yapım hem çekim eki almıştır?

- A)  $\triangle$ ,  $\star$
- B)  $\star$ ,  $\circ$
- C)  $\circ$ ,  $\square$
- D)  $\square$ ,  $\triangle$

A

18.



O bir sakız ağacıydı, alelade  
 Bir gün o yeşil sahile çıktı geldi  
 O zaman bu zamandır memnun  
 yerinden  
 Seyreder bulutları, göğü, denizi

Yukarıdaki dördlükte aşağıdaki ses olaylarından hangisi yoktur?

- A) Ünsüz yumuşaması
- B) Ünlü daralması
- C) Ünsüz benzeşmesi
- D) Ünlü düşmesi

19. 1. Canlar, bu yaz Çeşme'ye gidecekler.  
 2. İzmirli'ler baharın coşkusunu hissettiler.  
 3. Hepimiz Türkçe'nin kurallarına dikkat etmeliyiz.  
 4. Geldiğimi Ahmet Bey'e haber verin.

Yukarıdaki cümlelerin hangilerinde kesme işaretinin kullanımıyla ilgili yanlışlık yapılmamıştır?

- A) 1 – 3
- B) 2 – 4
- C) 3 – 4
- D) 1 – 4

TÜRKÇE TESTİ BİTTİ.  
 MATEMATİK TESTİNE GEÇİNİZ.

A

A

A

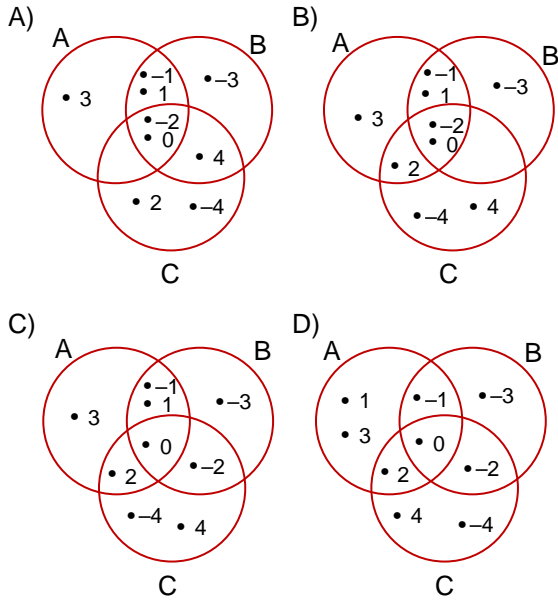
A

A

## MATEMATİK TESTİ

1.  $A = \{-3 \text{ ile } 4 \text{ arasındaki tam sayılar}\}$   
 $B = \{-4 \text{ ile } 2 \text{ arasındaki tam sayılar}\}$   
 $C = \{-6 \text{ ile } 6 \text{ arasındaki çift tam sayılar}\}$

Yukarıda ortak özellik yöntemi ile verilen A, B ve C kümelerinin Venn şeması ile gösterimi aşağıdakilerden hangisidir?






2. Özge Öğretmen, öğrencilerine “Benim yaşım 3 ün ve 5 in katı olan, 20 den büyük bir sayıdır.” diyerek, öğrencilerinden yaşını tahmin etmelerini ister.

Buna göre, Özge Öğretmen’in yaşı en az kaç olabilir?

- A) 25      B) 30      C) 45      D) 60

3.


 $\frac{3}{5}$  m

 $\frac{1}{5}$  dam

 $\frac{2}{3}$  m

 $\frac{1}{4}$  dam

Yukarıda numaralandırılmış dört farklı makaraya sarılı iplerin uzunlukları verilmiştir.

Buna göre, kaç numaralı makaraya sarılı ip en uzundur?

- A) I      B) II      C) III      D) IV

4.

1 kişi ₺ 10
----------------

A

100 kişi ₺ 900
-------------------

B

10 kişi ₺ 80
-----------------

C

50 kişi ₺ 700
------------------

D

Vildan Hanım’ın 300 kişilik davet vermek için araştırdığı dört farklı mekânın fiyatları yukarıdaki gibidir.

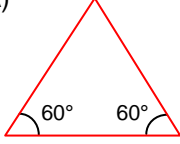
Fiyatı en uygun olan mekânı seçmek isteyen Vildan Hanım, hangisini tercih etmelidir?

- A) A      B) B      C) C      D) D

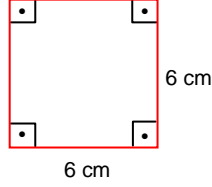
A

5. Aşağıdakilerden hangisi düzgün çokgen değildir?

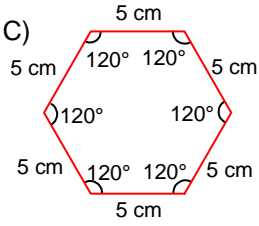
A)



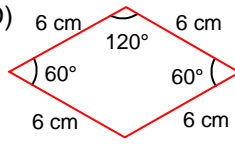
B)



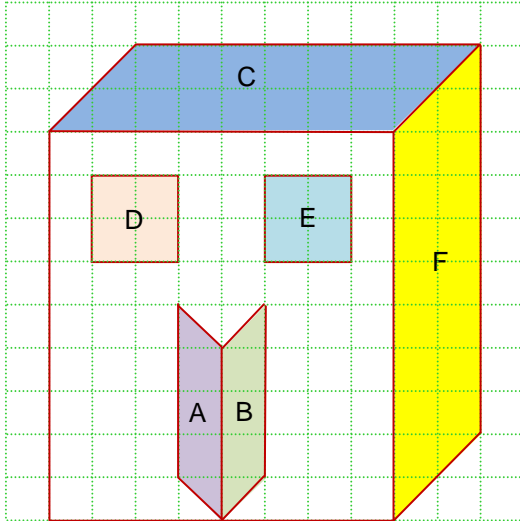
C)



D)



6.



Yukarıdaki kareli kâğıtta verilen A, B, C, D, E ve F çokgenlerinin hangi ikisi benzer değildir?

A) C ile F B) D ile E C) A ile B D) A ile C

A

7. Oğuzhan, 4 günde toplam 1000 soru çözmek için ders programı yapıyor.

İlk gün soruların  $\frac{2}{5}$  ini çözüyor. İkinci gün hiç soru çözmiyor. Üçüncü gün de soruların  $\frac{1}{2}$  sini çözüyor.

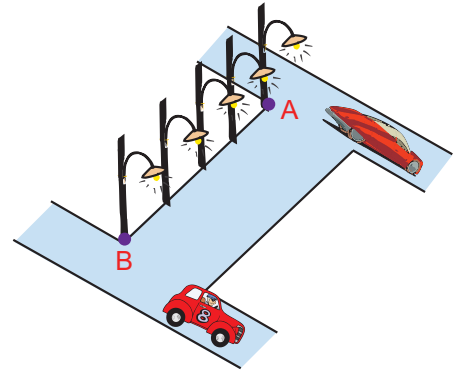
Oğuzhan'ın programına uygun olarak soruların tamamını bitirebilmesi için dördüncü gün kaç soru çözmesi gerekir?

A) 250 B) 200 C) 150 D) 100

A

A

8.



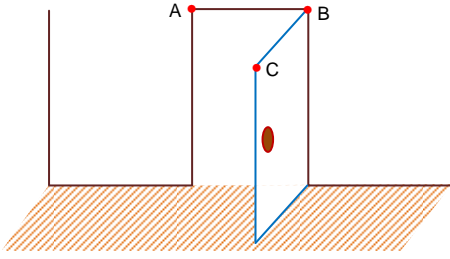
Yukarıda verilen AB yolunda sokak lambaları eşit aralıklarla dizilmiş ve her iki sokak lambası arasındaki uzaklık  $(x+4)$  m dir.

Buna göre, AB yolunun metre cinsinden uzunluğunu gösteren cebirsel ifade aşağıdakilerden hangisidir?

A)  $4x+16$  B)  $4x+4$   
C)  $4x+8$  D)  $5x+20$

A

9.



Yukarıda verilen kapı, şekildeki konumda iken  $137^\circ$  daha açıldı ğında A, B, C noktaları doğrusal olmaktadır.

Buna göre, kapı şekildeki konumdayken oluşan ABC açısının ölçüsü kaç derecedir?

- A) 47      B) 43      C) 33      D) 23

10. Ayşe, Tema Vakfı'nın düzenlediği ağaç dikme etkinliğinde  $(2^3 + 3^2)$  tane ağaç diktiğine göre, Ayşe'nin diktiği ağaç sayısı kaçtır?

- A) 21      B) 19      C) 17      D) 12

11.  $233\star17$  altı basamaklı sayısını oluşturan rakamlardan biri rastgele seçiliyor.

Seçilen rakamın asal sayı olma olasılığı  $\frac{2}{3}$  olduğuna göre,  $\star$  yerine gelebilecek rakam aşağıdakilerden hangisi olabilir?

- A) 2      B) 5      C) 7      D) 9

A

12.



Bir findik ezmesi üreticisi yukarıda verilen bir kavanoz findik ezmesi için 210 gram findik kullanmaktadır.

Bir kavanoz findik ezmesindeki findik oranı % 70 olduğuna göre, kavanozdaki findik ezmesinin tamamının ağırlığı kaç gramdır?

- A) 250      B) 270      C) 300      D) 320

13. Aşağıdaki çizelgede Derin'in Türkçe dersinden aldığı yazılı, sözlü ve proje ödevi notları verilmiştir.

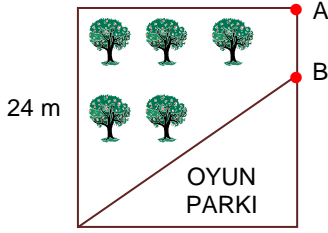
Ölçme Değerlendirme	1. Yazılı	2. Yazılı	3. Yazılı	Sözlü Notu	Proje ödevi
Notlar	55	80	?	100	80

Çizelgedeki notların ortalaması 78 olduğuna göre, Derin 3. yazılıdan kaç almıştır?

- A) 50      B) 75      C) 80      D) 90

A

14.




Muharrem Bey'in kare şeklindeki tarlasının  $216 \text{ m}^2$  lik bölümü oyun parkı yapılmak için satın alınmıştır.

Bu tarlanın bir kenarı 24 m olduğuna göre, tarlanın A ile B noktaları arasındaki uzaklık kaç m dir?

- A) 6      B) 12      C) 18      D) 24

15.



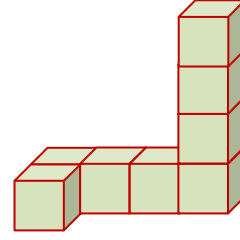
Yukarıda verilen 9 cL lik şurup, günde 3 ölçek içildiğinde 10 günde bitiyor.

Buna göre, 1 ölçek şurup kaç mL dir?

- A) 1      B) 2      C) 3      D) 4

A

16.



Yukarıdaki yapı eş küplerden oluşmuştur.

Buna göre, aşağıdakilerden hangisi bu yapının herhangi bir yönden görünüşü olamaz?

- A) B)
- C) D)

**MATEMATİK TESTİ BİTTİ.  
FEN BİLİMLERİ TESTİNE GEÇİNİZ.**



A

A

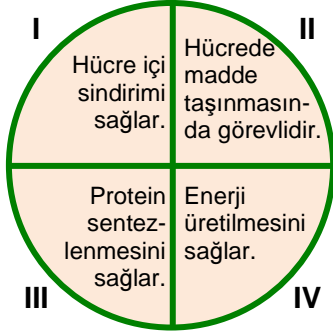
A

A

A

## FEN BİLİMLERİ TESTİ

1.



Yukarıda numaralarla belirtilmiş bölümlerin her birinde farklı bir organelin görevi yer almaktadır.

**Buna göre, hangi bölümdeki görev ribozoma aittir?**

- A) I      B) II      C) III      D) IV

2.

	Özellikler
I	<ul style="list-style-type: none"> <li>Yavru bakımı görülür.</li> <li>Yumurtayla çoğalır.</li> <li>Başkalaşım geçirmez.</li> </ul>
II	<ul style="list-style-type: none"> <li>Yavrularını sütle besler.</li> <li>Kuluçkaya yatmaz.</li> <li>Doğurarak çoğalır.</li> </ul>

Yukarıda verilen kartlarda bazı canlıların özellikleri verilmiştir.

**Buna göre, I ve II ile gösterilen yerlere hangi seçenekte belirtilen canlıların fotoğrafları yapıştırılabilir?**

	I	II
A)	Fare	Zürafa
B)	Timsah	Kurbağa
C)	Yarasa	Tavşan
D)	Güvercin	Köpek

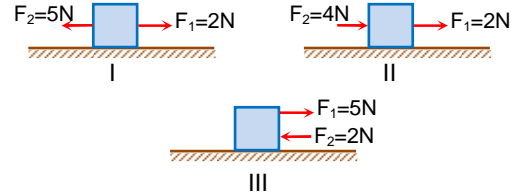
3.

- Tohumun çimlenebilmesi için oksijen gereklidir.
- Tohum dışı organın yumurtalığında oluşur.
- Bazı tohumlar yeryüzüne rüzgâr yoluyla yayılır.
- Çimlenmekte olan tohum ihtiyaç duyduğu besini fotosentez yoluyla elde eder.

**Yukarıda tohum ile ilgili verilen bilgilerden kaç tanesi doğrudur?**

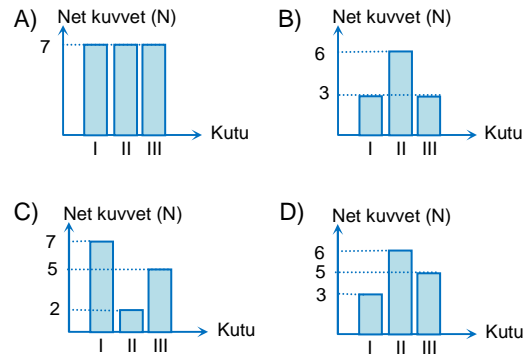
- A) 1      B) 2      C) 3      D) 4

4.



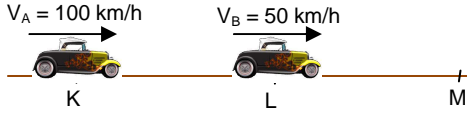
Özdeş kutulara etki eden kuvvetler yukarıdaki şekillerde verilmiştir.

**Buna göre, kutulara etki eden net kuvvetlerin büyüklükleri arasındaki ilişkiyi gösteren grafik aşağıdakilerden hangisidir? (Sürtünmeler önemsizdir.)**



A

5.

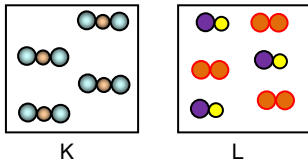


Şekildeki A ve B araçları aynı yönde sırasıyla 100 km/h ve 50 km/h'lık sabit süratlerle K ve L noktalarından aynı anda geçtikten 2 saat sonra M noktasında yanyana gelmişlerdir.

Buna göre, K–L arası kaç km'dir?

- A) 50      B) 100      C) 150      D) 200

6.



Yukarıda K ve L maddelerinin tanecik modelleri verilmiştir.

Buna göre, K ve L maddeleri aşağıdakilerden hangisidir?

	I	II
A)	Bileşik	Karışım
B)	Element	Bileşik
C)	Karışım	Bileşik
D)	Element	Karışım

A

7.

Aşağıda verilen olaylardan hangisi kimyasal değişime örnektir?

A)



Etten kıyma yapılması

B)



Bardağın kırılması

C)



Şekerin suda çözünmesi

D)



Kekin pişmesi

8.

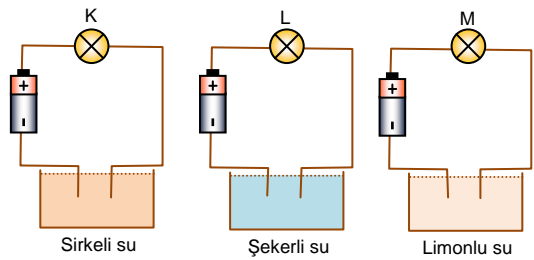
1. Belli bir şekilleri yoktur.
2. Tanecikleri titreşim hareketi yapar.
3. Tanecikler arasındaki boşluk çok azdır.
4. Sıkıştırılmazlar.
5. Akışkandırlar.

Maddenin gaz haline ait özellikler sıralandığında yukarıda verilenlerden hangisi bu grupta bulunmaz?

- A) 1–5  
C) 1–2–5

- B) 3–4  
D) 2–3–4–5

9.



Yukarıdaki elektrik devreleri özdeş ampul, pil ve iletken tellerle hazırlanmıştır.

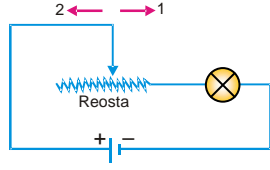
Buna göre, K, L ve M ampullerinden hangileri ışık verir?

- A) Yalnız L  
C) K ve M

- B) K ve L  
D) L ve M

A

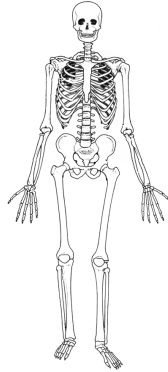
10.



Şekilde verilen elektrik devresinde reostanın hareketi ile ilgili aşağıda verilen yargılardan hangisi doğru olur?

- A) Reostanın sürgüsü 1 ve 2 yönünde hareket ettirildiğinde ampulün parlaklığı değişmez.
- B) Reostanın sürgüsü 1 yönünde hareket ettirildiğinde ampulün parlaklığı artar.
- C) Reostanın sürgüsü 2 yönünde hareket ettirildiğinde ampulün parlaklığı artar.
- D) Reostanın sürgüsü 1 yönünde hareket ettirildiğinde devredeki toplam direnç artar.

11.



Aşağıdakilerden hangisi iskeletin görevlerinden biri değildir?

- A) Dışarıdan alınan besinlerin sindirimini sağlamak
- B) Vücuda şekil vermek ve vücudun dik durmasını sağlamak
- C) Kaslar ve eklemler yardımıyla vücudun hareketini sağlamak
- D) İç organları dış etkilere korumak ve kan hücreleri üretmek

A

12.

- I. Akciğer atardamarı oksijen bakımından **zengin/fakir** kan taşır.
- II. Üst ve alt ana toplardamarı oksijen bakımından **zengin/fakir** kan taşır.
- III. Aort atardamarı oksijen bakımından **zengin/fakir** kan taşır.

Yukarıda verilen cümlelerin doğru olabilmesi için koyu renkli yazılmış ifadelerden hangisi seçilmelidir?

I	II	III
A) zengin	zengin	fakir
B) zengin	fakir	zengin
C) fakir	fakir	zengin
D) fakir	zengin	fakir

13. Aşağıdaki tabloda K, L ve M maddelerine ait taneciklerin modelleri verilmiştir.

Madde	Önce	Sonra	Isı almıştır.	Isı vermiştir.
K				
L				
M				

Buna göre taneciklerin ısı alma veya verme durumları "✓" işareti konularak belirtilen tablonun görünümü aşağıdakilerden hangisi gibi olur?

A) 

✓	
✓	
	✓

B) 

✓	
	✓
✓	

C) 

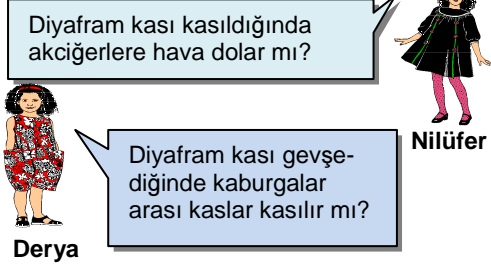
✓	
	✓
	✓

D) 

	✓
	✓
✓	

A

14. Fen Bilimleri dersinde Nilüfer ve Derya, öğretmene aşağıdaki soruları soruyor.



Buna göre, öğretmen, Nilüfer ve Derya'nın sorduğu sorulara hangi seçenekte belirtilen cevapları verir?

	Nilüfer	Derya
A)	Evet	Evet
B)	Evet	Hayır
C)	Hayır	Hayır
D)	Hayır	Evet

15. Güneş ışınlarının Dünya'yı ısıtması

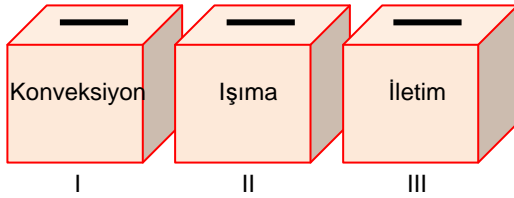
Sobanın odayı ısıtması

Sıcak çayın içindeki çay kaşığının ısınması

Mikrodalga fırına konulan köftenin ısınması

Bir ucu ısıtılan telin diğer ucunun da ısınması

Yukarıda ısının yayılma yollarının her birine verilen örneklerin bulunduğu kartlar aşağıdaki kutulara atılacaktır.

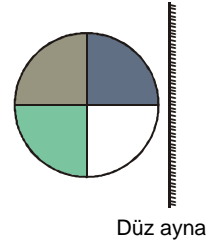


Buna göre, kutulara kaç tane kart atılır?

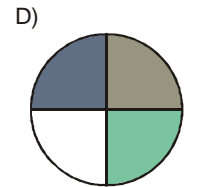
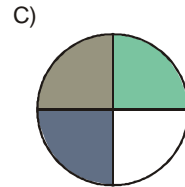
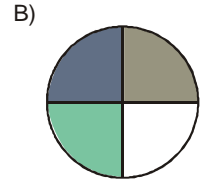
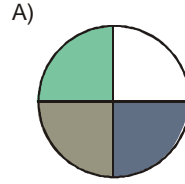
	I	II	III
A)	1	3	1
B)	2	1	2
C)	1	2	2
D)	2	2	1

A

16. Şekildeki cismin düz aynadaki görüntüsü aşağıdakilerden hangisidir?



Düz ayna



FEN BİLİMLERİ TESTİ BİTTİ.  
SOSYAL BİLGİLER TESTİNE GEÇİNİZ.

A

A

A

A

A

## SOSYAL BİLGİLER TESTİ

1. – Soylulardan oluşan Pankuş meclisi önemli kararların alınmasında etkilidir.  
– Yıllıklar (Anal) tutmaları ile tarih yazıcılığı başlamıştır.  
– Başkentleri Hattuşaş'tır.

**Yukarıda verilen özellikler hangi Anadolu uygarlığına aittir?**

- A) Hitit  
B) Urartu  
C) İyon  
D) Frig

2. Anadolu medeniyetlerinden;


- Frigyalılar tarımda,  
– Urartular hayvancılık ve madencilikte,  
– Lidyalılar ticaretle,  
– İyonlar deniz ticaretinde

gelişme kaydetmişlerdir.

**Anadolu medeniyetlerinin ekonomik faaliyetlerini belirleyen temel faktör aşağıdaki-lerden hangisidir?**

- A) Askeri özellikler  
B) Coğrafi koşullar  
C) Kültürel etkileşimler  
D) Siyasi yapı

- 3.



**Yukarıdaki resimlere bakılarak hangisinde iklimin insan yaşamına daha elverişli olduğu söylenebilir?**

- A) I  
B) II  
C) III  
D) IV

4. Hz. Ömer döneminde sınırların genişlemesiyle birlikte teşkilatlanma çalışmaları yapılmıştır. Düzenli ordu kurulmuş, devlet hazinesi oluşturulmuş ve divan adı verilen idari bir kurum oluşturulmuştur.

**Bu bilgilere göre aşağıdaki alanlardan hangisiyle ilgili bir çalışma yapıldığı söylenemez?**

- A) Yönetim  
B) Askeri  
C) Eğitim  
D) Ekonomi



A

5.

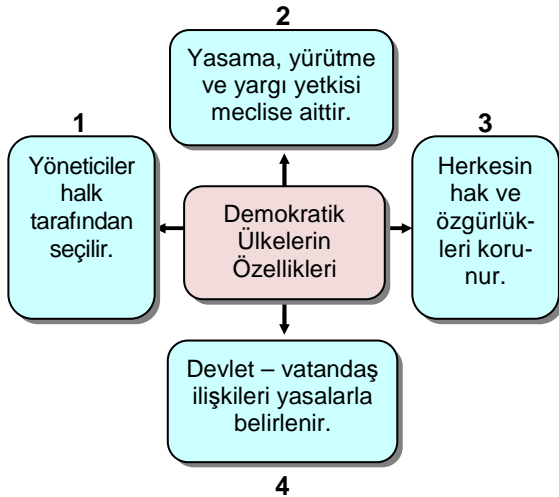
Büyük devletler kuran atalarımız, büyük ve kapsamlı medeniyetlere de sahip olmuşlardır. Bunları aramak, incelemek, Türklüğe ve dünyaya bildirmek bizim için borçtur. ... İnsan zekâsı, tarihi aydınlatacak yeni yöntemler ve bilimler bulmuşlardır. Tarih, bu son bilimlerin bulunduğu belgelere dayandıkça temeli sağlam olur.



Atatürk bu amaç için aşağıdaki kurumlardan hangisinin kurulmasına öncülük etmiştir?

- A) Türk Dil Kurumu
- B) İş Bankası
- C) İstanbul Üniversitesi
- D) Türk Tarih Kurumu

6.



Yukarıdaki şemada verilen kaç numaralı bilgi hatalıdır?

- A) 1
- B) 2
- C) 3
- D) 4

A

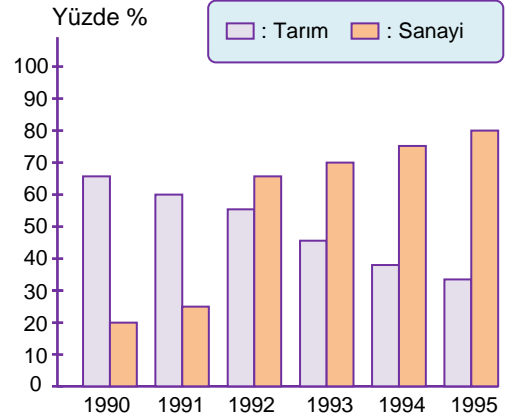
7.

Orta Asya Türklerinin başlıca geçim kaynağı hayvancılıktır. Özellikle at ve koyun en çok yetiştirilen hayvanlar arasındadır. Besledikleri hayvanlara ot ve su bulmak için yaz ve kış mevsiminde farklı yerlerde yaşamışlardır. At arabası üzerinde taşıdıkları çadırları, hayvanları için buldukları elverişli otlaqlara kurarlar ve mevsimlere göre yer değiştirirler.

Buna göre Orta Asya Türkleriyle ilgili aşağıdakilerden hangisine ulaşılr?

- A) Tarımda ilkel yöntemleri kullanmışlardır.
- B) Yetiştirdikleri hayvanları Çin ve Bizans'a satmışlardır.
- C) Göçebe yaşam tarzını benimsemişlerdir.
- D) Kuraklık nedeniyle Orta Asya'yı tamamen terk etmişlerdir.

8.



Yukarıdaki grafikte Türkiye'nin tarım ve sanayi ürünlerine göre ihracatı yüzde olarak gösterilmiştir.

Buna göre, aşağıdaki bilgilerden hangisine ulaşamaz?

- A) Tarımın ihracattaki payı giderek azalmıştır.
- B) İhracatımızda sanayi ürünlerinin payı yıllara göre artış göstermiştir.
- C) Sanayinin gelişmesi Türkiye'de turizme verilen önemi azaltmıştır.
- D) 1995 yılında sanayi ürünlerinin ihracatı, 1990 yılındaki tarım ürünlerinin ihracatını geçmiştir.

A

A

A

A

A

9.

İnanılır gibi değil... Bu topraklarda 30 yıl önce tarım ve hayvancılık yapıldı. Şimdi dizi dizi fabrikalar. Otomobilden gıda sektörüne kadar geniş bir yelpazede üretim yapılıyor. İnsanlar yoğun olarak iş bulma ümidiyle bu bölgeye göç ediyor. Burası şu an Türkiye'nin ihracatında çok önemli bir bölge...



Kemal Bey

Kemal Bey'in anlattıklarına göre, söz konusu bölgeyle ilgili aşağıdakilerden hangisine ulaşamaz?

- A) Tarımda çalışan nüfus oranı azalmıştır.
- B) İş olanakları artmıştır.
- C) Sanayisi gelişmiştir.
- D) Mera hayvancılığının yerini besi hayvancılığı almıştır.

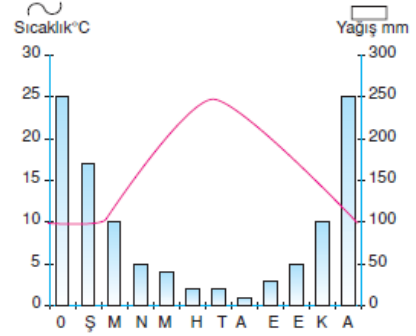
10.

	D	Y
Dünyanın her yerinde nüfus dağılımı eşittir.		
Afetlere maruz kalan kişilere yardımcı olmak bir insanlık görevidir.		
Ülkemizin dış ticaretinde Almanya ve Rusya başı çekmektedir.		

Yukarıdaki bilgilerin yanına getirilecek (D) ve (Y) işaretlerinin sıralanışı aşağıdakilerden hangisinde doğru olarak verilmiştir?

- A) Y – D – Y
- B) Y – D – D
- C) D – Y – Y
- D) Y – Y – D

11.



Yukarıda bir yörenin yıllık sıcaklık ve yağış grafiği verilmiştir.

Grafiğe bakılarak yöre ile ilgili aşağıdaki özelliklerden hangisine ulaşamaz?

- A) Sıcaklığın en yüksek olduğu aya
- B) Yıllık ortalama sıcaklığa
- C) Ortalama yağış miktarına
- D) Yükselti değerlerine

A

12.



**Sultanahmet  
Camii**

**Fener Rum  
Patrikhanesi**



**Neva Şalom  
Sinagogu**

Ülkemizde herkes ibadetini yerine getirebilmekte özgürdür.

**Bu durumu güvence altına alan anayasal özgürlük aşağıdakilerden hangisidir?**

- A) Din ve vicdan özgürlüğü
- B) Kişi dokunulmazlığı hakkı
- C) Eğitim alma hakkı
- D) Ortaklık kurma hakkı

A

13.

Selçuklu sarayında çeşitli görevler yaptıktan sonra Sultan Alparslan döneminde vezir oldum. Tuğrul Bey döneminde açılmaya başlayan medreseleri yeniden düzenledim. Nizamiye Medreseleri adıyla bu eğitim kurumlarının birçok şehre yayılmasını sağladım. Alparslan'dan sonra Melikşah'a da vezirlik yaptım. Onun döneminde "Siyasetname" adlı eseri kaleme aldım.

**BEN  
KİMİM?**


**Yukarıda kendinden bahseden Türk büyüğü aşağıdakilerden hangisidir?**

A)



Nizamülmülk

B)



Kaşgarlı  
Mahmut

C)



Yusuf Has  
Hacı

D)



Hoca Ahmet  
Yesevi



A

A

A

A

A

**DİN KÜLTÜRÜ VE AHLAK BİLGİSİ DERSİNİ OKUYANLAR AŞAĞIDAKİ SORULARI CEVAPLAYACAKLAR. OKUMAYANLAR BUNUN YERİNE, AYNI NUMARALI SOSYAL BİLGİLER SORULARINI CEVAPLAYACAKLAR.**

**14. Aşağıdaki namazlardan hangisinin cemaatle kılınması zorunludur?**

- A) Sabah namazı B) Cuma namazı  
C) Öğle namazı D) Yatsı namazı

**15.**

Sizin hayırlınız, kendisinden iyilik umulan ve kötülük yapmayacağına dair güven duyulandır. Kötünüz de kendisinden iyilik beklenmeyen ve kötülük yapacağına dair güven duyulmayandır.

**Hız. Muhammed bu hadisinde aşağıdaki-lerden hangisinin önemini vurgulamıştır?**

- A) İbadet etmenin  
B) Hoşgörölü olmanın  
C) Güvenilir olmanın  
D) Eğitilmiş olmanın

**16.**


1	Kuran-ı Kerim	Hız. Davut
2	İncil	Hız. İsa
3	Tevrat	Hız. Musa
4	Zebur	Hız. Muhammed

**Yukarıda verilen peygamberlerden hangileri yer değıştirirse tablo doğru olur?**

- A) 1 ve 4 B) 2 ve 3  
C) 1 ve 2 D) 3 ve 4

**DİN KÜLTÜRÜ VE AHLAK BİLGİSİ DERSİNİ OKUMAYANLAR AŞAĞIDAKİ SOSYAL BİLGİLER SORULARINI CEVAPLAYACAKLAR. DİN KÜLTÜRÜ VE AHLAK BİLGİSİ DERSİNİ OKUYANLAR CEVAPLAMAYACAKLAR.**


**14.**



**Onur Bey**

Ben İstanbul'da yaşıyorum. Tekstil sektöründe faaliyet gösteren bir şirketim var. İstanbul Ticaret Odası'na üyeyiz.

Ben Ankara'da oturuyorum. Un ve unlu mamuller alanında çalışan şirketlerimiz var. Bu şirketlerimiz Ankara Ticaret Odası'na üyedir.



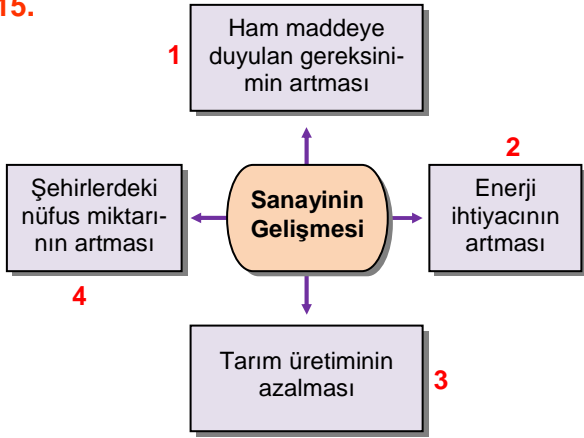
**Ali Bey**

**Buna göre, Onur ve Ali Bey'in bulundukları şehrin ticaret odasına üye olmalarıyla ulaşmak istedikleri temel amaç aşağıdaki-lerden hangisidir?**

- A) Ülkede vergi kaçaklarının önüne geçilmesini sağlamak  
B) İş adamları arasındaki dayanışmaya katkıda bulunmak  
C) Ülkede ithal ürünlerin artırılmasını sağlamak  
D) İş çevrelerini hükümetin etkisinden kurtarmak

A

15.



Yukarıdaki şema sanayinin gelişmesiyle oluşabilecek durumları göstermektedir.

Buna göre, kaçınıcı kutuda bir yanlışlık söz konusudur?

- A) 1      B) 2      C) 3      D) 4

A

A

16.



Ayşe

A

A

Bu şehirde linyitin çıkarılmasıyla her şey değişti. Devletimiz Türkiye'nin en büyük termik santrallerinden birini inşa etti. Şimdi o eski sakin günleri arıyorum ama bir yandan da şehrimizin tanınması hoşuma gidiyor.

Ayşe'nin anlattığı şehirde, aşağıdakilerden hangisinde artış olması beklenmez?

- A) Bölgeden dışarı doğru göç fazlalaşır.  
B) Çevre kirliliği artar.  
C) Enerji üretimi artar.  
D) Nüfus miktarı artar.

SOSYAL BİLGİLER TESTİ BİTTİ.  
İNGİLİZCE TESTİNE GEÇİNİZ.

A

A

A

A

A

## İNGİLİZCE TESTİ

1. Soruda aşağıda verilen ifadeye göre doğru resmi bulunuz.

1. I love winter. I am going to go skiing next weekend.

A)



B)



C)



D)



2. Soruda resimlerde verilen sıralamayı doğru ifade eden seçeneği bulunuz.

2.



- A) I like cultural, hiking and cruise holiday.
- B) I like hiking, cultural and cruise holiday.
- C) I like cruise, hiking and cultural holiday.
- D) I like hiking, cruise and hiking holiday.

3. – 5. Sorularda verilen karşılıklı konuşmada boş bırakılan yere uygun düşen ifadeyi bulunuz.

3. Pamela: Bob is ill in hospital.

Helen : .....

- A) I am going to buy red shorts for him
- B) I will tidy up the garage
- C) Really ! I will visit him today
- D) Ohh no, I will have a cup of tea


4. Meltem: Look at those clouds.

Sevgi : I'm sure .....



- A) it will going to rain
- B) it is going to be hot
- C) it is going to rain
- D) it will be sunny

5.



- A) We are going to celebrate Thanksgiving Day
- B) We are going to celebrate Ramadan Feast.
- C) We are going to celebrate Halloween
- D) We are going to celebrate Children's Day

A

A

A

A


A

6. – 8. Sorularda boş bırakılan yere uygun düşen seçeneği işaretleyiniz.

6. Ninety- six divided by six equals .....

- A) sixteen B) sixty  
C) eighteen D) thirteen

7.



I am a waiter. ....

- A) I cook delicious meals  
B) I serve food in a restaurant  
C) I teach students at school  
D) I draw plans, buildings, houses

8. .... throw rubbish around. It is rude.

- A) Don't B) You can  
C) You must D) You should

9. – 10. Sorularda verilen resme göre doğru ifadenin bulunduğu seçeneği işaretleyiniz.

9.



- A) Six plus four equals ten.  
B) Six times four equals twenty- four.  
C) Six minus two equals four.  
D) Six minus four equals two.

10.

$$15 \times 5 = 75$$

- A) Fifteen times five is seventy- five.  
B) Fifteen divided by five is seventy- five.  
C) Fourteen minus five is nine.  
D) Sixteen divided by four is four.

11. – 12. Sorularda aşağıda verilen anlatımlara göre doğru resmin bulunduğu seçeneği işaretleyiniz.

11. There is a traffic sign in the street, motorcyclists can enter.

A)



B)



C)



D)



A

A

A

A

A

12. I work in a hospital. I examine people's teeth. Who am I ?

A)



B)



C)



D)



13. Soruda aşağıdaki cümleyi resme göre doğru tamamlayan ifadeyi bulunuz.

13.



Maggy is going to .....

- A) break the guitar
- B) play soccer
- C) make a sandwich
- D) play the violin

SINAV BİTTİ.  
YANITLARINIZI KONTROL EDİNİZ.

A

A

A

A

A

## ALMANCA TESTİ

1. soruda verilen resme göre doğru cevabı bulunuz.

1. Was macht das Mädchen?



- A) Sie fegt.
- B) Sie sieht fern.
- C) Sie liest ein Buch.
- D) Sie kocht.

2. soruda altı çizili öğeye uygun olan soru cümlesi hangisidir?

2. Ich gehe zur Schule.

- A) Was gehst du?
- B) Wohin gehst du?
- C) Wann gehst du?
- D) Warum gehst du?

3. soruda aşağıda verilen boşluğa hangi seçenek gelmelidir?

3. .... studiert in Köln.

- A) Ich
- B) Wir
- C) Sie
- D) Du

4. soruda aşağıda verilen karşılıklı konuşmada boşluğa gelmesi gereken doğru seçeneği işaretleyiniz.

4.




A: Wann beginnt die Schule?

B: Um.....

- A) halb drei
- B) sechs Uhr
- C) halb neun
- D) viertel vor neun

5. soruda aşağıda resimlere göre doğru olan seçenek hangisidir?

5.



- A) Das Baby ist zufrieden.
- B) Das Baby mag die Suppe.
- C) Die Suppe schmeckt gut.
- D) Das Baby isst die Suppe nicht.

A

A

A

A

A

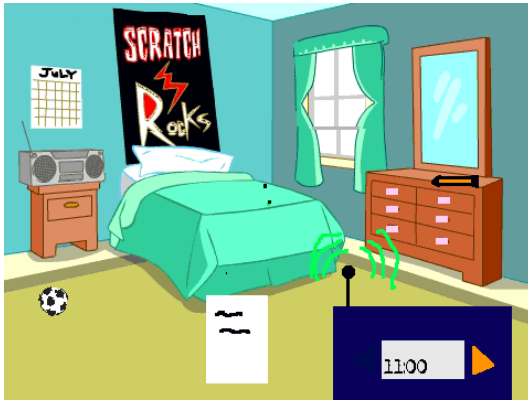
6. soruda aşağıda verilen boşluğa uygun olan seçeneği işaretleyiniz.

6. Heute ist Montag. Morgen ist .....

- A) Dienstag B) Donnerstag  
C) Freitag D) Sonntag

7. soruda aşağıda verilen resme göre cümleyi tamamlayan seçeneği bulunuz.

7. Das Poster ist .....



- A) an der Tür B) an der Wand  
C) in der Tasche D) auf dem Spiegel

8. soruda cümlelerin doğru sıralaması hangi seçenekte verilmiştir?

8. hat / Kind / das / keine / Geschwister.

- A) Das Kind hat keine Geschwister.  
B) Das Geschwister keine Kind hat.  
C) Das Kind keine Geschwister hat.  
D) Das Geschwister hat Kind keine.

9. soruda aşağıda verilen boşluğa gelmesi gereken sıfatı seçiniz.

9. Der Student ist sehr..... .Er spricht 12 verschiedene Sprachen.

- A) dünn B) hübsch  
C) langweilig D) intelligent

10. soruda aşağıda verilen boşluklara hangi seçenek gelmelidir?

10. Zum Frühstück isst Susanne ein ..... mit .....



- A) Brot / Marmelade  
B) Brot / Schokolade  
C) Käse / Olive  
D) Olive / Milch

A

A

A

A

A

11. – 12. soruları aşağıda verilen metne göre cevaplayınız.

Tglich geht Herr Mnster mit seinem Hund im Park spazieren, weil er dick ist. Er arbeitet seit 20 Jahren. Er hat zwei Tchter. Sie sind Zwillinge. Sie sind in der Schule jetzt. Herr Mnster ist blond. Seine Tchter sind blonde.

11. Welches Bild ist falsch?

A)



B)



C)



D)



12. Wo sind seine Tchter jetzt?

A) im Park

B) zu Hause

C) in der Schule

D) im Kino

13. soruda boşluęa gelmesi gereken kelime hangisidir?

13. Ich ..... die Wsche.

A) koche

B) studiere

C) lese

D) wasche

**SINAV BİTTİ.**  
**YANITLARINIZI KONTROL EDİNİZ.**



A

A

A

A

A

## FRANSIZCA TESTİ

1. – 3. sorularda verilen resme göre uygun gelen ifadeyi seçiniz.

1.



- A) Ali et Mustafa se disputent souvent.
- B) Ali et Mustafa s'amusent beaucoup.
- C) Ali et Mustafa sont contents.
- D) Ali et Mustafa se promènent.

2.



- A) Patrick est dans le garage avec le gardien.
- B) Patrick est dans la prison avec le gardien.
- C) Patrick est dans la chambre avec le gardien.
- D) Patrick est dans le café avec le gardien.

3.



- A) Marie mange des gâteaux mais elle ne fume pas.
- B) Marie mange des fruits et elle fume.
- C) Marie mange des fruits mais elle ne fume pas.
- D) Marie mange des végétaux mais elle ne fume pas.

4. – 7. sorularda boş bırakılan yerlere uygun gelecek seçeneği işaretleyin.

4. Aujourd'hui, il..... froid et pluvieux.

- A) a fait
- B) faisait
- C) fait
- D) fera

5. Je vais..... le dentiste parce que j'ai mal ..... dents.

- A) chez -au
- B) chez-des
- C) chez-à la
- D) chez -aux

6. Atatürk a ..... la République turque.

- A) fondé
- B) fait
- C) découvert
- D) inventé

7. Mon ami intime vient..... Rome..... Istanbul pour ses études.

- A) à-à
- B) de -à
- C) des -à
- D) du-à

8. – 10. sorularda verilen resmi doğru ifade eden seçeneği işaretleyiniz.

8.



- A) Ayşe aime jouer avec son chien.
- B) Ayşe aime jouer avec son chat.
- C) Ayşe aime jouer avec son lapin.
- D) Ayşe aime jouer avec son cheval.

A

9.



- A) Pelin fait du shopping.
- B) Pelin fait du ski.
- C) Pelin fait de la natation.
- D) Pelin fait un reportage.

10.



- A) Madame Dupont doit nettoyer son maquillage avant de dormir.
- B) Madame Dupont doit prendre une douche avant de dormir.
- C) Madame Dupont doit boire du lait avant de dormir.
- D) Madame Dupont doit manger des fruits avant de dormir.

11. soruda aşağıda verilen seçeneklerden hangisi veya hangileri doğru yazılmıştır?

- I. Strasbourg est un pays.
- II. La chaise est un objet.
- III. C'est une grand ville.
- IV. L'Europe est un continent.

- A) III
- B) II – IV
- C) I – IV
- D) I – III

A

A

A

12. – 13. sorularda aşağıda verilen resimlere göre doğru seçeneği işaretleyiniz.

12.



- A) Claire est en bonne santé.
- B) Claire est en bonne forme.
- C) Claire est enrhumée.
- D) Claire n'est pas malade.

13.



- A) C'est une salle à manger.
- B) C'est une salle de séjour.
- C) C'est une salle de bains.
- D) C'est une cuisine.

SINAV BİTTİ.  
YANITLARINIZI KONTROL EDİNİZ.



**ÖZ-DE-BİR**  
YAYINLARI



**ÖZ-DE-BİR**  
YAYINLARI