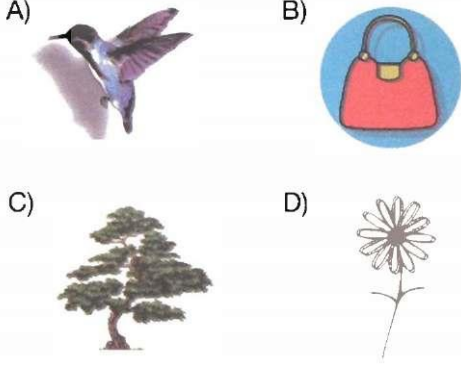
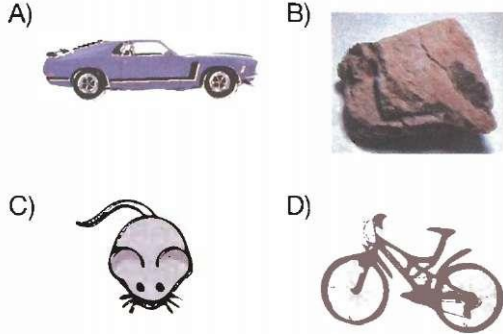


1. Aşağıdakilerden hangisi cansız bir varlıktır?



2. Aşağıdakilerden hangisi canlı bir varlıktır?



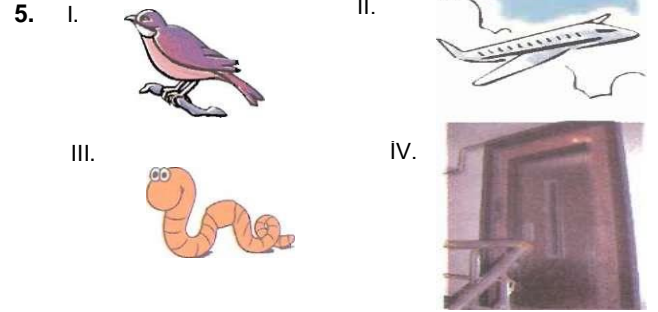
3. Maymun (I); masa (II) bir varlıktır?

Yukarıdaki cümlede noktalı bölümlere hangileri getirilmelidir?

I	II
A) canlı	cansız
B) canlı	canlı
C) cansız	canlı
D) cansız	cansız

4. Aşağıdakilerden hangisi bitkiler ve hayvanlar için ortak bir özellik değildir?

- A) Boşaltım B) Solunum
C) Yer değiştirme D) Üreme



Yukarıdakilerden hangileri canlı varlıktır?

- A) I ve II B) I ve II I
C) II ve IV D) III ve IV



Yukarıdaki öğrencilerden hangisinin veya hangilerinin cümleleri yanlıştır?

- A) Yalnız Aysu'nun
B) Yalnız Burcu'nun
C) Aysu ve Cansu'nun
D) Burcu ve Cansu'nun

7.	I	Sinek	Canlı
	II	Bulut	Cansız
	III	Güneş	Canlı
	IV	Taş	Cansız

Yukarıdaki tabloda hangi varlığın özelliği yanlış verilmiştir?

- A) I B) II C) III D) IV

8. Aşağıdakilerden hangisi hem canlı hem de cansız varlıklar için ortak bir özelliktir?

- A) Hareket etme
B) Solunum yapma
C) Beslenme
D) Kütleye sahip olma

9. Kayısı ağacı ile aslanın ortak özellikleri arasında aşağıdakilerden hangisi yer almaz?

- A) Boşaltım yapmak
B) Beslenmek
C) Hareket etmek
D) Ani uyarıcı sonunda irkilmek

10. Aşağıda verilen grupların hangisinde sadece canlı varlıklar bulunmaktadır?

- A) Fare, ağaç, sinek
B) Uçak, yarası, leylek
C) Su, böcek, penguen
D) Ördek, elma, toprak

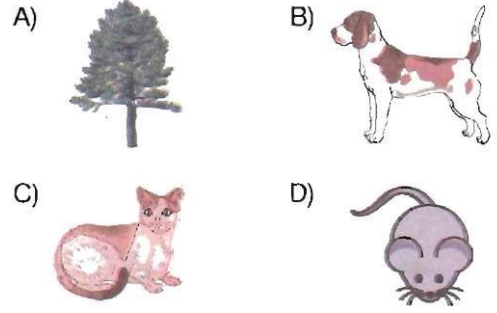
11 Aşağıdaki hayvanlardan hangisinin hareket yeteneği diğerlerinden farklıdır?

- A) Timsah B) Ördek
C) Serçe D) Baykuş

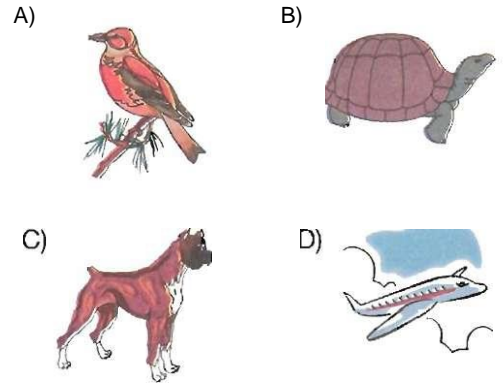
12.Aşağıdakilerden hangisi bütün canlılarda bulunan ortak özelliklerden biri değildir?

- A) Solunum B) Boşaltım
C) Büyüme D) Besin üretme

13. Ani ve şiddetli ses karşısında irkilerek tepki veren canlı aşağıdakilerden hangisi olamaz?



14. Aşağıdakilerden hangisi hareket etmesine rağmen cansız bir varlıktır?



15. Gözle görülemeyecek kadar küçük şeyleri büyütürken daha kolay görmemizi sağlayan alet aşağıdakilerden hangisidir?

- A) Teleskop B) Mikroskop
C) Stetoskop D) Baroskop

16. Aşağıdaki varlıklardan hangisi uyku hâlin- deyken uygun çevre koşulları oluştuğunda canlılık özellikleri gösterir?

- A) Et B) Yaprak
C) Tohum D) Süt

17. Canlılar besinlerin işe yaramayan kısımlarını dışarı atarlar. Bu olaya..... denir.

Yukarıdaki cümlede noktalı yere aşağıdakilerden hangisi getirilmelidir?

- A) Solunum B) Üreme
C) Hareket D) Boşaltım