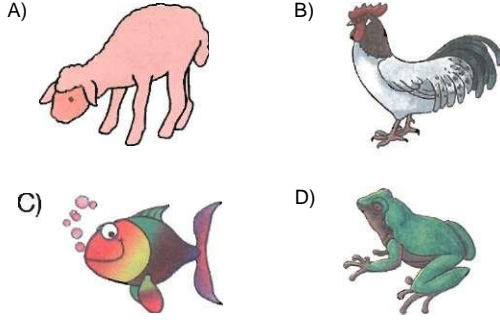


1. Aşağıdaki canlılardan hangisi doğurarak çoğalır?



Canlı	Solunum Organı
İnsan	I
Balık	II
Solucan	III

Yukarıdaki tabloda bazı canlılar ve solunum organları verilmiştir.


2. Tabloya göre I, II ve III ile numaralandırılmış yerlere aşağıdakilerden hangileri getirilmelidir?

I	II	III
A) Akciğer	Solungaç	Deri
B) Akciğer	Deri	Solungaç
C) Deri	Solungaç	Akciğer
D) Deri	Akciğer	Solungaç

3. Aşağıdaki canlılardan hangisi beslenme özelliği bakımından diğerlerinden farklıdır?

- A) Aslan B) Köpek  
C) Kaplumbağa D) Papatya

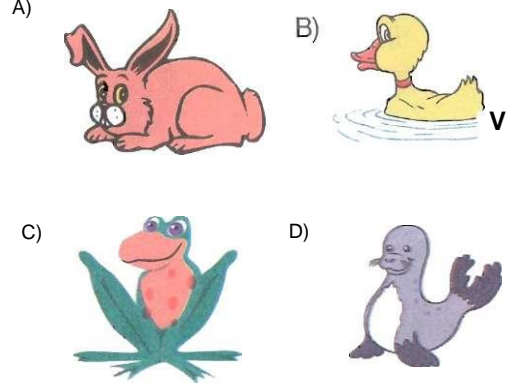
4.



Yukarıdaki öğrencilerden hangisinin veya hangilerinin cümleleri yanlıştır?

- A) Yalnız Ebru'nun B) Yalnız Halit'in  
C) Ebru ve Fatih'in D) Fatih ve Halit'in



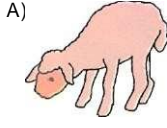
5. Aşağıdaki hayvanlardan hangisi sadece karada yaşama özelliğine sahiptir?



6. Aşağıdaki özelliklerden hangisi sadece bitkilere aittir?

- A) Hareket etme  
B) Kendi besinini üretme  
C) Üreme  
D) Solunum



7. Aşağıdaki hayvanlardan hangisinin beslenme özelliği diğerlerinden farklıdır?



8. Aşağıdaki özelliklerden hangisi hem cansız hem de canlı varlıklar için ortak bir özelliktir?

- B) Belirli bir hacme sahip olma
- C) Büyüme
- D) Çoğalma
- E) Solunum

9. Aşağıdaki varlıklardan hangisi uyku hâlindeyken uygun çevre koşulları olduğunda canlılık özellikleri gösterir?



C)

D)



10. Aşağıdaki canlılardan hangisi sürünerek hareket eder?



B)



C)



D)



11. I. Kurbağa

II. Kedi

III. Karınca

Yukarıdaki canlılardan hangileri sadece karada yaşar?

A) Yalnız I

B) Yalnız II

C) I ve III

D) II ve III

12. Aşağıdaki canlılardan hangisi sadece bitkilerle beslenir?

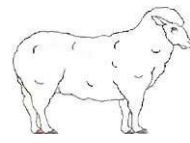
A)



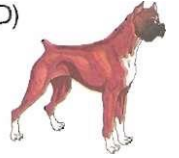
B)



C)



D)




13. Aşağıdaki canlılardan hangisi yumurta ile çoğalır?

A)



B)



C)



D)



14. Aşağıdakilerden hangisi aslan için yapay yaşam alanıdır?

A) Orman

B) Vadi

C) Dağlık arazi

D) Hayvanat bahçesi

15. Aşağıdakilerden hangisi kendi besinini üretebilir?

A) insan

B) Elma ağacı

C) Kedi

D) Kurbağa