

Adı Soyadı:.....

### 3/B Matematik Etkinlikler-24-

#### Sıvıları ölçelim

Aşağıda verilen eşitliklerde noktalı yerlere uygun olarak tamamlayınız.

1 L = ..... tane yarım L  
4 L = ..... tane yarım L  
6 L = ..... tane yarım L  
3 L = ..... tane yarım L  
10 L = ..... tane yarım L  
20 L = ..... tane yarım L

4 yarım L = .....tane L  
6 yarım L = .....tane L  
8 yarım L = .....tane L  
2 yarım L = .....tane L  
10 yarım L = .....tane L  
40 yarım L = .....tane L



Aşağıda verilen ifadelerin doğru olanların başına ( D ), yanlış olanların başına ( Y ) harfi koyunuz;

- (.....) Sıvı maddelerin ölçü birimi litredir.
- (.....) Bir litrenin yarısına tam litre denir.
- (.....) Benzin, mazot maddelerini litre ile ölçeriz.
- (.....) Üç litrede 6 yarım litre vardır.
- (.....) Süt,su,zeytinyağı maddelerini kilogram ile ölçeriz.
- (.....) Bir kaşık su ile bir fincan su miktarı eşittir.
- (.....) Bir fincan su ile bahçedeki çimleri sulayabiliriz.
- (.....) Bir bardak su ölçüsü standart bir ölçü birimi değildir.
- (.....) Bir damacanın içindeki suyu kilogram ile ölçebiliriz.



Aşağıda verilen işlemleri yapınız ;

10 L + 20 yarım L = .....L  
30 L + 10 L = .....yarım L  
40 yarım L + 100 L = .....L  
2 L + 4 L = ..... yarım L  
12 yarım L + 4 L = .....L

18 L - 9 L = .....yarım L  
20 yarım L - 10 L = .....L  
100 L + 100 yarım L = .....L  
4 L - 2 L = .....yarım L  
15 L - 10 L = .....L

Aşağıda verilen ifadeleri 1L 'den az veya 1L 'den çok şeklinde tahmin edelim.


1 çay bardağı su



5 sürahi ayran


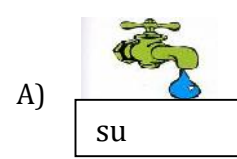


1 damacana su



#### Öğrendiklerimizi uygulayalım

1- Aşağıdaki varlıklardan hangisini litre ile ölçeriz?



2- Bir aile günde 2 L süt almaktadır. Bir haftada kaç L süt alırlar?

- A) 10 B) 7 C) 14

3- Aşağıdaki eşitliklerden hangisi yanlıştır?

- A) 4 yarım L = 8 L B) 12 L = 24 yarım L C) 50 yarım L = 100 L

4-20 litre sütü 4 litrelik kaç şişeye doldurabiliriz?

- A) 24 B) 80 C) 5

5-50 litre aldığımız zeytinyağını 5 litrelik bidonlara doldurmak istiyoruz. Kaç bidona ihtiyacımız var?

- A) 10 B) 45 C) 100

6- Aşağıdaki eşitliklerden hangisi yanlıştır?

- A) 4 yarım L = 8 L  
B) 12 L = 24 yarım L  
C) 50 yarım L = 100 L

**Murat KOÇ**  
3/B Sınıf Öğrt.



3.SINIF MATEMATİK HAFTALIK  
DEĞERLENDİRME  
13-17.12.2010



ADI-SOYADI: \_\_\_\_\_

PUAN/NOT: \_\_\_\_\_ / \_\_\_\_\_

Aşağıdaki cümlelerdeki boşlukları tamamlayınız.

Sınıflar \_\_\_\_\_ ile ölçülür.

\_\_\_\_\_ kısaca "L" ile gösterilir.

1 litre(L) 2 \_\_\_\_\_ eder.

1 Litre=\_\_\_\_\_yarım L

5 Litre=\_\_\_\_\_yarım litre

12 Litre=\_\_\_\_\_yarım L

8 Yarım L =\_\_\_\_\_L

10 Yarım L =\_\_\_\_\_L

14 yarım L= \_\_\_\_\_ litre

20 Yarım litre=\_\_\_\_\_L

20  
10  
-  
20  
11  
-  
M  
A  
T  
E  
M  
A  
T  
İ  
K  
-  
3.  
S  
I  
N  
I  
F  
-


1L


2L

1L

Yarım Litre Vişne Suyu

3 yarım litre

Portakal Suyu

Bir kova süt 36 L gelmektedir. Bu süt 2L'lik şişelere koyulmak isteniyor. Bu işlem için kaç şişe gereklidir?


5 L

4 L

3 L

2 L

1 L


5L

4L

3L

2L

1L

3 Litre  
Meyve suyu

5 L çikolatalı süt






ARKADAŞLAR!

1 LİTRE SÜT, 2 TANE YARIM LİTRE  
SÜTTEN Mİ MEYDANA GELİR?

KARA MÖCÜK GÜNDE 12 L SÜT  
VERİRSE, 1 HAFTADA KAÇ L SÜT VERİR?



1 Litre

Yarım  
litre

Yarım  
litre

1 L = ..... tane yarım L

4 L = ..... tane yarım L

6 L = ..... tane yarım L

3 L = ..... tane yarım L

10 L = ..... tane yarım L

20 L = ..... tane yarım L

4 yarım L = .....tane L

6 yarım L = .....tane L

8 yarım L = .....tane L

2 yarım L = .....tane L

10 yarım L = .....tane L

40 yarım L = .....tane L

# SIVILARI ÖLÇME

A a idaki ölçme araçlarından hangisi sıvı ölçme aracıdır? **2 puan**

☐☐☐☐

A a idaki ifadelerden do ru olanların ba ına D ,yanlı olanların ba ına Y yazınız.

☐ Litre kütle ölçüsü birimidir. **5 puan**

☐ Litreyi kısaca " L " ekinde gösteririz. **5 puan**

☐ Sıvı ölçme araçları günlük hayatımızda çok önemli de ildir. **5 puan**

☐ Süt,su,sirke,benzin ,mazot,gazya ı ,zeytinya ı gibi maddeleri litre ile ölçeriz. **5 puan**

☐ Sekiz yarım litre sıvının ölçüsü, 2 L sıvının ölçüsüne e ittir. **5 puan**

A a idaki ifadelerdeki noktalı yerleri uygun sözcüklerle tamamlayınız.

■ Litre .....ölçüsü birimidir. **5 puan**

■ Ay e'nin annesi 3 L su alırken, .....yarım litre süt almı olur. **5 puan**

■ Kolonya .....ölçüsü kullanılarak satılmaktadır. **5 puan**

■ 1 L içerisinde .....tane çeyrek L vardır. **5 puan**

■ 12 L süt , 3 litrelik kaplara doldurulacaktır.Bu i için bize .....kap lazımdır. **5 puan**

A a idaki problemleri altlarındaki çerçeve içerisine çözünüz.

**1** 13 litresi 260 TL olan sıvı ya ın çeyrek litresi kaç TL 'dir? **8 puan**

2

2 litre benzinle 18 km giden bir taksi ,270 km yolu kaç litre benzinle gider?

8 puan

3

32 tane çeyrek litre kaç yarım litre eder ?

8 puan

4

Annem litresi 3 TL olan ayçiçe i ya ından 4 L aldı.Kasiyere 20 TL verdi.Kasiyer anneme kaç lira geri verdi?

8 puan

5

Kı ın gaz sobamızda bir haftada 42 L gaz yaktı ımıza göre ,ayda kaç litre gaz yakarız ?

8 puan

6

3 litre + 4 yarım litre + 12 çeyrek litre

8 puan

Yukarıda verilenler toplam kaç litredir?

